



Prova Escrita Objetiva – Nível Superior

ANALISTA JUDICIÁRIO - ÁREA - APOIO ESPECIALIZADO - ENFERMEIRO

Tipo 2 – VERDE



SUA PROVA

Além deste caderno de prova, contendo cem questões objetivas, você receberá do fiscal de sala:

- uma folha destinada às respostas das questões objetivas



TEMPO

- **5 horas** é o período disponível para a realização da prova, já incluído o tempo para a marcação da folha de respostas da prova objetiva
- **2 horas** após o início da prova é possível retirar-se da sala, sem levar o caderno de prova
- **1 hora** antes do término do período de prova é possível retirar-se da sala levando o caderno de prova



NÃO SERÁ PERMITIDO

- Qualquer tipo de comunicação entre os candidatos durante a aplicação da prova
- Levantar da cadeira sem autorização do fiscal de sala
- Usar o sanitário ao término da prova, após deixar a sala



INFORMAÇÕES GERAIS

- As questões objetivas têm cinco alternativas de resposta (A, B, C, D, E) e somente uma delas está correta
- Verifique se seu caderno está completo, sem repetição de questões ou falhas. Caso contrário, notifique imediatamente o fiscal da sala, para que sejam tomadas as devidas providências
- Confira seus dados pessoais, especialmente nome, número de inscrição e documento de identidade e leia atentamente as instruções para preencher a folha de respostas
- Use somente caneta esferográfica, fabricada em material transparente, com tinta preta ou azul
- Assine seu nome apenas nos espaços reservados
- Marque na folha de respostas o campo relativo à confirmação do tipo/cor de prova, conforme o caderno recebido
- O preenchimento das respostas da prova objetiva é de sua responsabilidade e não será permitida a troca da folha de respostas em caso de erro
- Reserve tempo suficiente para o preenchimento de suas respostas. Para fins de avaliação, serão levadas em consideração apenas as marcações realizadas na folha de respostas da prova objetiva, não sendo permitido anotar informações relativas às respostas em qualquer outro meio que não seja o caderno de prova
- A FGV coletará as impressões digitais dos candidatos na folha de respostas
- Os candidatos serão submetidos ao sistema de detecção de metais quando do ingresso e da saída de sanitários durante a realização das provas

Conhecimentos Básicos

Texto 1 – Coordenação entre órgãos gestores

Um Plano de Contingência para o Trânsito necessita de planejamento prévio para lidar com situações emergenciais e atuar em casos que venham a causar transtornos nos principais corredores viários de uma cidade.

O aumento progressivo da frota de veículos provoca congestionamentos que muitas vezes impedem que os procedimentos planejados de emergência sejam adotados.

Nesses casos, passam a exigir ações mais criativas e diferenciadas, devendo ser planejadas por equipes de técnicos especializados, com a parceria das universidades.

O gerenciamento de acidentes de trânsito, como a velocidade que se desfaz o local de uma batida numa via estrutural, envolve o uso de equipamentos especiais, como helicópteros, e de pessoal devidamente treinado para isso. É crucial haver integração e coordenação entre os órgãos gestores da mobilidade urbana, para solucionar rapidamente as demandas dessa natureza.

Situações como obras, fechamento de ruas e de faixas de tráfego, enchentes, alagamentos das vias e quedas de encostas e árvores, que impedem a circulação normal de veículos, necessitam de sinalização adequada, de informação relevante e bem veiculada em várias mídias, de agentes de trânsito devidamente preparados, de cavaletes e indicação dos desvios possíveis, para diminuir os impactos negativos.

Podemos fazer analogia com um infarto e um AVC, que impedem o fluxo de sangue e exigem providências urgentes para que a pessoa não morra. O mesmo fenômeno ocorre com o trânsito, para que o fluxo seja restabelecido o mais rápido possível. (Eva Vider, *O Globo*, 9/10/2015 - adaptado)

1

O primeiro parágrafo do texto 1 fala de um Plano de Contingência para o Trânsito; o termo “contingência” tem como melhor definição para o contexto:

- (A) incerteza sobre se uma coisa acontecerá ou não;
- (B) política econômica fundada no princípio da compensação;
- (C) imposição de limite ou quota para a importação de determinada mercadoria;
- (D) controle e fiscalização legal de problemas;
- (E) impedimento de ações irregulares e perturbadoras da ordem pública.

2

“Um Plano de Contingência para o Trânsito necessita de planejamento prévio para lidar com situações emergenciais”.

Nesse segmento do texto 1 há um problema de escritura; o problema está devidamente apontado em:

- (A) “Plano de Contingência” deve ser substituído por “Plano contingente”;
- (B) o termo “trânsito” deve ser substituído por “tráfego”, pois este último se refere à movimentação de veículos e pessoas;
- (C) o termo “situações emergenciais” pode ser reduzido ao termo “situações”, já que todas as situações referidas são emergenciais;
- (D) o verbo “lidar” deve ser substituído por “combater”, já que há um movimento de oposição;
- (E) “planejamento prévio” é redundante e o termo “prévio” poderia ser retirado.

3

No texto 1 aparecem elementos que se relacionam, respectivamente, como causa e consequência; os termos em que essa relação lógica mostra troca de posição é:

- (A) aumento da frota de veículos / congestionamentos;
- (B) intensos congestionamentos / ações criativas e diferenciadas;
- (C) integração de órgãos gestores / solução de demandas;
- (D) gerenciamento de acidentes / uso de equipamentos especiais;
- (E) diminuição de impactos / uso de cavaletes e indicação de desvios.

4

Entre os segmentos do texto 1 abaixo, aquele que se refere a uma ação potencial, e não real, é:

- (A) “Um Plano de Contingência para o Trânsito necessita de planejamento prévio...”.
- (B) “que venham a causar transtornos nos principais corredores viários de uma cidade”.
- (C) “O aumento progressivo da frota de veículos provoca congestionamentos...”.
- (D) “Nesses casos, passam a exigir ações mais criativas e diferenciadas, ...”.
- (E) “...devendo ser planejadas por equipes de técnicos especializados, com a parceria das universidades”.

5

“Um Plano de Contingência para o Trânsito necessita de planejamento prévio para lidar com situações emergenciais e atuar em casos que venham a causar transtornos”.

Respeitando-se o paralelismo, as formas que podem substituir adequadamente as formas nominais sublinhadas são:

- (A) que lide / que atue;
- (B) que lide / que atuem;
- (C) que lidasse / que atuasse;
- (D) a liderança / a atuação;
- (E) a lide / atuante.

6

“...planejamento prévio para lidar com situações emergenciais e atuar em casos que venham a causar transtornos nos principais corredores viários de uma cidade”.

Entre os itens abaixo, aquele que deve ser considerado como causa de transtornos e não como situação emergencial é:

- (A) aumento progressivo do número de veículos;
- (B) enchentes e alagamento das vias;
- (C) deslizamento de encostas;
- (D) obras e fechamentos de ruas;
- (E) quedas de árvores.

7

A oração adjetiva abaixo sublinhada que deveria vir introduzida com um pronome relativo precedido de preposição é:

- (A) “lidar com situações emergenciais e atuar em casos que venham a causar transtornos nos principais corredores viários de uma cidade”.
- (B) “O aumento progressivo da frota de veículos provoca congestionamentos que muitas vezes impedem que os procedimentos planejados de emergência sejam adotados”.
- (C) “O gerenciamento de acidentes de trânsito, como a velocidade que se desfaz o local de uma batida numa via estrutural”.
- (D) “Situações como obras, fechamento de ruas e de faixas de tráfego, enchentes, alagamentos das vias e quedas de encostas e árvores, que impedem a circulação normal de veículos”.
- (E) “Podemos fazer analogia com um infarto e um AVC, que impedem o fluxo de sangue...”.

8

O título dado ao texto 1 – Coordenação entre órgãos gestores – funciona como:

- (A) constatação de uma realidade;
- (B) crítica de uma deficiência;
- (C) ideal a ser atingido;
- (D) ironia diante de fatos repetidos;
- (E) alerta para perigos iminentes.

9

Abaixo estão vários pares formados por um substantivo seguido de um adjetivo; o par em que o significado do adjetivo mostra-se inadequado é:

- (A) situações emergenciais / referente a um acontecimento perigoso ou fortuito;
- (B) corredores viários / referente ao conjunto de estradas ou caminhos;
- (C) ações diferenciadas / referente a alguma coisa que diverge de outra;
- (D) via estrutural / referente a algo fundamental num conjunto;
- (E) órgãos gestores / referente a algo que gerencia ou administra.

10

A analogia final do texto 1 – trânsito e AVC – tem a seguinte finalidade textual:

- (A) criticar indiretamente o sistema brasileiro de saúde;
- (B) intensificar as consequências dos problemas de trânsito;
- (C) criar relações afetivas mais intensas com os leitores;
- (D) possibilitar melhor entendimento dos problemas citados;
- (E) dar vida a acontecimentos vistos como frios e indiferentes.

11

Quando o autor de um texto emprega um substantivo coletivo que não é específico, necessita especificá-lo, que é o que ocorre em “frota de veículos”; o mesmo ocorre no seguinte caso:

- (A) uso de equipamentos;
- (B) equipes de técnicos;
- (C) parceria das universidades;
- (D) procedimentos de emergência;
- (E) circulação de veículos,

Texto 2 – Semana Nacional do Trânsito

Estamos no último dia da Semana Nacional do Trânsito e vamos encerrar falando sobre o tema que foi bem escolhido pelo Denatran: Seja Você a Mudança no Trânsito.

Vivemos numa sociedade que tem o hábito de responsabilizar o Estado, autoridades e governos pelas mazelas do país. Em muitos casos são críticas absolutamente procedentes, mas, quando o tema é segurança no trânsito, não nos podemos esquecer que quem faz o trânsito são seres humanos, ou seja, somos nós.

Deveríamos aproveitar a importância desta semana para refletir sobre nosso comportamento como pedestres, passageiros, motoristas, motociclistas, ciclistas, pais, enfim, como cidadãos cujas ações tem reflexo na nossa segurança, assim como dos demais. O pedestre que não respeita a faixa coloca em risco sua vida e também a do motorista e de terceiros. Muitas vezes para desviar de um pedestre e evitar seu atropelamento, um motorista perde o controle do veículo e provoca um acidente grave com outras pessoas que nada têm a ver com o comportamento do pedestre. Não precisamos nem aprofundar as consequências dos motoristas que andam em excesso de velocidade, sob efeito de álcool, ou que dirigem uma carreta cansados. São todos fatores humanos que contribuem para o que chamamos de acidente.

(...) Nesta semana nacional do trânsito pelo menos mil pessoas vão ter morrido nas ruas e nas estradas. Não podemos mais tolerar esses números e, para que isso mude realmente, é preciso que você e cada um de nós sejamos de fato os agentes da mudança na direção de um trânsito mais seguro. Com certeza você pode contribuir para isso, aproveite esta semana para refletir e conversar sobre o tema com seus entes queridos e amigos, afinal, quem morre no trânsito é amigo ou parente de alguém. Ninguém está livre disso.

Rodolfo Alberto Rizzotto (adaptado)

12

A partir da leitura do primeiro parágrafo do texto 2, descobrimos que:

- (A) a Semana Nacional do Trânsito foi comemorada com a realização de palestras e outras atividades;
- (B) os temas das palestras dadas na Semana Nacional do Trânsito diziam respeito à segurança dos passageiros;
- (C) os temas das palestras foram escolhidos por órgãos superiores da administração do trânsito;
- (D) o palestrante do último dia da Semana Nacional do Trânsito foi o responsável pelas palestras anteriores;
- (E) a Semana Nacional do Trânsito foi celebrada com atividades que se relacionavam tematicamente ao trânsito.

13



Deduz-se da leitura que:

- (A) os ciclistas e os motoristas são os mais injustiçados no trânsito;
- (B) todas as falas são atribuídas ao ciclista;
- (C) os pedestres estão sempre em situação perigosa;
- (D) os veículos motorizados são os que mais respeitam as regras de trânsito;
- (E) o menino da tira demonstra a mesma atitude diante de motoristas e ciclistas.

14

“Vivemos numa sociedade que tem o hábito de responsabilizar o Estado, autoridades e governos pelas mazelas do país. Em muitos casos são críticas absolutamente procedentes, mas, quando o tema é segurança no trânsito, não nos podemos esquecer que quem faz o trânsito são seres humanos, ou seja, somos nós”.

O desvio de norma culta presente nesse segmento do texto 2 é:

- (A) “Vivemos numa sociedade que tem o hábito”: deveria inserir a preposição “em” antes do “que”;
- (B) “críticas absolutamente procedentes”: o adjetivo “procedentes” deveria ser substituído por “precedentes”;
- (C) “Vivemos numa sociedade”: a forma verbal “Vivemos” deveria ser substituída por “vive-se”;
- (D) “não nos podemos esquecer que quem faz o trânsito”: deveria inserir-se a preposição “de” antes do “que”;
- (E) “quem faz o trânsito são seres humanos, ou seja, somos nós”: a forma verbal correta seria “fazemos” e não “faz”.

15

“Seja você a mudança no trânsito”; a forma de reescrever-se essa mesma frase que mostra uma incorreção da forma verbal no imperativo é:

- (A) sê tu a mudança no trânsito;
- (B) sejam nós a mudança no trânsito;
- (C) sejam vocês a mudança no trânsito;
- (D) seja ele a mudança no trânsito;
- (E) sejai vós a mudança no trânsito.

16

“Nesta semana nacional do trânsito pelo menos mil pessoas vão ter morrido nas ruas e nas estradas. Não podemos mais tolerar esses números e, para que isso mude realmente, é preciso que você e cada um de nós sejamos de fato os agentes da mudança na direção de um trânsito mais seguro. Com certeza você pode contribuir para isso, aproveite esta semana para refletir e conversar sobre o tema com seus entes queridos e amigos, afinal, quem morre no trânsito é amigo ou parente de alguém. Ninguém está livre disso”.

Nesse parágrafo do texto 2, há um conjunto de demonstrativos empregados de forma correta. O comentário inadequado sobre seu emprego é:

- (A) “nesta semana” / a forma “esta” se refere ao momento presente da enunciação;
- (B) “tolerar esses números” / a forma “esses” se refere ao número de mortos citado anteriormente;
- (C) “para que isso mude” / a forma “isso” se refere ao alto número de acidentes fatais;
- (D) “você pode contribuir para isso” / a forma “isso” se refere à mudança do número de mortos;
- (E) “ninguém está livre disso” / a forma “disso” se refere à possibilidade de ter um amigo ou parente morto no trânsito.

17

“Vivemos numa sociedade que tem o hábito de responsabilizar o Estado, autoridades e governos pelas mazelas do país. Em muitos casos são críticas absolutamente procedentes, mas, quando o tema é segurança no trânsito, não nos podemos esquecer que quem faz o trânsito são seres humanos, ou seja, somos nós”.

Em termos argumentativos, o autor do texto 2:

- (A) divide a responsabilidade da segurança no trânsito entre as autoridades e a legislação;
- (B) atribui às autoridades uma maior responsabilidade por um trânsito seguro;
- (C) retira das autoridades qualquer responsabilidade sobre a segurança no trânsito;
- (D) isenta parcialmente as autoridades sobre as responsabilidades em relação à segurança no trânsito;
- (E) indica a população como única responsável pela segurança no trânsito.

18

No texto 2, o autor emprega a primeira pessoa do plural em muitos segmentos. O segmento do texto abaixo que mostra um valor desse emprego diferente dos demais é:

- (A) “Estamos no último dia da Semana Nacional do Trânsito”;
- (B) “... vamos encerrar falando sobre o tema que foi bem escolhido pelo Denatran: Seja Você a Mudança no Trânsito”;
- (C) “Vivemos numa sociedade que tem o hábito de responsabilizar o Estado, autoridades e governos pelas mazelas do país”;
- (D) “não podemos esquecer que quem faz o trânsito são seres humanos, ou seja, somos nós”;
- (E) “Deveríamos aproveitar a importância desta semana para refletir sobre nosso comportamento como pedestres”.

19

“Vivemos numa sociedade que tem o hábito de responsabilizar o Estado, autoridades e governos pelas mazelas do país”.

O comentário abaixo, atribuído a um leitor de um jornal paulista, que comprova a afirmativa acima é:

- (A) “o motorista, após o acidente, saltou do carro nitidamente embriagado”;
- (B) “os automóveis que se encontravam no engarrafamento tentavam escapar pelo acostamento”;
- (C) “a alta velocidade é a maior responsável pela gravidade dos acidentes observados”;
- (D) “a sinalização, escondida atrás das árvores, não é seguida pelos motoristas porque não é vista”;
- (E) “apesar das placas, o número de multados é cada vez maior”.

20

“Deveríamos aproveitar a importância desta semana para refletir sobre nosso comportamento como pedestres, passageiros, motoristas, motociclistas, ciclistas, pais, enfim, como cidadãos cujas ações tem reflexo na nossa segurança, assim como dos demais”.

O comentário correto sobre os componentes desse segmento do texto 2 é:

- (A) a forma verbal “deveríamos” tem como sujeito todos os motoristas;
- (B) a forma verbal “tem” deveria ter acento circunflexo pois seu sujeito está no plural;
- (C) a forma “sobre” deveria ser substituída pela forma “sob”;
- (D) a forma “enfim” deveria ser grafada em duas palavras “em fim”;
- (E) a forma “dos demais” deveria ser substituída por “das demais”, por referir-se ao feminino “ações”.

O Colégio Bom Conselho, em Porto Alegre, promoveu um concurso de charges sobre o trânsito e o primeiro lugar foi dado à charge abaixo:



21

Sobre a charge, é correto afirmar que seu tema central é:

- (A) a solidariedade no trânsito;
- (B) as dificuldades de locomoção;
- (C) a violência no trânsito;
- (D) a ausência de autoridade;
- (E) a falta de fiscalização adequada.

22

A charge anterior apoia-se na estrutura de uma figura de linguagem, que é:

- (A) a hipérbole;
- (B) o eufemismo;
- (C) a catacrese;
- (D) o pleonismo;
- (E) a metáfora.

23



A charge mostra uma característica das mudanças no trânsito, que é:

- (A) a dificuldade de locomoção;
- (B) a falta de estacionamentos;
- (C) a ausência de fiscais;
- (D) a presença de criatividade;
- (E) a solidariedade dos motoristas.

Texto 3 – TRÂNSITO: SOLUÇÕES

Em 1997 foram criados os rodízios para diminuir a circulação de veículos em determinados horários na capital paulista. Também foram feitas ciclovias (17,5 km) e campanhas de conscientização. Mas nada disso resolveu o caos no trânsito.

Também foi incentivado o uso de motocicletas, que ocupam menos espaço no tráfego. Porém, elas poluem mais do que veículos novos e são as principais causadoras de mortes no trânsito. Segundo o “Mapa da Violência 2011”, do Instituto Sangari, o número de vítimas fatais no trânsito brasileiro subiu 23,9%, de 1998 a 2008; entre os motociclistas, o aumento foi de 753,8%.

Por isso, cada vez mais especialistas defendem a mobilidade urbana sustentável. Uma das principais mudanças seria o investimento em transporte coletivo e o desestímulo ao individual.

Entre as medidas sugeridas – e uma das mais polêmicas – está a cobrança de pedágio urbano. Ele consiste em cobrar uma tarifa dos motoristas que circulem em determinadas áreas da cidade. O modelo foi implantado pela primeira vez em 1975, em Cingapura, e se espalhou por países europeus.

Em São Paulo, há projetos que tramitam na Câmara para cobrar motoristas que trafeguem na região central. As tarifas variam de R\$ 1 a R\$ 4, valor que especialistas acham pouco para que a medida dê resultado.

Há ainda propostas de aumento da malha ferroviária – atualmente, 60% do transporte brasileiro é feito em rodovias. São Paulo, por exemplo, possui apenas 65,3 km de linhas de metrô, enquanto Santiago do Chile (com metade da população paulista) possui 83,2 km e Nova York, 479 km.

Todos esses pontos são avaliados como soluções para as demais capitais brasileiras e mesmo para cidades de médio porte, que já enfrentam problemas semelhantes.

24

No primeiro parágrafo do texto 3 há duas formas verbais na voz passiva: “foram criadas” e “foram feitas”. A opção pela voz passiva faz com que as ações realizadas:

- (A) não mostrem seus agentes;
- (B) se localizem em passado distante;
- (C) se processem simultaneamente;
- (D) sejam atribuídas a agentes diferentes;
- (E) indiquem ações potenciais e não reais.

25

Abaixo estão cinco medidas que pretendem melhorar o problema do trânsito nas grandes cidades. O aspecto positivo de uma delas que, no contexto, está apontado de forma correta é:

- (A) rodízios / melhora a conscientização das pessoas;
- (B) ciclovias / redução da poluição do ar;
- (C) uso de motocicletas / aumento do número de acidentes;
- (D) cobrança de pedágio / aumento da arrecadação municipal;
- (E) incentivo ao transporte coletivo / redução do número de transportes individuais.

26

Entre os termos sublinhados abaixo, aquele que exerce a função de complemento é:

- (A) áreas da cidade;
- (B) campanhas de conscientização;
- (C) cidades de médio porte;
- (D) cobrança de pedágio;
- (E) número de vítimas.

27

“Também foram feitas ciclovias e campanhas de conscientização”.

A forma ativa dessa frase passiva é:

- (A) fizeram ciclovias e também campanhas de conscientização;
- (B) também fizeram ciclovias e campanhas de conscientização;
- (C) também tinham feito ciclovias e campanhas de conscientização;
- (D) também faziam ciclovias e campanhas de conscientização;
- (E) ciclovias e campanhas de conscientização também eram feitas.

28

Em todos os segmentos abaixo há a preocupação de eliminar-se o QUE das frases originais; a opção em que essa modificação foi feita de forma inadequada é:

- (A) “soluções para as demais capitais brasileiras e mesmo para cidades de médio porte, que já enfrentam problemas semelhantes” / já com problemas semelhantes;
- (B) “Também foi incentivado o uso de motocicletas, que ocupam menos espaço no tráfego” / com menos espaço de ocupação no tráfego;
- (C) “Ele consiste em cobrar uma tarifa dos motoristas que circulem em determinadas áreas da cidade” / com circuito em determinadas áreas da cidade;
- (D) “Em São Paulo, há projetos que tramitam na Câmara para cobrar motoristas que trafeguem na região central” / em tráfego na região central;
- (E) “Em São Paulo, há projetos que tramitam na Câmara para cobrar motoristas que trafeguem na região central” / em tramitação na Câmara.

29

Entre as frases abaixo, aquela que está empregada em sentido figurado é:

- (A) “Em 1997 foram criados os rodízios para diminuir a circulação de veículos em determinados horários na capital paulista”;
- (B) “Também foram feitas ciclovias (17,5 km) e campanhas de conscientização”;
- (C) “Mas nada disso resolveu o caos no trânsito”;
- (D) “Também foi incentivado o uso de motocicletas, que ocupam menos espaço no tráfego”;
- (E) “Porém, elas poluem mais do que veículos novos e são as principais causadoras de mortes no trânsito”.

30

“Todos esses pontos são avaliados como soluções para as demais capitais brasileiras e mesmo para cidades de médio porte, que já enfrentam problemas semelhantes”.

A frase abaixo em que o vocábulo “mesmo” aparece com sentido idêntico ao que possui no trecho acima é:

- (A) mesmo com trânsito caótico, muitos saem de carro;
- (B) dizem que o trânsito está engarrafado mesmo!;
- (C) os turistas chegaram no mesmo dia;
- (D) as multas são iguais, mesmo para carros menores;
- (E) andava devagar, mesmo com carro potente.

Conhecimentos Específicos

31

Em uma empresa com 40 funcionários, um funcionário é considerado novo quando está na empresa há menos de 5 anos e é considerado antigo quando está há 5 anos ou mais.

Atualmente, há 14 funcionários novos na empresa, 18 funcionários com curso superior e 16 funcionários antigos que não possuem curso superior.

O número de funcionários novos com curso superior é:

- (A) 4;
- (B) 6;
- (C) 8;
- (D) 10;
- (E) 12.

32

As fotos dos 60 funcionários de certa seção da prefeitura serão colocadas em um quadro retangular, arrumadas em linhas e colunas. Sabe-se que o quadro deve ter pelo menos 3 linhas e pelo menos 3 colunas.

O número de formatos diferentes (número de linhas e número de colunas) que esse quadro poderá ter é:

- (A) 5;
- (B) 6;
- (C) 7;
- (D) 8;
- (E) 10.

33

Considere a afirmação:

“Mato a cobra e mostro o pau”

A negação lógica dessa afirmação é:

- (A) não mato a cobra ou não mostro o pau;
- (B) não mato a cobra e não mostro o pau;
- (C) não mato a cobra e mostro o pau;
- (D) mato a cobra e não mostro o pau;
- (E) mato a cobra ou não mostro o pau.

34

Cada um dos 160 funcionários da prefeitura de certo município possui nível de escolaridade: fundamental, médio ou superior. O quadro a seguir fornece algumas informações sobre a quantidade de funcionários em cada nível:

	Fundamental	Médio	Superior
Homens	15	30	
Mulheres	13		36

Sabe-se também que, desses funcionários, exatamente 64 têm nível médio. Desses funcionários, o número de homens com nível superior é:

- (A) 30;
- (B) 32;
- (C) 34;
- (D) 36;
- (E) 38.

35

Renato falou a verdade quando disse:

- Corro ou faço ginástica.
- Acordo cedo ou não corro.
- Como pouco ou não faço ginástica.

Certo dia, Renato comeu muito.

É correto concluir que, nesse dia, Renato:

- (A) correu e fez ginástica;
- (B) não fez ginástica e não correu;
- (C) correu e não acordou cedo;
- (D) acordou cedo e correu;
- (E) não fez ginástica e não acordou cedo.

36

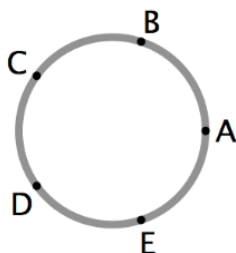
O conselho diretor de uma empresa teve os mesmos 5 membros desde o ano 2012. Na última reunião deste ano de 2015 o membro mais velho, que tinha 58 anos, foi substituído por um mais jovem, mas a média de idade dos membros do conselho ficou igual à média das idades na mesma época de 2012.

Na reunião de 2015, a idade do novo membro do conselho era de:

- (A) 40 anos;
- (B) 41 anos;
- (C) 42 anos;
- (D) 43 anos;
- (E) 44 anos.

37

A figura abaixo mostra uma pista circular de ciclismo dividida em 5 partes iguais pelos pontos A, B, C, D e E.



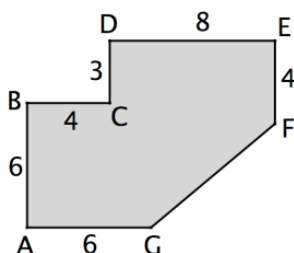
Os ciclistas Marcio e Paulo partem simultaneamente do ponto A, percorrendo a pista em sentidos opostos. Marcio anda no sentido horário com velocidade de 10km/h, Paulo no sentido anti-horário com velocidade de 15km/h, e eles se cruzam várias vezes.

Marcio e Paulo se cruzam pela terceira vez no ponto:

- (A) A;
- (B) B;
- (C) C;
- (D) D;
- (E) E.

38

A figura abaixo mostra a planta de um salão. Os ângulos A, B, C, D e E são retos e as medidas assinaladas estão em metros.



A área desse salão em m^2 é:

- (A) 81;
- (B) 86;
- (C) 90;
- (D) 94;
- (E) 96.

39

Em um saco há 3 bolas brancas, 3 bolas amarelas e 3 bolas vermelhas. Duas delas são retiradas ao acaso.

A probabilidade de que essas bolas sejam de cores diferentes é:

- (A) $3/4$;
- (B) $3/5$;
- (C) $4/5$;
- (D) $2/3$;
- (E) $1/2$.

40

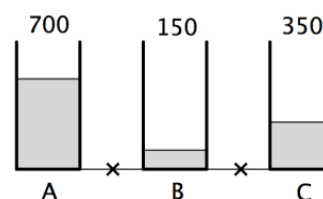
Francisco vendeu seu carro e, do valor recebido, usou a quarta parte para pagar dívidas, ficando então com R\$ 21.600,00.

Francisco vendeu seu carro por:

- (A) R\$ 27.600,00;
- (B) R\$ 28.400,00;
- (C) R\$ 28.800,00;
- (D) R\$ 29.200,00;
- (E) R\$ 29.400,00.

41

Em um prédio há três caixas d'água chamadas de A, B e C e, em certo momento, as quantidades de água, em litros, que cada uma contém aparecem na figura a seguir.



Abrindo as torneiras marcadas com x no desenho, as caixas foram interligadas e os níveis da água se igualaram.

Considere as seguintes possibilidades:

1. A caixa A perdeu 300 litros.
2. A caixa B ganhou 350 litros.
3. A caixa C ganhou 50 litros.

É verdadeiro o que se afirma em:

- (A) somente 1;
- (B) somente 2;
- (C) somente 1 e 3;
- (D) somente 2 e 3;
- (E) 1, 2 e 3.

42

No primeiro turno do campeonato piauiense de futebol 6 times participam, mas somente 4 chegam às semifinais.

O número de possibilidades diferentes para o conjunto dos 4 times que estarão nas semifinais é:

- (A) 10;
- (B) 12;
- (C) 15;
- (D) 18;
- (E) 30.

43

Um grupo de 6 estagiários foi designado para rever 50 processos e cada processo deveria ser revisto por apenas um dos estagiários. No final do trabalho, todos os estagiários trabalharam e todos os processos foram revistos.

É correto afirmar que:

- (A) um dos estagiários reviu 10 processos;
- (B) todos os estagiários reviram, cada um, pelo menos 5 processos;
- (C) um dos estagiários só reviu 2 processos;
- (D) quatro estagiários reviram 7 processos e dois estagiários reviram 6 processos;
- (E) pelo menos um dos estagiários reviu 9 processos ou mais.

44

A partir do ano de 1852, quando a cidade de Teresina foi fundada, certa igreja resolveu promover, de 7 em 7 anos, uma festa em homenagem a Nossa Senhora do Amparo, a padroeira da cidade. Essa festa ocorre, então em 1859, 1866, e assim por diante, estabelecendo uma tradição.

Mantendo-se a tradição, a próxima festa será realizada em:

- (A) 2017;
- (B) 2018;
- (C) 2019;
- (D) 2020;
- (E) 2021.

45

Francisca tem um saco com moedas de 1 real. Ela percebeu que, fazendo grupos de 4 moedas, sobrava uma moeda, e, fazendo grupos de 3 moedas, ela conseguia 4 grupos a mais e sobravam 2 moedas.

O número de moedas no saco de Francisca é:

- (A) 49;
- (B) 53;
- (C) 57;
- (D) 61;
- (E) 65.

46

Considerando a divisão de competências no âmbito do Tribunal de Justiça do Estado do Piauí, mais especificamente as atividades desenvolvidas pela Corregedoria Geral da Justiça, bem como sua organização interna, é correto afirmar que:

- (A) esse órgão deve fiscalizar os serviços forenses e administrativos da justiça de primeiro e de segundo grau;
- (B) somente a Corregedoria realiza correções ordinárias e anuais nos órgãos de primeira instância;
- (C) o Desembargador, no exercício do mandato de Corregedor Geral, fica dispensado de sua função judicante normal;
- (D) as correções extraordinárias são sempre realizadas por deliberação da Corregedoria Geral;
- (E) não estão sujeitas à correção da Corregedoria Geral as escritanias das Varas de Fazenda Pública.

47

Considerando a sistemática estabelecida no Regimento Interno do Tribunal de Justiça do Estado do Piauí, a respeito dos limites das decisões monocráticas passíveis de serem proferidas pelo relator, é correto afirmar que ele:

- (A) não pode denegar ou decretar a prisão preventiva nos processos criminais;
- (B) pode julgar o mérito dos recursos sempre que estiver convencido da correção da tese sustentada;
- (C) pode determinar que o Ministério Público ajuíze a ação penal cabível sempre que demonstrada a autoria de crime;
- (D) pode denegar a ordem em mandado de segurança, desde que siga a jurisprudência consolidada do Tribunal;
- (E) não pode expedir alvarás de soltura, o que é de competência exclusiva do colegiado.

48

A respeito da responsabilização administrativa dos servidores, é correto afirmar, nos termos do Plano de Carreiras e Remuneração dos Servidores do Poder Judiciário do Estado do Piauí, que a instauração do respectivo processo administrativo ou sindicância punitiva cabe:

- (A) conforme a instância de atuação do servidor, ao Presidente do Tribunal de Justiça ou ao Corregedor-Geral da Justiça;
- (B) ao Juiz de Direito ao qual o servidor implicado está subordinado ou ao Juiz Diretor do Fórum;
- (C) concorrentemente, ao Corregedor-Geral da Justiça ou ao Juiz de Direito ao qual o servidor está subordinado;
- (D) exclusivamente ao Presidente do Tribunal de Justiça, que pode delegar a instrução a um Juiz de Direito;
- (E) exclusivamente ao Corregedor-Geral da Justiça, que pode delegar a instrução a um Juiz de Direito.

49

A denominada exoneração do serviço público é uma forma de dissolução do vínculo funcional passível de ocorrer quando o servidor público estadual:

- (A) for condenado, em decisão administrativa irrecorrível, pela prática de uma infração disciplinar;
- (B) requerer a sua aposentadoria voluntária, por ter preenchido os requisitos etário e de tempo de serviço;
- (C) for promovido para cargo diverso, inserido na mesma carreira a que pertence;
- (D) tomar posse no cargo público e não tiver um exercício funcional contínuo pelo prazo de seis meses;
- (E) não satisfizer as condições estabelecidas para o seu estágio probatório.

50

A respeito da organização interna do Tribunal de Justiça do Piauí, para fins de prestação da tutela constitucional, é correto afirmar que ele funcionará:

- (A) em plenário, em seções cíveis e criminais, bem como em câmaras especializadas, sendo três cíveis e duas criminais;
- (B) em plenário, em câmaras especializadas, sendo quatro cíveis e duas criminais, e em câmaras reunidas;
- (C) em seções cíveis e criminais, em câmaras especializadas, sendo duas cíveis e duas criminais, e em câmaras reunidas;
- (D) em seções cíveis e criminais e em câmaras reunidas, sendo três cíveis e três criminais;
- (E) em plenário e em câmaras especializadas, sendo duas cíveis e duas criminais.

51

No que diz respeito às garantias e às atividades desenvolvidas pelos Juízes de Direito Adjuntos, é correto afirmar que:

- (A) atuam juntamente com os Juízes de Direito, exercendo as mesmas competências;
- (B) devem substituir os Juízes de Direito, mas não têm as mesmas garantias dos magistrados;
- (C) somente podem exercer funções administrativas, não funções judicantes;
- (D) somente podem praticar atos de instrução, não atos decisórios;
- (E) são numerados ordinalmente e têm as mesmas garantias dos magistrados.

52

A respeito da sistemática afeta ao cargo de Secretário de Serviços Cartorários Cíveis, é correto afirmar, de acordo com a sistemática do Plano de Carreiras e Remuneração dos Servidores do Poder Judiciário do Estado do Piauí, que:

- (A) é um cargo de provimento efetivo, o que exige a prévia aprovação em concurso público;
- (B) é um cargo em comissão, que tem como requisito a conclusão do ensino médio;
- (C) do valor da respectiva gratificação, 10% correspondem ao vencimento e 90% à representação;
- (D) o substituto legal ou eventual do Secretário deve ter cursado, no mínimo, o segundo ano do ensino médio;
- (E) o servidor público efetivo designado para o cargo pode acumular a remuneração com a do cargo que ocupa.

53

Em razão do escalonamento funcional existente no serviço público estadual e da correlata organização dos cargos públicos em carreira, é correto afirmar que:

- (A) a transposição de cargos públicos é uma forma de elevação na respectiva carreira;
- (B) tanto o servidor estável como aquele em estágio probatório podem ser livremente promovidos;
- (C) a avaliação do servidor, para fins de promoção, é realizada exclusivamente pelo superior hierárquico;
- (D) na promoção na carreira, o critério de antiguidade tem precedência sobre o de merecimento;
- (E) é exigido um interstício mínimo de dois anos para a promoção de um nível para outro da carreira.

54

A criação de uma comarca está condicionada ao preenchimento de determinados requisitos previstos na lei de organização judiciária. A esse respeito, é correto afirmar que:

- (A) a área do respectivo território deve ser superior a quarenta quilômetros quadrados;
- (B) a população mínima do Município deve ser de vinte mil habitantes;
- (C) os Municípios não podem concorrer com recursos próprios para o preenchimento dos requisitos legais;
- (D) a população mínima do Município deve ser de quinze mil habitantes;
- (E) o serviço forense da comarca a ser desmembrada deve ser de, no mínimo, sessenta processos anuais.

55

A respeito da denominada “reversão”, é correto afirmar que:

- (A) consubstancia uma forma de provimento terceirizado do cargo público;
- (B) reflete o retorno do servidor em gozo de férias à atividade regular;
- (C) é forma de retorno a um estágio anterior da respectiva carreira;
- (D) pode ocorrer quando insubsistentes os motivos da aposentadoria por invalidez;
- (E) somente pode ocorrer após a declaração de invalidade do ato de exoneração.

56

Determinado servidor público sofreu grave acidente de trabalho e foi afastado do serviço público. Após um período de recuperação, foi sensível a redução de sua capacidade laborativa. Apesar disso, era plenamente possível que viesse a exercer atribuição diversa, compatível com suas atuais condições físicas. Nesse caso, o referido servidor:

- (A) será readaptado e, caso inexistir cargo vago, exercerá suas atribuições como excedente até a ocorrência de vaga;
- (B) quando retornar ao serviço público, deve exercer, necessariamente, as mesmas atribuições que exercia quando do acidente;
- (C) não pode retornar ao serviço público, devendo ser necessariamente aposentado por invalidez;
- (D) pode ocupar qualquer outro cargo público compatível com suas condições físicas, independentemente do nível de escolaridade exigido;
- (E) somente poderá ser reintegrado quando criado um cargo público semelhante ao que ocupava, de modo que possa provê-lo.

57

Apesar de os Juízes de Direito possuírem a garantia constitucional da inamovibilidade, é possível determinar a sua remoção compulsória em situações excepcionais, o que ocorre quando demonstrado que sua permanência é prejudicial ao interesse público. A esse respeito, é correto afirmar que o processo de remoção compulsória:

- (A) somente pode ser iniciado por proposta do Presidente do Tribunal de Justiça;
- (B) exige prova pré-constituída, não havendo espaço para dilação probatória;
- (C) decorre de ato prejudicial ao interesse público, como o vício de embriaguez;
- (D) não pode ser instaurado pelo fato de o Juiz estar sendo ameaçado em sua segurança pessoal;
- (E) pode ser antecedido de sindicância, da alçada do Tribunal Pleno, para apurar situações prejudiciais ao interesse público.

58

A respeito das atribuições da carreira de Analista Processual, afeta à área judiciária do grupo funcional de Analista Judiciário, é correto afirmar que, no seu rol de competências está:

- (A) redigir, em forma legal, os ofícios e mandados;
- (B) comparecer às audiências ou designar substituto;
- (C) realizar diligências e cumprir os mandados judiciais;
- (D) responder a consulta jurídica quando solicitado;
- (E) prestar assistência técnica e apoio na área de informática.

59

Para fins de divisão e organização do serviço, o Estado do Piauí possui uma divisão judiciária. A esse respeito, é correto afirmar que:

- (A) a divisão judiciária somente contempla a organização em instâncias;
- (B) existem comarcas de entrância final, de entrância intermediária e de entrância inicial;
- (C) as comarcas são sempre classificadas em duas categorias;
- (D) os Juizados Especiais são sempre enquadrados na primeira entrância;
- (E) somente a Capital do Estado é uma comarca de entrância final.

60

Um ex-servidor público estadual procurou a Administração Pública e afirmou que desejava ser reconduzido ao cargo.

É possível que tal ocorra no caso de:

- (A) servidor público inativo, quando cessarem os motivos da aposentadoria por invalidez;
- (B) servidor estável, quando inabilitado em estágio probatório relativo a outro cargo;
- (C) ocupante de cargo em comissão, que é nomeado para outro cargo;
- (D) servidor público inativo, quando a sua aposentadoria for anulada por decisão judicial transitada em julgado;
- (E) servidor estável, quando invalidada a decisão administrativa que aplicou a sanção de demissão.

61

As ações de saúde, executadas pelo Sistema Único de Saúde (SUS) que são responsabilidades comuns à União, Estados, Distrito Federal e Municípios são:

- (A) formar consórcios administrativos intermunicipais;
- (B) gerir laboratórios públicos de saúde e hemocentros;
- (C) formular, avaliar e apoiar políticas de alimentação e nutrição;
- (D) definir e coordenar os sistemas de vigilância sanitária;
- (E) elaboração e atualização periódica do plano de saúde.

62

O baço normal possui uma consistência mole, contorno liso, triangular, e acompanha a concavidade do diafragma. Em pacientes com um quadro de esquistossomose ou cirrose hepática, esse órgão terá uma consistência:

- (A) mole e pouco dolorosa;
- (B) mole e indolor;
- (C) dura e pouco dolorosa;
- (D) mole e muito dolorosa;
- (E) dura e muito dolorosa.

63

Ao realizar o exame da parede torácica de um paciente, o enfermeiro identificou retração inspiratória do terço inferior da região esternal e do apêndice xifoide. Esse achado é indicativo de:

- (A) hipertrofia do ventrículo direito;
- (B) pleuripericardite adesiva posterior (sinal de Broadbent);
- (C) aneurisma da croça da aorta;
- (D) pericardite crônica adesiva (sinal de wenckebach);
- (E) aneurisma da aorta torácica.

64

Constitui uma atividade privativa do enfermeiro:

- (A) participação no planejamento, execução e avaliação da programação de saúde;
- (B) prevenção e controle sistemático da infecção hospitalar e de doenças transmissíveis em geral;
- (C) consultoria, auditoria e emissão de parecer sobre matéria de enfermagem;
- (D) assistência de enfermagem à gestante, parturiente e puérpera;
- (E) participação na elaboração, execução e avaliação dos planos assistenciais de saúde.

65

Ao preparar uma prescrição medicamentosa, o profissional de enfermagem recusou-se a prosseguir após identificar um erro que podia comprometer a saúde do paciente. Nesse caso, o profissional:

- (A) exerceu um direito que lhe cabe;
- (B) cometeu uma infração;
- (C) foi negligente;
- (D) cometeu crime de omissão;
- (E) exerceu um dever profissional.

66

Ao realizar manobra de ressuscitação cardiopulmonar em uma criança, o profissional de saúde deve manter uma frequência de, no mínimo:

- (A) 50 compressões por min;
- (B) 60 compressões por min;
- (C) 80 compressões por min;
- (D) 90 compressões por min;
- (E) 100 compressões por min.

67

De acordo com o Programa Nacional de Suplementação de Ferro, crianças na idade de 6 a 18 meses devem receber o seguinte suplemento:

- (A) 5mg de ferro elementar 1 vez ao dia;
- (B) 10mg de ferro elementar 1 vez por semana;
- (C) 15mg de ferro elementar 1 vez ao dia;
- (D) 20mg de ferro elementar 1 vez por semana;
- (E) 25mg de ferro elementar 1 vez por semana.

68

Na assistência a um paciente com varicela, a equipe de saúde deve manter a precaução recomendada até:

- (A) todas as lesões tornarem-se crostas;
- (B) 5 dias após o surgimento das lesões;
- (C) 24 horas após a internação;
- (D) 2 dias após o início do tratamento;
- (E) a remissão da febre.

69

A situação das doenças transmissíveis no Brasil apresenta um quadro complexo, que pode ser resumido em três grandes tendências: doenças transmissíveis com tendência descendente, doenças transmissíveis com quadro de persistência e doenças transmissíveis emergentes e reemergentes.

Uma doença transmissível com tendência descendente é:

- (A) malária;
- (B) coqueluche;
- (C) tuberculose;
- (D) leptospirose;
- (E) hepatites virais.

70

Ao orientar uma puérpera a respeito dos cuidados com o recém-nascido, o enfermeiro falou sobre a importância do teste do pezinho, ressaltando que este deve ser realizado, após o nascimento, no prazo de até:

- (A) 7 dias;
- (B) 10 dias;
- (C) 15 dias;
- (D) 20 dias;
- (E) 30 dias.

71

Ao examinar um paciente internado com quadro de dor abdominal aguda, o enfermeiro realizou uma compressão no ponto de McBurney seguida de uma descompressão súbita. Durante esse procedimento o paciente referiu piora acentuada da dor (sinal de Blumberg). A presença do sinal de Blumberg indica um quadro de:

- (A) inflamação peritoneal;
- (B) diverticulite;
- (C) cirrose;
- (D) endometriose;
- (E) íleo paralítico.

72

Um técnico de enfermagem sofreu exposição percutânea a material biológico durante a realização de uma punção venosa. Analise as afirmativas abaixo em relação à conduta que deve ser adotada em situações como essa:

I. A área exposta deve ser exaustivamente lavada com água e sabão.

II. Quando indicada, a quimioprofilaxia pós-exposição ocupacional (PEP) deve ser iniciada o mais rápido possível, idealmente nas primeiras horas após o acidente.

III. Se o paciente-fonte afirmar ser HIV negativo, comprovado com teste laboratorial realizado nos últimos 30 dias, o profissional exposto deve realizar a PEP durante 7 dias.

A(s) conduta(s) adequada(s) é/são somente.

- (A) I;
- (B) II;
- (C) III;
- (D) I e II;
- (E) II e III.

73

Um recém nascido (RN) apresentou frequência cardíaca de 140 bpm e frequência respiratória de 45 mrm. Com base nos parâmetros estabelecidos para a idade, é correto afirmar que esse RN está:

- (A) taquicárdico e taquipneico;
- (B) normocárdico e bradpneico;
- (C) bradicárdico e taquipneico;
- (D) taquicárdico e bradpneico;
- (E) normocárdico e normopneico.

74

Uma paciente foi diagnosticada com tuberculose durante o período gestacional e precisou iniciar o esquema de tratamento. A droga que NÃO é segura para tratamento durante a gestação, pois pode causar deficiência auditiva do feto, é:

- (A) rifampicina;
- (B) isoniazida;
- (C) estreptomicina;
- (D) pirazinamida;
- (E) etambutol.

75

O profissional de enfermagem que cometer crime passível de suspensão pode ser proibido de exercer a profissão por um período de até:

- (A) 10 dias;
- (B) 15 dias;
- (C) 20 dias;
- (D) 29 dias;
- (E) 35 dias.

76

De acordo com as normas da ANVISA, em relação ao tratamento e descarte de resíduos, é correto afirmar que as bolsas transfusionais vazias ou com volume residual pós-transfusão:

- (A) podem ser recicladas;
- (B) devem passar por inativação microbiana antes do descarte;
- (C) devem ser descontaminadas antes do descarte final;
- (D) não necessitam de tratamento especial antes do descarte;
- (E) devem ser incineradas.

77

O monitoramento do processo de esterilização deve ser realizado a cada carga em Pacote Teste Desafio com integradores químicos:

- (A) classes 1 ou 2;
- (B) classes 2 ou 3;
- (C) classes 3 ou 4;
- (D) classes 4 ou 5;
- (E) classes 5 ou 6.

78

Ao orientar sua equipe sobre as indicações de precauções baseadas na forma de transmissão, a enfermeira citou alguns exemplos de doenças para cada tipo de precaução.

Uma doença na qual se utiliza precaução para gotículas é:

- (A) rubéola;
- (B) sarampo;
- (C) coqueluche;
- (D) tuberculose;
- (E) varicela.

79

Ao calcular a data provável do parto (DPP) de uma gestante cuja data da última menstruação foi no dia 13/09/04, o resultado obtido, com base na Regra de Nägele, será:

- (A) 13/05/05.
- (B) 23/05/05;
- (C) 13/06/05;
- (D) 18/06/05;
- (E) 20/06/05.

80

Durante o acompanhamento de pré-natal uma paciente na 22ª semana de gestação, previamente normotensa, apresentou HAS e proteinúria (> 300 mg/24h).

Esses achados caracterizam um quadro de:

- (A) eclâmpsia;
- (B) pré-eclâmpsia;
- (C) hipertensão gestacional;
- (D) hipertensão arterial sistêmica crônica;
- (E) pré-eclâmpsia superposta à HAS crônica.

81

O indicador Razão de Mortalidade Materna diz respeito ao número de óbitos maternos por:

- (A) 10 nascidos vivos;
- (B) 100 nascidos vivos;
- (C) 1.000 nascidos vivos;
- (D) 10.000 nascidos vivos;
- (E) 100.000 nascidos vivos.

82

Durante a campanha do “outubro rosa” realizada pelo serviço de promoção e prevenção da saúde de um determinado órgão público, a enfermeira orientou corretamente uma paciente de 54 anos, sem histórico de câncer na família, que, para sua faixa etária, é recomendável uma mamografia de rastreamento a cada:

- (A) 6 meses.
- (B) 1 ano;
- (C) 2 anos;
- (D) 3 anos;
- (E) 4 anos.

83

Paciente masculino, 23 anos, internado na unidade de terapia intensiva com histórico de acidente automobilístico com traumatismo crânio-encefálico, apresenta abertura ocular espontânea, pronuncia palavras desconexas e apresenta reflexo de retirada a estímulos dolorosos.

De acordo com os parâmetros da escala de coma de Glasgow, esse paciente está em:

- (A) estado normal;
- (B) coma intermediário;
- (C) coma superficial;
- (D) coma profundo;
- (E) estado vegetativo.

84

A respeito do sistema de planejamento do SUS, analise as afirmativas a seguir:

I . O planejamento deve ser ascendente e integrado, do nível local até o federal, orientado por problemas e necessidades de saúde para a construção das diretrizes, objetivos e metas.

II . São instrumentos para o planejamento no âmbito do SUS o Plano de Saúde, as respectivas Programações Anuais e o Relatório de Gestão.

III . O Relatório de Gestão operacionaliza as intenções expressas no Plano de Saúde e tem por objetivo atualizar as metas do Plano de Saúde e prever a alocação dos recursos orçamentários a serem executados.

Está correto somente o que se afirma em:

- (A) I;
- (B) II;
- (C) III;
- (D) I e II;
- (E) II e III.

85

Pacientes com neoplasias e/ou que necessitem de quimioterapia, radioterapia ou corticoterapia devem tomar algumas vacinas após o tratamento. Dentre essas, está a vacina contra:

- (A) hepatite B;
- (B) varicela;
- (C) doença hepática crônica;
- (D) tríplice viral;
- (E) meningococo C.

86

Durante um plantão na clínica médica, um paciente com hepatopatia necessitou de uma transfusão de plasma. A respeito desse procedimento, analise as afirmativas a seguir:

I. Os primeiros dez minutos de transfusão devem ser acompanhados por um profissional de saúde qualificado para tal atividade, que permanecerá ao lado do paciente durante esse intervalo de tempo.

II. As unidades de plasma devem ser transfundidas 6 horas após seu descongelamento, não devendo exceder 48 (quarenta e oito) horas se armazenadas a $4 \pm 2^\circ\text{C}$.

III. A transfusão deve ser imediatamente interrompida em caso de reações alérgicas, mesmo que leves (urticária), e a bolsa deve ser desprezada.

Está correto somente o que se afirma em:

- (A) I;
- (B) II;
- (C) III;
- (D) I e II;
- (E) II e III.

87

Como uma das formas de evitar infecção de corrente sanguínea, a equipe de enfermagem deve trocar o equipo de nutrição parenteral a cada:

- (A) 12 horas;
- (B) 24 horas;
- (C) 36 horas;
- (D) 48 horas;
- (E) 72 horas.

88

Após a coleta do exame citopatológico do colo do útero, o esfregaço obtido deve ser imediatamente fixado para evitar o dessecação do material. O método de fixação considerado mundialmente como o melhor para os esfregaços citológicos é realizado com:

- (A) álcool a 96%;
- (B) clorexidina alcoólica;
- (C) álcool a 70%;
- (D) polietilenoglicol;
- (E) clorexidina aquosa.

89

Uma funcionária entrou em trabalho de parto no local de trabalho e foi levada ao serviço médico da instituição. A equipe de enfermagem precisou fazer o parto, que correu dentro da normalidade. Após a expulsão do bebê, iniciou-se o processo de dequitação da placenta. Logo que foi possível a apreensão bimanual da placenta, a enfermeira realizou a manobra de Jacob-Dublin, que consiste em:

- (A) tracionar o cordão umbilical;
- (B) puxar a placenta com força moderada;
- (C) pressionar a parte inferior do abdômen;
- (D) puxar a placenta de forma suave;
- (E) fazer a rotação da placenta entre as mãos.

90

Ao levar o filho de 1 ano ao posto de saúde para vacinar, a mãe foi informada de que a criança receberia as seguintes vacinas:

Obs: O calendário de vacinação da criança está em dia.

- (A) 1ª dose da Pentavalente e 2ª dose da Rotavírus Humano;
- (B) dose inicial da Febre Amarela e 3ª dose da Pneumocócica 10V;
- (C) 2ª dose da Meningocócica C e 1ª dose da Hepatite B;
- (D) dose inicial da Pentavalente, 3ª dose da VOP e 2ª dose da Febre Amarela;
- (E) reforço da Pneumocócica 10V, dose única da hepatite A e 1ª dose da Tríplice Viral.

91

Ao atender uma vítima de parada cardiorrespiratória, o profissional de saúde deve iniciar o socorro com:

- (A) 2 ventilações;
- (B) 30 compressões torácicas;
- (C) 5 ventilações;
- (D) 15 compressões torácicas;
- (E) 3 ventilações.

92

A participação social e o controle no SUS estão previstos desde a sua criação. Sobre as instâncias responsáveis por essa participação e controle, é correto afirmar que:

- (A) compete aos Conselhos de Saúde propor critérios para programação e execução financeira e orçamentária dos Fundos de Saúde e acompanhar a movimentação e destino dos recursos;
- (B) as Conferências de Saúde devem ser compostas por 70% de entidades e movimentos representativos de usuários e 30% de trabalhadores da saúde, representantes de governo e prestadores de serviços de saúde;
- (C) a participação de órgãos, entidades e movimentos sociais abrangerá, preferencialmente, associações de pessoas com deficiência, organizações de moradores, entidades de defesa do consumidor e organizações religiosas;
- (D) a Conferência de Saúde atua na formulação de estratégias e no controle da execução da política de saúde na instância correspondente, inclusive nos aspectos econômicos e financeiros;
- (E) os Conselhos de Saúde são instâncias colegiadas com representantes dos vários segmentos sociais, cuja missão é avaliar e propor diretrizes para a formulação da política de saúde nos níveis municipais, estaduais e nacional.

93

Paciente de 30 anos foi atendido no pronto atendimento de uma empresa, apresentando quadro de mal estar geral e cefaleia. Foram prescritos 10mg de uma determinada medicação cuja apresentação é ampola de 4ml (4mg/ml).

Para que a prescrição seja realizada corretamente, deve(m) ser aspirado(s):

- (A) 1,0 ml;
- (B) 1,5 ml;
- (C) 2,0 ml;
- (D) 2,5 ml;
- (E) 3 ml.

94

Um paciente de 65 anos compareceu à unidade de saúde para tomar a vacina contra gripe (influenza) e informou que faz uso de anticoagulante oral. Nesse caso, o profissional de saúde deve administrar a vacina por via:

- (A) oral;
- (B) intramuscular;
- (C) subcutânea;
- (D) intradérmica;
- (E) intramuscular profunda.

95

Durante o exame ginecológico de uma paciente, a enfermeira identificou prolapso da parede anterior da vagina e bexiga para dentro da vagina. Essa condição é denominada:

- (A) retocele;
- (B) cistocele;
- (C) prolapso uterino de 1º grau;
- (D) prolapso uterino de 2º grau;
- (E) prolapso uterino de 3º grau.

96

A assistência imediata às doenças e aos agravos ocupacionais é uma medida que faz parte do seguinte nível de prevenção:

- (A) primário;
- (B) secundário;
- (C) terciário;
- (D) quaternário;
- (E) promoção da saúde.

97

A equipe de enfermagem deve dispensar alguns cuidados específicos aos pacientes em hemodiálise. Sobre esses cuidados, analise as afirmativas a seguir:

I. Aumentar o ritmo da ultrafiltração se a pressão de transmembrana ficar negativa, afim de evitar a passagem de molécula do dialisador para o sangue.

II. Realizar balanço hídrico rigoroso; as perdas e ganhos devem ser registrados, com avaliação precisa no final do procedimento.

III. Interromper o procedimento em caso de reação alérgica no decorrer da hemodiálise e encaminhar amostra de cultura para análise laboratorial.

Está correto somente o que se afirma em:

- (A) I;
- (B) II;
- (C) III;
- (D) I e II;
- (E) II e III.

98

Durante uma quimioterapia, caso haja extravasamento de droga em tecido subcutâneo, o procedimento imediato deve ser:

- (A) suspender a quimioterapia e orientar o paciente a retornar no intervalo de 24 horas para nova infusão;
- (B) administrar drogas recomendadas para reverter o efeito causado pelo extravasamento;
- (C) introduzir 50ml de solução de manutenção e elevar o membro acima do nível do coração;
- (D) suspender a infusão e aspirar com uma seringa vazia o restante da droga que está na via de acesso;
- (E) aplicar compressa morna no local por 20 min e orientar que o paciente continue a aplicação por 5 dias.

99

Paciente internado no CTI após retirada do ventilador mecânico apresenta diaforese profusa, agitação, respiração ofegante e aumento da pressão sanguínea em relação aos parâmetros basais. Essas são características definidoras do seguinte diagnóstico de enfermagem:

- (A) perfusão tissular periférica ineficaz;
- (B) padrão respiratório ineficaz;
- (C) ventilação espontânea prejudicada;
- (D) resposta disfuncional ao desmame ventilatório;
- (E) risco de perfusão tissular cerebral ineficaz.

100

O princípio do SUS que objetiva garantir o acesso às ações e serviços de saúde em todos os níveis de assistência e a todos que dele necessitem é:

- (A) integralidade;
- (B) universalidade;
- (C) descentralização;
- (D) hierarquização;
- (E) igualdade.

Realização

