

Prova objetiva e discursiva – Nível Médio completo

Técnico Judiciário - Área

Administrativa

TIPO 4 – AZUL

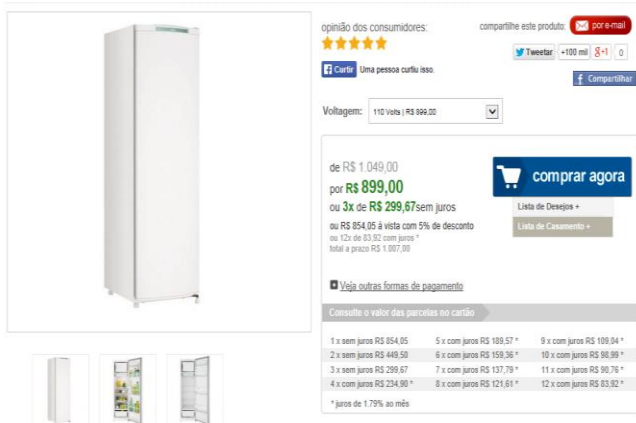
Informações Gerais

- Você receberá do fiscal de sala:
 - este caderno de prova, contendo 60 questões objetivas, o tema de redação;
 - uma folha destinada às respostas das questões objetivas;
 - um caderno de respostas destinado à redação.
- Verifique se seu caderno está completo, sem repetição ou falhas, com cinco alternativas de resposta (A, B, C, D e E) para cada questão objetiva. Caso contrário, notifique imediatamente o fiscal de sala para que sejam tomadas as devidas providências.
- As questões são identificadas pelo número situado acima do seu enunciado.
- Ao receber a folha de respostas da prova objetiva você deve:
 - conferir seus dados pessoais, em especial seu nome, número de inscrição e o número do documento de identidade.
 - ler atentamente as instruções para o preenchimento da folha de respostas;
 - marcar na folha de respostas da prova objetiva o campo relativo à confirmação do tipo/cor de prova, conforme o caderno que você recebeu;
 - assinar seu nome, apenas nos espaços reservados, com caneta esferográfica de tinta azul ou preta.
- Durante a aplicação da prova não será permitido:
 - qualquer tipo de comunicação entre os candidatos;
 - levantar da cadeira sem a devida autorização do fiscal de sala;
 - será eliminado do concurso o candidato que, durante a realização da prova, for surpreendido portando aparelhos eletrônicos, tais como *iPod*, *smartphone*, telefone celular, agenda eletrônica, aparelho MP3, *notebook*, *tablet*, *palmtop*, *pendrive*, receptor, gravador, máquina de calcular, máquina fotográfica, controle de alarme de carro etc., bem como relógio de qualquer espécie, óculos escuros ou quaisquer acessórios de chapelaria, tais como chapéu, boné, gorro etc., e, ainda, lápis, lapiseira (grafite), corretor líquido e/ou borracha. O candidato que estiver portando algo definido ou similar ao disposto neste subitem deverá informar ao fiscal da sala, que determinará o seu recolhimento em embalagens não reutilizáveis fornecidas pelos fiscais, as quais deverão permanecer lacradas durante todo o período da prova, sob a guarda do candidato.
- O preenchimento das respostas da prova objetiva, de inteira responsabilidade do candidato, deverá ser feito com caneta esferográfica de tinta indelével de cor preta ou azul. **Não será permitida a troca da folha de respostas por erro do candidato.**
- O tempo disponível para a realização da prova é de **4 (quatro)** horas, já incluído o tempo para a marcação da folha de respostas da prova objetiva.
- Reserve tempo suficiente para o preenchimento de suas respostas. Para fins de avaliação, serão levadas em consideração apenas as marcações realizadas na folha de respostas da prova objetiva, não sendo permitido anotar informações relativas às suas respostas em qualquer outro meio que não seja o próprio caderno de provas.
- Somente após decorridos **noventa minutos** do início da prova você poderá retirar-se da sala de prova sem, contudo, levar o caderno de provas.
- Somente no decorrer dos últimos **sessenta minutos** do período da prova, você poderá retirar-se da sala levando o caderno de provas.
- Ao terminar a prova, entregue a folha de respostas ao fiscal da sala e deixe o local de prova. Caso você se negue a entregar, será eliminado do concurso.
- A FGV realizará a coleta da impressão digital dos candidatos na folha de respostas.
- Os candidatos poderão ser submetidos a sistema de detecção de metais quando do ingresso e da saída de sanitários durante a realização das provas. Ao sair da sala, ao término da prova, o candidato não poderá usar o sanitário.
- Os gabaritos preliminares das provas objetivas serão divulgados no dia **27/01/2015**, no endereço www.fgv.br/fgvprojetos/concursos/tjba.
- O prazo para interposição de recursos contra os gabaritos preliminares será de 0h do dia **28/01/2015** até as 23h59 do dia **29/01/2015**, observado o horário oficial, no endereço eletrônico www.fgv.br/fgvprojetos/concursos/tjba, por meio do Sistema Eletrônico de Interposição de Recurso.

Língua Portuguesa

Texto 1

Refrigerador | Geladeira Consul 1 Porta 239 Litros Branco - CRC28FBANA código do produto: 14128



opinião dos consumidores: ★★★★★ compartilhe este produto: [por e-mail](#) [Twitter](#) +100 mil [Facebook](#) [Compartilhar](#)

Carir! Uma pessoa curtiu isso.

Voltagem: 110 volts | R\$ 899,00

de R\$ 1.049,00
por **R\$ 899,00**
ou 3x de **R\$ 299,67** sem juros
ou R\$ 854,95 à vista com 5% de desconto
ou 12x de R\$ 83,92 com juros*
total a prazo R\$ 1.007,99

[comprar agora](#)

[Lista de Desejos +](#)
[Lista de Casamentos +](#)

[Veja outras formas de pagamento](#)

Consulte o valor das parcelas no cartão

1 x sem juros R\$ 854,95	5 x com juros R\$ 188,57 *	9 x com juros R\$ 109,04 *
2 x sem juros R\$ 449,50	6 x com juros R\$ 159,36 *	10 x com juros R\$ 98,99 *
3 x sem juros R\$ 299,67	7 x com juros R\$ 137,79 *	11 x com juros R\$ 90,76 *
4 x com juros R\$ 234,90 *	8 x com juros R\$ 121,61 *	12 x com juros R\$ 83,92 *

* juros de 1,79% ao mês

1

O cartaz publicitário do refrigerador (texto 1) contém duas frases com a forma verbal no imperativo: “compartilhe este produto” e “veja outras formas de pagamento”. O valor desse modo verbal nas frases destacadas é o de:

- (A) impor uma vontade ao interlocutor;
- (B) incentivar o leitor a fazer algo;
- (C) ordenar ao cliente a execução de uma ação;
- (D) pedir ao consumidor a realização de uma tarefa;
- (E) aconselhar o comprador a executar um ato.

2

Como toda publicidade, esta (texto 1) também deseja vender o produto anunciado; para isso apela para um conjunto de estratégias. Entre as indicadas abaixo, aquela que NÃO pode ser considerada objetivamente como um incentivo à venda do refrigerador acima é:

- (A) indicar a quantidade de portas (1) e sua capacidade de 239 litros;
- (B) mostrar na quantidade de estrelas a opinião dos consumidores;
- (C) revelar a redução do preço do produto, de R\$1.049 para R\$899;
- (D) possibilitar ao consumidor várias formas de pagamento;
- (E) encaminhar o cliente para a possibilidade de compartilhamento de informações.

Texto 2 - “A primeira missão tripulada ao espaço profundo desde o programa Apollo, da década 1970, com o objetivo de enviar astronautas a Marte até 2030 está sendo preparada pela Nasa (agência espacial norte-americana). O primeiro passo para a concretização desse desafio será dado nesta sexta-feira (5), com o lançamento da cápsula Orion, da base da agência em Cabo Canaveral, na Flórida, nos Estados Unidos. O lançamento estava previsto originalmente para esta quinta-feira (4), mas devido a problemas técnicos foi reagendado para as 7h05 (10h05 no horário de Brasília).” (Ciência, Internet Explorer).

3

Esse fragmento de um texto informativo mostra um conjunto de elementos que estruturam esse gênero textual; o elemento que aparece inadequadamente identificado é:

- (A) o quê / a primeira missão tripulada a Marte;
- (B) quando / na década de 1970;
- (C) onde / Cabo Canaveral, na Flórida;
- (D) para quê / enviar astronautas a Marte;
- (E) quem / Nasa, agência espacial norte-americana.

4

A preocupação com a precisão informativa só NÃO está presente, no texto 2, na seguinte circunstância:

- (A) explicitação da sigla “Nasa”;
- (B) indicação da sexta-feira referida;
- (C) identificação da quinta-feira já passada;
- (D) correspondência de horários EUA e Brasil;
- (E) revelação da fonte de informações do texto.

5

O segmento do texto 2 que mostra uma participação do enunciador no texto informativo é:

- (A) “A primeira missão tripulada ao espaço profundo desde o programa Apollo, da década 1970, com o objetivo de enviar astronautas a Marte até 2030”;
- (B) “ O primeiro passo para a concretização desse desafio será dado nesta sexta-feira (5)”;
- (C) “... com o lançamento da cápsula Orion, da base da agência em Cabo Canaveral, na Flórida, nos Estados Unidos”;
- (D) “O lançamento estava previsto originalmente para esta quinta-feira”;
- (E) “...devido a problemas técnicos foi reagendado para as 7h05 (10h05 no horário de Brasília)”.

6

Os segmentos abaixo, retirados do texto 2, que documentam formas de voz passiva são:

- (A) foi reagendado para as 7h05 / está sendo preparada pela Nasa;
- (B) está sendo preparada pela Nasa / o objetivo de enviar astronautas a Marte;
- (C) o objetivo de enviar astronautas a Marte / será dado nesta sexta-feira;
- (D) será dado nesta sexta-feira / o lançamento estava previsto;
- (E) o lançamento estava previsto / foi reagendado para as 7h05.

7

“com o lançamento da cápsula Orion, da base da agência em Cabo Canaveral, na Flórida, nos Estados Unidos.”

Os termos sublinhados se encarregam da localização do lançamento da cápsula referida; o critério para essa localização também foi seguido no seguinte caso: Os protestos contra as cotas raciais ocorreram:

- (A) em Brasília, Distrito Federal, na região Centro-Oeste;
- (B) em Porto Alegre, Rio Grande do Sul, região Sul;
- (C) em Pedrinhas, São Luís, Maranhão;
- (D) em São Paulo, São Paulo, Brasil;
- (E) em Goiânia, região Centro-Oeste, Brasil.

8

“O primeiro passo para a concretização desse desafio será dado nesta sexta-feira (5), com o lançamento da cápsula Orion, da base da agência em Cabo Canaveral, na Flórida, nos Estados Unidos.”

Transformando o segmento “para a concretização desse desafio” em uma oração desenvolvida, a forma adequada será:

- (A) para concretizar-se esse desafio;
- (B) para concretar-se esse desafio;
- (C) para que se concretize esse desafio;
- (D) para que esse desafio fosse concretizado;
- (E) para que esse desafio seja concretado.

Texto 3 – “A Lua Cheia entra em sua fase Crescente no signo de Gêmeos e vai movimentar tudo o que diz respeito à sua vida profissional e projetos de carreira. Os próximos dias serão ótimos para dar andamento a projetos que começaram há alguns dias ou semanas. Os resultados chegarão rapidamente”.

9

O texto 3 é relativo ao horóscopo do signo de Gêmeos, consultado no dia 6 de dezembro de 2014; o exemplo que é inadequado à marca desse tipo de gênero textual é:

- (A) a presença de formas verbais no futuro, como “vai movimentar”;
- (B) a predominância de previsões positivas, como “serão ótimos”;
- (C) a utilização de jargão da área de astrologia, como “entra em sua fase Crescente”;
- (D) o emprego de vocábulos de sentido pouco específico, como “os resultados chegarão”;
- (E) o emprego de pronomes diretamente relacionados ao interlocutor, como “em sua fase Crescente”.

10

O texto 3 mostra também um emprego adequado de forma do verbo haver em “projetos que começaram há alguns dias ou semanas”.

A frase abaixo em que essa mesma forma foi empregada adequadamente é:

- (A) o horóscopo já estava publicado há cerca de dez dias;
- (B) o leitor estava há duas horas dali;
- (C) o astrólogo só será visto daqui há dois anos;
- (D) o horóscopo não se refere há anos passados;
- (E) o texto está há 20 centímetros do final da página.

11

O texto 3 mostra exemplos de emprego correto do “a” com acento grave indicativo da crase – “diz respeito à sua vida profissional”. A frase abaixo em que o emprego do acento grave da crase é corretamente empregado é:

- (A) o texto do horóscopo veio escrito à lápis;
- (B) começaram à chorar assim que leram as previsões;
- (C) o horóscopo dizia à cada leitora o que devia fazer;
- (D) o leitor estava à procura de seu destino;
- (E) o astrólogo previa o futuro passo à passo.

Texto 4 - “Será que Jesus Cristo verdadeiramente existiu? Ou têm razão aqueles que o tomam apenas como uma figura lendária, como um símbolo criado para dar sustentação à fé cristã? Esse questionamento ressurgiu a cada obra literária ou cinematográfica sobre Jesus lançada no mercado, ou a cada descoberta arqueológica divulgada pela comunidade científica e envolvendo o assunto.” (Paul L. Maier, *Jesus, verdade ou mito?*)

12

O fragmento de texto acima se inclui entre os textos do gênero argumentativo porque:

- (A) é introduzido por perguntas retóricas;
- (B) se compromete a relatar fatos;
- (C) estabelece uma discussão a ser explorada;
- (D) se refere a um fato histórico;
- (E) explora um tema ligado à religiosidade.

13

“um símbolo criado para dar sustentação à fé cristã?”; a forma adequada de uma oração desenvolvida correspondente à oração reduzida do fragmento dado é:

- (A) para que se dê sustentação à fé cristã;
- (B) para que seja dada sustentação à fé cristã;
- (C) para a sustentação da fé cristã;
- (D) para que se desse sustentação à fé cristã;
- (E) para que sustentassem a fé cristã.

Texto 5 – “Dona Custódia não tinha ar de empregada: era uma velha mirrada, muito bem arranjinha, mangas compridas, cabelos em bandó num vago ar de camafeu – usava mesmo um fechando-lhe o vestido ao pescoço. Mas via-se que era humilde e além do mais impunha dentro de casa certo ar de discrição e respeito...”. (Fernando Sabino)

14

O texto 5 deve ser caracterizado como:

- (A) argumentativo com tese de caráter pessoal;
- (B) narrativo com segmentos descritivos;
- (C) descritivo com segmentos narrativos;
- (D) narrativo com caráter histórico;
- (E) descritivo com caracterização física e psicológica.

15

“fechando-lhe o vestido ao pescoço”; nesse segmento do texto 5, o pronome LHE tem o mesmo valor que na frase seguinte:

- (A) deu-lhe o prêmio merecido;
- (B) ela lhe entregou a encomenda;
- (C) beijou-lhe o rosto, envergonhado;
- (D) o noivo lhe endereçou a carta;
- (E) recomendou-lhe um novo medicamento.

16

Todas as frases abaixo são do gênero descritivo; aquele que se apoia no sentido táctil, é:

- (A) a mãe tinha na mão fria a luva de lã áspera;
- (B) o quarto tinha o aspecto de um brechó;
- (C) da cozinha emanava uma essência de baunilha;
- (D) do fundo do corredor vinha a algazarra costumeira;
- (E) na boca, o azedo da fruta.

17

“...mas via-se que era humilde”; o mesmo valor do vocábulo SE aparece na frase seguinte:

- (A) ela se considerava pessoa de respeito;
- (B) eles não se viam há longo tempo;
- (C) precisava-se de mais tempo para a avaliação;
- (D) entregou-se a foto solicitada;
- (E) vive-se bem na região Sul.

Texto 6

**18**

Na tira do texto 6, a técnica gráfica utilizada é a de mostrar a cena:

- (A) de longe para perto;
- (B) de perto para longe;
- (C) do todo para as partes;
- (D) das partes para o todo;
- (E) de baixo para cima.

19

A tira de Hagar (texto 6) é localizada cronologicamente na época dos vikings; graficamente, o item que NÃO apresenta correlação temporal com essa época é:

- (A) as vestimentas dos personagens;
- (B) o emprego de espadas;
- (C) o tipo de construção;
- (D) as armas de artilharia;
- (E) a estratégia de ataque.

20

A frase “Deixamos eles bêbados”, dita por Hagar no segundo quadrinho do texto 6, mostra uma linguagem coloquial; a forma adequada à norma culta seria:

- (A) deixamo-nos bêbados;
- (B) deixamos-nos bêbados;
- (C) os deixamos bêbados;
- (D) deixamo-los bêbados;
- (E) deixamos-los bêbados.

Legislação Específica

21

Conforme estabelece a Organização e Divisão Judiciária do Estado da Bahia, a classificação e a reclassificação das Comarcas, por entrâncias, dependerão de lei e obedecerão a fatores objetivos, relacionados com a extensão territorial, o número de habitantes, o colégio eleitoral, o movimento forense e a receita tributária. Na entrância inicial, deve-se observar, entre outros, o seguinte critério:

- (A) extensão territorial de até 50 km²;
- (B) população de até 100.000 (cem mil) habitantes, residindo, pelo menos, 30% (trinta por cento) na respectiva sede;
- (C) aforamento anual de aproximadamente 300 (trezentos) feitos de jurisdição contenciosa;
- (D) receita tributária superior, no mínimo, ao dobro da exigida para a criação do município;
- (E) colégio eleitoral correspondente a 70% (setenta por cento) da população.

22

Maurício, servidor da Justiça, praticou reiteradamente atos de indisciplina e insubordinação. Consoante dispõe a Lei nº 10.845, de 27 de novembro de 2007 (Organização e Divisão Judiciária do Estado da Bahia), Maurício está sujeito à pena disciplinar de:

- (A) advertência;
- (B) censura;
- (C) suspensão até 30 (trinta) dias;
- (D) suspensão até 90 (noventa) dias;
- (E) demissão.

23

De acordo com a Lei nº 10.845/2007 (Organização e Divisão Judiciária do Estado da Bahia), é vedado aos magistrados:

- (A) dedicar-se à atividade político-partidária;
- (B) ajustar previamente com a autoridade ou magistrado de instância igual ou inferior dia, hora e local para ser ouvido como testemunha;
- (C) tratar com urbanidade as partes, advogados e testemunhas;
- (D) exceder injustificadamente o prazo de até 5 (cinco) dias para decidir ou despachar;
- (E) residir fora da comarca de que for titular, não existindo qualquer exceção a tal regra.

24

Em matéria de frequência ao serviço e cumprimento da carga horária, o Estatuto dos Servidores Públicos Civis do Estado da Bahia (Lei Estadual nº 6.677/94) estabelece que poderá:

- (A) o servidor, sem qualquer prejuízo, ausentar-se do serviço por 3 (três) dias consecutivos, para doação de sangue, desde que comprovado ato por meio de atestado médico;
- (B) o servidor ausentar-se do serviço por 15 (quinze) dias consecutivos, por motivo de falecimento de cônjuge, companheiro, pais, filhos, enteados, menor sob guarda ou tutela e irmãos, desde que comprovados com atestado de óbito;
- (C) ser concedido horário especial ao servidor estudante, quando comprovada a incompatibilidade do horário escolar com o da repartição, sem prejuízo do exercício do cargo, exigida a compensação de horários na repartição e respeitada a duração semanal do trabalho;
- (D) ser concedido, a critério do chefe imediato, horário especial ao servidor que acumule outro cargo público, desde que não haja prejuízo ao trabalho, respeitado, no mínimo, o cumprimento de 90% (noventa por cento) de ambas as cargas horárias;
- (E) o servidor ausentar-se do serviço, sem qualquer prejuízo, até 30 (trinta) dias, por período de trânsito, compreendido como o tempo gasto pelo servidor que mudar de sede, contados da data do desligamento.

25

Antônio, servidor público efetivo estadual, sofreu um acidente automobilístico que lhe causou limitações em sua capacidade física, conforme comprovado por junta médica oficial. De acordo com o Estatuto dos Servidores Públicos Civis do Estado da Bahia, o cometimento ao servidor Antônio de novas atribuições, compatíveis com a citada limitação, garantida a remuneração do cargo de que é titular, é a:

- (A) reversão;
- (B) recondução;
- (C) aproveitamento;
- (D) reintegração;
- (E) readaptação.

26

De acordo com o Regimento dos Órgãos Auxiliares e de Apoio Técnico Administrativo da Justiça, aprovado pela Resolução nº 05, de 27 de março de 2013, o órgão incumbido de coordenar, executar e controlar as atividades de apoio administrativo, em matéria financeira, serviços gerais, suprimento e patrimônio, engenharia e arquitetura, recursos humanos e assistência à saúde é a Secretaria:

- (A) Judiciária;
- (B) de Apoio Institucional;
- (C) de Administração;
- (D) de Tecnologia da Informação e Modernização;
- (E) de Planejamento e Orçamento.

27

Em relação à licença prêmio, o Estatuto dos Servidores Públicos Civis do Estado da Bahia (Lei Estadual nº 6.677/94) estabelece que:

- (A) a cada período de 3 (três) anos de exercício efetivo e ininterrupto, o servidor terá direito à licença prêmio de 5 (cinco) meses, sem prejuízo da sua remuneração;
- (B) não será concedida a servidor que, no período aquisitivo, sofrer penalidade disciplinar de suspensão;
- (C) deverá ser gozada no prazo máximo de 2 (dois) anos, a contar do término do período aquisitivo, sob pena de prescrição;
- (D) será concedida a servidor que completar o período de 5 (cinco) anos de exercício efetivo e ininterrupto, ainda que tenha se afastado do cargo em tal período por força de licença para tratar de interesse particular;
- (E) o servidor terá direito à licença prêmio de 1 (um) mês, sem prejuízo da remuneração, após completar período de 3 (três) anos de exercício efetivo e ininterrupto.

28

Consoante dispõe o Regimento Interno do Tribunal de Justiça do Estado da Bahia, ao Tribunal Pleno compete privativamente:

- (A) elaborar, aprovar e sancionar projeto de lei referente à organização e divisão judiciária, bem como a criação e extinção de cargos dos serviços auxiliares da Justiça Estadual;
- (B) organizar a lista tríplice de juizes, advogados e membros do Ministério Público para provimento de cargo de desembargador;
- (C) dar posse aos desembargadores e juizes, e conceder-lhes prorrogação de prazo para esse fim;
- (D) dirimir as dúvidas manifestadas pelos desembargadores e partes, que não se manifestarem na forma de conflito, sobre distribuição, prevenção e ordem de serviço;
- (E) delegar a Juiz de Direito de igual entrância ou superior, em casos excepcionais, a correição parcial que versar sobre ato de outro magistrado vitalício.

29

No título sobre preparo, deserção e distribuição do Regimento Interno do Tribunal de Justiça do Estado da Bahia, é estabelecido que:

- (A) o preparo dos recursos de primeiro grau de jurisdição será feito diretamente no Tribunal;
- (B) considerar-se-á deserto o recurso quando não preparado na forma legal;
- (C) a deserção somente poderá ser declarada pelo Relator do processo;
- (D) distribuir-se-ão, prioritariamente, os processos em que forem partes o Ministério Público, a Defensoria Pública ou a Procuradoria Estadual;
- (E) é vedada a compensação quando a distribuição couber, por prevenção, a determinado Relator.

30

Segundo estabelece o Regimento Interno do Tribunal de Justiça do Estado da Bahia, na falta de recurso previsto em lei, ainda que com efeito só devolutivo, visando à correção de atos judiciais que importem na subversão ou tumulto da ordem processual ou embarcem o andamento dos feitos, caberá:

- (A) apelação;
- (B) agravo retido;
- (C) agravo de instrumento;
- (D) correção parcial;
- (E) conflito de decisão.

31

De acordo com a Lei nº 6.677/1994 (Estatuto dos Servidores Públicos Civis do Estado da Bahia), é cabível licença ao servidor:

- (A) atleta selecionado para representar o estado ou o país, durante o período da competição oficial, sem prejuízo da remuneração;
- (B) para tratar de interesse particular, pelo prazo de 1 (um) ano, sem remuneração, prorrogável uma única vez, por igual período;
- (C) convocado para o serviço militar obrigatório, pelo prazo de 1 (um) ano, sem prejuízo da remuneração;
- (D) por motivo de doença de parente até o segundo grau, mediante prévia comprovação por médico ou junta médica oficial, pelo prazo de até 2 (dois) anos, com remuneração integral;
- (E) para acompanhar cônjuge ou companheiro, servidor público estadual, que for deslocado para outro ponto do estado ou do país, pelo prazo de até 1 (um) ano, sem prejuízo da remuneração.

32

Conforme dispõe o Regimento Interno do Tribunal de Justiça do Estado da Bahia, compete ao Corregedor-Geral da Justiça:

- (A) solicitar, excepcionalmente, ao Tribunal Pleno a designação de juízes, com prejuízo de suas funções judicantes, para auxiliá-lo, em situações concretas, nas diligências a que tiver de proceder nas comarcas do interior;
- (B) visitar, anualmente, pelo menos, 50 (cinquenta) comarcas do interior do Estado, em correição geral ordinária, sem prejuízo das correições extraordinárias, gerais ou parciais;
- (C) superintender e presidir, no primeiro grau, a distribuição dos feitos nas comarcas da capital e do interior, podendo delegar tais atribuições a Juiz de Direito auxiliar;
- (D) conhecer de representação contra servidores das comarcas de entrância final, inclusive os lotados nos Juizados Especiais e demais órgãos integrantes dos serviços auxiliares da Secretaria do Tribunal de Justiça;
- (E) praticar todos os atos relativos à posse, matrícula, concessão de férias e licença e consequente substituição de todos os servidores da Justiça Estadual.

33

De acordo com a Lei Estadual nº 10.845/2007 (Organização e Divisão Judiciária do Estado da Bahia), aos juízes das Varas da Infância e da Juventude compete:

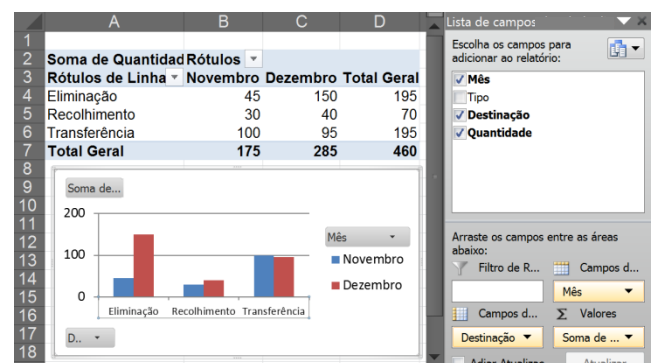
- (A) decretar prisão preventiva, conceder liberdade provisória e fiança, revogá-las ou cassá-las, no curso da instrução, em desfavor do adolescente infrator;
- (B) processar e julgar as ações concernentes à comunhão de interesse entre portadores de debêntures e ao cancelamento de hipoteca em sua garantia;
- (C) processar e julgar as ações de investigação de paternidade, cumuladas, ou não, com a petição de herança;
- (D) em execução de medidas socioeducativas, exercer jurisdição em fiscalização e apuração de irregularidades em entidades que executam programas socioeducativos;
- (E) processar e julgar as ações de alimentos e as de posse e guarda de filhos menores, quer entre os pais, quer entre estes e terceiros.

Noções de Informática**34**

Para contabilizar a destinação dos documentos do seu setor, Maria registra as informações da tramitação em uma planilha, conforme ilustrado na figura a seguir.

	A	B	C	D
1	Mês	Tipo	Destinação	Quantidade
2	Novembro	Certidão	Transferência	100
3	Novembro	Boletim	Recolhimento	30
4	Novembro	Declaração	Eliminação	45
5	Dezembro	Certidão	Transferência	95
6	Dezembro	Boletim	Recolhimento	40
7	Dezembro	Declaração	Eliminação	150

O chefe de Maria precisa fazer algumas análises sobre essas informações visando otimizar os processos do seu setor. Para isso, Maria elaborou a planilha no MS Excel 2010 BR ilustrada na figura a seguir.



Para que seu chefe possa resumir, analisar segundo várias perspectivas, explorar e apresentar um resumo dos seus dados, Maria deve utilizar:

- (A) Teste de hipóteses;
- (B) Formulário;
- (C) Validação de dados;
- (D) Consolidação;
- (E) Tabela dinâmica.

35

Observe o seguinte anúncio publicado na internet:



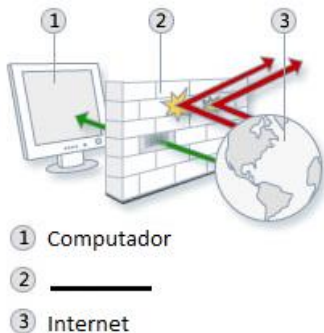
Notebook com Windows 8.1 Pro - Intel Core i5 - HD 1TB 5400 RPM + 24GB SSD - 8GB RAM
 Mouse e Teclado, DVD-R, 4 x USB 2.0 e 2 x USB 3.0,
 Placa de Vídeo 1GB DDR3 128bits

Sobre as configurações desse computador, é correto afirmar que:

- (A) a memória principal, onde os dados são mantidos quando se desliga o computador, pode armazenar até 8GB;
- (B) o local de armazenamento não volátil de dados possui 1TB além de 24GB para armazenamento mais veloz;
- (C) o processador possui cinco núcleos; com isso pode processar cinco instruções ao mesmo tempo;
- (D) as interfaces permitem a leitura e gravação de dados em mídias DVD e pen-drives;
- (E) a placa de vídeo armazena até 1GB de arquivos de imagens que são processadas na velocidade de até 128bps.

36

Os criminosos virtuais, também chamados de hackers, atacam computadores conectados à internet para roubar informações ou danificar o computador. Para protegê-lo, utiliza-se um software ou hardware que verifica as informações vindas da internet, conforme ilustrado na figura a seguir.

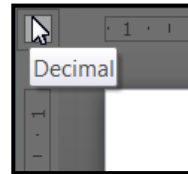


O software ou hardware utilizado para rejeitar ou permitir que informações da internet entrem no computador é o:

- (A) firewall;
- (B) cavalo de tróia (trojan);
- (C) anti-spyware;
- (D) certificado digital;
- (E) anti-vírus.

37

No MS Word 2010 BR, é possível alinhar textos em diversas posições na mesma linha utilizando tabulações. Elas podem ser definidas rapidamente clicando no seletor de tabulação na extremidade esquerda da régua até que ela exiba o tipo de tabulação desejado. No documento ilustrado na figura a seguir, a *Tabulação Decimal* foi utilizada para que os números da coluna **Quantidade** sejam alinhados ao redor do ponto decimal, independentemente do número de dígitos.



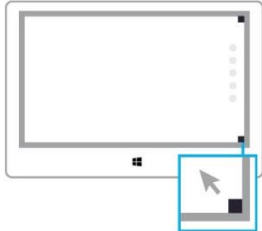
Tipo de Documento	Quantidade	Destinação
- Certidão	2000	Transferência
- Boletim	30	Recolhimento
- Declaração	450	Eliminação

A *Tabulação Decimal* é representada pelo símbolo:

- (A)
- (B)
- (C)
- (D)
- (E)

38

No Windows, podemos usar o mouse para acessar algumas funcionalidades de forma mais rápida, ou seja, usando atalhos. Na versão 8 do Windows, algumas novidades foram inseridas como ilustrado nas figuras e descritas nas instruções a seguir.



Com o mouse, aponte para o canto superior direito ou inferior direito.




Com o mouse, aponte para o canto superior esquerdo.

As figuras e as instruções indicam, respectivamente, os atalhos para:

- (A) abrir os botões: Pesquisar, Compartilhar, Iniciar, Dispositivos e Configurações; e alternar entre aplicativos abertos;
- (B) acessar os comandos e menus de contexto em um aplicativo; e voltar à tela inicial;
- (C) usar até quatro aplicativos lado a lado; e mostrar a barra de título em um aplicativo da Windows Store;
- (D) ampliar ou reduzir na tela inicial; e abrir a área de trabalho;
- (E) pesquisar no computador (aplicativos, configurações e arquivos); e fechar um aplicativo.

39

Júlio é o responsável pela impressão e encadernação de vários documentos que, em sua maioria, possuem mais do que 60 páginas. A encadernação pode ser feita de diversas formas, como ilustrado no sombreamento dos documentos das figuras a seguir.



Para adicionar um espaço extra à margem lateral, margem superior ou margens internas de um documento de acordo com o tipo de encadernação, Júlio deve configurar margem:

- (A) moderada;
- (B) estreita;
- (C) medianiz;
- (D) larga;
- (E) interior ou exterior.

40

A criptografia é um dos principais mecanismos de segurança utilizado para proteger a transmissão de informações na Internet por meio de codificação que transforma um texto claro em um texto cifrado, conforme ilustrado na figura a seguir.



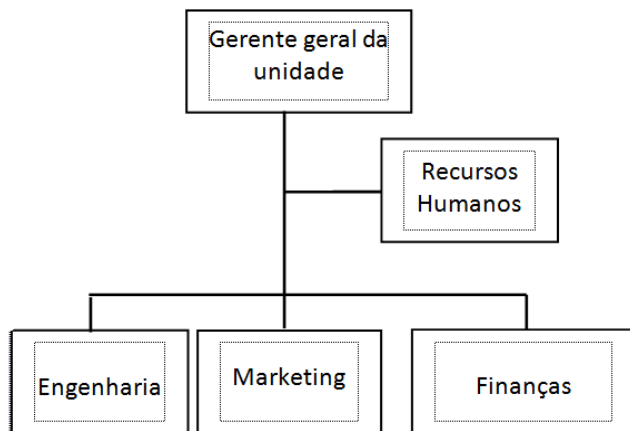
Dentre outras finalidades, a criptografia é usada para autenticar a identidade de usuários. Para isso, o código usado para comprovar a autenticidade e a integridade de uma informação, ou seja, que ela foi realmente gerada por quem diz ter feito e que ela não foi alterada, é:

- (A) autoridade certificadora;
- (B) assinatura digital;
- (C) certificado digital;
- (D) chave mestra;
- (E) chave simétrica.

Conhecimentos Específicos

41

A figura abaixo representa o organograma simplificado de uma fábrica.



O organograma indica que a empresa adota a departamentalização:

- (A) por cliente; a área de recursos humanos tem posição de linha;
- (B) funcional; a área de recursos humanos tem posição matricial;
- (C) funcional; a área de recursos humanos tem posição de *staff*;
- (D) por serviço; a área de recursos humanos tem posição de *staff*;
- (E) por serviço; a área de recursos humanos tem posição de linha.

42

Para assistir uma peça de teatro infantil, crianças pagam a metade do valor pago por um adulto. Três adultos e cinco crianças pagam ao todo R\$ 165,00.

Cinco adultos e três crianças pagam ao todo:

- (A) R\$ 185,00;
- (B) R\$ 195,00;
- (C) R\$ 205,00;
- (D) R\$ 215,00;
- (E) R\$ 225,00.

43

Maria ganha 25% a mais do que Ângela que, por sua vez, ganha 20% a mais do que Paulo.

Assim, Maria ganha $x\%$ a mais do que Paulo.

O valor de x é:

- (A) 45;
- (B) 48;
- (C) 50;
- (D) 52;
- (E) 55.

44

Em uma cidade do “velho-oeste” americano, do total de pessoas que iam a julgamento, 90% eram condenadas e 10% eram absolvidas. Das pessoas condenadas, 80% eram realmente culpadas e 20% eram inocentes. Das pessoas absolvidas, 90% eram realmente inocentes e 10% eram culpadas.

Sorteando ao acaso uma das pessoas que foi a julgamento nessa cidade, a probabilidade de que ela fosse inocente é:

- (A) 18%;
- (B) 20%;
- (C) 24%;
- (D) 25%;
- (E) 27%.

45

A vistoria da CIPA em um escritório de contabilidade detectou, no ambiente de trabalho, alta concentração de ácaros e fungos, jornada de trabalho prolongada e monotonia. O ambiente de trabalho apresenta agentes de riscos:

- (A) físicos, químicos e biológicos;
- (B) químicos e ambientais;
- (C) biológicos e ergonômicos;
- (D) ergonômicos e físicos;
- (E) físicos e biológicos.

46

Marcos anotou o número de correspondências eletrônicas que ele recebeu diariamente, durante 13 dias. A tabela a seguir mostra os números anotados por ele:

3	4	18	16	15	16	22	5	2	20	16	15	17
---	---	----	----	----	----	----	---	---	----	----	----	----

A diferença entre a mediana e a média dos números anotados por Marcos é:

- (A) 5;
- (B) 4;
- (C) 3;
- (D) 2;
- (E) 1.

47

Em todas as áreas de uma organização, os administradores exercem funções de planejamento, organização, direção e controle. É uma atividade de organização na área de finanças:

- (A) avaliação do desempenho financeiro da organização;
- (B) elaboração de projetos de investimento;
- (C) implementação de política de participação nos lucros;
- (D) aplicação dos recursos financeiros;
- (E) controle dos custos de produção.

48

Ao abrir seu cofrinho de cerâmica onde só tinha colocado moedas de R\$ 0,50 e de R\$ 1,00, Solange verificou que, do total de 120 moedas, tinha 16 moedas de R\$ 1,00 a mais do que moedas de R\$ 0,50.

O valor total das moedas que havia no cofrinho de Solange é:

- (A) R\$ 112,00;
- (B) R\$ 104,00;
- (C) R\$ 98,00;
- (D) R\$ 94,00;
- (E) R\$ 92,00.

49

Caminhando por uma rua, Pedro observou que havia quatro carros estacionados em fila e que os quatro carros tinham cores diferentes. Ao passar pelos carros, Pedro passou pelo carro branco antes de passar pelo carro cinza e passou pelo carro preto antes de passar pelo carro vermelho. Os carros branco e cinza não estavam juntos.

O número de sequências possíveis para as cores dos quatro carros é:

- (A) 3;
- (B) 4;
- (C) 6;
- (D) 8;
- (E) 9.

50

Diante dos recentes protestos da população por todo o Brasil, muito se tem discutido sobre a participação mais ativa do cidadão no processo legislativo. Como instrumento de manifestação da soberania popular, é correto afirmar que a iniciativa popular:

- (A) consiste na apresentação, ao Senado Federal, de projeto de lei subscrito por, no mínimo, um por cento do eleitorado nacional, distribuído pelo menos por três Estados, que trate de matérias especificadas na Constituição, relacionadas aos direitos e garantias fundamentais;
- (B) somente pode ocorrer em âmbito federal, já que o texto constitucional não trata de iniciativa popular em nível estadual e municipal, sendo vedada às constituições estaduais e às leis orgânicas dispor sobre a matéria;
- (C) consiste na possibilidade de o eleitorado nacional deflagrar processo legislativo de lei complementar, lei ordinária, emenda à Constituição ou medida provisória mediante proposta de, no mínimo, um por cento de todo o eleitorado nacional, distribuído por pelo menos sete Estados;
- (D) é espécie de processo legislativo realizado diretamente pela população que apresenta o projeto de lei ao Congresso Nacional, que deve analisar apenas aspectos formais de sua constitucionalidade, vedada a rejeição do projeto em seu mérito, para não desnaturalizar a essência do instituto;
- (E) pode ser exercida pela apresentação à Câmara dos Deputados de projeto de lei subscrito por, no mínimo, um por cento do eleitorado nacional, distribuído pelo menos por cinco Estados, com não menos de três décimos por cento dos eleitores de cada um deles.

51

A reforma do Judiciário, realizada por meio da Emenda Constitucional nº 45/2004, instituiu o Conselho Nacional de Justiça, que tem composição plural de quinze membros. De acordo com o texto constitucional:

- (A) incumbe ao Conselho promover processos disciplinares contra magistrados, vedada, contudo, a revisão de casos já julgados pelo tribunal de origem, em qualquer caso;
- (B) o Conselho deve representar à Defensoria Pública, para as providências criminais, no caso de delito contra a administração pública ou de abuso de autoridade;
- (C) cabe ao Conselho receber e conhecer das reclamações contra membros ou órgãos do Poder Judiciário, exceto contra seus serviços auxiliares, serventias e órgãos prestadores de serviços notariais e de registro;
- (D) compete ao Conselho o controle da atuação administrativa e financeira do Poder Judiciário e do cumprimento dos deveres funcionais dos juízes;
- (E) um Ministro do Supremo Tribunal Federal que integre o Conselho exercerá obrigatoriamente a função de Ministro-Corregedor.

52

O Tribunal de Contas do Estado da Bahia verificou que determinado gestor estadual percebeu vantagem econômica indevida e direta para facilitar a aquisição de bem imóvel pelo Estado, por preço superior ao valor de mercado. Assim, a Corte de Contas remeteu a documentação pertinente ao Ministério Público Estadual, que ajuizou ação civil pública por ato de improbidade administrativa. No caso em tela, o gestor está sujeito, no bojo do citado processo judicial, dentre outras, às seguintes consequências pelo ato de improbidade administrativa:

- (A) cassação dos direitos políticos, perda da função pública, inscrição no serviço de proteção ao crédito;
- (B) pena privativa de liberdade, perda da função pública, suspensão do cadastro de pessoa física;
- (C) suspensão dos direitos políticos, perda da função pública, indisponibilidade dos bens e ressarcimento ao erário;
- (D) proibição de figurar como sócio de qualquer sociedade empresária, perda da função pública e ressarcimento ao erário;
- (E) perda da função pública, ressarcimento ao erário, pena privativa de liberdade e cassação dos direitos políticos.

53

Em matéria de direitos e garantias fundamentais relacionados à religiosidade, a Constituição da República de 1988 prevê que:

- (A) ninguém será privado de direitos por motivo de crença religiosa, que não pode ser invocada para eximir-se de obrigação legal a todos imposta;
- (B) é assegurada, nos termos da lei, a prestação de assistência religiosa nas entidades civis e militares de internação coletiva;
- (C) é violável a liberdade de consciência e de crença, sendo assegurado o livre exercício dos cultos religiosos e vedada a proteção aos locais de culto e a suas liturgias;
- (D) é vedado, em qualquer hipótese, ao poder público estabelecer cultos religiosos ou igrejas, subvencioná-los ou embaraçar-lhes o funcionamento;
- (E) o ensino religioso é de matrícula obrigatória e constitui disciplina dos horários extraordinários das escolas públicas de ensino fundamental.

54

Um investidor quer saber o valor do patrimônio líquido da Cia XYZ. Foi informado ao investidor que a XYZ tem imóveis no valor total de 10.000,00 reais, veículos no valor de 5.000,00 reais, depósitos em bancos no valor de 2.000,00 reais e obrigações exigíveis no total de 3.000,00 reais. Além disso, a XYZ teve receita operacional de 1.500,00 reais em 2013 e lucro líquido de 800,00 reais no mesmo período. Com base nessas informações, pode-se concluir que o patrimônio líquido da XYZ é:

- (A) 20.000,00 reais;
- (B) 17.800,00 reais;
- (C) 16.300,00 reais;
- (D) 14.800,00 reais;
- (E) 14.000,00 reais.

55

O ciclo de compras inicia-se com a recepção e análise das solicitações de compra dos diversos requisitantes – indivíduos ou setores – da organização. Para o desenvolvimento adequado dessa fase do ciclo de compras, são indispensáveis informações acerca de:

- (A) especificação dos materiais a serem comprados;
- (B) disponibilidade de estoques internos;
- (C) determinação do preço certo;
- (D) confiabilidade dos fornecedores;
- (E) demanda do mercado.

56

Fernando é técnico judiciário do Tribunal de Justiça da Bahia e acaba de se eleger Prefeito de Município do interior do Estado. De acordo com a disciplina constitucional sobre a matéria, Fernando:

- (A) poderá acumular ambos os cargos públicos, se houver compatibilidade de horário, recebendo as duas remunerações;
- (B) poderá acumular ambos os cargos públicos, se houver compatibilidade de horário, optando apenas pela remuneração de um dos cargos;
- (C) será afastado do cargo efetivo, auferindo necessariamente a remuneração deste cargo;
- (D) será afastado do cargo efetivo, sendo-lhe facultado optar pela remuneração deste ou do cargo eletivo;
- (E) será afastado do cargo efetivo, auferindo necessariamente a remuneração do cargo eletivo.

57

O quadro abaixo representa a planilha de movimentação de estoque de uma determinada empresa.

Semana	Demanda	Entradas	Saldo
1	2000		3000
2	1000		2000
3	1000		1000
4	1000		
5	2000	5000	3000

O estoque médio e a cobertura geral do estoque do primeiro mês são, respectivamente:

- (A) 1500 e 1,5;
- (B) 1500 e 1,2;
- (C) 1250 e 1,2;
- (D) 1200 e 1,5;
- (E) 1200 e 1,2.

58

Renato, motorista de ônibus de determinada sociedade empresária concessionária do serviço de transporte público municipal, freou o coletivo bruscamente e causou a queda do passageiro, Sr. Antônio, que sofreu diversas lesões. No caso em tela, a responsabilidade civil será:

- (A) subjetiva da sociedade empresária, bastando que Antônio comprove a conduta, o dano e o nexo causal, além de ser imprescindível a comprovação do dolo ou culpa de Renato;
- (B) subjetiva de Renato, sendo prescindível a análise do elemento subjetivo, ou seja, independentemente de ele ter agido com dolo ou culpa;
- (C) subjetiva e solidária do Município, porque contratou mal a sociedade empresária para prestar serviço público (*culpa in elegendo*);
- (D) objetiva da sociedade empresária, bastando que Antônio comprove a conduta, o dano e o nexo causal, independentemente da culpa ou dolo de Renato;
- (E) objetiva da sociedade empresária, sendo imprescindível a comprovação do elemento subjetivo na conduta de Renato, além dos demais elementos da conduta, dano e nexo causal.

59

Em tema de serviços públicos, a doutrina de Direito Administrativo ensina que se aplica especificamente o princípio da:

- (A) autotutela, o qual indica que a Administração Pública ou o concessionário (no caso de delegação), ao prestar os serviços públicos, gozam de liberdade de gestão, podendo aumentar unilateralmente as tarifas para manter a lucratividade da atividade;
- (B) modicidade, segundo o qual os serviços públicos devem ser remunerados a preços módicos, devendo o Poder Público calcular o valor das tarifas com vistas à eficiência e lucros máximos;
- (C) supremacia do interesse público, segundo o qual as atividades administrativas e os serviços públicos são prestados pelo Estado para benefício do particular individualmente considerado em detrimento da coletividade;
- (D) continuidade, o qual indica que os serviços públicos não devem sofrer interrupção, ou seja, sua prestação deve ser contínua para evitar que a paralisação provoque colapso nas múltiplas atividades particulares;
- (E) indisponibilidade, o qual indica que a Administração Pública ou o concessionário (no caso de delegação), ao prestar os serviços públicos, tem a livre disposição dos bens e interesses públicos.

60

Ricardo é servidor público estadual ocupante de cargo efetivo e foi nomeado para exercer cargo em comissão de Diretor do departamento de pessoal da Secretaria Estadual de Cultura. Meses depois, Ricardo foi exonerado do cargo em comissão, retomando suas funções afetas ao cargo efetivo originário. Inconformado, Ricardo buscou orientação no escritório modelo de uma faculdade de Direito sobre a viabilidade jurídica de manejar medida judicial para retornar ao cargo de Diretor. Com a devida supervisão do professor responsável pelo estágio forense universitário, Ricardo foi corretamente informado de que sua exoneração foi um ato administrativo:

- (A) discricionário, em que a Administração Pública possui liberdade na avaliação da oportunidade e conveniência para a prática do ato, mas deve ser revogado pelo Poder Judiciário, o qual pode controlar, em regra, o mérito do ato;
- (B) discricionário, em que a Administração Pública possui liberdade na avaliação da oportunidade e conveniência para a prática do ato, e não deve ser invalidado pelo Poder Judiciário por ausência de ilegalidade;
- (C) discricionário, em que a Administração Pública não possui liberdade na avaliação da oportunidade e conveniência para a prática do ato, que deve ser invalidado pelo Poder Judiciário por vício de legalidade;
- (D) vinculado, em que a Administração Pública não possui liberdade na avaliação da oportunidade e conveniência para a prática do ato, que deve ser invalidado pelo Poder Judiciário por vício de legalidade;
- (E) vinculado, em que a Administração Pública possui liberdade na avaliação da oportunidade e conveniência para a prática do ato, que deve ser revogado pelo Poder Judiciário por vício de legalidade.

Redação

A OAB, Ordem dos Advogados do Brasil, lançou uma campanha nacional, em março de 1999, pela ética no exercício da profissão de advogado. Isso ocorreu devido ao alto índice de advogados processados por falta de ética, valor que chega a 8% do total de 450.000 em todo o Brasil. As denúncias vão desde a cobrança de honorários excessivamente elevados até a apropriação dos créditos aos quais o cliente tem direito.

Além das denúncias que são relacionadas à falta de ética, também não faltam aquelas em que o advogado é processado por prejudicar o cliente em razão de não conseguir expor seus direitos ao juiz, ou seja, falta de competência profissional.

Você acha que a campanha lançada pela OAB produziu bons frutos? O que mais pode ser feito no combate ao problema?

Exponha seu pensamento a respeito, em texto de no mínimo 20 e no máximo 30 linhas, em língua culta, dando especial atenção à estrutura do texto e aos argumentos apresentados na defesa de sua posição.

01	
02	
03	
04	
05	
06	
07	
08	
09	
10	
11	
12	
13	
14	
15	
16	
17	
18	
19	
20	
21	
22	
23	
24	
25	
26	
27	
28	
29	
30	

Realização

