



Tribunal de Justiça do Estado do Amazonas

Analista Judiciário I

Concurso Público 2013

Prova Escrita Objetiva – Nível Superior

Enfermagem

TIPO 2 – VERDE

Informações Gerais

- Você receberá do fiscal de sala:
 - uma folha de respostas destinada à marcação das respostas das questões objetivas.
 - esse caderno de prova contendo **80 (oitenta)** questões objetivas, cada qual com **cinco** alternativas de respostas (A, B, C, D e E).
- Verifique se este caderno está completo, sem repetição de questões ou falhas. Caso contrário, notifique imediatamente o fiscal de sala para que sejam tomadas as devidas providências.
- As questões objetivas são identificadas pelo número situado acima do seu enunciado.
- Ao receber a folha de respostas, você deve:
 - conferir seus dados pessoais, em especial seu nome, número de inscrição e o número do documento de identidade.
 - ler atentamente as instruções para a marcação das respostas das questões objetivas.
 - marcar na folha de respostas o campo relativo à confirmação do tipo/cor de prova, conforme o caderno que você recebeu.
 - assinar seu nome, apenas nos espaços reservados, com caneta esferográfica transparente de cor azul ou preta.
- Durante a aplicação da prova não será permitido:
 - qualquer tipo de comunicação entre os candidatos.
 - levantar da cadeira sem a devida autorização do fiscal de sala.
 - portar aparelhos eletrônicos, tais como *bipe*, telefone celular, agenda eletrônica, *notebook*, *palmtop*, receptor, gravador, máquina de calcular, máquina fotográfica digital, controle de alarme de carro etc., bem como relógio de qualquer espécie, óculos escuros ou quaisquer acessórios de chapelaria, tais como chapéu, boné, gorro etc. e, ainda, lápis, lapiseira (grafite), corretor líquido e/ou borracha. Tal infração poderá acarretar a eliminação sumária do candidato.
- O preenchimento das respostas, de inteira responsabilidade do candidato, deverá ser feito com caneta esferográfica de tinta indelével de cor preta ou azul. **Não será permitida a troca da folha de respostas por erro do candidato.**
- O tempo disponível para a realização da prova é de **cinco horas**, já incluído o tempo para a marcação da folha de respostas.
- Reserve tempo suficiente para o preenchimento de suas respostas. Para fins de avaliação, serão levadas em consideração apenas as marcações realizadas na folha de respostas, não sendo permitido anotar informações relativas às suas respostas em qualquer outro meio que não seja o próprio caderno de provas.
- Somente depois de decorridas **duas horas** do início da prova você poderá retirar-se da sala de prova, contudo sem levar o caderno de provas.
- Somente no decorrer dos últimos **sessenta minutos** do período da prova você poderá retirar-se da sala levando o caderno de provas.
- A FGV realizará a coleta da impressão digital dos candidatos nas folhas de respostas.
- Ao terminar a prova, entregue a folha de respostas ao fiscal da sala e deixe o local de prova. Caso você se negue a entregar a folha de respostas, será eliminado do concurso.
- Os candidatos poderão ser submetidos a sistema de detecção de metais quando do ingresso e da saída de sanitários durante a realização das provas. Ao sair da sala, ao término da prova, o candidato não poderá usar o sanitário.
- Os gabaritos preliminares das provas objetivas serão divulgados no dia **11/06/2013**, no endereço eletrônico <http://www.fgv.br/fgvprojetos/concursos/tjam13>.
- O prazo para interposição de recursos contra os gabaritos preliminares será das 0h00min do dia **12/06/2013** até as 23h59min do dia **13/06/2013**, observado o horário oficial, no endereço <http://www.fgv.br/fgvprojetos/concursos/tjam13>, por meio do Sistema Eletrônico de Interposição de Recurso.

Língua Portuguesa

Volta à polêmica sobre patente de remédios

Patentes de medicamentos geralmente são reconhecidas pelo prazo de dez anos, de acordo com regras internacionais aceitas por muitos países. Esse prazo inclui a fase final de desenvolvimento dos medicamentos, chamada *pipeline* no jargão técnico. Muitas vezes, esse período até o lançamento comercial do produto pode levar até quatro anos, de modo que em vários casos o laboratório terá efetivamente cerca de seis anos de proteção exclusiva para obter no mercado o retorno do investimento feito.

A partir da perda de validade da patente, o medicamento estará sujeito à concorrência de produtos similares e genéricos que contenham princípios ativos encontrados no original. Por não embutirem os custos de pesquisa e desenvolvimento do produto original, os genéricos e similares podem ser lançados a preços mais baixos do que os dos medicamentos de marca, que, no período de proteção exclusiva, tiveram a oportunidade de conquistar a confiança do consumidor e dos médicos que os prescrevem para seus pacientes.

A pesquisa para obtenção de novos medicamentos comprovadamente eficazes envolve somas elevadíssimas. Daí que geralmente as empresas que estão no topo da indústria farmacêutica são grandes grupos internacionais, ficando os laboratórios regionais mais voltados para a produção de genéricos e similares.

A necessidade de se remunerar o investimento realizado faz com que, não raramente, os remédios sejam caros em relação à renda da maioria das pessoas, e isso provoca conflitos de toda ordem, em especial nos países menos desenvolvidos, onde se encontram também as maiores parcelas da população que sofrem de doenças endêmicas, causadas por falta de saneamento básico, habitação insalubre, deficiências na alimentação etc. Muitas vezes para reduzir o custo da distribuição de medicamentos nas redes públicas os governos investem em laboratórios estatais, que se financiam com subsídios e verbas oficiais, diferentemente de empresas, que precisam do lucro para se manterem no mercado. Esse conflito chega em alguns momentos ao ponto de quebra de patente por parte dos países que se sentem prejudicados. O Brasil mesmo já recorreu a essa decisão extrema em relação ao coquetel de remédios para tratamento dos pacientes portadores do vírus HIV e dos que sofrem com a AIDS, chegando depois a um entendimento com os laboratórios.

O tema da quebra de patente voltou à tona depois que a Corte Superior da Índia não reconheceu como inovação um medicamento para tratamento do câncer que o laboratório suíço Novartis considera evolução do seu remédio original, Glivec. A patente foi reconhecida nos Estados Unidos e em outros 39 países, o que provocou a polêmica. O Brasil hoje é cauteloso nessa questão. Optou por uma atitude mais pragmática, que tem dado bons resultados e permitido, inclusive, o desenvolvimento de novos medicamentos no país. A quebra de patente não pode ser banalizada.

(O Globo, 07/04/2013)

01

O fato motivador da produção do texto é

- (A) a banalização da quebra de patentes dos remédios.
- (B) as mudanças ocorridas na legislação das patentes de remédios.
- (C) a polêmica sobre um novo medicamento, na Índia.
- (D) a fabricação de genéricos e similares em países pobres.
- (E) a quebra de patente no caso da AIDS, no Brasil.

02

“A partir da perda de validade da patente, o medicamento estará sujeito à concorrência de produtos similares e genéricos que contenham princípios ativos encontrados no original”.

Assinale a alternativa que traz uma afirmação adequada sobre os componentes desse fragmento do texto.

- (A) A expressão *“a partir de”* indica uma ideia de causa.
- (B) A presença do acento grave da crase é fruto da união de duas ocorrências do artigo definido feminino singular *“a”*.
- (C) *“produtos similares”* e *“genéricos”* se referem a produtos idênticos.
- (D) O pronome relativo *“que”* refere-se exclusivamente a *“genéricos”*.
- (E) A forma do subjuntivo *“contenham”* indica uma possibilidade.

03

“Por não embutirem os custos de pesquisa e desenvolvimento do produto original, os genéricos e similares podem ser lançados a preços mais baixos do que os dos medicamentos de marca, que, no período de proteção exclusiva, tiveram a oportunidade de conquistar a confiança do consumidor e dos médicos que os prescrevem para seus pacientes”.

Assinale a alternativa em que o sinônimo proposto para o vocábulo ou expressão sublinhada está adequado.

- (A) Por / apesar de.
- (B) mais baixos / menos reduzidos.
- (C) de marca / conhecidos.
- (D) no período de / mediante.
- (E) prescrevem / recomendam.

04

Assinale a alternativa em que a modificação de uma frase verbal para uma frase nominal foi realizada de forma **equivocada**.

- (A) *“para obter no mercado o retorno do investimento feito”* / para a obtenção no mercado do retorno do investimento feito.
- (B) *“Por não embutirem os custos de pesquisa e desenvolvimento do produto original”* / pelo não embutimento dos custos de pesquisa e desenvolvimento do produto original.
- (C) *“tiveram a oportunidade de conquistar a confiança do consumidor”* / tiveram a oportunidade de conquista da confiança do consumidor.
- (D) *“A necessidade de se remunerar o investimento realizado”* / A necessidade de remuneração do investimento realizado.
- (E) *“Muitas vezes para reduzir o custo da distribuição de medicamentos”* / Muitas vezes para o reducionismo do custo da distribuição de medicamentos.

05

O termo sublinhado que desempenha uma função diferente da dos demais, é

- (A) patentes de medicamentos.
- (B) desenvolvimento dos medicamentos.
- (C) lançamento comercial do produto.
- (D) distribuição de medicamentos.
- (E) tratamento do câncer.

06

Por sua estrutura global, o texto é caracterizado, prioritariamente como

- (A) informativo.
- (B) narrativo.
- (C) publicitário.
- (D) argumentativo.
- (E) descritivo.

07

Após a leitura, é correto constatar que, segundo a opinião do autor do texto, o Brasil

- (A) já praticou a quebra de patente, mas sua posição foi reconhecida como justa pelos laboratórios.
- (B) não pretende banalizar a quebra de patente e se comprometeu a respeitar os acordos internacionais.
- (C) reconhece a necessidade de investimentos maiores na área de laboratórios estatais.
- (D) atua de forma cuidadosa, já que, como país menos desenvolvido, necessita de medicamentos mais baratos e de laboratórios de qualidade.
- (E) tem trabalhado no sentido de revolucionar a indústria farmacêutica no país, produzindo medicamento inclusive para exportação.

08

O texto justifica uma série de realidades na área de patentes de medicamentos. Nas alternativas a seguir, o *fato* e a *justificativa* apresentada casam perfeitamente, **à exceção de uma**. Assinale-a.

- (A) Os preços dos genéricos e similares são mais baixos porque seus fabricantes não gastaram dinheiro em pesquisas.
- (B) Os genéricos não são tão eficientes em sua utilização porque só apresentam os princípios ativos dos remédios originais.
- (C) Os remédios são caros, em muitas vezes, em relação à renda da maioria das pessoas nos países menos desenvolvidos.
- (D) Casos de quebras de patentes provêm do conflito entre necessidade social e preços dos medicamentos.
- (E) Os laboratórios necessitam de lucro na venda de medicamentos a fim de manterem o alto nível da pesquisa.

09

O primeiro parágrafo do texto argumenta que *“em vários casos o laboratório terá efetivamente cerca de seis anos de proteção exclusiva para obter no mercado o retorno do investimento feito”*.

Considerando somente o que está escrito no segmento acima, é correto concluir que

- (A) a proteção exclusiva é indispensável para a manutenção da pesquisa, embora os lucros ultrapassem de muito os investimentos nessa área.
- (B) os laboratórios não visam ao lucro, mas sim ao retorno dos investimentos feitos nas pesquisas.
- (C) o tempo reservado para a venda do produto com proteção exclusiva é suficientemente largo para a obtenção de lucros.
- (D) o tempo efetivo de venda exclusiva do produto é sempre menor do que o dedicado à sua pesquisa e criação.
- (E) todos os laboratórios de medicamentos recebem verbas públicas a fim de poderem manter sua qualidade de produção científica.

10

O ponto de vista prioritariamente defendido neste texto é o dos

- (A) governos de países pobres que se veem com problemas endêmicos de saúde.
- (B) laboratórios regionais de medicamentos, que se encarregam da fabricação de genéricos.
- (C) fabricantes da grande indústria farmacêutica internacional.
- (D) grupos de profissionais das redes públicas de saúde.
- (E) pesquisadores de medicamentos, que se dedicam à criação de remédios novos e veem seu trabalho desvalorizado.

11

A polêmica sobre o medicamento, referida no último parágrafo do texto, se concentra entre

- (A) necessidade X custo.
- (B) público X privado.
- (C) inovação X continuidade.
- (D) criação X plágio.
- (E) investimento X subvenção.

12

Assinale a frase que **não** apresenta uma forma verbal na voz passiva.

- (A) *“Patentes de medicamentos geralmente são reconhecidas pelo prazo de dez anos...”*.
- (B) *“A quebra de patente não pode ser banalizada”*.
- (C) *“Optou por uma atitude mais pragmática, que tem dado bons resultados...”*.
- (D) *“A patente foi reconhecida nos Estados Unidos e em outros 39 países...”*.
- (E) *“os genéricos e similares podem ser lançados a preços mais baixos”*.

13

Nas alternativas a seguir, os vocábulos ou expressões sublinhados nas duas ocorrências apresentam o mesmo valor semântico, **à exceção de uma**. Assinale-a.

- (A) *“o laboratório terá efetivamente cerca de seis anos de proteção exclusiva para obter no mercado o retorno do investimento feito”*. / *“A pesquisa para obtenção de novos medicamentos comprovadamente eficazes envolve somas elevadíssimas”*.
- (B) *“os genéricos e similares podem ser lançados a preços mais baixos do que os dos medicamentos de marca”* / *“Optou por uma atitude mais pragmática, que tem dado bons resultados”*.
- (C) *“Muitas vezes, esse período até o lançamento comercial do produto”* / *“o lançamento comercial do produto pode levar até quatro anos”*.
- (D) *“...para tratamento dos pacientes portadores do vírus HIV e dos que sofrem com a AIDS”* / *“...chegando depois a um entendimento com os laboratórios”*.
- (E) *“chegando depois a um entendimento com os laboratórios”* / *“O tema da quebra de patente voltou à tona depois que a Corte Superior da Índia não reconheceu como inovação um medicamento para tratamento do câncer”*.

14

“Patentes de medicamentos geralmente são reconhecidas pelo prazo de dez anos, de acordo com regras internacionais aceitas por muitos países. Esse prazo inclui a fase final de desenvolvimento dos medicamentos, chamada pipeline no jargão técnico. Muitas vezes, esse período até o lançamento comercial do produto pode levar até quatro anos...”

O emprego da forma pronominal “esse”, nos casos sublinhados, se justifica por que

- (A) se refere a um termo anterior localizado contextualmente mais distante que outro.
- (B) se liga a fatos cronologicamente distantes.
- (C) se prende a um elemento anterior citado mais proximamente à ocorrência do pronome.
- (D) se relaciona a um elemento textual mais próximo do leitor que do enunciador do texto.
- (E) se conecta com elementos anteriormente citados de forma a estabelecer coesão textual.

15

“A necessidade de se remunerar o investimento realizado faz com que, não raramente, os remédios sejam caros em relação à renda da maioria das pessoas, e isso provoca conflitos de toda ordem, em especial nos países menos desenvolvidos, onde se encontram também as maiores parcelas da população que sofrem de doenças endêmicas, causadas por falta de saneamento básico, habitação insalubre, deficiências na alimentação etc.”

Assinale a alternativa que justifica corretamente o emprego de vírgulas.

- (A) As vírgulas na expressão “não raramente” mostram a presença de um aposto explicativo.
- (B) A vírgula após o vocábulo “pessoas” se deve à presença da conjunção E a seguir.
- (C) As vírgulas no segmento “em especial nos países menos desenvolvidos” indicam um termo intercalado.
- (D) A vírgula após “endêmicas” assinalam a necessidade de se evitar uma ambiguidade.
- (E) As vírgulas entre os vocábulos na penúltima linha do fragmento destacado se devem à presença de vocativos.

Raciocínio Lógico-quantitativo

16

Certo casal teve um único filho. Quando o filho fez 6 anos o pai disse para sua esposa: “Hoje, a minha idade é 5 vezes a idade do meu filho”. Anos depois, no dia do aniversário do filho, o pai disse para sua esposa: “Hoje, a minha idade é o dobro da idade do meu filho”.

O número de anos decorridos da primeira declaração para a segunda foi de

- (A) 10.
- (B) 18.
- (C) 20.
- (D) 24.
- (E) 28.

17

Em cada um dos três casos a seguir aparecem duas premissas e uma conclusão que deve decorrer exclusivamente dessas premissas. Identifique, em cada caso, se a conclusão é verdadeira (V) ou falsa (F).

Caso 1

Premissa 1: Carlos é advogado.

Premissa 2: Alguns advogados gostam de cozinhar.

Conclusão: Carlos gosta de cozinhar ().

Caso 2

Premissa 1: Lucas gosta de cozinhar.

Premissa 2: Todos os advogados gostam de cozinhar.

Conclusão: Lucas é advogado ().

Caso 3

Premissa 1: Hugo gosta de cozinhar.

Premissa 2: Nenhum advogado gosta de cozinhar.

Conclusão: Hugo não é advogado ().

As conclusões dos três casos acima são, respectivamente,

- (A) F, F e V.
- (B) F, V e V.
- (C) V, F e V.
- (D) V, V e F.
- (E) V, V e V.

18

Em uma garagem há três carros: um Palio, um Gol e um Celta formando uma fila. O primeiro da fila é verde, o segundo é branco e o terceiro é prata.

Entre as três afirmações a seguir, somente uma é verdadeira.

- I. O Gol não é verde.
- II. O Celta não é prata.
- III. O Palio é verde.

É correto concluir que

- (A) o primeiro da fila é o Celta.
- (B) o segundo da fila é o Palio.
- (C) o terceiro da fila é o Gol.
- (D) o Celta é branco.
- (E) o Palio é verde.

19

Sobre uma mesa há nove processos judiciais de 1º grau, dos quais cinco com mais de 50 páginas, e seis processos judiciais de 2º grau, dos quais três com mais de 50 páginas.

Dez desses processos são selecionados ao acaso.

Sobre esses dez processos selecionados, é correto concluir que:

- (A) pelo menos dois são de 2º grau.
- (B) pelo menos cinco são de 1º grau.
- (C) pelo menos dois têm até 50 páginas cada um.
- (D) no máximo dois têm até 50 páginas cada um.
- (E) no máximo um é de 2º grau.

20

André, Lucas e Mateus estão conversando sobre futebol. Dois deles são colegas de trabalho e o outro ainda não trabalha. Cada um torce por um time diferente; um torce pelo Penarol, outro pelo Nacional e o outro pelo Fast.

São dadas as seguintes informações:

- O colega de trabalho de André torce pelo Fast.
- Quem não trabalha torce pelo Nacional.
- Lucas não torce pelo Nacional.

André, Lucas e Mateus torcem, respectivamente, pelos times

- (A) Fast, Penarol e Nacional.
- (B) Nacional, Fast e Penarol.
- (C) Nacional, Penarol e Fast.
- (D) Penarol, Nacional e Fast.
- (E) Penarol, Fast e Nacional.

21

Em uma fábrica, um gerador de energia funciona todos os 7 dias da semana e faz revisão de manutenção a cada 5 dias após o expediente de trabalho. O gerador foi instalado em uma segunda-feira, começou a funcionar no dia seguinte, fez a primeira revisão no sábado dessa semana, fez a segunda revisão na quinta-feira da semana seguinte, e assim por diante.

O dia da semana em que foi feita a 100ª revisão foi

- (A) terça-feira.
- (B) quarta-feira.
- (C) quinta-feira.
- (D) sexta-feira.
- (E) domingo.

22

Considere como verdadeiras as afirmativas a seguir.

- I. Se Carlos mentiu, então João é culpado.
- II. Se João é culpado, então Carlos não mentiu.
- III. Se Carlos não mentiu, então Pedro não é culpado.
- IV. Se Pedro não é culpado, então João não é culpado.

Com base nas afirmativas acima, é correto concluir que

- (A) Carlos mentiu, João é culpado, Pedro não é culpado.
- (B) Carlos mentiu, João não é culpado, Pedro não é culpado.
- (C) Carlos mentiu, João é culpado, Pedro é culpado.
- (D) Carlos não mentiu, João não é culpado, Pedro não é culpado.
- (E) Carlos não mentiu, João é culpado, Pedro é culpado.

23

José afirmou: “— Todos os jogadores de futebol que não são ricos jogam no Brasil ou jogam mal.”

Assinale a alternativa que indica a sentença que representa a **negação** do que José afirmou.

- (A) Nenhum jogador de futebol que não é rico joga no Brasil ou joga mal.
- (B) Todos os jogadores de futebol que não são ricos não jogam no Brasil e não jogam mal.
- (C) Algum jogador de futebol que não é rico não joga no Brasil e não joga mal.
- (D) Algum jogador de futebol é rico mas joga no Brasil ou joga mal.
- (E) Nenhum jogador de futebol que é rico joga no Brasil ou joga mal.

24

Antônio utiliza exclusivamente a regra a seguir para aprovar ou não os possíveis candidatos a namorar sua filha:

“— Se não for torcedor do Vasco então tem que ser rico ou gostar de música clássica”.

Considere os seguintes candidatos:

Pedro: torcedor do Flamengo, não é rico, não gosta de música clássica.

Carlos: torcedor do Vasco, é rico, gosta de música clássica.

Marcos: torcedor do São Raimundo, é rico, gosta de música clássica.

Tiago: torcedor do Vasco, não é rico, não gosta de música clássica.

Bruno: torcedor do Nacional, não é rico, gosta de música clássica.

Classificando cada um desses cinco candidatos, na ordem em que eles foram apresentados, como aprovado (A) ou não aprovado (N) segundo a regra utilizada por Antônio, tem-se, respectivamente,

- (A) A, A, A, A e A.
- (B) N, A, A, A e A.
- (C) N, A, N, A e A.
- (D) N, A, N, N e A.
- (E) N, A, N, A e N.

25

Imagine que um objeto para se deslocar no espaço tridimensional só possa fazê-lo com deslocamentos unitários verticais para cima (C) ou para baixo (B) e com deslocamentos, também unitários, horizontais nos quatro sentidos dos pontos cardeais: norte (N), sul (S), leste (L), oeste (O).

Para se deslocar de um ponto P a um ponto Q, ambos do espaço tridimensional, um objeto percorreu a seguinte trajetória: NLCLSBSONCCLS.

Para voltar ao ponto P, a partir de Q, percorrendo exatamente o caminho inverso, a trajetória correta é

- (A) SLCCNOSBSLCLN
- (B) NOBBSLNCNOBOS
- (C) SOBONCNLSBBON
- (D) SOCONBNLSCCON
- (E) NOCCSLNBNOCOS

Noções de Informática

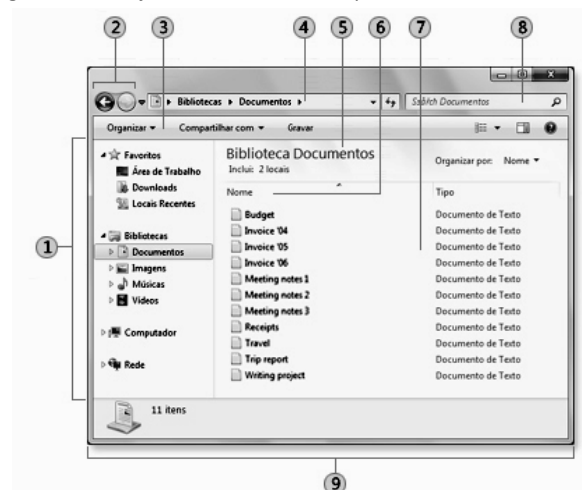
26

O MS Word 2010 BR para Windows oferece diversos recursos para a correção do texto digitado. Dentre esses recursos, o atalho de teclado Shift + F3 deve ser utilizado com a finalidade de

- (A) alterar o texto de minúsculo para maiúsculo e vice-versa.
- (B) alterar o texto de subscrito para sobrescrito e vice-versa.
- (C) alterar o texto configurado em uma coluna para duas colunas e vice-versa.
- (D) alterar o texto com determinado espaçamento vertical em outro e vice-versa.
- (E) alterar o texto com fonte de determinado tamanho para outro maior e vice-versa.

27

A figura ilustra a janela do Windows Explorer.



Os componentes identificados pelos números 1 e 4 são denominados, respectivamente:

- (A) Pannel de navegação e Barra de endereços
- (B) Pannel de navegação e Barra de ferramentas
- (C) Pannel da biblioteca e Barra de endereços
- (D) Pannel de detalhes e Barra de ferramentas
- (E) Pannel de detalhes e Barra de endereços

28

Um funcionário do Tribunal de Justiça do Amazonas, seleciona a pasta C:\TJ_AM no Windows Explorer, na qual estão armazenados diversos arquivos armazenados, e executa o atalho de teclado Ctrl + A. Esse atalho de teclado gera o seguinte resultado:











- (A) Exclui todos os arquivos armazenados na pasta C:\TJ_AM de forma permanente.
- (B) Transfere todos os arquivos armazenados na pasta C:\TJ_AM para a Lixeira.
- (C) Ordena todos os arquivos armazenados na pasta C:\TJ_AM por nome.
- (D) Classifica todos os arquivos armazenados na pasta C:\TJ_AM por data.
- (E) Seleciona todos os arquivos armazenados na pasta C:\TJ_AM.

29

Um funcionário do Tribunal de Justiça do Amazonas digitou um texto no Word 2010 BR para Windows. Para corrigir alguns aspectos no texto, executou os procedimentos listados a seguir.

- Selecionou o título, configurado na cor preta, e acionou o ícone IC_1 para aplicar a cor azul;
- Selecionou o segundo parágrafo e acionou o ícone IC_2 para aumentar o nível de recuo do parágrafo.

Os ícones IC_1 e IC_2 são, respectivamente:

- (A)  e 
- (B)  e 
- (C)  e 
- (D)  e 
- (E)  e 

30

A figura a seguir ilustra um equipamento especificado como Impressora multifuncional Epson Wireless 4532.



Tendo por foco a especificação desse equipamento, pode-se concluir que

- (A) imprime com velocidades de até 4532 bps.
- (B) gera listagens impressas a laser.
- (C) suporta comunicação sem fios.
- (D) possui capacidade de armazenamento de 4532 GB.
- (E) é conectada a um microcomputador por meio da interface PCI-Express.

Legislação Institucional

31

Sobre a *composição, funcionamento e atribuições* do Tribunal de Justiça do Estado do Amazonas, analise as afirmativas a seguir.

- I. O Tribunal de Justiça tem sede na Capital do Estado, jurisdição em todo o território do Estado, sendo composto por 19 Desembargadores.
- II. O Tribunal de Justiça tem como órgãos julgadores o Tribunal Pleno, as Câmaras Isoladas Cíveis e Criminais, as Câmaras Reunidas e o Conselho da Magistratura.
- III. O Tribunal Pleno funcionará com a presença mínima da maioria absoluta de seus membros desimpedidos, e será secretariado pelo Secretário Geral do Tribunal de Justiça.

Assinale:

- (A) se somente a afirmativa I estiver correta.
- (B) se somente a afirmativa II estiver correta.
- (C) se somente as afirmativas I e III estiverem corretas.
- (D) se somente as afirmativas II e III estiverem corretas.
- (E) se todas as afirmativas estiverem corretas.

32

O Estatuto dos Funcionários Públicos Cíveis do Estado do Amazonas prevê, que será considerado como de efetivo exercício, o período de afastamento do funcionário em virtude de:

- I. Licença, inclusive a que determinar a perda do vencimento.
- II. Competições esportivas em que represente o Brasil ou o Estado do Amazonas.
- III. Prestação de concurso público.

Assinale:

- (A) se somente a afirmativa I estiver correta.
- (B) se somente as afirmativas II e III estiverem corretas.
- (C) se somente as afirmativas I e III estiverem corretas.
- (D) se somente as afirmativas I e II estiverem corretas.
- (E) se todas as afirmativas estiverem corretas.

33

Segundo a Lei Complementar n. 17/97 – Lei de Divisão e Organização Judiciária do Estado do Amazonas –, conceder-se-á licença ao Magistrado

- I. Para tratamento de saúde ou por motivo de doença em pessoa da família;
- II. Para prestação de serviços à Justiça Eleitoral.
- III. Para frequência a curso ou seminário de aperfeiçoamento e estudos, a critério do Tribunal Pleno, pelo prazo máximo de dois anos.

Assinale:

- (A) se somente a afirmativa I estiver correta.
- (B) se somente as afirmativas I e II estiverem corretas.
- (C) se somente as afirmativas I e III estiverem corretas.
- (D) se somente as afirmativas II e III estiverem corretas.
- (E) se todas as afirmativas estiverem corretas.

34

São deveres do funcionário, segundo o Estatuto dos Funcionários Públicos Cíveis do Estado do Amazonas, além do exercício das atribuições de seu cargo,

- I. a assiduidade e a pontualidade.
- II. o sigilo sobre os assuntos da repartição.
- III. a urbanidade com companheiros de serviços e público em geral.

Assinale:

- (A) se somente o item I estiver correto.
- (B) se somente o item II estiver correto.
- (C) se somente os itens I e II estiverem corretos.
- (D) se somente os itens II e III estiverem corretos.
- (E) se todos os itens estiverem corretos.

35

Com relação às *incompatibilidades* no exercício da Magistratura, previstas na LC n. 17/97, assinale a afirmativa correta.

- (A) No Tribunal, não poderão ter assento na mesma Turma, Câmara ou grupo de Câmaras, cônjuge e parentes consanguíneos ou afins, em linha reta, bem como em linha colateral, até o 2º grau.
- (B) No Tribunal, não poderão ter assento na mesma Turma, Câmara ou grupo de Câmaras, cônjuge e parentes consanguíneos ou afins, em linha reta, bem como em linha colateral, até o 4º grau.
- (C) Nas sessões do Tribunal Pleno, o primeiro dos membros mutuamente impedidos que votar, excluirá a participação do outro no julgamento.
- (D) No mesmo juízo não podem servir, conjuntamente como Juiz de Direito ou Substituto, parentes consanguíneos ou afins até o 2º grau.
- (E) São nulos os atos praticados pelo Juiz, antes de se tornar incompatível.

36

É assegurado ao funcionário o direito de requerer, representar, pedir reconsideração e recorrer, desde que o faça dentro das normas de urbanidade. O prazo para pleitear na esfera administrativa, segundo o Estatuto dos Servidores Públicos Cíveis do Estado do Amazonas, quanto aos atos de demissão, cassação de aposentadoria ou disponibilidade e aos referentes à matéria patrimonial, é de

- (A) cento e oitenta dias.
- (B) um ano.
- (C) dois anos.
- (D) três anos.
- (E) cinco anos.

37

A Lei n. 1.762/86 dispõe sobre o regime jurídico dos funcionários públicos civis do Estado do Amazonas.

De acordo com tal diploma, as formas de provimento dos cargos públicos estão relacionadas a seguir, à **exceção de uma**. Assinale-a.

- (A) Promoção.
- (B) Nomeação.
- (C) Readmissão.
- (D) Remoção.
- (E) Reintegração.

38

A Lei Ordinária n. 3.226/08, que dispõe sobre o Plano de Cargos, Carreiras e Vencimentos dos Servidores do Poder Judiciário do Estado do Amazonas, prevê a existência das seguintes vantagens e benefícios, na forma e condições da lei, para os servidores efetivos dos Órgãos do Poder Judiciário do Estado do Amazonas, à **exceção de uma**. Assinale-a.

- (A) Gratificação Adicional de Qualificação.
- (B) Auxílio Creche.
- (C) Auxílio Alimentação.
- (D) Auxílio Saúde.
- (E) Ajuda de Custo.

39

A LC n. 17/97 dispõe que estão sujeitos às correções gerais os processos findos, iniciados no triênio anterior à correção, e os pendentes, **exceto**

- (A) os que estiverem com recursos interpostos, se ainda não esgotado o prazo para alegações e remessa.
- (B) os conclusos para julgamento, ainda que excedidos os prazos legais.
- (C) os que estiverem com recursos interpostos, ainda que esgotado o prazo para alegações e remessa.
- (D) os preparados para o júri, mesmo quando não houver sessão convocada.
- (E) os conclusos para julgamento, se o juiz vinculado estiver afastado.

40

A Lei n. 1.762/86 – Estatuto dos Funcionários Públicos Cíveis do Estado do Amazonas – traz algumas definições a serem adotadas no âmbito de sua incidência.

Dentre as definições listadas a seguir, assinale a incorreta.

- (A) Classe – é o conjunto de cargos de diferentes denominações e com atribuições, responsabilidades e padrões de vencimento diversos.
- (B) Lotação – é o número de cargos e funções gratificadas fixado para cada repartição, ou ainda o número de servidores que devem ter exercício em cada unidade administrativa.
- (C) Série de Classes – é o conjunto de classes da mesma denominação dispostas, hierarquicamente, de acordo com o grau de complexidade das atribuições, nível de responsabilidade, e constitui a linha natural de promoção do funcionário.
- (D) Funcionário – é a pessoa legalmente investida em cargo público.
- (E) Cargo – é a designação do conjunto de atribuições e responsabilidades cometidos a um funcionário identificando-se pelas características de criação por lei, denominação própria, número certo e pagamento pelos cofres do Estado.

Conhecimentos Específicos

41

Os instrumentos básicos de planejamento, nas três esferas de gestão do SUS, são: o Plano de Saúde, a Programação Anual de Saúde e o Relatório de Gestão.

Em relação à Programação Anual de Saúde, assinale a afirmativa correta.

- (A) Operacionaliza as intenções expressas no Plano de Saúde e tem como propósito determinar o conjunto de ações voltadas à promoção, à proteção e à recuperação da saúde.
- (B) É o instrumento que apresenta os resultados alcançados com a execução das metas de saúde e orienta eventuais redirecionamentos que se fizerem necessários.
- (C) Contém todas as medidas necessárias à execução e ao cumprimento dos prazos acordados no Termo de Compromisso de Gestão.
- (D) Deve ser elaborado para um período de dois anos e submetido à apreciação e à aprovação da Comissão de Intergestores Regional e da equipe de auditoria vinculada ao Ministério da Saúde.
- (E) É o instrumento no qual estão refletidas as necessidades próprias de cada esfera, formando a base para a execução, a avaliação e a gestão do sistema de saúde.

42

A participação social, prevista na Constituição Federal e instituída pela Lei n. 8.142/90, se dá por meio dos Conselhos e Conferências de Saúde. A respeito dessas instâncias, assinale a afirmativa **incorreta**.

- (A) A Conferência de Saúde reunir-se-á a cada quatro anos com a representação dos vários segmentos sociais, para avaliar a situação de saúde e propor as diretrizes para a formulação da política de saúde.
- (B) O Conselho Nacional de Secretários de Saúde (Conass) e o Conselho Nacional de Secretários Municipais de Saúde (Conasems) terão representação no Conselho Nacional de Saúde.
- (C) O Conselho de Saúde é um órgão colegiado que deve ser composto por representantes do governo, prestadores de serviço, profissionais de saúde e usuários.
- (D) As Conferências de Saúde e os Conselhos de Saúde terão sua organização e normas de funcionamento definidas em regimento único, aprovados na Comissão Intergestores Bipartite.
- (E) A representação dos usuários nos Conselhos de Saúde e Conferências será paritária em relação ao conjunto dos demais segmentos.

43

De acordo com a Lei n. 8.142/90, os Municípios, os Estados e o Distrito Federal devem seguir alguns critérios para que possam receber e/ou administrar diretamente os recursos que financiam as ações e serviços de saúde.

Assinale a alternativa que indica um desses critérios.

- (A) Comissões Intergestores.
- (B) Programações Pactuada Integrada.
- (C) Conselhos de Saúde.
- (D) Comissões de Auditoria.
- (E) Contratos de Gestão.

44

O Sistema Único de Saúde – SUS – foi criado pela Constituição Federal de 1988 e regulado pela Lei n. 8.080/90, com a finalidade de alterar a situação de desigualdade na assistência à saúde da população, tornando obrigatório o atendimento público a qualquer cidadão.

Com base no que dispõe a Lei Orgânica da Saúde, analise as afirmativas abaixo:

- I. Os municípios poderão constituir consórcios para desenvolver em conjunto as ações e os serviços de saúde que lhes correspondam.
- II. A integração em nível executivo das ações de saúde, meio ambiente e saneamento básico, faz parte dos princípios do SUS.
- III. No nível municipal, o Sistema Único de Saúde (SUS), poderá organizar-se em distritos de forma a integrar e articular recursos, técnicas e práticas voltadas para a cobertura total das ações de saúde.

Assinale:

- (A) se somente a afirmativa I estiver correta.
- (B) se somente a afirmativa II estiver correta.
- (C) se somente as afirmativas I e II estiverem corretas.
- (D) se somente as afirmativas I e III estiverem corretas.
- (E) se todas as afirmativas estiverem corretas.

45

As Comissões Intergestores Bipartite e Tripartite são reconhecidas como foros de negociação e pactuação entre gestores, quanto aos aspectos operacionais do Sistema Único de Saúde.

A atuação dessas comissões tem entre seus objetivos, o de

- (A) definir diretrizes, de âmbito nacional, regional e intermunicipal, a respeito da organização das redes de ações e serviços de saúde.
- (B) decidir exclusivamente a respeito dos aspectos operacionais e financeiros da gestão compartilhada do SUS.
- (C) articular políticas e programas de interesse para a saúde, cuja execução envolva diretamente áreas não compreendidas no âmbito do Sistema Único de Saúde (SUS).
- (D) apoiar os gestores estaduais na formulação de políticas regionais que visem à integração dos territórios e dos sistemas de referência e contrarreferência.
- (E) propor prioridades, métodos e estratégias para a formação e educação continuada dos recursos humanos do Sistema Único de Saúde (SUS).

46

A vacina dupla tipo adulto (dT) é indicada a partir dos sete anos de idade, para prevenção do tétano acidental e da difteria. É também indicada para a vacinação de mulheres em idade fértil (12 a 49 anos) e gestantes, principalmente para a prevenção do tétano neonatal.

O esquema básico da vacina dupla tipo adulto (dT) é de

- (A) duas doses, com intervalo mínimo de 60 dias entre as doses.
- (B) três doses, com intervalo mínimo de 60 dias entre as doses.
- (C) duas doses, com intervalo mínimo de 30 dias entre as doses.
- (D) três doses, com intervalo mínimo de 30 dias entre as doses.
- (E) uma dose, com reforço a cada 10 anos.

47

O calendário de vacinação brasileiro é definido pelo Programa Nacional de Imunizações do Ministério da Saúde (PNI/MS) e corresponde ao conjunto de vacinas consideradas de interesse prioritário à saúde pública do país.

O Calendário Básico de Vacinação da Criança contempla vacinas que devem ser administradas desde o nascimento até os 10 anos de idade. De acordo com esse calendário, aos 12 meses a criança deve receber

- (A) o 2º reforço da tríplice bacteriana e a 2ª dose da tríplice viral.
- (B) a 1ª dose da meningocócica C (conjugada).
- (C) a 1ª dose da tríplice viral e o reforço da pneumocócica 10 (conjugada).
- (D) a dose inicial da febre amarela e a 3ª dose da tetravalente.
- (E) a 1ª dose da vacina oral *rotavirus* humano (VORH).

48

O Programa de Saúde da Família - PSF é entendido como uma estratégia de reorientação do modelo assistencial, operacionalizada mediante a implantação de equipes multiprofissionais em unidades básicas de saúde.

Conforme preconizado pelo Ministério da Saúde, essas equipes de saúde devem ser compostas, minimamente, por

- (A) 1 enfermeiro, 1 técnico de enfermagem, 1 técnico em higiene dental e 4 agentes comunitários de saúde.
- (B) 1 médico de família, 1 enfermeiro, 1 auxiliar de enfermagem e 6 agentes comunitários de saúde.
- (C) 1 enfermeiro, 1 auxiliar de enfermagem, 1 dentista e 4 agentes comunitários de saúde.
- (D) 1 médico de família, 1 técnico de enfermagem, 1 auxiliar de consultório dentário e 6 agentes comunitários de saúde.
- (E) 1 médico de família, 1 enfermeiro, 1 técnico de enfermagem, 1 dentista e 4 agentes comunitários de saúde.

49

O Programa de Agentes Comunitários de Saúde (PACS) é considerado parte da Saúde da Família. Nos municípios onde há somente o PACS, este pode ser considerado um programa de transição para o PSF. De acordo com a Política Nacional de Atenção Básica, cada ACS deve ser responsável por uma microrregião com, no máximo,

- (A) 350 pessoas.
- (B) 450 pessoas.
- (C) 550 pessoas.
- (D) 650 pessoas.
- (E) 750 pessoas.

50

A Organização Mundial da Saúde (OMS) juntamente com a UNICEF concordaram na elaboração de uma solução simples no tratamento da desidratação e do desequilíbrio eletrolítico associado à cólera e a outras doenças diarreicas. A Solução de Reidratação Oral – SRO - contém (em milimoles por litro) 90 de sódio, 20 de potássio, 80 de cloreto, 10 de citrato e 111 de glicose, e deve ser administrada considerando o tipo de desidratação e o peso do paciente.

Com base nesses dados, analise as afirmativas a seguir.

- I. Na desidratação leve o paciente exibe mucosas orais secas e sede aumentada. A meta para esse tipo de desidratação consiste em fornecer aproximadamente 50 mL de SRO por 1 kg de peso durante um intervalo de 4 horas.
- II. Pacientes com desidratação moderada apresentam olhos encovados, perda de turgor cutâneo, sede aumentada e mucosas secas. Nesse caso é necessário fornecer aproximadamente 100 mL de SRO/kg durante 4 horas.
- III. Os pacientes com desidratação grave apresentam sinais de choque e devem receber altas doses de SRO até a normalização dos estados hemodinâmico e mental.

Assinale:

- (A) se somente a afirmativa I estiver correta
- (B) se somente a afirmativa II estiver correta
- (C) se somente as afirmativas I e II estiverem corretas
- (D) se somente as afirmativas I e III estiverem corretas
- (E) se todas as afirmativas estiverem corretas

51

A realização imediata de reanimação cardiopulmonar - RCP em uma vítima de parada cardiorespiratória - PCR, ainda que apenas com compressões torácicas no pré-hospitalar, contribui para o aumento das taxas de sobrevivência.

Considerando o protocolo da *American Heart Association* (AHA) a respeito das condutas de ACLS, incluindo as mudanças realizadas em 2010, analise as afirmativas a seguir:

- I. As novas diretrizes minimizam a importância de checar o pulso por profissionais de saúde treinados, considerando que pode ser uma detecção difícil mesmo para provedores experientes, principalmente quando a pressão arterial está muito baixa. Quando for executada, a checagem não pode levar mais que 10 segundos.
- II. A sequência para atendimento recomendada para um socorrista é que ele inicie as compressões torácicas antes da ventilação de resgate. A antiga sequência A-B-C (Vias Aéreas - Boa ventilação - Compressão Torácica) passa a ser C-A-B.
- III. Quando uma via aérea permeável for estabelecida, as compressões torácicas externas devem ser feitas ininterruptamente a uma frequência de 100 compressões por minuto e as ventilações, a uma frequência de 8 a 10 ventilações por minuto.

Assinale:

- (A) Se somente a afirmativa I estiver correta
- (B) Se somente a afirmativa II estiver correta
- (C) Se somente as afirmativas I e II estiverem corretas
- (D) Se somente as afirmativas I e III estiverem corretas
- (E) Se todas as afirmativas estiverem corretas

52

Um Acidente Vascular Cerebral-AVC pode causar uma grande variedade de déficits neurológicos, dependendo da localização da lesão, do tamanho da área de perfusão inadequada e da quantidade de fluxo sanguíneo colateral. A enfermagem deve estar atenta às manifestações decorrentes desses déficits para que possa prestar um cuidado adequado a esses pacientes. Relacione os déficits neurológicos decorrentes de um AVC, apresentados a seguir, com suas manifestações.

1. Ataxia
 2. Disartria
 3. Hemianopsia
 4. Afasia receptiva
- () Incapacidade de compreender palavras faladas
 () Dificuldade em avaliar distâncias
 () Dificuldade em formar palavras
 () Marcha cambaleante e instável

Assinale a alternativa que mostra a relação correta de cima para baixo:

- (A) 1, 2, 3, 4.
 (B) 3, 2, 4, 1.
 (C) 4, 3, 2, 1.
 (D) 2, 1, 4, 3.
 (E) 1, 4, 3, 2.

53

A Escala de Coma de Glasgow é um instrumento bastante utilizado para avaliar a resposta de um paciente a estímulos. Os escores vão de 3 (coma profundo) a 15 (normal).

Ao avaliar um paciente vítima de acidente automobilístico e que está há três dias no CTI, a enfermeira, aplicando a escala de Coma de Glasgow, observa que ele apresenta abertura dos olhos quando estimulado, dá resposta verbal com palavras desconexas e aperta sua mão quando solicitado. Diante desse quadro, assinale a alternativa que indica a pontuação obtida e o respectivo nível de consciência desse paciente.

- (A) 3 – coma profundo.
 (B) 4 – coma profundo.
 (C) 7 – coma intermediário.
 (D) 11 – coma superficial.
 (E) 15 – normal

54

A Resolução COFEN-293/04 estabelece os parâmetros para dimensionar o quantitativo mínimo dos diferentes níveis de formação dos profissionais de Enfermagem para a cobertura assistencial nas instituições de saúde. Considerando o disposto nessa resolução, analise as afirmativas que seguem:

- I. Para efeito de cálculo, na assistência semi-intensiva devem ser consideradas 9,4 horas de enfermagem por cliente, nas 24 horas.
- II. O quantitativo de profissionais deve ser acrescido de um índice de segurança técnica (IST) de 10% do total.
- III. Na assistência intensiva, de 42 a 46% dos profissionais de enfermagem devem ser enfermeiros e os demais, técnicos e auxiliares de enfermagem.

Assinale:

- (A) Se somente a afirmativa I estiver correta.
 (B) Se somente a afirmativa II estiver correta.
 (C) Se somente as afirmativas I e II estiverem corretas.
 (D) Se somente as afirmativas I e III estiverem corretas.
 (E) Se todas as afirmativas estiverem corretas.

55

O *acolhimento com classificação de risco* vem sendo cada vez mais realizada nos serviços de saúde que prestam atendimentos de urgência e que organizam o atendimento com base nos níveis de prioridade. O modelo proposto pelo Ministério da Saúde divide o serviço em eixos e áreas, identificados por cores que irão determinar o tipo de atendimento prestado.

Com base nesse modelo assinale a alternativa que corresponde às características da área amarela.

- (A) Área na qual está a sala de emergência para atendimento imediato dos pacientes com risco de morte e a sala de procedimentos especiais invasivos.
 (B) Área das salas de observação, que devem ser divididas por sexo (feminino e masculino) e idade (crianças e adultos), a depender da demanda.
 (C) Área de consultas, procedimentos médicos e de enfermagem (curativo, sutura, medicação e nebulização).
 (D) Área composta por uma sala de retaguarda para pacientes já estabilizados, mas que ainda requerem cuidados especiais (pacientes críticos ou semicríticos).
 (E) Área de atendimento médico, lugar onde os consultórios devem ser planejados de modo a possibilitar a presença do acompanhante e a individualidade do paciente.

56

Em uma unidade com 36 leitos, distribuídos entre 21 pacientes com cuidados mínimos e 15 pacientes com cuidados intermediários, assinale a alternativa que indica a necessidade de enfermagem (em horas) para as 24h (sem considerar o IST).

- (A) 40,2 horas na assistência mínima – 24 horas nos cuidados intermediários.
 (B) 54,5 horas na assistência mínima – 60 horas nos cuidados intermediários.
 (C) 67,4 horas na assistência mínima – 90 horas nos cuidados intermediários.
 (D) 79,8 horas na assistência mínima – 84 horas nos cuidados intermediários.
 (E) 80,9 horas na assistência mínima – 75 horas nos cuidados intermediários.

57

Nos serviços de saúde, a auditoria controla e avalia o grau de atenção efetivamente prestada pelo sistema, em comparação a um modelo definido, podendo ser operacional ou analítica.

Em relação à auditoria operacional, assinale a afirmativa correta.

- (A) Está baseada no desenvolvimento de atividades que têm por objetivo aprofundar as análises de aspectos específicos do sistema de saúde.
 (B) Concentra-se nas condições da rede física, nos mecanismos de regulação e no desenvolvimento das ações de saúde.
 (C) Visa subsidiar o processo de decisão do gestor a partir da identificação de situações que comprometem o bom andamento da prestação de serviços.
 (D) É voltada para a avaliação quantitativa, inferindo, em algumas situações, a qualidade das ações de saúde.
 (E) Visa aprofundar as análises no sistema de atenção à saúde a partir de situações decorrentes do impacto diferente do estabelecido no processo de planejamento.

58

Conforme a Resolução CONAMA 358/05, os Resíduos de Serviços de Saúde são classificados em cinco grupos, de acordo com os riscos potenciais ao meio ambiente e à saúde pública, a fim de que tenham gerenciamento adequando.

Com base nessa classificação, assinale a afirmativa correta.

- (A) Grupo A - resíduos contendo substâncias químicas que podem apresentar risco à saúde pública ou ao meio ambiente, dependendo de suas características de inflamabilidade, corrosividade, reatividade e toxicidade.
- (B) Grupo B - resíduos com a possível presença de agentes biológicos que, por suas características de maior virulência ou concentração, podem apresentar risco de infecção.
- (C) Grupo C - resíduos que não apresentem risco biológico, químico ou radiológico à saúde ou ao meio ambiente, podendo ser equiparados aos resíduos domiciliares.
- (D) Grupo D - quaisquer materiais resultantes de atividades humanas que contenham radionuclídeos em quantidades superiores aos limites de eliminação especificados nas normas da Comissão Nacional de Energia Nuclear – CNEN e para os quais a reutilização é imprópria ou não prevista.
- (E) Grupo E - materiais perfurocortantes ou escarificantes, tais como lâminas de barbear, agulhas, escalpes, ampolas de vidro, brocas, limas endodônticas, pontas diamantadas, lâminas de bisturi e lancetas.

59

A Resolução - RDC n. 15/12, classifica os Centros de Material e Esterilização – CME, em CME Classe I e Classe II e estabelece boas práticas para o processamento de produtos para saúde.

Com base nessa resolução, assinale a afirmativa **incorreta**.

- (A) O CME Classe I realiza o processamento de produtos para a saúde não-críticos, semicríticos e críticos de conformação complexa, passíveis de processamento.
- (B) O CME só pode processar produtos compatíveis com a sua capacidade técnica operacional e conforme a sua classificação.
- (C) Os produtos para saúde classificados como críticos devem ser submetidos ao processo de esterilização, após a limpeza e demais etapas do processo.
- (D) A empresa processadora deve realizar todas as fases do processamento, incluindo limpeza, inspeção, preparo e acondicionamento, esterilização, armazenamento e devolução para o serviço de saúde.
- (E) O CME e as empresas processadoras só podem processar produtos para saúde regularizados junto à ANVISA.

60

Considerando as normas referentes ao processo de esterilização de produtos para saúde, preconizadas pela ANVISA, analise as afirmativas a seguir.

- I. É obrigatório a realização de teste para avaliar o desempenho do sistema de remoção de ar (Bowie & Dick) da autoclave assistida por bomba de vácuo, no primeiro ciclo do dia.
- II. O ciclo de esterilização a vapor para uso imediato só pode ocorrer em caso de urgência e emergência.
- III. É proibido o uso de autoclave gravitacional de capacidade superior a 100 litros.

Assinale:

- (A) Se somente a afirmativa I estiver correta.
- (B) Se somente a afirmativa II estiver correta.
- (C) Se somente as afirmativas I e II estiverem corretas.
- (D) Se somente as afirmativas I e III estiverem corretas.
- (E) Se todas as afirmativas estiverem corretas.

61

O Decreto 7.508 / 11 regulamenta a Lei Orgânica da Saúde, e dispõe, entre outras coisas, sobre a organização do Sistema Único de Saúde - SUS, o planejamento da saúde, a assistência à saúde e a articulação interfederativa.

De acordo com esse decreto, o Contrato Organizativo da Ação Pública da Saúde – COAP é

- (A) uma instância de pactuação consensual entre os entes federativos para definição das regras da gestão compartilhada do SUS.
- (B) um acordo de colaboração firmado entre entes federativos com a finalidade de organizar e integrar as ações e serviços de saúde na rede regionalizada e hierarquizada.
- (C) um conjunto de ações e serviços de saúde articulados em níveis de complexidade crescente, com a finalidade de garantir a integralidade da assistência à saúde.
- (D) um contrato que contém a discriminação da receita e da despesa, a fim de evidenciar a política econômico-financeira e o programa de trabalho do governo.
- (E) um conjunto de acordos que determina as diretrizes, os objetivos e as metas da administração pública, no que se refere à saúde, para um período de quatro anos.

62

A notificação compulsória, historicamente, é uma das principais fontes de dados da Vigilância Epidemiológica, a partir da qual, na maioria das vezes, se desencadeia o processo informação-decisão-ação. O caráter compulsório da notificação implica responsabilidades formais, principalmente para os profissionais de saúde.

No que se refere aos aspectos legais dessa notificação, assinale a afirmativa **incorreta**.

- (A) A notificação imediata realizada pelos meios de comunicação não isenta o profissional ou serviço de saúde de realizar o registro dessa notificação nos instrumentos estabelecidos.
- (B) A notificação compulsória é obrigatória para todos os profissionais de saúde no exercício da profissão.
- (C) Os casos suspeitos ou confirmados da Lista de Notificação Compulsória Imediata deverão ser registrados no Sistema de Informação de Agravos de Notificação (SINAN) no prazo máximo de 7 (sete) dias, a partir da data de notificação.
- (D) A elaboração de listas estaduais ou municipais de Notificação Compulsória é proibida, exceto quando forem previamente analisadas e aprovadas pela Secretaria de Vigilância em Saúde.
- (E) Os casos de malária na região da Amazônia Legal deverão ser registrados no Sistema de Informação de Vigilância Epidemiológica - Malária - SIVEP-Malária.

63

O Ministério da Saúde instituiu, em 2002, o Programa Nacional de Controle da Dengue (PNCD) que visa reduzir a infestação pelo *Aedes aegypti*, a incidência da dengue e a letalidade por febre hemorrágica de dengue. Dentre os indicadores propostos para o acompanhamento do PNCD está o de proporção de municípios com quantitativo adequado de agentes de controle de endemias. Essa proporção deve ser de:

- (A) um agente para cada 800 a 1.000 imóveis.
- (B) dois agentes para cada 800 a 1.000 imóveis.
- (C) um agente para cada 1000 a 1.500 imóveis.
- (D) dois agentes para cada 1000 a 1.500 imóveis.
- (E) um agente para cada 1500 a 2.000 imóveis.

64

De acordo com a Resolução COFEN 358/2009 o Processo de Enfermagem orienta o cuidado de Enfermagem e a documentação da prática profissional.

Sobre as etapas desse processo, assinale a afirmativa que define a *Avaliação de Enfermagem*.

- (A) Processo de interpretação e agrupamento dos dados coletados, que culmina com a tomada de decisão sobre os conceitos diagnósticos de enfermagem.
- (B) Processo que determina os resultados que se espera alcançar e as ações ou intervenções de enfermagem que serão realizadas face às respostas da pessoa, família ou coletividade humana.
- (C) Processo realizado com o auxílio de métodos e técnicas variadas, para obter informações sobre pessoa, família ou coletividade humana e suas respostas sobre o processo saúde / doença.
- (D) Processo sistemático e contínuo de verificação das respostas da pessoa, família ou coletividade humana em um dado momento do processo saúde/doença, para determinar se as ações de enfermagem alcançaram resultado.
- (E) Processo cujas etapas constituem a base para a seleção das ações ou intervenções com as quais se objetiva alcançar os resultados esperados, priorizando o bem estar do paciente.

65

O diagnóstico de *perfusão tissular periférica ineficaz* é definido, pela taxonomia de Nanda, como “a redução na circulação sanguínea para a periferia, capaz de comprometer a saúde”.

A respeito desse caso, assinale a alternativa que indica uma das características que o define.

- (A) Diabetes melito.
- (B) Sedentarismo.
- (C) Sopro femoral.
- (D) Tabagismo.
- (E) Hipertensão.

66

A via intramuscular (IM) é muito utilizada na administração de medicamentos, principalmente por proporcionar uma rápida absorção da medicação administrada. As injeções IM podem ser realizadas em várias regiões do corpo, de acordo com a idade, estrutura muscular do paciente e o volume a ser administrado.

A região anterolateral da coxa é uma opção de escolha, mas não deve ser utilizada em

- (A) crianças de 0 a 10 anos.
- (B) adultos com pequena massa muscular.
- (C) crianças de 0 a 2 anos.
- (D) idosos muito magros.
- (E) crianças de 0 a 28 dias.

67

A prova tuberculínica é indicada como método auxiliar no diagnóstico da tuberculose e sua leitura deve ser realizada entre 72 e 96 horas após a aplicação, medindo-se com régua milimetrada o maior diâmetro transverso da área de endurecimento palpável.

No que se refere ao resultado, registrado em milímetros, analise as afirmativas abaixo:

- I. 0 a 4 mm - não reator - indivíduo não infectado pelo *M. tuberculosis* ou com hipersensibilidade reduzida.
- II. 5 a 9 mm - reator fraco - indivíduo infectado pelo *M. tuberculosis* ou por outras microbactérias.
- III. 10 mm ou mais - reator forte - indivíduo infectado pelo *M. tuberculosis*, que pode estar ou não doente, e indivíduos vacinados com BCG nos últimos dois anos.

Assinale:

- (A) Se somente a afirmativa I estiver correta
- (B) Se somente a afirmativa II estiver correta
- (C) Se somente as afirmativas I e II estiverem corretas
- (D) Se somente as afirmativas I e III estiverem corretas
- (E) Se todas as afirmativas estiverem corretas

68

Durante uma consulta de pré-natal, a paciente, que está na 24ª semana de gestação, relata episódios de cefaleia, dor epigástrica, diurese diminuída (cerca de 400 mL/dia), além de apresentar PA igual a 115/120 mm Hg.

Esses sintomas devem ser investigados, pois indicam um quadro de

- (A) eclampsia.
- (B) pré- eclampsia grave.
- (C) pré-eclampsia leve.
- (D) hipertensão crônica.
- (E) hipertensão transitória.

69

Em caso de emergência na qual seja necessário realizar massagens cardíacas em um recém-nascido, estas devem ser executadas de forma sincronizada com a ventilação, mantendo-se a relação de:

- (A) 3 movimentos de massagem cardíaca para 1 movimento de ventilação, com uma frequência de 120 eventos por minuto.
- (B) 2 movimentos de massagem cardíaca para 1 movimento de ventilação, com uma frequência de 90 eventos por minuto.
- (C) 1 movimento de massagem cardíaca para 3 movimentos de ventilação, com uma frequência de 120 eventos por minuto.
- (D) 3 movimentos de massagem cardíaca para 1 movimento de ventilação, com uma frequência de 90 eventos por minuto.
- (E) 2 movimentos de massagem cardíaca para 1 movimento de ventilação, com uma frequência de 60 eventos por minuto.

70

A intubação ou sondagem gastrointestinal (GI) consiste na inserção de um tubo flexível no estômago, duodeno ou jejuno. A escolha do tipo de sonda GI varia de acordo com o objetivo a ser alcançado. A sonda de reservatório gástrico (saalem) é uma sonda radiopaca, de plástico transparente e com luz dupla, empregada normalmente para

- (A) alimentação enteral.
- (B) descompressão gástrica.
- (C) realização de exames.
- (D) compressão de hemorragia.
- (E) lavagem gástrica.

71

O exame físico de um paciente com distúrbios cardiovasculares inclui entre outras coisas, a inspeção da aparência geral, monitoramento da PA e do pulso, ausculta do coração, do pulmão e palpação do abdome.

Na palpação abdominal, o refluxo hepatojugular é um achado importante e pode ser demonstrado

- (A) pressionando-se firmemente o quadrante superior direito do abdome por 30 a 60 segundos, ocasionando um aumento de 1 cm ou mais na pressão venosa jugular.
- (B) pressionando-se firmemente o quadrante inferior direito do abdome por 30 a 60 segundos, ocasionando um aumento de 1 cm ou mais na pressão venosa jugular.
- (C) pressionando-se firmemente o quadrante superior esquerdo do abdome por 30 a 60 segundos, ocasionando um aumento de 1 cm ou mais na pressão venosa jugular.
- (D) pressionando-se firmemente o quadrante inferior esquerdo do abdome por 30 a 60 segundos, ocasionando um aumento de 1 cm ou mais na pressão venosa jugular.
- (E) pressionando-se firmemente a região mesogástrica por 30 a 60 segundos, ocasionando um aumento de 1 cm ou mais na pressão venosa jugular.

72

A angina de peito é uma síndrome clínica comumente caracterizada por episódios ou paroxismos de dor ou pressão na região anterior do tórax. Os sintomas variam de acordo com o tipo de angina, podendo ir desde um desconforto até a dor agonizante. A dor em repouso, possivelmente causada pelo vasoespasma da artéria coronária, é característica da

- (A) angina estável.
- (B) angina Instável.
- (C) angina refratária.
- (D) angina Prinzmetal.
- (E) isquemia silenciosa.

73

A mortalidade infantil no Brasil vem sendo reduzida consideravelmente ao longo dos anos, porém, se comparado a outros países, os índices ainda são bastante elevados. A taxa de mortalidade infantil é o indicador utilizado pelo Ministério da Saúde para monitorar esses números e usa como base de cálculo

- (A) o número de óbitos em menores de 5 anos por 1.000 nascidos vivos.
- (B) o número de óbitos no período perinatal por 1.000 nascidos vivos.
- (C) o número de óbitos em menores de 1 ano por 1.000 nascidos vivos.
- (D) o número de óbitos na idade de 0 a 6 dias por 1.000 nascidos vivos.
- (E) o número de óbitos na idade de 7 a 27 dias por 1.000 nascidos vivos.

74

O Mapa de Risco é a representação gráfica de um conjunto de fatores presentes nos locais de trabalho, capazes de acarretar prejuízos à saúde dos trabalhadores, acidentes e doenças do trabalho. Esses fatores são identificados por círculos coloridos de acordo com o grupo a que pertencem.

Com base na identificação dos fatores de risco por meio de cores, assinale a afirmativa correta.

- (A) Verde – risco ergonômico.
- (B) Vermelho – risco biológico.
- (C) Marrom – risco químico.
- (D) Amarelo – risco físico.
- (E) Azul – risco de acidente.

75

As medidas específicas e fortemente recomendadas para prevenção das pneumonias hospitalares e da mortalidade relacionadas à ventilação mecânica, estão relacionadas a seguir, à exceção de uma. Assinale-a.

- (A) Manter os pacientes com a cabeceira elevada entre 30 e 45°.
- (B) Avaliar diariamente a sedação e diminuir sempre que possível.
- (C) Realizar higiene oral com antissépticos (clorexidina veículo oral).
- (D) Trocar o circuito do ventilador a cada 5 dias.
- (E) Realizar aspiração da secreção subglótica rotineiramente.

76

No que se refere ao sigilo profissional, de acordo com o Código de Ética dos Profissionais de Enfermagem, é direito do profissional de enfermagem

- (A) divulgar ou fazer referência a casos, situações ou fatos de forma que os envolvidos possam ser identificados.
- (B) abster-se de revelar informações confidenciais de que tenha conhecimento em razão de seu exercício profissional a pessoas ou entidades que não estejam obrigadas ao sigilo.
- (C) manter segredo sobre fato sigiloso de que tenha conhecimento em razão de sua atividade profissional, exceto casos previstos em lei, ordem judicial, ou com o consentimento escrito da pessoa envolvida ou de seu representante legal.
- (D) comparecer perante a autoridade, quando intimado como testemunha e, se for o caso, declarar seu impedimento de revelar o segredo.
- (E) franquear o acesso a informações e documentos a pessoas que não estão diretamente envolvidas na prestação da assistência, exceto nos casos previstos na legislação vigente ou por ordem judicial.

77

A suspensão consiste na proibição do exercício profissional da Enfermagem por um período não superior a 29 (vinte e nove) dias e é divulgada nas publicações oficiais dos Conselhos Federal e Regional de Enfermagem, jornais de grande circulação e comunicada aos órgãos empregadores.

Essa penalidade é da alçada do

- (A) Conselho Regional de Enfermagem.
- (B) Associação Brasileira de Enfermagem.
- (C) Sindicato dos Servidores de Saúde.
- (D) Sindicato dos enfermeiros.
- (E) Conselho Federal de Enfermagem.

78

Os Centros de Referência de Imunobiológicos Especiais (Cries) atendem, de forma personalizada, ao público que necessita de produtos especiais de alto custo.

Considerando a indicação terapêutica e a idade, associe as vacinas às alternativas correspondentes.

1. Vacina pentavalente e vacina contra *influenza*.
 2. Vacina contra hepatite A (HA) e vacina contra *influenza*.
 3. Vacina contra hepatite A (HA).
 4. Vacina contra varicela (VZ): pré-exposição
- () A partir dos 12 meses, em crianças com doença dermatológica grave.
- () A partir de 2 meses, em crianças com discrasias sanguíneas.
- () A partir do nascimento, em doadores de órgãos sólidos e de medula óssea
- () A partir dos 12 meses, em crianças com hemoglobinopatias.

Assinale a alternativa que mostra a relação correta, de cima para baixo.

- (A) 4, 2, 1, 3.
(B) 2, 4, 3, 1.
(C) 3, 1, 4, 2.
(D) 4, 1, 2, 3.
(E) 1, 2, 3, 4.

79

O Ministério da Saúde utiliza como um dos parâmetros para avaliação do crescimento de crianças menores de 10 anos o gráfico do índice de massa corporal (IMC) para a idade. Esse parâmetro permite que a criança seja avaliada na sua relação peso vs. comprimento (para menores de 2 anos) ou peso vs. altura (para maiores de 2 anos).

Considerando os percentis empregados no ponto de corte peso x idade e o diagnóstico nutricional correspondente, assinale a afirmativa correta.

- (A) Percentil > 97 indica peso adequado para a idade.
(B) Percentil < 0,1 indica peso elevado para a idade.
(C) Percentil > 3 e 97 indica peso muito baixo para a idade.
(D) Percentil > 0,1 e < 3 indica peso baixo para a idade.
(E) Percentil < 2 e >3 indica peso muito elevado para a idade.

80

De acordo com a orientação do Ministério da Saúde, para situações de urgência e emergência que envolvem vítimas de queimaduras, os critérios de transferência de pacientes para Unidades de Tratamento de Queimados - UTQ, estão listados a seguir, **à exceção de um**. Assinale-o.

- (A) Queimaduras de 1° grau, maiores do que 20% da Superfície Corpórea Queimada - SCQ em adultos.
- (B) Queimaduras de 2° grau, maiores do que 10% da SCQ em crianças ou maiores de 50 anos.
- (C) Lesões na face, nos olhos, no períneo, nas mãos, nos pés e em grandes articulações.
- (D) Lesão inalatória ou lesão circunferencial de tórax ou de membros.
- (E) Queimaduras de 3° grau em qualquer extensão e queimadura elétrica.

Realização

 **FGV PROJETOS**