



# Tribunal de Justiça do Estado do Amazonas

## Auxiliar Judiciário II

Concurso Público 2013

### Prova Escrita Objetiva – Nível Fundamental

# Auxiliar Judiciário II

## TIPO 1 – BRANCA

### Informações Gerais

- Você receberá do fiscal de sala:
  - uma folha de respostas destinada à marcação das respostas das questões objetivas;
  - esse caderno de prova contendo **50 (cinquenta)** questões objetivas, cada qual com **cinco** alternativas de respostas (A, B, C, D e E).
- Verifique se este caderno está completo, sem repetição de questões ou falhas. Caso contrário, notifique imediatamente o fiscal de sala para que sejam tomadas as devidas providências.
- As questões objetivas são identificadas pelo número situado acima do seu enunciado.
- Ao receber a folha de respostas, você deve:
  - conferir seus dados pessoais, em especial seu nome, número de inscrição e o número do documento de identidade;
  - ler atentamente as instruções para a marcação das respostas das questões objetivas;
  - marcar na folha de respostas o campo relativo à confirmação do tipo/cor de prova, conforme o caderno que você recebeu;
  - assinar seu nome, apenas nos espaços reservados, com caneta esferográfica transparente de cor azul ou preta.
- Durante a aplicação da prova não será permitido:
  - qualquer tipo de comunicação entre os candidatos;
  - levantar da cadeira sem a devida autorização do fiscal de sala;
  - portar aparelhos eletrônicos, tais como *bipe*, telefone celular, agenda eletrônica, *notebook*, *palmtop*, receptor, gravador, máquina de calcular, máquina fotográfica digital, controle de alarme de carro etc., bem como relógio de qualquer espécie, óculos escuros ou quaisquer acessórios de chapelaria, tais como chapéu, boné, gorro etc. e, ainda, lápis, lapiseira (grafite), corretor líquido e/ou borracha. Tal infração poderá acarretar a eliminação sumária do candidato.
- O preenchimento das respostas, de inteira responsabilidade do candidato, deverá ser feito com caneta esferográfica de tinta indelével de cor preta ou azul. **Não será permitida a troca da folha de respostas por erro do candidato.**
- O tempo disponível para a realização da prova é de **quatro horas**, já incluído o tempo para a marcação da folha de respostas.
- Reserve tempo suficiente para o preenchimento de suas respostas. Para fins de avaliação, serão levadas em consideração apenas as marcações realizadas na folha de respostas, não sendo permitido anotar informações relativas às suas respostas em qualquer outro meio que não seja o próprio caderno de provas.
- Somente depois de decorridas **duas horas** do início da prova você poderá retirar-se da sala de prova, contudo sem levar o caderno de provas.
- Somente no decorrer dos últimos **sessenta minutos** do período da prova você poderá retirar-se da sala levando o caderno de provas.
- A FGV realizará a coleta da impressão digital dos candidatos nas folhas de respostas.
- Ao terminar a prova, entregue a folha de respostas ao fiscal da sala e deixe o local de prova. Caso você se negue a entregar a folha de respostas, será eliminado do concurso.
- Os candidatos poderão ser submetidos a sistema de detecção de metais quando do ingresso e da saída de sanitários durante a realização das provas. Ao sair da sala, ao término da prova, o candidato não poderá usar o sanitário.
- Os gabaritos preliminares das provas objetivas serão divulgados no dia **11/06/2013**, no endereço eletrônico <http://www.fgv.br/fgvprojetos/concursos/tjam13>.
- O prazo para interposição de recursos contra os gabaritos preliminares será das 0h00min do dia **12/06/2013** até as 23h59min do dia **13/06/2013**, observado o horário oficial, no endereço <http://www.fgv.br/fgvprojetos/concursos/tjam13>, por meio do Sistema Eletrônico de Interposição de Recurso.

## Língua Portuguesa

### Carrocinha de pipoca

Eu sei que a coisa é séria. Se o Kim Jong-Um disparar mesmo os foguetes que está ameaçando disparar contra bases americanas na Ásia, teremos uma guerra nuclear com dimensões e consequências imprevisíveis. Mas lendo sobre o perigo iminente não pude deixar de pensar na história do homem que foi atropelado por uma carrocinha de pipoca. Era um homem cauteloso, que olhava para os dois lados antes de atravessar a rua e só atravessava no sinal, e que dificilmente um carro pegaria. Mas que um dia não viu que vinha uma carrocinha de pipoca, e *paft*. Já no ambulatório do hospital, onde lhe deram uns pontos no braço, o homem disse que tinha sido atropelado por um motoboy. Em casa, contou que tinha sido atropelado por um carro e só por sorte escapara da morte. Naquela noite, para os amigos que souberam do acidente e foram visitá-lo, especificou: tinha sido atropelado por um BMW. No dia seguinte disse aos colegas de trabalho que tinha sido atropelado por um caminhão e que não sofrera mais que um corte no braço, por milagre. E quando um dos colegas de trabalho comentou que tinha visto o acidente e vira o homem ser atropelado por uma carrocinha de pipoca, gritou: “Calúnia!”

Por que me lembrei do homem que tinha vergonha de ter sido atropelado por uma carrocinha de pipoca? Desde o fim da Guerra Fria a possibilidade de um confronto nuclear entre duas potências, os Estados Unidos e a Rússia, diminuiu, mas os estoques de armas nucleares continuaram e sua proliferação também. Israel se segura para não usar seus foguetes para destruir as bombas nucleares que o Irã está ou não está construindo, Índia e Paquistão vivem comparando seus respectivos arsenais nucleares como guris comparam seus pipis, a França e a Inglaterra têm a bomba... Enfim, ainda se vive num frágil equilíbrio de terror possível, exigindo de todos os nucleares um cuidado extremo, um cuidado de atravessar a rua sem serem atropelados pelo imprevisto. E aí aparece o Kim Jong-Um empurrando uma carrocinha de pipoca em alta velocidade...

(Luiz Fernando Veríssimo, *O Globo*, 11/04/2013)

### 01

“Eu sei que a coisa é séria”. Nessa frase inicial do texto, a palavra *coisa* ganha o sentido específico de

- (A) acontecimentos imprevistos na história humana.
- (B) ameaça de guerra nuclear provocada pela Coreia do Norte.
- (C) atropelamento por uma carrocinha de pipoca.
- (D) confronto nuclear Estados Unidos X Rússia.
- (E) o frágil equilíbrio de terror nuclear.

### 02

“Se o Kim Jong-Um disparar mesmo os foguetes que está ameaçando disparar contra bases americanas na Ásia...”.

No segmento do texto acima, a palavra *mesmo* tem valor de

- (A) dúvida.
- (B) certeza.
- (C) opinião.
- (D) previsão.
- (E) oposição.

### 03

“Mas lendo sobre o perigo iminente...”. A palavra sublinhada tem como parônimo *eminente*, com o qual não pode ser confundido.

Assinale a alternativa em que houve troca indevida entre homônimos ou parônimos.

- (A) A guerra nuclear vai infringir sérios danos à espécie humana. – *infligir*
- (B) Não deve faltar bom senso aos governantes. – *censo*
- (C) Muitos coreanos devem emigrar do país. – *imigrar*
- (D) Um pequeno incidente pode gerar uma catástrofe. – *acidente*
- (E) A ameaça de uma guerra vem ratificar o perigo das armas nucleares. – *retificar*

### 04

“Se o Kim Jong-Um disparar mesmo os foguetes que está ameaçando disparar contra bases americanas na Ásia, teremos uma guerra nuclear com dimensões e consequências imprevisíveis”.

O segmento sublinhado indica

- (A) uma condição para que a oração anterior se realize.
- (B) a causa dos fatos anteriormente apontados.
- (C) uma explicação para os fatos do segmento anterior.
- (D) uma consequência que depende da condição anterior.
- (E) uma conclusão dos fatos aludidos anteriormente.

### 05

Assinale a alternativa em que o valor semântico do conector sublinhado foi corretamente indicado.

- (A) “...um cuidado de atravessar a rua sem serem atropelados pelo imprevisto” – concessão.
- (B) “...ameaçando disparar contra bases americanas na Ásia...” – lugar.
- (C) “...que olhava para os dois lados antes de atravessar a rua...” – modo.
- (D) “...o homem disse que tinha sido atropelado por um motoboy.” – causa.
- (E) “...não sofrera mais que um corte no braço...” – comparação.

### 06

A lembrança do episódio da carrocinha de pipoca em face do perigo iminente de uma guerra nuclear surgiu em função de ocorrer, nos dois episódios,

- (A) uma quebra de expectativa.
- (B) um final trágico.
- (C) uma desvalorização de um fato.
- (D) um exagero de estimativas.
- (E) uma semelhança de personagens.

### 07

“Israel se segura para não usar seus foguetes para destruir as bombas nucleares que o Irã está ou não está construindo, Índia e Paquistão vivem comparando seus respectivos arsenais nucleares como guris comparam seus pipis, a França e a Inglaterra têm a bomba...”.

O referente do pronome destacado no fragmento de texto acima está corretamente identificado, à exceção de um. Assinale-o.

- (A) se / Israel.
- (B) seus / Israel.
- (C) que / foguetes.
- (D) seus / Índia e Paquistão.
- (E) seus / guris.

**08**

*"Era um homem cauteloso, que olhava para os dois lados antes de atravessar a rua e só atravessava no sinal, e que dificilmente um carro pegaria".*

Com relação aos componentes desse segmento do texto, assinale a observação **inadequada**.

- (A) "...que olhava para os dois lados antes de atravessar a rua" – funciona como uma comprovação de que o homem era cauteloso.
- (B) As duas ocorrências do pronome relativo "que" têm por antecedente o substantivo "homem".
- (C) "...dificilmente um carro pegaria" diz respeito à esperteza e agilidade do homem atropelado.
- (D) A forma verbal "pegaria" indica uma hipótese.
- (E) As formas verbais "atravessar" e "atravessava" estão relacionadas ao mesmo sujeito.

**09**

*"Por que me lembrei do homem que tinha vergonha de ter sido atropelado por uma carrocinha de pipoca?"*

No fragmento acima se empregou corretamente a regência do verbo *lembrar*.

Assinale a alternativa que apresenta a frase correta quanto à regência.

- (A) Os governantes esquecem-se dos perigos das guerras.
- (B) Onde foram os tempos tranquilos de outras épocas?
- (C) Alguns países aspiram posições mais importantes no mundo.
- (D) Os governantes não se importam que os critiquem.
- (E) Avisou-se aos governantes dos perigos de um ataque nuclear.

**10**

*"Enfim, ainda se vive num frágil equilíbrio de terror possível, exigindo de todos os nucleares um cuidado extremo".*

A forma de gerúndio – exigindo – equivale sintática e semanticamente a

- (A) por exigir.
- (B) quando exige.
- (C) embora exija.
- (D) para exigir.
- (E) que exige.

## Raciocínio Lógico-quantitativo

**11**

Motocicleta está para roda assim como galinha está para

- (A) bico.
- (B) pedal.
- (C) pata.
- (D) cauda.
- (E) asa.

**12**

Observe a seguinte sequência de letras do alfabeto: C D E G .

Entre as alternativas a seguir, o grupo que mostra uma sequência com a mesma estrutura é

- (A) B D E F .
- (B) M N P Q .
- (C) J K L M .
- (D) R S T V .
- (E) M N O R .

**13**

Um pequeno mercado do interior vende ovos em embalagens de 7 ovos para ficar de acordo com sua propaganda: "Coma um ovo por dia em todos os dias da semana". Certa semana, o dono do mercado comprou 8 dúzias de ovos e fez a transferência deles para as suas embalagens de 7 ovos. No final dessa operação:

- (A) sobrou 1 ovo.
- (B) sobraram 2 ovos.
- (C) sobraram 3 ovos.
- (D) sobraram 4 ovos.
- (E) sobraram 5 ovos.

**14**

Em uma pequena fábrica de bolsas, o gerente percebeu que as encomendas para o mês seguinte estavam maiores do que esperava. Para tentar não atrasar as entregas chamou as costureiras Lucia e Solange e disse, referindo-se ao próximo mês:

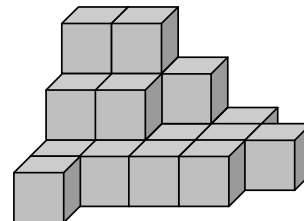
*"Lucia não tira férias ou Solange trabalha em dobro."*

Considerando essa frase verdadeira, também é obrigatoriamente verdadeira a frase:

- (A) Se Lucia não tira férias então Solange trabalha dobrado.
- (B) Se Solange trabalha dobrado então Lucia tira férias.
- (C) Se Lucia tira férias então Solange trabalha dobrado.
- (D) Se Lucia tira férias então Solange não trabalha dobrado.
- (E) Solange não trabalha dobrado e Lucia não tira férias.

**15**

A figura abaixo mostra uma pilha de cubos iguais. Vários desses cubos não estão visíveis, mas sustentam os que estão em cima.



O número total de cubos dessa pilha é:

- (A) 14.
- (B) 17.
- (C) 19.
- (D) 21.
- (E) 22.

**16**

Observe a sequência de números a seguir:

1 2 3 2 3 4 3 4 5 4 5 6 5 6 7 6 7 8...

O 100º número dessa sequência é

- (A) 33.
- (B) 34.
- (C) 35.
- (D) 36.
- (E) 37.

**17**

Em uma reunião de senhoras em um clube, Maria disse: —*"Todas as pessoas casadas são felizes"*.

Em seguida, Lucia retrucou: —*"Isso não é verdade"*.

Considerando que Lucia tem razão, conclui-se logicamente que

- (A) pelo menos uma pessoa casada não é feliz.
- (B) nenhuma pessoa casada é feliz.
- (C) todas as pessoas felizes são casadas.
- (D) todas as pessoas felizes não são casadas.
- (E) uma pessoa ou é casada ou é feliz.

**18**

Sérgio, Paulo e Vitor trabalham em uma oficina de automóveis. Um é electricista, outro é mecânico e outro é lanterneiro.

Sabe-se que:

- Sérgio é mais velho que o electricista.
- Paulo é o mecânico.
- Vitor não é o mais novo.

É correto concluir que

- (A) Vitor é o mais velho dos três.  
 (B) Sérgio é o mais velho dos três.  
 (C) Vitor é o lanterneiro.  
 (D) Paulo é mais velho que Vitor.  
 (E) Sérgio é mais novo que Paulo.

**19**

Três caixas contêm lápis. A primeira contém 18 lápis, a segunda contém 25 lápis e a terceira contém 29 lápis.

O menor número de lápis que devem ser transferidos entre as caixas para que, no final, as três caixas contenham o mesmo número de lápis é:

- (A) 6.  
 (B) 7.  
 (C) 8.  
 (D) 9.  
 (E) 10.

**20**

Hugo brinca com seu pai dizendo mentiras para qualquer coisa que ele pergunte todas as segundas, quartas e sextas feiras e dizendo a verdade nos outros dias da semana. Certo dia ocorreu o seguinte diálogo:

Pai: — *Que dia é hoje?*  
 Hugo: — *Quarta-feira.*  
 Pai: — *Que dia será amanhã?*  
 Hugo: — *Sábado.*

O dia da semana em que esse diálogo ocorreu foi

- (A) domingo.  
 (B) segunda-feira.  
 (C) quarta-feira.  
 (D) quinta-feira.  
 (E) sexta-feira.

## Noções de Informática

**21**

A seta indicada na figura destaca uma conexão padrão, utilizada na integração de dispositivos, como *pendrives*, à configuração de um *notebook*.



Essa conexão é conhecida pela sigla

- (A) PCI.  
 (B) ISA.  
 (C) USB.  
 (D) AGP.  
 (E) IDE.

**22**

A memória RAM tem por finalidade armazenar programas e dados.

Atualmente, para essa memória, o tipo e um valor comum para o tamanho máximo de armazenamento são, respectivamente,

- (A) DDR3 e 4 GBytes  
 (B) PCI-E e 1 MBytes  
 (C) SATA e 512 kBytes  
 (D) PCI-E e 1024 Bytes  
 (E) DDR3 e 3 TBytes

**23**

O tipo de impressora que integra, em um só equipamento, três funções de uso – impressora, *scanner* e copiadora é conhecido como

- (A) *inkjet*.  
 (B) *deskjet*.  
 (C) *laserjet*.  
 (D) *matricial*.  
 (E) *multifuncional*.

**24**

Um funcionário do Tribunal de Justiça do Estado do Amazonas está com a janela do Windows Explorer aberta, operando com sistema Windows 7 BR.

Para mostrar, na tela, a janela de Ajuda e Suporte do Windows, ele deve pressionar a tecla

- (A) F1.  
 (B) F2.  
 (C) F7.  
 (D) F10.  
 (E) F11.

25

No Windows Explorer, um usuário executou os procedimentos listados a seguir.

- I. Excluiu o arquivo "Decreto\_1742.pdf" da pasta "TJ\_AM" no disco local (C:), procedimento que moveu este arquivo para a "Lixeira".
- II. Para recuperar o arquivo que foi enviado para a Lixeira, ele acessou a janela de diálogo correspondente à Lixeira, clicou com o botão direito do *mouse* sobre o arquivo e acionou a opção.
  - (A) Desfazer.
  - (B) Restaurar.
  - (C) Retornar.
  - (D) Salvar.
  - (E) Voltar.

26

Um funcionário salvou um arquivo MS Word no disco rígido de um microcomputador. Por padrão, esse arquivo foi criado em um dos formatos a seguir. Assinale-o.

- (A) WRD ou WRDX.
- (B) PDF ou PDFX.
- (C) TXT ou TXTX.
- (D) DOC ou DOCX.
- (E) WRI ou WRIX.

27





No Word 2010 para Windows, em português, o atalho de teclado T1 é utilizado para copiar um texto selecionado para a área de transferência, enquanto outro, T2, é usado para colar o conteúdo da área de transferência para a posição do texto onde se encontra o cursor do *mouse*.

Os atalhos T1 e T2 são, respectivamente,

- (A) Ctrl + V e Ctrl + Z
- (B) Ctrl + Z e Ctrl + Y
- (C) Ctrl + Y e Ctrl + X
- (D) Ctrl + X e Ctrl + C
- (E) Ctrl + C e Ctrl + V

28

No Word 2010 para Windows, em português, o ícone que deve ser acionado para visualizar a página a ser impressa é:

- (A) 
- (B) 
- (C) 
- (D) 
- (E) 

29

O Word 2010 para Windows, em português, permite a um usuário, ao término da digitação de um texto, realizar a verificação da ortografia e gramática. Para isso, o usuário deve pressionar o ícone a seguir, na guia Revisão da Faixa de Opções.





Como alternativa, o usuário também pode acionar o seguinte atalho de teclado:

- (A) Ctrl + F8
- (B) Ctrl + F7
- (C) Shift + F7
- (D) F7
- (E) F8

30

No Word 2010 para Windows, em português, o acionamento, por

meio do *mouse*, dos ícones  e  tem, respectivamente, por objetivo

- (A) imprimir texto e sublinhar texto.
- (B) aplicar itálico e sublinhar texto.
- (C) imprimir texto e sombrear texto.
- (D) aplicar itálico e salvar texto.
- (E) imprimir texto e salvar texto.

## Conhecimentos Específicos

### Legislação Institucional

31

As alternativas a seguir apresentam órgãos que compõe o Poder Judiciário do Estado do Amazonas, à **exceção de uma**. Assinale-a.

- (A) Juízes de Direito.
- (B) Conselhos de Justiça e Auditoria Militar.
- (C) Tribunal de Justiça.
- (D) Juizado da Infância e da Adolescência.
- (E) Tribunal de Contas.

32

O Corregedor Geral de Justiça, responsável pela fiscalização, disciplina e orientação administrativa em todo território do Estado do Amazonas será, obrigatoriamente,

- (A) um Juiz Substituto.
- (B) um Juiz Titular.
- (C) um Oficial de Justiça.
- (D) um Desembargador.
- (E) um Tabelião.

33

Com relação à Lei n. 1.762/86 – Estatuto dos Funcionários Públicos Cíveis do Estado do Amazonas – as formas de provimento dos cargos públicos estão listadas a seguir, à **exceção de uma**. Assinale-a.

- (A) Nomeação.
- (B) Reversão.
- (C) Acesso.
- (D) Promoção.
- (E) Qualificação.

**34**

Segundo o Estatuto dos Funcionários Públicos Civis do Estado do Amazonas, assinale a alternativa que apresenta uma hipótese de vacância de cargo público.

- (A) Aposentadoria.
- (B) Licença.
- (C) Gravidez.
- (D) Férias.
- (E) Reintegração.

**35**

Leia o texto a seguir.

*Para assegurar o cumprimento e a execução dos seus atos e decisões, poderão os \_\_\_\_\_ judiciários requisitar o auxílio da \_\_\_\_\_, devendo a autoridade a quem for dirigido o pedido prestá-lo, sob pena de responder por crime de \_\_\_\_\_.*

Assinale a alternativa que completa as lacunas do texto acima.

- (A) órgãos – força pública – desobediência.
- (B) tribunais – força privada – desobediência.
- (C) conselhos – força militar – prevaricação.
- (D) órgãos – força militar – insubordinação.
- (E) conselhos – força tarefa – insubordinação.

**36**

Com base no Estatuto dos Servidores Públicos Civis do Estado do Amazonas, assinale a alternativa que indica um tipo de licença que pode ser concedido ao servidor.

- (A) Licença para tratamento de saúde.
- (B) Licença para visitação de filhos.
- (C) Licença para viagem a negócios.
- (D) Licença para competição esportiva.
- (E) Licença para viagem de férias.

## Noções de Direito Constitucional

**37**

Em relação aos meios de proteção aos direitos individuais, em caso de prisão ilegal de um indivíduo, o instrumento legal adequado para defendê-lo é

- (A) o Mandado de Segurança.
- (B) o *Habeas Data*.
- (C) o Recurso Ordinário Constitucional.
- (D) a Ação Popular.
- (E) o *Habeas Corpus*.

**38**

A Constituição da República Federativa do Brasil estabelece o Ministério Público, a Advocacia Pública, a Advocacia e a Defensoria Pública, como funções essenciais à Justiça.

Em relação ao Ministério Público, a Constituição reconhece, explicitamente, como seus princípios institucionais

- (A) a indivisibilidade, a soberania e a imparcialidade.
- (B) a unidade, a imparcialidade e o sigilo de suas deliberações e decisões.
- (C) a unidade, a indivisibilidade e a independência funcional.
- (D) a independência funcional, a imparcialidade e a unidade.
- (E) a soberania, a imparcialidade e a unidade.

**39**

Em relação à nacionalidade, a Constituição da República Federativa do Brasil reconhece a existência de brasileiros natos e naturalizados, vedando a lei distinção entre eles. A própria Constituição dispõe que determinados cargos somente poderão ser ocupados por brasileiros natos.

Com base na Constituição/88, assinale a alternativa que indica o cargo que pode ser ocupado por brasileiro naturalizado.

- (A) Presidente da República.
- (B) Presidente do Senado Federal.
- (C) Presidente da Câmara dos Deputados.
- (D) Governador de Estado.
- (E) Oficial das Forças Armadas.

**40**

A Justiça Eleitoral, como parte integrante do Poder Judiciário, é composta por diversos órgãos.

As alternativas a seguir relacionam órgãos que compõem a Justiça Eleitoral, à exceção de uma. Assinale-a.

- (A) Juízes Eleitorais.
- (B) Colégios Eleitorais.
- (C) Juntas Eleitorais.
- (D) Tribunais Regionais Eleitorais.
- (E) Tribunal Superior Eleitoral.

**41**

O Brasil, em suas relações internacionais, deve observar alguns princípios dispostos na Constituição da República, conforme as alternativas a seguir, à exceção de uma. Assinale-a.

- (A) A independência nacional.
- (B) A defesa da paz e a solução pacífica dos conflitos.
- (C) A supremacia do interesse público sobre o interesse privado.
- (D) O repúdio ao terrorismo e ao racismo.
- (E) A prevalência dos direitos humanos.

**42**

O distrito “X” pretende se desmembrar do município “Y”. Para isso, após a divulgação dos estudos de viabilidade municipal, apresentados e publicados na forma da lei, dependerá de

- (A) consulta prévia, mediante plebiscito, à população do município.
- (B) eleições diretas, com participação pluripartidária.
- (C) autorização do governador, por meio de decreto-lei.
- (D) decisão judicial, por meio de ação popular.
- (E) parecer do Tribunal de Contas, por meio de audiência pública.

## Noções de Direito Administrativo

**43**

Assinale a alternativa que contém apenas elementos ou requisitos do ato administrativo.

- (A) Sujeito, objeto, forma e coercibilidade.
- (B) Sujeito, objeto, forma e finalidade.
- (C) Motivo, tipicidade, presunção de legalidade e imperatividade.
- (D) Motivo, imperatividade, coercibilidade e tipicidade.
- (E) Objeto, tipicidade, coercibilidade e imperatividade.

**44**

A Administração Pública direta e indireta de qualquer dos poderes da União obedecerá aos princípios relacionados a seguir, **à exceção de um**. Assinale-o.

- (A) Publicidade.
- (B) Eficiência.
- (C) Moralidade.
- (D) Arbitrariedade.
- (E) Impessoalidade.

**45**

Um tópico importante no Direito Administrativo é o relativo à *necessidade da Administração Pública ser controlada*.

Tendo em vista essa necessidade, assinale a alternativa que indica a forma como esse controle é exercido.

- (A) A Administração Pública sofre controle interno exercido exclusivamente pelo Poder Legislativo.
- (B) A Administração Pública em razão da separação de poderes não pode sofrer controle judicial.
- (C) O Poder Executivo exercerá controle externo da Administração Pública com auxílio do Tribunal de Contas.
- (D) O controle externo da Administração Pública segundo disposição constitucional será exercido pelo Poder Judiciário com auxílio do Tribunal de Contas.
- (E) O controle externo da Administração Pública será exercido pelo Poder Legislativo com auxílio do Tribunal de Contas.

**46**

Na sociedade atual, certos serviços tornaram-se imprescindíveis para o bem estar coletivo, tais como o fornecimento de água, luz, coleta de lixo e outros. Esses serviços essenciais são denominados serviços públicos.

Em relação à prestação dos serviços públicos, analise as afirmativas a seguir.

- I. Os serviços públicos podem ser prestados pela Administração Pública ou por particulares, por meio de concessão.
- II. Os serviços públicos apenas podem ser prestados pela Administração Pública.
- III. Os serviços públicos são prestados somente por particulares mediante delegação do Poder Público.

Assinale:

- (A) se somente a afirmativa I estiver correta.
- (B) se somente a afirmativa II estiver correta.
- (C) se somente a afirmativa III estiver correta.
- (D) se somente as afirmativas I e II estiverem corretas.
- (E) se somente as afirmativas I e III estiverem corretas.

**47**

Sobre a *responsabilidade civil do Estado*, assinale a afirmativa correta.

- (A) A responsabilidade da administração apenas será constatada nos casos em que restar provado o dolo ou a culpa do agente.
- (B) O agente público deverá ressarcir a administração pública ainda que sua ação tenha sido efetivada sem dolo ou culpa.
- (C) A administração será responsável pelas ações de seus agentes quando atuarem nessa qualidade independentemente da comprovação de dolo ou culpa.
- (D) No caso de responsabilização de concessionárias de serviço público a culpa ou dolo do agente é fundamental para a responsabilização da pessoa jurídica.
- (E) A administração em regra responde pelas ações de seus agentes mesmo nos casos de culpa exclusiva da vítima.

**48**

Com relação à *administração direta*, realizada segundo os níveis que compõem a nossa forma de Estado, analise as afirmativas a seguir.

- I. Na esfera municipal é realizada pela prefeitura e seus eventuais órgãos de assessoria e pelas secretarias municipais
- II. Na esfera estadual é realizada pela governadoria e seus órgãos de assessoria e pelas secretarias estaduais
- III. Na esfera federal é realizada pela Presidência da República e seus órgãos de assessoramento imediato ou de consulta e pelos ministérios.

Assinale:

- (A) se somente a afirmativa I estiver correta.
- (B) se somente a afirmativa II estiver correta.
- (C) se somente a afirmativa III estiver correta.
- (D) se somente as afirmativas I e III estiverem corretas.
- (E) se todas as afirmativas estiverem corretas.

**49**

Leia o texto a seguir.

*Os elementos básicos do controle administrativo são a \_\_\_\_\_, que verifica as atividades dos órgãos e agentes administrativos e a \_\_\_\_\_, que corrige as condutas que não cumpriram as normas legais ou que tenham que ser alteradas para melhor atender ao interesse \_\_\_\_\_.*

Assinale a alternativa que completa corretamente as lacunas do texto acima.

- (A) gestão – anulação – individual
- (B) fiscalização – revisão – coletivo
- (C) gerência – legalidade – privado
- (D) vinculação – anulação – coletivo
- (E) fiscalização – legalidade – privado

**50**

Os serviços públicos podem, por sua natureza ou pelo fato de assim dispor o ordenamento jurídico, podem ser executados pelo Estado ou por particulares colaboradores.

As alternativas a seguir, apresentam serviços públicos que podem ser delegados, **à exceção de uma**. Assinale-a.

- (A) Serviço de transporte coletivo
- (B) Serviço de fornecimento de energia elétrica
- (C) Sistema de telefonia
- (D) Serviço de defesa nacional
- (E) Serviços financeiros

Realização

