

PROVA OBJETIVA E REDAÇÃO – MANHÃ

TÉCNICO ADMINISTRATIVO

NÍVEL MÉDIO TIPO 1 – BRANCA



SUA PROVA

- Além deste caderno contendo **70 (setenta)** questões objetivas e **1 (uma)** redação, você receberá do fiscal de prova o cartão de respostas e a folha de textos definitivos.
- As questões objetivas têm **5 (cinco)** opções de resposta (A, B, C, D e E) e somente uma delas está correta.
- A redação deverá ser redigida em, no mínimo **20 (vinte)** e, no máximo, **30 (trinta)** linhas.



TEMPO

- Você dispõe de **4 (quatro) horas e 30 (trinta) minutos** para a realização da prova, já incluído o tempo para a marcação do cartão de respostas e da folha de textos definitivos.
- **2 (duas) horas e 30 (trinta) minutos** após o início da prova, é possível retirar-se da sala, sem levar o caderno de questões.
- A partir dos **30 (trinta) minutos** anteriores ao término da prova é possível retirar-se da sala **levando o caderno de questões**.



NÃO SERÁ PERMITIDO

- Qualquer tipo de comunicação entre os candidatos durante a aplicação da prova.
- Anotar informações relativas às respostas em qualquer outro meio que não seja o caderno de questões.
- Levantar da cadeira sem autorização.
- Usar o sanitário ao término da prova, após deixar a sala.



INFORMAÇÕES GERAIS

- Verifique se seu caderno de questões está completo, sem repetição de questões ou falhas. Caso contrário, **notifique imediatamente o fiscal da sala**, para que sejam tomadas as devidas providências.
- Confira seus dados pessoais, especialmente nome, número de inscrição e documento de identidade e leia atentamente as instruções para preencher o cartão de respostas e a folha de textos definitivos.
- Para o preenchimento do cartão de respostas e da folha de textos definitivos, use somente caneta esferográfica, fabricada em material transparente, com tinta preta ou azul.
- Assine seu nome apenas no(s) espaço(s) reservado(s) no cartão de respostas e na folha de textos definitivos.
- Confira seu cargo, cor e tipo do caderno de questões. Caso tenha recebido caderno de cargo ou cor ou tipo **diferente** do impresso em seu cartão de respostas e em sua folha de textos definitivos, o fiscal deve ser **obrigatoriamente** informado para o devido registro na ata da sala.
- Reserve tempo suficiente para o preenchimento do seu cartão de respostas e da sua folha de textos definitivos. O preenchimento é de sua responsabilidade e **não será permitida a troca do cartão de respostas em caso de erro cometido pelo candidato**.
- Para fins de avaliação, serão levadas em consideração apenas as marcações realizadas no cartão de respostas e na folha de textos definitivos.
- A FGV coletará as impressões digitais dos candidatos na lista de presença.
- Os candidatos serão submetidos ao sistema de detecção de metais quando do ingresso e da saída de sanitários durante a realização das provas.
- **Boa sorte!**

MÓDULO I

Língua Portuguesa

1

Observe a charge a seguir:



O tema tratado na charge é

- (A) a adequação da mensagem ao leitor.
- (B) a utilização de um vocabulário simples nas mensagens.
- (C) a falta de informação entre os jovens.
- (D) o desentendimento entre as gerações.
- (E) o desinteresse pela política.

2

Assinale a frase que mostra uma visão positiva do ser humano.

- (A) Conhecer a fundo, e tal como é, um ser humano, e amá-lo, é impossível.
- (B) Os homens em geral ganham muito por não serem perfeitamente conhecidos.
- (C) Muitos são os prodígios; entretanto, nada é mais prodigioso do que o homem.
- (D) Mas homens são homens e o melhor deles esquece-se às vezes de que é humano.
- (E) Os homens deveriam ser aquilo que parecem.

3

Assinale a frase que apresenta tom humorístico.

- (A) Louvemos a máquina que possui inteligência humana e choremos os homens que se automatizam.
- (B) Se queres ser são, lava frequentemente as mãos.
- (C) As legendas dos mapas são tão belas que quase dispensam as viagens.
- (D) A máquina de escrever é um aparelho que melhora sensivelmente a nossa caligrafia.
- (E) Na época do carnaval, o homem põe sobre sua máscara um rosto de papelão.

4

Observe o fragmento a seguir.

Se somente se permitisse o matrimônio aos que são moralmente capazes de contrai-lo, quase toda a humanidade seria família ilegítima.

Deduz-se do fragmento acima que

- (A) para que um homem se case, é exigido que ele seja moralmente incapaz.
- (B) só se casam os homens moralmente capazes.
- (C) a maioria dos homens que se casam não são moralmente capazes de fazê-lo.
- (D) quase toda a humanidade não respeita o casamento.
- (E) só os moralmente incapazes são capazes de casar-se.

5

Quando se nasce atum, há mais dignidade em morrer debaixo d'água do que debaixo do azeite.

Nessa frase, se substituirmos a oração reduzida sublinhada por uma oração desenvolvida de mesmo sentido, a forma adequada será

- (A) em que se morra debaixo d'água.
- (B) em morrermos debaixo d'água.
- (C) na morte debaixo d'água.
- (D) em que se morresse debaixo d'água.
- (E) em que morrêssemos debaixo d'água.

6

Assinale a frase em que houve troca **indevida** entre mal/mau.

- (A) O mal nunca desapareceu da face da Terra.
- (B) O mau-agrado nunca reaparece.
- (C) Um mau sujeito não serve como companhia.
- (D) Trabalhar mal é problema do mau operário.
- (E) O juiz foi acusado de escrever mal.

7

Observe o seguinte texto argumentativo:

O papel principal da acupuntura, segundo nossa associação, é a de regularizar as diferentes energias do corpo humano. Isso pode ser comparado ao sistema de canalização de águas num rio. Logo que há um excesso de água num dado local do rio, deve-se abrir as válvulas de certas barragens, a fim de fazer descer o nível de água a um limite aceitável.

A respeito desse texto, assinale a afirmativa **inadequada**.

- (A) O tema do texto é o controle dos níveis de água nos rios.
- (B) O argumentador é representante de um grupo.
- (C) O público-alvo é um leitor interessado em acupuntura.
- (D) A finalidade do texto é mostrar o papel da acupuntura.
- (E) O argumento básico do texto é do tipo comparativo.

8

Assinale a frase que apresenta intertextualidade com uma outra frase muito conhecida.

- (A) Não apreciamos bem nos outros senão as qualidades que julgamos possuir.
- (B) O que mais besteiras ouve no mundo é, talvez, um quadro de museu.
- (C) Um quadro só vive graças àquele que o olha.
- (D) Tudo é puro para os que são puros.
- (E) Parece um projeto adequado, mas nem tudo que reluz é ouro.

9

Assinale a frase integralmente construída com linguagem formal (não popular).

- (A) A gente não sabe o que está por vir.
- (B) Torna-se difícil para mim fazer isso hoje.
- (C) A raça humana não suporta muita realidade.
- (D) Me deram preocupações demais ao nascerem.
- (E) Tem muitos anos que não viajo para a Europa.

10

Assinale a palavra que mostra erro de grafia.

- (A) analisar.
- (B) excesso.
- (C) exceção.
- (D) gaz.
- (E) querosene.

Raciocínio Lógico-matemático

11

Em novembro de 2024, o preço médio da gasolina nos Estados Unidos era de 3,04 dólares por galão. Considere que um galão seja equivalente a 3,8 litros e que, nessa época, o dólar estivesse cotado a 5,70 reais.

Nessa época, o preço médio em reais de 1 litro de gasolina nos Estados Unidos era de

- (A) 4,35.
- (B) 4,56.
- (C) 4,68.
- (D) 4,76.
- (E) 4,90.

12

No plano cartesiano considere os pontos: $A(3,2)$, $B(0,1)$ e $C(4,y)$, com $y > 0$. Os pontos B e C são equidistantes de A .

O valor de y é

- (A) 5.
- (B) 6.
- (C) 7.
- (D) 8.
- (E) 9.

13

A negação da afirmativa “tomei remédio e a dor não passou” é

- (A) não tomei remédio e a dor não passou.
- (B) tomei remédio e a dor passou.
- (C) não tomei remédio e a dor passou.
- (D) não tomei remédio ou a dor passou.
- (E) se a dor passou então tomei remédio.

14

Uma loja aumentou o preço de um casaco em 45%.

Para que o preço do casaco volte ao valor inicial, a loja deve dar um desconto de

- (A) 48%.
- (B) 45%.
- (C) 39%.
- (D) 35%.
- (E) 31%.

15

Os meninos Bruno e Luís, e as meninas Olívia e Ana formam uma fila na seguinte ordem: Bruno, Olívia, Luís, Ana.

Uma nova fila deverá ser formada de forma que nenhum dos dois meninos ocupe o lugar em que estava antes.

O número de novas filas possíveis é

- (A) 10.
- (B) 12.
- (C) 14.
- (D) 16.
- (E) 18.

16

Uma grandeza Y é diretamente proporcional a uma grandeza X e inversamente proporcional ao quadrado de uma grandeza Z . As três grandezas só assumem valores positivos.

Sabe-se que quando $X = 3$ e $Z = 2$, tem-se $Y = 0,9$.

Assim, quando $Y = 2$ e $X = 15$, o valor de Z é

- (A) 2.
- (B) 3.
- (C) 6.
- (D) 9.
- (E) 12.

17

Em um grupo de 30 jogadores de futebol, 16 sabem chutar com a perna esquerda e 20 sabem chutar com a perna direita. Alguns sabem chutar tanto com a perna esquerda como com a perna direita.

O número de jogadores desse grupo que só sabem chutar com uma das pernas é igual a

- (A) 28.
- (B) 26.
- (C) 24.
- (D) 20.
- (E) 18.

18

Em um triângulo retângulo, a altura e a mediana relativas à hipotenusa medem, respectivamente, 4 cm e 5 cm.

A área desse triângulo, em centímetros quadrados, é igual a

- (A) 10.
- (B) $10\sqrt{2}$.
- (C) 20.
- (D) $20\sqrt{2}$.
- (E) 40.

19

Para escapar do rebaixamento em um campeonato de futebol, o time F precisa ganhar pelo menos um dos dois jogos restantes do campeonato.

Baseado no histórico desse time no campeonato, estima-se que a probabilidade de ele ganhar um jogo, dado que ele ganhou o jogo anterior, é de 50%, e que a probabilidade de ele ganhar um jogo, dado que ele não ganhou o jogo anterior, é de 30%.

Sabendo que o time F vem de uma derrota, a probabilidade de que ele não seja rebaixado é estimada em

- (A) 51%.
- (B) 50%.
- (C) 49%.
- (D) 45%.
- (E) 40%.

20

Duas urnas A e B têm 10 bolas cada uma. Na urna A, há 7 bolas brancas e 3 azuis e na urna B há 5 bolas brancas e 5 azuis.

Todas as bolas da urna A são passadas para a urna B e, a seguir, sem ver a cor, 10 bolas são passadas da urna B para a urna A.

Nesse caso, é correto concluir que agora

- (A) há mais bolas brancas do que azuis na urna A.
- (B) há mais bolas brancas do que azuis na urna B.
- (C) há, no máximo, cinco bolas azuis na urna A.
- (D) há, no mínimo, duas bolas brancas na urna A.
- (E) não há bolas azuis na urna A.

Legislação Específica

21

No segundo ano de determinada legislatura, no dia 10 de fevereiro, o líder do Partido Político Alfa, com representação na Assembleia Legislativa do Estado de Roraima (ALRR), identificou a existência de uma situação de interesse público relevante, que deveria ser objeto de deliberação por essa estrutura orgânica.

O referido líder, após analisar a Constituição do Estado de Rondônia, concluiu corretamente que

- (A) qualquer membro da ALRR pode realizar a sua convocação extraordinária para que delibere sobre a referida situação.
- (B) como a ALRR está no seu período de reunião ordinária, cabe ao Presidente da Casa Legislativa decidir se deve, ou não, inserir a matéria em pauta.
- (C) por se tratar de período de recesso legislativo, a convocação extraordinária da ALRR, na forma regimental, somente será possível em situação de urgência.
- (D) caso seja convocada a sessão legislativa extraordinária para a apreciação da referida situação, a ALRR não poderá deliberar sobre matéria estranha ao objeto da convocação.
- (E) a ALRR pode ser convocada em caráter extraordinário, pelo governador do estado, pelo presidente da Casa ou a requerimento da maioria de seus membros, sendo a pauta definida no limiar da primeira sessão.

22

Foi constatado que determinado agente público do Município Alfa não apresentou, no prazo estabelecido pela ordem jurídica, as contas anuais a que estava obrigado. Essa omissão foi detectada pelo Tribunal de Contas do Estado de Roraima (TCE-RR).

Em situações dessa natureza, à luz da Lei Orgânica do TCE-RR, é correto afirmar que

- (A) quer se trate de contas anuais de governo, quer de gestão, o TCE-RR deve instaurar Tomada de Contas Especial.
- (B) quer se trate de contas anuais de governo, quer de gestão, o TCE-RR deve comunicar à Mesa Diretora da Câmara Municipal de Alfa para que adote as providências necessárias.
- (C) quer se trate de contas anuais de governo, quer de gestão, o TCE-RR deve solicitar autorização à Mesa Diretora da Câmara Municipal de Alfa para a instauração de Tomada de Contas Especial.
- (D) no caso de contas anuais de governo, o TCE-RR deve instaurar Tomada de Contas Especial, e, no caso de contas anuais de gestão, deve comunicar à Mesa Diretora da Câmara Municipal de Alfa para que adote as providências necessárias.
- (E) no caso de contas anuais de gestão, o TCE-RR deve instaurar Tomada de Contas Especial, e, no caso de contas anuais de governo, deve comunicar à Mesa Diretora da Câmara Municipal de Alfa para que adote as providências necessárias.

23

Determinado conselheiro, integrante de uma das câmaras do Tribunal de Contas do Estado de Roraima, foi acometido por certa patologia, o que o impedirá de exercer suas funções durante dado lapso temporal em razão da fruição de licença.

À luz da sistemática estabelecida no Regimento Interno do Tribunal de Contas do Estado de Roraima, é correto afirmar que

- (A) os processos sob relatoria do conselheiro terão a sua tramitação suspensa até a cessação da licença, momento em que reassumirá o exercício de suas funções.
- (B) como o Tribunal não possui conselheiros substitutos, as funções do conselheiro em fruição de licença devem ser acumuladas por um dos demais conselheiros que integram a câmara.
- (C) em razão da fruição de licença, o conselheiro será substituído por conselheiro substituto, que atua em caráter permanente junto à câmara para a qual foi designado pelo Presidente do Tribunal.
- (D) apesar de o conselheiro ser amparado pela garantia da inamovibilidade, o que assegura a sua atuação em caráter permanente perante a câmara, salvo se solicitar a sua remoção, pode ser substituído por conselheiro substituto.
- (E) como cada câmara possui conselheiros e um conselheiro substituto, que atuam na respectiva estrutura orgânica em caráter permanente, como deliberado pelo Pleno, as funções do conselheiro licenciado serão assumidas pelo substituto.

24

Ao fim de determinado exercício financeiro, os órgãos competentes (1) do Tribunal de Contas, (2) do Tribunal de Justiça, (3) do Ministério Público e (4) da Defensoria Pública do Estado de Roraima elaboraram as contas anuais a serem julgadas pelo órgão com atribuição.

Na sistemática estabelecida na Constituição do Estado de Roraima, é correto afirmar que o órgão com atribuição para o referido julgamento é

- (A) o Tribunal de Contas, apenas em relação às contas da estrutura referida em 1.
- (B) a Assembleia Legislativa, apenas em relação às contas da estrutura referida em 1.
- (C) a Assembleia Legislativa, em relação às contas das estruturas referidas em 1, 2, 3 e 4.
- (D) o Tribunal de Contas, em relação às contas das estruturas referidas em 1, 2, 3 e 4.
- (E) o Poder Judiciário, apenas em relação às contas das estruturas referidas em 2, 3 e 4.

25

João, servidor ocupante de cargo de provimento efetivo no âmbito da administração pública direta do Estado de Roraima, atuou como ordenador de despesa na estrutura orgânica em que se encontra lotado. Em razão de verificação realizada pelo controle interno da referida estrutura, tomou conhecimento de que foram constatadas irregularidades na aplicação de recursos públicos e que poderia receber uma multa.

De acordo com a sistemática instituída pela Lei Orgânica do Tribunal de Contas do Estado de Roraima (TCE-RR), é correto afirmar que a referida multa

- (A) pode ser aplicada por autoridade administrativa, com recurso para o TCE-RR.
- (B) somente pode ser aplicada por autoridade administrativa, e a decisão é irrecorrível.
- (C) pode ser aplicada por autoridade administrativa ou pelo TCE-RR, e a decisão é irrecorrível.
- (D) somente pode ser aplicada pelo TCE-RR, e a decisão pode ser objeto de impugnação perante o Poder Judiciário.
- (E) pode ser aplicada por autoridade administrativa ou pelo TCE-RR, e a decisão somente pode ser objeto de impugnação perante o Poder Judiciário.

26

No âmbito do Tribunal de Contas do Estado de Roraima, determinado servidor foi incumbido de encaminhar certo expediente ao órgão competente para julgar as contas que foram apresentadas em razão da aplicação de recursos estaduais transferidos ao Município Alfa.

O órgão para o qual o expediente será encaminhado é

- (A) o pleno.
- (B) a auditoria.
- (C) uma câmara.
- (D) uma comissão.
- (E) uma comissão permanente.

27

Após ampla mobilização popular, um grupo de cidadãos, representando 5% dos eleitores do Estado de Roraima, apresentou proposta de emenda à Constituição Estadual (PEC). Essa proposta veio a ser rejeitada no ano X, sendo a mesma matéria objeto de nova proposta no ano seguinte, dentro da mesma legislatura. Essa segunda proposta foi aprovada pela Assembleia Legislativa em dois turnos de votação, pelo voto favorável de dois terços dos membros dessa Casa Legislativa. Por fim, a emenda à Constituição do Estado de Roraima foi promulgada pela Mesa da Assembleia Legislativa.

À luz da sistemática vigente, é correto afirmar que a narrativa

- (A) não apresenta qualquer incorreção.
- (B) somente apresenta incorreção em relação à iniciativa da PEC.
- (C) somente apresenta incorreção em relação ao quórum de aprovação da PEC.
- (D) somente apresenta incorreção em relação à autoridade que promulgou a emenda.
- (E) somente apresenta incorreção em relação à apresentação da segunda PEC na mesma legislatura.

28

Foi objeto de comunicação formal ao Tribunal de Contas do Estado de Roraima (TCE-RR) a possível aplicação irregular de recursos tributários arrecadados pela União e entregues ao Estado de Roraima nos termos dos incisos I e II do Art. 159 da Constituição da República.

Ao analisar, em caráter preliminar, se o TCE-RR tinha, ou não, jurisdição sobre os responsáveis pela aplicação dos referidos recursos, o conselheiro concluiu corretamente que

- (A) por serem recursos do Estado de Roraima, a jurisdição é do TCE-RR.
- (B) por serem recursos da União, a jurisdição é do Tribunal de Contas da União, sendo indelegável.
- (C) há concorrência de competências entre o Tribunal de Contas da União e o TCE-RR, de modo que ambos possuem jurisdição no caso.
- (D) por serem recursos da União, a jurisdição é do Tribunal de Contas da União, que pode ser delegada ao TCE-RR mediante acordo de cooperação técnica.
- (E) por serem recursos da União, a jurisdição é do Tribunal de Contas da União, que pode ser exercida pelo TCE-RR nos termos da lei complementar federal.

29

No curso de processo administrativo de prestação de contas, que se encontra em tramitação no âmbito do Pleno do Tribunal de Contas do Estado (TCE) de Roraima, o Ministério Público de Contas (MPC) suscitou a inconstitucionalidade da Lei nº X, do Município Sigma, indicada pelo ordenador de despesas como alicerce legal de algumas despesas que realizou.

Considerando os balizamentos estabelecidos pelo Regimento Interno do Tribunal de Contas do Estado de Roraima, é correto afirmar que

- (A) caso o TCE acolha o incidente, o MPC poderá ajuizar ação direta de inconstitucionalidade perante o Tribunal competente.
- (B) como a inconstitucionalidade da Lei nº X foi suscitada pelo MPC, deve ser sustada a tramitação do processo administrativo até a sua apreciação.
- (C) o incidente de inconstitucionalidade deve ser encaminhado ao Poder Judiciário, sustando-se a tramitação do processo administrativo até a sua apreciação.
- (D) caso o TCE acolha o incidente de inconstitucionalidade, a Lei nº X será considerada inválida, com efeitos vinculantes para todos, o que deve ser comunicado à Câmara Municipal de Sigma.
- (E) caso o TCE negue cumprimento à Lei nº X, por ser inconstitucional, essa decisão constitui norma definitiva, mas não prevalece em relação ao posterior julgamento de mérito de ação direta de inconstitucionalidade.

30

O Governador do Estado de Roraima solicitou a sua assessoria que analisasse a possibilidade de ser formulada consulta, ao Tribunal de Contas do Estado (TCE), bem como os aspectos que lhe são correlatos, em relação à interpretação a ser dada a determinado preceito da Lei de Responsabilidade Fiscal, considerando os demonstrativos fiscais a serem publicados com observância da periodicidade legal.

A assessoria respondeu corretamente que

- (A) a consulta pode ser respondida, desde que contextualizada em um caso concreto.
- (B) o TCE não é órgão de consulta, cabendo-lhe julgar as situações concretas submetidas à sua apreciação.
- (C) a resposta à consulta, que preencha os requisitos exigidos e seja conhecida pelo TCE, terá a forma de recomendação.
- (D) caso verse sobre matéria objeto de auditoria em curso no âmbito do Poder Executivo estadual, a consulta será sobrestada.
- (E) como o Chefe do Poder Executivo não tem capacidade postulatória, a consulta deve ser formulada por intermédio do Procurador-Geral do Estado.

MÓDULO II – CONHECIMENTOS ESPECÍFICOS

31

O trecho *Exercer o controle externo da gestão pública roraimense, orientando-a e fiscalizando-a, em benefício da sociedade*, extraído do site oficial do Tribunal de Contas de Roraima (TCE-RR), representa o importante elemento do referencial estratégico conhecido como

- (A) missão.
- (B) visão.
- (C) valores.
- (D) código de ética.
- (E) doutrina.

32

Com relação aos níveis de planejamento, avalie se as assertivas a seguir fazem parte das características do planejamento de nível estratégico.

- I. É realizado com foco em um horizonte temporal de longo prazo.
- II. Estabelece orientações detalhadas e analíticas para as unidades de negócios.
- III. É direcionado para as atividades operacionais e rotineiras da organização.

Está correto o que se afirma em

- (A) I, apenas.
- (B) II, apenas.
- (C) I e II, apenas.
- (D) II e III, apenas.
- (E) I, II e III.

33

Os estudos sobre estruturas organizacionais buscam compreender como diferentes arranjos se adaptam de maneira mais eficaz dependendo do negócio e do ambiente. Tais estudos introduziram os conceitos de organizações mecanicistas e orgânicas.

Com relação a essas estruturas, é correto afirmar que

- (A) a estrutura mecanicista é pautada por ideais da *Adhocracia*, enquanto a orgânica se baseia na burocracia.
- (B) a estrutura mecanicista apresenta predominância de um modelo hierárquico vertical, enquanto na estrutura orgânica prevalece um modelo horizontal.
- (C) a estrutura mecanicista se mostra mais adequada a um contexto ambiental dinâmico e instável, enquanto a estrutura orgânica é mais apropriada para ambientes estáveis e previsíveis.
- (D) a estrutura mecanicista fundamenta-se na delegação das decisões aos níveis inferiores, enquanto a estrutura orgânica utiliza decisões centralizadas, tomadas pela alta cúpula.
- (E) a estrutura mecanicista é orientada pelos princípios da Teoria das Relações Humanas, enquanto a estrutura orgânica se baseia nos princípios da Teoria Clássica.

34

Os sistemas de arquivamento são métodos utilizados para organizar, armazenar e facilitar a localização de documentos, garantindo eficiência no acesso às informações. Eles podem ser classificados em diferentes tipos, de acordo com a forma como os documentos são organizados e recuperados.

Com relação aos diferentes sistemas de arquivamento de documentos, o que se pauta na ideia de que a localização do documento deve ser feita por meio de um índice ou código é conhecido por

- (A) indireto.
- (B) direto.
- (C) alfabético.
- (D) geográfico.
- (E) vertical.

35

No contexto organizacional, há diversos tipos de comunicação. Uma delas, de caráter informal e não controlada pela direção da empresa, é considerada confiável e fidedigna pela maioria dos funcionários.

Esse tipo de rede de comunicação é denominada

- (A) cacho de uvas.
- (B) *top-down*.
- (C) mercadológica.
- (D) de rumores.
- (E) de tipo “Y”.

36

Ao perceber a queda de desempenho de sua equipe, o gestor de um órgão identificou que as constantes distrações, causadas principalmente pelo uso excessivo de celulares, redes sociais e notificações frequentes, são o principal motivo do problema.

Diante desse cenário, ele decide implementar uma metodologia de gerenciamento de tempo e produtividade que permite esvaziar a mente, organizar tarefas e prioridades e executar ações de forma estruturada.

Assinale a opção que apresenta o nome dessa metodologia.

- (A) Método GTD.
- (B) Método PERT.
- (C) Gráfico de dispersão.
- (D) Ciclo PDCA.
- (E) Método Einsenhower.

37

Uma fabricante de roupas, surgida durante a pandemia com o objetivo de empregar costureiras independentes, decide assumir maior controle de sua cadeia produtiva ao abrir lojas próprias, visando oferecer aos clientes um serviço mais customizado.

Concernentes com os conceitos de logística, a situação apresentada no enunciado representa um exemplo de

- (A) logística reversa.
- (B) integração vertical.
- (C) integração horizontal.
- (D) layoutização estacionária.
- (E) kanban.

38

A utilização dos *pallets* nos processos logísticos de carga, descarga e armazenamento pode trazer como consequência

- (A) a eliminação da necessidade de estoques de matéria-prima.
- (B) uma menor densidade de carga no armazenamento.
- (C) um aumento da necessidade de mão de obra operacional.
- (D) a prevenção de furtos e obsolescência de materiais.
- (E) a otimização na utilização de espaços verticais.

39

A contratação de bens, serviços ou obras pela Administração Pública deve ser realizada de forma a garantir a transparência, a competitividade e o uso adequado dos recursos públicos. Para assegurar esses princípios, foram criadas normas específicas, como a Nova Lei de Licitações (Lei nº 14.133/2021).

De acordo com o disposto nessa lei, é prevista como modalidade para a aquisição de bens e serviços comuns, sempre que o objeto possuir padrões de desempenho e qualidade que possam ser objetivamente definidos pelo edital, por meio de especificações usuais de mercado, aquela conhecida como

- (A) diálogo competitivo.
- (B) concorrência.
- (C) tomada de preços.
- (D) leilão.
- (E) pregão.

40

Uma das principais dificuldades para se realizar uma avaliação de desempenho eficaz está relacionada aos vieses dos avaliadores, que podem gerar erros na análise e no julgamento dos avaliados.

Em relação a esses erros, assinale a afirmativa correta.

- (A) O efeito halo ocorre quando o avaliador generaliza a avaliação com base em uma característica específica do avaliado.
- (B) O erro de recência ocorre quando o avaliador adota uma tendência de extremo rigor, resultando em notas baixas para todos os avaliados.
- (C) O erro de projeção ocorre quando o avaliador, de forma deliberada, distorce informações da avaliação, com o intuito de prejudicar o avaliado.
- (D) O efeito *horn* ocorre quando o avaliador avalia melhor os indivíduos que possuem maior proximidade relacional com ele.
- (E) O desvio por unilateralidade ocorre quando o avaliador utiliza sempre valores medianos na avaliação, evitando se comprometer com os resultados.

41

A missão institucional da Administração Pública estabelece direitos e deveres para os servidores, garantindo o cumprimento de regras padronizadas. Para assegurar esses princípios, foi instituído o Regime Jurídico dos Servidores Cíveis de Roraima (Lei complementar nº 53/2001), que formaliza e regula as normas aplicáveis de maneira objetiva e eficaz.

Avalie se os deveres expressamente previstos na Lei complementar nº 53/2001 incluem:

- I. ser assíduo e pontual ao serviço;
- II. tratar com urbanidade as pessoas;
- III. cumprir as ordens superiores, ainda que manifestamente ilegais.

Está correto o que se afirma em

- (A) I, apenas.
- (B) II, apenas.
- (C) I e II, apenas.
- (D) II e III, apenas.
- (E) I, II e III.

42

Avalie se os indicadores *a priori* de necessidade de treinamento incluem:

- I. expansão da organização;
- II. redução do número de funcionários;
- III. modernização dos equipamentos.

Está correto o que se afirma em

- (A) I, apenas.
- (B) II, apenas.
- (C) I e II, apenas.
- (D) II e III, apenas.
- (E) I, II e III.

43

O orçamento público é um instrumento de planejamento e controle das finanças governamentais. Sua evolução ao longo do tempo resultou no modelo atual, conhecido como orçamento-programa.

Acerca do tema, avalie se os seguintes itens são coerentes com o orçamento-programa.

- I. Dissociação entre planejamento e orçamento.
- II. Utilização sistemática de indicadores para aferição dos resultados.
- III. Ênfase no controle de legalidade e honestidade do gestor público.

Está correto o que se apresenta em

- (A) I, apenas.
- (B) II, apenas.
- (C) I e II, apenas.
- (D) II e III, apenas.
- (E) I, II e III.

44

A aplicação da técnica de Orçamento Base Zero para a elaboração do orçamento público exige

- (A) a exclusão do caráter misto do orçamento, eliminando a participação do Poder Legislativo no processo fiscalizatório.
- (B) a implementação de medidas que assegurem maior participação da população, tanto no processo de elaboração quanto no de aprovação do orçamento.
- (C) o ajuste marginal dos itens de receita e despesa anteriormente previstos, tendo como fundamento o incrementalismo.
- (D) a adequação periódica do limite máximo de gastos, com base em indicadores como inflação, crescimento econômico e receita disponível.
- (E) a justificativa detalhada de todas as dotações anualmente, independentemente dos valores orçados nos períodos anteriores.

45

A transposição, o remanejamento ou a transferência de recursos de uma categoria de programação para outra ou de um órgão para outro, sem autorização legislativa prévia, são **vedados** em função do princípio orçamentário

- (A) da anualidade.
- (B) da programação.
- (C) da unidade.
- (D) do não estorno.
- (E) da não afetação de receitas.

46

Diante da notícia de que importantes competições esportivas internacionais ocorrerão em seu território no próximo ano, um município do norte do Brasil decidiu criar, em sua estrutura organizacional, um órgão responsável pelo planejamento esportivo, com o objetivo de otimizar os benefícios gerados pelos eventos.

Nesse contexto, a criação desse órgão deve ser realizada por meio de um processo denominado

- (A) desconcentração administrativa.
- (B) concentração administrativa.
- (C) descentralização administrativa.
- (D) centralização administrativa.
- (E) privatização por colaboração.

47

Assinale a opção que apresenta apenas estruturas que fazem parte da Administração Direta.

- (A) Secretaria de Educação, Tribunal de Contas, Polícia Civil.
- (B) Empresa Pública de Ônibus, Fundação Pública de Saúde, Secretaria de Transporte.
- (C) Autarquia prestadora de serviço previdenciário, Ministério Público, Sociedade de Economia Mista.
- (D) Tribunal de Justiça, Fundação Pública de Educação, Empresa Pública de Saneamento Básico.
- (E) Polícia Militar, Procuradoria Estadual, Empresa Pública de Eletricidade.

48

Determinado analista jurídico-governamental, atendente a uma solicitação presidencial, está avaliando a viabilidade de alguns contratos serem firmados por meio de Parceria Público-Privada (PPP).

Entre os contratos apresentados, constam as seguintes propostas:

1. Contrato estimado em R\$ 9 milhões, com período de prestação de 10 anos e tendo como objeto único a mão de obra.
2. Contrato estimado em R\$ 25 milhões, com período de prestação de oito anos, envolvendo a construção e operação de uma rodovia.
3. Contrato estimado em R\$ 12 milhões, com período de prestação de cinco anos, que tem como objeto único o fornecimento e instalação de equipamentos em uma escola pública.
4. Contrato estimado em R\$ 30 milhões, com período de prestação de 12 anos, incluindo a construção e gestão de um hospital municipal.

Com base na Lei nº 11.079/2004, que regulamenta as Parcerias Público-Privadas no Brasil, os contratos que podem ser firmados por meio de PPP são

- (A) 2 e 4, apenas.
- (B) 1 e 3, apenas.
- (C) 2 e 3, apenas.
- (D) 1, 3 e 4, apenas.
- (E) 1, 2, 3 e 4.

49

No que se refere às Organizações Sociais, modalidade de qualificação atribuída a determinadas entidades com fundamento no Programa Nacional de Publicização, é correto afirmar que

- (A) devem ter finalidade lucrativa, com distribuição de receitas para seus associados.
- (B) devem ter personalidade jurídica de direito privado, vinculando-se ao Estado por meio de contrato de gestão.
- (C) devem atuar exclusivamente nas atividades de ensino e pesquisa científica, seguindo as diretrizes nacionais.
- (D) devem possuir servidor cedido pela Administração Pública em seu conselho fiscal.
- (E) devem ser credenciadas por autorização do Ministério da Justiça, tornando-se concessionárias de serviços públicos.

50

Anacleto, prefeito do município X, ficou conhecido politicamente pelo apelido de infância “Cotonete”. Ao inaugurar um novo parque municipal, uma importante promessa de campanha, decidiu nomeá-lo despretensiosamente como “Parque Cotonete”, alegando que o nome representava sua identificação com o projeto.

Sobre a situação apresentada, e com base no princípio da impessoalidade, previsto na Constituição Federal de 1988, é correto afirmar que

- (A) a conduta é lícita, pois o nome escolhido pelo prefeito reflete uma homenagem à sua dedicação ao projeto.
- (B) a conduta é lícita, pois, apesar de geralmente não ser permitido, o fato de ele ter feito despretensiosamente desconfigura ilicitude.
- (C) a atitude contraria o princípio da impessoalidade, pois configura promoção pessoal da autoridade pública.
- (D) a atitude contraria o princípio da eficácia, pois inviabiliza a prestação adequada do serviço à sociedade.
- (E) a situação respeita o princípio da publicidade, pois torna pública a identificação do prefeito com o parque municipal.

51

A constante luta para prevenir fraudes e mitigar seus efeitos prejudiciais levou ao desenvolvimento de diversos modelos que buscam compreender suas causas, sendo o Triângulo da Fraude um dos mais conhecidos.

Os elementos, previstos pelo Triângulo da Fraude, considerados causas para a ocorrência de fraudes são

- (A) pressão, oportunidade e racionalização.
- (B) motivação, ambição e visibilidade.
- (C) decepção, rejeição e oportunidade.
- (D) ambição, pressão e racionalização.
- (E) inconsequência, oportunidade e visibilidade.

52

Em uma situação hipotética, durante um processo seletivo para o cargo de assessor presidencial, João foi questionado sobre as atribuições constitucionalmente estabelecidas para o Presidente. Em resposta, informou corretamente que uma atribuição do Presidente da República é

- (A) iniciar o processo legislativo em qualquer caso.
- (B) extinguir funções e cargos públicos, quando preenchidos.
- (C) fiscalizar, por meio do Tribunal de Contas, os gastos dos parlamentares.
- (D) conceder indultos e comutar penas.
- (E) criar órgãos públicos mediante decreto.

53

O conceito de governança corporativa está relacionado à necessidade de mitigar conflitos e alinhar interesses divergentes entre proprietários e administradores no contexto das organizações e, na Administração Pública, entre a sociedade e os agentes políticos.

O conceito teórico elaborado para descrever esse conflito entre o principal e o gestor é conhecido como

- (A) conflito de Coase.
- (B) dilema dos prisioneiros.
- (C) problema de agência.
- (D) externalidade positiva.
- (E) teoria da janela quebrada.

54

Com relação aos instrumentos de planejamento orçamentário da Administração Pública brasileira, previstos expressamente na Constituição Federal de 1988, avalie se as assertivas a seguir estão contempladas pela Lei de Diretrizes Orçamentárias:

- I. Orienta a elaboração da Lei Orçamentária Anual.
- II. Estabelece a política de aplicação das agências financeiras oficiais de fomento.
- III. Dispõe sobre as alterações na legislação tributária.

Está correto o que se afirma em

- (A) I, apenas.
- (B) II, apenas.
- (C) I e II, apenas.
- (D) II e III, apenas.
- (E) I, II e III.

55

O Plano Plurianual possui duração de

- (A) quatro anos e coincide com o mandato do chefe do Poder Executivo.
- (B) quatro anos e tem início de vigência no segundo exercício financeiro do mandato do chefe do Poder Executivo.
- (C) três anos, representando um instrumento de planejamento autônomo em relação dos mandatos do chefe do Poder Executivo.
- (D) dois anos e tem vigência iniciada no primeiro e no terceiro exercícios financeiros do chefe do Poder Executivo.
- (E) um ano, iniciando sua vigência em julho e finalizando em junho do exercício subsequente.

56

Considere uma situação hipotética em que o Poder Judiciário estadual anule determinado ato administrativo emanado do Governador, após análise e constatação de sua nulidade.

Nesse caso, estamos diante de um exemplo do seguinte tipo de controle existente na Administração Pública:

- (A) controle interno.
- (B) controle externo.
- (C) controle social.
- (D) controle societário.
- (E) controle legislativo.

57

Analise as assertivas a seguir, com relação às funções desempenhadas pelos Tribunais de Contas.

- I. A realização de inspeções e auditorias são exemplos de ações da função fiscalizadora.
- II. Ao receber denúncias formuladas por cidadãos, partidos políticos, associações ou sindicatos, os tribunais exercem a função de ouvidoria.
- III. A função corretiva compreende, entre outras ações, a fixação de prazo para a adoção de medidas corretivas, em caso de ilegalidade.

Está correto o que se afirma em

- (A) I, apenas.
- (B) II, apenas.
- (C) I e II, apenas.
- (D) I e III, apenas.
- (E) I, II e III.

58

Conforme o disposto na Lei nº 12.527/2011, conhecida como Lei de Acesso à Informação (LAI), a qualidade da informação coletada na fonte, com o máximo de detalhamento possível, sem modificações, relaciona-se com o conceito de

- (A) disponibilidade.
- (B) integridade.
- (C) primariedade.
- (D) autenticidade.
- (E) atualidade.

59

Considerando que o Estado deve proteger informações cujo acesso possa colocar em risco a segurança do Estado ou da sociedade, a Lei de Acesso à Informação (LAI) prevê diferentes níveis de sigilo e define as autoridades competentes para classificá-las.

Nesse caso, tais informações são qualificadas como

- (A) reservadas, com restrição de acesso por até 10 anos, podendo ser classificadas pelo Vice-Presidente da República.
- (B) reservadas, com restrição de acesso por até 15 anos, podendo ser classificadas pelo comandante das Forças Armadas.
- (C) secretas, com restrição de acesso por até 15 anos, podendo ser classificadas por titular de autarquia federal.
- (D) secretas, com restrição de acesso por até 20 anos, podendo ser classificadas por servidor com cargo de direção ou assessoramento em Ministério.
- (E) ultrassecretas, com restrição de acesso por até 25 anos, podendo ser classificadas por Diretor de Sociedade de Economia Mista.

60

Sabe-se que uma entidade privada, responsável pela custódia de informações de interesse público, descumpriu norma ao se recusar a fornecer determinada informação solicitada por um cidadão, acerca de um processo licitatório. Diante dessa situação, após processo administrativo, o Poder Público decidiu aplicar uma advertência à entidade.

Com base na Lei de Acesso à Informação (LAI), outra sanção que poderia ser aplicada à entidade, juntamente com a pena de advertência, seria

- (A) multa proporcional à gravidade.
- (B) rescisão de vínculo com o Poder Público.
- (C) suspensão temporária de participar em licitação.
- (D) impedimento de contratar com a administração pública por até dois anos.
- (E) declaração de inidoneidade para licitar ou contratar com a Administração Pública.

61

Protocolos de rede são os conjuntos de normas que permitem que duas ou mais máquinas conectadas à internet se comuniquem entre si. Funciona como uma linguagem universal, que pode ser interpretada por computadores de qualquer fabricante, por meio de qualquer sistema operacional.

(TEBALDI, P. C. *Conheça os principais protocolos de rede e seus usos*. 2019 in <https://www.opservices.com.br/protocolos-de-rede/>)

Em relação aos protocolos de rede, avalie as afirmativas a seguir.


- I. O protocolo HTTP (*Hypertext Transfer Protocol*) é usado para navegação em sites da internet e funciona como uma conexão entre o cliente (*browser*) e o servidor (*site* ou domínio).
- II. O protocolo SSL (*Secure Sockets Layer*) permite a comunicação segura entre os lados cliente e servidor de uma aplicação *web*, por meio de uma confirmação da identidade de um servidor e a verificação do seu nível de confiança.
- III. O protocolo POP3 é usado para troca de mensagens eletrônicas em que um servidor de *e-mail*, que recebe e armazena mensagens, ao qual o cliente se autentica para poder acessar e ler as mensagens.

Está correto o que se afirma em

- (A) I, apenas.
- (B) II, apenas.
- (C) I e II, apenas.
- (D) II e III, apenas.
- (E) I, II e III.

62

A imagem a seguir ilustra, de modo simplificado, alguns conectores localizados na parte traseira de uma placa-mãe.



Os números apresentados na imagem são portas de entradas respectivamente denominadas

- (A) PS/2, DVI, VGA, USB, ETHERNET e HDMI.
- (B) PS/2, DVI, VGA, ETHERNET, USB e HDMI.
- (C) PS/2, VGA, DVI, HDMI, ETHERNET e USB.
- (D) PS/2, VGA, HDMI, USB, DVI e ETHERNET.
- (E) PS/2, USB, HDMI, DVI, ETHERNET e VGA.

63

As redes de computadores podem ser definidas como um conjunto de equipamentos que, além de compartilhar os mesmos recursos, também podem trocar informações entre si.

A respeito dos tipos de redes, avalie as afirmativas a seguir e assinale (V) para a verdadeira e (F) para a falsa.

- () O tipo LAN é uma rede local, de curta distância, que conecta dispositivos próximos, reunidos em um mesmo ambiente.
- () O tipo WAN é uma rede de longa distância, que possibilita a conexão de equipamentos em diferentes localidades, de países e até continentes.
- () O tipo WLAN é uma rede sem fio de longa distância que pode ser usada para conectar dispositivos móveis à internet por ter maior alcance a céu aberto.

As afirmativas são, respectivamente,

- (A) F – F – V.
- (B) F – V – F.
- (C) V – F – F.
- (D) V – V – F.
- (E) V – F – V.

64

Golpes digitais atingem 24% da população brasileira, revela DataSenado



Os golpes digitais vitimaram 24% dos brasileiros com mais de 16 anos nos últimos 12 meses. São mais de 40,85 milhões de pessoas que perderam dinheiro em função de algum crime cibernético, como clonagem de cartão, fraude na internet ou invasão de contas bancárias. Os dados são de uma pesquisa divulgada em outubro de 2024 pelo Instituto DataSenado.

(Marcos Oliveira/Agência Senado. Adaptado).

A respeito dos *malwares* usados em golpes na Internet, avalie as afirmativas a seguir.

- I. *CoolWebSearch* é um *spyware* que se aproveitou das vulnerabilidades de segurança do Internet Explorer para sequestrar o navegador, alterar as configurações e enviar dados de navegação ao seu autor.
- II. Um *keylogger* é um tipo de *spyware* que monitora a atividade do usuário e pode ser usado para roubar dados de senha, informações bancárias e outras informações sensíveis.
- III. *Ransomware* é um *malware* concebido para bloquear usuários fora de seu sistema ou negar acesso aos dados até que um resgate seja pago.

Está correto o que se afirma em

- (A) I, apenas.
- (B) II, apenas.
- (C) I e II, apenas.
- (D) II e III, apenas.
- (E) I, II e III.

65

O Google Workspace é uma suíte de aplicativos que permite que as equipes colaborem em tempo real e compartilhem informações.

A esse respeito, associe os aplicativos do Google Workspace às respectivas funções.

1. Google Meet
 2. Google Vids
 3. Gemini
 4. Google Documents
- () É usado para criar e editar documentos de texto no navegador da *web*, sem precisar de *software* especial, de modo que várias pessoas podem trabalhar juntas ao mesmo tempo.
 - () É usado para criação de vídeos com tecnologia de IA para criar vídeos personalizados no navegador da *web* sem precisar de *softwares* especiais ou habilidades de edição de vídeo.
 - () É um assistente com tecnologia de IA que oferece segurança e privacidade de nível empresarial, podendo ser usado para escrever, visualizar, organizar e se conectar com colaboradores.
 - () É usado para fazer videochamadas em qualquer lugar, apresentar ou participar de treinamentos virtuais em todo o mundo e fazer entrevistas remotas.

Assinale a opção que indica a associação correta, na ordem apresentada.

- (A) 1 – 2 – 3 – 4.
- (B) 2 – 1 – 4 – 3.
- (C) 2 – 3 – 1 – 4.
- (D) 3 – 2 – 1 – 4.
- (E) 4 – 1 – 3 – 2.

66

Segundo a Lei Geral de Proteção de Dados Pessoais (Lei nº 13.709, de 14 de agosto de 2018), avalie se o tratamento de dados pessoais poderá ser realizado para

- I. a realização de estudos por órgão de pesquisa, garantida, sempre que possível, a anonimização dos dados pessoais.
- II. o registro de informações de consumo sem consentimento prévio do consumidor, representando risco a privacidade dos seus dados.
- III. a tutela da saúde, exclusivamente, em procedimento realizado por profissionais de saúde, serviços de saúde ou autoridade sanitária.

Está correto o que se afirma em

- (A) I, apenas.
- (B) II, apenas.
- (C) I e II, apenas.
- (D) I e III, apenas.
- (E) II e III, apenas.

67

Acesso à internet em residências brasileiras salta de 13% para 85% em 20 anos, aponta pesquisa TIC Domicílios 2024

Dados revelam que a presença da internet nos lares brasileiros se expandiu significativamente, mas desigualdades ainda persistem entre classes sociais.

Apesar do crescimento no acesso à internet nos últimos 20 anos, a pesquisa destaca a desigualdade presente no país. Segundo a TIC Domicílios 2024, a conexão está disponível em 100% dos lares da classe A, mas apenas em 68% das residências das classes D e E.

(Fonte: HELDER, D. G1. 31/10/2024. Adaptado).

Segundo o Marco Civil da Internet (Lei nº 12.965, de 23 de abril de 2014), o acesso à internet é essencial ao exercício da cidadania, e ao usuário é assegurado o direito

- (A) à violabilidade e à publicidade do fluxo de suas comunicações pela internet.
- (B) à suspensão da conexão à internet a tempo e a critério da operadora.
- (C) ao fornecimento de seus dados pessoais a terceiros, mesmo que sem seu consentimento.
- (D) à publicidade e à clareza de eventuais políticas de uso dos provedores de conexão à internet e de aplicações de internet.
- (E) ao contrato de prestação de serviços sem detalhamento sobre o regime de proteção de acesso a aplicações de internet.

68
















Um usuário do MS Windows 10 BR abriu o MS Word 365 BR copiou e colou o seguinte texto:

A história do Tribunal de Contas de Roraima (TCERR) se entrelaça com a própria criação do estado, com a elevação do antigo Território Federal à categoria de estado pela Constituição Federal de 1988, um novo ordenamento jurídico se fez necessário, incluindo a instituição de um órgão autônomo e dedicado à fiscalização da aplicação dos recursos públicos.

Para ajustar a formatação desse texto, ele acionou algumas teclas de atalho e o resultado foi o seguinte:

A história do Tribunal de Contas de Roraima (TCERR) se entrelaça com a própria criação do estado, com a elevação do antigo Território Federal à categoria de estado pela Constituição Federal de 1988, um novo ordenamento jurídico se fez necessário, incluindo a instituição de um órgão autônomo e dedicado à fiscalização da aplicação dos recursos públicos.

Nesse caso, as teclas de atalho usadas para a formatação do texto correspondem aos seguintes botões:

- (A)   
- (B)   
- (C)   
- (D)   
- (E)   

69

Um funcionário do TCE-RR, usuário do MS Excel 365 BR, criou uma planilha simples para o cálculo do ICMS, conforme imagem a seguir:

	A	B	C	D	E
1	Calcular ICMS				
2					
3		(+)	Valor do Produto		
4		(-)	Alíquota do ICMS	20,00%	
5		(=)	Base de Cálculo do ICMS		
6					

Na célula D5, ele inseriu a fórmula =D3/(1-D4).

Se ele inserir, na célula D3, o valor de R\$ 1.500,00, o valor que aparecerá na célula D5 será

- (A) R\$ 300,00
- (B) R\$ 1.200,00
- (C) R\$ 1.800,00
- (D) R\$ 1.875,00
- (E) R\$ 7.500,00

70

Para garantir a técnica de proteger informações confidenciais por meio da codificação de dados, tornando-os ilegíveis para pessoas não autorizadas, são utilizados algoritmos matemáticos e chaves criptográficas, que, em sua essência, podem ser simétricas, assimétricas ou *hash*.

A esse respeito, associe cada tipo de criptografia abaixo à respectiva definição.

1. Criptografia simétrica
2. Criptografia assimétrica
3. Criptografia *hash*

- () É uma técnica que produz uma sequência única de caracteres a partir de um conjunto de dados; usada em sistemas de autenticação e verificação de integridade de arquivos, como na assinatura eletrônica aplicada ao documento original para gerar um código exclusivo que é criptografado com a chave privada do signatário.
- () É a técnica mais simples de criptografia, que usa uma única chave para criptografar e descriptografar a informação; a chave é compartilhada entre as pessoas autorizadas e, por isso, é importante que ela seja mantida em sigilo; sua principal vantagem é a velocidade, já que a criptografia e a descriptografia são realizadas rapidamente.
- () É uma técnica mais avançada, pois usa duas chaves diferentes para criptografar e descriptografar a informação; uma das chaves é pública e pode ser compartilhada com qualquer pessoa, enquanto a outra é privada e deve ser mantida em sigilo; é um procedimento com mais segurança, já que a chave privada dificilmente é comprometida.

Assinale a opção que indica a associação correta, na ordem apresentada.

- (A) 1 – 2 – 3.
- (B) 1 – 3 – 2.
- (C) 2 – 3 – 1.
- (D) 3 – 1 – 2.
- (E) 3 – 2 – 1.

REDAÇÃO

É grande a discussão sobre o sistema eleitoral brasileiro e um dos pontos mais destacados dessa discussão é a obrigatoriedade do voto. No Brasil o voto é obrigatório. Isso significa que todas as pessoas que cumprem os requisitos previstos na lei eleitoral devem votar nas eleições. No Brasil o voto é obrigatório desde 1934, quando foi promulgada a Constituição Federal no governo de Getúlio Vargas. Além de ser um dever dos cidadãos, o voto também um direito. A Constituição de 1988, no artigo 14, determinou que o voto é uma forma de exercer a soberania do povo. Quer dizer que é a maneira que os cidadãos têm de demonstrar quem são os escolhidos para serem os seus representantes.

Mas, a obrigatoriedade do voto é democrática? Por que relutamos em adotar a liberdade de votar, como já adotado em numerosos outros países democráticos. Quais são as vantagens e as desvantagens do voto obrigatório?

Diga o que pensa a respeito do tema, em um texto argumentativo, de entre 20 e 30 linhas, em linguagem culta, dando especial atenção aos argumentos apresentados.

- 1
- 2
- 3
- 4
- 5
- 6
- 7
- 8
- 9
- 10
- 11
- 12
- 13
- 14
- 15
- 16
- 17
- 18
- 19
- 20
- 21
- 22
- 23
- 24
- 25
- 26
- 27
- 28
- 29
- 30

Realização

