



Médio completo

Técnico em Manutenção e Infraestrutura **Auxiliar de Serviços Gerais**

Tipo 3 – AMARELA



SUA PROVA

Além deste caderno de prova, contendo sessenta questões objetivas, você receberá do fiscal de sala:

- uma folha destinada às respostas das questões objetivas;



TEMPO

- **Quatro horas** é o tempo disponível para a realização da prova, já incluído o tempo para a marcação da folha de respostas da prova objetiva;
- **Duas horas** após o início da prova é possível retirar-se da sala, sem levar o caderno de provas;
- **Sessenta minutos** antes do término do período de prova é possível retirar-se da sala levando o caderno de provas.



NÃO SERÁ PERMITIDO

- Qualquer tipo de comunicação entre os candidatos durante a aplicação da prova;
- Levantar da cadeira sem autorização do fiscal de sala;
- Usar o sanitário ao término da prova, após deixar a sala.



INFORMAÇÕES GERAIS

- As questões objetivas têm cinco alternativas de resposta (A, B, C, D, E) e somente uma delas está correta;
- Verifique se seu caderno está completo, sem repetição de questões ou falhas. Caso contrário, notifique imediatamente o fiscal da sala, para que sejam tomadas as devidas providências;
- Confira seus dados pessoais, especialmente nome, número de inscrição e documento de identidade e leia atentamente as instruções para preencher a folha de respostas;
- Use somente caneta esferográfica, em material transparente, com tinta preta ou azul;
- Assine seu nome apenas nos espaços reservados;
- Marque na folha de respostas o campo relativo à confirmação do tipo/cor de prova, conforme o caderno recebido;
- O preenchimento das respostas da prova objetiva é de sua responsabilidade e não será permitida a troca de folha de respostas em caso de erro;
 - Reserve tempo suficiente para o preenchimento de suas respostas. Para fins de avaliação, serão levadas em consideração apenas as marcações realizadas na folha de respostas da prova objetiva, não sendo permitido anotar informações relativas às respostas em qualquer outro meio que não seja o caderno de provas;
- A FGV coletará as impressões digitais dos candidatos na folha de respostas;
- Os candidatos serão submetidos ao sistema de detecção de metais quando do ingresso e da saída de sanitários durante a realização das provas.

Língua Portuguesa

Texto 1

Novelas

Não vejo novelas. A última que me prendeu no sofá foi escrita pelo Dias Gomes, que era um craque. Hoje, 15 segundos de novela bastam para me matar de tédio. Os mesmos personagens, o mesmo enredo, as mesmas caretas, as mesmas frases idiotas, as mesmas cenas toscas, a mesma história chata.

(Roberto Gomes, *Gazeta do Povo*, 2009)

1

O autor do texto fala do tédio que sente ao ver as novelas atuais. O tédio é construído no texto por meio de um recurso de linguagem, que é

- (A) o emprego de palavras negativas.
- (B) o uso de gírias e expressões populares.
- (C) a utilização de estrangeirismos.
- (D) a repetição da palavra “mesmo”.
- (E) a utilização de muitas vírgulas.

2

Ao escrever que a novela de Dias Gomes o “prende ao sofá”, o autor do texto quer dizer que

- (A) ele possuía o vício de ver novelas.
- (B) nada tinha a fazer à noite, exceto ver televisão.
- (C) não era casado e se sentia sozinho.
- (D) preferia novela a cinema ou a teatro.
- (E) a novela despertava interesse.

3

Segundo o autor do texto, as novelas atuais apresentam alguns defeitos. Assinale a opção que indica o defeito que **não** é produzido pelo autor da novela.

- (A) Os mesmos personagens.
- (B) O mesmo enredo.
- (C) As mesmas caretas.
- (D) As mesmas frases idiotas.
- (E) A mesma história chata.

4

A afirmação inicial do texto é “*Não vejo novelas*”.

Essa afirmação

- (A) é desmentida pelo restante do texto.
- (B) é justificada na continuidade do texto.
- (C) é retificada na progressão textual.
- (D) é confrontada pelo texto a seguir.
- (E) é retomada pelo que segue.

5

Segundo o autor do texto, ele deixou de ver novelas porque

- (A) não tem mais tempo para acompanhá-las.
- (B) a televisão passou a apresentá-las com maior frequência.
- (C) elas perderam qualidade e originalidade.
- (D) os atores deixaram de ser profissionais de qualidade.
- (E) os autores de novelas passaram a explorar o cotidiano.

6

Ao afirmar que Dias Gomes “*era um craque*”, o autor do texto quer dizer que ele

- (A) jogava bem futebol além de ser autor de novelas.
- (B) trabalhava muito bem nas novelas como ator.
- (C) fazia muitas novelas ao mesmo tempo.
- (D) era um autor de novelas muito boas.
- (E) escrevia poucas novelas de sucesso.

7

A nova forma da frase inicial “*Não vejo novelas*”, se colocada em discurso indireto, iniciando-se a nova frase por “*O autor do texto declara que...*”, seria

- (A) *não via novelas.*
- (B) *não vê novelas.*
- (C) *não viu novelas.*
- (D) *não verá novelas.*
- (E) *não veria novelas.*

8

“*15 segundos de novela bastam para me matar de tédio.*”

A expressão “*me matar de tédio*” expressa

- (A) uma comparação.
- (B) uma ironia.
- (C) um exagero.
- (D) uma brincadeira.
- (E) uma ameaça.

Texto 2

A novela

Considerar a telenovela um produto cultural alienante é um tremendo preconceito da universidade. Quem acha que novela aliena está na verdade chamando o povo de débil mental. Bobagem imaginar que alguém é induzido a pensar que a vida é um mar de rosas só por causa de um enredo açucarado. A telenovela brasileira é um produto cultural de alta qualidade técnica, e algumas delas são verdadeiras obras de arte.

Ela é educativa no sentido de levantar certas discussões para um público relativamente pouco informado. Na década de 70, os autores faziam isso de maneira mais sutil. Nos dias atuais, sem censura, as discussões podem ser mais abertas.

(**Maria Aparecida Baccega**,

Coordenadora do Centro de Pesquisa de Telenovela da USP)

9

Em relação à novela, a opinião expressa pela autora do texto 2 é

- (A) positiva, pois é relativamente educativa.
- (B) positiva, pois diverte o grande público.
- (C) positiva, pois mostra enredos açucarados.
- (D) negativa, pois aliena o povo.
- (E) negativa, pois mostra um mundo falso.

10

Assinale a opção que indica a posição dos autores dos textos dessa prova em relação às telenovelas.

- (A) Os dois autores criticam as telenovelas.
- (B) Os dois autores elogiam as telenovelas.
- (C) Só o primeiro autor elogia as telenovelas.
- (D) Só o segundo autor critica as telenovelas.
- (E) Os dois autores mostram opiniões opostas.

11

Entre as palavras escritas no texto 2, aquela que é bastante informal ou popular é

- (A) “produto”.
- (B) “telenovela”.
- (C) “bobagem”.
- (D) “sutil”.
- (E) “enredo”.

12

“Considerar a telenovela um produto cultural alienante é um tremendo preconceito da universidade.”

Com essa frase, a autora mostra que a telenovela é desconsiderada por

- (A) professores e alunos.
- (B) grande parte do público.
- (C) elites econômicas.
- (D) alguns intelectuais.
- (E) pessoas de baixa cultura.

13

“Considerar a novela um produto cultural alienante...”.

Nessa frase do texto 2, o verbo “considerar” tem o mesmo significado que

- (A) “julgar”.
- (B) “tratar”.
- (C) “criticar”.
- (D) “analisar”.
- (E) “pesquisar”.

14

“as discussões podem ser mais abertas”.

Se reescrevermos essa frase no singular, trocando o adjetivo “abertas” por seu antônimo, a forma adequada seria

- (A) “as discussões pode ser mais escancarada”.
- (B) “a discussão pode ser mais discreta”.
- (C) “a discussão pode ser mais oculta”.
- (D) “as discussões podem ser mais fechadas”.
- (E) “a discussão pode ser menos reservada”.

15

Dizer que “a vida é um mar de rosas” é uma comparação que é denominada, em termos de linguagem figurada, de

- (A) metáfora.
- (B) pleonismo.
- (C) metonímia.
- (D) hipérbole.
- (E) eufemismo.

16

Os vocábulos “aliena” e “alienante” são chamados cognatos por pertencerem à mesma família de palavras.

Assinale a opção que apresenta os vocábulos que **não** pertencem à mesma família.

- (A) Estudar / estudante
- (B) Ler / leitura
- (C) Ver / visão
- (D) Escrever / escritor
- (E) Amar / amizade

17

“Na década de 70, os autores faziam isso de maneira mais sutil. Nos dias atuais, sem censura, as discussões podem ser mais abertas.”

Deduz-se desse segmento do texto que

- (A) as novelas do passado eram melhores.
- (B) na década de 1970 havia censura.
- (C) os autores anteriores de novelas eram menos competentes.
- (D) não havia novelas na televisão em anos anteriores.
- (E) as novelas tinham mais liberdade na década de 1970.

18

“Bobagem imaginar que a vida é um mar de rosas só por causa de um enredo açucarado.”

Um “enredo açucarado” significa um enredo

- (A) engraçado.
- (B) crítico.
- (C) psicológico.
- (D) aventureiro.
- (E) sentimental.

19

A autora faz um elogio às telenovelas, ao afirmar que elas são

- (A) educativas.
- (B) preconceituosas.
- (C) moralizantes.
- (D) religiosas.
- (E) divertidas.

20

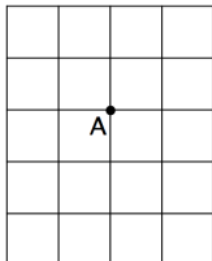
Assinale a opção cujo par **não** é formado por substantivo + adjetivo.

- (A) Enredo açucarado.
- (B) Dias atuais.
- (C) Produto cultural.
- (D) Tremendo preconceito.
- (E) Telenovela brasileira.

Raciocínio Lógico-Analítico

21

No quadriculado da figura a seguir o lado de cada quadradinho mede 1 unidade e deslocamentos de 1 unidade respectivamente para CIMA, para BAIXO, para a DIREITA e para a ESQUERDA são representados pelas letras C, B, D e E.



Arnaldo parte do ponto A e faz os deslocamentos sucessivos CDBBEEB chegando ao ponto P.

Um deslocamento possível para sair do ponto P e chegar ao ponto A é

- (A) DCEC.
- (B) CCCD.
- (C) CDD.
- (D) EDCDC.
- (E) BCDDDD.

22

Entre os amigos Abel, Bruno e Carlos, dois deles são irmãos e cada um deles torce por um time diferente. Um torce pelo Cuiabá, outro torce pelo Mixto e outro torce pelo Luverdense.

Sabe-se que:

- Abel não torce pelo Cuiabá.
- Bruno não torce pelo Luverdense.
- Carlos não torce pelo Mixto.
- O irmão de Bruno torce pelo Cuiabá.

É correto afirmar que

- (A) Abel torce pelo Luverdense.
- (B) Bruno torce pelo Cuiabá.
- (C) Carlos torce pelo Mixto.
- (D) Abel é irmão de Bruno.
- (E) Carlos não torce pelo Cuiabá.

23

Em uma urna há fichas brancas, azuis e vermelhas sendo que cada uma delas pode ser pequena, média ou grande.

A tabela a seguir mostra a quantidade de fichas de cada cor e tamanho.

	Pequenas	Médias	Grandes
Branças	3	4	5
Azuis	4	5	6
Vermelhas	6	7	8

A quantidade de fichas azuis ou médias é

- (A) 26.
- (B) 27.
- (C) 29.
- (D) 31.
- (E) 32.

24

A planta baixa de uma escola foi desenhada na escala 1/200 e, nessa planta, o ginásio esportivo aparece como um retângulo de 15 cm por 12 cm.

A área desse ginásio é

- (A) 108 m².
- (B) 180 m².
- (C) 540 m².
- (D) 720 m².
- (E) 1080 m².

25

Em certa comunidade são verdadeiras as seguintes afirmações:

- Todo motorista é homem.
- Nenhum homem sabe cozinhar.

É correto afirmar que

- (A) algum motorista é mulher.
- (B) algum motorista sabe cozinhar.
- (C) toda mulher sabe cozinhar.
- (D) todo homem é motorista.
- (E) nenhum motorista sabe cozinhar.

26

Em uma sala havia 10 homens e 13 mulheres. Em certo momento saíram da sala o mesmo número de homens e de mulheres e assim, entre as pessoas que permaneceram na sala, o número de mulheres ficou igual ao dobro do número de homens.

O número de pessoas que saiu da sala foi

- (A) 7.
- (B) 8.
- (C) 10.
- (D) 12.
- (E) 14.

27

Em um depósito há 3 latas de tinta iguais estando uma vazia e as duas outras contendo tinta até a metade. Sabe-se que essas três latas pesam, no total, 6,0 kg e que uma lata vazia pesa 0,4 kg.

O peso de uma lata cheia de tinta é

- (A) 4,8 kg.
- (B) 5,0 kg.
- (C) 5,2 kg.
- (D) 5,4 kg.
- (E) 5,6 kg.

28

Caio nasceu em um domingo e 150 dias depois foi batizado.

O dia do batismo de Caio caiu em

- (A) uma terça-feira.
- (B) uma quarta-feira.
- (C) uma quinta-feira.
- (D) uma sexta-feira.
- (E) um sábado.

29

A tabela a seguir fornece as distâncias rodoviárias em quilômetros entre as cidades A, B, C e D.

	A	B	C	D
A		18	25	30
B	18		22	24
C	25	22		15
D	30	24	15	

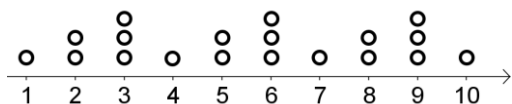
Antônio deseja ir da cidade A até a cidade D, mas como a estrada que liga diretamente essas duas cidades está interrompida, ele precisa passar pela cidade C ou pela cidade B.

Nessas condições, a menor distância que ele pode percorrer para ir de A até D é de

- (A) 30 km.
- (B) 40 km.
- (C) 42 km.
- (D) 44 km.
- (E) 48 km.

30

A figura abaixo mostra uma reta numerada e uma sequência de bolinhas mantendo sempre o mesmo padrão:



A quantidade de bolinhas desde o número 1 até o número 50, inclusive, é

- (A) 96.
- (B) 97.
- (C) 98.
- (D) 99.
- (E) 100.

31

Uma escola possui dois salões iguais e a diretoria resolveu trocar o piso de ambos colocando ladrilhos iguais.

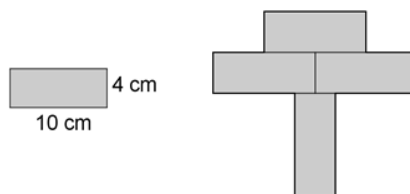
João ficou encarregado de um salão e Pedro do outro. João ladrilhou em cada dia de trabalho 16 m^2 do seu salão e terminou sua tarefa em 15 dias. Pedro foi mais lento e ladrilhou, em cada dia, apenas 10 m^2 do seu salão.

O número de dias que Pedro gastou a mais do que João para terminar o trabalho foi

- (A) 6.
- (B) 8.
- (C) 9.
- (D) 10.
- (E) 12.

32

A figura da esquerda mostra um retângulo de 10 cm por 4 cm e a figura da direita foi formada reunindo 4 desses retângulos.



O perímetro da figura da direita é igual a

- (A) 68 cm.
- (B) 72 cm.
- (C) 74 cm.
- (D) 76 cm.
- (E) 160 cm.

33

O pintor disse ao diretor:

“Eu pintei a porta e a janela”.

Como o diretor verificou que o pintor não disse a verdade, é correto concluir que o pintor

- (A) não pintou a porta nem a janela.
- (B) não pintou a porta ou não pintou a janela.
- (C) pintou a porta e não pintou a janela.
- (D) pintou a porta ou não pintou a janela.
- (E) pintou a janela mas não pintou a porta.

34

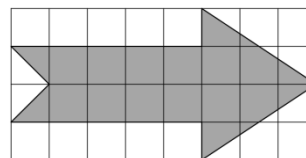
São dados dois números. A soma do primeiro com o dobro do segundo dá 32 e a soma do segundo com o dobro do primeiro dá 25.

A soma dos dois números dados é

- (A) 17.
- (B) 18.
- (C) 19.
- (D) 20.
- (E) 21.

35

Cada quadradinho do quadriculado abaixo tem 1 cm de lado.



A área da figura sombreada é

- (A) $13,5\text{ cm}^2$.
- (B) $14,0\text{ cm}^2$.
- (C) $14,5\text{ cm}^2$.
- (D) $15,0\text{ cm}^2$.
- (E) $16,0\text{ cm}^2$.

36

Para corrigir todas as provas de Matemática da 1ª série de certo colégio, 10 professores com o mesmo ritmo de trabalho levaram 16 horas para concluir a tarefa.

O tempo necessário para que 8 desses professores corrijam a metade dessas provas é

- (A) 6h24min.
- (B) 8h.
- (C) 10h.
- (D) 12h48min.
- (E) 20h.

37

Abel, Bia, Celia e Diego estão, nessa ordem, em uma fila.

Sabe-se que:

- entre Abel e Celia há 9 pessoas.
- entre Bia e Diego há 8 pessoas.
- entre Celia e Diego há 2 pessoas.

O número de pessoas entre Abel e Diego é

- (A) 12.
- (B) 13.
- (C) 14.
- (D) 15.
- (E) 16.

38

Uma empresa tem 20 funcionários sendo que 12 são homens. Sabe-se que entre todos os funcionários apenas 9 sabem dirigir e que 6 mulheres não sabem dirigir.

O número de homens que não sabem dirigir é

- (A) 4.
- (B) 5.
- (C) 6.
- (D) 7.
- (E) 8.

39

Lucas recebeu certa quantia por um serviço prestado. Ele utilizou 1/4 dessa quantia para pagar algumas contas, colocou 20% do restante na poupança e ficou ainda com R\$ 570,00.

A quantia recebida por Lucas está entre

- (A) R\$ 810,00 e R\$ 840,00.
- (B) R\$ 840,00 e R\$ 870,00.
- (C) R\$ 870,00 e R\$ 900,00.
- (D) R\$ 900,00 e R\$ 930,00.
- (E) R\$ 930,00 e R\$ 960,00.

40

O chefe da segurança de uma empresa disse: “*Todo vigilante é uma pessoa atenta*”.

O diretor respondeu: “*Isso não é verdade.*”

É correto concluir que

- (A) nenhum vigilante é atento.
- (B) a maioria dos vigilantes não são atentos.
- (C) uma pessoa que não é atenta, não é vigilante.
- (D) toda pessoa atenta não é vigilante.
- (E) pelo menos um vigilante não é atento.

Legislação Específica**41**

A movimentação funcional do Profissional da Secretaria de Educação se dará

- I. por ascensão funcional.
- II. por progressão de classe.
- III. por promoção de nível.

Está correto o que se afirma em

- (A) I, apenas.
- (B) I e II, apenas.
- (C) I e III, apenas.
- (D) II e III, apenas.
- (E) I, II e III.

42

Segundo a Lei Complementar nº 93/2003, assinale a opção que indica a penalidade disciplinar mais rigorosa.

- (A) Advertência.
- (B) Demissão.
- (C) Suspensão.
- (D) Detenção.
- (E) Expulsão.

43

O profissional da Educação do Município de Cuiabá poderá ser cedido para outro órgão ou outra entidade dos Poderes da União, dos Estados ou do Distrito Federal e dos Municípios, na seguinte hipótese:

- (A) por convênio, conforme interesse da administração pública, sem que haja ressarcimento para o Município.
- (B) para exercício de cargo em comissão ou função de confiança, com ônus para o Município de Cuiabá.
- (C) para exercício de mandato eletivo, sem direito à opção de remuneração.
- (D) para exercer atividade em entidade sindical de classe, com ônus para a entidade sindical.
- (E) mediante permuta de profissionais, observando a equivalência de cargos, habilitação e regimes de trabalho.

44

O Município de Cuiabá, capital do Estado de Mato Grosso, é pessoa jurídica de direito público interno, dotada de autonomia política, administrativa, financeira e legislativa.

Assim, com base na Lei Orgânica do Município de Cuiabá, assinale a afirmativa correta.

- (A) Os poderes Legislativo, Executivo e Judiciário são independentes e responsáveis pela administração do Município.
- (B) O Poder Legislativo é exercido pela Câmara Municipal, composta por Vereadores.
- (C) O Poder Judiciário Municipal é exercido pelo Secretário de Justiça e Defesa Civil.
- (D) O Poder Executivo é exercido pelo Secretário Municipal de Administração.
- (E) O Poder Judiciário é exercido pelo Tribunal de Justiça Municipal, composto por Juizes Municipais.

45

Ao entrar em exercício, o servidor nomeado para o cargo de provimento efetivo ficará sujeito ao estágio probatório.

Sobre esse período, analise as afirmativas a seguir.

- I. O estágio probatório terá a duração de 3 (três) anos, durante os quais o servidor será avaliado no desempenho do cargo.
- II. A avaliação durante o estágio probatório deve considerar a idoneidade moral, a aptidão para o cargo e a disciplina funcional.
- III. O servidor deverá demonstrar, para ser bem avaliado, capacidade de iniciativa, senso de responsabilidade e dedicação ao serviço.

Assinale:

- (A) se somente a afirmativa I estiver correta.
- (B) se somente as afirmativas I e II estiverem corretas.
- (C) se somente as afirmativas I e III estiverem corretas.
- (D) se somente as afirmativas II e III estiverem corretas.
- (E) se todas as afirmativas estiverem corretas.

46

Sobre a Administração Pública do Município de Cuiabá, analise as afirmativas a seguir.

- I. A Administração Pública municipal é o conjunto de órgãos e entidades responsáveis pela execução das decisões do governo para atender aos interesses coletivos.
- II. A Administração Pública municipal direta compreende os órgãos e serviços da estrutura administrativa do Poder Executivo ou do Poder Legislativo.
- III. A Administração Pública municipal indireta compreende as entidades dotadas de personalidade jurídica própria, como, por exemplo, uma empresa privada.

Assinale:

- (A) se somente a afirmativa I estiver correta.
- (B) se somente as afirmativas I e II estiverem corretas.
- (C) se somente as afirmativas I e III estiverem corretas.
- (D) se somente as afirmativas II e III estiverem corretas.
- (E) se todas as afirmativas estiverem corretas.

47

O Estatuto dos Servidores Públicos do Município de Cuiabá estabelece que

- (A) os cargos públicos são acessíveis somente aos brasileiros natos.
- (B) o dia do Servidor Público será considerado ponto facultativo.
- (C) servidor público é a pessoa legalmente investida em cargo público.
- (D) os servidores públicos estão isentos do pagamento de taxas dos requerimentos administrativos de seu interesse pessoal.
- (E) os cargos em comissão têm caráter permanente e são preenchidos por meio de concurso público.

48

Sobre os deveres do servidor no exercício funcional, segundo princípios éticos, analise as afirmativas a seguir.

- I. Deve exercer com zelo e dedicação as atribuições do cargo público.
- II. Deve ser leal às instituições a que servir.
- III. Deve cumprir as ordens superiores, ainda que manifestamente ilegais.

Assinale:

- (A) se somente a afirmativa I estiver correta.
- (B) se somente as afirmativas I e II estiverem corretas.
- (C) se somente as afirmativas I e III estiverem corretas.
- (D) se somente as afirmativas II e III estiverem corretas.
- (E) se todas as afirmativas estiverem corretas.

49

A exoneração de ofício de um servidor ocupante de cargo efetivo se dará quando

- I. o servidor estável abandonar o cargo.
- II. o servidor não atender às condições do estágio probatório.
- III. o servidor, tendo tomado posse, não entrar em exercício no prazo estabelecido.

Está correto o que se afirma em

- (A) I, apenas.
- (B) I e II, apenas.
- (C) I e III, apenas.
- (D) II e III, apenas.
- (E) I, II e III.

50

A Lei Complementar nº 220/2010 instituiu a carreira dos profissionais da Secretaria Municipal de Educação de Cuiabá. Segundo essa Lei, a oferta dos serviços educacionais da Secretaria Municipal de Educação

- (A) deve ser mantida sob a responsabilidade do Município.
- (B) deve ser terceirizada para instituições religiosas.
- (C) pode ser transferida para organizações de direito privado.
- (D) deve ser prestada de maneira informal.
- (E) deve ser estruturada a partir de interesses privados.

51

O orçamento municipal, aquilo que a Administração Pública tem como metas e parâmetros para suas despesas e receitas, é composto por leis de iniciativa exclusiva do Poder Executivo, que estabelecerão

- I. o Plano Plurianual.
- II. as Diretrizes Orçamentárias.
- III. os Orçamentos Anuais.

Está correto o que se afirma em

- (A) I, apenas.
- (B) I e II, apenas.
- (C) I e III, apenas.
- (D) II e III, apenas.
- (E) I, II e III.

52

São requisitos para provimento e investidura em cargo público no Município de Cuiabá:

- I. estar em pleno gozo dos seus direitos políticos;
- II. estar em dia com as obrigações militares, eleitorais e com o fisco municipal;
- III. ter escolaridade inferior à exigida para o exercício do cargo.

Está correto o que se afirma em

- (A) I, apenas.
- (B) I e II, apenas.
- (C) I e III, apenas.
- (D) II e III, apenas.
- (E) I, II e III.

53

Atendidos os princípios da Constituição Federal, o Município poderá, por meio de leis, instituir os seguintes tributos:

- I. impostos;
- II. contribuições sindicais;
- III. taxas.

Está correto o que se afirma em:

- (A) I, apenas.
- (B) I e II, apenas.
- (C) I e III, apenas.
- (D) II e III, apenas.
- (E) I, II e III.

54

O ingresso na carreira dos Profissionais da Secretaria Municipal de Educação obedece aos seguintes critérios, **à exceção de um**. Assinale-o.

- (A) Ter a habilitação específica exigida para provimento do cargo público.
- (B) Ter a escolaridade compatível com a natureza do cargo.
- (C) Ter registro profissional expedido por órgão competente, quando assim exigido.
- (D) Ter sido aprovado em concurso público de provas ou de provas e títulos.
- (E) Ter comprovado conhecimento em sua área de atuação.

55

Acerca da carreira dos Profissionais da Secretaria Municipal de Educação de Cuiabá, assinale a opção que define corretamente as atribuições do cargo indicado.

- (A) Professor: atribuições inerentes à confecção de atas, transferências escolares e boletins.
- (B) Técnico em Manutenção e Infraestrutura: atribuições inerentes às atividades de vigilância, de apoio na preparação da alimentação escolar e de manutenção da infraestrutura.
- (C) Técnico em Administração Escolar: atribuições inerentes às atividades de docência e de coordenação pedagógica.
- (D) Técnico de Nível Superior: atribuições inerentes às atividades de organização e uso das bibliotecas e de outros recursos didáticos.
- (E) Técnico em Mídias Didáticas: atribuições inerentes às atividades contábeis e de comunicação social, conforme necessidade do órgão central.

56

Segundo os princípios éticos e da cidadania, assinale a afirmativa correta.

- (A) O servidor público deve proceder de forma diligente no exercício de sua função.
- (B) O servidor público pode ausentar-se do serviço durante o expediente, sem prévia autorização.
- (C) O servidor público pode recusar fé a documentos públicos.
- (D) O servidor público pode opor resistência injustificada ao andamento de um documento.
- (E) O servidor público pode coagir os subordinados no sentido de filiarem-se a um partido político.

57

Segundo a Lei Complementar nº 220/2010, são considerados como tempo de efetivo exercício os afastamentos funcionais ocorridos em virtude de

- (A) desempenho de mandato eletivo.
- (B) ausência ao serviço sem justificativa.
- (C) licença para atividade de interesse pessoal.
- (D) participação em programas de formação religiosa.
- (E) serviço em atividade privada vinculada à previdência.

58

São formas de provimento dos cargos públicos do Município de Cuiabá:

- I. nomeação;
- II. promoção;
- III. transferência.

Está correto o que se afirma em

- (A) I, apenas.
- (B) I e II, apenas.
- (C) I e III, apenas.
- (D) II e III, apenas.
- (E) I, II e III.

59

O servidor público que descumpre seus deveres éticos e funcionais sujeita-se a processo administrativo disciplinar, a fim de apurar as eventuais infrações cometidas.

Sobre as normas do processo administrativo disciplinar, previstas na Lei Complementar nº 93/2003, assinale a afirmativa correta.

- (A) As reuniões e as audiências da comissão terão caráter público.
- (B) Um inimigo declarado do acusado pode participar de comissão de processo administrativo disciplinar.
- (C) Quando necessário, os membros da comissão disciplinar dedicarão tempo integral aos seus trabalhos, ficando dispensados do ponto até a entrega do relatório final.
- (D) A comissão de processo administrativo disciplinar exercerá suas atividades com parcialidade, atuando sempre de forma a agravar a situação do acusado.
- (E) Os membros da comissão disciplinar manterão sempre suas atividades funcionais normais, dedicando tempo parcial a averiguação dos fatos constantes do processo administrativo disciplinar.

60

Os agentes da Administração Pública Direta e Indireta de todos os Poderes do Município de Cuiabá deverão obedecer aos princípios listados nas opções a seguir, **à exceção de uma**. Assinale-a.

- (A) Moralidade e publicidade.
- (B) Igualdade e eficiência.
- (C) Moralidade e legalidade.
- (D) Pessoalidade e constitucionalidade.
- (E) Eficiência e impessoalidade.

Realização

