



Prefeitura Municipal de Paulínia 2021

MANHÃ

FISCAL SANITÁRIO

Tipo 1 – BRANCA



SUA PROVA

- As questões objetivas têm cinco alternativas de resposta (A, B, C, D, E) e somente uma delas está correta.
- Além deste caderno de questões, contendo cinquenta questões objetivas, você receberá do Fiscal de Sala:
 - o cartão-resposta das questões objetivas.



TEMPO

- Você dispõe de **3 horas** para a realização da prova, já incluído o tempo para a marcação do cartão-resposta.
- **2 horas** após o início da prova é possível retirar-se da sala, sem levar o caderno de questões.
- Faltando **30 minutos** para o final da prova é possível retirar-se da sala levando o caderno de questões.



NÃO SERÁ PERMITIDO

- Qualquer tipo de comunicação entre os candidatos durante a aplicação da prova;
- Levantar da cadeira sem autorização do Fiscal de Sala;
- Usar o sanitário ao término da prova, após deixar a sala.



INFORMAÇÕES GERAIS

- Verifique se seu caderno está completo, sem repetição de questões ou falhas. Caso contrário, notifique imediatamente o Fiscal da Sala, para que sejam tomadas as devidas providências;
- Confira seus dados pessoais, especialmente nome, número de inscrição e documento de identidade e leia atentamente as instruções para preencher o cartão-resposta;
- Use somente caneta esferográfica, fabricada em material transparente, com tinta preta ou azul;
- Assine seu nome apenas no(s) espaço(s) reservado(s);
- Confira sua cor e tipo do caderno de questões. Caso tenha recebido caderno de cor ou tipo **diferente** do impresso em seu cartão-resposta, o fiscal deve ser **obrigatoriamente** informado para o devido registro na Ata da Sala;
- Reserve tempo suficiente para o preenchimento do seu material. O preenchimento é de sua responsabilidade e não será permitida a troca do cartão-resposta em caso de erro;
- Para fins de avaliação, serão levadas em consideração apenas as marcações realizadas no cartão-resposta;
- Os candidatos serão submetidos ao sistema de detecção de metais quando do ingresso e da saída de sanitários durante a realização das provas;
- **Boa sorte!**

Língua Portuguesa

1

No interior dos bondes do Rio de Janeiro estava presente um pequeno cartaz que dizia:

*Veja, ilustre passageiro,
O belo tipo faceiro
Que o senhor tem a seu lado.
Mas, no entanto, acredite
Quase morreu de bronquite
Salvou-o o Runcreosotado*

Esse pequeno texto se enquadra, pelos seus versos, entre os textos de tipo

- (A) argumentativo, narrativo, poético e publicitário.
- (B) descritivo, narrativo, publicitário e poético.
- (C) narrativo, publicitário, poético e informativo.
- (D) publicitário, descritivo, normativo e narrativo.
- (E) poético, didático, descritivo e argumentativo.

2

Na história do nosso país, o primeiro escritor oficial foi Pero Vaz Caminha, que começa sua famosa Carta pelas seguintes palavras:

“Posto que o capitão-mor desta vossa frota e assim os outros capitães escrevem a Vossa Alteza a nova do achamento desta vossa terra nova, que se ora nesta navegação achou, não deixarei de dar disso minha conta a Vossa Alteza, assim como eu melhor puder, ainda que, para bem contar e falar, o saiba pior que todos fazer.”

Tendo em vista a situação de escravidão da frota e sua relação social em relação ao rei, podemos deduzir que Caminha

- (A) demonstra conhecer o espírito crítico do Rei.
- (B) mostra uma modéstia cortês diante do soberano.
- (C) indica uma relação de intimidade com o poder.
- (D) denuncia a competição entre ele e outros capitães.
- (E) antecipa informações que provocam suspense.

3

“Posto que o capitão-mor desta vossa frota e assim os outros capitães escrevem a Vossa Alteza a nova do achamento desta vossa terra nova, que se ora nesta navegação achou, não deixarei de dar disso minha conta a Vossa Alteza, assim como eu melhor puder ainda que, para bem contar e falar, o saiba pior que todos fazer.”

Esse segmento inicial da Carta nos mostra como a linguagem muda com o tempo; assim, se, em lugar do século XVI, esse texto fosse adaptado para nossos dias, deveríamos substituir

- (A) *Posto que* por *ainda que*.
- (B) *capitães* por *capitãos*.
- (C) *Vossa Alteza* por *Vossa Majestade*.
- (D) *ora por outrora*.
- (E) *nesta navegação* por *nessa navegação*.

4

“Amizade é semelhante a um bom café: uma vez frio não se aquece sem perder bastante do sabor original”.

Essa frase de base comparativa nos diz que

- (A) a amizade não permanece após a morte.
- (B) a amizade nunca será a mesma após uma separação.
- (C) a amizade não sobrevive sem dedicação mútua dos amigos.
- (D) a amizade será sempre uma relação prazerosa entre pessoas.
- (E) a amizade mostra valores diferentes segundo a época da vida.

5

Um executivo de uma empresa recebeu a seguinte mensagem eletrônica:

“Guilherme participou da reunião dos diretores com Heitor, na sucursal de Belo Horizonte, na qual ele voltou a pedir unidade na empresa.”

Assinale a opção que indica o problema de escritura dessa mensagem.

- (A) Erros de ortografia.
- (B) Pontuação inadequada.
- (C) Ambiguidade de termos.
- (D) Redundância de elementos.
- (E) Má seleção vocabular.

6

As frases a seguir apresentam redundâncias desnecessárias.

Assinale a opção que indica a frase que é redigida de forma adequada, evitando-se esse problema.

- (A) João encarou de frente a namorada.
- (B) O fato real é que isso acontece sempre.
- (C) Possivelmente poderá ocorrer um terremoto.
- (D) Grande multidão de pessoas invadiu o prédio.
- (E) Nem todos os dias praticamos boas ações.

7

Na escrita, frequentemente confundimos os vocábulos *mesmo* e *igual*, redigindo de forma inadequada.

Assinale a opção que indica a frase em que o vocábulo *mesmo* está bem empregado.

- (A) O cliente assistiu ao mesmo filme de ontem.
- (B) O freguês tomava o mesmo chope de sempre.
- (C) A menina comeu o mesmo prato de dois dias atrás.
- (D) Todos os dias o funcionário matava os mesmos insetos.
- (E) A secretária sempre colhia o mesmo cravo pela manhã.

8

Os maços de cigarros trazem o seguinte texto:

“As autoridades sanitárias advertem que o tabaco prejudica seriamente a saúde: fumar provoca câncer, bronquite crônica e outras enfermidades pulmonares.”

Esse texto, para conseguir que algumas pessoas deixem de fumar, apela para

- (A) a autoridade pública de saúde.
- (B) a alta despesa trazida pelo vício.
- (C) o aspecto estético do mau-gosto.
- (D) a atemorização em relação a doenças.
- (E) o incômodo social provocado pela fumaça.

9

As frases a seguir apresentam termos destacados que são empregados como repetição ou substituição de termos anteriores.

Assinale a opção que indica o termo que tem emprego **diferente**.

- (A) O livro de Machado estava na primeira estante, mas a obra não estava em posição de destaque.
- (B) De longe via-se o povoado e, em destaque, a torre da igreja; os sinos eram ouvidos ao longe.
- (C) O automóvel ficou estacionado na porta da casa; o veículo estava bastante empoeirado.
- (D) O delegado recebeu o marginal para interrogatório; o bandido negou-se a responder às perguntas.
- (E) O professor já tinha bastante idade, mas continuava a lecionar; todos ainda respeitavam o mestre.

10

Uma camiseta trazia estampada a seguinte frase:

“Não tomo juízo porque já tomo cerveja!”

O que provoca o humor na frase é

- (A) a desconsideração de algo que devia ser levado a sério.
- (B) o desprezo pelos conhecimentos tradicionais.
- (C) o emprego de um sentido inesperado do verbo *tomar*.
- (D) a repetição de palavras idênticas.
- (E) a negação total de uma atitude positiva.

Raciocínio Lógico

11

Certa quantia foi repartida entre os irmãos Alceu, Breno e Caio. Alceu recebeu a terça parte do total e Breno recebeu dois quintos do total.

A fração do total que coube a Caio é

- (A) $\frac{3}{8}$.
- (B) $\frac{5}{8}$.
- (C) $\frac{11}{15}$.
- (D) $\frac{9}{15}$.
- (E) $\frac{4}{15}$.

12

Um retângulo possui 16 m de perímetro e 15 m² de área. Um retângulo semelhante a esse possui 64 m de perímetro.

A área desse retângulo é

- (A) 60 m².
- (B) 120 m².
- (C) 180 m².
- (D) 240 m².
- (E) 300 m².

13

De certo concurso para funcionários de um hospital temos os dados a seguir:

Profissão	Carga horária	Remuneração	Remuneração por hora de trabalho
Técnico de enfermagem	30 h	R\$ 5.100,00	X
Técnico de radiologia	20 h	R\$ 3.600,00	Y
Técnico administrativo	40 h	R\$ 6.000,00	Z

Em relação à remuneração por hora de trabalho é correto afirmar que

- (A) $X > Y > Z$.
- (B) $Y > X > Z$.
- (C) $X > Z > Y$.
- (D) $Y > Z > X$.
- (E) $Z > X > Y$.

14

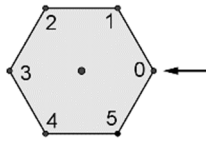
Em uma oficina de artesanato, 3 artesãos fazem o total de 3 vasos em 3 dias.

O número de dias que 12 artesãos levarão para fazer 12 vasos é

- (A) 3 dias.
- (B) 4 dias.
- (C) 6 dias.
- (D) 12 dias.
- (E) 24 dias.

15

A figura abaixo mostra uma seta fixa e uma placa hexagonal regular, com vértices numerados e que pode girar em torno do ponto central.



Fazer um *movimento* nessa placa significa efetuar uma rotação de 60° no sentido horário. Assim, aplicando um movimento na placa acima, a seta passará a apontar para o número 1.

A partir da situação inicial da figura acima, após 2021 movimentos da placa, a seta apontará para o número

- (A) 1.
- (B) 2.
- (C) 3.
- (D) 4.
- (E) 5.

16

Uma torradeira que custava R\$ 160,00 pode ser comprada com desconto por R\$ 115,20.

O percentual do desconto foi de

- (A) 22%.
- (B) 26%.
- (C) 28%.
- (D) 32%.
- (E) 45%.

17

Os funcionários A, B, C, D e E moram perto do hospital H onde trabalham. No plano cartesiano podemos representar (em certa escala) o hospital e as casas dos cinco funcionários por

$$H(0, 0), A(5, 0), B(4, 2), C(3, 3), D(2, 4), E(1, 4).$$

Considerando distâncias em linha reta, quem mora mais perto do hospital é

- (A) A.
- (B) B.
- (C) C.
- (D) D.
- (E) E.

18

Em uma caixa há 2 bolas brancas e 4 bolas pretas. Retirando, ao acaso 2 bolas, a probabilidade de que elas sejam de cores diferentes é de

- (A) 2/5.
- (B) 5/8.
- (C) 5/9.
- (D) 7/12.
- (E) 8/15.

19

Com os elementos do conjunto $C = \{1, 2, 3, \dots, 18, 19\}$ devemos formar dois conjuntos A e B tais que:

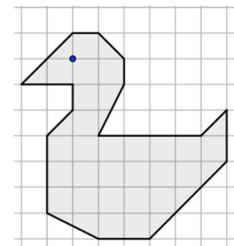
- $A \cup B = C$
- $A \cap B = \emptyset$
- Os elementos de A e de B têm mesma soma.

O número de elementos de A é, no mínimo, igual a

- (A) 5.
- (B) 6.
- (C) 7.
- (D) 8.
- (E) 9.

20

No quadriculado da figura abaixo, o lado de cada quadradinho é de 1 unidade.



Considerando a superfície de cada quadradinho como 1 unidade de área, a figura desenhada acima tem área igual a

- (A) 31.
- (B) 32.
- (C) 33.
- (D) 34.
- (E) 35.

Noções de Informática

21

Maria tem uma coleção de fotos, com um tamanho médio de 500 KB por foto. Considerando essa média, assinale o maior número de fotos que poderiam ser armazenadas num pendrive de 8 GB.

- (A) 8.000
- (B) 16.000
- (C) 32.000
- (D) 64.000
- (E) 160.000

22

João ligou seu computador para prosseguir no seu trabalho rotineiro, mas notou que o Windows 10 estava excessivamente lento, e decidiu investigar a causa do problema.

Assinale o componente do Windows que ajudaria João a descobrir os aplicativos e processos internos que estão ativos no sistema.

- (A) Agendador de Tarefas.
- (B) Configuração do Sistema.
- (C) Gerenciador de Tarefas.
- (D) Windows Defender.
- (E) Windows Explorer.

23

Analise as afirmativas a seguir referentes à comparação entre discos rígidos tradicionais (HD) e discos sólidos (SSD).

- I. HDs em geral são mais baratos.
- II. SSDs em geral são mais rápidos.
- III. SSDs são mais silenciosos.

Está correto o que se afirma em

- (A) II, somente.
- (B) I e II, somente.
- (C) I e III, somente.
- (D) II e III, somente.
- (E) I, II e III.

24

Considere um grande banco comercial cujo domínio na Internet é *bancox.com.br*. Como é muito popular, há vários fraudadores que enviam mensagens falsas para clientes e não clientes do banco, inventando motivos e pedindo que cliquem num certo link. Alguns desses links são exibidos a seguir.

www.atendimento.bancox.br.ouvidoria.com
www.bancox.com.br.atendimento.com
www.ouvidoria.atendimento.bancox.br
www.atendimento.bancox.com.br/dividas

Assinale o número de links que poderiam ser links genuinamente ligados ao referido banco.

- (A) Zero.
- (B) Um.
- (C) Dois.
- (D) Três.
- (E) Quatro.

25

Considere uma planilha LibreOffice Calc na qual

- 1) as células A1, A2, A3 e A4 contêm, respectivamente, os valores 10, 20, 30 e 40;
- 2) as células B1, B2, B3 e B4 contêm, respectivamente, os valores 100, 200, 300 e 400;
- 3) na célula F1 foi digitada a fórmula “=SOMA(A1:D4)”;
- 4) a célula F1 foi selecionada, copiada e colada na célula G2;
- 5) nenhuma outra célula foi preenchida.

Assinale o valor que passou a ser exibido na célula G2.

- (A) 90
- (B) 100
- (C) 900
- (D) 1.000
- (E) 1.100

26

Com relação à função *Limpar* do MS Excel 2010, disponível na guia *Página Inicial*, considere as opções presentes no menu *pop-up* exibido quando essa função é acionada.

Assinale a opção de limpeza que **não** faz parte das operações oferecidas.

- (A) Limpar Comentários.
- (B) Limpar Conteúdo.
- (C) Limpar Formatos.
- (D) Limpar Hiperlinks.
- (E) Limpar Tabelas.

27

Analise o trecho de uma planilha MS Excel na qual foram aplicados filtros em quatro colunas.

	A	B	C	D
1	X	Y	W	Z
2	1	2	3	4
3	5	6	7	8
4	9	10	11	12
5	13	14	15	16
6				

Foram selecionados os seguintes valores.

Coluna A: 1, 5, 9;

Coluna B: 2, 10;

Coluna C: nenhum dos valores foi selecionado;

Coluna D: 4.

Assinale o número de linhas exibidas após as seleções, sem contar a linha de títulos.

- (A) Zero.
- (B) Uma.
- (C) Duas.
- (D) Três.
- (E) Quatro.

28

Considere um comando de localização no MS Word, onde o texto a localizar foi

vo1

e as opções de busca avançada escolhidas foram:

“Diferenciar maiúsc./minúsc.”

“Localizar apenas palavras inteiras”

O texto objeto da busca é exibido a seguir.

Lorem ipsum dolor sit amet. Eos voluptatem dolores id mollitia dolor ad necessitatibus quia aut libero sunt non voluptatem nisi! Et modi voluptas qui rerum voluptas eos amet dicta et consequatur amet aut eligendi voluptatem ea laudantium molestias.

Assinale o número de palavras localizadas.

- (A) Zero.
- (B) Uma.
- (C) Duas.
- (D) Três.
- (E) Quatro.

29

Assinale o tipo de arquivo (extensão) que em geral **não** apresenta redução significativa de tamanho quando compactado por aplicativos do tipo *WinZip* ou *WinRAR*.

- (A) .csv
- (B) .docx
- (C) .jpg
- (D) .txt
- (E) .xlsx

30

No contexto do MS Word, os termos *Normal*, *Título 1*, *Título 2* são empregados para a identificação de

- (A) Estilos.
- (B) Fontes.
- (C) Formas.
- (D) Padrões ortográficos.
- (E) Símbolos especiais.

Legislação

31

O funcionário nomeado e empossado em cargo de provimento efetivo sob o regime da Lei Complementar nº 17/01, ao entrar em exercício, ficará sujeito a

- (A) estágio probatório por período 3 (três) anos.
- (B) regime de avaliação por período de 2 (dois) anos.
- (C) avaliação teórico-prática por provas semestrais.
- (D) análise de desempenho por período de 5 (cinco) anos.
- (E) exames médicos para avaliar sua produtividade e eficiência.

32

À luz do Art. 80 do Estatuto do Servidor Público de Paulínia, avalie as afirmativas a seguir.

- I. É dever do funcionário exercer com zelo e dedicação as atribuições do cargo.
- II. É dever do funcionário cumprir as ordens superiores, exceto quando manifestadamente ilegais.
- III. É dever do funcionário levar ao conhecimento da autoridade superior as irregularidades de que tiver ciência em razão do cargo.

Está correto o que se afirma em

- (A) I, apenas.
- (B) I e II, apenas.
- (C) I e III, apenas.
- (D) II e III, apenas.
- (E) I, II e III.

33

A qualidade do atendimento ao público envolve um conjunto de habilidades, como as descritas a seguir:

1. Receber as pessoas com cordialidade, passar uma imagem positiva e prestar um bom serviço.
2. Avaliar as demandas pertinentes dos públicos internos e externos e recusar as não apropriadas.

As atividades 1 e 2 correspondem à capacidade de

- (A) amenizar e agilizar.
- (B) recepcionar e filtrar.
- (C) informar e monitorar.
- (D) orientar e acolher.
- (E) diagnosticar e esclarecer.

34

Atender ao público é uma atividade fundamental, que representa o espelho da entidade perante o público. Para prestar um bom atendimento, uma das qualidades fundamentais de um servidor público municipal é ter a capacidade de se colocar no lugar do outro, para compreender o seu modo de pensar e como essa pessoa se sente frente a uma determinada situação ou sentimento.

Essa capacidade é denominada de

- (A) autocontrole.
- (B) presteza.
- (C) empatia.
- (D) simpatia.
- (E) solidariedade.

35

O atendimento à população por órgãos públicos deve pautar-se em um conjunto de princípios morais elevados, como o descrito a seguir.

A atuação da Administração Pública deve ocorrer sem prejuízo ou benefício de parte do público atendido, mantendo um tratamento isonômico, para realizar o interesse coletivo.

O princípio descrito é o de

- (A) legalidade.
- (B) publicidade.
- (C) moralidade.
- (D) impessoalidade.
- (E) eficiência.

Conhecimentos Específicos

36

Na Administração Pública, entende-se por agente público:

- (A) a instituição que emprega um servidor público para executar uma tarefa de interesse da sociedade.
- (B) a pessoa física incumbida de exercer uma função administrativa que cabe ao Estado.
- (C) o servidor responsável por contratar profissionais para exercer cargos públicos.
- (D) o órgão regulador das instituições públicas, que atua com isonomia e sem interferência do governo.
- (E) qualquer pessoa da sociedade para a qual as empresas estatais podem prestar serviço.

37

As atividades listadas a seguir são consideradas deveres do servidor público, à exceção de uma. Assinale-a.

- (A) Zelar pela conservação do patrimônio público.
- (B) Tratar com urbanidade as pessoas.
- (C) Ser leal às instituições a que servir.
- (D) Prestar serviços de forma voluntária, quando houver demandas de interesse público.
- (E) Levar as irregularidades de que tiver ciência, em razão do cargo, ao conhecimento do seu superior.

38

Uma vistoria administrativa identificou uma invasão de logradouro público por uma obra de caráter permanente. Segundo o Código de Posturas da Prefeitura de Paulínia, assinale a opção que indica o procedimento a ser adotado.

- (A) Promover imediatamente a demolição da obra.
- (B) Abrir processo civil contra o responsável pela obra.
- (C) Solicitar a regularização imediata da documentação relacionada à obra.
- (D) Abrir uma auditoria para identificar o responsável pela supervisão do local em que a obra foi realizada.
- (E) Solicitar um estudo da indenização a ser paga pelo responsável pela obra.

39

Assinale a opção que indica a instituição da União responsável pela Vigilância Sanitária.

- (A) CNS.
- (B) SUS.
- (C) ANVISA.
- (D) IBAMA.
- (E) MMA.

40

Um dos objetivos principais da Vigilância Sanitária, no que diz respeito às questões sanitárias, é controlar os riscos para a população.

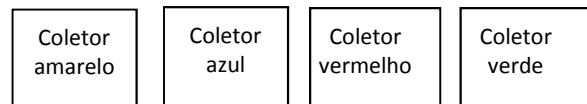
Dentre os aspectos que estão relacionados ao risco iatrogênico podemos citar

- (A) os vetores e transmissores de doenças.
- (B) as fronteiras, aeroportos e estações ferroviárias ou rodoviárias.
- (C) a violência contra grupos vulneráveis e necessidades básicas insatisfeitas.
- (D) o processo de produção, a carga horária, o ritmo e o ambiente de trabalho.
- (E) os tratamentos médicos ou o uso dos serviços de saúde.

41

A coleta seletiva de lixo tem diversas vantagens para a saúde pública e o saneamento, como por exemplo promover uma redução da poluição ambiental, combater o desperdício e promover a economia de matéria prima.

Atento a esses aspectos, um condomínio optou por adotar esse sistema, instalando quatro coletores de lixo, nas cores indicadas na figura a seguir.



Estes coletores estão destinados a receber os seguintes tipos de materiais, da esquerda para a direita:

- (A) metal, papel, plástico e vidro
- (B) metal, plástico, vidro e papel
- (C) papel, vidro, plástico e metal
- (D) papel, plástico, metal e vidro
- (E) metal, papel, vidro e plástico

42

“O conjunto de ações e serviços de saúde, prestados por órgãos e instituições públicas federais, estaduais e municipais, da administração direta e indireta e das fundações mantidas pelo Poder Público, constitui o Sistema Único de Saúde (SUS).”

Em relação ao SUS, analise as afirmativas a seguir.

- I. A iniciativa privada poderá participar do SUS, em caráter complementar.
- II. Dentre os campos de ação do SUS, incluem-se os relacionados à saúde do trabalhador.
- III. O SUS não pode influenciar a formulação da política de medicamentos, por resultar em conflito de interesses.

Está correto o que se afirma em

- (A) I, somente.
- (B) II, somente.
- (C) III, somente.
- (D) I e II, somente.
- (E) II e III, somente.

43

As opções a seguir apresentam determinações aplicáveis ao manuseio, acondicionamento e transporte de produtos perigosos, à exceção de uma. Assinale-a.

- (A) O conjunto de EPIs deve estar agrupado e localizado na cabine do veículo.
- (B) Veículos vazios e não limpos, que contenham resíduos do produto perigoso, estão sujeitos às mesmas prescrições aplicáveis a veículos e equipamentos carregados.
- (C) Durante as operações de carga, transporte e descarga, os veículos e equipamentos utilizados no transporte de produtos perigosos devem estar devidamente sinalizados.
- (D) No caso do transporte a granel, as características técnicas e operacionais devem atender, adicionalmente, aos Regulamentos Técnicos do Inmetro.
- (E) Quando forem utilizados veículos classificados como "misto", os produtos perigosos podem ser transportados sem necessidade de segregação física do condutor.

44

O fenômeno de eutrofização caracteriza uma poluição do tipo

- (A) atmosférica.
- (B) hídrica.
- (C) do solo.
- (D) térmica.
- (E) sonora.

45

As opções a seguir relacionam algumas medidas de proteção e controle da qualidade ambiental que estão relacionadas à geração de resíduos sólidos, à exceção de uma. Assinale-a.

- (A) Incentivar a reutilização de embalagens.
- (B) Incentivar a redução do desperdício de materiais.
- (C) Reduzir o ciclo de vida dos produtos.
- (D) Segregar os resíduos na fonte.
- (E) Reduzir a produção de resíduo orgânico.

46

Leia o fragmento a seguir.

"Um alimento não perecível é aquele que, possuindo _____ teor de água e sendo armazenado _____, tem boas condições para consumo por _____ tempo."

Assinale a opção que apresenta os termos que completam corretamente as lacunas do fragmento acima.

- (A) alto – refrigerado – mais
- (B) baixo – refrigerado – mais
- (C) alto – refrigerado – menos
- (D) baixo – em temperatura ambiente – mais
- (E) alto – em temperatura ambiente – menos

47

Relacione os princípios para um serviço público de qualidade com suas respectivas definições.

1. Impessoalidade
 2. Publicidade
 3. Moralidade
- () ser transparente em relação aos serviços e ações realizadas
 () não fazer acepção a pessoas ao realizar um serviço
 () possuir e aplicar valores de aceitação pública
- Assinale a opção que mostra a relação correta, segundo a ordem apresentada.
- (A) 1 – 2 – 3.
 - (B) 1 – 3 – 2.
 - (C) 2 – 1 – 3.
 - (D) 2 – 3 – 1.
 - (E) 3 – 2 – 1.

48

Para a obtenção do laudo técnico de avaliação (LTA) de um projeto residencial, junto à vigilância sanitária da Prefeitura de Paulínia, assinale a opção que indica o documento que não precisa ser apresentado.

- (A) Formulário de solicitação de avaliação sanitária.
- (B) Planta aprovada na PMP.
- (C) Ofício ao prefeito solicitando a avaliação do projeto.
- (D) ART do responsável técnico.
- (E) Licença CETESB.

49

Com relação ao Art. 371 do Código de Posturas de Paulínia, referente aos autos de infração, analise as afirmativas a seguir e assinale (V) para a verdadeira e (F) para a falsa.

- () O auto só pode ser lavrado caso o infrator concorde em assiná-lo.
- () O infrator terá o prazo de 30 dias, a partir da data da lavratura do auto de infração, para apresentar defesa, por meio de requerimento dirigido ao Prefeito.
- () A lavratura do auto de infração independe de testemunhas e o servidor público Municipal que o lavrou assume inteira responsabilidade pelo mesmo.

As afirmativas são, na ordem apresentada, respectivamente,

- (A) F – F – F.
- (B) F – F – V.
- (C) F – V – V.
- (D) V – F – V.
- (E) V – V – V.

50

Os gêneros alimentícios suspeitos de adulteração, fraude, falsificação ou que contenham substâncias nocivas à saúde deverão ser interditados.

Assinale a opção que indica, segundo o Código de Posturas de Paulínia, o exame a que eles devem ser submetidos.

- (A) Bromatológico.
- (B) Morfológico.
- (C) Densitológico.
- (D) Bacteriológico.
- (E) Toxicológico.

Realização

