



# Governo do Estado de Pernambuco

Companhia Pernambucana de Saneamento – COMPESA

Prova Escrita Objetiva

Nível Médio – Assistente de Saneamento e Gestão – Manhã

## Técnico de Enfermagem do Trabalho

TIPO 1 – BRANCA

### Informações Gerais

- Você receberá do fiscal de sala:
  - uma folha de respostas destinada à marcação das respostas das questões objetivas;
  - esse caderno de prova contendo **60 (sessenta)** questões objetivas, cada qual com **cinco** alternativas de respostas (A, B, C, D e E).
- Verifique se seu caderno está completo, sem repetição de questões ou falhas. Caso contrário, notifique imediatamente o fiscal de sala para que sejam tomadas as devidas providências.
- As questões objetivas são identificadas pelo número situado acima do seu enunciado.
- Ao receber a folha de respostas da prova objetiva você deve:
  - conferir seus dados pessoais, em especial seu nome, número de inscrição e o número do documento de identidade;
  - ler atentamente as instruções para o preenchimento da folha de respostas;
  - marcar na folha de respostas da prova objetiva o campo relativo à confirmação do tipo/cor de prova, conforme o caderno que você recebeu;
  - assinar seu nome, apenas nos espaços reservados, com caneta esferográfica de tinta azul ou preta.
- Durante a aplicação da prova não será permitido:
  - qualquer tipo de comunicação entre os candidatos;
  - levantar da cadeira sem a devida autorização do fiscal de sala;
  - portar aparelhos eletrônicos, tais como *bipe*, telefone celular, agenda eletrônica, *notebook*, *palmtop*, receptor, gravador, máquina de calcular, máquina fotográfica digital, controle de alarme de carro etc., bem como relógio de qualquer modelo, óculos escuros ou quaisquer acessórios de chapelaria, tais como chapéu, boné, gorro etc. e, ainda, lápis, lapiseira (grafite), corretor líquido e/ou borracha. Tal infração poderá acarretar a eliminação sumária do candidato.
- O preenchimento das respostas da prova objetiva, de inteira responsabilidade do candidato, deverá ser feito com caneta esferográfica de tinta indelével de cor preta ou azul. **Não será permitida a troca da folha de respostas por erro do candidato.**
- O tempo disponível para a realização da prova é de **4 (quatro)** horas, já incluído o tempo para a marcação da folha de respostas da prova objetiva.
- Reserve tempo suficiente para o preenchimento de suas respostas. Para fins de avaliação, serão levadas em consideração apenas as marcações realizadas na folha de respostas da prova objetiva, não sendo permitido anotar informações relativas às suas respostas em qualquer outro meio que não seja o próprio caderno de provas.
- Somente após decorrida **uma hora e meia** do início da prova você poderá retirar-se da sala de prova, contudo sem levar o caderno de provas.
- Somente no decorrer dos últimos **sessenta minutos** do período da prova, você poderá retirar-se da sala levando o caderno de provas.
- Ao terminar a prova, entregue a folha de respostas ao fiscal da sala e deixe o local de prova. Caso você se negue a entregar, será eliminado do concurso.
- A FGV realizará a coleta da impressão digital dos candidatos na folha de respostas.
- Os candidatos poderão ser submetidos a sistema de detecção de metais quando do ingresso e da saída de sanitários durante a realização das provas. Ao sair da sala, ao término da prova, o candidato não poderá usar o sanitário.
- Os gabaritos preliminares das provas objetivas serão divulgados no dia **26/05/2014**, no endereço eletrônico [www.fgv.br/fgvprojetos/concursos/compesa](http://www.fgv.br/fgvprojetos/concursos/compesa).
- O prazo para interposição de recursos contra os gabaritos preliminares será das 0h00min do dia **27/05/2014** até às 23h59min do dia **29/05/2014**, observado o horário oficial de Recife, no endereço [www.fgv.br/fgvprojetos/concursos/compesa](http://www.fgv.br/fgvprojetos/concursos/compesa), por meio do Sistema Eletrônico de Interposição de Recurso.



## Língua Portuguesa

### Dia do Trabalho

Em abril de 1886, eclodiram nos Estados Unidos diversas greves, nas quais os operários reivindicavam jornada de trabalho de oito horas diárias. Essa reivindicação baseava-se em um raciocínio muito simples: se o dia tem 24 horas, deveria ser dividido logicamente em três partes de oito horas – uma para o trabalho, outra para descanso e lazer e outra para o estudo.

Em 1º de maio do mesmo ano, milhares de trabalhadores de Chicago iniciaram uma greve geral. Três dias depois, a praça Haymarket, na cidade, foi ocupada por operários anarquistas reunidos em um grande comício para protestar contra a morte de grevistas na porta de uma fábrica no dia anterior. Quase no fim da manifestação, a polícia ordenou que os operários abandonassem imediatamente a praça. Nesse momento uma bomba foi atirada na direção dos policiais, matando um deles e ferindo vários outros. Seguiu-se um tiroteio, no qual foram mortos vários manifestantes.

Os anarquistas foram acusados de atirar a bomba, o que motivou uma grande campanha na imprensa para reprimir o movimento. Alguns dias depois, oito líderes foram presos e julgados rapidamente. Sete deles foram condenados à morte sem provas conclusivas sobre seu envolvimento no atentado. Ao final do processo, dois condenados à morte tiveram a pena transformada em prisão perpétua, um se suicidou na prisão e quatro foram enforcados em praça pública.

Esses manifestantes passaram a ser lembrados como os “mártires de Chicago”. Em homenagem a eles, a partir de 1890 correntes ideológicas do movimento operário internacional e organizações sindicais passaram a comemorar em 1º de maio o Dia do Trabalho, realizando grandes manifestações em todo o mundo, exceto nos Estados Unidos. Curiosamente, no país onde ocorreu o massacre de Chicago, o Dia do Trabalho é comemorado oficialmente na primeira segunda-feira de setembro, desde 1894.

(Marcos Napolitano e Mariana Villaça)

### 01

“nas quais os operários reivindicavam ...” / “Essa reivindicação...”

O segundo termo sublinhado estabelece com o primeiro o mesmo tipo de relação de coesão que ocorre em

- (A) Construir estradas de ferro parece ser uma solução para o transporte de mercadorias, mas os construtores reclamam das más condições de trabalho.
- (B) Aderir a manifestações de rua virou moda no Brasil, mas a adesão já trouxe muitos problemas a alguns manifestantes.
- (C) Os movimentos grevistas cresceram no país, mas crescer não significa obrigatoriamente aumento de consciência política.
- (D) Eclodiram nos Estados Unidos diversas greves e essa explosão acarretou mudanças nas leis trabalhistas.
- (E) Dividir o dia em três partes é uma criação engenhosa, mas dividirem-no assim atende a interesses dos patrões.

### 02

A divisão do dia, segundo a proposta do primeiro parágrafo do texto, tem inúmeros pressupostos, dentre os quais não se encontra:

- (A) o trabalho necessita de contínuo aperfeiçoamento.
- (B) a qualificação da mão de obra é indispensável.
- (C) a remuneração do trabalho deve crescer continuamente.
- (D) o trabalhador necessita de tempo livre para si mesmo.
- (E) a atividade de trabalho não deve ocupar a maior parte do dia.

### 03

“Seguiu-se um tiroteio, no qual vários manifestantes foram mortos”.

A estruturação sintática dessa frase provoca o seguinte resultado:

- (A) os responsáveis pelas ações verbais não são identificados.
- (B) a primeira ação é mostrada como consequência da segunda.
- (C) as duas ações verbais são vistas como independentes.
- (D) o tempo da segunda ação é apresentado como distante da primeira ação.
- (E) a segunda ação verbal funciona como crítica à ação anterior.

### 04

“Operários anarquistas”

Com o termo “anarquistas”, o texto faz referência a operários

- (A) que desejavam promover atos de vandalismo.
- (B) que pretendiam criar anarquia nas fábricas.
- (C) que tinham a intenção de promover confusão ou desordem.
- (D) que tencionavam resistir à ordem estabelecida pela resistência pacífica.
- (E) que se filiavam à teoria política do anarquismo.

### 05

“Nesse momento uma bomba foi atirada na direção dos policiais, matando um deles e ferindo vários outros”.

Sobre os componentes desse segmento do texto, assinale a afirmativa correta.

- (A) “Nesse momento” se refere ao momento da morte do policial.
- (B) “foi atirada” se refere a uma ação praticada pela “bomba”.
- (C) “na direção dos policiais” indica uma ação involuntária.
- (D) “matando” e “ferindo” são ações praticadas pelo mesmo agente.
- (E) “um deles” indica um policial qualquer, não uma quantidade.

### 06

Assinale a opção que indica a finalidade do texto “Dia do Trabalho”.

- (A) Denunciar atos de violência contra operários.
- (B) Mostrar o despreparo dos policiais diante de manifestações públicas.
- (C) Informar sobre a razão de o dia 1º de maio ser o “dia do trabalho”.
- (D) Criticar a violência gratuita de manifestantes.
- (E) Registrar datas simbólicas como obra do acaso.

### 07

Assinale a opção que apresenta o segmento do texto que mostra uma voz verbal diferente das demais.

- (A) “Os anarquistas foram acusados de atirar a bomba...”.
- (B) “Alguns dias depois, oito líderes foram presos e julgados rapidamente”.
- (C) “Sete deles foram condenados à morte sem provas conclusivas...”.
- (D) “Ao final do processo, dois condenados à morte tiveram a pena transformada em prisão perpétua...”.
- (E) “... e quatro foram enforcados em praça pública”.

**08**

Em todos os segmentos a seguir há a presença de formas do infinitivo.

Assinale a opção em que a substituição nominal dessas formas ocorre de maneira **inadequada**.

- (A) “*para protestar contra a morte de grevistas*” / para protesto contra a morte de grevistas
- (B) “*Os anarquistas foram acusados de atirar a bomba*” / Os anarquistas foram acusados pelo atiramento da bomba
- (C) “*para reprimir o movimento*” / para a repressão do movimento
- (D) “*o dia (...) deveria ser dividido em três partes*” / a devida divisão do dia em três partes
- (E) “*organizações sindicais passaram a comemorar em 1º de maio*” / a comemoração feita em 1º de maio pelas organizações sindicais

**09**

“*Alguns dias depois, oito líderes foram presos e julgados rapidamente*”. O advérbio “*rapidamente*” indica

- (A) uma crítica a um trabalho mal feito.
- (B) um elogio à eficiência da justiça.
- (C) uma satisfação aos sindicatos de operários.
- (D) uma alusão ao poder da imprensa.
- (E) uma provocação pela comparação com os nossos processos penais.

**10**

“*Esses manifestantes passaram a ser lembrados como os ‘mártires de Chicago’.* Em homenagem a eles, a partir de 1890 correntes ideológicas do movimento operário internacional e organizações sindicais passaram a comemorar em 1º de maio o Dia do Trabalho, realizando grandes manifestações em todo o mundo, exceto nos Estados Unidos”.

Nesse segmento do texto há três ocorrências do vocábulo em. Assinale a opção que mostra uma afirmativa correta sobre essas ocorrências.

- (A) As duas primeiras ocorrências mostram valor de tempo.
- (B) As três ocorrências mostram valor semântico diferente.
- (C) As duas últimas ocorrências mostram o mesmo valor semântico.
- (D) A última ocorrência tem valor de “causa”.
- (E) A primeira ocorrência tem valor de explicação.

**11**

Os advérbios terminados pelo sufixo -mente são criados pela junção desse sufixo à forma feminina do adjetivo. O exemplo a seguir que **não** mostra essa formação em sua estrutura é:

- (A) “*Curiosamente, no país onde ocorreu o massacre de Chicago...*”
- (B) “*...oito líderes foram presos e julgados rapidamente*”
- (C) “*o Dia do Trabalho é comemorado oficialmente...*”
- (D) “*...deveria ser dividido logicamente em três partes...*”
- (E) “*...abandonassem imediatamente a praça...*”

**12**

Assinale a frase em que **não** ocorre a presença de um sujeito posposto.

- (A) “*Curiosamente, no país onde ocorreu o massacre de Chicago...*”.
- (B) “*... o Dia do Trabalho é comemorado oficialmente na primeira segunda-feira de setembro, desde 1894*”.
- (C) “*Em abril de 1886, eclodiram nos Estados Unidos diversas greves...*”.
- (D) “*Seguiu-se um tiroteio...*”.
- (E) “*...no qual foram mortos vários manifestantes*”.

**13**

“*Em homenagem a eles, a partir de 1890 correntes ideológicas do movimento operário internacional e organizações sindicais passaram a comemorar em 1º de maio o Dia do Trabalho*”.

A substituição de um termo desse segmento que é adequada ao contexto é

- (A) Em homenagem a eles / Em sua homenagem
- (B) a partir de 1890 / desde 1890
- (C) e organizações sindicais / assim como organizações sindicais
- (D) passaram a comemorar / decidiram comemorar
- (E) em 1º de maio / no dia 1º de maio

**14**

“*Em abril de 1886, eclodiram nos Estados Unidos diversas greves, nas quais os operários reivindicavam jornada de trabalho de oito horas diárias. Essa reivindicação baseava-se em um raciocínio muito simples: se o dia tem 24 horas, deveria ser dividido logicamente em três partes de oito horas – uma para o trabalho, outra para descanso e lazer e outra para o estudo*”.

Assinale a opção em que a troca dos elementos provoca **alteração** de sentido.

- (A) “*Em abril de 1886, eclodiram nos Estados Unidos diversas greves...*”
- (B) “*...nas quais os operários reivindicavam jornada de trabalho de oito horas diárias*”
- (C) “*Essa reivindicação baseava-se em um raciocínio muito simples...*”
- (D) “*Essa reivindicação baseava-se em um raciocínio muito simples...*”
- (E) “*Em abril de 1886, eclodiram nos Estados Unidos diversas greves*”

**15**

“*Em abril de 1886, eclodiram nos Estados Unidos diversas greves*”.

Assinale a opção que indica a forma de reescrever esse segmento do texto que mostra pontuação **inadequada**.

- (A) Em abril de 1886 eclodiram nos Estados Unidos diversas greves.
- (B) Em abril de 1886 eclodiram, nos Estados Unidos, diversas greves.
- (C) Em abril de 1886, eclodiram nos Estados Unidos, diversas greves.
- (D) Eclodiram nos Estados Unidos, em abril de 1886, diversas greves.
- (E) Em abril de 1886, eclodiram, nos Estados Unidos, diversas greves.

## Noções de Informática

16

Observe as especificações do microcomputador a seguir.



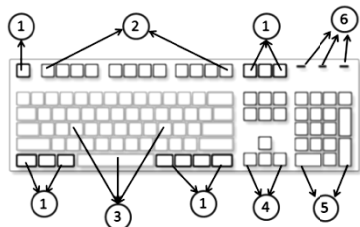
Computador Premium K5180 com Intel Core i3 8GB 1TB Windows 8 - Positivo + Monitor LED 19,5 20EN335S - LG

As citações “Intel Core i3”, “8GB” e “1TB” fazem referência, respectivamente, aos seguintes componentes:

- (A) microprocessador, memória CACHE/L3 e *pendrive*.
- (B) placa-mãe, memória RAM/DDR e *pendrive*.
- (C) microprocessador, memória RAM/DDR e disco rígido SATA.
- (D) placa-mãe, memória CACHE/L3 e disco rígido SATA.
- (E) microprocessador, memória CACHE/L3 e disco rígido SATA.

17

Observe a figura a seguir, que representa um teclado ABNT2 e assinale V para a afirmativa verdadeira e F para a falsa.






- ( ) **Teclas de controle:** identificadas por 1, são usadas sozinhas ou em combinação com outras teclas para executar determinadas ações. As teclas mais usadas são Ctrl, Alt, logotipo do Windows e Esc.
- ( ) **Teclas de função:** identificadas por 2, são usadas para tarefas específicas. Elas foram rotuladas por F1 ... F12, e suas funcionalidades variam de programa para programa.
- ( ) **Teclas de digitação:** identificadas por 5, permitem editar textos e movimentar-se por documentos e páginas de *sites* da *web*. Elas incluem as teclas de seta, Home, End, PgUp, PgDn, Insert e Delete.

As afirmativas são, respectivamente,

- (A) F, V e F.
- (B) F, V e V.
- (C) V, F e F.
- (D) V, V e F.
- (E) F, F e V.

18



Um Assistente de Saneamento e Gestão está trabalhando em um microcomputador com sistema operacional Windows 8 BR, tendo realizado os procedimentos listados a seguir.

- I. selecionou o arquivo  COMPROVANTE\_PAGTO na pasta COMPESA-PE do disco  OS (C:) e executou um atalho de teclado.
- II. selecionou o *pendrive*, referenciado como  Disco removível (G:) e executou outro atalho de teclado.

Os atalhos de teclado, nessa sequência, são respectivamente

- (A) Ctrl + C e Ctrl + V.
- (B) Ctrl + C e Ctrl + S.
- (C) Ctrl + X e Ctrl + V.
- (D) Ctrl + X e Ctrl + S.
- (E) Ctrl + X e Ctrl + C.


19

Um usuário do sistema Windows 7 BR realizou os procedimentos listados a seguir, na janela “Computador” do Windows Explorer e excluiu o arquivo  da pasta COMPESA-PE do disco C:\. Posteriormente, ele decidiu voltar à situação anterior. Para isso, ele acessou a Lixeira e clicou o botão direito do *mouse* no nome do arquivo excluído , o que fez surgir uma pequena janela na tela.

Nessa janela ele deve clicar na seguinte opção:

- (A) Recuperar.
- (B) Regenerar.
- (C) Reabilitar.
- (D) Retificar.
- (E) Restaurar.

20

No Word 2010 BR, um atalho de teclado gera o mesmo resultado que pressionar o ícone  e uma tecla de função tem por significado “Salvar como...”.

O atalho de teclado e a tecla de função são, respectivamente,

- (A) Ctrl + E e F11.
- (B) Ctrl + E e F12.
- (C) Ctrl + E e F10.
- (D) Alt + E e F12.
- (E) Alt + E e F11.

21


O Word 2010 BR oferece um recurso que permite inserir elementos gráficos em um documento para comunicar informações visualmente, que variam desde listas gráficas e diagramas de processos até os mais complexos, como diagramas de Venn e organogramas.

Esse recurso é conhecido por

- (A) DrawArt.
- (B) ToolsArt.
- (C) SmartArt.
- (D) WordArt.
- (E) GraphArt.

22

A planilha a seguir foi criada no Excel 2010 BR.

	A	B	C	D	E
1					
2					
3					
4					
5					
6	30	10	90	60	40
7					
8	Menor número entre todos =				10


Na célula E8 foi inserida uma expressão que determina o menor número entre os que estão no intervalo de A6 a E6.

Sabendo que duas funções podem ser utilizadas neste caso, as expressões possíveis são:

- (A) =MÍNIMO(A6\$E6) e =MENOR(A6\$E6)
- (B) =MÍNIMO(A6:E6) e =MENOR(A6:E6)
- (C) =MÍNIMO(A6:E6;1) e =MENOR(A6:E6;1)
- (D) =MÍNIMO(A6:E6;1) e =MENOR(A6:E6)
- (E) =MÍNIMO(A6:E6) e =MENOR(A6:E6;1)

**23**

Em um microcomputador com sistema operacional Windows 8 BR, para imprimir uma apresentação de *slides*, o Powerpoint 2010 BR oferece as possibilidades descritas a seguir:

- por meio de um clique no ícone  de impressão rápida;
- por meio da opção **Imprimir**, existente em **Arquivo**, na barra de *menus* na Faixa de Opções;
- por meio da execução de um atalho de teclado.

O atalho de teclado é:

- (A) Ctrl + P
- (B) Ctrl + I
- (C) Ctrl + F3
- (D) Alt + I
- (E) Alt + P

**24**

Com relação aos recursos do MSOffice Outlook 2010 BR, analise as afirmativas a seguir.

- Armazena as mensagens de correio que chegam da Internet na Caixa de Entrada.
- Permite o envio de *e-mails* com a opção de solicitação de confirmação de leitura.
- Usa o espaço indicado por Cc... para enviar *e-mails* no modo cópia oculta

Assinale:

- (A) se somente a afirmativa I estiver correta.
- (B) se somente a afirmativa II estiver correta.
- (C) se somente a afirmativa III estiver correta.
- (D) se somente as afirmativas I e II estiverem corretas.
- (E) se todas as afirmativas estiverem corretas.

**25**

No uso dos recursos da Internet é comum baixar arquivos em formato PDF ou mesmo atualizações de programas antivírus, não havendo necessidade de o internauta ser um especialista em informática.

Essa atividade é conhecida pelo seguinte termo:

- (A) *proxy*.
- (B) *download*.
- (C) *firewall*.
- (D) *backup*.
- (E) *swap*.

## Legislação Específica sobre Saneamento

**26**

Segundo a Lei nº 11.445/07, os serviços públicos de saneamento básico devem ser prestados com base nos princípios listados a seguir, **à exceção de um**. Assinale-o.

- (A) Universalização do acesso.
- (B) Controle econômico.
- (C) Eficiência e sustentabilidade econômica.
- (D) Segurança, qualidade e regularidade.
- (E) Adoção de métodos, técnicas e processos que considerem as peculiaridades locais e regionais.

**27**

De acordo com os conceitos previstos na Lei nº 11.445/07, assinale a afirmativa **incorreta**.

- (A) Considera-se universalização a progressiva ampliação do acesso de todos os domicílios ocupados ao saneamento básico.
- (B) Considera-se controle social o conjunto de mecanismos e procedimentos que garantem informações, representações técnicas e participação no planejamento e na avaliação dos serviços públicos de saneamento básico.
- (C) Considera-se subsídio o instrumento econômico de política social para garantir a universalização do acesso ao saneamento básico, especialmente para populações e localidades de baixa renda.
- (D) Considera-se serviço público a ação de saneamento executada por meio de soluções individuais, ainda que o usuário não dependa de terceiros para operar os serviços, o que inclui o manejo de resíduos de responsabilidade do gerador.
- (E) Considera-se saneamento básico o conjunto de serviços, infra-estruturas e instalações necessárias ao abastecimento público de água potável, desde a captação até as ligações prediais e respectivos instrumentos de medição.

**28**

A respeito da *prestação regionalizada de serviços públicos de saneamento*, prevista na Lei nº 11.445/07, assinale a afirmativa correta.

- (A) Admite vários prestadores do serviço para diversos municípios, contíguos ou não.
- (B) Pluraliza a fiscalização e a regulação dos serviços, inclusive de sua remuneração.
- (C) Uniformiza a fiscalização e a regulação dos serviços, exceto sua remuneração.
- (D) Admite vários prestadores do serviço somente para municípios contíguos.
- (E) Exige a compatibilidade de planejamento.

**29**

Conforme determina a Lei nº 11.445/07, os reajustes de tarifas de serviços públicos de saneamento básico são realizados observando-se um intervalo mínimo de tempo, de acordo com as normas legais, regulamentares e contratuais.

Assinale a opção que apresenta o intervalo mínimo previsto na legislação.

- (A) 3 (três) meses
- (B) 4 (quatro) meses
- (C) 6 (seis) meses
- (D) 10 (dez) meses
- (E) 12 (doze) meses

**30**

Sobre os objetivos da regulação, segundo a Lei nº 11.445/07, assinale a afirmativa correta.

- (A) Mantém a independência decisória, incluindo autonomia administrativa, orçamentária e financeira da entidade reguladora.
- (B) Exige transparência, tecnicidade, celeridade e objetividade das decisões.
- (C) Previne e reprime o abuso do poder econômico, ressalvada a competência dos órgãos integrantes do sistema nacional de defesa da concorrência.
- (D) Garante o cumprimento das condições, sem estabelecer metas.
- (E) Estabelece padrões e normas para a adequada prestação dos serviços, sem relevância sobre a satisfação dos usuários.

## Conhecimentos Específicos

**31**

Sobre a Comissão Interna de Prevenção de Acidentes – CIPA, analise as afirmativas a seguir.

- I. A CIPA deve elaborar um plano de trabalho que possibilite a ação preventiva na solução de problemas de segurança e saúde no trabalho.
- II. O empregador deve proporcionar aos membros da CIPA os meios necessários para o desempenho de suas atribuições.
- III. A CIPA deve ser composta de representantes do empregador e dos empregados, sendo que os representantes dos empregados deverão fazer parte da empresa, no mínimo, há três anos.

Assinale:

- (A) se somente a afirmativa I estiver correta.
- (B) se somente a afirmativa II estiver correta.
- (C) se somente a afirmativa III estiver correta.
- (D) se somente as afirmativas I e II estiverem corretas.
- (E) se somente as afirmativas II e III estiverem corretas.

**32**

Considerando as normas estabelecidas para a realização dos exames ocupacionais, assinale V para a afirmativa verdadeira e F para a falsa.

- ( ) Os trabalhadores expostos a riscos ou situações de trabalho que impliquem o desencadeamento ou o agravamento de doença ocupacional devem realizar exames periódicos, a cada dois anos.
- ( ) No exame de retorno ao trabalho, a avaliação clínica deverá ser realizada obrigatoriamente no primeiro dia da volta ao trabalho de trabalhador ausente por período igual ou superior a 30 (trinta) dias.
- ( ) O exame demissional será dispensado sempre que houver sido realizado qualquer outro exame médico obrigatório em período inferior a 135 dias para empresas de graus de risco 1 e 2.

As afirmativas são, respectivamente,

- (A) F, V e F.
- (B) V, F e V.
- (C) F, F e V.
- (D) V, V e F.
- (E) F, V e V.

**33**

Com base na classificação dos riscos ambientais a que um trabalhador pode ser exposto, assinale a opção que corresponde a agentes químicos.

- (A) Vibrações.
- (B) Pressões anormais.
- (C) Neblinas tóxicas.
- (D) Temperaturas extremas.
- (E) Radiações ionizantes.

**34**

Assinale a opção que indica a condição que exige a realização do exame de mudança de função.

- (A) Se ocorrer qualquer mudança de função independente do setor.
- (B) Se houver alteração do risco a que o trabalhador será exposto.
- (C) Se o trabalhador for promovido para um cargo de chefia.
- (D) Se houver transferência para outro estado ou município.
- (E) Se houver alteração na remuneração mesmo que não altere o cargo.

**35**

O prontuário médico do trabalhador deve ser guardado, após seu desligamento, por um período mínimo de

- (A) 5 anos.
- (B) 10 anos.
- (C) 15 anos.
- (D) 20 anos.
- (E) 30 anos.

**36**

Sobre a vacina contra a hepatite B, analise as afirmativas a seguir.

- I. As duas primeiras doses devem ser aplicadas com intervalo de um mês, e a terceira, seis meses após a primeira.
- II. Em adultos, a vacina deve ser administrada no músculo deltoide, e em crianças menores de 2 anos, no vasto lateral da coxa.
- III. Pode ser administrada em qualquer idade e simultaneamente com outras vacinas do calendário.

Assinale:

- (A) se somente a afirmativa I estiver correta.
- (B) se somente a afirmativa II estiver correta.
- (C) se somente a afirmativa III estiver correta.
- (D) se somente as afirmativas I e II estiverem corretas.
- (E) se todas as afirmativas estiverem corretas.

**37**

De acordo com os limites de tolerância estabelecidos para ruído contínuo e intermitente, o tempo máximo que um trabalhador deve ficar exposto a níveis de ruídos de 100 dB é de

- (A) uma hora.
- (B) duas horas.
- (C) quinze minutos.
- (D) trinta minutos.
- (E) quarenta minutos.

**38**

Assinale a opção correspondente a um Equipamento de Proteção Coletiva – EPC.

- (A) Luva de procedimento
- (B) Lava-olhos
- (C) Óculos de proteção
- (D) Máscara descartável
- (E) Cinturão de segurança

**39**

A notificação compulsória é obrigatória para todo profissional de saúde no exercício de sua profissão.

Assinale a opção que indica uma doença ou agravo da Lista de Notificação Compulsória em Unidades Sentinelas – LNCs.

- (A) Doença de Chagas aguda
- (B) Febre amarela
- (C) Síndrome de rubéola congênita
- (D) Doença meningocócica
- (E) *Influenza* humana

**40**

Manchas esbranquiçadas, avermelhadas ou amarronzadas em qualquer parte do corpo são sintomas relacionados à

- (A) hanseníase.
- (B) dermatite ocupacional.
- (C) urticária de contato.
- (D) dermatose pápulo-pustulosa.
- (E) ceratose actínica.

**41**

Com base nas diretrizes do Programa de Controle Médico de Saúde Ocupacional – PCMSO, assinale V para a afirmativa verdadeira e F para a falsa.

- ( ) O PCMSO deverá considerar os incidentes sobre o indivíduo e sobre a coletividade de trabalhadores, privilegiando o instrumental clínico-epidemiológico na abordagem da relação saúde e trabalho.
- ( ) O PCMSO deve ser homologado ou registrado nas Delegacias Regionais do Trabalho, sendo que uma cópia deverá ficar arquivada no estabelecimento à disposição da fiscalização.
- ( ) O PCMSO deverá ter caráter de prevenção, rastreamento e diagnóstico precoce dos agravos à saúde relacionados ao trabalho, inclusive de natureza subclínica.

As afirmativas são, respectivamente,

- (A) V, V e F.
- (B) F, V e F.
- (C) V, F e V.
- (D) F, F e V.
- (E) V, F e F.

**42**

Considerando a classificação das feridas com base no comprometimento tecidual, analise as afirmativas a seguir:

- I. O estágio I caracteriza-se pelo comprometimento apenas da epiderme, sem perda tecidual. Ocorre também a formação de eritema.
- II. O estágio II caracteriza-se pela perda tecidual e pelo comprometimento da epiderme, da derme ou de ambas.
- III. No estágio III ocorre extensa destruição de tecido, chegando a haver lesão óssea, muscular ou tissular.

Assinale:

- (A) se somente a afirmativa I estiver correta.
- (B) se somente a afirmativa II estiver correta.
- (C) se somente a afirmativa III estiver correta.
- (D) se somente as afirmativas I e II estiverem corretas.
- (E) se somente as afirmativas II e III estiverem corretas.

**43**

A vacina antitetânica é indicada quando ocorre algum acidente que exponha o trabalhador ao risco de contrair tétano.

Ela é indicada nos casos a seguir, à exceção de um. Assinale-o.

- (A) Se o ferimento tiver sido devidamente desinfetado.
- (B) Se o trabalhador não tiver certeza que foi imunizado.
- (C) Se o trabalhador tiver sido imunizado há menos de 5 anos.
- (D) Se o ferimento não for profundo e esteja limpo.
- (E) Se o trabalhador tiver sido imunizado há mais de 10 anos.

**44**

Relacione os riscos ambientais listados a seguir com seu grupo específico.

- |                         |                       |
|-------------------------|-----------------------|
| ( ) riscos biológicos   | 1. Grupo 1 (verde)    |
| ( ) riscos físicos      | 2. Grupo 2 (vermelho) |
| ( ) riscos ergonômicos  | 3. Grupo 3 (marrom)   |
| ( ) riscos de acidentes | 4. Grupo 4 (amarelo)  |
| ( ) riscos químicos     | 5. Grupo 5 (azul)     |

Assinale a opção que indica a sequência correta, de cima para baixo.

- (A) 3 – 1 – 4 – 5 – 2
- (B) 1 – 2 – 3 – 4 – 5
- (C) 4 – 5 – 1 – 3 – 2
- (D) 2 – 3 – 5 – 1 – 4
- (E) 5 – 4 – 2 – 3 – 1

**45**

Conforme preconizado pelo Ministério da Saúde, as campanhas antitabagistas e de prevenção à AIDS no ambiente de trabalho, devem ser promovidas

- (A) pelo Comitê de Prevenção de Doenças Ocupacionais.
- (B) pela Coordenação de Saúde Ocupacional.
- (C) pelo Serviço de Segurança do Trabalho.
- (D) pela Comissão Interna de Prevenção de Acidentes.
- (E) pela Secretaria de Vigilância em Saúde do Trabalhador.

**46**

Assinale a opção que indica a conduta a ser adotada imediatamente após um acidente com material perfurocortante.

- (A) Imunização contra hepatites B e C.
- (B) Antissepsia da área com álcool etílico.
- (C) Administração de antirretrovirais.
- (D) Profilaxia com antibiótico indicado.
- (E) Lavagem da área com água e sabão.

**47**

Assinale a opção que indica a primeira medida a ser tomada pelo profissional de saúde diante de um trabalhador vítima de síncope.

- (A) Posicionar a vítima em decúbito lateral direito e elevar o tronco e cabeça.
- (B) Abrir as vias aéreas e manter a vítima na posição supina, estabilizando sua coluna.
- (C) Posicionar a vítima em decúbito dorsal e elevar os membros inferiores.
- (D) Abrir as vias aéreas e manter a vítima em decúbito dorsal com as pernas flexionadas.
- (E) Posicionar a vítima em decúbito lateral esquerdo com as pernas flexionadas.



**48**

A respeito da *administração de medicação por via intramuscular*, analise as afirmativas a seguir.

- I. Antes de introduzir a medicação, o profissional de saúde deve aspirar o conteúdo para garantir que não puncionou um vaso.
- II. A região do deltoide é capaz de suportar um volume de até 3 mL em crianças e até 4 mL em pacientes adultos.
- III. A injeção intramuscular na região dorso-glútea deve ser aplicada no quadrante inferior externo do músculo glúteo médio.

Assinale:

- (A) se somente a afirmativa I estiver correta.
- (B) se somente a afirmativa II estiver correta.
- (C) se somente a afirmativa III estiver correta.
- (D) se somente as afirmativas I e II estiverem corretas
- (E) se todas as afirmativas estiverem corretas.

**49**

A relação compressão – ventilação para um único socorrista que presta assistência a uma vítima de parada cardiorrespiratória é de

- (A) 15 compressões e 2 ventilações.
- (B) 30 compressões e 2 ventilações.
- (C) 15 compressões e 1 ventilação.
- (D) 10 compressões e 5 ventilações.
- (E) 30 compressões e 1 ventilação.

**50**

Assinale a opção que indica a etapa do processo de enfermagem à qual se refere a frase a seguir.

*“Realização das ações ou intervenções determinadas no Planejamento de Enfermagem”*

- (A) Plano de cuidado.
- (B) Avaliação.
- (C) Coleta de dados.
- (D) Implementação.
- (E) Diagnóstico.

**51**

Com base nas proibições previstas no Código de Ética de Enfermagem, assinale V para afirmativa correta e F para a falsa.

- ( ) O profissional não pode negar assistência em caso de urgência e emergência.
- ( ) É permitida a assistência sem o consentimento do cliente quando houver iminente risco de vida.
- ( ) O profissional pode promover ou contribuir para a eutanásia nos casos previstos em lei.

As afirmativas são, respectivamente,

- (A) V, F e V.
- (B) F, F e V.
- (C) V, V e F.
- (D) F, V e F.
- (E) V, F e F.

**52**

A *síndrome do túnel do carpo* é considerada uma Doença Osteomuscular Relacionada com o Trabalho (DORT).

Assinale a opção que indica a atividade laboral relacionada a essa doença.

- (A) Carregar peso em um almoxarifado.
- (B) Apertar parafusos em uma oficina.
- (C) Desencapar fios em um laboratório.
- (D) Digitar dados em um computador.
- (E) Carimbar recibos em escritório.

**53**

Fator pessoal de insegurança é o nome técnico dado às falhas humanas que alteram o comportamento do trabalhador, fazendo com que este cometa atos inseguros. A *imprudência* é um desses fatores e pode ser definida como

- (A) omissão voluntária de cuidado ou demora para prevenir ou evitar um dano.
- (B) falta involuntária de observância de medida de precaução e segurança.
- (C) realização de tarefas repetitivas ou automatizadas que levem a distração ou deslize.
- (D) falta de aptidão especial, habilidade ou experiência no exercício de uma função.
- (E) não atendimento às instruções sobre a maneira de executar um determinado trabalho.

**54**

As dermatoses ocupacionais estão relacionadas, mais frequentemente, a duas causas principais: *irritação primária* e *sensibilização*. Assinale a opção que indica a substância que causa lesão por sensibilização.

- (A) Hipoclorito.
- (B) Detergente.
- (C) Solvente.
- (D) Água.
- (E) Borracha.

**55**

Foram prescritos 50 mg de uma determinada medicação, cuja apresentação é frasco-ampola de 10 mL (20 mg / mL).

Assinale a opção que indica a quantidade a ser aspirada do frasco.

- (A) 5 mL
- (B) 2,5 mL
- (C) 10 mL
- (D) 7 mL
- (E) 5,5 mL

**56**

A água é considerada um agente extintor *“universal”*.

Ela é indicada para situações diversas, à exceção daquelas que envolvam incêndio com

- (A) magnésio.
- (B) madeira.
- (C) papel.
- (D) eletricidade.
- (E) gás de cozinha.

**57**

O trabalhador, ao ser atendido no Serviço Médico, apresentou frequência respiratória = 25 rpm e pulso = 100 bpm.

Esses achados indicam, respectivamente,

- (A) Taquipneia e taquicardia.
- (B) Bradpneia e taquicardia.
- (C) Normopneia e bradicardia.
- (D) Bradpneia e normocardia.
- (E) Normopneia e normocardia.

**58**

Uma forma de prevenir a infecção pelo papilomavírus humano (HPV), responsável por mais de 90% dos casos de câncer cervical, é por meio

- (A) do exame Papanicolau.
- (B) do uso de duchas vaginais.
- (C) da profilaxia antibiótica.
- (D) do uso de preservativo.
- (E) da terapia hormonal.

**59**

O exercício de trabalho em condições de insalubridade assegura ao trabalhador a percepção de adicional incidente sobre o salário mínimo.

A esse respeito, assinale a opção que indica o percentual correto em relação ao grau de insalubridade.

- (A) 50% para insalubridade de grau máximo.
- (B) 40% para insalubridade de grau médio.
- (C) 20% para insalubridade de grau mínimo
- (D) 30% para insalubridade de grau máximo.
- (E) 10% para insalubridade de grau mínimo.

**60**

As pessoas que trabalham sob ar comprimido em tubulões pneumáticos e túneis pressurizados devem, antes da jornada de trabalho,

- (A) realizar exames oftalmológicos.
- (B) assinar um termo de responsabilidade.
- (C) ser inspecionadas pelo médico.
- (D) realizar exames auditivos específicos.
- (E) passar por câmara de descompressão.



Realização

 **FGV PROJETOS**