



# Defensoria Pública do Estado de Mato Grosso

Concurso Público 2015

08/03/2015 – Nível Médio completo

# Assistente Administrativo

## TIPO 2 – VERDE

### Informações Gerais

- Você receberá do fiscal de sala:
  - este caderno de prova, contendo 70 questões objetivas;
  - uma folha destinada às respostas das questões objetivas.
- Verifique se seu caderno está completo, sem repetição ou falhas, com cinco alternativas de resposta (A, B, C, D e E) para cada questão objetiva. Caso contrário, notifique imediatamente o fiscal de sala para que sejam tomadas as devidas providências.
- As questões são identificadas pelo número situado acima do seu enunciado.
- Ao receber a folha de respostas da prova objetiva você deve:
  - conferir seus dados pessoais, em especial seu nome, número de inscrição e o número do documento de identidade;
  - ler atentamente as instruções para o preenchimento da folha de respostas;
  - marcar na folha de respostas da prova objetiva o campo relativo à confirmação do tipo/cor de prova, conforme o caderno que você recebeu;
  - assinar seu nome, apenas nos espaços reservados, com caneta esferográfica de tinta azul ou preta.
- Durante a aplicação da prova não será permitido:
  - qualquer tipo de comunicação entre os candidatos;
  - levantar da cadeira sem a devida autorização do fiscal de sala;
  - portar aparelhos eletrônicos, tais como *bipe*, telefone celular, agenda eletrônica, *notebook*, *palmtop*, receptor, gravador, máquina de calcular, máquina fotográfica digital, controle de alarme de carro etc., bem como relógio de qualquer modelo, óculos escuros ou quaisquer acessórios de chapelaria, tais como chapéu, boné, gorro etc. e, ainda, lápis, lapiseira (grafite), corretor líquido e/ou borracha. Tal infração poderá acarretar a eliminação sumária do candidato.
- O preenchimento das respostas da prova objetiva, de inteira responsabilidade do candidato, deverá ser feito com caneta esferográfica de tinta indelével de cor preta ou azul. **Não será permitida a troca da folha de respostas por erro do candidato.**
- O tempo disponível para a realização da prova é de **4 horas**, já incluído o tempo para a marcação da folha de respostas da prova objetiva.
- Reserve tempo suficiente para o preenchimento de suas respostas. Para fins de avaliação, serão levadas em consideração apenas as marcações realizadas na folha de respostas da prova objetiva, não sendo permitido anotar informações relativas às suas respostas em qualquer outro meio que não seja o próprio caderno de provas.
- Somente após decorridas 2 (duas) horas do início da prova você poderá retirar-se da sala de prova sem, contudo, levar o caderno de provas.
- Somente no decorrer dos últimos **sessenta minutos** do período da prova, você poderá retirar-se da sala levando o caderno de provas.
- Ao terminar a prova, entregue a folha de respostas ao fiscal da sala e deixe o local de prova. Caso você se negue a entregar, será eliminado do concurso.
- A FGV realizará a coleta da impressão digital dos candidatos na folha de respostas.
- Os candidatos poderão ser submetidos a sistema de detecção de metais quando do ingresso e da saída de sanitários durante a realização das provas. Ao sair da sala, ao término da prova, o candidato não poderá usar o sanitário.
- Os gabaritos preliminares das provas objetivas serão divulgados no dia **10/03/2015**, no endereço [www.fgv.br/fgvprojetos/concursos/dpmt](http://www.fgv.br/fgvprojetos/concursos/dpmt).
- O prazo para interposição de recursos contra os gabaritos preliminares será de 0h do dia **11/03/2015** até as 23h59 do dia **12/03/2015**, observado o horário oficial, no endereço eletrônico [www.fgv.br/fgvprojetos/concursos/dpmt](http://www.fgv.br/fgvprojetos/concursos/dpmt), por meio do Sistema Eletrônico de Interposição de Recurso.



## Língua Portuguesa

### O texto a seguir refere-se às questões 01 a 03

Um outro leitor declara o seguinte: “Toda vez que vejo, ou leio, no noticiário que alguém foi atingido por uma bala perdida eu me pergunto: porque será que as pessoas insistem em chamar de bala perdida aquela que atingiu alguém? Se o objetivo das balas é matar e, na melhor das hipóteses, ferir alguém, sempre que aquilo acontece a bala cumpriu sua função e, assim sendo, não deveria ser chamada de bala perdida”.

**1**

O objetivo da carta é

- (A) protestar contra as mortes causadas por balas perdidas.
- (B) condenar a utilização do termo “bala perdida”, por inexatidão.
- (C) mostrar que a utilização de armas de fogo deveria ser reconsiderada.
- (D) criticar os jornais escritos e falados por abordarem temas nefastos.
- (E) denunciar os que usam armas de fogo de forma criminosa.

**2**

As opções a seguir apresentam trechos da carta do leitor sobre “bala perdida” que mostram alguns erros no emprego da língua. Esses erros estão listados a seguir, **à exceção de um**. Assinale-o.

- (A) Deveria haver vírgula após o termo “no noticiário”.
- (B) Deveria haver vírgula após a oração “que alguém foi atingido por uma bala perdida”.
- (C) A grafia do termo “porque” em “porque será que as pessoas insistem em chamar de bala perdida aquela que atingiu alguém” deveria ser corrigida para “por que”.
- (D) O termo “na melhor das hipóteses” deveria ser substituído por “na pior das hipóteses”, para ser mais coerente.
- (E) A forma do demonstrativo “aquilo” deveria ser substituída por “isso”, para melhor adequação.

**3**

Observe os segmentos do texto:

- I. “Toda vez que vejo, ou leio, no noticiário que alguém foi atingido por uma bala perdida eu me pergunto...”
- II. “... porque será que as pessoas insistem em chamar de bala perdida”
- III. “... aquela que atingiu alguém?”

Assinale a opção que indica as frases em que a palavra sublinhada pertence à mesma classe gramatical.

- (A) as classes são diferentes.
- (B) I e II, somente.
- (C) I e III, somente.
- (D) II e III, somente.
- (E) I, II e III.

### O texto a seguir refere-se às questões 04 a 06

Sobre o tema “O jogo no Brasil”, uma leitora do jornal *O Globo* escreveu o seguinte: “Não entendo por que não se legaliza o jogo no Brasil. Todos os países que têm o jogo reconhecido, além de arrecadarem uma fortuna em impostos, dão emprego a muita gente. Quem quer jogar, o faz livremente pela Internet e nos bingos ilegais, onde quem arrecada é o contraventor. Os mais abastados deixam dólares lá fora, que poderiam ajudar a educação e saúde, aqui dentro”.

**4**

A tese defendida pela autora da carta é

- (A) o jogo deve ser legalizado no Brasil.
- (B) deve-se proibir o jogo ilegal pela internet e nos bingos ilegais.
- (C) deve-se impedir que os mais abastados viajem para jogar.
- (D) todos devemos jogar livremente pela Internet.
- (E) todos os países deveriam ter o jogo reconhecido.

**5**

Na frase “Não entendo por que não se legaliza o jogo no Brasil”, o termo sublinhado tem a grafia em dois termos exatamente pelo mesmo motivo que em

- (A) “A legalização do jogo é o motivo por que luta a leitora.”
- (B) “Por que razão não se legaliza o jogo?”
- (C) “Desconheço por que a legalização do jogo é proibida.”
- (D) “Esse é o caminho por que ele veio.”
- (E) “O projeto por que me empenho é de grande utilidade.”

**6**

As opções a seguir apresentam argumentos para a defesa do ponto de vista da autora, **à exceção de uma**. Assinale-a.

- (A) A existência do jogo aumenta a arrecadação de impostos.
- (B) A legalização do jogo cria postos de trabalho para muitos.
- (C) O jogo ilegal só enriquece os contraventores.
- (D) A educação e a saúde podem ser ajudadas com a legalização do jogo.
- (E) Todos os países reconheceram o jogo como atividade legal.

### O texto a seguir refere-se às questões 07 a 09.

Um leitor da revista *Veja* (fevereiro de 2015) escreveu o seguinte texto: “Ok, o transporte público deve ser priorizado. Ok, quanto menos carros circulando nas ruas, melhor. Ok, o uso de bicicletas é uma alternativa que deve ser incentivada. Mas o que não pode continuar é serem eliminadas vagas para carros nas ruas sem que se viabilize uma alternativa”.

**7**

As várias frases iniciadas por OK mostram

- (A) crítica de vários pensamentos bastante difundidos.
- (B) concordância com alguns pontos de vista gerais.
- (C) ironia diante de alguns posicionamentos ridículos.
- (D) discordância em face de algumas opiniões ultrapassadas.
- (E) aplauso em relação a alguns posicionamentos legais.

**8***“sem que se viabilize uma alternativa”*

Assinale a opção que indica a forma desenvolvida equivalente a essa frase do texto.

- (A) *“sem que fosse viabilizada uma alternativa”*.
- (B) *“sem a viabilização de uma alternativa”*.
- (C) *“sem ser viabilizada uma alternativa”*.
- (D) *“sem que seja viabilizada uma alternativa”*.
- (E) *“sem que tivesse sido viabilizada uma alternativa”*.

**9**

As opções a seguir apresentam formas verbais na voz passiva, **à exceção de uma**. Assinale-a.

- (A) *“deve ser priorizado”*.
- (B) *“deve ser incentivada”*.
- (C) *“pode continuar”*.
- (D) *“serem eliminadas”*.
- (E) *“se viabilize”*.

**O texto a seguir refere-se às questões 10 a 17**

**Horóscopo do signo de Virgem, do dia 01 de fevereiro de 2015.**

*“Procure agregar aliados com interesses semelhantes aos seus, invista em parcerias corretas. Mercúrio segue retrógrado em Aquário: você ganha mais se unir forças e trabalhar em equipe. Continue com atenção redobrada ao se comunicar. Bom período para ouvir opiniões diferentes, repensar assuntos e se abrir para novos pontos de vista. Bom, também, para revisar equipamentos eletrônicos.”*

**10**

Sobre as marcas típicas desse tipo de texto, assinale a afirmativa correta.

- (A) Tenta iludir o leitor apelando para a intimidação.
- (B) Apresenta formas verbais impessoais.
- (C) Apela para a linguagem técnica da astrologia.
- (D) Refere-se a realidades negativas.
- (E) Faz alusão a conhecimentos científicos.

**11**

*“Procure agregar aliados com interesses semelhantes aos seus, invista em parcerias corretas. Mercúrio segue retrógrado em Aquário: você ganha mais se unir forças e trabalhar em equipe. Continue com atenção redobrada ao se comunicar. Bom período para ouvir opiniões diferentes, repensar assuntos e se abrir para novos pontos de vista. Bom, também, para revisar equipamentos eletrônicos”*.

Assinale a opção que indica o termo sublinhado que exerce a função de complemento e não de adjunto.

- (A) *“aos seus”*
- (B) *“em Aquário”*
- (C) *“mais”*
- (D) *“em equipe”*
- (E) *“diferentes”*

**12**

No termo “retrógrado”, o prefixo tem o mesmo valor semântico que o da palavra

- (A) renovar.
- (B) recuar.
- (C) demolição.
- (D) afasia.
- (E) atrasar.

**13**

As opções a seguir apresentam vocábulos que pertencem à mesma família etimológica, **à exceção de uma**. Assinale-a.

- (A) atenção / atento.
- (B) opinião / opinativo.
- (C) aliado / aliança.
- (D) semelhante / similitude.
- (E) atenção / atendimento.

**14**

Observe os pares a seguir:

1. interesses semelhantes
2. parcerias corretas
3. atenção redobrada
4. bom período
5. equipamentos eletrônicos

Assinale a afirmativa **inadequada**.

- (A) O adjetivo *corretas* representa a opinião do enunciador, indicando qualidades.
- (B) O adjetivo *eletrônicos* não pode aparecer antes do substantivo por ele determinado.
- (C) O adjetivo *eletrônicos* não pode ser empregado em grau superlativo.
- (D) O adjetivo *semelhantes* altera seu significado, antes ou depois do substantivo.
- (E) O adjetivo *redobrada* se refere a outro adjetivo.

**15**

*“Procure agregar aliados com interesses semelhantes aos seus, invista em parcerias corretas. Mercúrio segue retrógrado em Aquário: você ganha mais se unir forças e trabalhar em equipe. Continue com atenção redobrada ao se comunicar. Bom período para ouvir opiniões diferentes, repensar assuntos e se abrir para novos pontos de vista. Bom, também, para revisar equipamentos eletrônicos”*.

Assinale a opção que indica a forma verbal sublinhada que **não** é uma forma de infinitivo.

- (A) *“agregar”*
- (B) *“unir”*
- (C) *“comunicar”*
- (D) *“ouvir”*
- (E) *“repensar”*

**16**

*“Continue com atenção redobrada ao se comunicar”*

Assinale a opção que indica a forma desenvolvida equivalente à oração “ao se comunicar”.

- (A) Caso se comunique.
- (B) Embora se comunique.
- (C) Para sua comunicação.
- (D) Visto que se comunique.
- (E) Quando se comunique.

17

As opções a seguir apresentam grupos de palavras que mantêm entre si uma relação de concordância nominal ou verbal, **à exceção de uma**. Assinale-a.

- (A) Interesses semelhantes
- (B) Novos pontos de vista
- (C) Equipamentos eletrônicos
- (D) Agregar aliados
- (E) Mercúrio segue

18

Veja a charge a seguir, realizada por ocasião dos atentados terroristas de Paris contra um jornal humorístico:



Na frase do terrorista há uma figura de linguagem denominada

- (A) metáfora.
- (B) ironia.
- (C) hipérbole.
- (D) pleonasma.
- (E) catacrese.

A charge a seguir refere-se às questões 19 e 20



19

O chargista critica o mau desempenho dos alunos de Medicina nas provas do Conselho da Classe.

A frase do primeiro candidato à esquerda, se reescrita em norma culta, deveria ter a seguinte forma:

- (A) "Esta prova é muito difícil. Há um monte de perguntas a que eu não sei responder."
- (B) "Essa prova é difícilíssima. Tem uma grande quantidade de perguntas que eu não sei responder."
- (C) "Essa prova é muito difícil. Há um monte de perguntas que não podem ser respondidas."
- (D) "Esta prova está bastante difícil e há um imenso número de questões a que eu não sei como responder."
- (E) "Esta prova é muito difícil. Há um montão de perguntas que eu não sei responder."

20

A resposta do médico à direita denuncia o seguinte problema:

- (A) a existência de "cola" nas provas de concursos públicos.
- (B) a tentativa de eliminar competidores por parte de alguns candidatos.
- (C) o desconhecimento do real sentido do termo "virose".
- (D) a falta de tempo para um exame mais preciso.
- (E) o uso da palavra "virose" para diagnosticar doenças desconhecidas.

## Raciocínio Lógico-matemático

**21**

Considere verdadeiras as afirmações a seguir.

- Existem advogados que são poetas.
- Todos os poetas escrevem bem.

Com base nas afirmações, é correto concluir que

- (A) se um advogado não escreve bem então não é poeta.
- (B) todos os advogados escrevem bem.
- (C) quem não é advogado não é poeta.
- (D) quem escreve bem é poeta.
- (E) quem não é poeta não escreve bem.

**22**

O cartão de crédito usado por João cobra 10% de juros ao mês. Certa época, João recebeu a fatura do cartão no valor de R\$ 520,00 e, na data do pagamento, depositou apenas 20% desse valor. Durante os 30 dias seguintes João fez apenas uma compra com esse cartão no valor de R\$ 66,40 e pagou integralmente a próxima fatura, liquidando sua dívida com o cartão.

O valor depositado por João para liquidar sua dívida com o cartão foi de

- (A) R\$ 482,40.
- (B) R\$ 489,04.
- (C) R\$ 524,00.
- (D) R\$ 534,40.
- (E) R\$ 541,04.

**23**

Para pavimentar uma rua de um condomínio com paralelepípedos uma equipe de 5 operários levou 40 dias para realizar esse trabalho. Para pavimentar uma nova rua desse condomínio com o dobro do comprimento da outra, a equipe anterior ganhou 3 novos operários de mesma competência dos outros.

O número de dias que a nova equipe levará para pavimentar a nova rua é

- (A) 50.
- (B) 48.
- (C) 45.
- (D) 40.
- (E) 36.

**24**

As irmãs Elsa, Flávia e Gabriela possuem alturas diferentes sendo que Elsa não é a mais alta e Flávia é a mais baixa. Assim, é correto afirmar que

- (A) Gabriela é a mais baixa.
- (B) Flavia é a mais alta.
- (C) Elsa é a mais baixa.
- (D) Gabriela não é nem a mais baixa nem a mais alta.
- (E) Elsa não é nem a mais baixa nem a mais alta.

**25**

Em um canil há 42 cães adultos, dos quais metade são fêmeas. Um terço das fêmeas teve filhotes e, em média, cada uma destas fêmeas teve cinco filhotes.

O número total de cães, adultos e filhotes, nesse canil é

- (A) 70.
- (B) 77.
- (C) 84.
- (D) 91.
- (E) 98.

**26**

Marcelo começou a fazer o trabalho previsto para determinado dia às 9h15min. Às 10h 45min havia completado 25% do trabalho previsto. Mantidas as condições de trabalho e sem interrupções, Marcelo terminará o trabalho previsto às

- (A) 14h 30min.
- (B) 14h 45min.
- (C) 15h.
- (D) 15h 15min.
- (E) 15h 30min.

**27**

Uma pesquisa mostra que 80% da população votante de uma determinada cidade aprova a atuação do prefeito. Em duas ocasiões diferentes, sorteia-se aleatoriamente uma pessoa votante da referida cidade.

A probabilidade de que exatamente um dos sorteados aprove a atuação do prefeito é

- (A) 80%.
- (B) 64%.
- (C) 32%.
- (D) 16%.
- (E) 8%.

**28**

Em uma determinada competição de *triathlon*, um atleta deve percorrer distâncias iguais nadando, andando de bicicleta e correndo. Arquimedes completou a prova nadando a 2 km/h, andando de bicicleta a 18km/h e correndo a 9 km/h.

A velocidade média de Arquimedes para a prova toda foi de

- (A) 9,7km/h.
- (B) 9,0km/h.
- (C) 7,8km/h.
- (D) 6,7km/h.
- (E) 4,5km/h.

**29**

Sabe-se que o número  $\frac{3x}{4} - \frac{2x}{3}$  é um número inteiro.

Sobre o número  $x$  conclui-se que

- (A) é um número par mas não necessariamente múltiplo de 3.
- (B) é um múltiplo de 3 mas não necessariamente um número par.
- (C) é negativo.
- (D) é um múltiplo de 6.
- (E) é um múltiplo de 4 mas não necessariamente um múltiplo de 6.

**30**

Na sala de arquivos de um escritório de advocacia os arquivos são designados em ordem pelas letras do alfabeto: A, B, C, etc. Cada arquivo possui três gavetas: 1, 2 e 3, cada gaveta possui 30 pastas numeradas de 01 a 30 e cada pasta contém os documentos de uma pessoa. Tudo é feito em ordem, no sentido que se uma pasta está cheia, todas as pastas anteriores da gaveta estão cheias e todas as gavetas e arquivos anteriores estão cheios. Cada pasta é designada por um código formado pela letra do arquivo, seguido do número da gaveta e do número da pasta dentro dela. Por exemplo, B-3-11 é a pasta de número 11 da gaveta 3 do arquivo B.

João começou a trabalhar como arquivista nesse escritório e colocou os documentos do primeiro cliente que atendeu na pasta D-2-19. Certo tempo depois João foi transferido para outro setor do escritório e os últimos documentos que arquivou, antes da transferência, foram na pasta G-1-07.

O número de pastas utilizadas por João durante o seu trabalho de arquivamento foi

- (A) 231.
- (B) 229.
- (C) 227.
- (D) 199.
- (E) 198.

## Conhecimentos Gerais

**31**

Com relação a Tereza de Benguela, personagem histórico que inspirou a Lei nº 12.987/2014, assinale V para a afirmativa verdadeira e F para a falsa.

- ( ) Tereza de Benguela governava o Quilombo do Quariterê, tendo liderado a vitória definitiva contra as tropas metropolitanas e coloniais, na década de 1770.
- ( ) Tereza de Benguela liderava um quilombo considerado o maior e mais significativo da região de Vila Bela, por sua organização social e fartura de roças, congregando escravos fugidos, pretos livres e índios.
- ( ) Tereza de Benguela foi uma liderança quilombola que atuou na segunda metade do século XVIII, comandando a estrutura política, econômica e administrativa do Quilombo do Quariterê.

As afirmativas são, respectivamente,

- (A) F, V e F.
- (B) F, V e V.
- (C) V, F e F.
- (D) V, V e F.
- (E) F, F e V.

**32**

Sobre as políticas públicas de preservação ambiental no Estado do Mato Grosso, assinale V para a afirmativa verdadeira e F para a falsa.

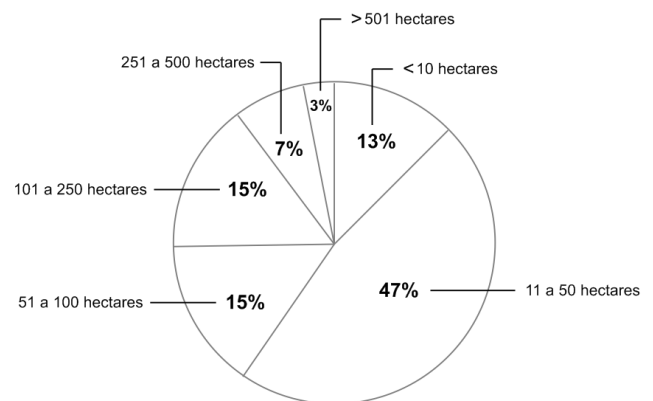
- ( ) O ICMS Ecológico é um importante instrumento de compensação e incentivo econômico, criado para responder às demandas para uma proteção mais eficiente das Unidades de Conservação, das terras indígenas e quilombolas.
- ( ) As Unidades de Conservação são áreas naturais passíveis de proteção ambiental em função da relevância de sua biodiversidade, legalmente instituídas pelo Poder Público.
- ( ) A Reserva Legal é uma área dentro da propriedade rural que deve ser preservada pelo proprietário por abrigar parcela representativa do ambiente natural da região onde está inserida e que, por isso, se torna necessária à manutenção da biodiversidade local.

As afirmativas são, respectivamente,

- (A) F, F e V.
- (B) V, F e F.
- (C) V, F e V.
- (D) V, V e V.
- (E) V, V e F.

**33**

Segundo dados do Projeto de Monitoramento do Desflorestamento na Amazônia Legal (Prodes) e do Instituto Nacional de Pesquisas Espaciais (INPE), o desmatamento entre agosto de 2012 e julho de 2013, no Estado de Mato Grosso, aumentou 52% em relação ao mesmo período do ano anterior. Esse aumento não se deu de forma homogênea nos diversos tipos de propriedade fundiária, conforme o gráfico a seguir.



Em relação ao percentual da área desmatada por classes de tamanho das propriedades fundiárias no período considerado, analise as afirmativas a seguir.






- I. Os desmatamentos em propriedades menores que 50 hectares representaram 60% da área total desmatada.
- II. Nas propriedades de 51 a 250 hectares, a área total desmatada correspondeu a quase 1/3 do total do desmatamento.
- III. O desmatamento nas propriedades com mais de 251 hectares foi, em relação ao cômputo total, percentualmente maior, em função da expansão do agronegócio.

Assinale:

- (A) se somente a afirmativa I estiver correta.
- (B) se somente a afirmativa II estiver correta.
- (C) se somente a afirmativa III estiver correta.
- (D) se somente as afirmativas I e II estiverem corretas.
- (E) se todas as afirmativas estiverem corretas.

**34**

As opções a seguir exemplificam aplicações da tecnologia conhecida como “*internet das coisas*”, a qual possibilita conectar objetos do nosso dia a dia à rede mundial de computadores, à exceção de uma. Assinale-a.

- (A) Tênis inteligente 
- (B) CD player portátil 
- (C) Óculos conectados 
- (D) Refrigerador High Tech 
- (E) Smart TV 

**35**

Analise os fragmentos a seguir.

- I. Movimento político e social ocorrido em 1834 na província de Mato Grosso, tendo origem na disputa pelo poder entre os liberais e os conservadores. Esta disputa transformou-se em conflito após a revolta que colocou no governo interino da província o coronel João Poupino Caldas, considerado um defensor dos interesses dos “*brasileiros*”.
- II. Luta política entre as oligarquias nortistas e sulistas na condução política do Estado de Mato Grosso, em torno das lideranças do Partido Republicano Conservador e do Partido Republicano Mato-Grossense, resultando em intervenção do governo federal, em 1917, durante a Presidência de Venceslau Brás.

Os fragmentos acima descrevem, respectivamente, os seguintes episódios da história mato-grossense:

- (A) Coluna Prestes e Rusga.  
 (B) Balaiada e Tanque Novo.  
 (C) Farroupilhas e Sabinada.  
 (D) Cabanagem e Tenentismo.  
 (E) Rusga e Caetanada.

**36**

Relacione os territórios e províncias que expressam um desejo de separação com os respectivos países dos quais querem se tornar independentes.

- |              |                 |
|--------------|-----------------|
| 1. Curdistão | ( ) Reino Unido |
| 2. Escócia   | ( ) Espanha     |
| 3. Tibete    | ( ) China       |
| 4. Catalunha | ( ) Iraque      |

Assinale a opção que indica a relação correta, de cima para baixo.

- (A) 1 – 3 – 2 – 4  
 (B) 1 – 4 – 2 – 3  
 (C) 4 – 2 – 3 – 1  
 (D) 2 – 4 – 3 – 1  
 (E) 4 – 3 – 2 – 1

**37**

“*Sua economia continuou uma trajetória de forte crescimento econômico em 2011, com expansão do PIB de 9,2%. Seu acelerado crescimento gerou grande demanda por insumos industriais e alimentos. Nesse contexto, as exportações brasileiras para esse país se expandiram fortemente de US\$ 4,5 bilhões em 2003 para US\$ 44,3 bilhões em 2011. Esses números o colocam como o principal parceiro comercial do Brasil, com uma corrente de comércio de US\$ 77 bilhões.*”

(Adaptado de “*Intercâmbio Comercial do Agronegócio, 2012*”, p. 141 in <http://www.agricultura.gov.br>)

Assinale a opção que indica o país parceiro comercial do Brasil destacado no texto.

- (A) Estados Unidos  
 (B) Alemanha  
 (C) China  
 (D) África do Sul  
 (E) Argentina

**38**

Em meio às discussões entre Portugal e Espanha sobre os contornos de suas respectivas possessões, revisando o Tratado de Tordesilhas de 1494, a Coroa portuguesa fundou a capitania de Mato Grosso com o objetivo de

- (A) deter o avanço das missões jesuíticas espanholas que tentavam se estabelecer na margem direita do rio Guaporé.  
 (B) povoar o sertão brasileiro com imigrantes portugueses que fugiam da pobreza depois do incêndio de Lisboa.  
 (C) controlar a atuação dos bandeirantes, cujas expedições privadas ameaçavam a autoridade da Coroa.  
 (D) fortalecer o regime do Padroado, através do incentivo à presença de várias ordens regulares na região.  
 (E) anexar as minas de Potosí no Peru, mediante conquista militar que partiria do Forte de Coimbra construído para esse fim.



**39**

Sobre os biomas encontrados no território mato-grossense, analise as afirmativas a seguir.

- I. O bioma Amazônia ocupa a porção norte do estado com vegetação florestal, predominantemente ombrófila.
- II. O bioma Cerrado, na porção central do estado, reúne principalmente formações savânicas.
- III. O bioma Pantanal, no sul do estado, apresenta um pulso de inundação que, sazonalmente, altera a paisagem e a ecologia do ambiente.

Assinale:

- (A) se somente a afirmativa I estiver correta.
- (B) se somente a afirmativa II estiver correta.
- (C) se somente as afirmativas I e II estiverem corretas.
- (D) se somente as afirmativas II e III estiverem corretas.
- (E) se todas as afirmativas estiverem corretas.

**40**

As opções a seguir apresentam características da região do Pantanal, **à exceção de uma**. Assinale-a.

- (A) É um imenso reservatório de água doce importante para a estabilização do clima e a conservação do solo.
- (B) O equilíbrio ecológico do bioma Pantanal depende do movimento do subir e do baixar das águas.
- (C) A principal atividade econômica regional é a criação de gado bovino, facilitada pelos pastos naturais.
- (D) Para peões, fazendeiros e coureiros, o cavalo é um dos principais meios de transporte.
- (E) O clima é dividido em estações em função do ciclo das águas: seca de setembro a março e cheia de abril a agosto.

## Conhecimentos Específicos

### Noções de Arquivologia

**41**

A descrição de documentos de arquivo tem como objetivo tornar o acervo acessível e, como produtos, os instrumentos de pesquisa.

Relacione os tipos de instrumentos às respectivas definições.

1. Guia
  2. Inventário
  3. Catálogo
  4. Repertório
- ( ) Elaborado segundo um critério, incluindo todos os documentos pertencentes a um ou mais fundos, descritos de forma sumária ou pormenorizada.
  - ( ) Informa sobre a totalidade dos fundos existentes no arquivo.
  - ( ) Descreve pormenorizadamente documentos previamente selecionados pertencentes a um ou mais fundos, segundo um critério.
  - ( ) Descreve a composição do fundo ou parte dele, pela enumeração de suas unidades de arquivamento.

Assinale a opção que indica a relação correta, de cima para baixo.

- (A) 3 – 1 – 4 – 2
- (B) 4 – 1 – 2 – 3
- (C) 3 – 1 – 2 – 4
- (D) 4 – 3 – 2 – 1
- (E) 4 – 3 – 1 – 2

**42**

A seguir temos a representação de uma pequena parte de uma Tabela de Temporalidade e Destinação de Documentos sem os títulos de cada coluna:

	I	II	III
Serviço telefônico	074	2 anos	Eliminação
Listas telefônicas internas	074.2	Enquanto vigora	Eliminação
Ações judiciais	091	De 5 a 95 anos	Guarda permanente
Solenidades	910	1 ano	Eliminação

As colunas I, II e III correspondem respectivamente, a

- (A) espécie documental, prazos de guarda e observação.
- (B) assunto, código de classificação e prazos de guarda.
- (C) plano de classificação, observação e prazos de guarda.
- (D) código de classificação, prazos de guarda e destinação final.
- (E) número do documento, ciclo documental e controle.

**43**

A adoção da *Teoria das 3 idades* revolucionou as técnicas arquivísticas e, conseqüentemente, o uso dos arquivos.

Segundo essa teoria, os arquivos passam

- (A) por 3 estágios distintos de arquivamento: corrente, intermediário e permanente, de acordo com as espécies documentais neles contidas.
- (B) por 3 procedimentos técnicos distintos de arquivamento: eventual, intermediário e inativo, de acordo com o valor dos documentos.
- (C) por 3 finalidades distintas de arquivamento: ativo, inativo e corrente, de acordo com os assuntos dos documentos.
- (D) por 3 finalidades distintas de arquivamento: histórico, probatório e informativo, de acordo com o uso que se faz dos documentos.
- (E) por 3 estágios distintos de arquivamento: corrente, intermediário e permanente, de acordo com o uso que se faz dos documentos.

**44**

Com vistas a assegurar a preservação durante o prazo de guarda, estabelecido na tabela de temporalidade e destinação, devem ser observados procedimentos específicos de acordo com os diferentes gêneros documentais.

A esse respeito, assinale V para a afirmativa verdadeira e F para a falsa.

- ( ) Os papéis das capas de processos devem ser neutros.
- ( ) As presilhas devem ser em plástico ou em metal não oxidável.
- ( ) As capas dos processos devem conter fibra curta.
- ( ) As práticas de grampear e de colar documentos devem ser evitados.

As afirmativas são, respectivamente,

- (A) V, V, V e V.
- (B) F, F, F e F.
- (C) V, V, F e F.
- (D) F, V, V e V.
- (E) F, V, F e V.

**45**

Sobre as atividades de protocolo, analise as afirmativas a seguir.

- I. É um conjunto de operações visando ao controle dos documentos que tramitam no órgão.
- II. Assegura a imediata localização e a recuperação dos documentos.
- III. Classifica, registra e avalia os documentos.

Assinale:

- (A) se somente a afirmativa I estiver correta.
- (B) se somente a afirmativa II estiver correta.
- (C) se somente as afirmativas I e II estiverem corretas.
- (D) se somente as afirmativas I e III estiverem corretas.
- (E) se todas as afirmativas estiverem corretas.

## Noções de Administração

**46**

Os processos de controle de operações monitoram e avaliam os sistemas de produção. Nesse sentido, relacione os tipos de controle às respectivas características.

1. Controle de compras
  2. Controle de custos
  3. Controle de manutenção
  4. Controle da qualidade
- ( ) Controla a confiabilidade dos recursos e insumos adquiridos de fornecedores.
- ( ) Controla os processos produtivos a fim de assegurar os padrões estabelecidos.
- ( ) Controla os equipamentos e máquinas envolvidos nos processos produtivos.
- ( ) Controla os valores financeiros aplicados nos processos produtivos.

Assinale a opção que indica a relação correta, de cima para baixo.

- (A) 1 – 3 – 4 – 2
- (B) 1 – 4 – 3 – 2
- (C) 2 – 4 – 3 – 1
- (D) 2 – 1 – 3 – 4
- (E) 3 – 4 – 1 – 2

**47**

As opções a seguir apresentam pontos fundamentais do modelo de administração pública gerencial, à exceção de uma. Assinale-a.

- (A) Foco nos cidadãos, como beneficiários da administração.
- (B) Avaliação do desempenho, como instrumento efetivo de gestão.
- (C) Ênfase na inovação, como característica básica de gestão.
- (D) Foco em processos, como instrumento de controle.
- (E) Busca de resultados, como fator determinante de gestão.

**48**

Em relação às distinções entre eficiência e eficácia, assinale V para afirmativa verdadeira e F para a falsa.

- ( ) Ser eficiente é entregar o que é pedido dentro do prazo solicitado.
- ( ) Ser eficaz é entregar, mesmo fora do prazo estipulado, o que foi pedido.
- ( ) Ter foco na eficácia é alcançar os objetivos sem se preocupar com a forma de como alcançá-los.

As afirmativas são, respectivamente,

- (A) F, F e F.
- (B) F, F e V.
- (C) F, V e V.
- (D) V, F e V.
- (E) V, V e V.

**49**

Assinale a opção que completa corretamente o fragmento a seguir.

*“Um executivo, ao delegar aos seus subordinados o poder para a tomada de decisões, \_\_\_\_\_.”*

- (A) amplia sua ação de controle.
- (B) agrupa a empresa em unidades de trabalho.
- (C) define o grau de liberdade para a ação das pessoas.
- (D) cria uma cadeia de comando na empresa.
- (E) codifica conhecimentos e normas.

**50**

Sobre os planos, tradução formal do processo de planejamento das organizações, assinale V para a afirmativa verdadeira e F para a falsa.

- ( ) Os planos estratégicos referem-se à organização como um todo e às estratégias de longo prazo.
- ( ) Os planos práticos traduzem os objetivos operacionais das unidades de nível intermediário.
- ( ) Os planos operacionais têm duração de curto prazo e podem ser readaptados em função do contexto.

As afirmativas são, respectivamente,

- (A) V, F e F.
- (B) V, V e F.
- (C) V, V e V.
- (D) F, V e V.
- (E) V, F e V.

**51**

Sobre os estilos de comportamento de um líder em relação aos seus liderados, analise as afirmativas a seguir.

- I. A liderança liberal deixa os funcionários à vontade para a tomada de decisão.
- II. A liderança autoritária centraliza as decisões e impõe sua vontade sobre o grupo.
- III. A liderança autocrática hierarquiza as funções e estimula as competências individuais.

Assinale:

- (A) se somente a afirmativa I estiver correta.
- (B) se somente a afirmativa II estiver correta.
- (C) se somente as afirmativas I e II estiverem corretas.
- (D) se somente as afirmativas I e III estiverem corretas.
- (E) se somente as afirmativas II e III estiverem corretas.

52

Em relação aos processos administrativos nas organizações, assinale a afirmativa **incorreta**.

- (A) Prever é traçar um programa de ação.
- (B) Organizar significa distribuir tarefas.
- (C) Comandar é distribuir/orientar pessoas.
- (D) Coordenar é harmonizar os esforços individuais.
- (E) Controlar é estimular iniciativas autônomas.

53

O modelo de administração pública gerencial pressupõe que o Estado é dividido em quatro setores: núcleo estratégico, atividades exclusivas, atividades não exclusivas e produção de bens e serviços.

Assinale a opção que indica uma atividade **não exclusiva** do Estado.

- (A) As atividades de arrecadação de impostos.
- (B) A elaboração e a fiscalização do cumprimento de leis.
- (C) A garantia da segurança pública
- (D) A promoção da seguridade social básica.
- (E) A prestação de serviços de educação.

54

Em relação às teorias de motivação, de acordo com a pirâmide das necessidades de Maslow, as necessidades humanas podem ser divididas em níveis hierárquicos de importância, como exposto na figura a seguir.



Nesse sentido, o orgulho e o reconhecimento devem ser classificados como necessidades

- (A) de auto-realização.
- (B) de estima.
- (C) sociais.
- (D) de segurança.
- (E) fisiológicas.

55

A respeito dos princípios da Administração Pública, assinale V para a afirmativa verdadeira e F para a falsa.

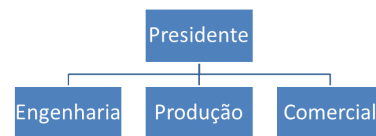
- ( ) O princípio da continuidade estabelece que os serviços públicos não podem ser paralisados, pois as necessidades da população são incessantes.
- ( ) O princípio da impessoalidade significa que qualquer atividade da gestão pública deve ser dirigida a todos os cidadãos.
- ( ) O princípio da moralidade determina que os atos da gestão pública são condicionados por princípios éticos.

As afirmativas são, respectivamente,

- (A) V, V e V.
- (B) V, V e F.
- (C) V, F e V.
- (D) F, V e V.
- (E) F, F e V.

56

Analise a estrutura organizacional a seguir.



Considerando as possibilidades de arranjos de estruturas organizacionais por departamento, a figura analisada corresponde a um arranjo

- (A) divisional.
- (B) funcional.
- (C) horizontal.
- (D) matricial.
- (E) multidirecionado.

57

Sobre os grupos formais e informais, analise as afirmativas a seguir.

- I. Um grupo de funcionários que interage espontaneamente em torno de um propósito específico caracteriza um grupo informal.
- II. O gerente e os subordinados de um departamento de produção constituem um grupo formal.
- III. Uma equipe definida pela instituição para o desenvolvimento de um projeto específico forma um grupo informal.

Assinale:

- (A) se somente a afirmativa I estiver correta.
- (B) se somente a afirmativa III estiver correta.
- (C) se somente as afirmativas I e II estiverem corretas.
- (D) se somente as afirmativas I e III estiverem corretas.
- (E) se todas as afirmativas estiverem corretas.

58

Com o advento e progresso das tecnologias de comunicação, bem como em função dos negócios globais de algumas corporações, algumas empresas adotam modelos de equipe em que seus membros residem em países diferentes e se comunicam e compartilham trabalhos por meio de ferramentas tecnoinformacionais.

Nesse sentido, assinale a opção que indica esse modelo de equipe.

- (A) Ad Hoc
- (B) Autogerenciada
- (C) Força-tarefa
- (D) Funcional cruzada
- (E) Virtual

59

Sobre os tipos de comunicação organizacional, analise as afirmativas a seguir.

- I. Uma sugestão de melhoria é um tipo de comunicação ascendente.
- II. Uma instrução de trabalho é um exemplo de comunicação descendente.
- III. Uma comunicação entre departamentos ou entre setores é um exemplo de comunicação horizontal.

Assinale:

- (A) se somente a afirmativa I estiver correta.
- (B) se somente a afirmativa II estiver correta.
- (C) se somente as afirmativas I e II estiverem corretas.
- (D) se somente as afirmativas II e III estiverem corretas.
- (E) se todas as afirmativas estiverem corretas.

60

A cultura organizacional é dita tradicional, ou seja, caracterizada pelo modelo organizacional burocrático; em outros, a cultura organizacional é chamada de participativa, isto é, calcada na flexibilidade e adaptabilidade.

Nesse sentido, considerando as características de ambos os modelos de cultura organizacional, assinale T para uma característica tradicional e P para uma característica participativa.

- ( ) Autocracia
- ( ) Informalidade
- ( ) Remuneração baseada no desempenho
- ( ) Trabalho individualizado

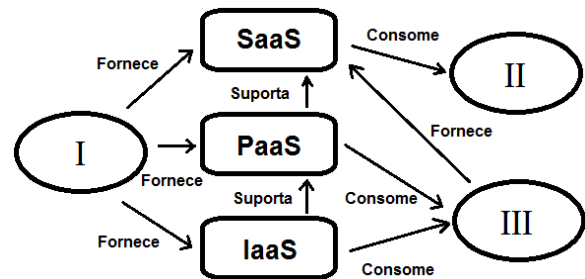
Assinale a opção que indica a relação correta, de cima para baixo.

- (A) P – T – T – P
- (B) P – P – T – T
- (C) P – P – T – P
- (D) T – P – P – T
- (E) T – P – T – P

## Noções de Informática

61

Na figura a seguir é apresentado um esquema com os atores na computação em nuvem de acordo com os papéis desempenhados.



Na figura acima, I, II e III correspondem, respectivamente, a

- (A) consumidor, provedor e desenvolvedor.
- (B) desenvolvedor, consumidor e provedor.
- (C) desenvolvedor, provedor e consumidor.
- (D) provedor, consumidor e desenvolvedor.
- (E) provedor, desenvolvedor e consumidor.

62

O processo de armazenamento que permite a leitura de um arquivo simultaneamente por diversas unidades, aumentando o desempenho e segurança, é denominado

- (A) *hashing*.
- (B) RAID.
- (C) CD-ROM.
- (D) MO.
- (E) zoneamento.

63

O *hashing* ou algoritmo de randomização é uma operação matemática que tem como objetivo produzir um endereço no disco.

Para isso, esse algoritmo utiliza

- (A) gravação sequencial.
- (B) gravação por zona.
- (C) registro.
- (D) rótulo.
- (E) chave.

64

A respeito do armazenamento de dados na nuvem, analise as afirmativas a seguir.

- I. A principal função da nuvem é o armazenamento de dados.
- II. A robustez da conexão à Internet é essencial para o uso da nuvem.
- III. Uma nuvem descartável é indicada para projetos que são realizados uma única vez.

Assinale:

- (A) se somente a afirmativa I estiver correta.
- (B) se somente a afirmativa II estiver correta.
- (C) se somente a afirmativa III estiver correta.
- (D) se somente as afirmativas I e II estiverem corretas.
- (E) se somente as afirmativas II e III estiverem corretas.

**65**

A respeito das ameaças a que uma informação pode ser submetida, analise as afirmativas a seguir.

- I. Vírus é um programa que se conecta a um arquivo e replica-se sem a necessidade de sua execução.
- II. Worm é um programa que se conecta a um arquivo e replica-se após ser executado.
- III. Cavalo de Troia é um programa disfarçado como aplicação útil.

Assinale:

- (A) se somente a afirmativa I estiver correta.
- (B) se somente a afirmativa II estiver correta.
- (C) se somente a afirmativa III estiver correta.
- (D) se somente as afirmativas I e II estiverem corretas.
- (E) se somente as afirmativas II e III estiverem corretas.

**66**

A ferramenta da Internet que consiste em criar uma abstração do terminal, permitindo ao usuário a criação de uma conexão com o computador remoto sem conhecer as suas características, possibilitando o envio de comandos e instruções de maneira interativa, é denominada

- (A) *Telecommunications Networks*.
- (B) *File Transfer Protocol*.
- (C) *Trivial File Transfer*.
- (D) *Domain Name System*.
- (E) *Dynamic Host Configuration*.

**67**

Com relação aos aplicativos para a segurança da informação, assinale V para a afirmativa verdadeira e F para a falsa.

- ( ) *Firewall* é um recurso baseado exclusivamente em *software*, que se coloca entre computadores e redes, visando impedir acessos indesejados oriundos da rede.
- ( ) A detecção de vírus por meio de um serviço de computação em nuvem permite a identificação de arquivos maliciosos e indesejados por múltiplos mecanismos de detecção em paralelo.
- ( ) *Antispyware* é um *software* de segurança que tem o objetivo de detectar e remover *spywares*, sendo ineficaz contra os *adwares*.

As afirmativas são, respectivamente,

- (A) F, V e F.
- (B) F, V e V.
- (C) V, F e F.
- (D) V, V e F.
- (E) F, F e V.

**68**

O TCP-IP é o protocolo padrão na Internet Pública. A função do endereçamento do Protocolo IP versão 4 está baseada nos elementos chaves denominados

- (A) *host* e máscara de sub-rede.
- (B) *host* e subdivisão de rede.
- (C) endereço e subdivisão de rede.
- (D) endereço e máscara de sub-rede.
- (E) endereço e *host*.

**69**

O sistema operacional é um conjunto de programas que interfaceia o *hardware* com o *software*. O componente desse sistema que gerencia todos os recursos computacionais é denominado

- (A) memória.
- (B) *kernel*.
- (C) *shell*.
- (D) ROM.
- (E) DOS.

**70**

Relacione os métodos de organizações de dados no armazenamento secundário às respectivas definições.

1. Organização sequencial de arquivos.
2. Organização direta de arquivos.
3. Organização indexada de arquivos.

- ( ) Os registros são armazenados fisicamente em uma determinada ordem.
- ( ) Os registros são armazenados por meio de um identificador exclusivo.
- ( ) Os registros podem ser acessados sequencialmente ou diretamente.

Assinale a opção que indica a relação correta, de cima para baixo.

- (A) 1, 2 e 3.
- (B) 1, 3 e 2.
- (C) 2, 1 e 3.
- (D) 2, 3 e 1.
- (E) 3, 1 e 2.





Realização

