

# ADMINISTRADOR

TIPO 1 – BRANCA



## SUA PROVA

- Além deste caderno contendo **80 (oitenta)** questões objetivas você receberá do fiscal de prova o cartão de respostas;
- As questões objetivas têm **4 (quatro)** opções de resposta (A, B, C, D) e somente uma delas está correta.



## TEMPO

- Você dispõe de **4 (quatro) horas** para a realização da prova, já incluído o tempo para a marcação do cartão de respostas;
- **2 (duas) horas e 30 (trinta) minutos** após o início da prova, é possível retirar-se da sala, sem levar o caderno de questões;
- A partir dos **30 (trinta) minutos** anteriores ao término da prova é possível retirar-se da sala **levando o caderno de questões**.



## NÃO SERÁ PERMITIDO

- Qualquer tipo de comunicação entre os candidatos durante a aplicação da prova;
- Anotar informações relativas às respostas em qualquer outro meio que não seja o caderno de questões;
- Levantar da cadeira sem autorização do fiscal de sala;
- Usar o sanitário ao término da prova, após deixar a sala.



## INFORMAÇÕES GERAIS

- Verifique se seu caderno de questões está completo, sem repetição de questões ou falhas. Caso contrário, **notifique imediatamente o fiscal da sala**, para que sejam tomadas as devidas providências;
- Confira seus dados pessoais, especialmente nome, número de inscrição e documento de identidade e leia atentamente as instruções para preencher o cartão de respostas;
- Para o preenchimento do cartão de respostas, use somente caneta esferográfica, fabricada em material transparente, com tinta preta ou azul;
- Assine seu nome apenas no(s) espaço(s) reservado(s) no cartão de respostas;
- Confira seu cargo, cor e tipo do caderno de questões. Caso tenha recebido caderno de cargo ou cor ou tipo **diferente** do impresso em seu cartão de respostas, o fiscal deve ser **obrigatoriamente** informado para o devido registro na ata da sala;
- Reserve tempo suficiente para o preenchimento do seu cartão de respostas. O preenchimento é de sua responsabilidade e **não será permitida a troca do cartão de respostas em caso de erro cometido pelo candidato**;
- Para fins de avaliação, serão levadas em consideração apenas as marcações realizadas no cartão de respostas;
- A FGV coletará as impressões digitais dos candidatos na lista de presença;
- Os candidatos serão submetidos ao sistema de detecção de metais quando do ingresso e da saída de sanitários durante a realização das provas.
- **Boa sorte!**

## CONHECIMENTOS GERAIS

### Língua Portuguesa

1

Leia o texto a seguir.

*Os homens não estão cientes do calor que emana de seu coração, embora ele dê vida e movimento a todas as outras partes do seu corpo. [...] O mesmo se dá com a vaidade: ela é tão natural para o homem que ele não a percebe. E, embora seja isso que dê, por assim dizer, vida e movimento à maioria dos seus pensamentos e desígnios, isso ocorre de um modo que é imperceptível para o sujeito. [...] Os homens não percebem que é a vaidade que dá ímpeto à maioria de suas ações.*

A respeito do significado ou da estruturação desse fragmento, assinale a afirmativa **inadequada**.

- (A) O comentário inicial sobre o calor do coração serve de ponto de comparação para o papel da vaidade.
- (B) A semelhança entre o calor do coração e a vaidade é que ambos são imperceptíveis para os homens.
- (C) Ao indicar a vaidade como fonte da maioria das ações humanas, o autor do texto as desvaloriza.
- (D) O homem deve tornar a vaidade uma força consciente para o seu progresso.

2

Leia o texto a seguir.

*Em seu coração, os homens desejam ser estimados, mas eles cuidadosamente ocultam esse desejo porque querem se passar por virtuosos e porque o desejo de receber da virtude qualquer vantagem além dela mesma não seria ser virtuoso, mas amar a estima e o elogio – ou seja, ser vaidoso. Os homens são muito vaidosos, mas não há nada que eles mais detestem do que serem considerados vaidosos.*

Assinale a afirmativa adequada ao seu significado ou à sua estruturação.

- (A) A discussão no texto opõe a essência (os homens serem vaidosos) à aparência (quererem passar por virtuosos).
- (B) A vaidade humana só não é vista como um defeito porque os homens fazem questão de ocultá-la.
- (C) Os homens têm o desejo de serem estimados, ou seja, pretendem alcançar a estima e o elogio, sem serem motivados pela vaidade.
- (D) O fato de serem considerados vaidosos faz com que a imagem pública dos homens cresça ao olhar dos outros.

3

Assinale a opção que apresenta a frase em que os dois termos sublinhados **não** são **antônimos**.

- (A) Juízes implacáveis são todos aqueles que antes foram réus.
- (B) O homem não teria alcançado o possível se, repetidas vezes, não tivesse tentado o impossível.
- (C) Você não será nada se quiser ser tudo.
- (D) Só tenho por seguro o que é incerto.

4

Analise a frase a seguir.

*É claro que a justiça, sendo cega, não vê se é vista, e então não cora.* (Machado de Assis)

As opções a seguir apresentam formas de reescrever a frase acima sem modificação do seu sentido original, **à exceção de uma**. Assinale-a.

- (A) É claro que a justiça, sendo cega, não cora, já que não vê se é vista.
- (B) Sendo cega, é claro que a justiça não vê se é vista, e então não cora.
- (C) É claro que, sendo cega, a justiça não vê se é vista, e então não cora.
- (D) É claro que a justiça não vê se é vista, e então, sendo cega, não cora.

5

Assinale a frase que **não** apresenta **tom crítico**.

- (A) Nenhum homem rico é feio, dizia uma grande atriz.
- (B) Mostre-me um herói e eu escreverei uma tragédia.
- (C) Não é bom que o homem esteja só.
- (D) Ele é a pessoa mais interessante que ele já conheceu.

6

Assinale a frase em que **não** está presente a construção de voz passiva com o pronome **se**.

- (A) O casamento é uma escola onde se aprende algo com o outro.
- (B) Alugou-se uma casa à beira-mar para as férias, mas os temporais acabaram com os sonhos.
- (C) Nunca se é demasiado velho para crescer.
- (D) Fazem-nos na época atual constituições para os povos como se fariam vestidos para as pessoas sem se lhes tomar as medidas.

7

Segundo o gramático Celso Cunha, os adjetivos mostram os seguintes valores: uma qualidade, uma característica, um estado ou uma relação.

Assinale a opção que apresenta a frase em que o adjetivo sublinhado é classificado como **adjetivo de relação**.

- (A) As colônias não deixam de ser colônias pelo fato de serem independentes.
- (B) É necessário mudar muitas vezes de opinião para estar sempre de acordo com o seu partido político.
- (C) As leis ruins são a pior espécie de tirania.
- (D) Juízes implacáveis são aqueles que antes foram réus.<sup>8</sup>

Nas frases a seguir há várias formas de adjetivos referentes aos substantivos sublinhados.

Assinale a opção em que a forma de adjetivação está identificada **inadequadamente**.

- (A) Como todos os soldados, João também tinha cabelo curto. / adjetivo.
- (B) Apesar de pianista, o artista mostrava mãos grosseiras, rudes. / locução.
- (C) O livro que o professor recomendara, esgotou rapidamente. / oração adjetiva.
- (D) José era considerado um cabeça-de-vento. / substantivo composto.

9

Assinale a frase que **não** exemplifica o caso de um adjetivo com valor adverbial.

- (A) Comecei de cima e trabalhei duro até chegar embaixo.
- (B) Você não aprende a manter firme sua posição no mundo ficando de guarda, mas atacando e sendo atacado.
- (C) Por que com tão curta a vida organizamos tantos projetos?
- (D) Tão rápido foge a vida que toda sorte é boa, em tão breve jornada.

10

Assinale a frase em que as duas ocorrências do vocábulo destacado desempenham a mesma função sintática.

- (A) A coisa mais importante da vida é saber o que é importante.
- (B) A vida é feita de ilusões; entre essas ilusões, algumas triunfam.
- (C) Para que um grande sonho se torne realidade, você precisa primeiro de um grande sonho.
- (D) O planejamento familiar é um sonho que o pai de família traça para ter a ilusão do dinheiro que guarda.

11

Assinale a opção em que a modificação de uma forma reduzida de infinitivo foi adequadamente modificada para uma forma desenvolvida.

- (A) Novos ricos também pesquisam antes de comprar / antes de que comprem.
- (B) O divórcio foi uma chance dada ao meu casamento para eu errar outra vez. / para que eu erre outra vez.
- (C) Ao se divorciar, procurou ficar com os bens. / Quando se divorciasse.
- (D) O casamento parece inventado para recompensar os perversos. / para a recuperação dos perversos.

12

As frases a seguir são compostas de dois segmentos separadas por um sinal de pontuação.

Assinale aquela em que essa pontuação foi **inadequadamente** substituída por um conectivo.

- (A) Não é a maioria que é silenciosa. O governo é que é surdo. / mas.
- (B) Não gosto de pensar que estou envelhecendo. Adoro a ideia de que nasci há muito tempo. / portanto.
- (C) O ilegal é o que fazemos imediatamente. O inconstitucional é o que exige um pouco mais de tempo. / enquanto.
- (D) Não pergunte a seus pais o que podem fazer por você. Eles podem fingir que não ouviram. / pois.

## Raciocínio Lógico Matemático

13

Considere a frase:

*Se você é cuiabano, então é mato-grossense.*

É logicamente equivalente à frase acima, a seguinte proposição:

- (A) *Se você é mato-grossense, então é cuiabano.*
- (B) *Se você é cuiabano, então não é mato-grossense.*
- (C) *Se você não é mato-grossense, então não é cuiabano.*
- (D) *Se você não é cuiabano, então não é mato-grossense.*

14

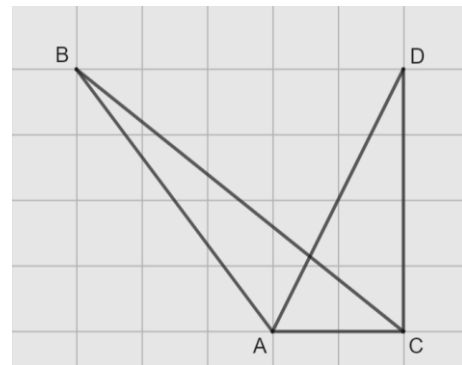
Em uma reunião de uma unidade hospitalar, estavam presentes 8 servidores, sendo 6 médicos e 2 enfermeiros. Todos sentaram-se ao redor de uma mesa redonda.

A quantidade de maneiras distintas que essa mesa pode ser organizada de forma que entre os dois enfermeiros tenha sempre três médicos é

- (A) 120.
- (B) 240.
- (C) 480.
- (D) 720.

15

Na malha quadriculada a seguir, formada por quadrados de lados medindo 1cm, estão representados os triângulos ABC e ACD.



A área do triângulo ABC, em  $\text{cm}^2$ , é igual a

- (A) 4,25.
- (B) 4,00.
- (C) 3,75.
- (D) 3,50.

16

Sobre números inteiros, racionais e reais, analise as afirmativas a seguir e assinale (V) para a verdadeira e (F) para a falsa.

- ( ) Há mais números racionais que números inteiros.
- ( ) A soma de dois números irracionais resulta sempre em um número irracional.
- ( ) A dízima periódica  $6,999\dots$  é igual ao número inteiro 7.

As afirmativas são, respectivamente,

- (A) F – F – V.
- (B) F – V – V.
- (C) V – F – F.
- (D) V – V – F.

17

Os atendimentos realizados por 6 médicos de uma unidade hospitalar em determinado dia foram registrados. Porém, no fim da semana, percebeu-se que a informação dos atendimentos realizados por um desses médicos foi perdida, conforme a lista apresentada a seguir.

10, 9, 15, 9, X, 12

Sabe-se que, nesse dia, nenhum médico fez menos que 6 e mais que 15 atendimentos e que a média de atendimentos é um número inteiro.

Assim, a mediana da lista é

- (A) 10.  
(B) 10,5.  
(C) 11.  
(D) 11,5.

18

A Federação Mato-grossense de Futebol (FMF) realiza anualmente a competição "Copa FMF" na modalidade masculina. Na edição de 2023, a fase final foi disputada por Cuiabá, Mixto, Nova Mutum e Operário VG em um formato quadrangular, no qual todos se enfrentam apenas uma vez.

Em relação aos gols ocorridos nesta fase, sabe-se que:

- Mixto fez o triplo de gols que tomou;
- Cuiabá e Nova Mutum tomaram 6 gols cada;
- Operário VG fez 1 gol e tomou 2 gols;
- Cuiabá fez um gol a mais que Nova Mutum;
- foram feitos 17 gols no total.

Dessa forma, a quantidade de gols feitos pela equipe Nova Mutum foi igual a

- (A) 5.  
(B) 4.  
(C) 3.  
(D) 2.

19

A serviço de uma unidade do Sistema Único de Saúde há três veículos: um automóvel, um ônibus e uma van. Um deles tem a cor azul, outro tem a cor amarela e outro tem a cor verde.

Das afirmativas a seguir, apenas uma é verdadeira:

- I. O automóvel é verde.  
II. O ônibus não é amarelo.  
III. A van não é verde.

Assim, é correto afirmar que

- (A) o automóvel é amarelo.  
(B) o automóvel é azul.  
(C) o ônibus é verde.  
(D) a van é amarela.

20

Em uma fábrica de desfibriladores, foi verificado que eram necessários 8 dias para produzir determinada quantidade de aparelhos, usando a mão de obra de 6 trabalhadores por 4 horas em cada dia.

Para reduzir o tempo de produção para 2 dias, será necessário:

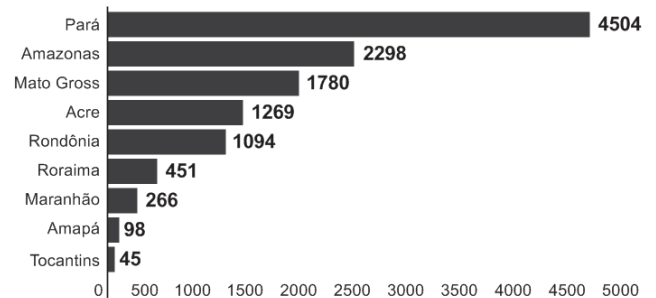
- (A) duplicar o número de trabalhadores.  
(B) triplicar o número de horas trabalhadas por dia.  
(C) duplicar o número de horas trabalhadas por dia.  
(D) duplicar o número de trabalhadores e o número de horas trabalhadas por dia.

## História Política e Econômica e Geografia de Mato Grosso

21

Analise o gráfico a seguir.

### Risco de desmatamento por estado em 2023 (km<sup>2</sup>)



Fonte: <https://g1.globo.com/mt/mato-grosso/noticia/2023/01/18/mt-e-o-3o-estado-com-maior-risco-de-desmatamento-em-2023-aponta-imazon.ghtml>. Adapt.

De acordo com o gráfico, o Estado de Mato Grosso é o terceiro estado brasileiro com maior risco de desmatamento na Amazônia.

Analise as afirmativas a seguir sobre os fatores que concorrem para esse fenômeno.

- A prática agrícola é um dos fatores que contribui para a aceleração dos processos erosivos do solo e do desmatamento. Isso ocorre devido ao emprego, de técnicas agrícolas extensivas, com a retirada de vegetação para a instalação de grandes lavouras monocultoras.
- A prática do garimpo ilegal gera diversos impactos ambientais, como o desmatamento, por meio da retirada de vegetação nativa, seja para estabelecer acessos às áreas ricas em minerais, seja para criar espaços destinados à própria atividade de mineração.
- A demarcação de terras indígenas no Estado contribui para o desmatamento, uma vez que o processo envolve a utilização de madeira para a construção de residências tradicionais e a exploração dos recursos naturais para fins de subsistência.

Está correto o que se afirma em

- (A) I, apenas.  
(B) I e II, apenas.  
(C) I e III, apenas.  
(D) II e III, apenas.

22

Sobre os biomas mato-grossenses e suas respectivas localizações conforme a organização espacial do estado, analise as afirmativas a seguir e assinale (V) para a verdadeira e (F) para a falsa.

- ( ) O bioma Amazônico é caracterizado pela vegetação densa da floresta tropical; está presente no norte do Estado e um dos seus espaços é a microrregião de Sinop.  
( ) O bioma Cerrado é caracterizado pela vegetação composta de árvores baixas e com plantas com raízes profundas; está presente na mesorregião do Centro-Sul Mato-grossense.  
( ) O bioma Pantanal é caracterizado por suas extensas áreas alagadas e pela planície aluvial; está presente na mesorregião Centro-sul do estado, englobando os municípios de Cáceres e Poconé.

As afirmativas são, na ordem apresentada, respectivamente,

- (A) V – V – F.  
(B) V – F – V.  
(C) F – V – F.  
(D) V – V – V.

23

Analise os trechos a seguir.

I. Código Civil dos Estados Unidos do Brasil, de 1916

**Art. 6º.** São incapazes, relativamente a certos atos (Art. 147, inciso I), ou à maneira de os exercer:

IV - os silvícolas.

*Parágrafo único.* Os silvícolas ficarão sujeitos ao regime tutelar, estabelecido em leis e regulamentos especiais, e que cessará à medida de sua adaptação.

II. Lei nº 6.001 de 1973

**Art. 2º.** Cumpre à União, aos Estados e aos Municípios, bem como aos órgãos das respectivas administrações indiretas, nos limites de sua competência, para a proteção das comunidades indígenas e a preservação dos seus direitos: II - prestar assistência aos índios e às comunidades indígenas ainda não integrados à comunhão nacional; VI - respeitar, no processo de integração do índio à comunhão nacional, a coesão das comunidades indígenas, os seus valores culturais, tradições, usos e costumes; VIII - utilizar a cooperação, o espírito de iniciativa e as qualidades pessoais do índio, tendo em vista a melhoria de suas condições de vida e a sua integração no processo de desenvolvimento. (Adaptado.)

III. Constituição Federal de 1988

**Art. 231.** São reconhecidos aos índios sua organização social, costumes, línguas, crenças e tradições, e os direitos originários sobre as terras que tradicionalmente ocupam, competindo à União demarcá-las, proteger e fazer respeitar todos os seus bens.

Sobre a questão indígena no Brasil, de acordo com os trechos, assinale a afirmativa que interpreta corretamente os princípios que orientaram os marcos normativos mencionados.

- (A) Em I, a integração das comunidades indígenas à sociedade brasileira é preconizada por meio de um regime tutelar, que os considerava como indivíduos não plenamente desenvolvidos; em II, a autonomia dos indígenas é garantida por meio do direito à escolha de manter seu isolamento.
- (B) Em I, a autonomia das populações indígenas é assegurada pela concessão de agência individual, reconhecendo-as como capazes de resolver seus próprios conflitos territoriais; em II, a autonomia é manifestada pela isenção do poder federal de qualquer responsabilidade na garantia de seus direitos.
- (C) Em II, a preservação das comunidades indígenas se dá mediante o respeito pelo isolamento como uma medida para prevenir a propagação de doenças e evitar o extermínio; em III, a conservação da diversidade étnica e cultural dos indígenas é garantida por meio da criação de reservas.
- (D) Em II, a integração dos indígenas à sociedade brasileira é prevista por práticas de assimilação, que entendiam seus modos de vida como uma condição transitória; em III, os direitos dos indígenas são reconhecidos pela liberdade de organização sociocultural, responsabilizando o Estado Brasileiro de proteger suas terras.

24

O Estado do Mato Grosso destaca-se tanto nacional quanto internacionalmente por sua significativa produção agrícola.

A respeito do escoamento dos excedentes destinados à exportação, assinale a afirmativa correta.

- (A) O transporte ferroviário é a principal opção, da qual depende o Estado para o envio de sua produção para os portos da Região Sul.
- (B) O transporte hidroviário é ineficiente, visto que sua aplicação se restringe apenas à manutenção das conexões internas do Estado.
- (C) O transporte rodoviário, principalmente a rodovia BR 364, permite transportar a produção até o Estado de São Paulo, alcançando o porto de Santos.
- (D) O transporte rodoviário, principalmente a rodovia BR 163, permite a entrega da soja para o Rio de Janeiro, principal mercado consumidor.

25

*A Capitania de Mato Grosso é uma das mais importantes de todo o Brasil, tanto pela sua extensão e pelas sabidas, mas ainda intactas riquezas, que guardam os seus vastíssimos sertões, como por ser fronteira ao vasto, populoso e rico Peru.*

Adaptado de: Reflexões sobre o estado atual da capitania de Mato Grosso, combinando com os domínios espanhóis que lhe são confinantes, em: Serra, Ricardo, Reflexões sobre a Capitania de Mato Grosso, Cuiabá: IHGMT, 2002, p. 12.

A respeito do contexto da criação da Capitania de Mato Grosso e da delimitação de suas fronteiras, assinale a afirmativa correta.

- (A) A fronteira sul com a cidade de Assunção, que estava sob domínio espanhol, desempenhava um papel crucial na proteção do interior do território brasileiro.
- (B) A fronteira oriente com a capitania de Goiás, então no auge da sua produção de cana de açúcar, atuava como ponto de contato para trocas comerciais entre as duas regiões.
- (C) A fronteira leste com a capitania de São Paulo, representou o cumprimento do estabelecido pelo Tratado de Tordesilhas, que concedeu a posse da região centro oeste aos portugueses.
- (D) A fronteira norte com a capitania de Rondônia revelava-se estratégica para a exploração e tráfico da borracha e permitia uma conexão vital com os mercadores europeus.


26

A respeito da guerra entre a Tríplice Aliança e o Paraguai, assinale a afirmativa que descreve corretamente o envolvimento de Mato Grosso no conflito.

- (A) Os antecedentes do conflito são marcados pela assinatura do Tratado da Tríplice Aliança, o qual legitimava a guerra contra o Paraguai e designava Mato Grosso como capital da bacia platina, devido à sua extensa ocupação populacional.
- (B) No início do conflito, ocorreu a invasão paraguaia a Mato Grosso, que não encontrou dificuldade em ocupá-lo devido à precária defesa do território brasileiro.
- (C) Durante o conflito, a reconquista do território do Mato Grosso pelo Brasil foi facilitada pela acessibilidade à região, tanto por redes viárias quanto pelas rotas navegáveis.
- (D) O desfecho do conflito resultou na vitória brasileira, que retomou o território mato-grossense, que apesar de conquistado, jamais foi ocupado pelos paraguaios devido às ofensivas dos índios e às epidemias locais.

27

Analise a imagem a seguir.



Fonte: <https://g1.globo.com/ac/acre/noticia/2019/08/06/revolucao-acreana-charges-e-chronicas-tratavam-acre-como-um-estorvo-para-nacao.ghtml>

A charge ilustra o Barão do Rio Branco carregando uma bomba com a inscrição “Acre”, enquanto outro personagem, posicionado atrás, acende o pavio. A legenda diz: “ — Cuidado, barão! Com esta bomba nem S. Pedro com seus tiros o salvará.”

Sobre as medidas estabelecidas pelo Tratado de Petrópolis, assinado entre o Brasil e a Bolívia, que resultou na incorporação do Acre ao território brasileiro, assinale a afirmativa correta.

- (A) Proibiu a navegação boliviana nos confluente brasileiros, encerrando a saída da Bolívia ao Oceano Atlântico.
- (B) Autorizou o acesso boliviano ao território brasileiro, estipulando que seria de responsabilidade da Bolívia construir uma ferrovia para facilitar sua mobilidade.
- (C) Concedeu permissão para o estabelecimento de agentes bolivianos nas alfândegas comerciais brasileiras na região de fronteira entre os dois países.
- (D) Desalojou colonos bolivianos da região, especialmente os que dependiam de atividades extrativistas, sem que o Brasil indenizasse o governo boliviano pela perda do território.

28

*Deve-se promover a integração da península do Centro-Oeste brasileiro, equipando-a de meios que lhe permitam desempenhar seu duplo papel de sólida plataforma para um transbordamento sobre a Hileia ou para ações visando a contrapor-se ao avanço para o norte de um imperialismo platino.*

Fonte: SILVA, Golbery do Couto e. Conjuntura política nacional: o poder executivo & geopolítica do Brasil. Brasília: Ed. UnB, 1981. (Coleção Temas Brasileiro, n. 7). Citado por Cavalcanti, Marcelo; Barreira, Celene. Ações da Sudeco no desenvolvimento do Centro-Oeste, B.goiano, geogr.Goiânia, v. 31, n. 2, 2011, p. 180.

As afirmativas a seguir descrevem corretamente os objetivos da Superintendência de Desenvolvimento do Centro-Oeste (SUDECO) durante a ditadura militar brasileira, à exceção de uma. Assinale-a.

- (A) Estimular o processo de industrialização na região, visando criar polos industriais capazes de competir com os centros empresariais do Sudeste.
- (B) Ocupar as áreas da região identificadas como “vazios estratégicos”, consideradas suscetíveis à influência comunista.
- (C) Promover a integração regional com outras partes do território brasileiro por meio do desenvolvimento de infraestrutura rodoviária.
- (D) Fomentar a mecanização e a modernização da agricultura para impulsionar a ocupação produtiva da fronteira agrícola.

## Noções de Administração Pública, Ética, Filosofia e Atualidades

29

A pirâmide de Maslow foi uma das primeiras teorias desenvolvidas para entender o sentido da motivação.

De acordo com essa teoria, assinale a afirmativa correta.

- (A) Os seres humanos são estimulados por uma sequência de necessidades, devendo ocorrer a satisfação das necessidades mais básicas antes de se aspirarem as outras.
- (B) Os indivíduos são naturalmente preguiçosos, demandando, por isso, mecanismos de controle rígidos para o bom desempenho.
- (C) As pessoas são incentivadas pela percepção de justiça em seu ambiente, comparando suas recompensas e retribuições com a de seus pares.
- (D) Os sujeitos tendem a ser encorajados por atividades que são vistas como alcançáveis, conforme as suas capacidades.

30

O momento em que o aprovado em um concurso público é investido em cargo público, mediante a aceitação expressa das responsabilidades inerentes à função, é conhecido como posse. No entanto, é apenas no exercício que o servidor desempenha efetivamente suas atribuições.

Com relação ao disposto na Lei Complementar nº 04/1990, que dispõe sobre os servidores do Estado de Mato Grosso, é correto afirmar que, o servidor deve entrar em exercício

- (A) imediatamente após a posse.
- (B) até 5 dias após a posse.
- (C) até 20 dias após a posse.
- (D) até 30 dias após a posse.

31

Como regra geral, a contratação de pessoa na Administração Pública deve ocorrer por prazo indeterminado. No entanto, algumas situações de excepcionalidade permitem que sejam realizadas contratações em caráter temporário.

Com base nisso, analise as afirmativas a seguir.

- I. Combater surtos epidêmicos.
- II. Realizar o recenseamento.
- III. Permitir a execução de serviço, nas áreas de pesquisa científica, por profissional de notória especialização.

Em conformidade com a Lei Complementar nº 04/1990, assinale a opção que indica a(s) situação(ões) que permite(m) contratação temporária.

- (A) I, apenas.
- (B) I e II, apenas.
- (C) II e III, apenas.
- (D) I, II e III.

32

Em uma situação hipotética, determinado servidor do Estado do Mato Grosso, pertencente à Secretaria de Saúde, cometeu falta punível com cassação de aposentadoria.

Nesse caso, com base na Lei Complementar nº 04/1990, a autoridade que deve aplicar a respectiva penalidade ao servidor é o

- (A) Governador do Estado.
- (B) chefe da repartição do servidor.
- (C) Presidente do Tribunal de Contas do Estado.
- (D) Corregedor-geral do Estado.

33

Max Weber diferencia a ética da convicção da ética da responsabilidade.

A esse respeito, analise as afirmativas a seguir e assinale (V) para a verdadeira e (F) para a falsa.

- ( ) A ética da responsabilidade é a que tem como preocupação central as consequências das ações realizadas.
- ( ) A ética da convicção é a mais apropriada para a função pública, pois independe de variações individuais.
- ( ) A ética da responsabilidade baseia-se nas predisposições éticas dos agentes e espera deles um elevado senso moral.

As afirmativas são, respectivamente,

- (A) F – V – F.
- (B) F – V – V.
- (C) V – F – F.
- (D) V – V – F.

34

O instituto da cidadania estabelece direitos e deveres para os indivíduos pertencentes à determinada sociedade. Esses direitos podem ser divididos em civis, políticos e sociais.

Assinale a opção que exemplifica corretamente os direitos sociais.

- (A) Direito à vida e à liberdade.
- (B) Direito à representação política.
- (C) Direito à propriedade privada.
- (D) Direito à saúde e à moradia.

35

*Um funcionário do governo fica responsável pela distribuição de recursos limitados em uma pequena cidade e se depara com um dilema moral. Uma enchente atingiu a região e ele precisa decidir como alocar os recursos de emergência. Há dois grupos que precisam urgentemente de ajuda: um é um orfanato com várias crianças, e o outro, um hospital que atende a toda a comunidade. Ambos estão em situações críticas e os recursos não são suficientes para atender às necessidades de ambos.*

Na situação acima, é correto afirmar que o funcionário aderiu a uma ética utilitarista se ele optou por

- (A) agir conforme o dever e o princípio moral de direcionar a ajuda para o grupo mais desfavorecido.
- (B) tomar o caminho de ação capaz de favorecer o maior número possível das pessoas afetadas.
- (C) conduzir a situação do modo mais compatível possível com o cultivo coletivo das virtudes cívicas.
- (D) atuar de maneira a distribuir os recursos equitativamente, sem favorecer ou preterir nenhuma das partes.

36

Com relação ao Estatuto dos Servidores Públicos do Estado do Mato Grosso (Lei Complementar nº 04/1990), associe cada forma de provimento de cargo público à sua descrição.

1. Reversão
  2. Recondição
  3. Readaptação
  4. Reintegração
- ( ) O servidor aposentado por invalidez retorna à atividade ao serem declarados insubsistentes os motivos da aposentadoria.
  - ( ) O servidor passa a assumir responsabilidades e atribuições compatíveis com uma limitação física ou mental sofrida.
  - ( ) O servidor retorna a um cargo anteriormente ocupado, por exemplo, devido à inabilitação em estágio probatório.
  - ( ) O servidor retorna ao cargo anteriormente ocupado devido a uma invalidação de uma anterior demissão.

Assinale a opção que indica a relação correta, segundo a ordem apresentada.

- (A) 1 – 3 – 2 – 4.
- (B) 1 – 4 – 2 – 3.
- (C) 4 – 2 – 3 – 1.
- (D) 4 – 3 – 2 – 1.

## Legislação do SUS + Plano Nacional de Atenção Básica à Saúde

37

Assinale a opção que apresenta, corretamente, um objetivo do Sistema Único de Saúde – SUS.

- (A) Integração em nível executivo das ações de saúde, meio ambiente e saneamento básico.
- (B) Organização dos serviços públicos de modo a evitar duplicidade de meios para fins idênticos.
- (C) Identificação e divulgação dos fatores condicionantes e determinantes da saúde.
- (D) Capacidade de resolução dos serviços em todos os níveis de assistência.

38

Assinale a opção que apresenta o princípio que foi acrescentado ao Sistema Único de Saúde, em 2023.

- (A) Organizar atendimento público específico e especializado para mulheres e vítimas de violência doméstica em geral.
- (B) Divulgar informações quanto ao potencial dos serviços de saúde e da sua utilização pelo usuário.
- (C) Utilizar a epidemiologia para estabelecer prioridades, a alocação de recursos e a orientação programática.
- (D) Proteger integralmente os direitos humanos de todos os usuários e, em especial, identificar maus-tratos, negligência e violência sexual praticados contra crianças e adolescentes.

**39**

Com base nas disposições da Lei nº 8.080/90 acerca do acompanhamento à mulher nos serviços de saúde, analise as afirmativas a seguir e assinale (V) para a verdadeira e (F) para a falsa.

- ( ) Em consultas, exames e procedimentos realizados em unidades de saúde públicas ou privadas, toda mulher tem o direito de fazer-se acompanhar por pessoa maior de idade, durante todo o período do atendimento, independentemente de notificação prévia.
- ( ) Em caso de atendimento com sedação, a eventual renúncia da paciente ao direito de acompanhante deverá ser feita por escrito, após o esclarecimento dos seus direitos, com no mínimo 24 (vinte e quatro) horas de antecedência, assinada por ela e arquivada em seu prontuário.
- ( ) Em casos de urgência e emergência, os profissionais de saúde ficam autorizados a agir na proteção e defesa da saúde e da vida da paciente, ainda que na ausência do acompanhante requerido.

As afirmativas são, respectivamente,

- (A) F – V – F.
- (B) V – V – V.
- (C) F – F – V.
- (D) V – F – V.

**40**

Com base na organização dos níveis de assistência à saúde, assinale a opção que apresenta a um serviço da *atenção terciária*.

- (A) Unidade de Transplante Renal.
- (B) Ambulatório de Neurologia.
- (C) Serviço de Ressonância Magnética.
- (D) Unidades de Pronto Atendimento.

**41**

Os Programas de Qualidade de Vida e Saúde para os Trabalhadores da Saúde e o Colegiado Gestor fazem parte do seguinte elemento da Política Nacional de Humanização.

- (A) Valores.
- (B) Princípios.
- (C) Diretrizes.
- (D) Dispositivos.

**42**

Com base nos Requisitos de Boas Práticas de Funcionamento para os Serviços de Saúde, analise as afirmativas a seguir e assinale (V) para a verdadeira e (F) para a falsa.

- ( ) Em serviços de saúde com mais de vinte trabalhadores é obrigatória a instituição de Comissão Interna de Prevenção de Acidentes - CIPA.
- ( ) O serviço de saúde deve garantir que o prontuário contenha registros relativos à identificação e todos os procedimentos prestados ao paciente.
- ( ) O serviço de saúde deve garantir que os trabalhadores sejam avaliados, no mínimo, uma vez ao ano em relação à saúde ocupacional.

As afirmativas são, respectivamente,

- (A) V – V – V.
- (B) F – V – F.
- (C) V – V – F.
- (D) V – F – F.

**43**

De acordo com a Carta dos Direitos e Deveres da Pessoa Usuária da Saúde, assinale a afirmativa correta.

- (A) O usuário tem direito a acompanhante, pessoa de sua livre escolha, nas consultas e exames.
- (B) O atendimento nos serviços de saúde deve ser sempre com hora marcada.
- (C) O usuário tem liberdade de procurar parecer de outro profissional, exceto em casos com impedimento legal.
- (D) Toda pessoa previamente cadastrada tem direito a participar dos conselhos e das conferências de saúde.

**44**

De acordo com as disposições normativas acerca da segurança do paciente, os eventos adversos que evoluírem para óbito devem ser notificados em até

- (A) 12 horas, a partir do ocorrido.
- (B) 24 horas, a partir do ocorrido.
- (C) 48 horas, a partir do ocorrido.
- (D) 72 horas, a partir do ocorrido.

**45**

Com base nas disposições da Lei nº 8.142/90, analise as afirmativas a seguir.

- I. O Conselho de Saúde é um órgão colegiado responsável por avaliar a situação de saúde e propor diretrizes para formulação da política de saúde.
- II. Um dos requisitos para que Estados e Municípios recebam os recursos destinados à cobertura das ações e serviços de saúde é a elaboração do Plano de Saúde.
- III. Os Municípios poderão estabelecer consórcio para execução de ações e serviços de saúde.

Está correto o que se afirma em

- (A) I, apenas.
- (B) II e III, apenas.
- (C) I e II, apenas.
- (D) I e III, apenas.

**46**

Conforme disposições sobre a organização do SUS, o conjunto de ações e serviços de saúde, articulados em níveis de complexidade crescente com a finalidade de garantir a integralidade da assistência à saúde, corresponde ao(à)

- (A) Mapa de Saúde.
- (B) Região de Saúde.
- (C) Rede de Atenção à Saúde.
- (D) Serviços Especiais de Acesso Aberto.



## CONHECIMENTOS ESPECÍFICOS

47

A Organização Racional do Trabalho (ORT) tinha como objetivo substituir práticas rudimentares de produção, predominantes à época, por técnicas baseadas em análises científicas.

Sobre os fundamentos do método ORT, analise os itens a seguir.

- I. Supervisão Linear.
- II. Conceito de homo *complexus*.
- III. Condições ambientais de trabalho.
- IV. Desenho de cargos e tarefas.

Está correto que se afirma em

- (A) I e II, apenas.
- (B) III e IV, apenas.
- (C) II e III, apenas.
- (D) I e IV, apenas.

48

A implementação da *teoria dos sistemas* trouxe o entendimento de que as organizações não operam isoladamente, mas dialogam continuamente com o ambiente externo, por meio da troca de informações.

De acordo com a literatura especializada na teoria dos sistemas, observou-se que uma organização alcança um estado de equilíbrio, conhecido como homeostase, quando satisfaz alguns requisitos.

Assinale a opção que indica, corretamente, um desses requisitos.

- (A) Unidirecionalidade.
- (B) Entropia Positiva.
- (C) Mecanicismo Pragmático.
- (D) Autorreferencialidade.

49

Liana é contratada para prestar consultoria para uma fábrica de tijolos ecológicos, com queixas de que sua produtividade está em constante declínio.

Após algumas semanas analisando os processos da fábrica, Liana emitiu um parecer recomendando aos gestores da fábrica que, para assegurar o aumento da produtividade, seria necessário melhorar a integração social dos funcionários e desenvolver o conteúdo dos cargos, reduzindo também os trabalhos mais simples e repetitivos.

Diante do exposto, no contexto das teorias da Administração, evidencia-se que Liana embasou seu parecer nos conceitos da Teoria

- (A) Clássica.
- (B) Burocrática.
- (C) das Relações Humanas.
- (D) Fordista.

50

Entre as principais ferramentas utilizadas para o gerenciamento da qualidade, o *ciclo PDCA* é responsável por

- (A) organizar de forma eficiente o ambiente de trabalho, por meio de ações de limpeza e de padronização de hábitos virtuosos.
- (B) auxiliar no monitoramento e na identificação de variações anormais nos processos de trabalho.
- (C) assegurar a identificação detalhada das causas e dos efeitos de problemas específicos.
- (D) promover a melhoria contínua dos processos, por meio da iteração de determinadas etapas.

51

A *Análise SWOT* é a metodologia que facilita a identificação dos fatores ambientais que influenciam a atividade de determinada organização, fornecendo, assim, um suporte fundamental para a definição de suas diretrizes.

Acerca da Análise SWOT, assinale a afirmativa correta.

- (A) As *forças* representam elementos do ambiente interno, considerados controláveis pela organização.
- (B) As *oportunidades* representam elementos do ambiente externo, considerados controláveis pela organização.
- (C) As *fraquezas* representam elementos do ambiente externo, considerados não controláveis pela organização;
- (D) As *ameaças* representam elementos do ambiente interno, considerados não controláveis pela organização.

52

Entre as principais vantagens da ferramenta *Balanced Scorecard* está a de permitir que a organização

- (A) identifique os principais concorrentes do setor, avaliando o grau de rivalidade.
- (B) classifique, por ordem de rentabilidade, os tipos de produtos oferecidos.
- (C) estabeleça os riscos de os produtos substitutos ganharem mercado em seu nicho.
- (D) priorize a análise de outros indicadores de desempenho, além daqueles de caráter financeiro.

53

Antes de uma reunião importante para o fechamento de um negócio que poderia alavancar a sua *startup*, uma empresária percebeu que o pingente que ela considera seu talismã da sorte, presente em todas as suas negociações bem-sucedidas, havia desaparecido. Acreditando que a ausência representaria um prenúncio de azar, ela decidiu postergar a negociação.

Assinale a opção que apresenta a *armadilha psicológica* incorrida pela empresária.

- (A) Efeito *framing*.
- (B) Lapso de ancoragem.
- (C) Erro de aleatoriedade.
- (D) Desvalorização reativa.

54

Os referenciais estratégicos auxiliam as organizações na condução de seus negócios, norteando tanto seus funcionários, quanto seus clientes, gestores ou qualquer outra parte interessada.

Nesse sentido, caso a Secretaria de Saúde do Mato Grosso (SES-MT) esteja definindo seus referenciais estratégicos, assinale a opção que apresenta, corretamente, um *tipo de missão*.

- (A) Garantir o direito à saúde como direito fundamental e prover condições para o seu exercício.
- (B) Ser a principal referência de ações de saúde no Estado do Mato Grosso.
- (C) Respeitar os cidadãos, oferecendo tratamento humanizado e integridade pública.
- (D) Buscar eficácia, eficiência, efetividade e excelência.

55

No que se refere à atividade de planejamento, um dos principais elementos do processo administrativo realizado pelo administrador, é correto afirmar que, ao ser exercida no nível tático da organização, tende a

- (A) atuar essencialmente com horizonte temporal de curto prazo.
- (B) tomar decisões que abranjam a organização como um todo.
- (C) lidar com questões que envolvam determinado departamento da organização.
- (D) enfrentar problemas rotineiros, com soluções previamente definidas.

56

A estrutura matricial é um tipo de estrutura organizacional que facilita a adaptabilidade das organizações às mudanças no ambiente, sendo considerada útil para sociedades empresárias que atuam em setores dinâmicos, como as de tecnologia, publicidade e *marketing*. No entanto, as organizações que adotam esse estilo de estrutura podem sofrer alguns problemas.

Assinale a opção que indica um desses problemas.

- (A) Dificuldade de definições claras sobre as atribuições e as responsabilidades dos colaboradores.
- (B) Problemas para o cumprimento de prazos e orçamentos previstos pela direção.
- (C) Perda de uma visão holística dos departamentos da organização.
- (D) Hierarquia das decisões baseada em cargos e regras, em vez de pessoas.

57

Conforme a nova Lei de Licitações e Contratos (Lei nº 14.133/2021), a modalidade de licitação designada para contratar objetos cujas especificidades demandam que a Administração Pública busque adaptações de soluções já existentes no mercado, de modo a atender suas necessidades, é denominada

- (A) concurso.
- (B) tomada de preços.
- (C) diálogo competitivo.
- (D) concorrência.

58

Uma sociedade empresária, que participa de um processo licitatório promovido por um órgão público para a construção de um hospital, envolve-se em atividades fraudulentas. Após o processo legal apropriado, ela é penalizada com a declaração de inidoneidade e a aplicação de uma multa.

Nesse contexto, a reabilitação da sociedade empresária é possível desde que ela atenda, obrigatoriamente, entre outras condições, à(ao)

- (A) reparação integral do dano, pagamento parcial da multa e transcurso de prazo mínimo de 5 anos da penalidade.
- (B) reparação integral do dano, pagamento de multa e transcurso de prazo mínimo de 3 anos da penalidade.
- (C) reparação de 70% do dano ou pagamento de multa e transcurso de prazo mínimo de 1 ano da penalidade.
- (D) pagamento de multa de, no mínimo, 0,1% do valor do dano e transcurso do prazo de, no mínimo, 6 meses da penalidade.

59

Sobre as situações disciplinadas pelas normas e procedimentos da Lei nº 14.133/2021, analise as afirmativas a seguir.

- I. Uma *autarquia estadual*, do ramo da saúde pública, tem a intenção de alugar um imóvel para armazenar seu estoque de medicamentos, cujas características de instalações e localização não sejam importantes.
- II. Uma *empresa pública*, devido à chegada dos novos concursados, opta por realizar processo de aquisição de materiais de escritório.
- III. O Banco Central do Brasil planeja a contratação de organização para a gestão direta das reservas internacionais do País, visando à melhora de sua rentabilidade.

Está correto o que se afirma em

- (A) I, apenas.
- (B) I e II, apenas.
- (C) I e III, apenas.
- (D) II e III, apenas.

60

Acerca da condução da licitação, conforme previsto na Lei nº 14.133/2021, assinale a afirmativa correta.

- (A) Será conduzida por comissão de contratação, composta por maioria de servidores efetivos ou empregados públicos do quadro permanente, em caso de contratação de serviços e bens comuns.
- (B) Será conduzida, em caso de aquisição de bens ou serviços especiais, por equipe de apoio, com membros que responderão solidariamente por todos os atos praticados.
- (C) Será conduzida por agente de contratação, pessoa designada pela autoridade competente entre servidores efetivos ou empregados dos quadros permanentes.
- (D) Será conduzida por pregoeiro, profissional especializado não integrante do quadro permanente da Administração Pública, contratado por processo simplificado.

61

Uma entidade da Administração Pública pretende adquirir medicamentos destinados exclusivamente ao tratamento de doenças raras.

Conforme a Lei nº 14.133/2021, assinale a opção que indica o procedimento correto.

- (A) A licitação será dispensada, desde que a contratação envolva valores inferiores a R\$100,000,00.
- (B) A licitação será dispensável, desde que essas doenças sejam definidas pelo Ministério da Saúde.
- (C) A licitação será inexigível, desde que não surjam licitantes interessados, no período de 6 meses.
- (D) A licitação será obrigatória, desde que seja realizada pelo tipo *maior retorno econômico*.

62

A respeito dos procedimentos auxiliares, descritos na Lei nº 14.133/2021, analise os itens a seguir.

- I. Registro cadastral.
- II. Procedimento de manifestação de interesse.
- III. Regime diferenciado de contratações.

Está correto o que se afirma em

- (A) I, apenas.
- (B) I e II, apenas.
- (C) I e III, apenas.
- (D) II e III, apenas.

63

Entre as modalidades de descentralização existentes na Administração Pública, norteadas pelo princípio da especialidade, aquela que transfere a titularidade da execução de serviço público para uma autarquia é conhecida por descentralização por

- (A) outorga.
- (B) delegação.
- (C) colaboração.
- (D) publicização.

64

Juca Epaminondas, prefeito de um município brasileiro, inaugurou o primeiro hospital municipal, com o objetivo de aprimorar o atendimento à saúde da população local. Orgulhoso de sua realização, decidiu nomear a nova unidade como Hospital Epaminondas, buscando assim perpetuar o legado de sua gestão.

Diante da situação, à luz dos princípios constitucionais que norteiam a Administração Pública, é correto afirmar que João Epaminondas violou o princípio da

- (A) moralidade
- (B) publicidade.
- (C) eficiência.
- (D) impessoalidade.

65

Caso, ao final do bimestre, a realização da receita não atingir as metas de resultado previstas, a Lei de Responsabilidade Fiscal (LRF) limitou o empenho das despesas nos montantes necessários para assegurar o equilíbrio fiscal das contas públicas. Entretanto, destaca-se que a LRF previu algumas despesas como exceção, não sendo essas objeto de limitação.

Assinale a opção que indica a despesa prevista como exceção às limitações determinadas pela LRF.

- (A) As relativas ao desenvolvimento científico custeadas por fundo criado para tal finalidade.
- (B) As expressamente ressalvadas por anexo específico da Lei Orçamentária Fiscal.
- (C) As que envolvem programas de segurança pública em zonas de intervenção federal.
- (D) As dispostas no texto constitucional como discricionárias e de caráter desvinculado.

66

A Receita Corrente Líquida (RCL) é um importante indicador de gestão fiscal da Administração Pública, sendo utilizado essencialmente para a constatação da efetiva capacidade de arrecadação dos entes públicos.

Destaca-se que a RCL representa o somatório das despesas correntes de determinado ente, arrecadadas no mês de referência e nos onze anteriores, deduzidos certos itens, como, por exemplo,

- (A) os pagamentos de dívidas de IPTU em regiões com IDH considerado baixo.
- (B) o lucro sobre a alienação de imóveis que abrigavam prédios públicos.
- (C) as contribuições dos servidores para o custeio do sistema de previdência e assistência social.
- (D) as operações de crédito com prazo de pagamento superior a 12 meses.

67

Ao buscar dar efetividade ao princípio da transparência, a LRF previu, entre seus instrumentos, o Relatório Resumido de Execução Orçamentária (RREO), que deve ser publicado bimestralmente pelo Poder Executivo, com demonstrativos que abrangem também os outros Poderes. Diferentemente dos referentes aos bimestres anteriores, no entanto, o RREO do último exercício deve vir acompanhado também de outros demonstrativos, como, por exemplo, as

- (A) dívidas consolidada e mobiliária.
- (B) despesas com juros financeiros e flutuantes.
- (C) projeções atuariais dos regimes de previdência social.
- (D) operações de crédito, incluindo as por antecipação de receita.

68

Os Tribunais de Contas desempenham um papel importante na sociedade, tendo, entre outras funções, a de fiscalizar a gestão fiscal, prevenindo e alertando para possíveis desvios que podem resultar em danos ao patrimônio público. Em vista disso, sua atuação também foi devidamente prevista pela LRF.

Acerca da atuação dos Tribunais de Contas prevista na LRF, é correto afirmar que eles devem alertar os Poderes quando constatarem que o montante da despesa total com pessoal ultrapassou

- (A) 60% do limite.
- (B) 70% do limite.
- (C) 80% do limite.
- (D) 90% do limite.

69

À luz da LRF, assinale a opção que apresenta as políticas que terão o cumprimento de suas metas avaliado e apresentado pelo Banco Central do Brasil às comissões temáticas do Congresso Nacional, em até noventa dias do encerramento de cada semestre.

- (A) Monetária, creditícia, cambial, fiscal e financeira.
- (B) Monetária, creditícia, cambial e fiscal, apenas.
- (C) Monetária, creditícia e cambial, apenas.
- (D) Monetária e creditícia, apenas.

70

Em uma situação hipotética, um país optou por realizar o processo orçamentário de forma que, anualmente, cada despesa a ser autorizada seja devidamente analisada e justificada pelo gestor, não apresentando qualquer vinculação com o orçamento do período anterior.

Nesse caso, o tipo de orçamento utilizado por esse país é conhecido como

- (A) desempenho.
- (B) tradicional.
- (C) participativo.
- (D) base-zero.

71

Juntamente com a Lei de Diretrizes Orçamentárias (LDO) e o Plano Plurianual (PPA), a Lei Orçamentária anual (LOA) constitui um dos principais instrumentos para a elaboração e gestão do orçamento público brasileiro. A LOA é reconhecida como o orçamento do governo em si, detalhando a previsão de receitas e a autorização de despesas para o ano fiscal subsequente.

No que se refere ao projeto de LOA, assinale a afirmativa correta.

- (A) Será acompanhado de demonstrativo regionalizado do efeito decorrente de isenções, anistias, remissões, subsídios e benefícios de natureza financeira, tributária e creditícia sobre as receitas e despesas.
- (B) Deverá estabelecer as normas de gestão financeira e patrimonial da administração direta e indireta, bem como as condições para a instituição e o funcionamento de fundos.
- (C) Disporá sobre o exercício financeiro, a vigência, os prazos, a elaboração e a organização do PPA e da LDO.
- (D) Definirá a forma de utilização e o montante da reserva de contingência, destinada ao atendimento de passivos contingentes e outros riscos e eventos fiscais imprevistos.

72

Com base na Lei sobre Parceria Público-Privada (Lei nº 11.079/2004), analise as afirmativas que apresentam situações que permitem contratações por Parceria Público-Privada

- I. Prazo de vigência do contrato de 10 anos.
- II. Valor do contrato de 15 milhões de reais.
- III. Contrato de fornecimento de mão de obra como objeto único.

Está correto o que se afirma em

- (A) I, apenas.
- (B) I e II, apenas.
- (C) I e III, apenas.
- (D) II e III, apenas.

73

Com relação à *Accountability* e suas dimensões na Administração Pública, assinale a afirmativa correta.

- (A) A realização de greve geral por sindicatos contra medida do governo considerada nociva aos interesses da categoria, é um exemplo de *Accountability* Horizontal.
- (B) A utilização do instrumento de *Impeachment* pelo Congresso Nacional contra um presidente que cometa crime de responsabilidade, é um exemplo de *Accountability* Societal.
- (C) A criação de nova jurisprudência por parte do Poder Judiciário, que impossibilite a eleição de indivíduos que cometeram atos contra a República, é um exemplo de *Accountability* Diagonal.
- (D) A oportunidade que a população tem de expressar seu voto em eleições, escolhendo um candidato capaz de destituir um político corrupto do cargo, é um exemplo de *Accountability* Vertical.

74

As políticas públicas têm o objetivo de criar ações para resolver um problema de sociedade. Nesse sentido decisões devem ser tomadas da melhor forma, para que a política atinja o seu melhor resultado.

Com relação ao modelo de decisão conhecido como coalizão de defesa, assinale a afirmativa correta.

- (A) A política pública deve ser instituída por um conjunto de subsistemas relativamente estáveis, que, ao se articularem com os acontecimentos externos, recebem seus parâmetros de formulação.
- (B) A formulação da política pública se baseia na escolha de uma solução pré-definida de problemas, constituídos pela compreensão limitada dos tomadores de decisão sobre o que é de fato necessário.
- (C) O estabelecimento da agenda de políticas públicas deve ser determinado a partir da janela de oportunidade resultante do encontro de três fluxos-chave: político, dos problemas e das soluções.
- (D) A solução dos problemas por meio de políticas públicas deve ser feita de maneira gradual, sem introduzir grandes rupturas no sistema que possam causar conflitos sociais.

75

Uma sociedade empresária produtora de equipamentos e materiais médicos, visando expandir sua produção de luvas de látex, considerado seu produto líder de vendas, decidiu construir uma fábrica voltada exclusivamente para a fabricação em massa do item, que não demanda customização.

Com relação aos tipos de *Layout*, é correto afirmar que o tipo ideal a ser utilizado pela empresa na sua nova fábrica é o

- (A) estacionário.
- (B) posicional.
- (C) linear.
- (D) celular.

76

Em um contexto empresarial, certos estoques são estrategicamente mantidos para mitigar riscos associados às variações e imprevisibilidade, tanto na demanda quanto no fornecimento de produtos.

Assinale a opção que apresenta o tipo de estoque conceituado no enunciado.

- (A) Virtual.
- (B) de Ciclo.
- (C) de Desacomplamento.
- (D) Hedge.

77

Em um programa voltado para a melhoria da infraestrutura hospitalar de determinada região, ficou estabelecido um plano de implementação de um novo sistema de prontuário eletrônico nos hospitais, visando melhorar o atendimento e reduzir o tempo de espera dos pacientes. Considerando a necessidade de informar o prazo aproximado de conclusão do projeto, o gestor utiliza o método PERT, visando descobrir a melhor estimativa.

Conforme a situação apresentada, sabendo ainda que as estimativas *otimista*, *mais provável* e *pessimista* são, respectivamente, 30, 50 e 70, é correto afirmar que a estimativa ideal para ser utilizada como prazo é

- (A) 40 dias.
- (B) 50 dias.
- (C) 60 dias.
- (D) 70 dias.

**78**

No contexto de gerenciamento de projetos, a subdivisão hierárquica do trabalho em partes menores, mais facilmente gerenciáveis, que auxilia na visualização das principais entregas, remete ao conceito de

- (A) escalonamento multidivisional.
- (B) estrutura analítica do projeto.
- (C) ciclo de vida do projeto.
- (D) portfólio de programas.

**79**

Acerca dos diferentes tipos de estruturas do terceiro setor, assinale a afirmativa correta.

- (A) As associações públicas têm origem nas reformas decorrentes da implementação do modelo gerencial no Brasil.
- (B) As organizações sociais adquirem essa qualificação por meio de celebração de contrato de gestão com o Poder Público.
- (C) As organizações da Sociedade Civil de Interesse Público, embora tenham fins lucrativos, só podem receber recursos públicos caso atuem com objetivos em comum com a Administração Pública.
- (D) As entidades de apoio estabelecem vínculos com o Poder Público por meio de termos de fomento, de colaboração ou de cooperação.

**80**

A Nova Administração Pública (NAP) pode ser entendida como um conjunto de ideias trazidas por especialistas, em meio à crise fiscal dos Estados, buscando novas metodologias para serem trabalhadas na Administração Pública.

Com relação aos conceitos trazidos pela Nova Administração Pública, é correto afirmar que o Gerencialismo Puro enfatizava reformas que

- (A) promovessem o controle permanente das ações estatais, de forma que regras e procedimentos formais fossem instituídos na Administração Pública, garantindo a previsibilidade dos programas públicos.
- (B) garantissem a competitividade e a do Estado, eliminando monopólios e estimulando a concorrência, em prol dos serviços públicos.
- (C) promovessem a transparências das ações do Estado, permitindo que os cidadãos, indivíduos com direitos e deveres, fossem tratados com equidade.
- (D) garantissem a eficiência estatal, por meio de redução de custos baseada em privatizações e eliminação de cargos públicos.





Realização

