

MÉDICO

ORTOPEDISTA E TRAUMATOLOGIA

TIPO 1 – BRANCA



SUA PROVA

- Além deste caderno contendo **80 (oitenta)** questões objetivas você receberá do fiscal de prova o cartão de respostas;
- As questões objetivas têm **4 (quatro)** opções de resposta (A, B, C, D) e somente uma delas está correta.



TEMPO

- Você dispõe de **4 (quatro) horas** para a realização da prova, já incluído o tempo para a marcação do cartão de respostas;
- **2 (duas) horas e 30 (trinta) minutos** após o início da prova, é possível retirar-se da sala, sem levar o caderno de questões;
- A partir dos **30 (trinta) minutos** anteriores ao término da prova é possível retirar-se da sala **levando o caderno de questões**.



NÃO SERÁ PERMITIDO

- Qualquer tipo de comunicação entre os candidatos durante a aplicação da prova;
- Anotar informações relativas às respostas em qualquer outro meio que não seja o caderno de questões;
- Levantar da cadeira sem autorização do fiscal de sala;
- Usar o sanitário ao término da prova, após deixar a sala.



INFORMAÇÕES GERAIS

- Verifique se seu caderno de questões está completo, sem repetição de questões ou falhas. Caso contrário, **notifique imediatamente o fiscal da sala**, para que sejam tomadas as devidas providências;
- Confira seus dados pessoais, especialmente nome, número de inscrição e documento de identidade e leia atentamente as instruções para preencher o cartão de respostas;
- Para o preenchimento do cartão de respostas, use somente caneta esferográfica, fabricada em material transparente, com tinta preta ou azul;
- Assine seu nome apenas no(s) espaço(s) reservado(s) no cartão de respostas;
- Confira seu cargo, cor e tipo do caderno de questões. Caso tenha recebido caderno de cargo ou cor ou tipo **diferente** do impresso em seu cartão de respostas, o fiscal deve ser **obrigatoriamente** informado para o devido registro na ata da sala;
- Reserve tempo suficiente para o preenchimento do seu cartão de respostas. O preenchimento é de sua responsabilidade e **não será permitida a troca do cartão de respostas em caso de erro cometido pelo candidato**;
- Para fins de avaliação, serão levadas em consideração apenas as marcações realizadas no cartão de respostas;
- A FGV coletará as impressões digitais dos candidatos na lista de presença;
- Os candidatos serão submetidos ao sistema de detecção de metais quando do ingresso e da saída de sanitários durante a realização das provas.
- **Boa sorte!**

CONHECIMENTOS GERAIS

Língua Portuguesa

1

Leia o texto a seguir.

Os homens não estão cientes do calor que emana de seu coração, embora ele dê vida e movimento a todas as outras partes do seu corpo. [...] O mesmo se dá com a vaidade: ela é tão natural para o homem que ele não a percebe. E, embora seja isso que dê, por assim dizer, vida e movimento à maioria dos seus pensamentos e desígnios, isso ocorre de um modo que é imperceptível para o sujeito. [...] Os homens não percebem que é a vaidade que dá ímpeto à maioria de suas ações.

A respeito do significado ou da estruturação desse fragmento, assinale a afirmativa **inadequada**.

- (A) O comentário inicial sobre o calor do coração serve de ponto de comparação para o papel da vaidade.
- (B) A semelhança entre o calor do coração e a vaidade é que ambos são imperceptíveis para os homens.
- (C) Ao indicar a vaidade como fonte da maioria das ações humanas, o autor do texto as desvaloriza.
- (D) O homem deve tornar a vaidade uma força consciente para o seu progresso.

2

Leia o texto a seguir.

Em seu coração, os homens desejam ser estimados, mas eles cuidadosamente ocultam esse desejo porque querem se passar por virtuosos e porque o desejo de receber da virtude qualquer vantagem além dela mesma não seria ser virtuoso, mas amar a estima e o elogio – ou seja, ser vaidoso. Os homens são muito vaidosos, mas não há nada que eles mais detestem do que serem considerados vaidosos.

Assinale a afirmativa adequada ao seu significado ou à sua estruturação.

- (A) A discussão no texto opõe a essência (os homens serem vaidosos) à aparência (quererem passar por virtuosos).
- (B) A vaidade humana só não é vista como um defeito porque os homens fazem questão de ocultá-la.
- (C) Os homens têm o desejo de serem estimados, ou seja, pretendem alcançar a estima e o elogio, sem serem motivados pela vaidade.
- (D) O fato de serem considerados vaidosos faz com que a imagem pública dos homens cresça ao olhar dos outros.

3

Assinale a opção que apresenta a frase em que os dois termos sublinhados **não** são **antônimos**.

- (A) Juízes implacáveis são todos aqueles que antes foram réus.
- (B) O homem não teria alcançado o possível se, repetidas vezes, não tivesse tentado o impossível.
- (C) Você não será nada se quiser ser tudo.
- (D) Só tenho por seguro o que é incerto.

4

Analise a frase a seguir.

É claro que a justiça, sendo cega, não vê se é vista, e então não cora. (Machado de Assis)

As opções a seguir apresentam formas de reescrever a frase acima sem modificação do seu sentido original, **à exceção de uma**. Assinale-a.

- (A) É claro que a justiça, sendo cega, não cora, já que não vê se é vista.
- (B) Sendo cega, é claro que a justiça não vê se é vista, e então não cora.
- (C) É claro que, sendo cega, a justiça não vê se é vista, e então não cora.
- (D) É claro que a justiça não vê se é vista, e então, sendo cega, não cora.

5

Assinale a frase que **não** apresenta **tom crítico**.

- (A) Nenhum homem rico é feio, dizia uma grande atriz.
- (B) Mostre-me um herói e eu escreverei uma tragédia.
- (C) Não é bom que o homem esteja só.
- (D) Ele é a pessoa mais interessante que ele já conheceu.

6

Assinale a frase em que **não** está presente a construção de voz passiva com o pronome **se**.

- (A) O casamento é uma escola onde se aprende algo com o outro.
- (B) Alugou-se uma casa à beira-mar para as férias, mas os temporais acabaram com os sonhos.
- (C) Nunca se é demasiado velho para crescer.
- (D) Fazem-nos na época atual constituições para os povos como se fariam vestidos para as pessoas sem se lhes tomar as medidas.

7

Segundo o gramático Celso Cunha, os adjetivos mostram os seguintes valores: uma qualidade, uma característica, um estado ou uma relação.

Assinale a opção que apresenta a frase em que o adjetivo sublinhado é classificado como **adjetivo de relação**.

- (A) As colônias não deixam de ser colônias pelo fato de serem independentes.
- (B) É necessário mudar muitas vezes de opinião para estar sempre de acordo com o seu partido político.
- (C) As leis ruins são a pior espécie de tirania.
- (D) Juízes implacáveis são aqueles que antes foram réus.

8

Nas frases a seguir há várias formas de adjetivos referentes aos substantivos sublinhados.

Assinale a opção em que a forma de adjetivação está identificada **inadequadamente**.

- (A) Como todos os soldados, João também tinha cabelo curto. / adjetivo.
- (B) Apesar de pianista, o artista mostrava mãos grosseiras, rudes. / locução.
- (C) O livro que o professor recomendara, esgotou rapidamente. / oração adjetiva.
- (D) José era considerado um cabeça-de-vento. / substantivo composto.

9

Assinale a frase que **não** exemplifica o caso de um adjetivo com valor adverbial.

- (A) Comecei de cima e trabalhei duro até chegar embaixo.
 (B) Você não aprende a manter firme sua posição no mundo ficando de guarda, mas atacando e sendo atacado.
 (C) Por que com tão curta a vida organizamos tantos projetos?
 (D) Tão rápido foge a vida que toda sorte é boa, em tão breve jornada.

10

Assinale a frase em que as duas ocorrências do vocábulo destacado desempenham a mesma função sintática.

- (A) A coisa mais importante da vida é saber o que é importante.
 (B) A vida é feita de ilusões; entre essas ilusões, algumas triunfam.
 (C) Para que um grande sonho se torne realidade, você precisa primeiro de um grande sonho.
 (D) O planejamento familiar é um sonho que o pai de família traça para ter a ilusão do dinheiro que guarda.

11

Assinale a opção em que a modificação de uma forma reduzida de infinitivo foi adequadamente modificada para uma forma desenvolvida.

- (A) Novos ricos também pesquisam antes de comprar / antes de que comprem.
 (B) O divórcio foi uma chance dada ao meu casamento para eu errar outra vez. / para que eu erre outra vez.
 (C) Ao se divorciar, procurou ficar com os bens. / Quando se divorciasse.
 (D) O casamento parece inventado para recompensar os perversos. / para a recuperação dos perversos.

12

As frases a seguir são compostas de dois segmentos separadas por um sinal de pontuação.

Assinale aquela em que essa pontuação foi **inadequadamente** substituída por um conectivo.

- (A) Não é a maioria que é silenciosa. O governo é que é surdo. / mas.
 (B) Não gosto de pensar que estou envelhecendo. Adoro a ideia de que nasci há muito tempo. / portanto.
 (C) O ilegal é o que fazemos imediatamente. O inconstitucional é o que exige um pouco mais de tempo. / enquanto.
 (D) Não pergunte a seus pais o que podem fazer por você. Eles podem fingir que não ouviram. / pois.

Raciocínio Lógico Matemático

13

Considere a frase:

Se você é cuiabano, então é mato-grossense.

É logicamente equivalente à frase acima, a seguinte proposição:

- (A) *Se você é mato-grossense, então é cuiabano.*
 (B) *Se você é cuiabano, então não é mato-grossense.*
 (C) *Se você não é mato-grossense, então não é cuiabano.*
 (D) *Se você não é cuiabano, então não é mato-grossense.*

14

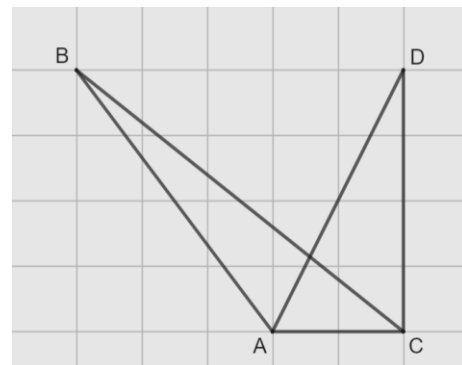
Em uma reunião de uma unidade hospitalar, estavam presentes 8 servidores, sendo 6 médicos e 2 enfermeiros. Todos sentaram-se ao redor de uma mesa redonda.

A quantidade de maneiras distintas de essa mesa pode ser organizada de forma que entre os dois enfermeiros tenha sempre três médicos é

- (A) 120.
 (B) 240.
 (C) 480.
 (D) 720.

15

Na malha quadriculada a seguir, formada por quadrados de lados medindo 1cm, estão representados os triângulos ABC e ACD.



A área do triângulo ABC, em cm^2 , é igual a

- (A) 4,25.
 (B) 4,00.
 (C) 3,75.
 (D) 3,50.

16

Sobre números inteiros, racionais e reais, analise as afirmativas a seguir e assinale (V) para a verdadeira e (F) para a falsa.

- () Há mais números racionais que números inteiros.
 () A soma de dois números irracionais resulta sempre em um número irracional.
 () A dízima periódica 6,999... é igual ao número inteiro 7.

As afirmativas são, respectivamente,

- (A) F – F – V.
 (B) F – V – V.
 (C) V – F – F.
 (D) V – V – F.

17

Os atendimentos realizados por 6 médicos de uma unidade hospitalar em determinado dia foram registrados. Porém, no fim da semana, percebeu-se que a informação dos atendimentos realizados por um desses médicos foi perdida, conforme a lista apresentada a seguir.

10, 9, 15, 9, X, 12

Sabe-se que, nesse dia, nenhum médico fez menos que 6 e mais que 15 atendimentos e que a média de atendimentos é um número inteiro.

Assim, a mediana da lista é

- (A) 10.
(B) 10,5.
(C) 11.
(D) 11,5.

18

A Federação Mato-grossense de Futebol (FMF) realiza anualmente a competição "Copa FMF" na modalidade masculina. Na edição de 2023, a fase final foi disputada por Cuiabá, Mixto, Nova Mutum e Operário VG em um formato quadrangular, no qual todos se enfrentam apenas uma vez.

Em relação aos gols ocorridos nesta fase, sabe-se que:

- Mixto fez o triplo de gols que tomou;
- Cuiabá e Nova Mutum tomaram 6 gols cada;
- Operário VG fez 1 gol e tomou 2 gols;
- Cuiabá fez um gol a mais que Nova Mutum;
- foram feitos 17 gols no total.

Dessa forma, a quantidade de gols feitos pela equipe Nova Mutum foi igual a

- (A) 5.
(B) 4.
(C) 3.
(D) 2.

19

A serviço de uma unidade do Sistema Único de Saúde há três veículos: um automóvel, um ônibus e uma van. Um deles tem a cor azul, outro tem a cor amarela e outro tem a cor verde.

Das afirmativas a seguir, apenas uma é verdadeira:

- I. O automóvel é verde.
II. O ônibus não é amarelo.
III. A van não é verde.

Assim, é correto afirmar que

- (A) o automóvel é amarelo.
(B) o automóvel é azul.
(C) o ônibus é verde.
(D) a van é amarela.

20

Em uma fábrica de desfibriladores, foi verificado que eram necessários 8 dias para produzir determinada quantidade de aparelhos, usando a mão de obra de 6 trabalhadores por 4 horas em cada dia.

Para reduzir o tempo de produção para 2 dias, será necessário:

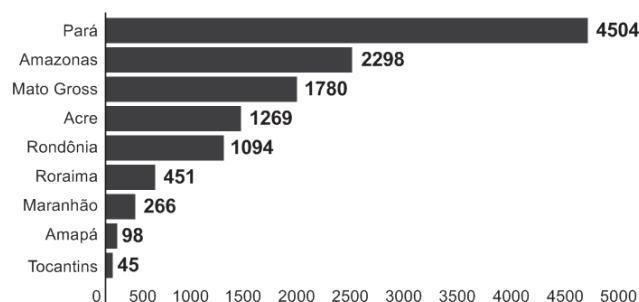
- (A) duplicar o número de trabalhadores.
(B) triplicar o número de horas trabalhadas por dia.
(C) duplicar o número de horas trabalhadas por dia.
(D) duplicar o número de trabalhadores e o número de horas trabalhadas por dia.

História Política e Econômica e Geografia de Mato Grosso

21

Analise o gráfico a seguir.

Risco de desmatamento por estado em 2023 (km²)



Fonte: <https://g1.globo.com/mt/mato-grosso/noticia/2023/01/18/mt-e-o-3o-estado-com-maior-risco-de-desmatamento-em-2023-aponta-imazon.ghtml>. Adapt.

De acordo com o gráfico, o Estado de Mato Grosso é o terceiro estado brasileiro com maior risco de desmatamento na Amazônia.

Analise as afirmativas a seguir sobre os fatores que concorrem para esse fenômeno.

- A prática agrícola é um dos fatores que contribui para a aceleração dos processos erosivos do solo e do desmatamento. Isso ocorre devido ao emprego, de técnicas agrícolas extensivas, com a retirada de vegetação para a instalação de grandes lavouras monocultoras.
- A prática do garimpo ilegal gera diversos impactos ambientais, como o desmatamento, por meio da retirada de vegetação nativa, seja para estabelecer acessos às áreas ricas em minerais, seja para criar espaços destinados à própria atividade de mineração.
- A demarcação de terras indígenas no Estado contribui para o desmatamento, uma vez que o processo envolve a utilização de madeira para a construção de residências tradicionais e a exploração dos recursos naturais para fins de subsistência.

Está correto o que se afirma em

- (A) I, apenas.
(B) I e II, apenas.
(C) I e III, apenas.
(D) II e III, apenas.

22

Sobre os biomas mato-grossenses e suas respectivas localizações conforme a organização espacial do estado, analise as afirmativas a seguir e assinale (V) para a verdadeira e (F) para a falsa.

- () O bioma Amazônico é caracterizado pela vegetação densa da floresta tropical; está presente no norte do Estado e um dos seus espaços é a microrregião de Sinop.
() O bioma Cerrado é caracterizado pela vegetação composta de árvores baixas e com plantas com raízes profundas; está presente na mesorregião do Centro-Sul Mato-grossense.
() O bioma Pantanal é caracterizado por suas extensas áreas alagadas e pela planície aluvial; está presente na mesorregião Centro-sul do estado, englobando os municípios de Cáceres e Poconé.

As afirmativas são, na ordem apresentada, respectivamente,

- (A) V – V – F.
(B) V – F – V.
(C) F – V – F.
(D) V – V – V.

23

Analise os trechos a seguir.

I. Código Civil dos Estados Unidos do Brasil, de 1916

Art. 6º. São incapazes, relativamente a certos atos (Art. 147, inciso I), ou à maneira de os exercer:

IV - os silvícolas.

Parágrafo único. Os silvícolas ficarão sujeitos ao regime tutelar, estabelecido em leis e regulamentos especiais, e que cessará à medida de sua adaptação.

II. Lei nº 6.001 de 1973

Art. 2º. Cumpre à União, aos Estados e aos Municípios, bem como aos órgãos das respectivas administrações indiretas, nos limites de sua competência, para a proteção das comunidades indígenas e a preservação dos seus direitos: II - prestar assistência aos índios e às comunidades indígenas ainda não integrados à comunhão nacional; VI - respeitar, no processo de integração do índio à comunhão nacional, a coesão das comunidades indígenas, os seus valores culturais, tradições, usos e costumes; VIII - utilizar a cooperação, o espírito de iniciativa e as qualidades pessoais do índio, tendo em vista a melhoria de suas condições de vida e a sua integração no processo de desenvolvimento. (Adaptado.)

III. Constituição Federal de 1988

Art. 231. São reconhecidos aos índios sua organização social, costumes, línguas, crenças e tradições, e os direitos originários sobre as terras que tradicionalmente ocupam, competindo à União demarcá-las, proteger e fazer respeitar todos os seus bens.

Sobre a questão indígena no Brasil, de acordo com os trechos, assinale a afirmativa que interpreta corretamente os princípios que orientaram os marcos normativos mencionados.

- (A) Em I, a integração das comunidades indígenas à sociedade brasileira é preconizada por meio de um regime tutelar, que os considerava como indivíduos não plenamente desenvolvidos; em II, a autonomia dos indígenas é garantida por meio do direito à escolha de manter seu isolamento.
- (B) Em I, a autonomia das populações indígenas é assegurada pela concessão de agência individual, reconhecendo-as como capazes de resolver seus próprios conflitos territoriais; em II, a autonomia é manifestada pela isenção do poder federal de qualquer responsabilidade na garantia de seus direitos.
- (C) Em II, a preservação das comunidades indígenas se dá mediante o respeito pelo isolamento como uma medida para prevenir a propagação de doenças e evitar o extermínio; em III, a conservação da diversidade étnica e cultural dos indígenas é garantida por meio da criação de reservas.
- (D) Em II, a integração dos indígenas à sociedade brasileira é prevista por práticas de assimilação, que entendiam seus modos de vida como uma condição transitória; em III, os direitos dos indígenas são reconhecidos pela liberdade de organização sociocultural, responsabilizando o Estado Brasileiro de proteger suas terras.

24

O Estado do Mato Grosso destaca-se tanto nacional quanto internacionalmente por sua significativa produção agrícola.

A respeito do escoamento dos excedentes destinados à exportação, assinale a afirmativa correta.

- (A) O transporte ferroviário é a principal opção, da qual depende o Estado para o envio de sua produção para os portos da Região Sul.
- (B) O transporte hidroviário é ineficiente, visto que sua aplicação se restringe apenas à manutenção das conexões internas do Estado.
- (C) O transporte rodoviário, principalmente a rodovia BR 364, permite transportar a produção até o Estado de São Paulo, alcançando o porto de Santos.
- (D) O transporte rodoviário, principalmente a rodovia BR 163, permite a entrega da soja para o Rio de Janeiro, principal mercado consumidor.

25

A Capitania de Mato Grosso é uma das mais importantes de todo o Brasil, tanto pela sua extensão e pelas sabidas, mas ainda intactas riquezas, que guardam os seus vastíssimos sertões, como por ser fronteira ao vasto, populoso e rico Peru.

Adaptado de: Reflexões sobre o estado atual da capitania de Mato Grosso, combinando com os domínios espanhóis que lhe são confinantes, em: Serra, Ricardo, Reflexões sobre a Capitania de Mato Grosso, Cuiabá: IHGMT, 2002, p. 12.

A respeito do contexto da criação da Capitania de Mato Grosso e da delimitação de suas fronteiras, assinale a afirmativa correta.

- (A) A fronteira sul com a cidade de Assunção, que estava sob domínio espanhol, desempenhava um papel crucial na proteção do interior do território brasileiro.
- (B) A fronteira oriente com a capitania de Goiás, então no auge da sua produção de cana de açúcar, atuava como ponto de contato para trocas comerciais entre as duas regiões.
- (C) A fronteira leste com a capitania de São Paulo, representou o cumprimento do estabelecido pelo Tratado de Tordesilhas, que concedeu a posse da região centro oeste aos portugueses.
- (D) A fronteira norte com a capitania de Rondônia revelava-se estratégica para a exploração e tráfico da borracha e permitia uma conexão vital com os mercadores europeus.


26

A respeito da guerra entre a Tríplice Aliança e o Paraguai, assinale a afirmativa que descreve corretamente o envolvimento de Mato Grosso no conflito.

- (A) Os antecedentes do conflito são marcados pela assinatura do Tratado da Tríplice Aliança, o qual legitimava a guerra contra o Paraguai e designava Mato Grosso como capital da bacia platina, devido à sua extensa ocupação populacional.
- (B) No início do conflito, ocorreu a invasão paraguaia a Mato Grosso, que não encontrou dificuldade em ocupá-lo devido à precária defesa do território brasileiro.
- (C) Durante o conflito, a reconquista do território do Mato Grosso pelo Brasil foi facilitada pela acessibilidade à região, tanto por redes viárias quanto pelas rotas navegáveis.
- (D) O desfecho do conflito resultou na vitória brasileira, que retomou o território mato-grossense, que apesar de conquistado, jamais foi ocupado pelos paraguaios devido às ofensivas dos índios e às epidemias locais.

27

Analise a imagem a seguir.



Fonte: <https://g1.globo.com/ac/acre/noticia/2019/08/06/revolucao-acre-ana-charges-e-chronicas-tratavam-acre-como-um-estorvo-para-nacao.ghtml>

A charge ilustra o Barão do Rio Branco carregando uma bomba com a inscrição “Acre”, enquanto outro personagem, posicionado atrás, acende o pavio. A legenda diz: “— Cuidado, barão! Com esta bomba nem S. Pedro com seus tiros o salvará.”

Sobre as medidas estabelecidas pelo Tratado de Petrópolis, assinado entre o Brasil e a Bolívia, que resultou na incorporação do Acre ao território brasileiro, assinale a afirmativa correta.

- (A) Proibiu a navegação boliviana nos confluente brasileiros, encerrando a saída da Bolívia ao Oceano Atlântico.
- (B) Autorizou o acesso boliviano ao território brasileiro, estipulando que seria de responsabilidade da Bolívia construir uma ferrovia para facilitar sua mobilidade.
- (C) Concedeu permissão para o estabelecimento de agentes bolivianos nas alfândegas comerciais brasileiras na região de fronteira entre os dois países.
- (D) Desalojou colonos bolivianos da região, especialmente os que dependiam de atividades extrativistas, sem que o Brasil indenizasse o governo boliviano pela perda do território.

28

Deve-se promover a integração da península do Centro-Oeste brasileiro, equipando-a de meios que lhe permitam desempenhar seu duplo papel de sólida plataforma para um transbordamento sobre a Hileia ou para ações visando a contrapor-se ao avanço para o norte de um imperialismo platino.

Fonte: SILVA, Golbery do Couto e. Conjuntura política nacional: o poder executivo & geopolítica do Brasil. Brasília: Ed. UnB, 1981. (Coleção Temas Brasileiro, n. 7). Citado por Cavalcanti, Marcelo; Barreira, Celene. Ações da Sudeco no desenvolvimento do Centro-Oeste, B. goiano, geogr. Goiânia, v. 31, n. 2, 2011, p. 180.

As afirmativas a seguir descrevem corretamente os objetivos da Superintendência de Desenvolvimento do Centro-Oeste (SUDECO) durante a ditadura militar brasileira, **à exceção de uma**. Assinale-a.

- (A) Estimular o processo de industrialização na região, visando criar polos industriais capazes de competir com os centros empresariais do Sudeste.
- (B) Ocupar as áreas da região identificadas como “vazios estratégicos”, consideradas suscetíveis à influência comunista.
- (C) Promover a integração regional com outras partes do território brasileiro por meio do desenvolvimento de infraestrutura rodoviária.
- (D) Fomentar a mecanização e a modernização da agricultura para impulsionar a ocupação produtiva da fronteira agrícola.

Noções de Administração Pública, Ética, Filosofia e Atualidades

29

A pirâmide de Maslow foi uma das primeiras teorias desenvolvidas para entender o sentido da motivação.

De acordo com essa teoria, assinale a afirmativa correta.

- (A) Os seres humanos são estimulados por uma seqüência de necessidades, devendo ocorrer a satisfação das necessidades mais básicas antes de se aspirarem as outras.
- (B) Os indivíduos são naturalmente preguiçosos, demandando, por isso, mecanismos de controle rígidos para o bom desempenho.
- (C) As pessoas são incentivadas pela percepção de justiça em seu ambiente, comparando suas recompensas e retribuições com a de seus pares.
- (D) Os sujeitos tendem a ser encorajados por atividades que são vistas como alcançáveis, conforme as suas capacidades.

30

O momento em que o aprovado em um concurso público é investido em cargo público, mediante a aceitação expressa das responsabilidades inerentes à função, é conhecido como posse. No entanto, é apenas no exercício que o servidor desempenha efetivamente suas atribuições.

Com relação ao disposto na Lei Complementar nº 04/1990, que dispõe sobre os servidores do Estado de Mato Grosso, é correto afirmar que, o servidor deve entrar em exercício

- (A) imediatamente após a posse.
- (B) até 5 dias após a posse.
- (C) até 20 dias após a posse.
- (D) até 30 dias após a posse.

31

Como regra geral, a contratação de pessoa na Administração Pública deve ocorrer por prazo indeterminado. No entanto, algumas situações de excepcionalidade permitem que sejam realizadas contratações em caráter temporário.

Com base nisso, analise as afirmativas a seguir.

- I. Combater surtos epidêmicos.
- II. Realizar o recenseamento.
- III. Permitir a execução de serviço, nas áreas de pesquisa científica, por profissional de notória especialização.

Em conformidade com a Lei Complementar nº 04/1990, assinale a opção que indica a(s) situação(ões) que permite(m) contratação temporária.

- (A) I, apenas.
- (B) I e II, apenas.
- (C) II e III, apenas.
- (D) I, II e III.

32

Em uma situação hipotética, determinado servidor do Estado do Mato Grosso, pertencente à Secretaria de Saúde, cometeu falta punível com cassação de aposentadoria.

Nesse caso, com base na Lei Complementar nº 04/1990, a autoridade que deve aplicar a respectiva penalidade ao servidor é o

- (A) Governador do Estado.
- (B) chefe da repartição do servidor.
- (C) Presidente do Tribunal de Contas do Estado.
- (D) Corregedor-geral do Estado.

33

Max Weber diferencia a ética da convicção da ética da responsabilidade.

A esse respeito, analise as afirmativas a seguir e assinale (V) para a verdadeira e (F) para a falsa.

- () A ética da responsabilidade é a que tem como preocupação central as consequências das ações realizadas.
- () A ética da convicção é a mais apropriada para a função pública, pois independe de variações individuais.
- () A ética da responsabilidade baseia-se nas predisposições éticas dos agentes e espera deles um elevado senso moral.

As afirmativas são, respectivamente,

- (A) F – V – F.
- (B) F – V – V.
- (C) V – F – F.
- (D) V – V – F.

34

O instituto da cidadania estabelece direitos e deveres para os indivíduos pertencentes à determinada sociedade. Esses direitos podem ser divididos em civis, políticos e sociais.

Assinale a opção que exemplifica corretamente os direitos sociais.

- (A) Direito à vida e à liberdade.
- (B) Direito à representação política.
- (C) Direito à propriedade privada.
- (D) Direito à saúde e à moradia.

35

Um funcionário do governo fica responsável pela distribuição de recursos limitados em uma pequena cidade e se depara com um dilema moral. Uma enchente atingiu a região e ele precisa decidir como alocar os recursos de emergência. Há dois grupos que precisam urgentemente de ajuda: um é um orfanato com várias crianças, e o outro, um hospital que atende a toda a comunidade. Ambos estão em situações críticas e os recursos não são suficientes para atender às necessidades de ambos.

Na situação acima, é correto afirmar que o funcionário aderiu a uma ética utilitarista se ele optou por

- (A) agir conforme o dever e o princípio moral de direcionar a ajuda para o grupo mais desfavorecido.
- (B) tomar o caminho de ação capaz de favorecer o maior número possível das pessoas afetadas.
- (C) conduzir a situação do modo mais compatível possível com o cultivo coletivo das virtudes cívicas.
- (D) atuar de maneira a distribuir os recursos equitativamente, sem favorecer ou preterir nenhuma das partes.

36

Com relação ao Estatuto dos Servidores Públicos do Estado do Mato Grosso (Lei Complementar nº 04/1990), associe cada forma de provimento de cargo público à sua descrição.

1. Reversão
 2. Recondução
 3. Readaptação
 4. Reintegração
- () O servidor aposentado por invalidez retorna à atividade ao serem declarados insubsistentes os motivos da aposentadoria.
 - () O servidor passa a assumir responsabilidades e atribuições compatíveis com uma limitação física ou mental sofrida.
 - () O servidor retorna a um cargo anteriormente ocupado, por exemplo, devido à inabilitação em estágio probatório.
 - () O servidor retorna ao cargo anteriormente ocupado devido a uma invalidação de uma anterior demissão.

Assinale a opção que indica a relação correta, segundo a ordem apresentada.

- (A) 1 – 3 – 2 – 4.
- (B) 1 – 4 – 2 – 3.
- (C) 4 – 2 – 3 – 1.
- (D) 4 – 3 – 2 – 1.

Legislação do SUS + Plano Nacional de Atenção Básica à Saúde

37

Assinale a opção que apresenta, corretamente, um objetivo do Sistema Único de Saúde – SUS.

- (A) Integração em nível executivo das ações de saúde, meio ambiente e saneamento básico.
- (B) Organização dos serviços públicos de modo a evitar duplicidade de meios para fins idênticos.
- (C) Identificação e divulgação dos fatores condicionantes e determinantes da saúde.
- (D) Capacidade de resolução dos serviços em todos os níveis de assistência.

38

Assinale a opção que apresenta o princípio que foi acrescentado ao Sistema Único de Saúde, em 2023.

- (A) Organizar atendimento público específico e especializado para mulheres e vítimas de violência doméstica em geral.
- (B) Divulgar informações quanto ao potencial dos serviços de saúde e da sua utilização pelo usuário.
- (C) Utilizar a epidemiologia para estabelecer prioridades, a alocação de recursos e a orientação programática.
- (D) Proteger integralmente os direitos humanos de todos os usuários e, em especial, identificar maus-tratos, negligência e violência sexual praticados contra crianças e adolescentes.

39

Com base nas disposições da Lei nº 8.080/90 acerca do acompanhamento à mulher nos serviços de saúde, analise as afirmativas a seguir e assinale (V) para a verdadeira e (F) para a falsa.

- () Em consultas, exames e procedimentos realizados em unidades de saúde públicas ou privadas, toda mulher tem o direito de fazer-se acompanhar por pessoa maior de idade, durante todo o período do atendimento, independentemente de notificação prévia.
- () Em caso de atendimento com sedação, a eventual renúncia da paciente ao direito de acompanhante deverá ser feita por escrito, após o esclarecimento dos seus direitos, com no mínimo 24 (vinte e quatro) horas de antecedência, assinada por ela e arquivada em seu prontuário.
- () Em casos de urgência e emergência, os profissionais de saúde ficam autorizados a agir na proteção e defesa da saúde e da vida da paciente, ainda que na ausência do acompanhante requerido.

As afirmativas são, respectivamente,

- (A) F – V – F.
- (B) V – V – V.
- (C) F – F – V.
- (D) V – F – V.

40

Com base na organização dos níveis de assistência à saúde, assinale a opção que apresenta a um serviço da *atenção terciária*.

- (A) Unidade de Transplante Renal.
- (B) Ambulatório de Neurologia.
- (C) Serviço de Ressonância Magnética.
- (D) Unidades de Pronto Atendimento.

41

Os Programas de Qualidade de Vida e Saúde para os Trabalhadores da Saúde e o Colegiado Gestor fazem parte do seguinte elemento da Política Nacional de Humanização.

- (A) Valores.
- (B) Princípios.
- (C) Diretrizes.
- (D) Dispositivos.

42

Com base nos Requisitos de Boas Práticas de Funcionamento para os Serviços de Saúde, analise as afirmativas a seguir e assinale (V) para a verdadeira e (F) para a falsa.

- () Em serviços de saúde com mais de vinte trabalhadores é obrigatória a instituição de Comissão Interna de Prevenção de Acidentes - CIPA.
- () O serviço de saúde deve garantir que o prontuário contenha registros relativos à identificação e todos os procedimentos prestados ao paciente.
- () O serviço de saúde deve garantir que os trabalhadores sejam avaliados, no mínimo, uma vez ao ano em relação à saúde ocupacional.

As afirmativas são, respectivamente,

- (A) V – V – V.
- (B) F – V – F.
- (C) V – V – F.
- (D) V – F – F.

43

De acordo com a Carta dos Direitos e Deveres da Pessoa Usuária da Saúde, assinale a afirmativa correta.

- (A) O usuário tem direito a acompanhante, pessoa de sua livre escolha, nas consultas e exames.
- (B) O atendimento nos serviços de saúde deve ser sempre com hora marcada.
- (C) O usuário tem liberdade de procurar parecer de outro profissional, exceto em casos com impedimento legal.
- (D) Toda pessoa previamente cadastrada tem direito a participar dos conselhos e das conferências de saúde.

44

De acordo com as disposições normativas acerca da segurança do paciente, os eventos adversos que evoluírem para óbito devem ser notificados em até

- (A) 12 horas, a partir do ocorrido.
- (B) 24 horas, a partir do ocorrido.
- (C) 48 horas, a partir do ocorrido.
- (D) 72 horas, a partir do ocorrido.

45

Com base nas disposições da Lei nº 8.142/90, analise as afirmativas a seguir.

- I. O Conselho de Saúde é um órgão colegiado responsável por avaliar a situação de saúde e propor diretrizes para formulação da política de saúde.
- II. Um dos requisitos para que Estados e Municípios recebam os recursos destinados à cobertura das ações e serviços de saúde é a elaboração do Plano de Saúde.
- III. Os Municípios poderão estabelecer consórcio para execução de ações e serviços de saúde.

Está correto o que se afirma em

- (A) I, apenas.
- (B) II e III, apenas.
- (C) I e II, apenas.
- (D) I e III, apenas.

46

Conforme disposições sobre a organização do SUS, o conjunto de ações e serviços de saúde, articulados em níveis de complexidade crescente com a finalidade de garantir a integralidade da assistência à saúde, corresponde ao(à)

- (A) Mapa de Saúde.
- (B) Região de Saúde.
- (C) Rede de Atenção à Saúde.
- (D) Serviços Especiais de Acesso Aberto.

CONHECIMENTOS ESPECÍFICOS

47

Em conformidade com o código de ética médica, avalie as seguintes afirmativas:

- I. É permitido ao médico, fazer referências a casos clínicos identificáveis, exibir pacientes ou imagens que os tornem reconhecíveis em anúncios profissionais ou na divulgação de assuntos médicos em meios de comunicação em geral, com a devida autorização do paciente.
- II. O médico deve garantir ao paciente o exercício do direito de decidir livremente sobre sua pessoa ou seu bem-estar e é proibido ao médico exercer sua autoridade para limitá-lo.
- III. O médico deve apresentar separadamente seus honorários quando outros profissionais participarem do atendimento ao paciente.

Está correto o que se afirma em

- (A) I, II e III.
- (B) I, apenas.
- (C) II e III, apenas.
- (D) II, apenas.

48

Assinale a opção que apresenta as estruturas anatômicas que formam o triângulo de Scarpa e qual o seu conteúdo, na ordem de lateral para medial.

- (A) Formado pelo músculo sartório, músculo adutor longo e ligamento inguinal; conteúdo: veia femoral, artéria femoral e nervo femoral.
- (B) Formado pelo músculo sartório, músculo adutor curto e ligamento inguinal; conteúdo: nervo femoral, artéria femoral e veia femoral.
- (C) Formado pelo músculo sartório, músculo pectíneo e ligamento inguinal; conteúdo: veia femoral, artéria femoral e nervo femoral.
- (D) Formado pelo músculo sartório, músculo adutor longo e ligamento inguinal; conteúdo: nervo femoral, artéria femoral e veia femoral.

49

Na avaliação radiológica do quadril, utilizamos várias incidências. Entre as afirmativas abaixo, assinale a **incorreta**.

- (A) Na incidência perfil de Ducroquet, o paciente é posicionado em decúbito dorsal, quadril acometido em flexão de 90° e abdução de 45°; o raio deve ser centrado verticalmente na articulação coxofemoral que está sendo avaliada. Observa-se o perfil do colo femoral, com boa visibilidade da região anterossuperior da transição cabeça- colo femoral.
- (B) A incidência de Dunn é realizada com o paciente em decúbito dorsal, com flexão do quadril acometido de 45° e abdução de 20°; nessa incidência observa-se bem o segmento anterossuperior da transição cabeça-colo femoral. Essa incidência permite realizar a mensuração do ângulo alfa.
- (C) A incidência falsa perfil de Lequesne corresponde ao perfil da cabeça femoral, da extremidade proximal do fêmur e do acetábulo, o paciente fica em posição ortostática, com o dorso inclinado 65° anteriormente em relação ao chassi do filme, ambos membros inferiores em rotação externa, sendo o acometido mais próximo e perpendicular em relação ao chassi e o contralateral paralelo ao chassi. É útil para a visualização do pinçamento medial e anterossuperior da articulação coxofemoral.
- (D) A incidência perfil cirúrgico de Arcelin, é realizada com o paciente em decúbito dorsal com flexão de 90 graus do quadril contralateral, a ampola de raios-X deve ser angulada 45° cranialmente no plano horizontal, em direção à raiz da coxa. Observa-se o colo femoral em perfil e a transição cabeça-colo.

50

Em relação a uma infecção pós-operatória de artroplastia total de quadril, avalie as afirmativas a seguir:

- I. Devido à replicação lenta, as bactérias no biofilme são até 1000 vezes mais resistentes aos antibióticos; desde que o biofilme tenha se desenvolvido em menos de três semanas, as quinolonas são capazes de eliminar bastonetes gram-negativos.
- II. Devido à replicação lenta, as bactérias no biofilme são até 1000 vezes mais resistentes aos antibióticos; desde que o biofilme tenha se desenvolvido em menos de três semanas, a rifampicina é capaz de eliminar estafilocos e estreptococos.
- III. Cefalosporina de quarta geração (cefepime) possui espectro contra infecções produzidas por bactérias beta-lactamase de espectro estendido e também contra pseudomonas aeruginosas.

Está correto o que se afirma em

- (A) I, II e III.
- (B) I e II, apenas.
- (C) I e III, apenas.
- (D) II e III, apenas.

51

Em relação à semiologia da mão, assinale a afirmativa correta.

- (A) O músculo flexor curto do polegar é inervado pelos nervos ulnar e mediano.
- (B) O teste de Allen é útil para avaliar os músculos intrínsecos da mão.
- (C) O teste de Bunnell-Litler é útil para avaliar a instabilidade do rádio cárpica.
- (D) O musculo flexor superficial dos dedos é inervado pelo nervo ulnar.

52

Em relação aos testes abaixo relacionados, assinale a afirmativa **incorreta**.

- (A) O teste de Kibler avalia a discinesia escapular
- (B) O teste de Gaenslen avalia alterações da articulação sacro ilíaca.
- (C) O teste de Pillings avalia a instabilidade da articulação tíbio fibular superior.
- (D) O teste de Watson avalia a instabilidade do escafóide.

53

Em relação à pseudartrose congênita da fíbula, assinale a opção correta.

- (A) Frequentemente ocorre de forma isolada, podendo estar associada a anormalidades da marcha e deformidade em varo.
- (B) A cirurgia de Langenskiold, na criança, está indicada para evitar ou interromper a evolução da deformidade em varo do tornozelo.
- (C) A cirurgia de Langenskiold, na criança, consiste na realização de uma dupla osteotomia da fíbula para correção do eixo da perna, seguida de fixação com placa e parafusos ou haste elástica de titânio, é recomendado a utilização de enxerto ósseo, tendo o íliaco como área doadora.
- (D) A cirurgia de Langenskiold, na criança, consiste na ressecção de cerca de 2cm do terço distal da fíbula (região metafisária), preparo da tíbia para a realização de uma sinostose entre a fíbula e a tíbia, utilizando enxerto ósseo, tendo o íliaco como área doadora.

54

Em relação a deformidades congênicas do pé avalie as afirmativas a seguir:

- I. O pé talus vertical congênito é uma luxação dorsolateral da articulação talonavicular.
- II. O pé calcaneovalgo posicional caracteriza-se por dorsiflexão significativa da todo o pé na articulação do tornozelo, com eversão leve e flexível da articulação subtalar.
- III. No pé calcâneo valgo posicional os tecidos moles das regiões dorsal e lateral do pé estão encurtados e conseqüentemente, impedem, a flexão plantar e a inversão do pé.

Está correto o que se afirma em

- (A) I, II e III.
- (B) I e III, apenas.
- (C) I e II, apenas.
- (D) II e III, apenas.

55

Avalie se as afecções abaixo apresentam imagem de frasco de Erlenmeyer

- I. Raquitismo
- II. Doença de Gaucher
- III. Osteopetrose

Apresentam de fato imagem de frasco de Erlenmeyer as afecções

- (A) I, II e III.
- (B) I e II, apenas.
- (C) I e III, apenas.
- (D) II e III, apenas.

56

Em relação à paralisia do plexo braquial, tradicionalmente conhecida como paralisia braquial obstétrica, assinale a afirmativa **incorreta**.

- (A) As pupilas das crianças devem ser avaliadas.
- (B) Segundo a classificação de Mallet, é considerado grau V quando a criança apresenta abdução global < 30 graus, rotação externa global < 20 graus e impossibilidade de levar a mão até o pescoço.
- (C) Muitos bebês com paralisias menores se recuperam completamente; esse é o caso dos bebês que iniciam a recuperação de todos os grupos musculares nos primeiros 30 a 60 dias.
- (D) Menos frequentemente o plexo inteiro, de C5 a T1 está afetado. Raramente, a parte inferior do tronco é a parte mais afetada (paralisia de Klumke).

57

Em relação a colocação do parafuso trans sindesmoidal nas fraturas do tornozelo com lesão da sindesmose anterior, assinale a afirmativa **incorreta**.

- (A) O tornozelo deve ser dorsifletido em 10 a 15 graus durante a colocação do parafuso.
- (B) O parafuso deve ser colocado com angulação em 30 graus anteriormente ao plano sagital.
- (C) Dependendo do caso, o parafuso pode transfixar três ou quatro corticais.
- (D) O parafuso deve ser implantado com compressão da sindesmose tíbio fibular anterior.

58

Avalie as afirmativas a seguir:

- I. A tuberculose extrapulmonar é comum em crianças, particularmente as com menos de 5 anos de vida.
- II. O foco inicial da tuberculose óssea, geralmente é na epífise ou metáfise. Devido a cronicidade e a hiperemia, podem ser observados um alargamento da epífise e seu crescimento acelerado.
- III. Uma característica da tuberculose em nível da coluna é a formação de abscesso paravertebral e a ausência de calcificação no interior do abscesso é uma característica marcante da tuberculose a esse nível.

Estão corretas:

- (A) I, II e III.
- (B) I e III, apenas.
- (C) I e II, apenas.
- (D) II e III, apenas.

59

Em relação à doença de Legg – Calvé – Perthes, assinale a afirmativa **incorreta**.

- (A) Pode ocorrer distúrbio na placa fisária, que pode resultar em fechamento prematuro da fise com deformidade resultante, como uma parada fisária central, causando um colo encurtado.
- (B) Pacientes apresentam anomalias específicas de crescimento e desenvolvimento, atraso na idade óssea em relação a idade cronológica do paciente é uma anormalidade comumente observada nos primeiros anos da doença.
- (C) Segundo Catterall, a lateralização da epífise femoral é um sinal de cabeça em risco.
- (D) Segundo Catterall, o sinal de Gage, aparecimento de calcificações mediais à epífise femoral, é um sinal de cabeça em risco.

60

Paciente do sexo feminino, dois meses de idade, foi submetida a ultrassonografia do quadril direito. Os achados no exame foram:

Teto ósseo / ângulo alfa do teto ósseo, menor que 43 graus.

Margem óssea superior (promontório ósseo), achatada.

Teto cartilaginoso / ângulo beta do teto cartilaginoso, pressionado para cima sem alteração estrutural, o pericôndrio proximal avança até o contorno da parede ilíaca.

Segundo o prof. Graf, estamos frente a um quadril do tipo

- (A) II b atraso na ossificação.
- (B) III a quadril excêntrico.
- (C) III b quadril excêntrico.
- (D) IV quadril excêntrico.

61

Criança de 8 anos de idade, do sexo masculino, deu entrada na emergência do hospital vítima de atropelamento. Após exames físico e por imagens constatou-se fratura anterior e posterior do anel pélvico, estáveis.

Segundo a classificação de Torode e Zieg modificada, essa lesão é do tipo

- (A) Torode II A.
- (B) Torode III A.
- (C) Torode III B.
- (D) Torode IV.

62

Paciente do sexo feminino, com 72 anos de idade, submetida a artroplastia total de quadril há 8 anos sofreu queda da própria altura com impossibilidade de deambular. Exames por imagens evidenciaram fratura da terço proximal do fêmur em espiral com soltura da haste da prótese e bom estoque ósseo. Segundo a classificação de Vancouver trata -se de uma fratura do tipo

- (A) B1
- (B) B2
- (C) B3
- (D) C1

63

Em relação a lesões traumáticas do ombro, assinale a afirmativa **incorreta**.

- (A) Estudos biomecânicos diferem a respeito dos papéis primário e secundário do ligamento glenoumeral superior, mas claramente ele limita translação inferior da cabeça do úmero e a rotação lateral do braço em adução.
- (B) O papel desempenhado pelo tendão da cabeça longa do bíceps na estabilização da articulação glenoumeral é controverso, mas alguns estudos demonstram que de forma estática ou dinâmica, ele contribui para limitar a translação anterior, posterior e inferior da cabeça umeral, especialmente em adução.
- (C) Zanca recomenda uma incidência radiológica em AP com inclinação cefálica de 10 a 15 graus para visualização de uma imagem não obstaculizada da articulação acrômio clavicular.
- (D) Na luxação acrômio clavicular tipo V de Tossy-Rockwood ocorre lesões dos ligamentos coracoclavicular, acrômio clavicular e desinserções de músculos da clavícula. A tração exercida pelo músculo esternocleidomastoideo que permanece inserido na clavícula é o único responsável pelo aumento em mais de 100% do espaço coracoclavicular em comparação com o ombro contralateral normal.

64

Em relação à síndrome de compartimento, assinale a afirmativa **incorreta**.

- (A) Entre os inúmeros fatores que demonstram ter potencial para resultar numa síndrome compartimental, destacam-se: lesões por esmagamento, compressão externa prolongada, fraturas, exercícios excessivos e injeções intra-arteriais de drogas esclerosantes.
- (B) No antebraço identificam-se quatro compartimentos interligados, no compartimento lateral móvel do antebraço encontram-se os músculos braquiorradial e os extensores radial longo e curto do carpo.
- (C) No antebraço identificam-se quatro compartimentos interligados. O compartimento anterior profundo contém os músculos flexor longo do polegar, o flexor profundo dos dedos e os pronadores quadrado e redondo.
- (D) Na síndrome de compartimento com comprometimento dos compartimentos anteriores, a extensão passiva dos dedos e punho induz a uma dor intensa.

65

Em relação às fraturas luxações do cotovelo, avalie as afirmativas abaixo:

- I. Os principais estabilizadores da articulação do cotovelo são: o processo coronóide e os ligamentos colaterais medial e lateral, a cabeça do rádio e o processo coronóide são estabilizadores secundário do valgo.
- II. A "triáde terrível" do cotovelo, consiste em uma luxação do cotovelo em conjunto com fraturas da cabeça radial e processo coronoide, a lesão essencial é a lesão do ligamento colateral lateral com progressão das lesões em direção às estruturas mediais.
- III. A calcificação ectópica é uma complicação comum nas fraturas luxações do cotovelo, no entanto, esta condição raramente requer tratamento.

Está correto o que se afirma em

- (A) I, II e III.
- (B) I e III, apenas.
- (C) I e II, apenas.
- (D) II e III, apenas.

66

Em relação às fraturas em nível do fêmur proximal em crianças na primeira década de vida, avalie as afirmativas a seguir:

- I. Em casos de fratura do fêmur proximal em crianças, quando ocorre comprometimento da fise proximal, a parada de crescimento pode causar encurtamento de cerca de 15% do comprimento do fêmur.
- II. As fraturas trans cervicais, são classificadas, segundo Delpet, como: Tipo II A estável e tipo IIB instável.
- III. As fraturas intertrocantéricas do Tipo IV, pela classificação de Delpet, apresentam menos complicações que as do tipo II e III.

Está correto o que se afirma em

- (A) I, II e III.
- (B) I e III, apenas.
- (C) I e II, apenas.
- (D) II e III, apenas.

67

Para o tratamento adequado das fraturas da extremidade distal do fêmur, temos que ter conhecimento da anatomia distal do fêmur e do joelho.

Em relação ao tema, assinale a afirmativa *incorreta*.

- (A) A forma do fêmur distal é trapezoidal, com a parte posterior do côndilo mais larga do que a parte anterior, o que gera um ângulo de inclinação de cerca de 15 graus na superfície medial e de 25 graus na superfície lateral.
- (B) O côndilo medial do fêmur é mais longo do que o côndilo lateral e se prolonga mais distalmente. Sua superfície medial é convexa e contém um epicôndilo que possibilita a inserção do ligamento colateral medial. Na parte mais proximal do côndilo se situa o tubérculo dos adutores, no qual se insere o tendão do músculo adutor magno.
- (C) O epicôndilo lateral tem sua origem na superfície condilar lateral, nele temos a origem do ligamento colateral lateral, imediatamente abaixo do epicôndilo lateral existe um sulco oblíquo onde reside o tendão poplíteo.
- (D) Os vasos femorais perfuram o adutor magno em um ponto situado aproximadamente 10 cm acima do joelho, ingressando no compartimento posterior e se juntando ao nervo ciático na fossa poplíteia.

68

Paciente vítima de acidente com veículo automotor, 25 anos de idade, deu entrada no hospital apresentando dores no joelho esquerdo, aumento de volume local e impossibilidade de deambular. Ao RX de joelho apresentava apenas depressão central da parte lateral do planalto tibial. A classificação dessa fratura segundo as classificações OTA / AO é

- (A) OTA / AO 41 B1. 1
- (B) OTA / AO 41 B1. 2
- (C) OTA / AO 41 B2. 1
- (D) OTA / AO 41 B2. 2

69

A incidência do osteossarcoma secundário é mais frequente na seguinte afecção:

- (A) osteocondroma.
- (B) doença de Paget.
- (C) osteomielite.
- (D) melorreostose.

70

A doença de Kohler é uma

- (A) epifisite da base do quinto metatarsal.
- (B) osteocondrose da cabeça do segundo metatarsal.
- (C) apofisite do calcâneo.
- (D) osteocondrose do navicular tarsal.

71

Em relação ao acesso descrito por Henry para a metade distal do rádio, assinale a afirmativa correta.

- (A) Iniciar com antebraço em pronação e utilizar o intervalo entre o músculo extensor radial do corpo e extensor comum dos dedos.
- (B) Com o antebraço em supinação deve-se fazer uma incisão longitudinal sobre o intervalo entre os músculos braquiorradial e flexor radial do carpo.
- (C) É necessário identificar e proteger o ramo sensitivo do nervo mediano que se posiciona abaixo do músculo braquiorradial.
- (D) O músculo pronador quadrado deve ser incisado na borda medial do rádio. E elevado sub periosticamente e o tendão do músculo flexor longo do polegar deve sempre ser preservado

72

Na insuficiência do músculo tibial posterior, os componentes da deformidade são:

- (A) varo do retropé; abdução do mediopé e supinação do antepé.
- (B) valgo do retropé; adução do mediopé e supinação do mediopé.
- (C) varo do retropé; adução do mediopé e pronação do antepé
- (D) valgo do retropé, abdução do mediopé e pronação do antepé.

73

Em relação à predição de gênero de alguns sarcomas, assinale a afirmativa *incorreta*.

- (A) O condrossarcoma central possui uma predileção pelo sexo feminino.
- (B) O osteossarcoma parosteal não possui predileção quanto ao sexo.
- (C) O sarcoma de Ewing possui predileção para o sexo masculino.
- (D) Condriblastoma possui predileção para o sexo masculino

74

Paciente do sexo masculino, 8 anos de idade, recebeu o diagnóstico de osteomielite sub-aguda. Ao RX apresentava reação periosteal na camada transparente (neoformação óssea subperiosteal). Segundo a classificação de Robert e colaboradores, esse paciente é classificado como do tipo

- (A) II.
- (B) III.
- (C) IV.
- (D) V.

75

Paciente do sexo feminino, 72 anos de idade, com queixas álgicas no quadril direito, limitação dos movimentos articulares e dificuldade para deambular autonomamente. Após avaliações clínicas e por imagens, o diagnóstico foi: osteoartrite do quadril direito Grau 3 da classificação radiográfica de Kellgren & Lawrence. Assinale a opção que apresenta os achados que contemplaram o diagnóstico da paciente.

- (A) Perda do espaço articular com esclerose e cistos, deformidade marcante da cabeça femoral e grandes osteofitos.
- (B) Estreitamento marcante do espaço articular, osteofitos pequenos, deformidade da cabeça femoral e acetábulo, esclerose e formação de cistos significativos.
- (C) Estreitamento do espaço articular, possíveis osteofitos ao redor da cabeça, acetábulo profundo com deformidade.
- (D) Possível estreitamento do espaço articular lateral, possíveis osteofitos ao redor da cabeça, deformidade da cabeça femoral.

76

Em relação à artrite séptica, avalie as seguintes afirmativas:

- I. *Staphylococcus aureus* é a agente etiológico mais comum em qualquer idade.
- II. Nas crianças abaixo de cinco anos, as infecções por *Haemophilus influenzae* tem uma incidência significativa e cerca de 20% dos pacientes apresentam um quadro de meningite associada.
- III. Cateterização umbilical ou procedimentos invasivos são fatores de risco para artrite séptica por *Streptococcus* ou *Neisseria gonorrhoeae* em recém-nascidos.

Está correto o que se afirma em

- (A) I, II e III.
- (B) I e III, apenas.
- (C) I e II, apenas.
- (D) II e III, apenas.

77

Paciente do sexo feminino, 25 anos de idade, um ano após tratamento para a COVID 19 iniciou quadro clínico de dor no quadril esquerdo, claudicação e limitação do arco de movimento nesse quadril. Após exames clínico e por imagens foi diagnosticada como osteonecrose da epífise femoral no estágio IIIB de acordo com a classificação revisada pela Associação de Pesquisa da Circulação Óssea (ARCO) em 2019 e tipo B pelo *a classificação do Comitê de Investigação Japonês (JIC)*.

Os achados que levaram a equipe médica a esse diagnóstico foram:

- (A) depressão da cabeça femoral de 4 mm. e lesão medial ocupando menos que 1/3 da área da carga.
- (B) depressão da cabeça femoral de 1 mm. e lesão lateral ocupando menos que 1/3 da área da carga.
- (C) depressão da cabeça femoral de 4 mm. e lesão central, ocupando mais que 2/3 da área da carga.
- (D) depressão da cabeça femoral de 1 mm. e lesão lateral, ocupando menos que 2/3 da área da carga.

78

Em relação à avaliação de um paciente com lombociatalgia, assinale a afirmativa **incorreta**.

- (A) A raiz de L3 é testada pela extensão do joelho contra a resistência, com o paciente sentado.
- (B) O nível sensorial da raiz de L2 encontra-se logo abaixo do ligamento inguinal, na porção ântero-superior da coxa.
- (C) O teste de elevação da perna estendida (straight leg raise) é considerado positivo quando o paciente refere dor na extensão entre 30 e 70 graus.
- (D) A manobra de Bragard é uma sensibilização do sinal de elevação da perna estendida.

79

Em relação as lesões ligamentares do joelho, avalie as seguintes afirmativas:

- I. O ligamento cruzado anterior origina-se na superfície pósteromedial do côndilo femoral lateral.
- II. O teste do pivot shift, avalia a subluxação ântero-medial e a redução da tibia durante a flexo extensão do joelho.
- III. Nas lesões crônicas do ligamento cruzado anterior, o menisco medial é o mais acometido.

Está correto o que se afirma em

- (A) I, II e III.
- (B) I e II, apenas.
- (C) I e III, apenas.
- (D) II e III, apenas.

80

Paciente do sexo masculino, 67 anos de idade, com queixas algicas no joelho esquerdo, limitação da flexo-extensão do joelho, aumento de volume local e dificuldade para deambular autonomamente. Após avaliações clínica e por imagens adequadas, o Diagnóstico foi: osteoartrite do joelho esquerdo Grau 3 da classificação radiográfica de Ahlback modificada por Keyes e Goodfellow.

Assinale a opção que contém os achados que contemplaram o diagnóstico do paciente.

- (A) Desgaste do planalto tibial menor que 05 mm. na incidência em AP e no perfil a parte posterior do planalto está intacta
- (B) Desgaste do planalto tibial entre 10 e 20 mm. na incidência em AP e no perfil extenso desgaste da margem anterior do planalto tibial.
- (C) Desgaste do planalto tibial menor que 5 mm. na incidência em AP. e no perfil a margem posterior do planalto tibial apresenta desgaste maior que 7 mm.
- (D) Desgaste do planalto tibial maior 15 mm. com subluxação grave da tibia em relação ao fêmur na incidência em AP e no perfil extenso desgaste da margem posterior do planalto tibial com subluxação anterior da tibia.

Realização

