

MÉDICO - INTENSIVISTA

TIPO 1 – BRANCA



SUA PROVA

- Além deste caderno contendo **80 (oitenta)** questões objetivas você receberá do fiscal de prova o cartão de respostas;
- As questões objetivas têm **4 (quatro)** opções de resposta (A, B, C, D) e somente uma delas está correta.



TEMPO

- Você dispõe de **4 (quatro) horas** para a realização da prova, já incluído o tempo para a marcação do cartão de respostas;
- **2 (duas) horas e 30 (trinta) minutos** após o início da prova, é possível retirar-se da sala, sem levar o caderno de questões;
- A partir dos **30 (trinta) minutos** anteriores ao término da prova é possível retirar-se da sala **levando o caderno de questões**.



NÃO SERÁ PERMITIDO

- Qualquer tipo de comunicação entre os candidatos durante a aplicação da prova;
- Anotar informações relativas às respostas em qualquer outro meio que não seja o caderno de questões;
- Levantar da cadeira sem autorização do fiscal de sala;
- Usar o sanitário ao término da prova, após deixar a sala.



INFORMAÇÕES GERAIS

- Verifique se seu caderno de questões está completo, sem repetição de questões ou falhas. Caso contrário, **notifique imediatamente o fiscal da sala**, para que sejam tomadas as devidas providências;
- Confira seus dados pessoais, especialmente nome, número de inscrição e documento de identidade e leia atentamente as instruções para preencher o cartão de respostas;
- Para o preenchimento do cartão de respostas, use somente caneta esferográfica, fabricada em material transparente, com tinta preta ou azul;
- Assine seu nome apenas no(s) espaço(s) reservado(s) no cartão de respostas;
- Confira seu cargo, cor e tipo do caderno de questões. Caso tenha recebido caderno de cargo ou cor ou tipo **diferente** do impresso em seu cartão de respostas, o fiscal deve ser **obrigatoriamente** informado para o devido registro na ata da sala;
- Reserve tempo suficiente para o preenchimento do seu cartão de respostas. O preenchimento é de sua responsabilidade e **não será permitida a troca do cartão de respostas em caso de erro cometido pelo candidato**;
- Para fins de avaliação, serão levadas em consideração apenas as marcações realizadas no cartão de respostas;
- A FGV coletará as impressões digitais dos candidatos na lista de presença;
- Os candidatos serão submetidos ao sistema de detecção de metais quando do ingresso e da saída de sanitários durante a realização das provas.
- **Boa sorte!**

CONHECIMENTOS GERAIS

Língua Portuguesa

1

Leia o texto a seguir.

Os homens não estão cientes do calor que emana de seu coração, embora ele dê vida e movimento a todas as outras partes do seu corpo. [...] O mesmo se dá com a vaidade: ela é tão natural para o homem que ele não a percebe. E, embora seja isso que dê, por assim dizer, vida e movimento à maioria dos seus pensamentos e desígnios, isso ocorre de um modo que é imperceptível para o sujeito. [...] Os homens não percebem que é a vaidade que dá ímpeto à maioria de suas ações.

A respeito do significado ou da estruturação desse fragmento, assinale a afirmativa **inadequada**.

- (A) O comentário inicial sobre o calor do coração serve de ponto de comparação para o papel da vaidade.
- (B) A semelhança entre o calor do coração e a vaidade é que ambos são imperceptíveis para os homens.
- (C) Ao indicar a vaidade como fonte da maioria das ações humanas, o autor do texto as desvaloriza.
- (D) O homem deve tornar a vaidade uma força consciente para o seu progresso.

2

Leia o texto a seguir.

Em seu coração, os homens desejam ser estimados, mas eles cuidadosamente ocultam esse desejo porque querem se passar por virtuosos e porque o desejo de receber da virtude qualquer vantagem além dela mesma não seria ser virtuoso, mas amar a estima e o elogio – ou seja, ser vaidoso. Os homens são muito vaidosos, mas não há nada que eles mais detestem do que serem considerados vaidosos.

Assinale a afirmativa adequada ao seu significado ou à sua estruturação.

- (A) A discussão no texto opõe a essência (os homens serem vaidosos) à aparência (quererem passar por virtuosos).
- (B) A vaidade humana só não é vista como um defeito porque os homens fazem questão de ocultá-la.
- (C) Os homens têm o desejo de serem estimados, ou seja, pretendem alcançar a estima e o elogio, sem serem motivados pela vaidade.
- (D) O fato de serem considerados vaidosos faz com que a imagem pública dos homens cresça ao olhar dos outros.

3

Assinale a opção que apresenta a frase em que os dois termos sublinhados **não** são **antônimos**.

- (A) Juízes implacáveis são todos aqueles que antes foram réus.
- (B) O homem não teria alcançado o possível se, repetidas vezes, não tivesse tentado o impossível.
- (C) Você não será nada se quiser ser tudo.
- (D) Só tenho por seguro o que é incerto.

4

Analise a frase a seguir.

É claro que a justiça, sendo cega, não vê se é vista, e então não cora. (Machado de Assis)

As opções a seguir apresentam formas de reescrever a frase acima sem modificação do seu sentido original, **à exceção de uma**. Assinale-a.

- (A) É claro que a justiça, sendo cega, não cora, já que não vê se é vista.
- (B) Sendo cega, é claro que a justiça não vê se é vista, e então não cora.
- (C) É claro que, sendo cega, a justiça não vê se é vista, e então não cora.
- (D) É claro que a justiça não vê se é vista, e então, sendo cega, não cora.

5

Assinale a frase que **não** apresenta **tom crítico**.

- (A) Nenhum homem rico é feio, dizia uma grande atriz.
- (B) Mostre-me um herói e eu escreverei uma tragédia.
- (C) Não é bom que o homem esteja só.
- (D) Ele é a pessoa mais interessante que ele já conheceu.

6

Assinale a frase em que **não** está presente a construção de voz passiva com o pronome **se**.

- (A) O casamento é uma escola onde se aprende algo com o outro.
- (B) Alugou-se uma casa à beira-mar para as férias, mas os temporais acabaram com os sonhos.
- (C) Nunca se é demasiado velho para crescer.
- (D) Fazem-nos na época atual constituições para os povos como se fariam vestidos para as pessoas sem se lhes tomar as medidas.

7

Segundo o gramático Celso Cunha, os adjetivos mostram os seguintes valores: uma qualidade, uma característica, um estado ou uma relação.

Assinale a opção que apresenta a frase em que o adjetivo sublinhado é classificado como **adjetivo de relação**.

- (A) As colônias não deixam de ser colônias pelo fato de serem independentes.
- (B) É necessário mudar muitas vezes de opinião para estar sempre de acordo com o seu partido político.
- (C) As leis ruins são a pior espécie de tirania.
- (D) Juízes implacáveis são aqueles que antes foram réus.

8

Nas frases a seguir há várias formas de adjetivos referentes aos substantivos sublinhados.

Assinale a opção em que a forma de adjetivação está identificada **inadequadamente**.

- (A) Como todos os soldados, João também tinha cabelo curto. / adjetivo.
- (B) Apesar de pianista, o artista mostrava mãos grosseiras, rudes. / locução.
- (C) O livro que o professor recomendara, esgotou rapidamente. / oração adjetiva.
- (D) José era considerado um cabeça-de-vento. / substantivo composto.

9

Assinale a frase que **não** exemplifica o caso de um adjetivo com valor adverbial.

- (A) Comecei de cima e trabalhei duro até chegar embaixo.
 (B) Você não aprende a manter firme sua posição no mundo ficando de guarda, mas atacando e sendo atacado.
 (C) Por que com tão curta a vida organizamos tantos projetos?
 (D) Tão rápido foge a vida que toda sorte é boa, em tão breve jornada.

10

Assinale a frase em que as duas ocorrências do vocábulo destacado desempenham a mesma função sintática.

- (A) A coisa mais importante da vida é saber o que é importante.
 (B) A vida é feita de ilusões; entre essas ilusões, algumas triunfam.
 (C) Para que um grande sonho se torne realidade, você precisa primeiro de um grande sonho.
 (D) O planejamento familiar é um sonho que o pai de família traça para ter a ilusão do dinheiro que guarda.

11

Assinale a opção em que a modificação de uma forma reduzida de infinitivo foi adequadamente modificada para uma forma desenvolvida.

- (A) Novos ricos também pesquisam antes de comprar / antes de que comprem.
 (B) O divórcio foi uma chance dada ao meu casamento para eu errar outra vez. / para que eu erre outra vez.
 (C) Ao se divorciar, procurou ficar com os bens. / Quando se divorciasse.
 (D) O casamento parece inventado para recompensar os perversos. / para a recuperação dos perversos.

12

As frases a seguir são compostas de dois segmentos separadas por um sinal de pontuação.

Assinale aquela em que essa pontuação foi **inadequadamente** substituída por um conectivo.

- (A) Não é a maioria que é silenciosa. O governo é que é surdo. / mas.
 (B) Não gosto de pensar que estou envelhecendo. Adoro a ideia de que nasci há muito tempo. / portanto.
 (C) O ilegal é o que fazemos imediatamente. O inconstitucional é o que exige um pouco mais de tempo. / enquanto.
 (D) Não pergunte a seus pais o que podem fazer por você. Eles podem fingir que não ouviram. / pois.

Raciocínio Lógico Matemático

13

Considere a frase:

Se você é cuiabano, então é mato-grossense.

É logicamente equivalente à frase acima, a seguinte proposição:

- (A) *Se você é mato-grossense, então é cuiabano.*
 (B) *Se você é cuiabano, então não é mato-grossense.*
 (C) *Se você não é mato-grossense, então não é cuiabano.*
 (D) *Se você não é cuiabano, então não é mato-grossense.*

14

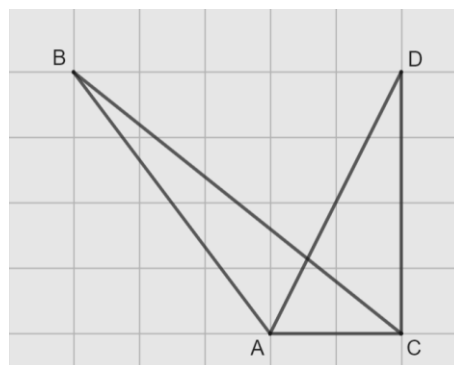
Em uma reunião de uma unidade hospitalar, estavam presentes 8 servidores, sendo 6 médicos e 2 enfermeiros. Todos sentaram-se ao redor de uma mesa redonda.

A quantidade de maneiras distintas de essa mesa pode ser organizada de forma que entre os dois enfermeiros tenha sempre três médicos é

- (A) 120.
 (B) 240.
 (C) 480.
 (D) 720.

15

Na malha quadriculada a seguir, formada por quadrados de lados medindo 1cm, estão representados os triângulos ABC e ACD.



A área do triângulo ABC, em cm^2 , é igual a

- (A) 4,25.
 (B) 4,00.
 (C) 3,75.
 (D) 3,50.

16

Sobre números inteiros, racionais e reais, analise as afirmativas a seguir e assinale (V) para a verdadeira e (F) para a falsa.

- () Há mais números racionais que números inteiros.
 () A soma de dois números irracionais resulta sempre em um número irracional.
 () A dízima periódica 6,999... é igual ao número inteiro 7.

As afirmativas são, respectivamente,

- (A) F – F – V.
 (B) F – V – V.
 (C) V – F – F.
 (D) V – V – F.

17

Os atendimentos realizados por 6 médicos de uma unidade hospitalar em determinado dia foram registrados. Porém, no fim da semana, percebeu-se que a informação dos atendimentos realizados por um desses médicos foi perdida, conforme a lista apresentada a seguir.

10, 9, 15, 9, X, 12

Sabe-se que, nesse dia, nenhum médico fez menos que 6 e mais que 15 atendimentos e que a média de atendimentos é um número inteiro.

Assim, a mediana da lista é

- (A) 10.
 (B) 10,5.
 (C) 11.
 (D) 11,5.

18

A Federação Mato-grossense de Futebol (FMF) realiza anualmente a competição "Copa FMF" na modalidade masculina. Na edição de 2023, a fase final foi disputada por Cuiabá, Mixto, Nova Mutum e Operário VG em um formato quadrangular, no qual todos se enfrentam apenas uma vez.

Em relação aos gols ocorridos nesta fase, sabe-se que:

- Mixto fez o triplo de gols que tomou;
- Cuiabá e Nova Mutum tomaram 6 gols cada;
- Operário VG fez 1 gol e tomou 2 gols;
- Cuiabá fez um gol a mais que Nova Mutum;
- foram feitos 17 gols no total.

Dessa forma, a quantidade de gols feitos pela equipe Nova Mutum foi igual a

- (A) 5.
 (B) 4.
 (C) 3.
 (D) 2.

19

A serviço de uma unidade do Sistema Único de Saúde há três veículos: um automóvel, um ônibus e uma van. Um deles tem a cor azul, outro tem a cor amarela e outro tem a cor verde.

Das afirmativas a seguir, apenas uma é verdadeira:

- I. O automóvel é verde.
 II. O ônibus não é amarelo.
 III. A van não é verde.

Assim, é correto afirmar que

- (A) o automóvel é amarelo.
 (B) o automóvel é azul.
 (C) o ônibus é verde.
 (D) a van é amarela.

20

Em uma fábrica de desfibriladores, foi verificado que eram necessários 8 dias para produzir determinada quantidade de aparelhos, usando a mão de obra de 6 trabalhadores por 4 horas em cada dia.

Para reduzir o tempo de produção para 2 dias, será necessário:

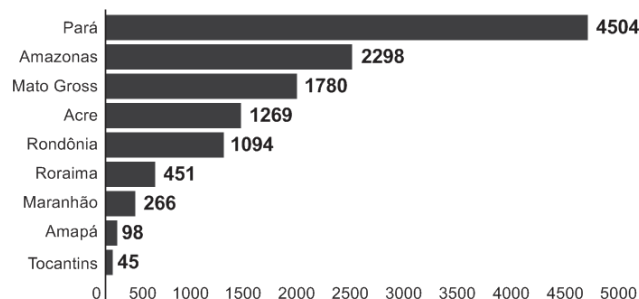
- (A) duplicar o número de trabalhadores.
 (B) triplicar o número de horas trabalhadas por dia.
 (C) duplicar o número de horas trabalhadas por dia.
 (D) duplicar o número de trabalhadores e o número de horas trabalhadas por dia.

História Política e Econômica e Geografia de Mato Grosso

21

Analise o gráfico a seguir.

Risco de desmatamento por estado em 2023 (km²)



Fonte: <https://g1.globo.com/mt/mato-grosso/noticia/2023/01/18/mt-e-o-3o-estado-com-maior-risco-de-desmatamento-em-2023-aponta-imazon.ghtml>. Adapt.

De acordo com o gráfico, o Estado de Mato Grosso é o terceiro estado brasileiro com maior risco de desmatamento na Amazônia.

Analise as afirmativas a seguir sobre os fatores que concorrem para esse fenômeno.

- I. A prática agrícola é um dos fatores que contribui para a aceleração dos processos erosivos do solo e do desmatamento. Isso ocorre devido ao emprego, de técnicas agrícolas extensivas, com a retirada de vegetação para a instalação de grandes lavouras monocultoras.
- II. A prática do garimpo ilegal gera diversos impactos ambientais, como o desmatamento, por meio da retirada de vegetação nativa, seja para estabelecer acessos às áreas ricas em minerais, seja para criar espaços destinados à própria atividade de mineração.
- III. A demarcação de terras indígenas no Estado contribui para o desmatamento, uma vez que o processo envolve a utilização de madeira para a construção de residências tradicionais e a exploração dos recursos naturais para fins de subsistência.

Está correto o que se afirma em

- (A) I, apenas.
 (B) I e II, apenas.
 (C) I e III, apenas.
 (D) II e III, apenas.

22

Sobre os biomas mato-grossenses e suas respectivas localizações conforme a organização espacial do estado, analise as afirmativas a seguir e assinale (V) para a verdadeira e (F) para a falsa.

- () O bioma Amazônico é caracterizado pela vegetação densa da floresta tropical; está presente no norte do Estado e um dos seus espaços é a microrregião de Sinop.
 () O bioma Cerrado é caracterizado pela vegetação composta de árvores baixas e com plantas com raízes profundas; está presente na mesorregião do Centro-Sul Mato-grossense.
 () O bioma Pantanal é caracterizado por suas extensas áreas alagadas e pela planície aluvial; está presente na mesorregião Centro-sul do estado, englobando os municípios de Cáceres e Poconé.

As afirmativas são, na ordem apresentada, respectivamente,

- (A) V – V – F.
 (B) V – F – V.
 (C) F – V – F.
 (D) V – V – V.

23

Analise os trechos a seguir.

I. Código Civil dos Estados Unidos do Brasil, de 1916

Art. 6º. São incapazes, relativamente a certos atos (Art. 147, inciso I), ou à maneira de os exercer:

IV - os silvícolas.

Parágrafo único. Os silvícolas ficarão sujeitos ao regime tutelar, estabelecido em leis e regulamentos especiais, e que cessará à medida de sua adaptação.

II. Lei nº 6.001 de 1973

Art. 2º. *Cumpra à União, aos Estados e aos Municípios, bem como aos órgãos das respectivas administrações indiretas, nos limites de sua competência, para a proteção das comunidades indígenas e a preservação dos seus direitos: II - prestar assistência aos índios e às comunidades indígenas ainda não integrados à comunhão nacional; VI - respeitar, no processo de integração do índio à comunhão nacional, a coesão das comunidades indígenas, os seus valores culturais, tradições, usos e costumes; VIII - utilizar a cooperação, o espírito de iniciativa e as qualidades pessoais do índio, tendo em vista a melhoria de suas condições de vida e a sua integração no processo de desenvolvimento.* (Adaptado.)

III. Constituição Federal de 1988

Art. 231. São reconhecidos aos índios sua organização social, costumes, línguas, crenças e tradições, e os direitos originários sobre as terras que tradicionalmente ocupam, competindo à União demarcá-las, proteger e fazer respeitar todos os seus bens.

Sobre a questão indígena no Brasil, de acordo com os trechos, assinale a afirmativa que interpreta corretamente os princípios que orientaram os marcos normativos mencionados.

- (A) Em I, a integração das comunidades indígenas à sociedade brasileira é preconizada por meio de um regime tutelar, que os considerava como indivíduos não plenamente desenvolvidos; em II, a autonomia dos indígenas é garantida por meio do direito à escolha de manter seu isolamento.
- (B) Em I, a autonomia das populações indígenas é assegurada pela concessão de agência individual, reconhecendo-as como capazes de resolver seus próprios conflitos territoriais; em II, a autonomia é manifestada pela isenção do poder federal de qualquer responsabilidade na garantia de seus direitos.
- (C) Em II, a preservação das comunidades indígenas se dá mediante o respeito pelo isolamento como uma medida para prevenir a propagação de doenças e evitar o extermínio; em III, a conservação da diversidade étnica e cultural dos indígenas é garantida por meio da criação de reservas.
- (D) Em II, a integração dos indígenas à sociedade brasileira é prevista por práticas de assimilação, que entendiam seus modos de vida como uma condição transitória; em III, os direitos dos indígenas são reconhecidos pela liberdade de organização sociocultural, responsabilizando o Estado Brasileiro de proteger suas terras.

24

O Estado do Mato Grosso destaca-se tanto nacional quanto internacionalmente por sua significativa produção agrícola.

A respeito do escoamento dos excedentes destinados à exportação, assinale a afirmativa correta.

- (A) O transporte ferroviário é a principal opção, da qual depende o Estado para o envio de sua produção para os portos da Região Sul.
- (B) O transporte hidroviário é ineficiente, visto que sua aplicação se restringe apenas à manutenção das conexões internas do Estado.
- (C) O transporte rodoviário, principalmente a rodovia BR 364, permite transportar a produção até o Estado de São Paulo, alcançando o porto de Santos.
- (D) O transporte rodoviário, principalmente a rodovia BR 163, permite a entrega da soja para o Rio de Janeiro, principal mercado consumidor.

25

A Capitania de Mato Grosso é uma das mais importantes de todo o Brasil, tanto pela sua extensão e pelas sabidas, mas ainda intactas riquezas, que guardam os seus vastíssimos sertões, como por ser fronteira ao vasto, populoso e rico Peru.

Adaptado de: Reflexões sobre o estado atual da capitania de Mato Grosso, combinando com os domínios espanhóis que lhe são confinantes, em: Serra, Ricardo, Reflexões sobre a Capitania de Mato Grosso, Cuiabá: IHGMT, 2002, p. 12.

A respeito do contexto da criação da Capitania de Mato Grosso e da delimitação de suas fronteiras, assinale a afirmativa correta.

- (A) A fronteira sul com a cidade de Assunção, que estava sob domínio espanhol, desempenhava um papel crucial na proteção do interior do território brasileiro.
- (B) A fronteira oriente com a capitania de Goiás, então no auge de sua produção de cana de açúcar, atuava como ponto de contato para trocas comerciais entre as duas regiões.
- (C) A fronteira leste com a capitania de São Paulo, representou o cumprimento do estabelecido pelo Tratado de Tordesilhas, que concedeu a posse da região centro oeste aos portugueses.
- (D) A fronteira norte com a capitania de Rondônia revelava-se estratégica para a exploração e tráfico da borracha e permitia uma conexão vital com os mercadores europeus.

26

A respeito da guerra entre a Tríplice Aliança e o Paraguai, assinale a afirmativa que descreve corretamente o envolvimento de Mato Grosso no conflito.

- (A) Os antecedentes do conflito são marcados pela assinatura do Tratado da Tríplice Aliança, o qual legitimava a guerra contra o Paraguai e designava Mato Grosso como capital da bacia platina, devido à sua extensa ocupação populacional.
- (B) No início do conflito, ocorreu a invasão paraguaia a Mato Grosso, que não encontrou dificuldade em ocupá-lo devido à precária defesa do território brasileiro.
- (C) Durante o conflito, a reconquista do território do Mato Grosso pelo Brasil foi facilitada pela acessibilidade à região, tanto por redes viárias quanto pelas rotas navegáveis.
- (D) O desfecho do conflito resultou na vitória brasileira, que retomou o território mato-grossense, que apesar de conquistado, jamais foi ocupado pelos paraguaios devido às ofensivas dos índios e às epidemias locais.

27

Analise a imagem a seguir.



Fonte: <https://g1.globo.com/ac/acre/noticia/2019/08/06/revolucao-acreana-charges-e-chronicas-tratavam-acre-como-um-estorvo-para-nacao.ghtml>

A charge ilustra o Barão do Rio Branco carregando uma bomba com a inscrição “Acre”, enquanto outro personagem, posicionado atrás, acende o pavio. A legenda diz: “— Cuidado, barão! Com esta bomba nem S. Pedro com seus tiros o salvará.”

Sobre as medidas estabelecidas pelo Tratado de Petrópolis, assinado entre o Brasil e a Bolívia, que resultou na incorporação do Acre ao território brasileiro, assinale a afirmativa correta.

- (A) Proibiu a navegação boliviana nos confluente brasileiros, encerrando a saída da Bolívia ao Oceano Atlântico.
- (B) Autorizou o acesso boliviano ao território brasileiro, estipulando que seria de responsabilidade da Bolívia construir uma ferrovia para facilitar sua mobilidade.
- (C) Concedeu permissão para o estabelecimento de agentes bolivianos nas alfândegas comerciais brasileiras na região de fronteira entre os dois países.
- (D) Desalojou colonos bolivianos da região, especialmente os que dependiam de atividades extrativistas, sem que o Brasil indenizasse o governo boliviano pela perda do território.

28

Deve-se promover a integração da península do Centro-Oeste brasileiro, equipando-a de meios que lhe permitam desempenhar seu duplo papel de sólida plataforma para um transbordamento sobre a Hileia ou para ações visando a contrapor-se ao avanço para o norte de um imperialismo platino.

Fonte: SILVA, Golbery do Couto e. Conjuntura política nacional: o poder executivo & geopolítica do Brasil. Brasília: Ed. UnB, 1981. (Coleção Temas Brasileiro, n. 7). Citado por Cavalcanti, Marcelo; Barreira, Celene. Ações da Sudeco no desenvolvimento do Centro-Oeste, B.goiano.geogr.Goiânia, v. 31, n. 2, 2011, p. 180.

As afirmativas a seguir descrevem corretamente os objetivos da Superintendência de Desenvolvimento do Centro-Oeste (SUDECO) durante a ditadura militar brasileira, **à exceção de uma**. Assinale-a.

- (A) Estimular o processo de industrialização na região, visando criar polos industriais capazes de competir com os centros empresariais do Sudeste.
- (B) Ocupar as áreas da região identificadas como “vazios estratégicos”, consideradas suscetíveis à influência comunista.
- (C) Promover a integração regional com outras partes do território brasileiro por meio do desenvolvimento de infraestrutura rodoviária.
- (D) Fomentar a mecanização e a modernização da agricultura para impulsionar a ocupação produtiva da fronteira agrícola.

Noções de Administração Pública, Ética, Filosofia e Atualidades

29

A pirâmide de Maslow foi uma das primeiras teorias desenvolvidas para entender o sentido da motivação.

De acordo com essa teoria, assinale a afirmativa correta.

- (A) Os seres humanos são estimulados por uma seqüência de necessidades, devendo ocorrer a satisfação das necessidades mais básicas antes de se aspirarem as outras.
- (B) Os indivíduos são naturalmente preguiçosos, demandando, por isso, mecanismos de controle rígidos para o bom desempenho.
- (C) As pessoas são incentivadas pela percepção de justiça em seu ambiente, comparando suas recompensas e retribuições com a de seus pares.
- (D) Os sujeitos tendem a ser encorajados por atividades que são vistas como alcançáveis, conforme as suas capacidades.

30

O momento em que o aprovado em um concurso público é investido em cargo público, mediante a aceitação expressa das responsabilidades inerentes à função, é conhecido como posse. No entanto, é apenas no exercício que o servidor desempenha efetivamente suas atribuições.

Com relação ao disposto na Lei Complementar nº 04/1990, que dispõe sobre os servidores do Estado de Mato Grosso, é correto afirmar que, o servidor deve entrar em exercício

- (A) imediatamente após a posse.
- (B) até 5 dias após a posse.
- (C) até 20 dias após a posse.
- (D) até 30 dias após a posse.

31

Como regra geral, a contratação de pessoa na Administração Pública deve ocorrer por prazo indeterminado. No entanto, algumas situações de excepcionalidade permitem que sejam realizadas contratações em caráter temporário.

Com base nisso, analise as afirmativas a seguir.

- I. Combater surtos epidêmicos.
- II. Realizar o recenseamento.
- III. Permitir a execução de serviço, nas áreas de pesquisa científica, por profissional de notória especialização.

Em conformidade com a Lei Complementar nº 04/1990, assinale a opção que indica a(s) situação(ões) que permite(m) contratação temporária.

- (A) I, apenas.
- (B) I e II, apenas.
- (C) II e III, apenas.
- (D) I, II e III.

32

Em uma situação hipotética, determinado servidor do Estado do Mato Grosso, pertencente à Secretaria de Saúde, cometeu falta punível com cassação de aposentadoria.

Nesse caso, com base na Lei Complementar nº 04/1990, a autoridade que deve aplicar a respectiva penalidade ao servidor é o

- (A) Governador do Estado.
- (B) chefe da repartição do servidor.
- (C) Presidente do Tribunal de Contas do Estado.
- (D) Corregedor-geral do Estado.

33

Max Weber diferencia a ética da convicção da ética da responsabilidade.

A esse respeito, analise as afirmativas a seguir e assinale (V) para a verdadeira e (F) para a falsa.

- () A ética da responsabilidade é a que tem como preocupação central as consequências das ações realizadas.
- () A ética da convicção é a mais apropriada para a função pública, pois independe de variações individuais.
- () A ética da responsabilidade baseia-se nas predisposições éticas dos agentes e espera deles um elevado senso moral.

As afirmativas são, respectivamente,

- (A) F – V – F.
- (B) F – V – V.
- (C) V – F – F.
- (D) V – V – F.

34

O instituto da cidadania estabelece direitos e deveres para os indivíduos pertencentes à determinada sociedade. Esses direitos podem ser divididos em civis, políticos e sociais.

Assinale a opção que exemplifica corretamente os direitos sociais.

- (A) Direito à vida e à liberdade.
- (B) Direito à representação política.
- (C) Direito à propriedade privada.
- (D) Direito à saúde e à moradia.

35

Um funcionário do governo fica responsável pela distribuição de recursos limitados em uma pequena cidade e se depara com um dilema moral. Uma enchente atingiu a região e ele precisa decidir como alocar os recursos de emergência. Há dois grupos que precisam urgentemente de ajuda: um é um orfanato com várias crianças, e o outro, um hospital que atende a toda a comunidade. Ambos estão em situações críticas e os recursos não são suficientes para atender às necessidades de ambos.

Na situação acima, é correto afirmar que o funcionário aderiu a uma ética utilitarista se ele optou por

- (A) agir conforme o dever e o princípio moral de direcionar a ajuda para o grupo mais desfavorecido.
- (B) tomar o caminho de ação capaz de favorecer o maior número possível das pessoas afetadas.
- (C) conduzir a situação do modo mais compatível possível com o cultivo coletivo das virtudes cívicas.
- (D) atuar de maneira a distribuir os recursos equitativamente, sem favorecer ou preterir nenhuma das partes.

36

Com relação ao Estatuto dos Servidores Públicos do Estado do Mato Grosso (Lei Complementar nº 04/1990), associe cada forma de provimento de cargo público à sua descrição.

1. Reversão
 2. Recondução
 3. Readaptação
 4. Reintegração
- () O servidor aposentado por invalidez retorna à atividade ao serem declarados insubsistentes os motivos da aposentadoria.
 - () O servidor passa a assumir responsabilidades e atribuições compatíveis com uma limitação física ou mental sofrida.
 - () O servidor retorna a um cargo anteriormente ocupado, por exemplo, devido à inabilitação em estágio probatório.
 - () O servidor retorna ao cargo anteriormente ocupado devido a uma invalidação de uma anterior demissão.

Assinale a opção que indica a relação correta, segundo a ordem apresentada.

- (A) 1 – 3 – 2 – 4.
- (B) 1 – 4 – 2 – 3.
- (C) 4 – 2 – 3 – 1.
- (D) 4 – 3 – 2 – 1.

Legislação do SUS + Plano Nacional de Atenção Básica à Saúde

37

Assinale a opção que apresenta, corretamente, um objetivo do Sistema Único de Saúde – SUS.

- (A) Integração em nível executivo das ações de saúde, meio ambiente e saneamento básico.
- (B) Organização dos serviços públicos de modo a evitar duplicidade de meios para fins idênticos.
- (C) Identificação e divulgação dos fatores condicionantes e determinantes da saúde.
- (D) Capacidade de resolução dos serviços em todos os níveis de assistência.

38

Assinale a opção que apresenta o princípio que foi acrescentado ao Sistema Único de Saúde, em 2023.

- (A) Organizar atendimento público específico e especializado para mulheres e vítimas de violência doméstica em geral.
- (B) Divulgar informações quanto ao potencial dos serviços de saúde e da sua utilização pelo usuário.
- (C) Utilizar a epidemiologia para estabelecer prioridades, a alocação de recursos e a orientação programática.
- (D) Proteger integralmente os direitos humanos de todos os usuários e, em especial, identificar maus-tratos, negligência e violência sexual praticados contra crianças e adolescentes.

39

Com base nas disposições da Lei nº 8.080/90 acerca do acompanhamento à mulher nos serviços de saúde, analise as afirmativas a seguir e assinale (V) para a verdadeira e (F) para a falsa.

- () Em consultas, exames e procedimentos realizados em unidades de saúde públicas ou privadas, toda mulher tem o direito de fazer-se acompanhar por pessoa maior de idade, durante todo o período do atendimento, independentemente de notificação prévia.
- () Em caso de atendimento com sedação, a eventual renúncia da paciente ao direito de acompanhante deverá ser feita por escrito, após o esclarecimento dos seus direitos, com no mínimo 24 (vinte e quatro) horas de antecedência, assinada por ela e arquivada em seu prontuário.
- () Em casos de urgência e emergência, os profissionais de saúde ficam autorizados a agir na proteção e defesa da saúde e da vida da paciente, ainda que na ausência do acompanhante requerido.

As afirmativas são, respectivamente,

- (A) F – V – F.
- (B) V – V – V.
- (C) F – F – V.
- (D) V – F – V.

40

Com base na organização dos níveis de assistência à saúde, assinale a opção que apresenta a um serviço da *atenção terciária*.

- (A) Unidade de Transplante Renal.
- (B) Ambulatório de Neurologia.
- (C) Serviço de Ressonância Magnética.
- (D) Unidades de Pronto Atendimento.

41

Os Programas de Qualidade de Vida e Saúde para os Trabalhadores da Saúde e o Colegiado Gestor fazem parte do seguinte elemento da Política Nacional de Humanização.

- (A) Valores.
- (B) Princípios.
- (C) Diretrizes.
- (D) Dispositivos.

42

Com base nos Requisitos de Boas Práticas de Funcionamento para os Serviços de Saúde, analise as afirmativas a seguir e assinale (V) para a verdadeira e (F) para a falsa.

- () Em serviços de saúde com mais de vinte trabalhadores é obrigatória a instituição de Comissão Interna de Prevenção de Acidentes - CIPA.
- () O serviço de saúde deve garantir que o prontuário contenha registros relativos à identificação e todos os procedimentos prestados ao paciente.
- () O serviço de saúde deve garantir que os trabalhadores sejam avaliados, no mínimo, uma vez ao ano em relação à saúde ocupacional.

As afirmativas são, respectivamente,

- (A) V – V – V.
- (B) F – V – F.
- (C) V – V – F.
- (D) V – F – F.

43

De acordo com a Carta dos Direitos e Deveres da Pessoa Usuária da Saúde, assinale a afirmativa correta.

- (A) O usuário tem direito a acompanhante, pessoa de sua livre escolha, nas consultas e exames.
- (B) O atendimento nos serviços de saúde deve ser sempre com hora marcada.
- (C) O usuário tem liberdade de procurar parecer de outro profissional, exceto em casos com impedimento legal.
- (D) Toda pessoa previamente cadastrada tem direito a participar dos conselhos e das conferências de saúde.

44

De acordo com as disposições normativas acerca da segurança do paciente, os eventos adversos que evoluírem para óbito devem ser notificados em até

- (A) 12 horas, a partir do ocorrido.
- (B) 24 horas, a partir do ocorrido.
- (C) 48 horas, a partir do ocorrido.
- (D) 72 horas, a partir do ocorrido.

45

Com base nas disposições da Lei nº 8.142/90, analise as afirmativas a seguir.

- I. O Conselho de Saúde é um órgão colegiado responsável por avaliar a situação de saúde e propor diretrizes para formulação da política de saúde.
- II. Um dos requisitos para que Estados e Municípios recebam os recursos destinados à cobertura das ações e serviços de saúde é a elaboração do Plano de Saúde.
- III. Os Municípios poderão estabelecer consórcio para execução de ações e serviços de saúde.

Está correto o que se afirma em

- (A) I, apenas.
- (B) II e III, apenas.
- (C) I e II, apenas.
- (D) I e III, apenas.

46

Conforme disposições sobre a organização do SUS, o conjunto de ações e serviços de saúde, articulados em níveis de complexidade crescente com a finalidade de garantir a integralidade da assistência à saúde, corresponde ao(à)

- (A) Mapa de Saúde.
- (B) Região de Saúde.
- (C) Rede de Atenção à Saúde.
- (D) Serviços Especiais de Acesso Aberto.

CONHECIMENTOS ESPECÍFICOS

47

Homem, 57 anos, hipertenso e tabagista, é admitido em pronto-socorro no interior do Mato Grosso com queixa de dor torácica típica há 2 horas. Realizado eletrocardiograma que exibiu supradesnivelamento de segmento ST em V1 a V4. O serviço com hemodinâmica mais próximo está a quatro horas de distância, optando-se por trombólise química com alteplase.

Em relação à prescrição de segundo antiagregante, assinale a afirmativa correta.

- (A) Não deve ser realizado, uma vez que paciente será submetido a trombólise química, o que aumenta substancialmente seu risco de sangramento.
- (B) Deve-se prescrever clopidogrel 75mg.
- (C) Deve-se prescrever clopidogrel 300mg.
- (D) Deve-se prescrever clopidogrel 600mg.

48

Mulher, 29 anos, previamente hígida, dá entrada em unidade de terapia intensiva com o diagnóstico de tromboembolismo pulmonar. À admissão na UTI, paciente em regular estado geral, Glasgow 15, taquipneica com FR 32ipm, apresentando necessidade de oxigenioterapia suplementar via catéter nasal de baixo fluxo a 3L/min e exibindo saturação de oxigênio de 93% (em ar ambiente saturava 83%). Ademais, exhibe FC 118bpm e PA de 116x66mmHg, sem drogas vasoativas. Vem ainda com os seguintes exames complementares:

- I. Eletrocardiograma com taquicardia sinusal;
- II. Ecocardiograma transtorácico com presença de sinal de McConnell e efeito de Bernheim reverso;
- III. Troponina quantitativa com elevação em 4x o valor de referência;
- IV. Gasometria arterial com PaO₂ 70mmHg (coletada no suporte de oxigênio atual), sem distúrbio ácido-base.

Segundo o consenso europeu, tal paciente é considerada de risco

- (A) alto.
- (B) intermediário-alto.
- (C) intermediário-baixo.
- (D) baixo.

49

Assinale a opção que indica a medicação que **não** está indicada em caso de choque refratário (pacientes com doses superiores a 0,5mcg/kg/min de noradrenalina) secundário exclusivamente a vasoplegia pós circulação extracorpórea, em contexto de pós-operatório de cirurgia cardíaca.

- (A) Dobutamina.
- (B) Hidrocortisona.
- (C) Vasopressina.
- (D) Azul de Metileno.

50

Assinale a opção que indica a droga cuja prescrição **não** é, em qualquer circunstância, recomendada durante situação de parada cardiorrespiratória em adultos, segundo a mais recente atualização do ACLS, em 2020.

- (A) Epinefrina.
- (B) Vasopressina.
- (C) Amiodarona.
- (D) Lidocaína.

51

O catéter nasal de alto fluxo é uma ferramenta interessante e cujo uso, no contexto de suporte ventilatório ao paciente com insuficiência respiratória aguda em UTI, vem aumentando.

Entre os parâmetros a seguir, assinale aquele que **não** é ajustado diretamente à sua utilização.

- (A) Temperatura do gás ofertado.
- (B) Fluxo de gás ofertado.
- (C) Fração inspirada de oxigênio ofertada.
- (D) PEEP (pressão expiratória final positiva) ofertada.

52

Sobre a síndrome do desconforto respiratório agudo (SDRA ou ARDS), analise as seguintes afirmativas.

- I. Segundo o protocolo do estudo ARMA (2000), tolerava-se hipercapnia permissiva com pH até 7,15 visando à ventilação mecânica ultraprotetora com até 4mL/kg de volume corrente, especialmente nas primeiras horas após intubação desses pacientes.
- II. O estudo PROSEVA (2013) demonstrou evidentes benefícios de mortalidade nos pacientes com SDRA/ARDS e relação P/F menor que 150 e que eram submetidos à posição prona, finalmente referendando a adoção de tal prática nas unidades de terapia intensiva ao redor do mundo.
- III. O estudo ROSE (2019), ao contrário do estudo ACURASYS (2010), não demonstrou benefício do uso de bloqueador neuromuscular somado a sedação profunda, em comparação a apenas sedação leve nos pacientes com SDRA/ARDS moderada a grave, questionando o uso do cisatracúrio de forma indiscriminada para esses pacientes.

Está correto o que se afirma em

- (A) I e II, apenas.
- (B) I e III, apenas.
- (C) II e III, apenas.
- (D) I, II e III.

53

Mulher de 50 anos está internada em UTI com quadro de Covid-19 grave há 10 dias. Intubada e sob ventilação mecânica há 5 dias, evoluindo com redução dos parâmetros ventilatórios. Apresentou de forma súbita desconforto respiratório e dessaturação, levando a que os alarmes do ventilador disparassem. Ao exame clínico exhibe saturação de O₂ de 70%, FR 44ipm, FC 140bpm e PA 144x94mmHg, com expansibilidade pulmonar reduzida à direita e presença de roncocalausculta.

Os parâmetros ventilatórios, em PCV, são os seguintes no momento da intercorrência: PEEP 6cmH₂O, deltaP 12cmH₂O, VC (inspirado e expirado) de 80mL, FiO₂ 100%. Realizada ainda manobra de pausa inspiratória, com pressão de plateau de 9cmH₂O. Ademais, realizou-se ultrassom pulmonar com os seguintes achados: i) deslizamento pleural duvidoso à direita; e ii) linhas B bilaterais em ambas as regiões anteriores.

Assinale a opção que apresenta a hipótese diagnóstica mais provável.

- (A) Pneumotórax.
- (B) Obstrução da prótese orotraqueal.
- (C) Embolia pulmonar.
- (D) Falha do ventilador.

Atenção! O caso clínico a seguir refere-se às duas próximas questões.

Paciente homem, 41 anos, 65kg, sem antecedentes relevantes, transferido a UTI de hospital em Cuiabá proveniente de uma UPA no interior do estado de Mato Grosso com o diagnóstico de choque séptico de foco cutâneo, após trauma fechado (bolada) na perna direita há dois dias.

À admissão na UTI, paciente encontra-se em regular estado geral, FR 28ipm e SatO₂ 97% em ar ambiente, apresentando FC 130bpm e PAM 65mmHg às custas de noradrenalina 0,2mcg/kg/min via acesso venoso central. Vem ainda com sonda vesical de demora, com débito urinário de 600mL nas últimas 8h. Exames neurológico e abdominal sem alterações. Queixa-se de dor muito importante no membro acometido, mantida após 2mg de morfina e 2g de dipirona, infundidas na ambulância. Exibe lesão arroxeadada mal delimitada na perna direita de cerca de 7cm, porém não há presença de gás ou crepitação à palpação.

Coletou ainda os seguintes exames laboratoriais: Hb 10,9, leucócitos 26.500, plaquetas 80.000, PCR 199mg/L, bilirrubinas totais 0,3mg/dL, creatinina 1,8mg/dL, ureia 90mg/dL, sódio 133mEq/L, potássio 5,1mEq/L, glicose 188mg/dL, gasometria arterial com pH 7,25, pO₂ 90mmHg, pCO₂ 30mmHg, HCO₃ 15mEq/L, BE -7, SatO₂ 97%, lactato 6mmol/L.

Recebeu na UPA, além da analgesia e da droga vasoativa, ringer lactato 2L, ceftriaxona 2g e clindamicina 600mg. À admissão, realizado ecocardiograma à beira-leito com ventrículo esquerdo hiperdinâmico e colabamento inspiratório maior que 50% da veia cava inferior.

54

O escore de SOFA (*Sequential Organ Failure Assessment*) desse paciente, no momento da admissão na UTI, é:

- (A) 6.
- (B) 7.
- (C) 8.
- (D) 9.

55

Para esse paciente, indique a conduta mais importante nesse momento.

- (A) Acionar equipe cirúrgica para debridamento de emergência.
- (B) Iniciar hidrocortisona em dose de estresse.
- (C) Expansão volêmica com solução bicarbonatada.
- (D) Trocar clindamicina por vancomicina.

Atenção! O texto a seguir refere-se às duas próximas questões.

A meningite bacteriana é uma infecção potencialmente letal e que geralmente demanda internação em UTI. Na década de 2000, estudo publicado no NEJM mostrou os benefícios da dexametasona em altas doses para o tratamento dessa doença, quando causada por certas bactérias.

Mais recentemente, certos agentes etiológicos dessa condição vêm cursando com aumento de resistência à ceftriaxona, justificando o acréscimo de vancomicina ao esquema antimicrobiano empírico para essa doença.

56

Considere um paciente com suspeita de meningite bacteriana cujo líquido coletado exibe, em seu exame bacterioscópico, a presença de diplococos gram-negativos.

Caso, anteriormente à coleta do exame, tenham sido prescritas empiricamente dexametasona, ceftriaxona e vancomicina, após tal informação, deve-se

- (A) manter as três medicações.
- (B) suspender apenas a vancomicina.
- (C) suspender apenas a dexametasona.
- (D) suspender a vancomicina e a dexametasona.

57

Para esse paciente, deve-se estabelecer leito com

- (A) precaução padrão.
- (B) isolamento de contato.
- (C) isolamento respiratório para gotículas.
- (D) isolamento respiratório para aerossóis.

58

Recentemente, as infecções de corrente sanguínea pelo gênero *Candida* têm aumentado, gerando grande morbimortalidade nas UTIs brasileiras.

Sobre as infecções de corrente sanguínea relacionadas a cateter de curta permanência por esse fungo, assinale a afirmativa **incorreta**.

- (A) Caso não haja infecção metastática, o tempo de tratamento preconizado com antifúngico é por 14 dias após a primeira cultura negativa.
- (B) Pacientes com hemoculturas persistentemente positivas para *Candida*, e com ecocardiograma transtorácico sem sinais de endocardite, devem realizar ecocardiograma transesofágico.
- (C) É possível tentar salvar o cateter com lockterapia com equinocandinas, uma vez o doente estável e estando descartado o diagnóstico de endocardite.
- (D) O tratamento das endocardites por *Candida* envolve, além da prescrição de antifúngicos por longos períodos, abordagem por equipe de cirurgia cardíaca.

59

Sobre a *colite pseudomembranosa*, analise as afirmativas a seguir.

- I. O agente etiológico é o *C. difficile* – caso haja sua identificação, o paciente deve ser transferido para leito com isolamento para contato e os funcionários da UTI devem ser orientados a higienizar suas mãos com álcool gel antes e após qualquer contato com o paciente ou com suas vizinhanças.
- II. Nos quadros graves, em que o paciente não pode ingerir medicações por via oral, devido ao aumento da resistência ao metronidazol, o tratamento com vancomicina por via intravenosa deve ser imediatamente instituído.
- III. As toxinas A e B dessas bactérias podem ser pesquisadas, porém tal exame exibe baixa sensibilidade e, caso haja alta probabilidade pré-teste dessa infecção, o tratamento deve ser iniciado, mesmo que a primeira amostra tenha resultado negativo

Está correto o que se afirma em

- (A) I e II, apenas.
- (B) I, apenas.
- (C) II, apenas.
- (D) III, apenas.

60

Pacientes com neutropenia febril de alto risco devem ser internados com prescrição de antibiótico de largo espectro.

Assinale a opção que indica o antimicrobiano cuja prescrição, em monoterapia, é **inadequada**.

- (A) Ertapenem.
- (B) Meropenem.
- (C) Cefepima.
- (D) Piperacilina-Tazobactam.

61

A ceftazidima-avibactam é um antibiótico de lançamento recente, e que tem sido utilizado para o tratamento de algumas infecções nosocomiais em UTI, causadas por germes multirresistentes.

Assinale a alternativa que indica a bactéria com seu respectivo mecanismo de resistência para a qual a prescrição desse antimicrobiano seria **inefetiva**.

- (A) *Acinetobacter baumannii* MDR, resistente a carbapenêmico.
- (B) *Klebsiella pneumoniae* produtora de serinobetalactamase do tipo KPC-1.
- (C) *Klebsiella pneumoniae* produtora de ESBL.
- (D) *Proteus mirabilis* produtor de AMPc cromossomal.

Atenção! O caso clínico a seguir refere-se às cinco próximas questões.

Paciente de 19 anos, do sexo masculino, com relato de colisão bicicleta x ônibus, com traumatismo cranioencefálico exclusivo, com Glasgow 3 na cena e necessidade de intubação orotraqueal. Deu entrada na sala de trauma, onde foi estabilizado e então submetido a tomografia de corpo inteiro. Houve diversas alterações apenas na tomografia de crânio – restante do exame de imagem normal. Em seguida, levado ao centro cirúrgico, onde foi submetido a passagem de dispositivo de monitorização de pressão intracraniana (PIC) intraventricular. Após tal procedimento, foi transferido à UTI. Dá entrada em mau estado geral, Glasgow 3T, RASS -5 e com pupilas isomióticas, em uso de propofol 250mg/h, fentanil 25mcg/h, intubado sob ventilação mecânica em parâmetros baixos e sem drogas vasoativas.

62

Analise a tomografia de crânio a seguir.

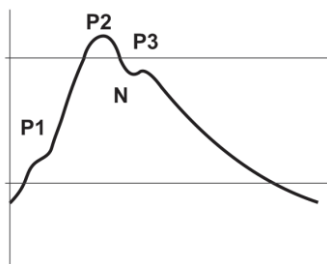


A partir da análise da imagem acima, é correto afirmar que o *escore de Marshall* vale:

- (A) 1.
- (B) 2.
- (C) 3.
- (D) 4.

63

Durante o plantão noturno subsequente à admissão na UTI, você é chamado pelo enfermeiro do paciente em questão, pois ele visualizou o seguinte traçado no monitor de PIC, que exhibe o valor de 16mmHg:



Sobre o caso, assinale a afirmativa correta.

- (A) Como o valor de PIC é menor que 22mmHg, indicar observação clínica e manter sedação.
- (B) A curva em questão é patológica e indica perda da complacência cerebral – ainda que o valor da PIC esteja menor que 22mmHg, é necessário otimizar medidas para hipertensão intracraniana.
- (C) A curva em questão é patológica e indica hipertensão arterial sistêmica – deve-se prescrever nitroprussiato imediatamente.
- (D) Houve melhora importante da complacência cerebral, podendo-se proceder ao desmame de sedação.

64

No segundo dia de internação na UTI, o paciente evolui com piora neurológica. Mantém sedação para RASS-5 e atualmente exhibe valor de PIC de 40mmHg, além de anisocoria. Repetida tomografia, que foi avaliada pela equipe de neurocirurgia e que informou que não há conduta cirúrgica.

As opções a seguir apresentam medidas plausíveis para o controle da pressão intracraniana desse paciente, à exceção de uma. Assinale-a.

- (A) Prescrição de salina hipertônica.
- (B) Coma barbitúrico com tiopental.
- (C) Dexametasona em altas doses.
- (D) Indução de hipotermia através de métodos físicos.

65

No terceiro dia de internação na UTI, o paciente evoluiu com suspeita de morte encefálica (ME). Desligada a sedação, foi aquecido e corrigidos demais distúrbios. Aberto protocolo de ME, obtendo-se duas provas clínicas e prova de apneia positivas para tal diagnóstico.

Assinale a alternativa que indica o exame complementar que foi realizado e que confirmou o diagnóstico de ME.

- (A) *Doppler* transcraniano com presença de diástole reversa em grandes vasos.
- (B) Eletroencefalograma com achado de surto-supressão.
- (C) Eletroencefalograma indicando estado de mal epiléptico.
- (D) Ressonância magnética de crânio com piora importante do edema cerebral em comparação com a tomografia realizada à admissão.

66

Após a confirmação da ME, a família do paciente em questão foi convocada.

Em relação à eventual doação de órgãos, assinale a afirmativa correta.

- (A) Caso o paciente apresente o carimbo de “doador de órgãos” em seu documento de identificação, não é necessária a autorização dos familiares para esse procedimento.
- (B) Caso a família opte pela não doação, deve-se proceder à retirada de suporte. O horário do óbito será o momento da conclusão da última prova de ME (seja clínica ou exame complementar) e não o momento em que os aparelhos de suporte forem desligados.
- (C) A família não tem o direito de optar pela retirada parcial de órgãos, devendo acatar ou não pela retirada de todos eles a critério do centro transplantador.
- (D) Caso a família opte pela doação, o médico assistente deverá emitir a declaração de óbito e, em seguida, deve-se encaminhar o doador ao centro cirúrgico para captação.

67

Paciente em uso de sedação em UTI apresenta o seguinte exame neurológico: *ao chamado verbal, abre os olhos e mantém contato visual com o examinador por menos de 10 segundos – em seguida, volta a adormecer.*

Assinale a opção que indica a classificação de RASS (*Richmond Agitation-Sedation Scale*) desse doente.

- (A) -1.
- (B) -2.
- (C) -3.
- (D) -4.

68

Assinale a opção que indica o bloqueador neuromuscular que não deve ser utilizado em infusão contínua.

- (A) Suxametônio.
- (B) Rocurônio.
- (C) Cisatracúrio.
- (D) Atracúrio.

69

Mulher de 38 anos é internada em enfermaria com o diagnóstico de pancreatite aguda de etiologia biliar. No segundo dia de internação, apresenta piora clínica, com necessidade de iniciar aporte de oxigênio suplementar, hipotensão não responsiva a expansão volêmica e piora da função renal, sendo então encaminhada a unidade de terapia intensiva, onde foi monitorizada e iniciada noradrenalina após passagem de acesso venoso central.

Assinale a opção que indica o esquema antimicrobiano mais adequado nesse momento.

- (A) Não há indicação de iniciar antibióticos.
- (B) Ceftriaxona e metronidazol.
- (C) Ciprofloxacino e metronidazol.
- (D) Meropenem.

70

Considere as seguintes situações clínicas:

- I. Paciente com intoxicação grave por metformina.
- II. Paciente com politraumatismo após choque elétrico e queda de 10 metros, com insuficiência renal aguda KDIGO 3 secundária a rabdomiólise, Glasgow 6 na cena e com tomografia de crânio com edema cerebral difuso.
- III. Paciente com desidratação grave, anúrico, com valores de ureia de 350mg/dL e de sódio de 165mEq/L.

Deve-se optar pela modalidade contínua de diálise em detrimento da modalidade intermitente nos pacientes de número

- (A) I e II, apenas.
- (B) I e III, apenas.
- (C) II e III, apenas.
- (D) I, II e III.

71

Assinale a opção que indica uma característica marcante da *diálise contínua* em UTI, quando comparada com a *diálise intermitente*.

- (A) Cursa com mais instabilidade hemodinâmica.
- (B) Cursa com *clearance* mais veloz de ureia.
- (C) Cursa com mais hipotermia.
- (D) Dispensa a anticoagulação do circuito.

72

Paciente de 57 anos, do sexo masculino, ex-tabagista e ex-etilista, com o diagnóstico de carcinoma espinocelular de boca metastático, aguardando início de tratamento oncológico modificador de doença. É internado em UTI por conta de rebaixamento de nível de consciência há cerca de três dias. Familiares que trouxeram o doente relatam ainda que ele não evacua há dez dias.

Para o tratamento da condição que motivou a internação em unidade de terapia intensiva, as opções a seguir estão corretas, **à exceção de uma**. Assinale-a.

- (A) Pamidronato.
- (B) Ácido zoledrônico.
- (C) Soro fisiológico.
- (D) Hidroclorotiazida.

73

Pacientes admitidos em UTI com o diagnóstico de insuficiência hepática aguda fulminante podem necessitar de transplante hepático de emergência. Existem critérios que auxiliam a equipe médica nessa tomada de decisão. Um deles é o de Clichy, de fácil aplicação.

Assinale o exame complementar que deve ser solicitado para a aplicação desse critério nesses pacientes.

- (A) Bilirrubina total e frações.
- (B) Amônia arterial.
- (C) Fator V.
- (D) Tempo de protrombina.

Atenção! O caso clínico a seguir refere-se às duas próximas questões.

Paciente do sexo masculino, de 25 anos, é admitido na sala de trauma trazido pelo corpo de bombeiros após ser baleado em briga de trânsito há cerca de 30 minutos. Apresenta dois ferimentos por arma de fogo na região superior do abdome, que exibem sangramento vultoso.

À chegada, encontra-se em mau estado geral, agitado, Glasgow 14, FR 34ipm, SatO₂ 98% em ar ambiente, FC 144bpm, PA 54x28mmHg (recebe um litro de Ringer Lactato aquecido em acesso venoso periférico calibroso), com dor importante à palpação abdominal, sem outras alterações de exame clínico. Coletada gasometria arterial à admissão com os seguintes achados: pH 7,21, pO₂ 100mmHg, pCO₂ 22mmHg, HCO₃ 10mEq/L, BE-12, SatO₂ 98%, lactato 8mmol/L e Hb 9,3g/dL.

74

Assinale a opção que indica a conduta mais adequada neste momento.

- (A) Otimizar expansão volêmica, visto que paciente exibe hemoglobina em gasometria maior que 7g/dL.
- (B) Iniciar noradrenalina para PAM > 65 imediatamente.
- (C) Indicar uma unidade de concentrado de hemácias na urgência, visando a Hb > 10g/dL.
- (D) Abrir protocolo de transfusão maciça.

75

O paciente em questão foi levado para o centro cirúrgico, submetido a laparotomia exploradora, em que se identificou a presença de laceração esplênica grave causada pelos projéteis, sendo realizada esplenectomia. Procedimento sem intercorrências e paciente foi transferido à UTI após estabilização. Cerca de seis horas após a admissão, o paciente apresenta sangramento moderado através da ferida operatória, sem qualquer instabilidade hemodinâmica. Realizados os seguintes exames: Hb 9,5g/dL, plaquetas 177.000, INR 1,1, TTPA-R 1,1, fibrinogênio 202mg/dL, sem outras alterações. Equipe cirúrgica avaliou e disse que a hemostasia foi adequada, descartando reabordagem de urgência. Não há tromboelastografia disponível na unidade.

Assinale a opção que indica a conduta mais adequada neste momento.

- (A) Uma unidade de concentrado de hemácias.
- (B) Plasma fresco congelado.
- (C) Crioprecipitado.
- (D) Ácido tranexâmico.

76

Em pacientes com neoplasias sólidas metastáticas incuráveis e em programa de cuidados paliativos o escore PPI (*Palliative Prognostic Index*) consegue dar uma noção da sobrevida a curto prazo e do prognóstico desses doentes. Um desses critérios é a utilização do PPS (*Palliative Performance Scale*).

Assinale a opção que indica os demais critérios utilizados por esse escore.

- (A) Ingesta oral, dispneia em repouso, *delirium* e edema.
- (B) Ingesta oral, controle algíco, *delirium* e perda ponderal.
- (C) Dispneia em repouso, *delirium* e perda ponderal.
- (D) Controle algíco, dispneia em repouso e edema.

Atenção! O caso clínico a seguir refere-se às três próximas questões.

Paciente de 77 anos do sexo feminino, portadora de neoplasia colorretal metastática, com progressão de doença para fígado, pulmão e peritônio, mesmo após duas linhas de quimioterapia paliativa, evoluindo com perda importante de funcionalidade nas últimas semanas. Nega outras comorbidades e só faz uso de dipirona sob demanda em casa, sem utilização de outras medicações.

Após discussão multidisciplinar e com familiares, decidiu-se por instituição de cuidados paliativos exclusivos. Paciente interna no hospital com queixa de náuseas e vômitos incoercíveis, distensão abdominal e parada de eliminação de flatos e de fezes há 8 dias.

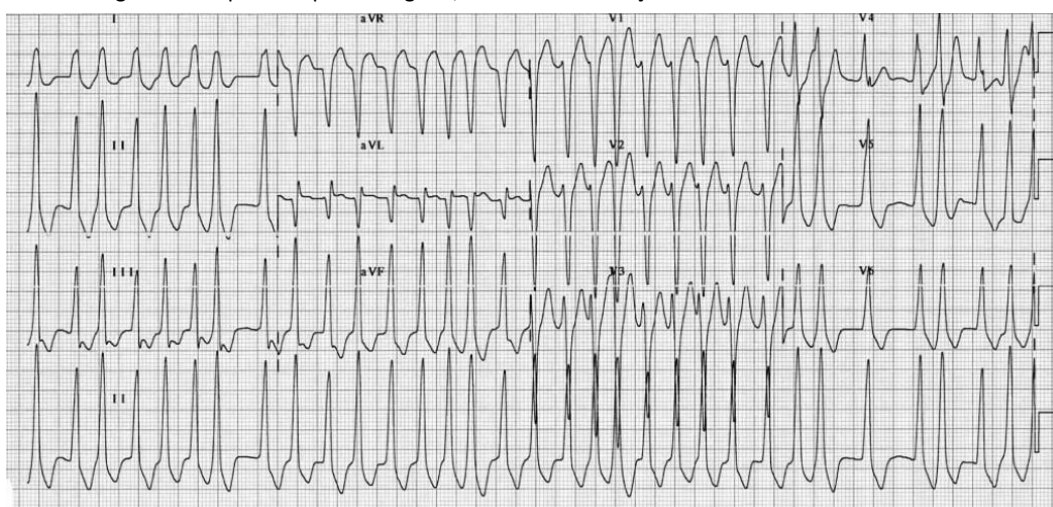
77

Assinale a opção que indica o antiemético mais apropriado para essa situação.

- (A) Dimenidrinato.
- (B) Haloperidol.
- (C) Bromoprida.
- (D) Metoclopramida.

80

Paciente de 25 anos, do sexo masculino, sem antecedentes conhecidos, dá entrada em pronto-socorro com queixa de palpitações. Nega dor torácica, dispneia ou sensação de desmaio. Ao exame físico, apresenta-se em bom estado geral, Glasgow 15, FR 20ipm, SatO₂ 95% em ar ambiente, PA 120x70mmHg e FC 200bpm com pulso irregular, sem outras alterações ao exame clínico. Realizado eletrocardiograma:



Descrição: eletrocardiograma com ritmo irregular, sem presença de onda P, com QRS alargado e morfologia de BRE

Assinale a conduta mais adequada, neste momento.

- (A) Manobra vagal.
- (B) Adenosina.
- (C) Metoprolol.
- (D) Procainamida.

78

A paciente em questão evolui com piora clínica, apresentando sinais de estar em processo ativo de morte nas últimas 24h. Exibe piora de controle dos sintomas, com vômitos incoercíveis mesmo com otimização de antieméticos e passagem de sonda nasogástrica, além de dor abdominal refratária a doses crescentes de morfina.

Assinale a conduta mais apropriada nesse contexto.

- (A) Trocar morfina por fentanil.
- (B) Indicar canabidiol.
- (C) Iniciar midazolam em bomba de infusão contínua.
- (D) Intubação orotraqueal com sedação para RASS -5 e transferência à UTI para otimização das medidas de conforto.

79

Paciente segue em processo ativo de morte. Contudo, após otimização de medidas de conforto houve bom controle dos sintomas. No momento, apresenta PA 70x30mmHg e sinais de má perfusão periférica, além de manter distensão abdominal e exibir certo grau de anasarca.

Irmão da paciente pergunta qual será sua conduta em relação ao aporte calórico da paciente, visto que ela está há mais de uma semana sem se alimentar adequadamente.

Nesse caso, você

- (A) prescreverá formulação de nutrição parenteral por acesso periférico em baixa vazão.
- (B) retirará a sonda nasogástrica e passará sonda nasoenteral para início de dieta enteral no menor fluxo tolerado pela paciente.
- (C) iniciará soro glicosado 10% a 20mL/h para conforto da paciente e dos familiares, uma vez que a paciente já exibe certo grau de anasarca.
- (D) manterá a paciente sem aporte calórico, embasando sua decisão em prover o máximo de conforto à paciente.

Realização

