



CONCURSO PÚBLICO  
EDITAL Nº 02, DE 30 DE OUTUBRO DE 2023

**CÂMARA MUNICIPAL DE SÃO PAULO**

## PROVA OBJETIVA – MANHÃ

### CONSULTOR TÉCNICO LEGISLATIVO **GINECOLOGIA**

NÍVEL SUPERIOR TIPO 1 – BRANCA



#### SUA PROVA

- Além deste caderno contendo **100 (cem)** questões objetivas, você receberá do fiscal de prova o cartão de respostas;
- As questões objetivas têm **5 (cinco)** opções de resposta (A, B, C, D e E) e somente uma delas está correta.



#### TEMPO

- Você dispõe de **5 (cinco) horas** para a realização da prova, já incluído o tempo para a marcação do cartão de respostas;
- **2 (duas) horas** após o início da prova, é possível retirar-se da sala, sem levar o caderno de questões;
- A partir dos **30 (trinta) minutos** anteriores ao término da prova é possível retirar-se da sala **levando o caderno de questões**.



#### NÃO SERÁ PERMITIDO

- Qualquer tipo de comunicação entre os candidatos durante a aplicação da prova;
- Anotar informações relativas às respostas em qualquer outro meio que não seja o caderno de questões;
- Levantar da cadeira sem autorização do fiscal de sala;
- Usar o sanitário ao término da prova, após deixar a sala.



#### INFORMAÇÕES GERAIS

- Verifique se seu caderno de questões está completo, sem repetição de questões ou falhas. Caso contrário, **notifique imediatamente o fiscal da sala**, para que sejam tomadas as devidas providências;
- Confira seus dados pessoais, especialmente nome, número de inscrição e documento de identidade e leia atentamente as instruções para preencher o cartão de respostas;
- Para o preenchimento do cartão de respostas, use somente caneta esferográfica, fabricada em material transparente, com tinta preta ou azul;
- Assine seu nome apenas no(s) espaço(s) reservado(s) no cartão de respostas;
- Confira seu cargo, cor e tipo do caderno de questões. Caso tenha recebido caderno de cargo ou cor ou tipo **diferente** do impresso em seu cartão de respostas, o fiscal deve ser **obrigatoriamente** informado para o devido registro na ata da sala;
- Reserve tempo suficiente para o preenchimento do seu cartão de respostas. O preenchimento é de sua responsabilidade e **não será permitida a troca do cartão de respostas em caso de erro cometido pelo candidato**;
- Para fins de avaliação, serão levadas em consideração apenas as marcações realizadas no cartão de respostas;
- A FGV coletará as impressões digitais dos candidatos na lista de presença;
- Os candidatos serão submetidos ao sistema de detecção de metais quando do ingresso e da saída de sanitários durante a realização das provas.
- **Boa sorte!**



## Língua Portuguesa

1

Em todas as frases abaixo havia uma repetição de termos, que foi evitada pela substituição do segundo termo. Assinale a opção em que essa substituição não acrescentou nenhuma informação nova ao termo anterior.

- (A) Eu já vi esse filme e não tenho vontade de rever esse dramalhão.
- (B) Sofia convidou o Marcelo. Ela espera que seu amigo goste da comida.
- (C) Eu fui ver uma casa para alugar, mas eu não me vejo morando naquele cubículo.
- (D) Rosa me apresentou seu primo, mas não tenho nenhuma vontade de rever esse rapaz pretensioso.
- (E) Bernardo apresentou a namorada a seus pais, mas a menina deu a impressão de ser muito tímida.

2

Entre os raciocínios a seguir, assinale aquele que se inclui entre os indutivos.

- (A) Ser aprovado em um curso e gostar do que estuda são coisas que vão juntas. Meu irmão não passou em Biologia, ou seja, ele não gostava dessa disciplina.
- (B) Estive em um cassino em Las Vegas e fui a uma máquina em que você pode ganhar um milhão, apostando três dólares. Meti os três dólares na máquina, pedi a Deus que ganhasse, puxei a manivela e não ganhei nada. Portanto Deus não existe.
- (C) Muitas cidades interioranas procuram aumentar sua renda por meio de festas em finais de semana, que chegam a atrair muitos turistas. Na semana passada, uma dessas cidades programou-se para uma movimentada festividade, mas um temporal fortíssimo acabou com os sonhos da Prefeitura. Conclusão: nem tudo que reluz é ouro.
- (D) Os sorteios da Loteria Federal já realizaram sonhos e muita gente, mas também produzem tragédias, como a do pobre sujeito que, após ficar rico, foi assassinado a mando da esposa.
- (E) As obras de Machado de Assis, sobretudo as da fase realista, produzem muita admiração nos leitores por sua organização; *o Dom Casmurro* não é diferente.

3

Observe o texto abaixo:

“A felicidade depende da destreza que tenhamos naquelas atividades que consideramos importantes para nós: somente se damos um real valor aos pequenos detalhes cotidianos, podemos ter instantes felizes. A felicidade absoluta não existe, e já que só podemos ter acesso aos pequenos detalhes daquilo que nos interessa, devemos contentar-nos também com esses breves momentos felizes. Por isso, a infelicidade é um claro sinal de nossa incompetência na arte de viver.”

Sobre esse pequeno texto, assinale a afirmativa que está em **desacordo** com a sua estrutura ou sua significação.

- (A) O tema do texto é a discussão sobre o que viria a ser a felicidade e o que seria oposto a ela.
- (B) A estrutura básica do texto é a argumentativa, já que o enunciador defende um posicionamento sobre o tema.
- (C) O argumento básico do texto se fundamenta nas próprias opiniões do argumentador.
- (D) A tese presente no texto é a de que a infelicidade é fruto de nossa incompetência na arte de viver.
- (E) O método empregado na construção do raciocínio nesse texto é o indutivo, já que parte dos detalhes para o todo.

4

“Nos países da Europa oriental, a queda dos regimes comunistas esteve associada à emergência de amplos movimentos sociais que lutavam por mudanças definitivas no sistema econômico como por preocupação com a vigência de direitos cidadãos.”

Entre as afirmações abaixo, assinale aquela que é defendida clara ou implicitamente pelo autor desse fragmento textual.

- (A) Os regimes comunistas nos países da Europa oriental perderam valor em face de movimentos sociais opostos.
- (B) A queda dos regimes comunistas na Europa oriental trouxe implicações na área política e econômica.
- (C) O regime comunista não mostrava a vigência dos direitos cidadãos como uma de suas prioridades.
- (D) As sociedades da Europa oriental começaram a mover-se política e socialmente a partir da queda dos regimes comunistas.
- (E) As tentativas de mudança socialmente procuradas, tanto no âmbito econômico como no social acabaram por modificar a estrutura política da Europa oriental.

5

Um texto é um conjunto de frases organizado de modo a apresentar-se coerente e estruturado. A coerência do texto repousa, entre outros, sobre um princípio de continuidade, que é assegurada pela retomada de informações, ou seja, retomar os elementos já expressos no texto.

Observe o texto a seguir:

“Antônio caminhava em direção ao mar. Essa vasta extensão azul o fascinava há longo tempo. Ela o acalmava, pacificava, o atraía. Lá, ele se sentia sempre convidado.”

Assinale a afirmação **inadequada** sobre os elementos de coerência desse pequeno texto.

- (A) O termo “mar” é retomado pelo grupo nominal “essa vasta extensão azul”.
- (B) O termo “Antônio” é retomado em três ocorrências do pronome oblíquo “o”.
- (C) O termo Antônio também reaparece no emprego do pronome pessoal “Ele” e do pronome reflexivo “se”.
- (D) O pronome “Ela” retoma o termo “mar”, presente na frase inicial do texto.
- (E) O advérbio “Lá” retoma a ideia de “mar”, citado anteriormente.

6

Observe o seguinte texto narrativo:

“Seguia caminhando lado da menina, mas sua mente estava ocupada com o problema da ponte, que agora lhe aparecia com toda a clareza e precisão, como quando a lente da câmera está bem focada...”

Assinale a afirmação abaixo, a respeito do gênero narrativo a que pertence esse fragmento textual, que mostra **erro**.

- (A) Na narrativa histórica predomina a função referencial da linguagem.
- (B) O narrador possui diversos graus de restrição na informação que possui.
- (C) Na narrativa não pode estar presente o diálogo, que é próprio do gênero teatral.
- (D) A narrativa pode misturar ficção e realidade.
- (E) Um relato inclui ações e acontecimentos em ordem cronológica.

7

“A mãe de Pedrinho fumou enquanto estava grávida e por isso ele é uma criança fraca e de baixo peso.”

Assinale a opção que aponta o tipo de argumento lógico racional que foi utilizado neste fragmento textual.

- (A) Argumento com base na autoridade científica.
- (B) Raciocínio com base na experiência profissional.
- (C) Pensamento que relaciona causa e consequência.
- (D) Afirmação fundamentada no bom-senso geral.
- (E) Argumentação apoiada na generalização.

8

Todos os segmentos abaixo se inserem entre os textos explicativos; assinale aquele que apela para o processo explicativo da analogia.

- (A) O processo de aterrissagem é tal qual o pouso de um pássaro, mas com mais peso.
- (B) A forma das asas de um avião é semelhante à das asas de um pássaro.
- (C) Em outras palavras, o desenho das asas obedece à necessidade de deslocamento mais rápido no espaço.
- (D) Vejamos, por exemplo, o pouso de um grande pássaro, como um gavião ou uma águia.
- (E) O aerodinamismo é a marca de formas concebidas para oferecer um mínimo de resistência ao ar.

9

Observe o seguinte texto explicativo:

“As coisas de que o corpo precisa são facilmente obtidas por todos sem trabalho ou dificuldade; as coisas que exigem labor e são difíceis de obter e oneram a vida são desejadas, não pelo corpo, mas por um estado ruim da mente.”

Abaixo estão várias marcas linguística desse tipo de texto (explicativo); assinale a que está em desacordo com o exemplo dado acima.

- (A) Reduzida quantidade de verbos de imaginação.
- (B) Pouca presença de palavras que expressam sentimento.
- (C) Ausência total de pronomes pessoais.
- (D) Construção sem a presença do enunciador.
- (E) Preferência por linguagem clara e precisa.

10

Entre os fragmentos textuais abaixo, assinale o que pertence a um modo de organização discursiva (descrição, narração, argumentação, exposição e injunção) diferente dos demais.

- (A) Numa decisão rápida, segurou-se a uma saliência do rochedo deixando a vaga passar sobre ele.
- (B) O vão da caverna que era iluminado pela tocha era ainda mais amplo do que o imaginara. Sua cúpula imensa era alta, coberta es estalactites.
- (C) A estátua de Atena estava de pé, com a deusa vestindo uma túnica que descia até os pés, e sobre seu peito estava esculpida uma cabeça da Medusa de marfim.
- (D) Eu nunca vi tanta graça unida a tanta gravidade. Sua roupa a tornava muito elegante e fazia que parecesse frágil. Um manto marrom que ele trazia ao entrar estava jogado sobre as costas.
- (E) O computador era dos antigos, com um grande teclado cujas letras estavam dispostas à moda inglesa e com pouca luminosidade na tela pequena.

11

Assinale a frase que não apresenta uma oposição semântica entre dois termos (antônimos).

- (A) Todos julgam segundo a aparência, ninguém segundo a essência.
- (B) Os ignorantes julgam a interioridade a partir da exterioridade.
- (C) Nas grandes coisas, os homens se mostram como lhes convém se mostrar; nas pequenas, mostram-se como são.
- (D) Os homens mascaram seu demônio com o anjo mais belo que conseguem encontrar.
- (E) Pelas roupas rasgadas mostram-se os vícios menores: as vestes de cerimônia e as peles escondem todos eles.

**12**

Muitas formas de superlativo de adjetivos se utilizam de radicais latinos, daí que mostrem diferenças em relação ao radical do adjetivo atual. Assinale o superlativo abaixo que utiliza o radical atual do adjetivo.

- (A) Todas as coisas que hoje se creem antiquíssimas já foram novas.
- (B) Nessa época todos os morros da região estavam com seus cimos congeladíssimos.
- (C) Hoje em dia, notam-se pessoas paupérrimas andando pelas ruas de bairros chiques.
- (D) Por causa da doença, o senador voltou ao Congresso magérrimo, com as feições abatidas.
- (E) Com as demolições, todo o chão estava coberto de escombros, aspérrimo e muito sujo.

**13**

Assinale a frase a seguir que mostra a preposição PARA no valor semântico de "finalidade".

- (A) A natureza é apenas um nome para um efeito cuja causa é Deus.
- (B) Há boas razões para proteger a Terra: ela prolonga a lucratividade.
- (C) Para a pedra atirada, cair não é um mal, nem subir um bem.
- (D) O melhor exercício para um gato é outro gato.
- (E) Os galhos são raízes que se estendem para o alto do ar.

**14**

Assinale a frase em que as palavras repetidas pertencem a classes diferentes.

- (A) Um tolo ensinado é mais tolu do que um tolu ignorante.
- (B) Eu não sou teimosu; um teimosu é aquele que teima comigo.
- (C) Não discuta com um bobu, pois se torna tão bobu quanto ele.
- (D) O seu cão será sempre um cão, não importa a coleira.
- (E) Um grande professor será sempre um grande homem.

**15**

Assinale a frase que está integralmente expressa com palavras em sentido lógico (não figurado).

- (A) Em mar calmo, todo homem é bom piloto.
- (B) Hoje não existem mais malandros, somente bandidos.
- (C) Escritores são aqueles cujas almas falam nas bibliotecas.
- (D) Taquígrafo é a pessoa que aposta corrida com as palavras.
- (E) Diplomata é um indivíduo cuja cor preferida é o arco-íris.

**16**

Assinale a frase abaixo que exemplifica uma definição do termo "felicidade".

- (A) Felicidade é um agora sem nenhuma pressa.
- (B) Felicidade é um modo de viajar, não um destino.
- (C) Felicidade é um fluxo de caixa positivo.
- (D) Felicidade é como uma flor que não se deve colher.
- (E) Felicidade é a qualidade de quem é feliz.

**17**

Abaixo aparecem cinco definições de um termo que é identificado ao final, entre parênteses; assinale a opção em que o termo indicado **não** está de acordo com a definição dada.

- (A) bolinho feito com carne picada ou moída, miolo de pão, ovos e diferentes temperos, e que, depois de frito, é servido geralmente com molho. (almôndega).
- (B) fato, ação, gesto ou palavra que intimida ou atemoriza. (processo).
- (C) preparação em pasta sólida e untuosa, em geral colorida, enformada num pequeno bastão para ser usado como cosmético nos lábios. (batom).
- (D) regime alimentar, especialmente o prescrito pelo médico a um doente ou a um convalescente. (dieta).
- (E) espaço fechado onde se eleva artificialmente a temperatura do ar, destinado a abrigar plantas e flores, cujo cultivo depende de calor. (estufa).

**18**

Abaixo aparecem frases em que os termos destacados mostram uma relação lógica entre eles; essa mesma relação é repetida em outra frase a seguir. Assinale a opção em que a primeira relação é repetida de forma conveniente na segunda.

- (A) Grávida está para ginecologista como tuberculoso está para oncologista.
- (B) Unha está para manicure como automóvel está para garagista.
- (C) Edifício está para portaria como livro está para prólogo.
- (D) Pé está para sola como mão está para dedo.
- (E) Tato está para pele como olfato está para língua.

**19**

Em cada item abaixo há um conjunto de três palavras, seguido de um hiperônimo, ou seja, uma palavra que abrange todas as anteriormente citadas. Assinale a opção em que o hiperônimo indicado é **inadequado**.

- (A) livro – estátua – quadro / obra.
- (B) engenheiro – químico – enfermeiro / profissão.
- (C) rua – praça – avenida / logradouro.
- (D) estudantada – enxame – rebanho / conjunto.
- (E) conto – romance – novela / estilo.

**20**

Todas as frases abaixo mostram o emprego de uma vírgula. Assinale a frase em que esse emprego está corretamente justificado.

- (A) Bahia, 22 de abril de 1500 / separar ou isolar o vocativo.
- (B) Os pessimistas, devemos deixá-los de lado / indicar a supressão de verbo já enunciado.
- (C) Em toda revolução, há as pessoas que a fazem e as que se aproveitam dela / separar ou isolar o adjunto adverbial deslocado.
- (D) Só existem três coisas que param no ar: beija-flor, helicóptero e Dadá Maravilha / isolar expressões de valores diversos.
- (E) O São Paulo não precisa de um psicólogo, mas sim de um psiquiatra / isolar o aposto.

21

Abaixo estão cinco frases com latinismos empregados na língua portuguesa; assinale a opção em que o latinismo tem seu significado indicado corretamente.

- (A) "...e se tal era o intuito, força é confessar que a publicidade tornava-se uma condição *sine qua non*. Em suma, poderia dever algumas atenções, mas não devia um real a ninguém." / sem exceção.
- (B) "Ali o recebem ruidosamente os companheiros. Conta-lhes a façanha. Contam-lhe outras idênticas; e trocam-se as impressões heroicas numa adjetivação *ad hoc*, que vai num crescendo do destalado ríspido ao temer o pronunciado num trêmulo enrouquecido e longo." / inadequada.
- (C) "...; as rezas dirigidas a S. Campeiro, canonizado *in partibus*, ao qual se acendem velas pelos campos;" / em vários lugares.
- (D) "Intercorrem ainda paragens menos estéreis, e nos trechos em que se operou a decomposição *in situ* do granito, originando algumas manchas argilosas, as copas virentes dos ouricurizeiros circuitam — parênteses breves abertos na aridez geral — as bordas das ipueiras." / em pequenas partes.
- (E) "Entre rapazes não deve haver cerimônias, mal-entendidos; somos colegas, temos de ser amigos, por conseguinte tratemo-nos desde já por "tu"! Não és da mesma opinião, ó Paiva? - *In totum!* respondeu este, abraçando Amâncio pela cintura." / Totalmente.

22

As preposições podem ser gramaticais – se exigidas pela regência de algum termo anterior – ou nocionais, quando não são obrigatórias e mostram um significado. Assinale a frase abaixo em que a preposição A tem valor nocional.

- (A) Os feirantes vendiam bananas a \$10 a dúzia.
- (B) Os que governam são obrigados a conhecer pelo menos gramática.
- (C) Um conservador é um homem com duas excelentes pernas que, contudo, nunca aprendeu a andar para a frente.
- (D) O futuro a Deus pertence e quando a gente é ministro pertence também ao presidente.
- (E) A punição que os bons sofrem, quando se recusam a tomar parte no governo, é viver sob o governo dos maus.

23

Em todas as frases abaixo ocorre a repetição de termos idênticos; para evitá-la, foram utilizados meios diferentes. Assinale a opção em que a forma de substituição do segundo termo repetido está corretamente identificada.

- (A) Uma vez na caverna, o gato começa a procurar o rato de que lhe havia falado a raposa. O gato levanta as caixas, que caem fazendo um grande barulho. / substituição pelo pronome relativo "que".
- (B) O proprietário entra imediatamente na caverna com uma vara na mão. O gato de esconde para poder escapar do proprietário. / substituição pelo pronome pessoal "dele".
- (C) O gato encontrou, no entanto, um local escuro e se escondeu no lugar escuro. / substituição pelo advérbio "onde".
- (D) O proprietário acende uma tocha e se aproxima do esconderijo do gato. O gato mostrou todas as suas unhas e fugiu. / substituição pelo pronome demonstrativo "aquele".
- (E) O gato compreendeu que a raposa lhe fizera uma cilada. Ele fará a raposa pagar por essa cilada. / substituição por pronome pessoal "lhe".

24

A antítese é uma figura de linguagem em que se opõem, numa mesma frase, palavras ou pensamentos de sentido contrário.

Segundo essa definição, há uma antítese na seguinte frase:

- (A) A política é a arte de trair os interesses reais e legítimos e de criar, em lugar deles, interesses imaginários e injustos.
- (B) É verdade que existem idiotas no Congresso, mas eles constituem boa parte da população e merecem estar bem representados.
- (C) O coração de um homem de Estado deve estar na sua cabeça.
- (D) O problema do Brasil é um sistema político permissivo que manipula um sistema administrativo ultrapassado.
- (E) ) A guerra é feita no momento em que se quer e é terminada quando se pode.

25

Assinale a frase em que se emprega corretamente o acento grave indicativo da crase.

- (A) Sempre se escreve à história erradamente. Por isso precisa ser reescrita sem cessar.
- (B) A história é um cavalo que galopa atravessando à janela, e você deve decidir se saltará para montá-lo ou não.
- (C) O momento que estamos vivendo pertence igualmente à todos, mas o que passou não é mais nosso.
- (D) Viver a aventura é encontrar o caminho de volta ao silêncio e à quietude de mil anos atrás.
- (E) Tempo não é dinheiro. Mas à alguns o dinheiro rouba o tempo e a outros o tempo rouba o dinheiro.

26

Os adjetivos podem representar estados, qualidades, características e relações; assinale a frase que mostra um tipo de adjetivo diferente dos demais.

- (A) Em questão de árvores genealógicas, é mais seguro andar pelos ramos que se aprofundar nas raízes.
- (B) O problema com as crianças é que elas não são retornáveis.
- (C) Até a criança completar um ano ela é incapaz de pecar.
- (D) Eu tive uma grande vantagem que meus filhos não tiveram: eu nasci pobre.
- (E) Afinal, o que é Deus? Uma eterna criança brincando eternamente no jardim eterno.

27

Em todas as frases abaixo há um termo sublinhado, composto da preposição DE + substantivo; assinale a frase em que esse termo **não** pode ser substituído adequadamente por um adjetivo.

- (A) Nada chegará ao fundo da risada de uma criança. / infantil.
- (B) O suco de garrafa parece menos gostoso. / engarrafado.
- (C) O teclado do computador é logicamente organizado. / computacional.
- (D) Os solos do deserto são áridos. / desérticos.
- (E) As vestes do bispo são elegantes. / episcopais.

28

Assinale a frase em que o adjetivo sublinhado mostra uma função sintática diferente das demais.

- (A) O melhor acessório de uma mulher é um homem bem-vestido.  
 (B) Em assuntos de grande importância, o estilo, e não a sinceridade, é a questão vital.  
 (C) É impossível ser ridículo dentro de um Mercedes.  
 (D) Os tempos mudaram. O príncipe encantado também está procurando seu príncipe encantado.  
 (E) Muitos dizem, conforme sua afirmação, que eu sou uma velha raposa.

29

Entre as palavras abaixo, assinale aquela em que os dois vocábulos devem flexionar-se.

- (A) Testemunha-chave.  
 (B) Fila-monstro.  
 (C) Estrutura-padrão.  
 (D) Funcionário-responsável.  
 (E) Livro-caixa.

30

Assinale a frase abaixo em que a concordância da forma de participio sublinhada mostra erro.

- (A) Fica confirmado perante o tribunal a autoria da carta.  
 (B) Merecem ser admiradas, apesar de tudo, as obras de Wagner.  
 (C) Os autores sabem que esse direito não lhes é assegurado.  
 (D) Tem sido demonstrado tais filmes serem falsos.  
 (E) Nos é permitido ter acesso a esses documentos.

## Raciocínio Lógico e Matemático

31

Rubinho percorreu uma certa distância em 2 horas, com velocidade constante.

Se percorrer a mesma distância aumentando a velocidade em 100%, é correto concluir que

- (A) o tempo aumentará 100%.  
 (B) o tempo diminuirá 100%.  
 (C) o tempo diminuirá 50%.  
 (D) o tempo diminuirá 25%.  
 (E) o tempo diminuirá 20%.

32

Na Black Friday, Laura comprou um vestido com 25% de desconto e pagou R\$ 168,00.

Sem o desconto, o preço do vestido era

- (A) R\$ 250,00.  
 (B) R\$ 248,00.  
 (C) R\$ 224,00.  
 (D) R\$ 210,00.  
 (E) R\$ 200,00.

33

Sabe-se que a sentença “Se faz sol e o mar está calmo, então vou remar” é FALSA.

Nesse caso, é correto concluir que

- (A) Não faz sol ou o mar não está calmo.  
 (B) Faz sol e o mar não está calmo.  
 (C) Não faz sol e o mar está calmo.  
 (D) Vou remar ou não faz sol.  
 (E) Não vou remar e o mar está calmo.

34

Sabe-se que os conjuntos  $A = \{1, 3, 5, x, 8\}$  e  $B = \{2, 3, y, 7, 8\}$  têm, cada um, 5 elementos. Sabe-se, também, que a interseção de  $A$  e  $B$  tem 4 elementos.

A soma dos elementos da união de  $A$  e  $B$  é

- (A) 26.  
 (B) 27.  
 (C) 28.  
 (D) 29.  
 (E) 30.

35

Considere uma sequência de pontos do plano cartesiano tal que para cada ponto  $(x, y)$  da sequência, o próximo ponto é obtido de acordo com a seguinte regra:

- Se  $x$  é ímpar, então o próximo ponto será  $(x + 3, y - 1)$ ;
- Se  $x$  é par, então o próximo ponto será  $(\frac{x}{2}, 2y)$ .

Começando com o ponto  $(2024, 0)$ , a soma das coordenadas do 10º ponto da sequência é

- (A) 24.  
 (B) 12.  
 (C) 0.  
 (D) -12.  
 (E) -24.

36

Considere a seguinte amostra de 7 números inteiros positivos:

3, 3, 6, 3, x, 5, 11.

Sabe-se que a média dessa amostra também é um número inteiro.

Sendo  $S$  a soma da moda, da mediana e da média dessa amostra, o menor valor possível de  $S$  é

- (A) 11.  
 (B) 12.  
 (C) 13.  
 (D) 14.  
 (E) 15.

37

Neuza escreveu duas vezes, em uma folha de papel, um mesmo número inteiro. Marcelo, a seguir, escreveu três vezes um outro número inteiro, na mesma folha de papel. A soma dos 5 números escritos é 120 e um dos números é 22.

A soma dos algarismos do outro número é

- (A) 6.  
 (B) 7.  
 (C) 8.  
 (D) 9.  
 (E) 10.

38

Ana, Beto, Carla, Danilo e Elisa participaram de uma corrida com outros 5 participantes. Ana chegou 4 posições atrás de Carla. Carla chegou uma posição à frente de Beto. Danilo chegou 4 posições atrás de Elisa e Elisa chegou 2 posições atrás de Beto.

Ana chegou na 6ª posição.

Nesse caso, é correto afirmar que

- (A) Ana chegou atrás de Danilo.
- (B) Beto chegou na 2ª posição.
- (C) Carla chegou na 1ª posição.
- (D) Danilo chegou na 9ª posição.
- (E) Elisa chegou na 7ª posição.

39

Uma sequência de 2024 números inteiros maiores do que zero é tal que um dos números ocorre exatamente 13 vezes e qualquer outro número dessa sequência ocorre menos vezes do que ele.

A menor quantidade possível de números inteiros diferentes nessa sequência é

- (A) 169.
- (B) 168.
- (C) 167.
- (D) 166.
- (E) 165.

40

Uma moeda é tal que a probabilidade de sair “cara” é  $\frac{1}{4}$ .

Essa moeda é lançada 4 vezes consecutivas.

A probabilidade de que saiam mais “caras” do que “coroas” é igual a

- (A)  $\frac{1}{4}$ .
- (B)  $\frac{1}{256}$ .
- (C)  $\frac{3}{64}$ .
- (D)  $\frac{3}{256}$ .
- (E)  $\frac{13}{256}$ .

41

O inteiro positivo N é o menor número tal que dividido por 13 deixa resto 12 e dividido por 11 deixa resto 10.

A soma dos algarismos de N é

- (A) 6.
- (B) 7.
- (C) 8.
- (D) 9.
- (E) 10.

42

Utilizando apenas pesos de 200g e de 350g, o número mínimo de pesos que devem ser reunidos para que se obtenha exatamente 4kg é

- (A) 12.
- (B) 14.
- (C) 16.
- (D) 18.
- (E) 20.

43

Considere a afirmação referente aos candidatos de um concurso: “Todo candidato possui curso superior ou 5 anos de experiência”.

A negação lógica dessa sentença é:

- (A) Todo candidato não possui curso superior ou não possui 5 anos de experiência.
- (B) Todo candidato não possui curso superior e não possui 5 anos de experiência.
- (C) Há candidato que não possui curso superior ou não possui 5 anos de experiência.
- (D) Há candidato que possui curso superior, mas não possui 5 anos de experiência.
- (E) Há candidato que não possui curso superior e não possui 5 anos de experiência.

44

Um estacionamento possui uma fila de 100 vagas, uma ao lado da outra, numeradas de 1 a 100. Em certo momento várias vagas estão ocupadas e João chega para estacionar seu carro.

João diz ao atendente:

– *Gostaria de uma vaga que não tivesse carro estacionado ao lado.*

O atendente verifica o mapa do estacionamento e diz:


– *Impossível atendê-lo. No momento, qualquer vaga vazia terá, pelo menos, um carro já estacionado ao lado.*

No mínimo, o número de vagas do estacionamento já ocupadas é

- (A) 33.
- (B) 34.
- (C) 40.
- (D) 49.
- (E) 50.

45

Na cidade suíça de Solothurn cada dia é dividido em 22 horas e cada hora é dividida em 60 minutos. Nessa cidade, a metade de um dia possui 11 horas como mostra o relógio abaixo.



As unidades hora e minuto da cidade de Solothurn são abreviadas por hS e mS, respectivamente.

Hans mora nessa cidade e, certo dia, entrou na empresa em que trabalha às 9 hS 40 mS e saiu da empresa às 16 hS 27 mS.

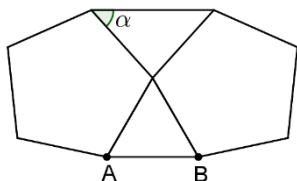
O tempo, medido nas unidades de tempo adotadas em nosso país, que Hans permaneceu na empresa foi de:

- (A) 6 horas e 47 minutos.
- (B) 6 horas e 56 minutos.
- (C) 7 horas e 07 minutos.
- (D) 7 horas e 16 minutos.
- (E) 7 horas e 24 minutos.



46

A figura abaixo mostra um triângulo equilátero de lado AB com dois pentágonos regulares colados.



O ângulo  $\alpha$  assinalado na figura mede:

- (A)  $42^\circ$ .
- (B)  $45^\circ$ .
- (C)  $48^\circ$ .
- (D)  $52^\circ$ .
- (E)  $56^\circ$ .

47

Gabriel, Hugo e Ledo são atletas e disputam uma série de corridas. Em cada corrida, o vencedor ganha 4 pontos, quem chega em segundo lugar ganha 2 pontos e quem chega em terceiro ganha 1 ponto. Após a terceira corrida, Gabriel acumulou um total de N pontos.

O número de valores diferentes possíveis para N é:

- (A) 6.
- (B) 7.
- (C) 8.
- (D) 9.
- (E) 10.

48

Em um grupo de 40 jovens, 20 vestem camisetas brancas, 22 vestem bermudas pretas e 12 não vestem nenhuma dessas peças descritas.

Sorteando ao acaso um desses jovens, a probabilidade de que ele esteja com camiseta branca e bermuda preta é igual a

- (A) 25%.
- (B) 30%.
- (C) 35%.
- (D) 40%.
- (E) 45%.

49

Na prateleira de uma cozinha há três potes: A, B e C. Um deles contém arroz, outro contém feijão e outro contém farinha.

Das afirmativas seguintes, somente uma é verdadeira:

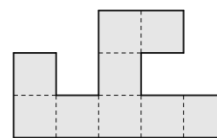
- A contém farinha.
- B não contém feijão.
- C não contém farinha.

Nesse caso, é correto afirmar que:

- (A) o pote A contém feijão.
- (B) o pote B contém farinha.
- (C) o pote C contém feijão.
- (D) o pote A contém arroz.
- (E) o pote B não contém arroz.

50

A figura abaixo foi feita reunindo pequenos quadrados todos iguais.



O perímetro da figura é de 120cm.

A área da figura em  $\text{cm}^2$  é

- (A) 288.
- (B) 324.
- (C) 342.
- (D) 360.
- (E) 378.

## Conhecimentos Específicos

51

O câncer de mama é um importante tipo de neoplasia ginecológica, de caráter heterogêneo, que atinge milhares de mulheres a cada ano.

Considerando as últimas estimativas, segundo dados oficiais do INCA, assinale a afirmativa correta sobre o tema.

- (A) Sem considerar os tumores de pele não melanoma, o câncer de mama feminina é o mais incidente no país, com um risco estimado para o triênio 2023-2025 de 66,54 casos novos a cada 100 mil mulheres.
- (B) Sem considerar os tumores de pele não melanoma, o câncer de mama feminina é o segundo mais incidente no país, com um risco estimado para o triênio 2023-2025 de 66,54 casos novos a cada 100 mil mulheres.
- (C) Sem considerar os tumores de pele não melanoma, o câncer de mama feminina é o terceiro mais incidente no país, com um risco estimado para o triênio 2023-2025 de 66,54 casos novos a cada 100 mil mulheres.
- (D) Sem considerar os tumores de pele não melanoma, o câncer de mama feminina é o mais incidente no país, com um risco estimado para o triênio 2023-2025 de 82,54 casos novos a cada 100 mil mulheres.
- (E) Sem considerar os tumores de pele não melanoma, o câncer de mama feminina é o segundo mais incidente no país, com um risco estimado para o triênio 2023-2025 de 82,54 casos novos a cada 100 mil mulheres.

52

Em 2020, a Organização Mundial de Saúde (OMS) aprovou, na 73ª Assembleia Geral, a adoção da “Estratégia Global para Acelerar a Eliminação do Câncer do Colo do Útero como um Problema de Saúde Pública”. O valor aceitável para sua incidência será de no máximo 4 casos/100.000 mulheres. Apesar da possibilidade de prevenção, sua incidência permanece alta.

Em relação a seu risco estimado previsto para o triênio 2023-2025, segundo dados do INCA, assinale a afirmativa correta.

- (A) No Brasil, sem considerar os tumores de pele não melanoma, o câncer do colo do útero é o sexto câncer mais incidente entre as mulheres com um risco estimado de 15,38 casos a cada 100 mil mulheres.
- (B) No Brasil, sem considerar os tumores de pele não melanoma, o câncer do colo do útero é o quarto câncer mais incidente entre as mulheres com um risco estimado de 15,38 casos a cada 100 mil mulheres.
- (C) No Brasil, sem considerar os tumores de pele não melanoma, o câncer do colo do útero é o terceiro câncer mais incidente entre as mulheres com um risco estimado de 25,38 casos a cada 100 mil mulheres.
- (D) No Brasil, sem considerar os tumores de pele não melanoma, o câncer do colo do útero é o quarto câncer mais incidente entre as mulheres com um risco estimado de 25,38 casos a cada 100 mil mulheres.
- (E) No Brasil, sem considerar os tumores de pele não melanoma, o câncer do colo do útero é o terceiro câncer mais incidente entre as mulheres com um risco estimado de 15,38 casos a cada 100 mil mulheres.

53

Paciente, L.R.S., 32 anos, com quadros frequentes de ardor e prurido vulvar de ocorrência, geralmente, antes do período menstrual. Nega comorbidades. Ao exame, observam-se pequenas úlceras superficiais dolorosas confluentes em grande lábio esquerdo sugestivas de herpes genital.

O melhor tratamento para o episódio é

- (A) Aciclovir pomada 2xdia 5 dias.
- (B) Aciclovir pomada 2xdia ou Aciclovir 400mg via oral 8/8h 5 dias.
- (C) Aciclovir 400mg via oral 8/8h 5 dias.
- (D) Aciclovir 200mg via oral 8/8h 5 dias.
- (E) Aciclovir 400mg via oral 4/4h 5 dias.

54

Paciente, D.C.V., 35 anos, sem comorbidades, apresentando pápulas e placas vulvares de aspecto verrucoso indolores de surgimento recente sugestivas de condiloma genital.

Assinale a opção correta acerca do agente etiológico mais provável e das formas de prevenção primária para o caso.

- (A) HPV tipos 16 e 18 / A prevenção pode ser feita com uso de preservativos (masculino e feminino) e com a vacina para HPV.
- (B) HPV tipos 6 e 11 / A prevenção pode ser feita com uso de preservativos (masculino e feminino) e com a vacina para HPV.
- (C) HPV 11 e 18 / A prevenção pode ser feita com uso de preservativos (masculino e feminino) e evitando uso de drogas injetáveis.
- (D) HPV 6 e 18 / A prevenção pode ser feita com uso de preservativos (masculino e feminino) e não compartilhando objetos pessoais.
- (E) HPV tipos 6 e 16 / A prevenção pode ser feita com uso de preservativos (masculino e feminino) e com a vacina para HPV.

55

A incontinência urinária de esforço (IUE) é definida como uma perda urinária secundária a algum esforço físico como tossir ou pular. Apresenta grande impacto na qualidade de vida e uma prevalência variável atingindo até 50% dependendo da população estudada.

Para sua avaliação inicial, fazem-se necessários

- (A) anamnese e exame físico detalhados, exame de urina, urinocultura e estudo urodinâmico.
- (B) anamnese e exame físico detalhados e estudo urodinâmico.
- (C) anamnese e exame físico detalhados, exame de urina, urinocultura, ultrassom de vias urinárias e estudo urodinâmico.
- (D) anamnese e exame físico detalhados, exame de urina e urinocultura.
- (E) anamnese e exame físico detalhados, exame de urina, urinocultura e ultrassom de vias urinárias.

56

A infecção do trato urinário é uma das infecções bacterianas mais comuns entre as mulheres.

Avalie se as seguintes afirmativas acerca dos possíveis patógenos envolvidos estão corretas.

- I. O principal agente etiológico é a *Escherichia coli*.
- II. O principal agente etiológico é o *Staphylococcus aureus*.
- III. Outros patógenos envolvidos são *Staphylococcus saprophyticus*, *Klebsiella pneumoniae* e *Proteus mirabilis*.
- IV. Outros patógenos envolvidos são *Pseudomonas aeruginosa* e *Haemophilus ducreyi*.

Estão corretas as afirmativas

- (A) I e III, apenas.
- (B) II e IV, apenas.
- (C) I e IV, apenas.
- (D) I, II e IV, apenas.
- (E) I, III e IV, apenas.

57

Mulher, 37 anos, admitida em unidade de emergência com queixa de “sangramento vaginal há 30 dias”. Apresenta-se lúcida e orientada, hipocorada (++)/4+, hipotensa e taquicárdica. Nega comorbidades ou uso de medicamentos.

Assinale a opção que apresenta a abordagem inicial para o quadro.

- (A) Avaliar sinais vitais e estabilidade hemodinâmica. Análise hematimétrica e coagulograma. Anamnese detalhada. Exame físico geral. Exame ginecológico após cessar o sangramento. A partir dos achados, avaliar necessidade de exames de imagem ou outros exames laboratoriais.
- (B) Avaliar sinais vitais e estabilidade hemodinâmica. Análise hematimétrica. Excluir gestação. Anamnese detalhada. Exame físico, exame especular e toque vaginal. A partir dos achados, avaliar necessidade de exames de imagem ou outros exames laboratoriais.
- (C) Avaliar sinais vitais e estabilidade hemodinâmica. Análise hematimétrica, coagulograma e glicemia. Anamnese detalhada. Exame físico, exame especular e toque vaginal. A partir dos achados, avaliar necessidade de exames de imagem ou outros exames laboratoriais.
- (D) Avaliar sinais vitais e estabilidade hemodinâmica. Análise hematimétrica, glicemia e coagulograma. Anamnese detalhada. Exame físico geral. Exame ginecológico após cessar o sangramento. Solicitar ultrassom transvaginal.
- (E) Avaliar sinais vitais e estabilidade hemodinâmica. Análise hematimétrica. Excluir gestação. Anamnese detalhada. Exame físico, exame especular e toque vaginal. Solicitar histeroscopia diagnóstica.

58

A ausência de menstruação, definida como amenorreia, pode ser primária ou secundária. O diagnóstico adequado é fundamental para um tratamento assertivo.

Assinale a afirmativa correta acerca da amenorreia secundária.

- (A) A ausência de menstruação após a existência de ciclos menstruais deve ser investigada quando a menstruação não ocorrer por quatro meses ou três ciclos menstruais consecutivos.
- (B) A ausência de menstruação após o surgimento dos caracteres secundários sexuais deve ser sempre investigada a partir dos 12 anos de idade.
- (C) A ausência de menstruação após o surgimento dos caracteres secundários sexuais deve ser sempre investigada a partir dos 14 anos de idade.
- (D) A ausência de menstruação após a existência de ciclos menstruais deve ser investigada quando a menstruação não ocorrer por seis meses ou seis ciclos menstruais consecutivos.
- (E) A ausência de menstruação após a existência de ciclos menstruais deve ser investigada quando a menstruação não ocorrer por três meses ou três ciclos menstruais consecutivos.

59

A síndrome dos ovários policísticos (SOP) é a endocrinopatia mais comum de mulheres no período reprodutivo. Ela pode ser manifestar de formas variadas dependendo do fenótipo da paciente. Infertilidade e doenças cardiometabólicas são complicações que podem ocorrer na mulher madura.

De acordo com os critérios de Roterdã, a SOP pode ser diagnosticada com base nos seguintes achados:

- (A) Presença de pelo menos dois de três critérios - Hiperandrogenismo clínico e/ou laboratorial, polimenorreia e/ou USG com presença de 20 ou mais folículos com diâmetro médio de 2 a 9 mm e/ou volume ovariano total maior que ou igual a 10 cm<sup>3</sup> em um ou ambos os ovários.
- (B) Presença de pelo menos dois de quatro critérios - Hiperandrogenismo clínico, hiperandrogenismo laboratorial, oligomenorreia e/ou USG com presença de 20 ou mais folículos com diâmetro médio de 2 a 9 mm e/ou volume ovariano total maior que ou igual a 10 cm<sup>3</sup> em um ou ambos os ovários.
- (C) Presença de pelo menos dois de três critérios - Hiperandrogenismo clínico e/ou laboratorial, oligomenorreia e/ou USG com presença de 20 ou mais folículos com diâmetro médio de 2 a 9 mm e/ou volume ovariano total maior que ou igual a 10 cm<sup>3</sup> em um ou ambos os ovários.
- (D) Presença de pelo menos dois de três critérios - Hiperandrogenismo clínico e/ou laboratorial, oligomenorreia e/ou USG com presença de 10 ou mais folículos com diâmetro médio de 2 a 9 mm e/ou volume ovariano total maior que ou igual a 10 cm<sup>3</sup> em um ou ambos os ovários.
- (E) Presença de pelo menos dois de três critérios - Hiperandrogenismo clínico e/ou laboratorial, polimenorreia e/ou USG com presença de 10 ou mais folículos com diâmetro médio de 2 a 9 mm e/ou volume ovariano total maior que ou igual a 10 cm<sup>3</sup> em um ou ambos os ovários.

60

N.S.D., 52 anos, comparece à consulta ginecológica com queixa de fogachos que atrapalham sua qualidade de vida com muitos despertares noturnos. Última menstruação aos 50 anos. Nega comorbidades, tabagismo ou uso de medicações.

Considerando a recomendação atual sobre Terapia Hormonal, em relação à orientação adequada para esta paciente, assinale a afirmativa correta.

- (A) A terapia hormonal combinada está indicada neste caso e para mulheres até 60 anos ou 10 anos de menopausa.
- (B) A terapia hormonal está sempre indicada, independente dos sintomas, para mulheres saudáveis desde que prescrita a combinação de estrogênios com progestágenos para proteção endometrial.
- (C) A terapia hormonal combinada está indicada neste caso e para mulheres até 55 anos ou 5 anos de menopausa.
- (D) A terapia hormonal com estrogênio isolado está indicada neste caso e para mulheres até 60 anos ou 10 anos de menopausa.
- (E) A terapia hormonal vaginal está indicada neste caso e para mulheres até 60 anos ou 10 anos de menopausa.

61

Considerando o aumento da expectativa de vida e o desconforto causado pelos sintomas climatéricos e da pós menopausa, muitas mulheres necessitarão do uso da terapia hormonal, avalie se as contraindicações absolutas para uso da terapia hormonal incluem:

- I. Câncer de mama e endométrio.
- II. Doença hepática descompensada.
- III. Doença de Graves e porfiria.
- IV. Doença coronariana e câncer de colo uterino.

São de fato contraindicações os itens

- (A) III e IV.
- (B) II e III.
- (C) I e IV.
- (D) II e IV.
- (E) I e II.

62

N.S.O, 51 anos, menopausa há 3 anos, tabagista, G1 PN1 A0, com colpocitologias prévias negativas e apresentando resultado colpocitológico atual com o seguinte laudo: "*Células escamosas atípicas de significado indeterminado, quando não se pode excluir lesão intraepitelial de alto grau*".

A conduta mais adequada para este caso, segundo as recomendações das Diretrizes Brasileiras para Rastreamento do Câncer de Colo Uterino de 2016, é

- (A) encaminhar para colposcopia.
- (B) encaminhar para colposcopia e histeroscopia para avaliação endometrial.
- (C) orientar repetir citologia em 6 meses com preparo estrogênico.
- (D) orientar repetir citologia em 12 meses com preparo estrogênico.
- (E) encaminhar para excisão da zona de transformação/conização do colo uterino.

63

O desejo reprodutivo mais tardio das mulheres e o envelhecimento da população têm levado a uma maior procura pelos serviços de reprodução humana. As causas de infertilidade podem ser femininas, masculinas ou indeterminadas.

A propedêutica inicial indicada para o casal infértil é:

- (A) Anamnese detalhada, exame ginecológico minucioso. Níveis basais de FSH, glicemia, ultrassom transvaginal, histerossalpingografia e espermograma.
- (B) Anamnese detalhada, exame físico geral e ginecológico minucioso. Níveis basais de FSH, LH, ultrassom transvaginal, histerossalpingografia, histeroscopia e espermograma.
- (C) Anamnese detalhada, exame físico geral e ginecológico minucioso. Níveis basais de FSH, LH, ultrassom transvaginal, histerossalpingografia e espermograma.
- (D) Anamnese detalhada, exame ginecológico minucioso. Níveis basais de FSH, glicemia, ultrassom transvaginal, histerossalpingografia, histeroscopia e espermograma.
- (E) Anamnese detalhada, exame físico geral e ginecológico minucioso. Níveis basais de FSH, LH, ultrassom transvaginal, histerossalpingografia, ressonância magnética e espermograma.

64

A miomatose uterina é um achado comum entre mulheres, especialmente acima dos 35 anos, e causa frequente de sangramento uterino anormal e hipermenorreia.

Os seguintes tratamentos para controle de sangramento são indicados com essa finalidade, à exceção de um. Assinale-o.

- (A) Anti-inflamatórios não hormonais.
- (B) Antifibrinolíticos.
- (C) Anticoncepcionais orais.
- (D) Progestágenos isolados orais.
- (E) Citrato de clomifeno.

65

C.S.S, 20 anos, comparece à consulta ginecológica com queixa de dismenorreia com piora no último ano e dispareunia profunda. Refere relações sexuais desprotegidas com 2 parceiros no último ano. Ciclos menstruais regulares. Menarca aos 13 anos. Sexarca aos 14 anos. Nega comorbidades. No exame físico, não se observa nenhuma alteração relevante. Exame ultrassonográfico transvaginal observa cisto anexial esquerdo de aspecto funcional.

O diagnóstico mais provável para o quadro é (são)

- (A) doença inflamatória pélvica.
- (B) endometriose.
- (C) endocervicite por clamídia.
- (D) aderências pélvicas.
- (E) vulvodínia.

66

Meninas com amenorreia primária devem ser sempre investigadas quanto à possibilidade de malformações genitais. Em relação à Síndrome de Mayer-Rokitansky-Kuster-Hauser (MRKH), avalie se as afirmativas a seguir são falsas (F) ou verdadeiras (V).

- ( ) É oriunda de uma agenesia mülleriana.
- ( ) Há ausência do corpo uterino. Colo, vagina e genitália externa normais.
- ( ) Há ausência do útero e parte superior da vagina. Genitália externa normal.
- ( ) É oriunda de uma insensibilidade androgênica completa. Genitália externa feminina normal.

As afirmativas são, respectivamente,

- (A) V – V – F – F.
- (B) F – V – F – V.
- (C) V – F – F – F.
- (D) V – F – V – F.
- (E) F – F – V – V.

67

O correto funcionamento e o estado anatômico funcional são primordiais para o desempenho normal das estruturas pélvicas e atos de micção e defecação. Lesões podem ocorrer em trabalho de parto e pelo processo de envelhecimento.

Entre as estruturas do assoalho pélvico, o diafragma urogenital é composto por

- (A) músculos levantadores do ânus e coccígeo.
- (B) músculos levantadores do ânus e coccígeo, transverso profundo do períneo e transverso superficial do períneo.
- (C) ligamentos pubouretral e pubovesical, músculos transverso profundo do períneo e transverso superficial do períneo.
- (D) ligamentos pubouretral e pubovesical, músculos levantadores do ânus e coccígeo.
- (E) músculos transverso profundo do períneo e transverso superficial do períneo.

68

P.S.M. 25 anos, admitida na emergência com quadro de dor aguda em região anexial esquerda associada a náuseas e vômitos. Encontrava-se em investigação ambulatorial para “massa” anexial.

Considerando o diagnóstico provável de torção anexial, assinale a opção que apresenta o exame de imagem inicial que pode ser solicitado para complementação da investigação e quais são seus achados característicos.

- (A) Ultrassom transvaginal. Achados comuns incluem imagem de cisto complexo com vegetações no interior e aumento unilateral do ovário.
- (B) Ultrassom transvaginal. Achados comuns incluem uma massa ovariana, aumento unilateral do ovário, fluido livre em fundo de saco posterior e estruturas císticas periféricas uniformes.
- (C) Tomografia computadorizada. Achados de espessamento das tubas e endometrial, ascite e aumento do volume ovariano esquerdo.
- (D) Ressonância magnética. Achados de espessamento das tubas e endometrial, ascite e aumento do volume ovariano bilateral, mais à esquerda.
- (E) Ressonância magnética. Achados de espessamento das tubas e endometrial, ascite e aumento do volume ovariano esquerdo.

69

A incidência da neoplasia intraepitelial vulvar (NIV) vem aumentando significativamente nas últimas décadas e quase triplicou no grupo de pacientes com idade inferior a 35 anos. Ela apresenta duas vias diferentes para seu surgimento.

Em relação ao surgimento da NIV, as seguintes afirmativas estão corretas, **à exceção de uma**. Assinale-a.

- (A) Ocorre em pacientes mais jovens, entre 35 e 55 anos, com fatores de riscos semelhantes àqueles associados com a neoplasia intraepitelial cervical HPV induzidas como o tabagismo.
- (B) Ocorre em pacientes mais velhas, acima de 55 anos, com história de líquen escleroso.
- (C) Ocorre em pacientes mais jovens, entre 35 e 55 anos, com fatores de riscos semelhantes àqueles associados com a neoplasia intraepitelial cervical HPV induzidas como múltiplas parcerias.
- (D) Ocorre em pacientes mais velhas, acima de 55 anos, com história de líquen simples crônico.
- (E) Ocorre em pacientes mais velhas, acima de 55 anos, com história de líquen plano.

70

Os problemas sexuais em mulheres têm sido uma queixa cada vez mais frequente nos consultórios médicos e estão frequentemente associados à piora na qualidade de vida. Assinale a opção que melhor define o desejo sexual hipotativo.

- (A) É a persistente ou recorrente deficiência ou ausência de fantasias sexuais/pensamentos, e/ou desejo ou receptividade para a atividade sexual, que cause angústia pessoal, sendo a presença de “sofrimento” a condição básica para caracterizar disfunção sexual.
- (B) É a incapacidade persistente ou recorrente de adquirir ou manter resposta excitatória adequada (lubrificação, turgescência) até a consumação da atividade sexual.
- (C) É a demora persistente ou recorrente ou a incapacidade de atingir o orgasmo após uma fase de excitação sexual normal, resultando em angústia e/ou dificuldade interpessoal.
- (D) É a dificuldade persistente e recorrente em permitir a penetração do pênis, do dedo ou de um objeto na vagina, apesar de a mulher expressar desejo de fazê-lo.
- (E) É a dor recorrente ou persistente na tentativa de penetração ou durante a penetração vaginal completa, e/ou durante a relação sexual pênis-vagina.

71

Os casos de morte materna são, em sua maioria, evitáveis e são mais frequentes em países em desenvolvimento. A mortalidade materna reflete as condições sociais e econômicas de uma determinada população.

De acordo com o Código Internacional de Doenças, a morte materna é definida como o óbito de uma mulher

- (A) na gestação, no parto ou 40 dias após o parto, devido a qualquer causa relacionada ou agravada pelo período, excluindo causas acidentais ou incidentais.
- (B) na gestação, no parto ou 90 dias após o parto, devido a qualquer causa relacionada ou agravada pelo período, excluindo causas acidentais ou incidentais.
- (C) na gestação, no parto ou 42 dias após o parto, devido a qualquer causa relacionada ou agravada pelo período, incluindo causas acidentais ou incidentais.
- (D) na gestação, no parto ou 42 dias após o parto, devido a qualquer causa relacionada ou agravada pelo período, excluindo causas acidentais ou incidentais.
- (E) na gestação, no parto ou 40 dias após o parto, devido a qualquer causa relacionada ou agravada pelo período, incluindo causas acidentais ou incidentais.

72

Sobre os eventos relacionados à embriogênese, marque V para as afirmativas verdadeiras e F para as falsas.

- ( ) Na presença de dois cromossomos X e na ausência de um cromossomo Y, os ovários se desenvolvem.
- ( ) Na presença de dois cromossomos X e na ausência de um cromossomo Y, os ductos mesonéfricos ou ductos de Wolff regredem.
- ( ) Na presença de dois cromossomos X e na ausência de um cromossomo Y, os ductos mesonéfricos ou ductos de Wolff se desenvolvem.
- ( ) Há estreita relação entre os sistemas genital e urinário, e ambos se desenvolvem a partir do mesoderme intermediário.

As afirmativas são, respectivamente,

- (A) V – V – F – V.
- (B) V – F – V – V.
- (C) V – V – F – F.
- (D) V – F – V – F.
- (E) F – V – F – V.

73

L.M.F, 23 anos, G1 P0, 40 semanas e 3 dias, sem comorbidades, encontra-se em trabalho de parto há 10 horas. Foi indicada cesariana por desproporção cefalo-pélvica. Cesariana sem intercorrências. Recém-nascido pesando 3250g, Apgar 9/10. Após 10 dias do parto, a paciente retorna com queixa de corrimento amarelo sanguinolento com odor ruim, colo aberto, mamas túrgidas lactantes. Tax 38,1°C.

O diagnóstico mais provável para o caso é

- (A) mastite puerperal.
- (B) pielonefrite.
- (C) endometrite puerperal.
- (D) doença inflamatória pélvica.
- (E) retenção de restos ovulares.

74

A doença trofoblástica gestacional (DTG) é uma entidade rara e pode ser definida como uma anomalia proliferativa que acomete as células que compõem o tecido trofoblástico placentário. Ela é mais comum em mulheres acima de 35 anos.

Os seguintes sinais e sintomas são vistos habitualmente em pacientes com suspeita de DTG, **à exceção de um**. Assinale-o.

- (A) Náuseas e vômitos.
- (B) Sinais de pré-eclâmpsia antes da 20ª semana de gestação.
- (C) Cistos tecaluteínicos.
- (D) Útero aumentado de volume para a idade gestacional.
- (E) Hipotireoidismo.

75

O descolamento prematuro de placenta (DPP) representa uma causa importante de morbimortalidades materna e perinatal. Avalie se os fatores de risco para DPP incluem:

- I. Conização prévia, oligodramnia.
- II. Idade materna > 35 anos, paridade ≥ 3, tabagismo.
- III. Placenta prévia, endometriose.
- IV. Síndromes hipertensivas, trombofilias.

Estão corretos apenas os itens

- (A) I, II e IV.
- (B) II e IV.
- (C) III e IV.
- (D) I e III.
- (E) II, III e IV.

76

A hiperêmese gravídica (HG) é umas das principais intercorrências da gravidez e uma importante causa de hospitalização. Outras condições clínicas podem se confundir com HG, configurando um diagnóstico de exclusão.

Assinale a opção que **não** apresenta um possível diagnóstico diferencial.

- (A) Gastroenterite e pancreatite.
- (B) Obstrução intestinal e pielonefrite.
- (C) Torção ovariana e porfiria.
- (D) Hipotireoidismo e hepatite.
- (E) Enxaqueca e pré-eclâmpsia.

77

Gestante admitida na emergência obstétrica após ser trazida por transeuntes devido a quadro de “crise epilética” em via pública. A gestante encontra-se sonolenta e não consegue passar informações sobre sua gestação atual. Ao exame observa-se PA 170x100mmHg, fundo uterino medindo 30 cm, BCF 155bpm, ausência de contrações uterinas, colo fechado, MMII edema 2+/4+. Exames laboratoriais evidenciam LDH 800 UI/L, TGP 150, plaquetas 100.000/mm<sup>3</sup>, EAS com proteinúria +.

A seguinte conduta inicial **não** se aplica ao quadro acima:

- (A) estabilização com Sulfato de Magnésio.
- (B) monitorização materno-fetal.
- (C) parto imediato pelo risco iminente de eclâmpsia.
- (D) avaliação do bem-estar fetal.
- (E) início de anti-hipertensivos.

78

A rotura prematura de membranas ovulares (RPMO) é uma complicação obstétrica com significativo impacto na morbimortalidade perinatal.

Avalie se os fatores de risco para RPMO incluem:

- I. História prévia de RPMO e colo curto.
- II. Baixo nível socioeconômico e tabagismo.
- III. Gestação múltipla e hipotireoidismo.

Está correto o que se afirma em

- (A) I, II e III.
- (B) I e II, apenas.
- (C) I, apenas.
- (D) II e III, apenas.
- (E) III, apenas.

79

O trabalho de parto é dividido em 4 estágios que merecem monitorização e condução adequadas para a prevenção de complicações.

Assinale a opção que define corretamente o terceiro estágio e apresenta o manejo adequado para este estágio.

- (A) Dequitação. Administração de agente uterotônico não se mostrou benéfica. Tração controlada do cordão. A placenta, o cordão umbilical e as membranas fetais devem ser sistematicamente examinados. O colo do útero, a vagina e o períneo devem ser avaliados para evidenciar lesões.
- (B) Expulsão. O uso rotineiro da episiotomia é desnecessário. A aplicação de compressas mornas e de massagem perineal foram associadas à redução de lesões perineais graves.
- (C) Dequitação. Administração de agente uterotônico e tração controlada do cordão. A placenta, o cordão umbilical e as membranas fetais devem ser sistematicamente examinados. O colo do útero, a vagina e o períneo devem ser avaliados para evidenciar lesões.
- (D) Primeira hora pós parto. Os sinais vitais, incluindo a pressão arterial, frequência cardíaca e temperatura, devem ser aferidos logo após o nascimento e avaliados regularmente por, pelo menos, 24 horas.
- (E) Dequitação. Administração de agente uterotônico e tração controlada do cordão. O colo do útero, a vagina e o períneo devem ser avaliados para evidenciar lesões. Lacerações de primeiro a quarto graus devem ser suturadas independente do sangramento.

80

O diabetes é uma doença que impõe riscos para o conceito durante todo o período gestacional e neonatal. A hiperglicemia é a alteração metabólica mais comum na gestação.

Avalie, com base nas Diretrizes da Sociedade Brasileira de Diabetes, se o diabetes gestacional é diagnosticado segundo os seguintes parâmetros:

- I. Glicemia jejum 92-125mg/dL;
- II. TOTG após 24 semanas – Jejum 92-125mg/dL;
- III. TOTG após 24 semanas – Jejum 90-125mg/dL, 1h > ou = 180 mg/dL.
- IV. TOTG após 24 semanas – Jejum 92-125mg/dL, 1h > ou = 180 mg/dL ou 2h > ou = 155-199mg/dL.

Estão corretos apenas os parâmetros

- (A) I, II e IV.
- (B) II e III.
- (C) III e IV.
- (D) I e II.
- (E) II e IV.

81

J.B.V, 30 anos, Gesta 1 Para 0, com 30 semanas de gestação, tabagista, apresentando o quarto episódio de cistite confirmada por exame laboratorial.

O tratamento sugerido para o quadro urinário é:

- (A) nitrofurantoína 100mg a cada 6 horas por 5 dias seguida de 100mg um comprimido ao dia, via oral, até 36 semanas.
- (B) ciprofloxacino 500mg a cada 12 horas por 5 dias seguida de 500mg um comprimido ao dia, via oral, até 36 semanas.
- (C) cefalexina 500mg a cada 6 horas 10 dias
- (D) nitrofurantoína 100mg a cada 6 horas por 10 dias.
- (E) nitrofurantoína 100mg a cada 12 horas por 5 dias seguida de 100mg um comprimido ao dia, via oral, até 36 semanas.

82

Considerando os testes que devem ser realizados no pré-natal de acordo com o Protocolo Clínico e Diretrizes Terapêuticas do Ministério da Saúde para a prevenção da transmissão vertical de infecções e outros agravos, assinale a afirmativa **incorreta**.

- (A) HIV: na primeira consulta do pré-natal (idealmente, no primeiro trimestre da gestação), no início do terceiro trimestre e no momento do parto, independentemente de exames anteriores.
- (B) Hepatite C: na primeira consulta do pré-natal (idealmente, no primeiro trimestre da gestação).
- (C) Estreptococo do grupo B: da 35ª à 37ª semana gestacional. Realizar coleta de amostra por swab vaginal e endoanal, quando disponível.
- (D) Sífilis: na primeira consulta do pré-natal (idealmente, no primeiro trimestre da gestação), no início do terceiro trimestre (28ª semana) e no momento do parto ou aborto, independentemente de exames anteriores.
- (E) HIV: na primeira consulta do pré-natal (idealmente, no primeiro trimestre da gestação), no início do segundo e terceiro trimestres e no momento do parto, independentemente de exames anteriores.

83

D.V.B, 35 anos, G4 P3 (3 cesarianas prévias) é admitida em trabalho de parto com 8 cm de dilatação. Durante seu acompanhamento, a paciente começa a apresentar um quadro de agitação e dor em região inferior do abdome. Observa-se também a ocorrência de bradicardia fetal mantida e distensão uterina em segmento inferior.

Assinale o provável diagnóstico para o quadro acima.

- (A) Apendicite aguda.
- (B) Rotura uterina.
- (C) Desproporção cefalopélvica.
- (D) Discinesia uterina.
- (E) Pancreatite aguda.

84

O polidrâmnio é definido como um excesso na quantidade de líquido amniótico (LA) e está associado à maior morbidade e mortalidade perinatais.

Avalie se as principais complicações do polidrâmnio incluem:

- I. Dificuldade respiratória materna e rotura prematura de membranas ovulares.
- II. Prolapso de cordão e pré-eclâmpsia.
- III. Trabalho de parto prematuro e descolamento prematuro da placenta após rotura das membranas.
- IV. Hemorragias após dequitação e corioamnionite.

Estão corretos apenas os itens:

- (A) I, II e III.
- (B) I, III e IV.
- (C) II e IV.
- (D) I e III.
- (E) II e III.

85

A adoção de medidas que favoreçam o aleitamento materno (AM) impacta a promoção da saúde materno-infantil. A incorporação das dez ações da Iniciativa do Hospital Amigo da Criança, recomendadas pela Organização Mundial da Saúde, deve ser objetivo de implementação nas maternidades e hospitais que prestam assistência ao parto e ao nascimento.

Avalie se as 10 ações incluem:

- I. Informar todas as gestantes sobre as vantagens e o manejo do AM.
- II. Encorajar o AM de forma regular a cada 3h.
- III. Dar bicos artificiais a crianças amamentadas no peito cujas mães apresentam fissuras para mais rápida recuperação das mesmas.
- IV. Encorajar a formação de grupos de apoio à amamentação, para onde as mães devem ser encaminhadas logo após a alta do hospital ou ambulatório.

Estão corretas apenas:

- (A) I e IV.
- (B) I, II e IV.
- (C) II e III.
- (D) II e IV.
- (E) I, III e IV.

86

Durante a gestação, o risco de tromboembolismo venoso (TEV) aumenta de cinco a dez vezes, podendo chegar a 20 vezes no puerpério, quando comparado ao de mulheres não gestantes de mesma idade. O TEV é uma importante causa de morte em países que controlaram outras causas clássicas como a hemorragia.

Sobre o TEV na gestação, assinale a afirmativa **incorreta**.

- (A) As trombozes venosas profundas predominam no membro inferior esquerdo na gestação.
- (B) A trombose venosa profunda de membros inferiores é responsável por 75% a 80% dos episódios de TEV na gestação.
- (C) A cesariana de urgência é um fator de risco significativo.
- (D) O parto vaginal não interfere no risco de TEV.
- (E) Nas gestantes com TEV prévio, o risco de recorrência é 24,8 vezes maior.

87

As imunizações antes, durante e após a gravidez promovem não apenas a saúde materna, mas também, por meio da imunidade passiva, promovem uma gravidez e período pós-natal saudáveis. Devem fazer parte da orientação pré-concepcional.

As vacinas recomendadas às gestantes, de acordo com o Programa Nacional de Imunizações, são:

- (A) hepatite B, gripe, tétano/difteria/coqueluche, COVID-19 e sarampo.
- (B) hepatite B, gripe, tétano/difteria/coqueluche, varicela.
- (C) hepatite B, gripe, tétano/difteria/coqueluche, COVID-19 e HPV.
- (D) hepatite B, gripe, tétano/difteria/coqueluche e rubéola.
- (E) hepatite B, gripe, tétano/difteria/coqueluche, COVID-19.

86

Em países com baixo nível socioeconômico, como o Brasil, as mortes maternas, em sua maioria, estão relacionadas a intercorrências hipertensivas.

Assinale a opção que melhor define a hipertensão arterial crônica durante o período gestacional.

- (A) Pressão arterial sistólica (PAS) maior que ou igual a 150 mmHg ou pressão arterial diastólica (PAD) maior que 90 mmHg, ou ambas, aferidas em intervalos de pelo menos quatro horas e identificadas previamente à gestação; ou antes das 20 semanas de gestação; ou pela primeira vez durante a gravidez, mas que não se resolve no período pós-parto.
- (B) Pressão arterial sistólica (PAS) maior que ou igual a 150 mmHg ou pressão arterial diastólica (PAD) maior que 100 mmHg, ou ambas, aferidas em intervalos de pelo menos quatro horas e identificadas previamente à gestação; ou antes das 20 semanas de gestação; ou pela primeira vez durante a gravidez, mas que não se resolve no período pós-parto.
- (C) Pressão arterial sistólica (PAS) maior que ou igual a 140 mmHg ou pressão arterial diastólica (PAD) maior que 90 mmHg, ou ambas, aferidas em intervalos de pelo menos quatro horas e identificadas previamente à gestação; ou antes das 20 semanas de gestação; ou pela primeira vez durante a gravidez, mas que não se resolve no período pós-parto.
- (D) Pressão arterial sistólica (PAS) maior que ou igual a 140 mmHg ou pressão arterial diastólica (PAD) maior que 100 mmHg, ou ambas, aferidas em intervalos de pelo menos quatro horas e identificadas previamente à gestação; ou antes das 20 semanas de gestação; ou pela primeira vez durante a gravidez, mas que não se resolve no período pós-parto.
- (E) Pressão arterial sistólica (PAS) maior que ou igual a 160 mmHg ou pressão arterial diastólica (PAD) maior que 90 mmHg, ou ambas, aferidas em intervalos de pelo menos quatro horas e identificadas previamente à gestação; ou antes das 20 semanas de gestação; ou pela primeira vez durante a gravidez, mas que não se resolve no período pós-parto.

89

A lei nº 8.080, de 19 de setembro de 1990, dispõe sobre as condições para a promoção, proteção e recuperação da saúde, a organização e o funcionamento dos serviços correspondentes e dá outras providências.

Avalie se os objetivos do Sistema Único de Saúde (SUS) incluem:

- I. A identificação e divulgação dos fatores condicionantes e determinantes da saúde;
- II. A execução de ações de vigilância sanitária;
- III. A execução de ações de vigilância epidemiológica;
- IV. A execução de saúde bucal.

Está correto o que se afirma em:

- (A) I e IV, apenas.
- (B) I, II, III e IV.
- (C) II e III, apenas.
- (D) I, II e III, apenas.
- (E) III e IV, apenas.



90

O Sistema Único de Saúde (SUS) é um dos maiores e mais complexos sistemas de saúde pública do mundo. Com a sua criação, o SUS proporcionou o acesso universal ao sistema público de saúde, sem discriminação. A atenção integral à saúde, e não somente aos cuidados assistenciais, passou a ser um direito de todos os brasileiros, desde a gestação e por toda a vida, com foco na saúde com qualidade de vida, visando a prevenção e a promoção da saúde.

Avalie se os itens a seguir estão corretos em relação aos princípios do SUS.

- I. Universalização: a saúde é um direito de cidadania de todas as pessoas e cabe ao Estado assegurar este direito, sendo que o acesso às ações e serviços deve ser garantido a todas as pessoas, independentemente de sexo, raça, ocupação ou outras características sociais ou pessoais.
- II. Equidade: o objetivo desse princípio é diminuir desigualdades. Significa tratar sem desigualdade os desiguais, investindo de forma uniforme nas regiões.
- III. Regionalização e Hierarquização: os serviços devem ser organizados em níveis crescentes de complexidade, circunscritos a uma determinada área geográfica, planejados a partir de critérios epidemiológicos e com definição e conhecimento da população a ser atendida.
- IV. Descentralização e Comando Único: descentralizar é redistribuir poder e responsabilidade entre os três níveis de governo.

Estão corretos os itens

- (A) I e II, apenas.
- (B) III e IV, apenas.
- (C) I, II e III, apenas.
- (D) II, III e IV, apenas.
- (E) I, II, III e IV.

91

O Prefeito de São Paulo, muito preocupado em razão de a arrecadação tributária estar em patamar inferior ao esperado, determina que seus assessores apresentem soluções para sanar a dificuldade financeira vivenciada pelo ente federativo. Desta forma, são aventadas diversas possibilidades relacionadas aos impostos de competência municipal.

Nesse cenário, considerando as disposições da Lei Orgânica do Município de São Paulo, é correto afirmar que ingressa na competência da municipalidade o imposto sobre a

- (A) transmissão entre vivos, a qualquer título, por ato oneroso, de direitos reais sobre imóveis, inclusive os de garantia.
- (B) propriedade predial e territorial urbana.
- (C) doação de quaisquer bens e direitos.
- (D) propriedade territorial rural.
- (E) circulação de mercadorias.

92

João, angustiado com a desigualdade social existente na sociedade, pretende se candidatar ao cargo de Vereador do Município de São Paulo. Para tanto, o agente, que tem 20 anos de idade, passa a pesquisar a composição da Casa Legislativa e a idade mínima para exercer o cargo eletivo.

Nesse cenário, considerando as disposições da Lei Orgânica do Município de São Paulo, é correto afirmar que a Câmara Municipal é composta por

- (A) cinquenta e cinco Vereadores eleitos dentre os cidadãos maiores de vinte e um anos e no exercício dos direitos políticos, motivo pelo qual a idade de João é óbice ao seu intento.
- (B) cinquenta e cinco Vereadores eleitos dentre os cidadãos maiores de dezoito anos e no exercício dos direitos políticos, motivo pelo qual a idade de João não é óbice ao seu intento.
- (C) cinquenta Vereadores eleitos dentre os cidadãos maiores de dezoito anos e no exercício dos direitos políticos, motivo pelo qual a idade de João não é óbice ao seu intento.
- (D) sessenta Vereadores eleitos dentre os cidadãos maiores de vinte e um anos e no exercício dos direitos políticos, motivo pelo qual a idade de João é óbice ao seu intento.
- (E) cinquenta Vereadores eleitos dentre os cidadãos maiores de vinte e um anos e no exercício dos direitos políticos, motivo pelo qual a idade de João é óbice ao seu intento.

93

Após ser eleito para o cargo de Prefeito do Município de São Paulo, Tício é informado de que a Lei Orgânica da municipalidade faz referência ao Programa de Metas da gestão, que conterà, entre outras informações, ações estratégicas, indicadores e metas quantitativas para cada um dos setores da Administração Pública Municipal, Subprefeituras e Distritos da cidade.

Nesse cenário, considerando as disposições da Lei Orgânica do Município de São Paulo, é correto afirmar que

- (A) o Prefeito poderá proceder a alterações programáticas no Programa de Metas, em conformidade com a lei do Plano Diretor Estratégico e com a concordância da Câmara Municipal.
- (B) o resumo do Programa de Metas será publicado no Diário Oficial da Cidade, sendo certo que a consulta ao inteiro teor poderá ser requerida por qualquer interessado.
- (C) o Poder Executivo divulgará trimestralmente os indicadores de desempenho relativos à execução dos diversos itens do Programa de Metas.
- (D) ao final de cada ano, o Prefeito encaminhará, à Mesa da Câmara Municipal, o relatório da execução do Programa de Metas.
- (E) o Prefeito, eleito ou reeleito, apresentará o Programa de Metas de sua gestão até noventa dias após sua posse.

94

Joana, professora da rede pública de ensino do Município de São Paulo, é convidada a palestrar, em um evento privado, sobre a educação pública na municipalidade. Em assim sendo, durante a sua sustentação oral, Joana discursa sobre a temática da educação, cotejando-a com a legislação que lhe é aplicável em âmbito local.

Nesse cenário, considerando as disposições da Lei Orgânica do Município de São Paulo, é correto afirmar que

- (A) é dever do Município, através da rede própria, com a cooperação do Estado e da União, por intermédio do Ministério da Educação, o provimento em todo o território municipal de vagas, em número suficiente para atender à demanda quantitativa e qualitativa do ensino fundamental obrigatório e progressivamente à da educação infantil.
- (B) compete ao Município recensear os educandos do ensino médio, fazer-lhes a chamada e zelar, junto aos pais e responsáveis, pela frequência à escola.
- (C) o ensino fundamental, atendida a demanda, terá extensão de carga horária até se atingir a jornada de tempo integral, em caráter optativo pelos pais ou responsáveis, a ser alcançada pelo aumento progressivo da atualmente verificada na rede pública municipal.
- (D) a carga horária mínima a ser oferecida no sistema municipal de ensino é de seis horas diárias em cinco dias da semana.
- (E) a atuação do Município dará prioridade ao ensino fundamental e ao ensino médio.

95

Jonas, Vereador no âmbito do Município de São Paulo, é informado, pelo seu secretário, sobre um assunto extremamente delicado para a Casa Legislativa, assunto esse que poderá gerar reflexos na imprensa. Assim sendo, o parlamentar busca informações junto aos seus pares sobre a possibilidade de se convocar uma sessão extraordinária, fechada ao público.

Nesse cenário, considerando as disposições da Lei Orgânica do Município de São Paulo, é correto afirmar que

- (A) as sessões extraordinárias serão convocadas, na forma regimental, em sessão ou fora dela, e, neste caso, mediante comunicação pessoal e escrita aos Vereadores, pelo Presidente da Câmara, com antecedência mínima de quarenta e oito horas.
- (B) durante a sessão legislativa extraordinária, a Câmara deliberará sobre a matéria para a qual foi convocada e sobre outras temáticas urgentes, conforme dispuser a Mesa.
- (C) no período de recesso, a Câmara poderá ser extraordinariamente convocada pelo Prefeito ou pelo Presidente da Casa Legislativa.
- (D) as sessões extraordinárias e solenes não serão, em hipótese alguma, remuneradas.
- (E) as sessões da Câmara serão públicas, salvo deliberação em contrário, tomada por três quintos de seus membros, quando ocorrer motivo relevante.

96

Jonas, Vereador no âmbito do Município de São Paulo, pretende apresentar, na Câmara Municipal, proposição relacionada ao Plano Diretor do ente federativo. Com efeito, o parlamentar indaga, a seu assessor direto, qual Comissão teria competência específica para opinar sobre as proposições e matérias relacionadas àquela temática (Plano Diretor).

Nesse cenário, considerando as disposições do Regimento Interno da Câmara Municipal de São Paulo, é correto afirmar que a referida competência pertence à Comissão de

- (A) Trânsito, Transporte e Atividade Econômica.
- (B) Constituição, Justiça e Legislação Participativa.
- (C) Política Urbana, Metropolitana e Meio Ambiente.
- (D) Saúde, Promoção Social, Trabalho e Mulher.
- (E) Administração Pública.

97

Jonas, Vereador no âmbito do Município de São Paulo, apresenta requerimento de convocação do Secretário Municipal de Mobilidade e Trânsito para prestar informações sobre assuntos atinentes à pasta de que é titular. O requerimento de convocação, devidamente aprovado, indica explicitamente os motivos da convocação e especifica os quesitos que serão propostos ao agente político.

Nesse cenário, considerando as disposições do Regimento Interno da Câmara Municipal de São Paulo, é correto afirmar que

- (A) não havendo mais Vereadores inscritos para indagações relativas aos quesitos do instrumento de convocação, o Secretário convocado será dispensado, não podendo ser interpelado sobre assunto estranho ao objeto da convocação;
- (B) aberta a sessão para a oitiva do Secretário Municipal, os Vereadores dirigir-lhe-ão interpelações sobre os quesitos constantes do requerimento, dispondo, para tanto, de dez minutos, permitidos apertes;
- (C) a Câmara se reunirá em sessão ordinária, em dia e hora previamente estabelecidos, com o fim específico de ouvir o Secretário Municipal sobre os motivos da convocação;
- (D) o Secretário Municipal deverá atender à convocação da Câmara dentro do prazo improrrogável de dez dias, contados da data do recebimento do ofício;
- (E) para responder às interpelações que lhe forem dirigidas, o Secretário Municipal disporá de dez minutos, sendo permitidos apertes.

**98**

Caio, Prefeito do Município de São Paulo, apresentou um determinado projeto de lei, o qual foi distribuído à Comissão de Finanças e Orçamentos da Casa Legislativa, para que haja a designação de relatores ou de subcomissão e, na sequência, a emissão de parecer no tocante à matéria de sua competência regimental.

Nesse cenário, considerando as disposições do Regimento Interno da Câmara Municipal de São Paulo, é correto afirmar que

- (A) para emitir parecer sobre qualquer matéria, cada Comissão terá o prazo de quinze dias, prorrogável por mais oito dias pelo Presidente da Mesa, a requerimento devidamente fundamentado.
- (B) nos projetos em que for solicitada urgência pelo Prefeito, o prazo para que cada Comissão emita parecer sobre a matéria fica reduzido a oito dias, vedada a prorrogação.
- (C) os relatores ou a Subcomissão terá o prazo de quinze dias para manifestar-se por escrito, a partir da data da distribuição do projeto de lei.
- (D) o Presidente da Comissão, dentro do prazo máximo de cinco dias úteis, designará os respectivos relatores ou a Subcomissão.
- (E) o prazo para a apresentação do parecer começa a correr no dia em que o processo der entrada na Comissão.

**99**

João, recém empossado no cargo de Vereador no âmbito da Câmara Municipal de São Paulo, entusiasmado com o exercício do primeiro mandato parlamentar, passou a estudar as normas aplicáveis à Casa Legislativa. Nesse contexto, durante os estudos, o agente político deparou-se com as hipóteses de suspensão e de encerramento das sessões, analisando-as detidamente.

Nesse cenário, considerando as disposições do Regimento Interno da Câmara Municipal de São Paulo, avalie se a sessão será encerrada antes da hora regimental pelos seguintes motivos:

- I. No caso de luto municipal ou estadual, pelo falecimento de autoridade, por deliberação do Presidente da Mesa.
- II. Para preservação da ordem.
- III. No caso de tumulto grave.

Está correto o que se afirma em

- (A) I, apenas.
- (B) II, apenas.
- (C) III, apenas.
- (D) I e II.
- (E) I e III.

**100**

Jonatas, Vereador no âmbito da Câmara Municipal de São Paulo, inconformado com determinada decisão tomada pelo Presidente da Casa Legislativa em questão de ordem, pretende apresentar recurso ao Plenário.

Nesse cenário, considerando as disposições do Regimento Interno da Câmara Municipal de São Paulo, assinale a afirmativa correta.

- (A) Emitido o parecer da Comissão de Constituição e Justiça, independentemente de sua publicação, o recurso será, obrigatoriamente, incluído na pauta da ordem do dia da sessão ordinária seguinte, para deliberação do Plenário.
- (B) Apresentado o recurso, o Presidente poderá se retratar da decisão anteriormente tomada na questão de ordem, encaminhando a sua manifestação para ratificação do Plenário.
- (C) A Comissão de Constituição e Justiça terá o prazo de dois dias úteis, prorrogável, uma única vez, por igual período, para emitir parecer sobre o recurso.
- (D) O recurso formulado por escrito deverá ser proposto dentro do prazo improrrogável de cinco dias úteis, contados da decisão do Presidente.
- (E) até a deliberação do Plenário sobre o recurso, a decisão tomada pelo Presidente na questão de ordem ficará suspensa.

Realização

