



CONCURSO PÚBLICO
EDITAL Nº 02, DE 30 DE OUTUBRO DE 2023

CÂMARA MUNICIPAL DE SÃO PAULO

PROVA OBJETIVA – MANHÃ

CONSULTOR TÉCNICO LEGISLATIVO
MEDICINA DO TRABALHO

NÍVEL SUPERIOR TIPO 1 – BRANCA



SUA PROVA

- Além deste caderno contendo **100 (cem)** questões objetivas, você receberá do fiscal de prova o cartão de respostas;
- As questões objetivas têm **5 (cinco)** opções de resposta (A, B, C, D e E) e somente uma delas está correta.



TEMPO

- Você dispõe de **5 (cinco) horas** para a realização da prova, já incluído o tempo para a marcação do cartão de respostas;
- **2 (duas) horas** após o início da prova, é possível retirar-se da sala, sem levar o caderno de questões;
- A partir dos **30 (trinta) minutos** anteriores ao término da prova é possível retirar-se da sala **levando o caderno de questões**.



NÃO SERÁ PERMITIDO

- Qualquer tipo de comunicação entre os candidatos durante a aplicação da prova;
- Anotar informações relativas às respostas em qualquer outro meio que não seja o caderno de questões;
- Levantar da cadeira sem autorização do fiscal de sala;
- Usar o sanitário ao término da prova, após deixar a sala.



INFORMAÇÕES GERAIS

- Verifique se seu caderno de questões está completo, sem repetição de questões ou falhas. Caso contrário, **notifique imediatamente o fiscal da sala**, para que sejam tomadas as devidas providências;
- Confira seus dados pessoais, especialmente nome, número de inscrição e documento de identidade e leia atentamente as instruções para preencher o cartão de respostas;
- Para o preenchimento do cartão de respostas, use somente caneta esferográfica, fabricada em material transparente, com tinta preta ou azul;
- Assine seu nome apenas no(s) espaço(s) reservado(s) no cartão de respostas;
- Confira seu cargo, cor e tipo do caderno de questões. Caso tenha recebido caderno de cargo ou cor ou tipo **diferente** do impresso em seu cartão de respostas, o fiscal deve ser **obrigatoriamente** informado para o devido registro na ata da sala;
- Reserve tempo suficiente para o preenchimento do seu cartão de respostas. O preenchimento é de sua responsabilidade e **não será permitida a troca do cartão de respostas em caso de erro cometido pelo candidato**;
- Para fins de avaliação, serão levadas em consideração apenas as marcações realizadas no cartão de respostas;
- A FGV coletará as impressões digitais dos candidatos na lista de presença;
- Os candidatos serão submetidos ao sistema de detecção de metais quando do ingresso e da saída de sanitários durante a realização das provas.
- **Boa sorte!**

Língua Portuguesa

1

Em todas as frases abaixo havia uma repetição de termos, que foi evitada pela substituição do segundo termo. Assinale a opção em que essa substituição não acrescentou nenhuma informação nova ao termo anterior.

- (A) Eu já vi esse filme e não tenho vontade de rever esse dramalhão.
- (B) Sofia convidou o Marcelo. Ela espera que seu amigo goste da comida.
- (C) Eu fui ver uma casa para alugar, mas eu não me vejo morando naquele cubículo.
- (D) Rosa me apresentou seu primo, mas não tenho nenhuma vontade de rever esse rapaz pretensioso.
- (E) Bernardo apresentou a namorada a seus pais, mas a menina deu a impressão de ser muito tímida.

2

Entre os raciocínios a seguir, assinale aquele que se inclui entre os indutivos.

- (A) Ser aprovado em um curso e gostar do que estuda são coisas que vão juntas. Meu irmão não passou em Biologia, ou seja, ele não gostava dessa disciplina.
- (B) Estive em um cassino em Las Vegas e fui a uma máquina em que você pode ganhar um milhão, apostando três dólares. Meti os três dólares na máquina, pedi a Deus que ganhasse, puxei a manivela e não ganhei nada. Portanto Deus não existe.
- (C) Muitas cidades interioranas procuram aumentar sua renda por meio de festas em finais de semana, que chegam a atrair muitos turistas. Na semana passada, uma dessas cidades programou-se para uma movimentada festividade, mas um temporal fortíssimo acabou com os sonhos da Prefeitura. Conclusão: nem tudo que reluz é ouro.
- (D) Os sorteios da Loteria Federal já realizaram sonhos e muita gente, mas também produzem tragédias, como a do pobre sujeito que, após ficar rico, foi assassinado a mando da esposa.
- (E) As obras de Machado de Assis, sobretudo as da fase realista, produzem muita admiração nos leitores por sua organização; *o Dom Casmurro* não é diferente.

3

Observe o texto abaixo:

“A felicidade depende da destreza que tenhamos naquelas atividades que consideramos importantes para nós: somente se damos um real valor aos pequenos detalhes cotidianos, podemos ter instantes felizes. A felicidade absoluta não existe, e já que só podemos ter acesso aos pequenos detalhes daquilo que nos interessa, devemos contentar-nos também com esses breves momentos felizes. Por isso, a infelicidade é um claro sinal de nossa incompetência na arte de viver.”

Sobre esse pequeno texto, assinale a afirmativa que está em **desacordo** com a sua estrutura ou sua significação.

- (A) O tema do texto é a discussão sobre o que viria a ser a felicidade e o que seria oposto a ela.
- (B) A estrutura básica do texto é a argumentativa, já que o enunciador defende um posicionamento sobre o tema.
- (C) O argumento básico do texto se fundamenta nas próprias opiniões do argumentador.
- (D) A tese presente no texto é a de que a infelicidade é fruto de nossa incompetência na arte de viver.
- (E) O método empregado na construção do raciocínio nesse texto é o indutivo, já que parte dos detalhes para o todo.

4

“Nos países da Europa oriental, a queda dos regimes comunistas esteve associada à emergência de amplos movimentos sociais que lutavam por mudanças definitivas no sistema econômico como por preocupação com a vigência de direitos cidadãos.”

Entre as afirmações abaixo, assinale aquela que é defendida clara ou implicitamente pelo autor desse fragmento textual.

- (A) Os regimes comunistas nos países da Europa oriental perderam valor em face de movimentos sociais opostos.
- (B) A queda dos regimes comunistas na Europa oriental trouxe implicações na área política e econômica.
- (C) O regime comunista não mostrava a vigência dos direitos cidadãos como uma de suas prioridades.
- (D) As sociedades da Europa oriental começaram a mover-se política e socialmente a partir da queda dos regimes comunistas.
- (E) As tentativas de mudança socialmente procuradas, tanto no âmbito econômico como no social acabaram por modificar a estrutura política da Europa oriental.

5

Um texto é um conjunto de frases organizado de modo a apresentar-se coerente e estruturado. A coerência do texto repousa, entre outros, sobre um princípio de continuidade, que é assegurada pela retomada de informações, ou seja, retomar os elementos já expressos no texto.

Observe o texto a seguir:

“Antônio caminhava em direção ao mar. Essa vasta extensão azul o fascinava há longo tempo. Ela o acalmava, pacificava, o atraía. Lá, ele se sentia sempre convidado.”

Assinale a afirmação **inadequada** sobre os elementos de coerência desse pequeno texto.

- (A) O termo “mar” é retomado pelo grupo nominal “essa vasta extensão azul”.
- (B) O termo “Antônio” é retomado em três ocorrências do pronome oblíquo “o”.
- (C) O termo Antônio também reaparece no emprego do pronome pessoal “Ele” e do pronome reflexivo “se”.
- (D) O pronome “Ela” retoma o termo “mar”, presente na frase inicial do texto.
- (E) O advérbio “Lá” retoma a ideia de “mar”, citado anteriormente.

6

Observe o seguinte texto narrativo:

“Seguia caminhando lado da menina, mas sua mente estava ocupada com o problema da ponte, que agora lhe aparecia com toda a clareza e precisão, como quando a lente da câmera está bem focada...”

Assinale a afirmação abaixo, a respeito do gênero narrativo a que pertence esse fragmento textual, que mostra **erro**.

- (A) Na narrativa histórica predomina a função referencial da linguagem.
- (B) O narrador possui diversos graus de restrição na informação que possui.
- (C) Na narrativa não pode estar presente o diálogo, que é próprio do gênero teatral.
- (D) A narrativa pode misturar ficção e realidade.
- (E) Um relato inclui ações e acontecimentos em ordem cronológica.

7

“A mãe de Pedrinho fumou enquanto estava grávida e por isso ele é uma criança fraca e de baixo peso.”

Assinale a opção que aponta o tipo de argumento lógico racional que foi utilizado neste fragmento textual.

- (A) Argumento com base na autoridade científica.
- (B) Raciocínio com base na experiência profissional.
- (C) Pensamento que relaciona causa e consequência.
- (D) Afirmação fundamentada no bom-senso geral.
- (E) Argumentação apoiada na generalização.

8

Todos os segmentos abaixo se inserem entre os textos explicativos; assinale aquele que apela para o processo explicativo da analogia.

- (A) O processo de aterrissagem é tal qual o pouso de um pássaro, mas com mais peso.
- (B) A forma das asas de um avião é semelhante à das asas de um pássaro.
- (C) Em outras palavras, o desenho das asas obedece à necessidade de deslocamento mais rápido no espaço.
- (D) Vejamos, por exemplo, o pouso de um grande pássaro, como um gavião ou uma águia.
- (E) O aerodinamismo é a marca de formas concebidas para oferecer um mínimo de resistência ao ar.

9

Observe o seguinte texto explicativo:

“As coisas de que o corpo precisa são facilmente obtidas por todos sem trabalho ou dificuldade; as coisas que exigem labor e são difíceis de obter e oneram a vida são desejadas, não pelo corpo, mas por um estado ruim da mente.”

Abaixo estão várias marcas linguística desse tipo de texto (explicativo); assinale a que está em desacordo com o exemplo dado acima.

- (A) Reduzida quantidade de verbos de imaginação.
- (B) Pouca presença de palavras que expressam sentimento.
- (C) Ausência total de pronomes pessoais.
- (D) Construção sem a presença do enunciador.
- (E) Preferência por linguagem clara e precisa.

10

Entre os fragmentos textuais abaixo, assinale o que pertence a um modo de organização discursiva (descrição, narração, argumentação, exposição e injunção) diferente dos demais.

- (A) Numa decisão rápida, segurou-se a uma saliência do rochedo deixando a vaga passar sobre ele.
- (B) O vão da caverna que era iluminado pela tocha era ainda mais amplo do que o imaginara. Sua cúpula imensa era alta, coberta es estalactites.
- (C) A estátua de Atena estava de pé, com a deusa vestindo uma túnica que descia até os pés, e sobre seu peito estava esculpida uma cabeça da Medusa de marfim.
- (D) Eu nunca vi tanta graça unida a tanta gravidade. Sua roupa a tornava muito elegante e fazia que parecesse frágil. Um manto marrom que ele trazia ao entrar estava jogado sobre as costas.
- (E) O computador era dos antigos, com um grande teclado cujas letras estavam dispostas à moda inglesa e com pouca luminosidade na tela pequena.

11

Assinale a frase que não apresenta uma oposição semântica entre dois termos (antônimos).

- (A) Todos julgam segundo a aparência, ninguém segundo a essência.
- (B) Os ignorantes julgam a interioridade a partir da exterioridade.
- (C) Nas grandes coisas, os homens se mostram como lhes convém se mostrar; nas pequenas, mostram-se como são.
- (D) Os homens mascaram seu demônio com o anjo mais belo que conseguem encontrar.
- (E) Pelas roupas rasgadas mostram-se os vícios menores: as vestes de cerimônia e as peles escondem todos eles.

12

Muitas formas de superlativo de adjetivos se utilizam de radicais latinos, daí que mostrem diferenças em relação ao radical do adjetivo atual. Assinale o superlativo abaixo que utiliza o radical atual do adjetivo.

- (A) Todas as coisas que hoje se creem antiquíssimas já foram novas.
- (B) Nessa época todos os morros da região estavam com seus cumos congeladíssimos.
- (C) Hoje em dia, notam-se pessoas paupérrimas andando pelas ruas de bairros chiques.
- (D) Por causa da doença, o senador voltou ao Congresso magérrimo, com as feições abatidas.
- (E) Com as demolições, todo o chão estava coberto de escombros, aspérrimo e muito sujo.

13

Assinale a frase a seguir que mostra a preposição PARA no valor semântico de “finalidade”.

- (A) A natureza é apenas um nome para um efeito cuja causa é Deus.
- (B) Há boas razões para proteger a Terra: ela prolonga a lucratividade.
- (C) Para a pedra atirada, cair não é um mal, nem subir um bem.
- (D) O melhor exercício para um gato é outro gato.
- (E) Os galhos são raízes que se estendem para o alto do ar.

14

Assinale a frase em que as palavras repetidas pertencem a classes diferentes.

- (A) Um tolo ensinado é mais tolo do que um tolo ignorante.
- (B) Eu não sou teimoso; um teimoso é aquele que teima comigo.
- (C) Não discuta com um bobo, pois se torna tão bobo quanto ele.
- (D) O seu ção será sempre um ção, não importa a coleira.
- (E) Um grande professor será sempre um grande homem.

15

Assinale a frase que está integralmente expressa com palavras em sentido lógico (não figurado).

- (A) Em mar calmo, todo homem é bom piloto.
- (B) Hoje não existem mais malandros, somente bandidos.
- (C) Escritores são aqueles cujas almas falam nas bibliotecas.
- (D) Taquígrafo é a pessoa que aposta corrida com as palavras.
- (E) Diplomata é um indivíduo cuja cor preferida é o arco-íris.

16

Assinale a frase abaixo que exemplifica uma definição do termo “felicidade”.

- (A) Felicidade é um agora sem nenhuma pressa.
- (B) Felicidade é um modo de viajar, não um destino.
- (C) Felicidade é um fluxo de caixa positivo.
- (D) Felicidade é como uma flor que não se deve colher.
- (E) Felicidade é a qualidade de quem é feliz.

17

Abaixo aparecem cinco definições de um termo que é identificado ao final, entre parênteses; assinale a opção em que o termo indicado **não** está de acordo com a definição dada.

- (A) bolinho feito com carne picada ou moída, miolo de pão, ovos e diferentes temperos, e que, depois de frito, é servido geralmente com molho. (almôndega).
- (B) fato, ação, gesto ou palavra que intimida ou atemoriza. (processo).
- (C) preparação em pasta sólida e untuosa, em geral colorida, enformada num pequeno bastão para ser usado como cosmético nos lábios. (batom).
- (D) regime alimentar, especialmente o prescrito pelo médico a um doente ou a um convalescente. (dieta).
- (E) espaço fechado onde se eleva artificialmente a temperatura do ar, destinado a abrigar plantas e flores, cujo cultivo depende de calor. (estufa).

18

Abaixo aparecem frases em que os termos destacados mostram uma relação lógica entre eles; essa mesma relação é repetida em outra frase a seguir. Assinale a opção em que a primeira relação é repetida de forma conveniente na segunda.

- (A) Grávida está para ginecologista como tuberculoso está para oncologista.
- (B) Unha está para manicure como automóvel está para garagista.
- (C) Edifício está para portaria como livro está para prólogo.
- (D) Pé está para sola como mão está para dedo.
- (E) Tato está para pele como olfato está para língua.

19

Em cada item abaixo há um conjunto de três palavras, seguido de um hiperônimo, ou seja, uma palavra que abrange todas as anteriormente citadas. Assinale a opção em que o hiperônimo indicado é **inadequado**.

- (A) livro – estátua – quadro / obra.
- (B) engenheiro – químico – enfermeiro / profissão.
- (C) rua – praça – avenida / logradouro.
- (D) estudantada – enxame – rebanho / conjunto.
- (E) conto – romance – novela / estilo.

20

Todas as frases abaixo mostram o emprego de uma vírgula. Assinale a frase em que esse emprego está corretamente justificado.

- (A) Bahia, 22 de abril de 1500 / separar ou isolar o vocativo.
- (B) Os pessimistas, devemos deixá-los de lado / indicar a supressão de verbo já enunciado.
- (C) Em toda revolução, há as pessoas que a fazem e as que se aproveitam dela / separar ou isolar o adjunto adverbial deslocado.
- (D) Só existem três coisas que param no ar: beija-flor, helicóptero e Dadá Maravilha / isolar expressões de valores diversos.
- (E) O São Paulo não precisa de um psicólogo, mas sim de um psiquiatra / isolar o aposto.

21

Abaixo estão cinco frases com latinismos empregados na língua portuguesa; assinale a opção em que o latinismo tem seu significado indicado corretamente.

- (A) “...e se tal era o intuito, força é confessar que a publicidade tornava-se uma condição *sine qua non*. Em suma, poderia dever algumas atenções, mas não devia um real a ninguém.” / sem exceção.
- (B) “Ali o recebem ruidosamente os companheiros. Conta-lhes a façanha. Contam-lhe outras idênticas; e trocam-se as impressões heroicas numa adjetivação *ad hoc*, que vai num crescendo do destalado ríspido ao temer o pronunciado num trêmulo enrouquecido e longo.” / inadequada.
- (C) “...; as rezas dirigidas a S. Campeiro, canonizado *in partibus*, ao qual se acendem velas pelos campos;” / em vários lugares.
- (D) “Intercorrem ainda paragens menos estéreis, e nos trechos em que se operou a decomposição *in situ* do granito, originando algumas manchas argilosas, as copas virentes dos ouricurizeiros circuitam — parênteses breves abertos na aridez geral — as bordas das ipueiras.” / em pequenas partes.
- (E) “Entre rapazes não deve haver cerimônias, mal-entendidos; somos colegas, temos de ser amigos, por conseguinte tratemo-nos desde já por “tu”! Não és da mesma opinião, ó Paiva? - *In totum!* respondeu este, abraçando Amâncio pela cintura.” / Totalmente.

22

As preposições podem ser gramaticais – se exigidas pela regência de algum termo anterior – ou nocionais, quando não são obrigatórias e mostram um significado. Assinale a frase abaixo em que a preposição A tem valor nocional.

- (A) Os feirantes vendiam bananas a \$10 a dúzia.
- (B) Os que governam são obrigados a conhecer pelo menos gramática.
- (C) Um conservador é um homem com duas excelentes pernas que, contudo, nunca aprendeu a andar para a frente.
- (D) O futuro a Deus pertence e quando a gente é ministro pertence também ao presidente.
- (E) A punição que os bons sofrem, quando se recusam a tomar parte no governo, é viver sob o governo dos maus.

23

Em todas as frases abaixo ocorre a repetição de termos idênticos; para evitá-la, foram utilizados meios diferentes. Assinale a opção em que a forma de substituição do segundo termo repetido está corretamente identificada.

- (A) Uma vez na caverna, o gato começa a procurar o rato de que lhe havia falado a raposa. O gato levanta as caixas, que caem fazendo um grande barulho. / substituição pelo pronome relativo “que”.
- (B) O proprietário entra imediatamente na caverna com uma vara na mão. O gato de esconde para poder escapar do proprietário. / substituição pelo pronome pessoal “dele”.
- (C) O gato encontrou, no entanto, um local escuro e se escondeu no lugar escuro. / substituição pelo advérbio “onde”.
- (D) O proprietário acende uma tocha e se aproxima do esconderijo do gato. O gato mostrou todas as suas unhas e fugiu. / substituição pelo pronome demonstrativo “aquele”.
- (E) O gato compreendeu que a raposa lhe fizera uma cilada. Ele fará a raposa pagar por essa cilada. / substituição por pronome pessoal “lhe”.

24

A antítese é uma figura de linguagem em que se opõem, numa mesma frase, palavras ou pensamentos de sentido contrário.

Segundo essa definição, há uma antítese na seguinte frase:

- (A) A política é a arte de trair os interesses reais e legítimos e de criar, em lugar deles, interesses imaginários e injustos.
- (B) É verdade que existem idiotas no Congresso, mas eles constituem boa parte da população e merecem estar bem representados.
- (C) O coração de um homem de Estado deve estar na sua cabeça.
- (D) O problema do Brasil é um sistema político permissivo que manipula um sistema administrativo ultrapassado.
- (E)) A guerra é feita no momento em que se quer e é terminada quando se pode.

25

Assinale a frase em que se emprega corretamente o acento grave indicativo da crase.

- (A) Sempre se escreve à história erradamente. Por isso precisa ser reescrita sem cessar.
- (B) A história é um cavalo que galopa atravessando à janela, e você deve decidir se saltará para montá-lo ou não.
- (C) O momento que estamos vivendo pertence igualmente à todos, mas o que passou não é mais nosso.
- (D) Viver a aventura é encontrar o caminho de volta ao silêncio e à quietude de mil anos atrás.
- (E) Tempo não é dinheiro. Mas à alguns o dinheiro rouba o tempo e a outros o tempo rouba o dinheiro.

26

Os adjetivos podem representar estados, qualidades, características e relações; assinale a frase que mostra um tipo de adjetivo diferente dos demais.

- (A) Em questão de árvores genealógicas, é mais seguro andar pelos ramos que se aprofundar nas raízes.
- (B) O problema com as crianças é que elas não são retornáveis.
- (C) Até a criança completar um ano ela é incapaz de pecar.
- (D) Eu tive uma grande vantagem que meus filhos não tiveram: eu nasci pobre.
- (E) Afinal, o que é Deus? Uma eterna criança brincando eternamente no jardim eterno.

27

Em todas as frases abaixo há um termo sublinhado, composto da preposição DE + substantivo; assinale a frase em que esse termo não pode ser substituído adequadamente por um adjetivo.

- (A) Nada chegará ao fundo da risada de uma criança. / infantil.
- (B) O suco de garrafa parece menos gostoso. / engarrafado.
- (C) O teclado do computador é logicamente organizado. / computacional.
- (D) Os solos do deserto são áridos. / desérticos.
- (E) As vestes do bispo são elegantes. / episcopais.

28

Assinale a frase em que o adjetivo sublinhado mostra uma função sintática diferente das demais.

- (A) O melhor acessório de uma mulher é um homem bem-vestido.
- (B) Em assuntos de grande importância, o estilo, e não a sinceridade, é a questão vital.
- (C) É impossível ser ridículo dentro de um Mercedes.
- (D) Os tempos mudaram. O príncipe encantado também está procurando seu príncipe encantado.
- (E) Muitos dizem, conforme sua afirmação, que eu sou uma velha raposa.

29

Entre as palavras abaixo, assinale aquela em que os dois vocábulos devem flexionar-se.

- (A) Testemunha-chave.
- (B) Fila-monstro.
- (C) Estrutura-padrão.
- (D) Funcionário-responsável.
- (E) Livro-caixa.

30

Assinale a frase abaixo em que a concordância da forma de participio sublinhada mostra erro.

- (A) Fica confirmado perante o tribunal a autoria da carta.
- (B) Merecem ser admiradas, apesar de tudo, as obras de Wagner.
- (C) Os autores sabem que esse direito não lhes é assegurado.
- (D) Tem sido demonstrado tais filmes serem falsos.
- (E) Nos é permitido ter acesso a esses documentos.

Raciocínio Lógico e Matemático

31

Rubinho percorreu uma certa distância em 2 horas, com velocidade constante.

Se percorrer a mesma distância aumentando a velocidade em 100%, é correto concluir que

- (A) o tempo aumentará 100%.
- (B) o tempo diminuirá 100%.
- (C) o tempo diminuirá 50%.
- (D) o tempo diminuirá 25%.
- (E) o tempo diminuirá 20%.

32

Na Black Friday, Laura comprou um vestido com 25% de desconto e pagou R\$ 168,00.

Sem o desconto, o preço do vestido era

- (A) R\$ 250,00.
- (B) R\$ 248,00.
- (C) R\$ 224,00.
- (D) R\$ 210,00.
- (E) R\$ 200,00.

33

Sabe-se que a sentença “Se faz sol e o mar está calmo, então vou remar” é FALSA.

Nesse caso, é correto concluir que

- (A) Não faz sol ou o mar não está calmo.
- (B) Faz sol e o mar não está calmo.
- (C) Não faz sol e o mar está calmo.
- (D) Vou remar ou não faz sol.
- (E) Não vou remar e o mar está calmo.

34

Sabe-se que os conjuntos $A = \{1, 3, 5, x, 8\}$ e $B = \{2, 3, y, 7, 8\}$ têm, cada um, 5 elementos. Sabe-se, também, que a interseção de A e B tem 4 elementos.

A soma dos elementos da união de A e B é

- (A) 26.
- (B) 27.
- (C) 28.
- (D) 29.
- (E) 30.

35

Considere uma sequência de pontos do plano cartesiano tal que para cada ponto (x, y) da sequência, o próximo ponto é obtido de acordo com a seguinte regra:

- Se x é ímpar, então o próximo ponto será $(x + 3, y - 1)$;
- Se x é par, então o próximo ponto será $(\frac{x}{2}, 2y)$.

Começando com o ponto $(2024, 0)$, a soma das coordenadas do 10º ponto da sequência é

- (A) 24.
- (B) 12.
- (C) 0.
- (D) -12.
- (E) -24.

36

Considere a seguinte amostra de 7 números inteiros positivos:

3, 3, 6, 3, x, 5, 11.

Sabe-se que a média dessa amostra também é um número inteiro.

Se S a soma da moda, da mediana e da média dessa amostra, o menor valor possível de S é

- (A) 11.
- (B) 12.
- (C) 13.
- (D) 14.
- (E) 15.

37

Neuza escreveu duas vezes, em uma folha de papel, um mesmo número inteiro. Marcelo, a seguir, escreveu três vezes um outro número inteiro, na mesma folha de papel. A soma dos 5 números escritos é 120 e um dos números é 22.

A soma dos algarismos do outro número é

- (A) 6.
- (B) 7.
- (C) 8.
- (D) 9.
- (E) 10.

38

Ana, Beto, Carla, Danilo e Elisa participaram de uma corrida com outros 5 participantes. Ana chegou 4 posições atrás de Carla. Carla chegou uma posição à frente de Beto. Danilo chegou 4 posições atrás de Elisa e Elisa chegou 2 posições atrás de Beto.

Ana chegou na 6ª posição.

Nesse caso, é correto afirmar que

- (A) Ana chegou atrás de Danilo.
- (B) Beto chegou na 2ª posição.
- (C) Carla chegou na 1ª posição.
- (D) Danilo chegou na 9ª posição.
- (E) Elisa chegou na 7ª posição.

39

Uma sequência de 2024 números inteiros maiores do que zero é tal que um dos números ocorre exatamente 13 vezes e qualquer outro número dessa sequência ocorre menos vezes do que ele.

A menor quantidade possível de números inteiros diferentes nessa sequência é

- (A) 169.
- (B) 168.
- (C) 167.
- (D) 166.
- (E) 165.

40

Uma moeda é tal que a probabilidade de sair “cara” é $\frac{1}{4}$.

Essa moeda é lançada 4 vezes consecutivas.

A probabilidade de que saiam mais “caras” do que “coroas” é igual a

- (A) $\frac{1}{4}$.
 (B) $\frac{1}{256}$.
 (C) $\frac{3}{64}$.
 (D) $\frac{3}{256}$.
 (E) $\frac{13}{256}$.

41

O inteiro positivo N é o menor número tal que dividido por 13 deixa resto 12 e dividido por 11 deixa resto 10.

A soma dos algarismos de N é

- (A) 6.
 (B) 7.
 (C) 8.
 (D) 9.
 (E) 10.

42

Utilizando apenas pesos de 200g e de 350g, o número mínimo de pesos que devem ser reunidos para que se obtenha exatamente 4kg é

- (A) 12.
 (B) 14.
 (C) 16.
 (D) 18.
 (E) 20.

43

Considere a afirmação referente aos candidatos de um concurso: “Todo candidato possui curso superior ou 5 anos de experiência”.

A negação lógica dessa sentença é:

- (A) Todo candidato não possui curso superior ou não possui 5 anos de experiência.
 (B) Todo candidato não possui curso superior e não possui 5 anos de experiência.
 (C) Há candidato que não possui curso superior ou não possui 5 anos de experiência.
 (D) Há candidato que possui curso superior, mas não possui 5 anos de experiência.
 (E) Há candidato que não possui curso superior e não possui 5 anos de experiência.

44

Um estacionamento possui uma fila de 100 vagas, uma ao lado da outra, numeradas de 1 a 100. Em certo momento várias vagas estão ocupadas e João chega para estacionar seu carro.

João diz ao atendente:

– *Gostaria de uma vaga que não tivesse carro estacionado ao lado.*

O atendente verifica o mapa do estacionamento e diz:


– *Impossível atendê-lo. No momento, qualquer vaga vazia terá, pelo menos, um carro já estacionado ao lado.*

No mínimo, o número de vagas do estacionamento já ocupadas é

- (A) 33.
 (B) 34.
 (C) 40.
 (D) 49.
 (E) 50.

45

Na cidade suíça de Solothurn cada dia é dividido em 22 horas e cada hora é dividida em 60 minutos. Nessa cidade, a metade de um dia possui 11 horas como mostra o relógio abaixo.



As unidades hora e minuto da cidade de Solothurn são abreviadas por hS e mS, respectivamente.

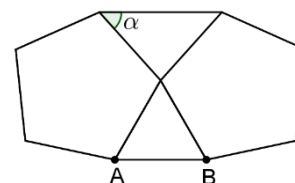
Hans mora nessa cidade e, certo dia, entrou na empresa em que trabalha às 9 hS 40 mS e saiu da empresa às 16 hS 27 mS.

O tempo, medido nas unidades de tempo adotadas em nosso país, que Hans permaneceu na empresa foi de:

- (A) 6 horas e 47 minutos.
 (B) 6 horas e 56 minutos.
 (C) 7 horas e 07 minutos.
 (D) 7 horas e 16 minutos.
 (E) 7 horas e 24 minutos.

46

A figura abaixo mostra um triângulo equilátero de lado AB com dois pentágonos regulares colados.



O ângulo α assinalado na figura mede:

- (A) 42° .
 (B) 45° .
 (C) 48° .
 (D) 52° .
 (E) 56° .

47

Gabriel, Hugo e Ledo são atletas e disputam uma série de corridas. Em cada corrida, o vencedor ganha 4 pontos, quem chega em segundo lugar ganha 2 pontos e quem chega em terceiro ganha 1 ponto. Após a terceira corrida, Gabriel acumulou um total de N pontos.

O número de valores diferentes possíveis para N é:

- (A) 6.
- (B) 7.
- (C) 8.
- (D) 9.
- (E) 10.

48

Em um grupo de 40 jovens, 20 vestem camisetas brancas, 22 vestem bermudas pretas e 12 não vestem nenhuma dessas peças descritas.

Sorteando ao acaso um desses jovens, a probabilidade de que ele esteja com camiseta branca e bermuda preta é igual a

- (A) 25%.
- (B) 30%.
- (C) 35%.
- (D) 40%.
- (E) 45%.

49

Na prateleira de uma cozinha há três potes: A, B e C. Um deles contém arroz, outro contém feijão e outro contém farinha.

Das afirmativas seguintes, somente uma é verdadeira:

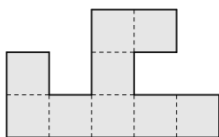
- A contém farinha.
- B não contém feijão.
- C não contém farinha.

Nesse caso, é correto afirmar que:

- (A) o pote A contém feijão.
- (B) o pote B contém farinha.
- (C) o pote C contém feijão.
- (D) o pote A contém arroz.
- (E) o pote B não contém arroz.

50

A figura abaixo foi feita reunindo pequenos quadrados todos iguais.



O perímetro da figura é de 120cm.

A área da figura em cm^2 é

- (A) 288.
- (B) 324.
- (C) 342.
- (D) 360.
- (E) 378.

Conhecimentos Específicos

51

Segundo a Lei Orgânica do Município de São Paulo

- (A) as contratações por tempo determinado a serem efetuadas na forma da lei para atender a necessidades temporárias, de excepcional interesse público, não serão superiores a 18 (dezoito) meses.
- (B) os concursos públicos de ingresso de servidores serão realizados por entidades dissociadas da administração.
- (C) será estipulado o de limite de idade para ingresso por concurso público na administração direta e indireta, a partir das necessidades do órgão municipal que está ofertando as vagas.
- (D) os servidores da administração pública municipal direta, indireta e fundacional terão plano de carreira, sendo que os empregados públicos terão os benefícios garantidos pela consolidação das Leis do Trabalho – CLT, independentemente da carreira.
- (E) ficam asseguradas à servidora e à empregada gestante, sem prejuízos de vencimentos e demais vantagens do cargo ou emprego dispensa do horário de trabalho pelo tempo necessário para realização de, no máximo, seis consultas médicas e demais exames complementares.

52

As afirmativas a seguir são condizentes com a Lei Orgânica do Município de São Paulo, à exceção de uma. Assinale-a.

- (A) O conjunto de ações e serviços de saúde de abrangência municipal, integram a rede regionalizada e hierarquizada do sistema único de saúde.
- (B) É vedada a destinação de recursos públicos municipais para auxílio, incentivos fiscais ou subvenções às instituições privadas com fins lucrativos.
- (C) O Município, com participação da comunidade, garantirá o direito à saúde, mediante acesso universal às ações e serviços de saúde, em todos os níveis de complexidade, com prioridade à população de maior vulnerabilidade social.
- (D) As ações e serviços de saúde serão executadas preferencialmente de forma direta pelo poder público e supletivamente através de terceiros.
- (E) O Município, coordenando sua ação com a União, o Estado e as entidades representativas dos trabalhadores, desenvolverá ações visando à promoção, proteção, recuperação e reabilitação da saúde dos trabalhadores submetidos aos riscos e agravos advindos das condições de trabalho

53

Segundo o Art. 345 do Regimento Interno da Câmara Municipal de São Paulo,

- (A) ocorrendo veto, emenda ou rejeição do projeto de lei orçamentária anual, os recursos que ficarem sem despesas correspondentes poderão ser utilizados, conforme o caso, mediante créditos especiais ou suplementares.
- (B) ocorrendo veto, emenda ou rejeição do projeto de lei orçamentária anual, os recursos que ficarem sem despesas correspondentes poderão ser utilizados, conforme o caso, mediante aprovação de Projeto de Lei Complementar dispondo sobre a execução dos respectivos recursos financeiros.
- (C) no caso da apreciação conjunta de projetos relativos ao plano plurianual e ao orçamento anual, na redação final, sua aprovação será automática pela Comissão de Finanças e Orçamento, sem necessidade de votação em Plenária.
- (D) No processo de apreciação dos projetos relativos ao plano plurianual e ao orçamento anual pela Comissão de Finanças e Orçamento, ao que foi deliberado em Plenário, já não mais serão possíveis adaptações às suas respectivas emendas.
- (E) se aprovado, em fase de segunda discussão, sem emendas, o projeto de lei orçamentária anual será enviado à apreciação da Comissão de Finanças e Orçamento e, posteriormente, para sanção do Prefeito.

54

Segundo o Art. 324 do Regimento Interno da Câmara Municipal de São Paulo, no período de recesso, a Câmara poderá ser extraordinariamente convocada

- (A) pelo Prefeito.
- (B) pela maioria absoluta dos Vereadores.
- (C) pelo Prefeito ou pela maioria absoluta dos Vereadores.
- (D) mediante convocação feita por escrito ou em meio eletrônico, com descrição da matéria a ser apreciada.
- (E) pelo prefeito, sendo que o início das sessões extraordinárias dar-se-á, no máximo, dentro de 3 (três) dias do recebimento do ofício de convocação.

55

Um trabalhador metalúrgico, de 19 anos de idade, com a função de torneiro mecânico, exposto a solventes orgânicos, graxas, óleo de corte e poeiras metálicas, procurou um dermatologista com quadro de irritação perifolicular, lesões papulo-eritematosas e pústulas acneiformes, há seis meses, comprometendo, principalmente membros superiores e região periumbilical.

Assinale a opção que apresenta diagnóstico de dermatose ocupacional compatível com o quadro descrito.

- (A) Dermatite do tipo atópica por exposição a graxa e óleo de corte.
- (B) Furunculose causada por exposição a óleo de corte.
- (C) Dermatite irritativa por exposição a solventes orgânicos e óleo de corte, com processo infeccioso secundário.
- (D) Dermatite alérgica de contato por exposição a metais, destacando-se o Níquel e Cromo.
- (E) Elaioconiose, que pode ocorrer devido à exposição a óleos de corte.

56

Em relação à bissinose, assinale a afirmativa correta.

- (A) É uma doença pulmonar que pode atingir trabalhadores e trabalhadoras agrícolas que manipulam feno e outros vegetais.
- (B) É uma doença pulmonar, com manifestações sistêmicas, caracterizada pela formação de granulomas, presente em trabalhadores e trabalhadoras de processos industriais com exposição a poeiras de berílio e alumínio.
- (C) É uma doença pulmonar, fibrogênica, que pode se desenvolver em trabalhadores e trabalhadoras da indústria de papel e celulose.
- (D) É uma doença pulmonar, não fibrogênica, que pode ser desenvolvida em trabalhadores e trabalhadoras de cotonifícios.
- (E) É uma doença pulmonar, não fibrogênica, que pode ser desenvolvida em trabalhadores e trabalhadoras de cotonifícios pulmonar, com manifestações sistêmicas, caracterizada pela formação de granulomas, que pode atingir em trabalhadores e trabalhadoras de processos industriais com exposição a poeiras de zinco e cádmio.

Atenção: o enunciado a seguir refere-se às duas próximas questões.

Temos no Brasil, há bastante tempo, um processo persistente de invasão de áreas florestais, incluindo reservas indígenas, por trabalhadores da mineração artesanal, conhecidos como garimpeiros, cujo processo de trabalho os expõem ao mercúrio, contaminando também extensas áreas, incluindo rios que são fonte de alimentação para populações ribeirinhas e indígenas.

57

Assinale a opção que indica a principal forma de contaminação por mercúrio nos trabalhadores em garimpos.

- (A) Contaminação por via digestiva, na forma de metilmercúrio como contaminantes de alimentos, como peixes de rios.
- (B) Contaminação por via digestiva, na forma de compostos organomercuriais, como o metilmercúrio, como contaminantes de alimentos.
- (C) Contaminação por via digestiva, na forma de sais de mercúrio como contaminantes de alimentos.
- (D) Contaminação por via respiratória, por inalação de vapores de compostos organomercuriais, como metilmercúrio.
- (E) Contaminação por via respiratória, por inalação de vapores de mercúrio metálico (Hg⁰).

58

Assinale a opção que indica a principal forma de contaminação por mercúrio nas populações ribeirinhas e indígenas que habitam nas áreas próximas aos garimpos.

- (A) Contaminação por via digestiva, na forma de mercúrio metálico como contaminantes de alimentos, como peixes de rios.
- (B) Contaminação por via digestiva, na forma de compostos organomercuriais, como o metilmercúrio, como contaminantes de alimentos.
- (C) Contaminação por via digestiva, na forma de sais de mercúrio como contaminantes de alimentos.
- (D) Contaminação por via respiratória, por inalação de vapores de compostos organomercuriais, como de metilmercúrio.
- (E) Contaminação por via respiratória, por inalação de vapores de mercúrio metálico (Hg).

59

Assinale a opção que apresenta sinais e sintomas da intoxicação por metilmercúrio.

- (A) Diarreia; vômitos; enterocolite erosiva com hematoquesia, com anemia secundária.
- (B) Hepatite tóxica; petéquias e plaquetopenia.
- (C) Tonturas; sialorreia; aumento da acetilcolinesterase.
- (D) Perda da visão periférica; fraqueza muscular, alterações na fala e da audição.
- (E) Pneumonite química; hepatite tóxica e pancitopenia.

60

Assinale a opção que indica as principais características clínicas e fisiopatológicas da Perda Auditiva Induzida por Ruído (PAIR).

- (A) Tipo neurossensorial, evolução progressiva e reversível, lesando na orelha interna as células do Órgão de Corti.
- (B) Tipo condutiva, progressiva e irreversível, lesando principalmente a orelha média.
- (C) Tipo neurossensorial, progressiva e irreversível, lesando na orelha interna as células do Órgão de Corti.
- (D) Tipo neurossensorial, evolução progressiva significativa bilateralmente mesmo na exposição descontinuada
- (E) Apresenta, inicialmente, perdas maiores nas frequências de 500, 1000 e 2000 Hz.

61

Os sinais de Hawkins, Patte, Cozen e Phalen avaliam, respectivamente,

- (A) lesão do infraespinhal; lesão do supraespinhal; epicondilite lateral; síndrome do túnel do carpo.
- (B) lesão do supraespinhal; lesão do infraespinhal; epicondilite medial; síndrome do túnel do carpo.
- (C) lesão do supraespinhal; epicondilite lateral; lesão do infraespinhal; síndrome do túnel do carpo.
- (D) lesão do supraespinhal; lesão do infraespinhal; epicondilite lateral; síndrome do túnel do carpo.
- (E) epicondilite medial; lesão do infraespinhal; lesão do supraespinhal; síndrome do túnel do carpo.

62

Uma trabalhadora de empresa frigorífica de abatimento de aves, exposta ao frio e movimentos repetitivos com membros superiores e mãos durante a jornada de trabalho, procura assistência médica no SUS referindo queixas de dores e limitação de amplitude de movimentos com o punho esquerdo há três meses, com agravamento progressivo. Ao examinar a paciente, o único sinal positivo notado pelo médico foi o teste de Finkelstein positivo à esquerda.

Assinale a opção que indica um diagnóstico compatível com o caso exposto.

- (A) Tenossinovite do abdutor longo e do extensor curto do polegar.
- (B) Tenossinovite do extensor ulnar do carpo.
- (C) Síndrome do Túnel do Carpo.
- (D) Síndrome do canal de Guyon.
- (E) Tenossinovite dos flexores do carpo.

63

Um trabalhador aposentado, de 67 anos de idade, apresenta quadro de dispneia e dores torácicas há 45 dias. Ao procurar assistência médica, junto a um serviço de pneumologia, lhe é diagnosticado mesotelioma de pleura.

Entre as atividades econômicas listadas a seguir, assinale a que pode estar relacionada a esse quadro clínico.

- (A) Indústria de refino de petróleo.
- (B) Indústria de fundição de metais.
- (C) Indústria da borracha.
- (D) Indústria siderúrgica.
- (E) Indústria de fabricação de telhas de fibrocimento.

64

Entre as substâncias listadas a seguir, assinale a que pode causar câncer de pulmão.

- (A) Poeira de algodão.
- (B) Dióxido de silício (SiO₂).
- (C) Vapor de mercúrio metálico (Hg⁰).
- (D) Monóxido de carbono (CO).
- (E) Dióxido de enxofre (SO₂).

65

Assinale a opção que apresenta características da asbestose.

- (A) Não fibrogênica; evolutiva, podendo levar à insuficiência respiratória; apresenta distúrbio restritivo à prova de função pulmonar; irreversível mesmo quando cessada a exposição.
- (B) Fibrogênica; evolutiva, podendo levar à insuficiência respiratória; apresenta distúrbio obstrutivo à prova de função pulmonar; irreversível mesmo quando cessada a exposição.
- (C) Fibrogênica; evolutiva, podendo levar à insuficiência respiratória; apresenta distúrbio restritivo à prova de função pulmonar; reversível quando cessada a exposição.
- (D) Fibrogênica; evolutiva, podendo levar à insuficiência respiratória; apresenta distúrbio restritivo à prova de função pulmonar; irreversível mesmo quando cessada a exposição.
- (E) Não fibrogênica; evolutiva, podendo levar à insuficiência respiratória; apresenta distúrbio obstrutivo à prova de função pulmonar; irreversível mesmo quando cessada a exposição.

66

Assinale a opção que melhor descreve o quadro clínico de intoxicação aguda por agrotóxicos e inseticidas organofosforados.

- (A) Tonturas, tremores, vômitos, secura de mucosas, midríase pupilar, taquicardia, broncoespasmo, hipertensão arterial e incontinência urinária e fecal.
- (B) Tonturas, sialorreia, midríase pupilar, lacrimejamento, taquicardia, tosse produtiva, sudorese, hipertensão arterial e incontinência urinária, diarreia com presença de muco nas fezes.
- (C) Tonturas, sialorreia, miose pupilar, lacrimejamento, bradicardia, broncoespasmo, sudorese, hipotensão arterial e incontinência urinária, alteração do nível de acetilcolinesterase eritrocitária.
- (D) Tonturas, sialorreia, miose pupilar, lacrimejamento, taquicardia, broncoespasmo, sudorese, hipertensão arterial e incontinência urinária, diarreia com presença de sangue nas fezes.
- (E) Tonturas, secura de mucosas, vômitos, midríase pupilar, taquicardia, broncoespasmo com sibilância e dispneia, sudorese, hipertensão arterial e incontinência urinária, diarreia com presença de sangue nas fezes.

67

O Glifosato é um agrotóxico herbicida amplamente utilizado no Brasil, gerando contaminação de trabalhadores rurais, de alimentos, do solo e da água.

Assinale a opção que apresenta os efeitos da intoxicação aguda causada por este produto.

- (A) Alterações do Sistema Nervoso Central, como tonturas, confusão mental e tremores; manifestações neurológicas periféricas como paralisia flácida de membros.
- (B) Vômitos; diarreia; hemorragia digestiva; arritmias; oligúria.
- (C) Hepatite tóxica; neutropenia; vômitos; diarreia; perda de controle de esfíncter vesical.
- (D) Tosse; brocoespasmos com sibilos; dispneia; hipertensão arterial; vômito; diarreia.
- (E) Hepatite tóxica; plaquetopenia; vômitos (incluindo hematêmese); diarreia (incluindo hematoquezia); hipertensão arterial.

68

Sobre a Síndrome do Túnel do Carpo (STC), assinale a afirmativa correta.

- (A) Pacientes que sofrem de diabetes mellitus apresentam maior predisposição para a STC.
- (B) A prescrição de anti-inflamatórios hormonais para seu tratamento é de absolutamente contraindicada.
- (C) A descompressão cirúrgica neuronal é indicada para a profilaxia da STC.
- (D) Tenossinovite estilorrádial é sinônimo de STC.
- (E) Para o diagnóstico STC, o exame eletroneuromiográfico demonstra baixa sensibilidade e baixa especificidade

69

Um trabalhador motorista de ônibus de uma empresa de transportes coletivos urbanos, que opera há mais de vinte veículos com motor dianteiro e câmbio manual, começou a sentir dores no ombro direito, que foram aumentando progressivamente, causando-lhe diminuição da amplitude de movimentos daquela articulação, principalmente para a abdução em ângulo > 90°.

Ao procurar assistência médica foi-lhe solicitado ultrassonografia daquela articulação que demonstrou comprometimento do tendão do músculo supraespinhal. Este quadro clínico é conhecido como

- (A) Síndrome de Gorham-Stout.
- (B) Ombro congelado.
- (C) Síndrome de Wartenberg.
- (D) Lesão tipo SLAP.
- (E) Síndrome do Manguito Rotador.

70

Um trabalhador assistente de produção de uma fábrica de calçados, que se encontra neste emprego há cerca de dois anos, e que se expõe, durante toda sua jornada de trabalho, a vapores de solventes de cola de sapateiro, começa a sentir fraqueza muscular nos membros superiores, que evoluiu para paralisia do lado esquerdo.

Nesse caso, a substância que pode estar presente em solventes orgânicos é:

- (A) n-Hexano.
- (B) Metanol.
- (C) Querosene.
- (D) Etanol.
- (E) Álcool isopropílico.

71

Assinale a opção que apresenta um agravo à saúde relacionado com a exposição prolongada à radiação do tipo infravermelho, presente em muitos processos de trabalho.

- (A) Câncer de pele tipo melanoma.
- (B) Câncer de pele tipo carcinoma basocelular.
- (C) Radiodermite.
- (D) Catarata precoce.
- (E) Câncer de pele tipo carcinoma espinocelular.

72

Segundo a Norma Regulamentadora nº 07 (NR-07), do Ministério do Trabalho e Emprego, no exame de retorno ao trabalho, o exame clínico deve ser realizado antes que o empregado reassuma suas funções, quando ausente por período igual ou superior a

- (A) 15 (quinze) dias por motivo de doença ou acidente, de natureza ocupacional ou não.
- (B) 10 (dez) dias por motivo de doença ou acidente, de natureza ocupacional ou não.
- (C) 30 (trinta) dias por motivo de doença ou acidente, de natureza ocupacional ou não.
- (D) 45 (quarenta e cinco) dias por motivo de doença ou acidente, de natureza ocupacional ou não.
- (E) 60 (sessenta) dias por motivo de doença ou acidente, de natureza ocupacional ou não.

73

A semiautonomia, flexibilidade, e inovação, inspiradas nos modelos sociotécnico e de competência apresentam aspectos importantes das novas formas de organização do trabalho.

A partir do fragmento acima, é correto afirmar que

- (A) novas implicações à saúde e segurança são determinadas a partir das novas formas de organização do trabalho, o que implicará o desenvolvimento de novos procedimentos e metodologias analíticas.
- (B) a busca pelo aumento da produtividade não tem relação com as novas formas de organização do trabalho.
- (C) a flexibilização da mão-de-obra, com perda da necessidade de especialização do trabalhador, é uma consequência das novas formas de organização do trabalho.
- (D) em um primeiro momento, as novas formas de organização do trabalho causam desemprego, uma vez que geram menor demanda de mão-de-obra qualificada.
- (E) o sofrimento mental é uma consequência inexorável das novas formas de organização do trabalho.

74

O limite de tolerância, para uma jornada de oito horas, para com exposição a poeiras de manganês ou de seus compostos, segundo a NR-15, é de

- (A) 5mg/m³ no ar.
- (B) 2,5mg/m³ no ar.
- (C) 10mg/m³ no ar.
- (D) 1mg/m³ no ar.
- (E) 15mg/m³ no ar.

75

Um das práticas presentes em algumas empresas é a adoção do *mobbing* com uma estratégia de da área de Recursos Humanos.

Assinale a opção que apresenta corretamente o conceito de *mobbing*.

- (A) Prática de assédio moral exercida na relação do trabalhador com seu hierárquico superior.
- (B) Exposição do trabalhador ao assédio psicológico pela associação de um grupo de pessoas.
- (C) Estratégia de induzir o aumento da produtividade do trabalhador por meio de ameaças.
- (D) Ameaças feitas no ambiente de trabalho, com o objetivo de induzir o(a) trabalhador(a) a pedir sua demissão voluntária.
- (E) Prática de assédio moral entre trabalhadores do mesmo nível hierárquico, decorrente da disputa pela ascensão de cargos dentro da empresa.

76

Assinale a opção que indica a pneumopatia ocupacional que está, com relativa frequência, associada à tuberculose.

- (A) Antracose.
- (B) Beriliose.
- (C) Silicose.
- (D) Asbestose.
- (E) Bissinose.

77

Entre as patologias abaixo descritas, assinale a que pode estar coberta pela Lei nº 8.213/91 e pelo Decreto nº 5.296/04, que estabelecem cotas específicas para determinados grupos de trabalhadores.

- (A) Esquizofrenia.
- (B) Vitiligo.
- (C) Talassemia.
- (D) Nanismo.
- (E) Anemia falciforme.

78

Assinale a opção que indica a patologia que um trabalhador frentista de posto de gasolina pode apresentar devido à exposição aos vapores de gasolina no trabalho.

- (A) Anemia ferropriva.
- (B) Basofilia.
- (C) Policitemia vera.
- (D) Plaquetopenia.
- (E) Aplasia de medula.

79

Assinale a opção que indica a categoria funcional que **não** tem direito a receber o adicional de periculosidade.

- (A) Vigilantes patrimoniais armados.
- (B) Trabalhadores da área de produção em indústrias de produtos de fogos e artifícios.
- (C) Trabalhadores frentistas de postos de combustíveis.
- (D) Motoristas de caminhão-tanque, desde que a carga seja superior a 200 litros.
- (E) Pilotos de aeronaves civis.

80

A jornada de trabalho noturno para o trabalhador urbano, de acordo com o Art. 73 da Consolidação das Leis do Trabalho (CLT) é aquela que ocorre no período entre

- (A) as 22h de um dia e as 6h da manhã do dia seguinte.
- (B) as 20h de um dia e as 5h da manhã do dia seguinte.
- (C) as 21h de um dia e as 5h da manhã do dia seguinte.
- (D) as 21h de um dia e as 6h da manhã do dia seguinte
- (E) as 22h de um dia e as 5h da manhã do dia seguinte.

81

A razão entre o risco de ocorrência do evento de saúde entre os expostos e o risco de ocorrência dos não expostos expressa o conceito de

- (A) Densidade de Prevalência.
- (B) Risco Relativo.
- (C) Densidade de Incidência.
- (D) Risco Atribuível.
- (E) *Odds Ratio* ou Razão de Chances.

82

O método da metanálise é uma ferramenta importante para a avaliação sistemática dos resultados de diversos estudos sobre riscos e o desenvolvimento de agravos à saúde relacionados ao trabalho.

Sobre a metanálise, assinale a afirmativa correta.

- (A) Trata-se de uma metodologia estatística que apresenta como resultado uma média ponderada de estudos analíticos da inferência de fenômenos clínicos distintos, que se repetem sistematicamente em uma dada população.
- (B) Trata-se de uma metodologia estatística que possibilita a visualização da média ponderada da prevalência de uma enfermidade, a partir de amostras aleatórias de diferentes estudos.
- (C) Trata-se de uma metodologia estatística que permite agrupar diferentes questões clínicas de diversos estudos duplo-cegos com amostras seletivas, e é sinônimo de revisão clínica não randomizada.
- (D) Trata-se de um modelo matemático pelo qual é possível calcular a sensibilidade e a especificidade de testes clínicos distintos, assim como relacionar a prevalência de diferentes enfermidades numa população específica.
- (E) Trata-se de um método estatístico que combina os resultados de cada estudo para obter uma estimativa global do efeito avaliado, possibilitando a análise das fontes de heterogeneidade.

83

A Norma Regulamentadora 17 (NR-17) dispõe que a organização ou a empresa deve realizar Análise Ergonômica do Trabalho - AET da situação de trabalho.

As opções a seguir apresentam situações que necessitam de AET, à exceção de uma. Assinale-a.

- (A) Sempre que houver uma situação insalubre, segundo os dispositivos da Norma Regulamentadora Nº 15 (NR-15).
- (B) Sempre que forem reconhecidas ações insuficientes ou inadequadas.
- (C) Sempre que for sugerida pelo monitoramento de saúde dos trabalhadores, nos termos do Programa de Controle Médico de Saúde Ocupacional (PCMSO), disposto pela NR-7, e pela alínea "c" do subitem 1.5.5.1.1 da NR 01.
- (D) Sempre que identificado fator relacionado às condições de trabalho na análise dos agravos à saúde relacionados ao trabalho, conforme o Programa de Gerenciamento de Riscos – PGR.
- (E) Sempre que se fizer necessário o aprofundamento da avaliação da situação do posto de trabalho.

84

Segundo a Norma Regulamentadora nº 07 (NR-7) do Ministério do Trabalho e Emprego, as opções listadas a seguir se incluem no conteúdo mínimo que deve constar no Atestado de Saúde Ocupacional (ASO), à exceção de uma. Assinale-a.

- (A) Os riscos ocupacionais específicos existentes na atividade do empregado, ou a inexistência dos mesmos.
- (B) O nome completo do empregado, sua função na empresa, e o número de registro de sua identidade.
- (C) Citação dos procedimentos médicos aos quais foi submetido o trabalhador.
- (D) Nome do médico coordenador (se houver), com CRM, e também do médico responsável pelo exame, com carimbo constando seu número de inscrição no CRM.
- (E) As conclusões das avaliações e diagnósticos efetuados pelo médico assistente do empregado.

85

Em relação à Norma Regulamentadora nº 1, assinale a afirmativa incorreta.

- (A) As Normas Regulamentadoras (NR) obrigam, nos termos da lei, empregadores e empregados, urbanos e rurais.
- (B) As Normas Regulamentadoras (NR) são de observância obrigatória pelas organizações e pelos órgãos públicos da administração direta e indireta, bem como pelos órgãos dos Poderes Legislativo, Judiciário, a serem aplicadas aos servidores em regime estatutário, bem como os empregados públicos como regidos pela Consolidação das Leis do Trabalho (CLT).
- (C) Compete à secretaria de Inspeção do trabalho (SIT), do Ministério do Trabalho e Emprego, e aos órgãos regionais a ela subordinados em matéria de Segurança e Saúde no Trabalho, nos limites de sua competência, executar as atividades relacionadas com a CANPAT e o PAT.
- (D) As organizações obrigadas a constituir CIPA nos termos da NR-05 devem adotar a inclusão de regras de conduta a respeito do assédio sexual e de outras formas de violência nas normas internas da empresa.
- (E) As organizações obrigadas a constituir CIPA nos termos da NR-05 devem adotar a realização, no mínimo a cada 12 (doze) meses, de ações de capacitação, de orientação e de sensibilização dos empregados e das empregadas de todos os níveis hierárquicos da empresa sobre temas relacionados à violência, ao assédio, à igualdade e à diversidade no âmbito do trabalho.

86

Segundo a NR-15, assinale a afirmativa correta.

- (A) O exercício de trabalho em condições de insalubridade assegura ao trabalhador a percepção de adicional, incidente sobre o salário mínimo da região, equivalente a 50% (cinquenta por cento), para insalubridade de grau máximo.
- (B) Entende-se por "Limite de Tolerância", para os fins desta Norma, a concentração ou intensidade máximas, relacionadas com a natureza e o tempo de exposição ao agente, que não causará dano à saúde do trabalhador, durante a sua vida laboral.
- (C) No caso de incidência de mais de um fator de insalubridade, será apenas considerado o de grau mais elevado, para efeito de acréscimo salarial, sendo vedada a percepção cumulativa.
- (D) O limite de Tolerância ao ruído intermitente é de 80dB(A) para exposição máxima de 8 (oito) horas diárias.
- (E) Não é permitida exposição a níveis de ruído acima de 85dB(A) para indivíduos que não estejam adequadamente protegidos.

Atenção: O enunciado a seguir refere-se às duas próximas questões.

A implantação do Nexo Técnico Epidemiológico Previdenciário (NTEP) em 2007, pela Previdência Social, após ampla discussão na 3ª Conferência Nacional de Saúde do trabalhador em 2005, e foi um grande avanço para diagnóstico etiológico de doenças relacionadas ao trabalho.

87

Assinale a opção que está condizente com o conceito do NTEP.

- (A) Considera o nexo estabelecido entre o trabalho e o agravo quando se verificar nexo técnico epidemiológico entre a ocupação do trabalhador e a entidade mórbida motivadora da incapacidade, elencada na Classificação Internacional de Doenças - CID em conformidade com o disposto na Lista C do Anexo II do Regulamento da Previdência Social.
- (B) Considera o nexo estabelecido entre o trabalho e o agravo quando se verificar nexo técnico epidemiológico entre a ocupação do trabalhador e a entidade mórbida motivadora da incapacidade, elencada na Classificação Internacional de Doenças - CID em conformidade com o disposto nas Listas A e B do Anexo II do Regulamento da Previdência Social.
- (C) Trata-se de uma metodologia, reconhecida pela legislação previdenciária, que estabelece o excesso de risco epidemiológico entre a atividade econômica da empresa, expressa na Classificação Nacional de Atividades Econômicas (CNAE) e a entidade mórbida motivadora da incapacidade do trabalhador, expressa na Classificação Internacional de Doenças (CID).
- (D) Trata-se da presunção legal do estabelecimento do nexo de causalidade entre a ocupação do trabalhador e entidade mórbida motivadora da incapacidade, elencada na Classificação Internacional de Doenças - CID em conformidade com o disposto no Art. 21-A da Lei nº 8.213/91, que dispõe sobre os Planos de Benefícios da Previdência Social.
- (E) Considera o nexo estabelecido entre o trabalho e o agravo quando se verificar nexo técnico epidemiológico entre a atividade da empresa e a entidade mórbida motivadora da incapacidade, elencada na Classificação Internacional de Doenças - CID em conformidade com o disposto nas Listas A e B, do Anexo II deste Regulamento da Previdência Social.

88

De acordo com o Art. 21-A da Lei nº 8.213/91, a perícia médica do Instituto Nacional do Seguro Social (INSS) considerará caracterizada a natureza acidentária da incapacidade quando constatar

- (A) ocorrência de nexo técnico epidemiológico entre o trabalho e o agravo, decorrente da relação entre a atividade da empresa ou do empregado doméstico e a entidade mórbida motivadora da incapacidade elencada na Classificação Internacional de Doenças (CID).
- (B) ocorrência de nexo técnico epidemiológico entre o trabalho e o agravo decorrente da relação entre a atividade da empresa ou do empregado doméstico e a ocupação do trabalhador, na Classificação Brasileira de Ocupações (CBO).
- (C) ocorrência de nexo técnico epidemiológico entre a ocupação do trabalhador, elencada na Classificação Brasileira de Ocupações (CBO) e a entidade mórbida motivadora da incapacidade, e os agravos à saúde relacionados ao trabalho elencados como de notificação compulsória pelo Sistema Nacional de Agravos de Notificação (SINAN).
- (D) ocorrência de nexo técnico epidemiológico entre atividade da sociedade empresária ou do empregado doméstico e a entidade mórbida motivadora da incapacidade elencada na Classificação Internacional de Doenças (CID) descrita na Comunicação de Acidente de Trabalho (CAT) emitida pela sociedade empresária.
- (E) ocorrência de nexo técnico epidemiológico entre o a ocupação do trabalhador, elencada na Classificação Brasileira de Ocupações (CBO) e a entidade mórbida motivadora da incapacidade elencada na Classificação Internacional de Doenças (CID).

89

Segundo a Resolução CFM nº 2.323/22, em seu Art. 1º, aos médicos do trabalho e demais médicos que atendem o trabalhador, independentemente do local em que atuem, **não** cabe

- (A) assistir ao trabalhador, elaborar seu prontuário médico e fazer todos os encaminhamentos devidos.
- (B) fornecer atestados e pareceres para o trabalhador sempre que necessário, considerando que o repouso, o acesso a terapias ou o afastamento da exposição nociva faz parte do tratamento.
- (C) fornecer laudos, pareceres e relatórios de exame médico e dar encaminhamento, sempre que necessário, dentro dos preceitos éticos.
- (D) avaliar as condições de trabalho do paciente e considerá-las na anamnese ocupacional, de forma a se possibilitar a possibilidade de nexo de causalidade entre as condições laborais e o quadro clínico do paciente.
- (E) promover, com a ciência do trabalhador, a discussão clínica com o especialista assistente do trabalhador sempre que julgar necessário e propor mudanças no contexto do trabalho, quando indicadas, com vistas ao melhor resultado do tratamento.

90

Segundo o Código de Ética Médica, instituído pela Resolução CFM nº 2.217/18, é vedado ao médico

- (A) deixar de revelar todas as informações obtidas quando do exame médico de trabalhadores, inclusive por exigência dos dirigentes de empresas ou de instituições.
- (B) deixar de prestar informações a empresas seguradoras sobre as circunstâncias da morte do paciente sob seus cuidados, além das contidas na declaração de óbito.
- (C) não permitir o manuseio e o conhecimento dos prontuários por pessoas não obrigadas ao sigilo profissional quando sob sua responsabilidade.
- (D) deixar de esclarecer o trabalhador sobre as condições de trabalho que ponham em risco sua saúde, devendo comunicar o fato aos empregadores responsáveis.
- (E) não deixar de fornecer laudo médico ao paciente ou a seu representante legal quando aquele for encaminhado ou transferido para continuação do tratamento ou em caso de solicitação de alta.

91

O Prefeito de São Paulo, muito preocupado em razão de a arrecadação tributária estar em patamar inferior ao esperado, determina que seus assessores apresentem soluções para sanar a dificuldade financeira vivenciada pelo ente federativo. Desta forma, são aventadas diversas possibilidades relacionadas aos impostos de competência municipal.

Nesse cenário, considerando as disposições da Lei Orgânica do Município de São Paulo, é correto afirmar que ingressa na competência da municipalidade o imposto sobre a

- (A) transmissão entre vivos, a qualquer título, por ato oneroso, de direitos reais sobre imóveis, inclusive os de garantia.
- (B) propriedade predial e territorial urbana.
- (C) doação de quaisquer bens e direitos.
- (D) propriedade territorial rural.
- (E) circulação de mercadorias.

92

João, angustiado com a desigualdade social existente na sociedade, pretende se candidatar ao cargo de Vereador do Município de São Paulo. Para tanto, o agente, que tem 20 anos de idade, passa a pesquisar a composição da Casa Legislativa e a idade mínima para exercer o cargo eletivo.

Nesse cenário, considerando as disposições da Lei Orgânica do Município de São Paulo, é correto afirmar que a Câmara Municipal é composta por

- (A) cinquenta e cinco Vereadores eleitos dentre os cidadãos maiores de vinte e um anos e no exercício dos direitos políticos, motivo pelo qual a idade de João é óbice ao seu intento.
- (B) cinquenta e cinco Vereadores eleitos dentre os cidadãos maiores de dezoito anos e no exercício dos direitos políticos, motivo pelo qual a idade de João não é óbice ao seu intento.
- (C) cinquenta Vereadores eleitos dentre os cidadãos maiores de dezoito anos e no exercício dos direitos políticos, motivo pelo qual a idade de João não é óbice ao seu intento.
- (D) sessenta Vereadores eleitos dentre os cidadãos maiores de vinte e um anos e no exercício dos direitos políticos, motivo pelo qual a idade de João é óbice ao seu intento.
- (E) cinquenta Vereadores eleitos dentre os cidadãos maiores de vinte e um anos e no exercício dos direitos políticos, motivo pelo qual a idade de João é óbice ao seu intento.

93

Após ser eleito para o cargo de Prefeito do Município de São Paulo, Tício é informado de que a Lei Orgânica da municipalidade faz referência ao Programa de Metas da gestão, que conterà, entre outras informações, ações estratégicas, indicadores e metas quantitativas para cada um dos setores da Administração Pública Municipal, Subprefeituras e Distritos da cidade.

Nesse cenário, considerando as disposições da Lei Orgânica do Município de São Paulo, é correto afirmar que

- (A) o Prefeito poderá proceder a alterações programáticas no Programa de Metas, em conformidade com a lei do Plano Diretor Estratégico e com a concordância da Câmara Municipal.
- (B) o resumo do Programa de Metas será publicado no Diário Oficial da Cidade, sendo certo que a consulta ao inteiro teor poderá ser requerida por qualquer interessado.
- (C) o Poder Executivo divulgará trimestralmente os indicadores de desempenho relativos à execução dos diversos itens do Programa de Metas.
- (D) ao final de cada ano, o Prefeito encaminhará, à Mesa da Câmara Municipal, o relatório da execução do Programa de Metas.
- (E) o Prefeito, eleito ou reeleito, apresentará o Programa de Metas de sua gestão até noventa dias após sua posse.

94

Joana, professora da rede pública de ensino do Município de São Paulo, é convidada a palestrar, em um evento privado, sobre a educação pública na municipalidade. Em assim sendo, durante a sua sustentação oral, Joana discursa sobre a temática da educação, cotejando-a com a legislação que lhe é aplicável em âmbito local.

Nesse cenário, considerando as disposições da Lei Orgânica do Município de São Paulo, é correto afirmar que

- (A) é dever do Município, através da rede própria, com a cooperação do Estado e da União, por intermédio do Ministério da Educação, o provimento em todo o território municipal de vagas, em número suficiente para atender à demanda quantitativa e qualitativa do ensino fundamental obrigatório e progressivamente à da educação infantil.
- (B) compete ao Município recensear os educandos do ensino médio, fazer-lhes a chamada e zelar, junto aos pais e responsáveis, pela frequência à escola.
- (C) o ensino fundamental, atendida a demanda, terá extensão de carga horária até se atingir a jornada de tempo integral, em caráter optativo pelos pais ou responsáveis, a ser alcançada pelo aumento progressivo da atualmente verificada na rede pública municipal.
- (D) a carga horária mínima a ser oferecida no sistema municipal de ensino é de seis horas diárias em cinco dias da semana.
- (E) a atuação do Município dará prioridade ao ensino fundamental e ao ensino médio.

95

Jonas, Vereador no âmbito do Município de São Paulo, é informado, pelo seu secretário, sobre um assunto extremamente delicado para a Casa Legislativa, assunto esse que poderá gerar reflexos na imprensa. Assim sendo, o parlamentar busca informações junto aos seus pares sobre a possibilidade de se convocar uma sessão extraordinária, fechada ao público.

Nesse cenário, considerando as disposições da Lei Orgânica do Município de São Paulo, é correto afirmar que

- (A) as sessões extraordinárias serão convocadas, na forma regimental, em sessão ou fora dela, e, neste caso, mediante comunicação pessoal e escrita aos Vereadores, pelo Presidente da Câmara, com antecedência mínima de quarenta e oito horas.
- (B) durante a sessão legislativa extraordinária, a Câmara deliberará sobre a matéria para a qual foi convocada e sobre outras temáticas urgentes, conforme dispuser a Mesa.
- (C) no período de recesso, a Câmara poderá ser extraordinariamente convocada pelo Prefeito ou pelo Presidente da Casa Legislativa.
- (D) as sessões extraordinárias e solenes não serão, em hipótese alguma, remuneradas.
- (E) as sessões da Câmara serão públicas, salvo deliberação em contrário, tomada por três quintos de seus membros, quando ocorrer motivo relevante.

96

Jonas, Vereador no âmbito do Município de São Paulo, pretende apresentar, na Câmara Municipal, proposição relacionada ao Plano Diretor do ente federativo. Com efeito, o parlamentar indaga, a seu assessor direto, qual Comissão teria competência específica para opinar sobre as proposições e matérias relacionadas àquela temática (Plano Diretor).

Nesse cenário, considerando as disposições do Regimento Interno da Câmara Municipal de São Paulo, é correto afirmar que a referida competência pertence à Comissão de

- (A) Trânsito, Transporte e Atividade Econômica.
- (B) Constituição, Justiça e Legislação Participativa.
- (C) Política Urbana, Metropolitana e Meio Ambiente.
- (D) Saúde, Promoção Social, Trabalho e Mulher.
- (E) Administração Pública.

97

Jonas, Vereador no âmbito do Município de São Paulo, apresenta requerimento de convocação do Secretário Municipal de Mobilidade e Trânsito para prestar informações sobre assuntos atinentes à pasta de que é titular. O requerimento de convocação, devidamente aprovado, indica explicitamente os motivos da convocação e especifica os quesitos que serão propostos ao agente político.

Nesse cenário, considerando as disposições do Regimento Interno da Câmara Municipal de São Paulo, é correto afirmar que

- (A) não havendo mais Vereadores inscritos para indagações relativas aos quesitos do instrumento de convocação, o Secretário convocado será dispensado, não podendo ser interpelado sobre assunto estranho ao objeto da convocação;
- (B) aberta a sessão para a oitava do Secretário Municipal, os Vereadores dirigir-lhe-ão interpelações sobre os quesitos constantes do requerimento, dispondo, para tanto, de dez minutos, permitidos apartes;
- (C) a Câmara se reunirá em sessão ordinária, em dia e hora previamente estabelecidos, com o fim específico de ouvir o Secretário Municipal sobre os motivos da convocação;
- (D) o Secretário Municipal deverá atender à convocação da Câmara dentro do prazo improrrogável de dez dias, contados da data do recebimento do ofício;
- (E) para responder às interpelações que lhe forem dirigidas, o Secretário Municipal disporá de dez minutos, sendo permitidos apartes.

98

Caio, Prefeito do Município de São Paulo, apresentou um determinado projeto de lei, o qual foi distribuído à Comissão de Finanças e Orçamentos da Casa Legislativa, para que haja a designação de relatores ou de subcomissão e, na sequência, a emissão de parecer no tocante à matéria de sua competência regimental.

Nesse cenário, considerando as disposições do Regimento Interno da Câmara Municipal de São Paulo, é correto afirmar que

- (A) para emitir parecer sobre qualquer matéria, cada Comissão terá o prazo de quinze dias, prorrogável por mais oito dias pelo Presidente da Mesa, a requerimento devidamente fundamentado.
- (B) nos projetos em que for solicitada urgência pelo Prefeito, o prazo para que cada Comissão emita parecer sobre a matéria fica reduzido a oito dias, vedada a prorrogação.
- (C) os relatores ou a Subcomissão terá o prazo de quinze dias para manifestar-se por escrito, a partir da data da distribuição do projeto de lei.
- (D) o Presidente da Comissão, dentro do prazo máximo de cinco dias úteis, designará os respectivos relatores ou a Subcomissão.
- (E) o prazo para a apresentação do parecer começa a correr no dia em que o processo der entrada na Comissão.

99

João, recém empossado no cargo de Vereador no âmbito da Câmara Municipal de São Paulo, entusiasmado com o exercício do primeiro mandato parlamentar, passou a estudar as normas aplicáveis à Casa Legislativa. Nesse contexto, durante os estudos, o agente político deparou-se com as hipóteses de suspensão e de encerramento das sessões, analisando-as detidamente.

Nesse cenário, considerando as disposições do Regimento Interno da Câmara Municipal de São Paulo, avalie se a sessão será encerrada antes da hora regimental pelos seguintes motivos:

- I. No caso de luto municipal ou estadual, pelo falecimento de autoridade, por deliberação do Presidente da Mesa.
- II. Para preservação da ordem.
- III. No caso de tumulto grave.

Está correto o que se afirma em

- (A) I, apenas.
- (B) II, apenas.
- (C) III, apenas.
- (D) I e II.
- (E) I e III.

100

Jonatas, Vereador no âmbito da Câmara Municipal de São Paulo, inconformado com determinada decisão tomada pelo Presidente da Casa Legislativa em questão de ordem, pretende apresentar recurso ao Plenário.

Nesse cenário, considerando as disposições do Regimento Interno da Câmara Municipal de São Paulo, assinale a afirmativa correta.

- (A) Emitido o parecer da Comissão de Constituição e Justiça, independentemente de sua publicação, o recurso será, obrigatoriamente, incluído na pauta da ordem do dia da sessão ordinária seguinte, para deliberação do Plenário.
- (B) Apresentado o recurso, o Presidente poderá se retratar da decisão anteriormente tomada na questão de ordem, encaminhando a sua manifestação para ratificação do Plenário.
- (C) A Comissão de Constituição e Justiça terá o prazo de dois dias úteis, prorrogável, uma única vez, por igual período, para emitir parecer sobre o recurso.
- (D) O recurso formulado por escrito deverá ser proposto dentro do prazo improrrogável de cinco dias úteis, contados da decisão do Presidente.
- (E) até a deliberação do Plenário sobre o recurso, a decisão tomada pelo Presidente na questão de ordem ficará suspensa.

Realização

