



CONCURSO PÚBLICO  
EDITAL Nº 02, DE 30 DE OUTUBRO DE 2023

## CÂMARA MUNICIPAL DE SÃO PAULO

# PROVA OBJETIVA – MANHÃ

## CONSULTOR TÉCNICO LEGISLATIVO MEDICINA - CLÍNICA GERAL

NÍVEL SUPERIOR TIPO 1 – BRANCA



### SUA PROVA

- Além deste caderno contendo **100 (cem)** questões objetivas, você receberá do fiscal de prova o cartão de respostas;
- As questões objetivas têm **5 (cinco)** opções de resposta (A, B, C, D e E) e somente uma delas está correta.



### TEMPO

- Você dispõe de **5 (cinco) horas** para a realização da prova, já incluído o tempo para a marcação do cartão de respostas;
- **2 (duas) horas** após o início da prova, é possível retirar-se da sala, sem levar o caderno de questões;
- A partir dos **30 (trinta) minutos** anteriores ao término da prova é possível retirar-se da sala **levando o caderno de questões**.



### NÃO SERÁ PERMITIDO

- Qualquer tipo de comunicação entre os candidatos durante a aplicação da prova;
- Anotar informações relativas às respostas em qualquer outro meio que não seja o caderno de questões;
- Levantar da cadeira sem autorização do fiscal de sala;
- Usar o sanitário ao término da prova, após deixar a sala.



### INFORMAÇÕES GERAIS

- Verifique se seu caderno de questões está completo, sem repetição de questões ou falhas. Caso contrário, **notifique imediatamente o fiscal da sala**, para que sejam tomadas as devidas providências;
- Confira seus dados pessoais, especialmente nome, número de inscrição e documento de identidade e leia atentamente as instruções para preencher o cartão de respostas;
- Para o preenchimento do cartão de respostas, use somente caneta esferográfica, fabricada em material transparente, com tinta preta ou azul;
- Assine seu nome apenas no(s) espaço(s) reservado(s) no cartão de respostas;
- Confira seu cargo, cor e tipo do caderno de questões. Caso tenha recebido caderno de cargo ou cor ou tipo **diferente** do impresso em seu cartão de respostas, o fiscal deve ser **obrigatoriamente** informado para o devido registro na ata da sala;
- Reserve tempo suficiente para o preenchimento do seu cartão de respostas. O preenchimento é de sua responsabilidade e **não será permitida a troca do cartão de respostas em caso de erro cometido pelo candidato**;
- Para fins de avaliação, serão levadas em consideração apenas as marcações realizadas no cartão de respostas;
- A FGV coletará as impressões digitais dos candidatos na lista de presença;
- Os candidatos serão submetidos ao sistema de detecção de metais quando do ingresso e da saída de sanitários durante a realização das provas.
- **Boa sorte!**



## Língua Portuguesa

1

Em todas as frases abaixo havia uma repetição de termos, que foi evitada pela substituição do segundo termo. Assinale a opção em que essa substituição não acrescentou nenhuma informação nova ao termo anterior.

- (A) Eu já vi esse filme e não tenho vontade de rever esse dramalhão.
- (B) Sofia convidou o Marcelo. Ela espera que seu amigo goste da comida.
- (C) Eu fui ver uma casa para alugar, mas eu não me vejo morando naquele cubículo.
- (D) Rosa me apresentou seu primo, mas não tenho nenhuma vontade de rever esse rapaz pretensioso.
- (E) Bernardo apresentou a namorada a seus pais, mas a menina deu a impressão de ser muito tímida.

2

Entre os raciocínios a seguir, assinale aquele que se inclui entre os indutivos.

- (A) Ser aprovado em um curso e gostar do que estuda são coisas que vão juntas. Meu irmão não passou em Biologia, ou seja, ele não gostava dessa disciplina.
- (B) Estive em um cassino em Las Vegas e fui a uma máquina em que você pode ganhar um milhão, apostando três dólares. Meti os três dólares na máquina, pedi a Deus que ganhasse, puxei a manivela e não ganhei nada. Portanto Deus não existe.
- (C) Muitas cidades interioranas procuram aumentar sua renda por meio de festas em finais de semana, que chegam a atrair muitos turistas. Na semana passada, uma dessas cidades programou-se para uma movimentada festividade, mas um temporal fortíssimo acabou com os sonhos da Prefeitura. Conclusão: nem tudo que reluz é ouro.
- (D) Os sorteios da Loteria Federal já realizaram sonhos e muita gente, mas também produzem tragédias, como a do pobre sujeito que, após ficar rico, foi assassinado a mando da esposa.
- (E) As obras de Machado de Assis, sobretudo as da fase realista, produzem muita admiração nos leitores por sua organização; o *Dom Casmurro* não é diferente.

3

Observe o texto abaixo:

“A felicidade depende da destreza que tenhamos naquelas atividades que consideramos importantes para nós: somente se damos um real valor aos pequenos detalhes cotidianos, podemos ter instantes felizes. A felicidade absoluta não existe, e já que só podemos ter acesso aos pequenos detalhes daquilo que nos interessa, devemos contentar-nos também com esses breves momentos felizes. Por isso, a infelicidade é um claro sinal de nossa incompetência na arte de viver.”

Sobre esse pequeno texto, assinale a afirmativa que está em **desacordo** com a sua estrutura ou sua significação.

- (A) O tema do texto é a discussão sobre o que viria a ser a felicidade e o que seria oposto a ela.
- (B) A estrutura básica do texto é a argumentativa, já que o enunciador defende um posicionamento sobre o tema.
- (C) O argumento básico do texto se fundamenta nas próprias opiniões do argumentador.
- (D) A tese presente no texto é a de que a infelicidade é fruto de nossa incompetência na arte de viver.
- (E) O método empregado na construção do raciocínio nesse texto é o indutivo, já que parte dos detalhes para o todo.

4

“Nos países da Europa oriental, a queda dos regimes comunistas esteve associada à emergência de amplos movimentos sociais que lutavam por mudanças definitivas no sistema econômico como por preocupação com a vigência de direitos cidadãos.”

Entre as afirmações abaixo, assinale aquela que é defendida clara ou implicitamente pelo autor desse fragmento textual.

- (A) Os regimes comunistas nos países da Europa oriental perderam valor em face de movimentos sociais opostos.
- (B) A queda dos regimes comunistas na Europa oriental trouxe implicações na área política e econômica.
- (C) O regime comunista não mostrava a vigência dos direitos cidadãos como uma de suas prioridades.
- (D) As sociedades da Europa oriental começaram a mover-se política e socialmente a partir da queda dos regimes comunistas.
- (E) As tentativas de mudança socialmente procuradas, tanto no âmbito econômico como no social acabaram por modificar a estrutura política da Europa oriental.

5

Um texto é um conjunto de frases organizado de modo a apresentar-se coerente e estruturado. A coerência do texto repousa, entre outros, sobre um princípio de continuidade, que é assegurada pela retomada de informações, ou seja, retomar os elementos já expressos no texto.

Observe o texto a seguir:

“Antônio caminhava em direção ao mar. Essa vasta extensão azul o fascinava há longo tempo. Ela o acalmava, pacificava, o atraía. Lá, ele se sentia sempre convidado.”

Assinale a afirmação **inadequada** sobre os elementos de coerência desse pequeno texto.

- (A) O termo “mar” é retomado pelo grupo nominal “essa vasta extensão azul”.
- (B) O termo “Antônio” é retomado em três ocorrências do pronome oblíquo “o”.
- (C) O termo Antônio também reaparece no emprego do pronome pessoal “Ele” e do pronome reflexivo “se”.
- (D) O pronome “Ela” retoma o termo “mar”, presente na frase inicial do texto.
- (E) O advérbio “Lá” retoma a ideia de “mar”, citado anteriormente.

6

Observe o seguinte texto narrativo:

“Seguia caminhando lado da menina, mas sua mente estava ocupada com o problema da ponte, que agora lhe aparecia com toda a clareza e precisão, como quando a lente da câmera está bem focada...”

Assinale a afirmação abaixo, a respeito do gênero narrativo a que pertence esse fragmento textual, que mostra **erro**.

- (A) Na narrativa histórica predomina a função referencial da linguagem.
- (B) O narrador possui diversos graus de restrição na informação que possui.
- (C) Na narrativa não pode estar presente o diálogo, que é próprio do gênero teatral.
- (D) A narrativa pode misturar ficção e realidade.
- (E) Um relato inclui ações e acontecimentos em ordem cronológica.

7

“A mãe de Pedrinho fumou enquanto estava grávida e por isso ele é uma criança fraca e de baixo peso.”

Assinale a opção que aponta o tipo de argumento lógico racional que foi utilizado neste fragmento textual.

- (A) Argumento com base na autoridade científica.
- (B) Raciocínio com base na experiência profissional.
- (C) Pensamento que relaciona causa e consequência.
- (D) Afirmação fundamentada no bom-senso geral.
- (E) Argumentação apoiada na generalização.

8

Todos os segmentos abaixo se inserem entre os textos explicativos; assinale aquele que apela para o processo explicativo da analogia.

- (A) O processo de aterrissagem é tal qual o pouso de um pássaro, mas com mais peso.
- (B) A forma das asas de um avião é semelhante à das asas de um pássaro.
- (C) Em outras palavras, o desenho das asas obedece à necessidade de deslocamento mais rápido no espaço.
- (D) Vejamos, por exemplo, o pouso de um grande pássaro, como um gavião ou uma águia.
- (E) O aerodinamismo é a marca de formas concebidas para oferecer um mínimo de resistência ao ar.

9

Observe o seguinte texto explicativo:

“As coisas de que o corpo precisa são facilmente obtidas por todos sem trabalho ou dificuldade; as coisas que exigem labor e são difíceis de obter e oneram a vida são desejadas, não pelo corpo, mas por um estado ruim da mente.”

Abaixo estão várias marcas linguística desse tipo de texto (explicativo); assinale a que está em desacordo com o exemplo dado acima.

- (A) Reduzida quantidade de verbos de imaginação.
- (B) Pouca presença de palavras que expressam sentimento.
- (C) Ausência total de pronomes pessoais.
- (D) Construção sem a presença do enunciador.
- (E) Preferência por linguagem clara e precisa.

10

Entre os fragmentos textuais abaixo, assinale o que pertence a um modo de organização discursiva (descrição, narração, argumentação, exposição e injunção) diferente dos demais.

- (A) Numa decisão rápida, segurou-se a uma saliência do rochedo deixando a vaga passar sobre ele.
- (B) O vão da caverna que era iluminado pela tocha era ainda mais amplo do que o imaginara. Sua cúpula imensa era alta, coberta es estalactites.
- (C) A estátua de Atena estava de pé, com a deusa vestindo uma túnica que descia até os pés, e sobre seu peito estava esculpida uma cabeça da Medusa de marfim.
- (D) Eu nunca vi tanta graça unida a tanta gravidade. Sua roupa a tornava muito elegante e fazia que parecesse frágil. Um manto marrom que ele trazia ao entrar estava jogado sobre as costas.
- (E) O computador era dos antigos, com um grande teclado cujas letras estavam dispostas à moda inglesa e com pouca luminosidade na tela pequena.

11

Assinale a frase que não apresenta uma oposição semântica entre dois termos (antônimos).

- (A) Todos julgam segundo a aparência, ninguém segundo a essência.
- (B) Os ignorantes julgam a interioridade a partir da exterioridade.
- (C) Nas grandes coisas, os homens se mostram como lhes convém se mostrar; nas pequenas, mostram-se como são.
- (D) Os homens mascaram seu demônio com o anjo mais belo que conseguem encontrar.
- (E) Pelas roupas rasgadas mostram-se os vícios menores: as vestes de cerimônia e as peles escondem todos eles.

**12**

Muitas formas de superlativo de adjetivos se utilizam de radicais latinos, daí que mostrem diferenças em relação ao radical do adjetivo atual. Assinale o superlativo abaixo que utiliza o radical atual do adjetivo.

- (A) Todas as coisas que hoje se creem antiquíssimas já foram novas.
- (B) Nessa época todos os morros da região estavam com seus cimos congeladíssimos.
- (C) Hoje em dia, notam-se pessoas paupérrimas andando pelas ruas de bairros chiques.
- (D) Por causa da doença, o senador voltou ao Congresso magérrimo, com as feições abatidas.
- (E) Com as demolições, todo o chão estava coberto de escombros, aspérrimo e muito sujo.

**13**

Assinale a frase a seguir que mostra a preposição PARA no valor semântico de "finalidade".

- (A) A natureza é apenas um nome para um efeito cuja causa é Deus.
- (B) Há boas razões para proteger a Terra: ela prolonga a lucratividade.
- (C) Para a pedra atirada, cair não é um mal, nem subir um bem.
- (D) O melhor exercício para um gato é outro gato.
- (E) Os galhos são raízes que se estendem para o alto do ar.

**14**

Assinale a frase em que as palavras repetidas pertencem a classes diferentes.

- (A) Um tolo ensinado é mais tolu do que um tolu ignorante.
- (B) Eu não sou teimosu; um teimosu é aquele que teima comigo.
- (C) Não discuta com um bobu, pois se torna tão bobu quanto ele.
- (D) O seu cão será sempre um cão, não importa a coleira.
- (E) Um grande professor será sempre um grande homem.

**15**

Assinale a frase que está integralmente expressa com palavras em sentido lógico (não figurado).

- (A) Em mar calmo, todo homem é bom piloto.
- (B) Hoje não existem mais malandros, somente bandidos.
- (C) Escritores são aqueles cujas almas falam nas bibliotecas.
- (D) Taquígrafo é a pessoa que aposta corrida com as palavras.
- (E) Diplomata é um indivíduo cuja cor preferida é o arco-íris.

**16**

Assinale a frase abaixo que exemplifica uma definição do termo "felicidade".

- (A) Felicidade é um agora sem nenhuma pressa.
- (B) Felicidade é um modo de viajar, não um destino.
- (C) Felicidade é um fluxo de caixa positivo.
- (D) Felicidade é como uma flor que não se deve colher.
- (E) Felicidade é a qualidade de quem é feliz.

**17**

Abaixo aparecem cinco definições de um termo que é identificado ao final, entre parênteses; assinale a opção em que o termo indicado **não** está de acordo com a definição dada.

- (A) bolinho feito com carne picada ou moída, miolo de pão, ovos e diferentes temperos, e que, depois de frito, é servido geralmente com molho. (almôndega).
- (B) fato, ação, gesto ou palavra que intimida ou atemoriza. (processo).
- (C) preparação em pasta sólida e untuosa, em geral colorida, enformada num pequeno bastão para ser usado como cosmético nos lábios. (batom).
- (D) regime alimentar, especialmente o prescrito pelo médico a um doente ou a um convalescente. (dieta).
- (E) espaço fechado onde se eleva artificialmente a temperatura do ar, destinado a abrigar plantas e flores, cujo cultivo depende de calor. (estufa).

**18**

Abaixo aparecem frases em que os termos destacados mostram uma relação lógica entre eles; essa mesma relação é repetida em outra frase a seguir. Assinale a opção em que a primeira relação é repetida de forma conveniente na segunda.

- (A) Grávida está para ginecologista como tuberculoso está para oncologista.
- (B) Unha está para manicure como automóvel está para garagista.
- (C) Edifício está para portaria como livro está para prólogo.
- (D) Pé está para sola como mão está para dedo.
- (E) Tato está para pele como olfato está para língua.

**19**

Em cada item abaixo há um conjunto de três palavras, seguido de um hiperônimo, ou seja, uma palavra que abrange todas as anteriormente citadas. Assinale a opção em que o hiperônimo indicado é **inadequado**.

- (A) livro – estátua – quadro / obra.
- (B) engenheiro – químico – enfermeiro / profissão.
- (C) rua – praça – avenida / logradouro.
- (D) estudantada – enxame – rebanho / conjunto.
- (E) conto – romance – novela / estilo.

**20**

Todas as frases abaixo mostram o emprego de uma vírgula. Assinale a frase em que esse emprego está corretamente justificado.

- (A) Bahia, 22 de abril de 1500 / separar ou isolar o vocativo.
- (B) Os pessimistas, devemos deixá-los de lado / indicar a supressão de verbo já enunciado.
- (C) Em toda revolução, há as pessoas que a fazem e as que se aproveitam dela / separar ou isolar o adjunto adverbial deslocado.
- (D) Só existem três coisas que param no ar: beija-flor, helicóptero e Dadá Maravilha / isolar expressões de valores diversos.
- (E) O São Paulo não precisa de um psicólogo, mas sim de um psiquiatra / isolar o aposto.

## 21

Abaixo estão cinco frases com latinismos empregados na língua portuguesa; assinale a opção em que o latinismo tem seu significado indicado corretamente.

- (A) "...e se tal era o intuito, força é confessar que a publicidade tornava-se uma condição *sine qua non*. Em suma, poderia dever algumas atenções, mas não devia um real a ninguém." / sem exceção.
- (B) "Ali o recebem ruidosamente os companheiros. Conta-lhes a façanha. Contam-lhe outras idênticas; e trocam-se as impressões heroicas numa adjetivação *ad hoc*, que vai num crescendo do destalado ríspido ao temer o pronunciado num trêmulo enrouquecido e longo." / inadequada.
- (C) "...; as rezas dirigidas a S. Campeiro, canonizado *in partibus*, ao qual se acendem velas pelos campos;" / em vários lugares.
- (D) "Intercorrem ainda paragens menos estéreis, e nos trechos em que se operou a decomposição *in situ* do granito, originando algumas manchas argilosas, as copas virentes dos ouricurizeiros circuitam — parênteses breves abertos na aridez geral — as bordas das ipueiras." / em pequenas partes.
- (E) "Entre rapazes não deve haver cerimônias, mal-entendidos; somos colegas, temos de ser amigos, por conseguinte tratemo-nos desde já por "tu"! Não és da mesma opinião, ó Paiva? - *In totum!* respondeu este, abraçando Amâncio pela cintura." / Totalmente.

## 22

As preposições podem ser gramaticais – se exigidas pela regência de algum termo anterior – ou nocionais, quando não são obrigatórias e mostram um significado. Assinale a frase abaixo em que a preposição A tem valor nocional.

- (A) Os feirantes vendiam bananas a \$10 a dúzia.
- (B) Os que governam são obrigados a conhecer pelo menos gramática.
- (C) Um conservador é um homem com duas excelentes pernas que, contudo, nunca aprendeu a andar para a frente.
- (D) O futuro a Deus pertence e quando a gente é ministro pertence também ao presidente.
- (E) A punição que os bons sofrem, quando se recusam a tomar parte no governo, é viver sob o governo dos maus.

## 23

Em todas as frases abaixo ocorre a repetição de termos idênticos; para evitá-la, foram utilizados meios diferentes. Assinale a opção em que a forma de substituição do segundo termo repetido está corretamente identificada.

- (A) Uma vez na caverna, o gato começa a procurar o rato de que lhe havia falado a raposa. O gato levanta as caixas, que caem fazendo um grande barulho. / substituição pelo pronome relativo "que".
- (B) O proprietário entra imediatamente na caverna com uma vara na mão. O gato de esconde para poder escapar do proprietário. / substituição pelo pronome pessoal "dele".
- (C) O gato encontrou, no entanto, um local escuro e se escondeu no lugar escuro. / substituição pelo advérbio "onde".
- (D) O proprietário acende uma tocha e se aproxima do esconderijo do gato. O gato mostrou todas as suas unhas e fugiu. / substituição pelo pronome demonstrativo "aquele".
- (E) O gato compreendeu que a raposa lhe fizera uma cilada. Ele fará a raposa pagar por essa cilada. / substituição por pronome pessoal "lhe".

## 24

A antítese é uma figura de linguagem em que se opõem, numa mesma frase, palavras ou pensamentos de sentido contrário.

Segundo essa definição, há uma antítese na seguinte frase:

- (A) A política é a arte de trair os interesses reais e legítimos e de criar, em lugar deles, interesses imaginários e injustos.
- (B) É verdade que existem idiotas no Congresso, mas eles constituem boa parte da população e merecem estar bem representados.
- (C) O coração de um homem de Estado deve estar na sua cabeça.
- (D) O problema do Brasil é um sistema político permissivo que manipula um sistema administrativo ultrapassado.
- (E) ) A guerra é feita no momento em que se quer e é terminada quando se pode.

## 25

Assinale a frase em que se emprega corretamente o acento grave indicativo da crase.

- (A) Sempre se escreve à história erradamente. Por isso precisa ser reescrita sem cessar.
- (B) A história é um cavalo que galopa atravessando à janela, e você deve decidir se saltará para montá-lo ou não.
- (C) O momento que estamos vivendo pertence igualmente à todos, mas o que passou não é mais nosso.
- (D) Viver a aventura é encontrar o caminho de volta ao silêncio e à quietude de mil anos atrás.
- (E) Tempo não é dinheiro. Mas à alguns o dinheiro rouba o tempo e a outros o tempo rouba o dinheiro.

## 26

Os adjetivos podem representar estados, qualidades, características e relações; assinale a frase que mostra um tipo de adjetivo diferente dos demais.

- (A) Em questão de árvores genealógicas, é mais seguro andar pelos ramos que se aprofundar nas raízes.
- (B) O problema com as crianças é que elas não são retornáveis.
- (C) Até a criança completar um ano ela é incapaz de pecar.
- (D) Eu tive uma grande vantagem que meus filhos não tiveram: eu nasci pobre.
- (E) Afinal, o que é Deus? Uma eterna criança brincando eternamente no jardim eterno.

## 27

Em todas as frases abaixo há um termo sublinhado, composto da preposição DE + substantivo; assinale a frase em que esse termo **não** pode ser substituído adequadamente por um adjetivo.

- (A) Nada chegará ao fundo da risada de uma criança. / infantil.
- (B) O suco de garrafa parece menos gostoso. / engarrafado.
- (C) O teclado do computador é logicamente organizado. / computacional.
- (D) Os solos do deserto são áridos. / desérticos.
- (E) As vestes do bispo são elegantes. / episcopais.

28

Assinale a frase em que o adjetivo sublinhado mostra uma função sintática diferente das demais.

- (A) O melhor acessório de uma mulher é um homem bem-vestido.  
 (B) Em assuntos de grande importância, o estilo, e não a sinceridade, é a questão vital.  
 (C) É impossível ser ridículo dentro de um Mercedes.  
 (D) Os tempos mudaram. O príncipe encantado também está procurando seu príncipe encantado.  
 (E) Muitos dizem, conforme sua afirmação, que eu sou uma velha raposa.

29

Entre as palavras abaixo, assinale aquela em que os dois vocábulos devem flexionar-se.

- (A) Testemunha-chave.  
 (B) Fila-monstro.  
 (C) Estrutura-padrão.  
 (D) Funcionário-responsável.  
 (E) Livro-caixa.

30

Assinale a frase abaixo em que a concordância da forma de participio sublinhada mostra erro.

- (A) Fica confirmado perante o tribunal a autoria da carta.  
 (B) Merecem ser admiradas, apesar de tudo, as obras de Wagner.  
 (C) Os autores sabem que esse direito não lhes é assegurado.  
 (D) Tem sido demonstrado tais filmes serem falsos.  
 (E) Nos é permitido ter acesso a esses documentos.

## Raciocínio Lógico e Matemático

31

Rubinho percorreu uma certa distância em 2 horas, com velocidade constante.

Se percorrer a mesma distância aumentando a velocidade em 100%, é correto concluir que

- (A) o tempo aumentará 100%.  
 (B) o tempo diminuirá 100%.  
 (C) o tempo diminuirá 50%.  
 (D) o tempo diminuirá 25%.  
 (E) o tempo diminuirá 20%.

32

Na Black Friday, Laura comprou um vestido com 25% de desconto e pagou R\$ 168,00.

Sem o desconto, o preço do vestido era

- (A) R\$ 250,00.  
 (B) R\$ 248,00.  
 (C) R\$ 224,00.  
 (D) R\$ 210,00.  
 (E) R\$ 200,00.

33

Sabe-se que a sentença “Se faz sol e o mar está calmo, então vou remar” é FALSA.

Nesse caso, é correto concluir que

- (A) Não faz sol ou o mar não está calmo.  
 (B) Faz sol e o mar não está calmo.  
 (C) Não faz sol e o mar está calmo.  
 (D) Vou remar ou não faz sol.  
 (E) Não vou remar e o mar está calmo.

34

Sabe-se que os conjuntos  $A = \{1, 3, 5, x, 8\}$  e  $B = \{2, 3, y, 7, 8\}$  têm, cada um, 5 elementos. Sabe-se, também, que a interseção de  $A$  e  $B$  tem 4 elementos.

A soma dos elementos da união de  $A$  e  $B$  é

- (A) 26.  
 (B) 27.  
 (C) 28.  
 (D) 29.  
 (E) 30.

35

Considere uma sequência de pontos do plano cartesiano tal que para cada ponto  $(x, y)$  da sequência, o próximo ponto é obtido de acordo com a seguinte regra:

- Se  $x$  é ímpar, então o próximo ponto será  $(x + 3, y - 1)$ ;
- Se  $x$  é par, então o próximo ponto será  $(\frac{x}{2}, 2y)$ .

Começando com o ponto  $(2024, 0)$ , a soma das coordenadas do 10º ponto da sequência é

- (A) 24.  
 (B) 12.  
 (C) 0.  
 (D) -12.  
 (E) -24.

36

Considere a seguinte amostra de 7 números inteiros positivos:

3, 3, 6, 3, x, 5, 11.

Sabe-se que a média dessa amostra também é um número inteiro.

Sendo  $S$  a soma da moda, da mediana e da média dessa amostra, o menor valor possível de  $S$  é

- (A) 11.  
 (B) 12.  
 (C) 13.  
 (D) 14.  
 (E) 15.

37

Neuza escreveu duas vezes, em uma folha de papel, um mesmo número inteiro. Marcelo, a seguir, escreveu três vezes um outro número inteiro, na mesma folha de papel. A soma dos 5 números escritos é 120 e um dos números é 22.

A soma dos algarismos do outro número é

- (A) 6.  
 (B) 7.  
 (C) 8.  
 (D) 9.  
 (E) 10.

38

Ana, Beto, Carla, Danilo e Elisa participaram de uma corrida com outros 5 participantes. Ana chegou 4 posições atrás de Carla. Carla chegou uma posição à frente de Beto. Danilo chegou 4 posições atrás de Elisa e Elisa chegou 2 posições atrás de Beto.

Ana chegou na 6ª posição.

Nesse caso, é correto afirmar que

- (A) Ana chegou atrás de Danilo.
- (B) Beto chegou na 2ª posição.
- (C) Carla chegou na 1ª posição.
- (D) Danilo chegou na 9ª posição.
- (E) Elisa chegou na 7ª posição.

39

Uma sequência de 2024 números inteiros maiores do que zero é tal que um dos números ocorre exatamente 13 vezes e qualquer outro número dessa sequência ocorre menos vezes do que ele.

A menor quantidade possível de números inteiros diferentes nessa sequência é

- (A) 169.
- (B) 168.
- (C) 167.
- (D) 166.
- (E) 165.

40

Uma moeda é tal que a probabilidade de sair “cara” é  $\frac{1}{4}$ .

Essa moeda é lançada 4 vezes consecutivas.

A probabilidade de que saiam mais “caras” do que “coroas” é igual a

- (A)  $\frac{1}{4}$ .
- (B)  $\frac{1}{256}$ .
- (C)  $\frac{3}{64}$ .
- (D)  $\frac{3}{256}$ .
- (E)  $\frac{13}{256}$ .

41

O inteiro positivo N é o menor número tal que dividido por 13 deixa resto 12 e dividido por 11 deixa resto 10.

A soma dos algarismos de N é

- (A) 6.
- (B) 7.
- (C) 8.
- (D) 9.
- (E) 10.

42

Utilizando apenas pesos de 200g e de 350g, o número mínimo de pesos que devem ser reunidos para que se obtenha exatamente 4kg é

- (A) 12.
- (B) 14.
- (C) 16.
- (D) 18.
- (E) 20.

43

Considere a afirmação referente aos candidatos de um concurso: “Todo candidato possui curso superior ou 5 anos de experiência”.

A negação lógica dessa sentença é:

- (A) Todo candidato não possui curso superior ou não possui 5 anos de experiência.
- (B) Todo candidato não possui curso superior e não possui 5 anos de experiência.
- (C) Há candidato que não possui curso superior ou não possui 5 anos de experiência.
- (D) Há candidato que possui curso superior, mas não possui 5 anos de experiência.
- (E) Há candidato que não possui curso superior e não possui 5 anos de experiência.

44

Um estacionamento possui uma fila de 100 vagas, uma ao lado da outra, numeradas de 1 a 100. Em certo momento várias vagas estão ocupadas e João chega para estacionar seu carro.

João diz ao atendente:

– *Gostaria de uma vaga que não tivesse carro estacionado ao lado.*

O atendente verifica o mapa do estacionamento e diz:


– *Impossível atendê-lo. No momento, qualquer vaga vazia terá, pelo menos, um carro já estacionado ao lado.*

No mínimo, o número de vagas do estacionamento já ocupadas é

- (A) 33.
- (B) 34.
- (C) 40.
- (D) 49.
- (E) 50.

45

Na cidade suíça de Solothurn cada dia é dividido em 22 horas e cada hora é dividida em 60 minutos. Nessa cidade, a metade de um dia possui 11 horas como mostra o relógio abaixo.



As unidades hora e minuto da cidade de Solothurn são abreviadas por hS e mS, respectivamente.

Hans mora nessa cidade e, certo dia, entrou na empresa em que trabalha às 9 hS 40 mS e saiu da empresa às 16 hS 27 mS.

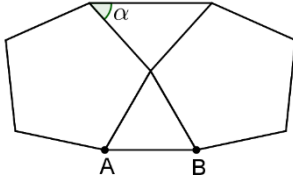
O tempo, medido nas unidades de tempo adotadas em nosso país, que Hans permaneceu na empresa foi de:

- (A) 6 horas e 47 minutos.
- (B) 6 horas e 56 minutos.
- (C) 7 horas e 07 minutos.
- (D) 7 horas e 16 minutos.
- (E) 7 horas e 24 minutos.



46

A figura abaixo mostra um triângulo equilátero de lado AB com dois pentágonos regulares colados.



O ângulo  $\alpha$  assinalado na figura mede:

- (A)  $42^\circ$ .
- (B)  $45^\circ$ .
- (C)  $48^\circ$ .
- (D)  $52^\circ$ .
- (E)  $56^\circ$ .

47

Gabriel, Hugo e Ledo são atletas e disputam uma série de corridas. Em cada corrida, o vencedor ganha 4 pontos, quem chega em segundo lugar ganha 2 pontos e quem chega em terceiro ganha 1 ponto. Após a terceira corrida, Gabriel acumulou um total de N pontos.

O número de valores diferentes possíveis para N é:

- (A) 6.
- (B) 7.
- (C) 8.
- (D) 9.
- (E) 10.

48

Em um grupo de 40 jovens, 20 vestem camisetas brancas, 22 vestem bermudas pretas e 12 não vestem nenhuma dessas peças descritas.

Sorteando ao acaso um desses jovens, a probabilidade de que ele esteja com camiseta branca e bermuda preta é igual a

- (A) 25%.
- (B) 30%.
- (C) 35%.
- (D) 40%.
- (E) 45%.

49

Na prateleira de uma cozinha há três potes: A, B e C. Um deles contém arroz, outro contém feijão e outro contém farinha.

Das afirmativas seguintes, somente uma é verdadeira:

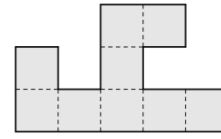
- A contém farinha.
- B não contém feijão.
- C não contém farinha.

Nesse caso, é correto afirmar que:

- (A) o pote A contém feijão.
- (B) o pote B contém farinha.
- (C) o pote C contém feijão.
- (D) o pote A contém arroz.
- (E) o pote B não contém arroz.

50

A figura abaixo foi feita reunindo pequenos quadrados todos iguais.



O perímetro da figura é de 120cm.

A área da figura em  $\text{cm}^2$  é

- (A) 288.
- (B) 324.
- (C) 342.
- (D) 360.
- (E) 378.

## Conhecimentos Específicos

51

Um servidor, 45 anos, hígido, procura o Posto de Atendimento médico por um quadro de dor lombar à esquerda, isolada, sem sinais/sintomas de alarme, já resolvida.

Ele traz o seguinte resultado de uma ultrassonografia dos rins e do sistema coletor realizada neste contexto álgico: *“em loja renal direita, presença de lesão anecoica de 1,5 centímetro, de paredes finas, contornos regulares e sem calcificações. Demais estruturas sem alterações”*.

Após avaliação você orienta quanto ao uso eventual de sintomáticos e incremento nos cuidados associados a ergonomia.

Diante do achado em exame de imagem, e de acordo com as Diretrizes Diagnósticas e Terapêuticas do Carcinoma de Células Renais/2022, você corretamente conclui tratar-se de

- (A) um cisto simples, sem necessidade de investigação adicional nem de acompanhamento.
- (B) um cisto simples, cabe complementação com tomografia computadorizada da pelve e referência para serviço especializado
- (C) um cisto complexo, pela dimensão superior a 1,0 centímetro - cabe avaliação com urologista.
- (D) um cisto complexo, pela ausência de calcificação; cabe complementação com uro-ressonância magnética.
- (E) um nódulo indeterminado – a ecografia abdominal apresenta baixa acurácia na diferenciação entre lesões sólidas e císticas.

52



<https://www.gov.br/ans/pt-br/assuntos/noticias/sobre-ans/dia-mundial-do-rim>

O Dia Mundial do Rim foi instituído com o objetivo de informar a população sobre as doenças renais, com foco na prevenção e na incorporação de práticas saudáveis. Cerca de 7000 brasileiros foram acometidos pelo câncer renal em 2018.

Diretrizes Diagnósticas e Terapêuticas do Carcinoma de Células Renais/2022

Em relação às características do câncer renal, é correto afirmar que

- (A) carcinoma de células renais (CCR), ou adenocarcinoma de células renais, é o tipo mais comum de câncer de rim.
- (B) o CCR é mais frequente em indivíduos com menos de 40 anos.
- (C) a razão de casos de CCR entre homens e mulheres é 1:1,5.
- (D) os fatores de risco são escassamente estabelecidos.
- (E) o rastreamento populacional é recomendado a partir dos 50 anos.

53

Uma servidora de 50 anos, assintomática, apresenta ao longo dos últimos meses alterações laboratoriais em um padrão de colestase. Em relação à avaliação por métodos de imagem avalie as assertivas a seguir.

- I. A avaliação não-invasiva por imagem do fígado e da árvore biliar é mandatória em todos os pacientes com evidência bioquímica de colestase.
- II. Usualmente a ultrassonografia do abdome é o primeiro exame de imagem a ser realizado a fim de excluir obstrução biliar extra-hepática.
- III. A ausência de dilatação do ducto biliar indica que a causa da colestase deve ser intra-hepática, enquanto a dilatação dos ductos sugere a avaliação de causas extra-hepáticas.

Está correto o que se afirma em

- (A) I e II, apenas.
- (B) I e III, apenas.
- (C) II e III, apenas.
- (D) III, apenas.
- (E) I, II e III.

54

Servidora, 55 anos, em investigação por uma síndrome de colestase há um ano.

Ela procura novamente o posto de atendimento médico da Câmara Municipal de São Paulo, por um quadro de prurido cutâneo, sem evidência de lesões dermatológicas elementares.

Você prescreve uma medicação sintomática, propõe cuidados locais e observa o seguinte perfil laboratorial recentemente solicitado por outro colega.

**Laboratório:** aspartato aminotransferase (AST): 90 UI/L; alanina aminotransferase (ALT) :80 UI/L; bilirrubina total: 0,7 mg/dL; fosfatase alcalina: 520 UI/l; gama glutamil-transferase: 243 UI/l; albumina 4,5 mg/dL; globulina 1,5 mg/dL; HbsAg negativo, anti-Hbc negativo; anti-HBS positivo; anti-HCV negativo; anticorpo anti-nuclear (FAN): negativo; anti músculo-liso: negativo; anti-LKM tipo 1: negativo; anticorpo anti-mitocôndria: 1/400.

Em relação ao caso clínico, assinale a opção correta.

- (A) O diagnóstico é compatível com hepatite autoimune.
- (B) O diagnóstico é compatível com colangite biliar primária.
- (C) O diagnóstico é compatível com colangite esclerosante primária.
- (D) O diagnóstico é compatível com hepatite viral B.
- (E) O tratamento consiste na prescrição de imunossupressores.

55

O último caso confirmado de sarampo no estado de São Paulo foi em maio/2022.

Um caso suspeito de sarampo é definido por

- (A) febre, usualmente entre 2 e 7 dias, e que apresente duas ou mais das seguintes manifestações: náuseas, vômitos, exantema, mialgias, cefaleia, dor retroorbital, petéquias ou prova do laço positiva e leucopenia.
- (B) febre e exantema maculopapular acompanhados de linfadenopatia retroauricular, occipital e cervical.
- (C) febre e exantema maculopapular acompanhados de um ou mais dos seguintes sinais e sintomas: tosse e/ou coriza e/ou conjuntivite, independente da idade.
- (D) febre de início súbito e artralgia ou artrite intensa com início agudo, não explicado por outras condições.
- (E) pacientes que apresentem exantema maculopapular pruriginoso acompanhado de um dos seguintes sinais e sintomas: febre, hiperemia conjuntiva/conjuntivite não purulenta, artralgia/poliartralgia, edema periarticular.

56

De acordo com o Programa Nacional de Imunização/Ministério da Saúde, em relação à vacinação do sarampo na população adulta (entre 20-59 anos), assinale a afirmativa correta.

- (A) Faz parte da vacina tríplice viral (Sarampo, Varicela e Rubéola).
- (B) A composição da vacina tem por base os antígenos recombinantes purificados dos constituintes bacterianos.
- (C) O esquema vacinal preconizado é: 2 doses (faixa etária 20 a 29 anos) e uma dose (faixa etária 30 a 59 anos) em função da situação vacinal anterior.
- (D) O intervalo mínimo recomendado entre as doses é de 180 dias.
- (E) Na população gestante deve ser preconizada a partir da 20ª semana gestacional.

57

Um programa de conscientização sobre os malefícios do tabagismo será atualizado. Um grupo de estudantes de medicina auxilia nessa tarefa. No primeiro encontro, cinco alunas discutem acerca da fórmula para cálculo da carga-tabágica em anos-maço e fazem as seguintes afirmações:

Aluna Rute: *é o número de cigarros consumidos por dia, subtraído de 20 e multiplicado pelo número de anos de tabagismo.*

Aluna Glória: *é o número de cigarros consumidos por dia dividido por 20 e multiplicado pela quantidade de anos de tabagismo.*

Aluna Raquel: *é o número de cigarros consumidos por dia multiplicado por 20 e multiplicado pela quantidade de anos de tabagismo.*

Aluna Isabel: *é o número de cigarros consumidos por dia multiplicado por 30 e subtraída a quantidade de anos de tabagismo.*

Aluna Carla: *é o número de cigarros consumidos por dia, subtraído de 30 e multiplicado pelo número de anos de tabagismo.*

A aluna que acertou a fórmula foi

- (A) Rute.
- (B) Glória.
- (C) Raquel.
- (D) Isabel.
- (E) Carla.

58

O tratamento para cessação do tabagismo contempla medidas não farmacológicas e farmacológicas. De acordo com o *Protocolo Clínico e Diretrizes Terapêuticas do Tabagismo/2020*, o seguinte antecedente confere contraindicação absoluta à prescrição de cloridrato de bupropiona:

- (A) hipotireoidismo de Hashimoto.
- (B) doença ulcero-péptica.
- (C) insuficiência renal crônica.
- (D) epilepsia.
- (E) idade  $\geq$  60 anos.

59

A enfermeira do posto de atendimento acidentou-se com material perfurocortante durante atendimento a um servidor.

A enfermeira apresenta esquema vacinal completo com resposta vacinal adequada contra o vírus da hepatite B (VHB).

O paciente-fonte é sabidamente portador do vírus da hepatite B (VHB).

De acordo com o Ministério da Saúde, diante do caso, a recomendação para profilaxia do VHB após exposição ocupacional a material biológico é

- (A) iniciar nova série de vacinação contra o VHB.
- (B) oferecer uma dose de reforço vacinal.
- (C) imunoglobulina humana contra a hepatite B (IGHAHB), duas doses em intervalo de 0-30 dias.
- (D) IGHAHB em uma dose e vacinação contra o VHB.
- (E) não iniciar nenhuma medida profilática específica.

60

A equipe de medicina do trabalho solicita sua ajuda para estratificação de um paciente cirrótico aplicando o escore de Child-Pugh. O paciente comparece à consulta e traz o resultado dos seguintes exames laboratoriais recentemente disponibilizados:

Masculino, 57 anos, sem ascite; sem encefalopatia hepática; aspartato aminotransferase não disponível, alanina aminotransferase 150 UI/L; albumina sérica 4,1 mg/dL; INR 1,5; bilirrubina total 1,5 mg/dL; sódio sérico 140 mg/dL; creatinina 1,7, alfa-feto-proteína 20 ng/dL.

O valor do escore de Child-Pugh nesse caso é

- (A) A5.
- (B) A7.
- (C) B9.
- (D) C10.
- (E) C8.

61

Você suspeita que uma servidora apresenta hepatite aguda pelo vírus A (VHA), em função de dados epidemiológicos.

Nesse caso, você deve solicitar o seguinte marcador sorológico a fim de confirmar o recente diagnóstico:

- (A) teste rápido VHA.
- (B) teste molecular VHA.
- (C) anti-VHA Ig G.
- (D) anti-VHA Ig M.
- (E) anti-VHA Ig E.

62

Um servidor de 21 anos procura o posto de atendimento médico. Há dois dias ele tem percebido um corrimento uretral mucopurulento, associado a estrangúria. Ele refere nova parceira sexual e uso inadequado de preservativo. Você corretamente suspeita de um quadro de uretrite infecciosa.

Considerando os dois agentes etiológicos mais frequentes, em pacientes imunocompetentes, não alérgicos a penicilina, a opção de tratamento empírico preconizada é:

- (A) Azitromicina 500mg, 2 comprimidos, VO, 1 x/semana, por pelo menos três semanas.
- (B) Ceftriaxona 500mg, IM, dose única associado a Azitromicina 500mg, 2 comprimidos, VO, dose única.
- (C) Ceftriaxona 500mg, IM, dose única.
- (D) Aciclovir 200mg, 2 comprimidos, VO, 3x/dia, por 7-10 dias OU Aciclovir 200mg, 1 comprimido, VO, 5x/dia (7h, 11h, 15h, 19h, 23h, 7h...), por 7-10 dias.
- (E) Metronidazol 250mg, 2 comprimidos VO, 2x/dia, por 7 dias associado a Azitromicina 500mg, 2 comprimidos, VO, dose única.

63

A vulvovaginite e a vaginose representam as causas mais comuns de corrimento vaginal patológico. Com relação ao (s) agente(s) etiológico(s) mais frequentemente implicado(s), observe os itens a seguir.

Protocolo Clínico e Diretrizes Terapêuticas/Infecções Sexualmente Transmissíveis/2022

Avalie se os agentes etiológicos mais frequentemente implicados incluem:

- I. *Candida albicans*;
- II. *Gardnerella vaginalis*;
- III. *Trichomonas vaginalis*.

Está correto o que se afirma em

- (A) I, apenas.
- (B) III, apenas.
- (C) I e II, apenas.
- (D) II e III, apenas.
- (E) I, II e III.

64

Ao prescrever um tratamento anti-hipertensivo você pontua a possibilidade do surgimento de certos efeitos adversos: tosse seca, edema angioneurótico e erupção cutânea.

Você certamente prescreveu um fármaco da seguinte classe:

- (A) Bloqueadores de canal de cálcio.
- (B) Inibidores da enzima conversora da angiotensina.
- (C) Diuréticos de alça.
- (D) Betabloqueadores.
- (E) Simpatolíticos de ação central.

65

Relacione os achados clínicos a seguir com as etiologias secundárias de Hipertensão arterial:

1. Apneia obstrutiva do sono
  2. Doença do parênquima renal
  3. Estenose da artéria renal
  4. Hiperaldosteronismo primário
- ( ) Maioria assintomática. Hipopotassemia (não obrigatória e não habitual). Nódulo adrenal incidental.
- ( ) Ronco, sonolência diurna, cefaleia matinal, síndrome metabólica.
- ( ) Edema, anorexia, nictúria, fadiga, anemia, ureia e creatinina elevadas.
- ( ) Sopro abdominal, alteração da função renal pelo uso do captopril, rins assimétricos.

A relação correta, na ordem apresentada, é

- (A) 2 – 1 – 3 – 4.
- (B) 3 – 1 – 2 – 4.
- (C) 4 – 1 – 3 – 2.
- (D) 4 – 1 – 2 – 3.
- (E) 1 – 2 – 3 – 4.

66

De acordo com as Diretrizes da Sociedade Brasileira de Diabetes – 2023, em adultos com pré-diabetes, o uso da metformina, associado a medidas de estilo de vida, deve ser considerado na prevenção do Diabetes Mellitus tipo 2, nas seguintes situações, **à exceção de uma**. Assinale-a.

- (A) idade menor que 60 anos
- (B) mulheres com história de diabetes gestacional
- (C) presença de síndrome metabólica, com hipertensão arterial
- (D) obesos com IMC acima de 35 kg/m<sup>2</sup>
- (E) glicemia de jejum igual ou superior a 100 mg/dL.

67

Em um contexto de pré-diabetes a principal medida na prevenção do Diabetes Mellitus tipo 2 é a mudança de estilo de vida. Esta inclui adesão a uma dieta saudável visando redução do peso corporal, nos indivíduos com sobrepeso ou obesidade, combinada com atividade física regular.

Diretrizes da Sociedade Brasileira de Diabetes – 2023

Em relação ao tema, a redução do peso corporal recomendada é da ordem de ao menos

- (A) 5%.
- (B) 7%.
- (C) 10%.
- (D) 12%.
- (E) 15%.

68

Com base nas Diretrizes da Sociedade Brasileira de Diabetes – 2023, em relação ao rastreamento da doença renal do diabetes (DRD) nos diabéticos tipo 2, assinale a afirmativa assertiva correta.

- (A) O rastreamento deve ser anual e deve ser usada a medida de albumina urinária ou o cálculo da taxa de filtração glomerular a partir da creatinina sérica.
- (B) O rastreamento deve ser semestral e deve ser usado o cálculo da taxa de filtração glomerular a partir da ureia urinária.
- (C) Para rastreamento, diagnóstico e seguimento da DRD, a albumina urinária deve ser dosada exclusivamente por coleta de urina de 24 horas.
- (D) Para rastreamento, diagnóstico e seguimento da DRD, a albumina urinária deve ser dosada em amostra aleatória de urina; não há necessidade de coletar urina de 24 horas.
- (E) Tanto a relação albumina/creatinina (mg/g) como a concentração de albumina (mg/L) na amostra aleatória de urina apresentam pobre correlação com a medida de albumina em urina de 24 horas.

69

Em pacientes com diabetes, o controle glicêmico deve ser individualizado de acordo com a situação clínica. Os parâmetros de avaliação indicados são a hemoglobina glicada A1c (HbA1c) e as glicemias capilares.

“É recomendada a meta de HbA1c \_\_\_\_\_ para todos os indivíduos com diabetes, para prevenção de complicações microvasculares, desde que não incorra em hipoglicemias graves e frequentes”.

Diretrizes da Sociedade Brasileira de Diabetes – 2023

A lacuna do fragmento acima é corretamente preenchida por

- (A) < 5,7 %
- (B) < 6,5 %
- (C) < 7,0 %
- (D) < 7,5 %
- (E) < 8,0 %

**70**

Um servidor procura o posto de atendimento médico por sintomas respiratórios recorrentes. Você suspeita do diagnóstico de asma.

A probabilidade de que o paciente tenha asma é aumentada pela presença de

- (A) expectoração crônica.
- (B) dispneia induzida pelo exercício com inspiração ruidosa.
- (C) falta de ar associada a tontura ou formigamento nas extremidades.
- (D) dor no peito.
- (E) sibilos e aperto no peito.

**71**

*A espirometria é o exame de função pulmonar preconizado para a avaliação dos indivíduos com suspeita de asma.*

Protocolo Clínico e Diretrizes Terapêuticas da Asma/2021

Em relação à espirometria, assinale a afirmativa correta.

- (A) A espirometria é o exame capaz de identificar limitação ao fluxo aéreo expiratório, sendo essencial para o diagnóstico, mas não para o acompanhamento do doente.
- (B) A espirometria é o exame capaz de identificar limitação ao fluxo aéreo inspiratório, sendo essencial para o acompanhamento, mas não para o diagnóstico do doente.
- (C) A espirometria é o exame capaz de identificar limitação ao fluxo aéreo expiratório, sendo essencial para o diagnóstico e acompanhamento do doente.
- (D) A espirometria confirma a limitação ao fluxo aéreo, sendo determinante na distinção entre asma com obstrução fixa e doença pulmonar obstrutiva crônica (DPOC).
- (E) A espirometria confirma a limitação ao fluxo aéreo, sendo determinante no diagnóstico da sobreposição entre asma e DPOC.

**72**

*O questionário GINA é um instrumento que avalia o controle da asma nas últimas 4 semanas.*

Protocolo Clínico e Diretrizes Terapêuticas da Asma/2021

Um indivíduo apresenta sintomas diurnos < 2 vezes por semana, ausência de despertares noturnos por asma, uso de medicamento de resgate menos de duas vezes por semana e ausência de limitação das atividades por asma.

O indivíduo pode ser classificado como com asma

- (A) controlada.
- (B) parcialmente controlada.
- (C) não controlada.
- (D) alérgica grave.
- (E) eosinofílica grave.

**73**

Uma mulher de 43 anos com sintomas dispépticos recorrentes foi recentemente diagnosticada com o *Helicobacter pylori* (HP).

Seguindo as recomendações do IV Consenso Brasileiro sobre a infecção por HP/2018, em relação ao tratamento para o HP, assinale a afirmativa correta.

- (A) A terapia tripla, composta pela associação de Inibidor da Bomba de Prótons (IBP), amoxicilina e claritromicina por 7 dias, é a opção recomendada para tratamento de primeira linha.
- (B) A terapia tripla, composta pela associação de IBP, amoxicilina e claritromicina por 10 dias, é a opção recomendada para tratamento de primeira linha.
- (C) A terapia tripla, composta pela associação de IBP, amoxicilina e claritromicina por 14 dias, é a opção recomendada para tratamento de primeira linha.
- (D) A terapia dupla, composta pela associação de IBP e claritromicina por 10 dias, é a opção recomendada para tratamento de primeira linha.
- (E) A terapia dupla, composta pela associação de IBP e amoxicilina por 14 dias, é a opção recomendada para tratamento de primeira linha.

**74**

Na dispepsia funcional, o diagnóstico apoia-se, na ausência de doença orgânica, na presença de um ou mais dos seguintes achados:

- (A) náuseas e vômitos, plenitude pós-prandial, saciedade precoce.
- (B) dor epigástrica, estufamento epigástrico, eructação excessiva.
- (C) dor epigástrica, pirose, regurgitação pós prandial.
- (D) plenitude pós-prandial, saciedade precoce, dor epigástrica queimação epigástrica.
- (E) plenitude pós-prandial, saciedade precoce, hemorragia digestiva alta.

**75**

No manejo da reação anafilática, em adultos, a conduta imediata é

- (A) hidratação venosa, anti-histamínico e posição de Trendelenburg.
- (B) metilprednisolona administrada na dose de 1000mg por via endovenosa; essa dose pode ser repetida em intervalos de 15 minutos 2 a 3 vezes.
- (C) metilprednisolona administrada na dose de 100 mg por via endovenosa; essa dose pode ser repetida em intervalos de 5 minutos 2 a 3 vezes.
- (D) adrenalina em solução aquosa a 1:1.000; a dose é de 3-5mL por via intramuscular ou subcutânea; essa dose pode ser repetida em intervalos de 5 minutos 2 a 3 vezes.
- (E) adrenalina em solução aquosa a 1:1.000; a dose é de 0,3-0,5mL por via intramuscular ou subcutânea; essa dose pode ser repetida em intervalos de 15 minutos 2 a 3 vezes.

**76**

Uma cidadã de 57 anos, em trânsito na Câmara Municipal de São Paulo, apresentou um episódio de tonteira e foi atendida no posto médico. Ela refere ser *“hipertensa e apresenta um certo grau de disfunção renal”*.

Ao realizar o eletrocardiograma com 12 derivações, você identifica no traçado a seguinte alteração que sugere hipercalemia:

- (A) onda T algo arredondada e assimétrica, com fase ascendente mais lenta e fase descendente mais rápida.
- (B) onda T apiculada, de base estreita e ampla, ultrapassando o tamanho do complexo QRS.
- (C) onda T aplanada negativa nas derivações V1 e V2.
- (D) onda T negativa nas derivações de V1 a V4.
- (E) onda T aplanada, de pequena amplitude e por vezes negativa.

**77**

Organizando o consultório do Posto médico você encontra, na gaveta, um eletrocardiograma com 12 derivações, inadvertidamente não identificado e não datado.

Você se detém no intervalo QT (iQT) e, ao final, conclui que este intervalo se encontra nos limites da normalidade para a frequência cardíaca registrada pois, em geral, os limites do iQT corrigido à frequência cardíaca situam-se entre

- (A) 50ms e 100ms.
- (B) 100ms e 150ms.
- (C) 300ms e 440ms.
- (D) 500ms e 600ms.
- (E) 650ms e 740ms.

**78**

Assinale a opção que indica os medicamentos que podem, respectivamente, determinar hipercalemia e síndrome do intervalo QT prolongado.

- (A) Furosemida e claritromicina.
- (B) Furosemida e ciprofloxacina.
- (C) Furosemida e cloroquina.
- (D) Furosemida e amiodarona.
- (E) Espironolactona e eritromicina.

**79**

*“A Secretaria de Estado da Saúde de São Paulo registrou mais de 24 mil casos de acidentes com escorpiões no estado nos primeiros sete meses de 2023. Durante a Semana Estadual de Enfrentamento ao Escorpião, a pasta alerta para o crescimento dos casos e destaca os cuidados necessários para evitar e lidar com as picadas deste animal.”*

Secretaria Estadual de Saúde de São Paulo

Mais de 60% dos acidentes ocorre em homens em idade produtiva. Avalie se os seguintes grupos têm maior risco de exposição ao escorpião:

- I. Trabalhadores da construção civil (pedreiros e encanadores).
- II. Feirantes e empacotadores de frutas e legumes.
- III. Biólogos e veterinários.

Está correto o que se indica em

- (A) I, apenas.
- (B) II, apenas.
- (C) I e II, apenas.
- (D) II e III, apenas.
- (E) I, II e III.

**80**

As lesões por escorpionismo não apresentam características típicas que as discriminem de lesões causadas por outros artrópodes.

Assinale o principal sintoma da picada por escorpião.

- (A) Vômitos.
- (B) Sudorese.
- (C) Piloereção.
- (D) Dor intensa.
- (E) Eritema/edema.

**81**

A cidade de São Paulo registrou, até novembro de 2023, cerca de 12 mil casos de dengue com 10 óbitos no total. A região Norte (Tremembé, Santana, Tucuruvi e Vila Maria) apresenta índices próximos aos de uma epidemia.

Você examina, ao final do dia, um servidor residente da zona Norte com quadro febril e cefaleia e logo suspeita de dengue.

Um caso suspeito de dengue é classificado como com sinais de alarme se, no período de defervescência da febre, apresenta, entre outros sinais,

- (A) mialgia e artralgia.
- (B) dor a palpação do abdome.
- (C) petéquias.
- (D) prova do laço positiva.
- (E) náuseas e vômitos.

**82**

Um caso suspeito de dengue é classificado como grave se, entre outros sinais, apresenta

- (A) aminotransferases superiores a 1000 UI/L.
- (B) leucopenia.
- (C) petéquias.
- (D) exantema.
- (E) prova do laço positiva.

**83**

A deficiência de ferro se desenvolve gradualmente, podendo ser dividida em três estágios: depleção dos estoques de ferro, eritropoiese por deficiência de ferro e anemia por deficiência de ferro (ADF).

Denomine VCM: volume corpuscular médio; HCM: hemoglobina corpuscular média; RDW: índice de anisocitose; IST %: Índice de saturação da transferrina (%).

Além dos baixos níveis de hemoglobina, o perfil laboratorial típico da ADF é

- (A) VCM aumentado; HCM aumentado; RDW aumentado; IST > 20%.
- (B) VCM aumentado; HCM reduzido; RDW diminuído; IST > 20%.
- (C) VCM reduzido; HCM reduzido; RDW aumentado; IST < 20%.
- (D) VCM normal; HCM normal; RDW normal; IST > 20%.
- (E) VCM reduzido; HCM normal; RDW diminuído; IST < 20%.

84

A anemia por deficiência de ferro (ADF) é a anemia mais comum em todas as faixas etárias.

Assinale a opção que indica a etiologia mais comum de ADF em homens com mais de 50 anos.

- (A) Sangramento do trato gastrointestinal.
- (B) Sangramento pelo trato respiratório.
- (C) Gastrectomia.
- (D) Hemólise.
- (E) Insuficiência renal crônica.

85

A Resolução do Conselho Federal de Medicina nº 2.314, de 20 de abril de 2022, define e regulamenta a telemedicina como forma de serviços médicos mediados por tecnologias de comunicação.

Avalie, de acordo com o Art. 5º da resolução supracitada, se a telemedicina pode ser exercida nas seguintes modalidades de teleatendimentos médicos:

- ( ) Telediagnóstico
- ( ) Telemonitoramento ou televigilância
- ( ) Teletriagem

Está correto o que se indica em

- (A) I e III, apenas.
- (B) I, apenas.
- (C) I, II e III.
- (D) III, apenas.
- (E) II, apenas.

86

A Resolução do Conselho Federal de Medicina nº 2.314, de 20 de abril de 2022, define e regulamenta a telemedicina como forma de serviços médicos mediados por tecnologias de comunicação.

De acordo com o artigo 6º da resolução supracitada, avalie se as afirmativas a seguir são verdadeiras (V) ou falsas (F).

- ( ) A teleconsulta é a consulta médica não presencial, mediada por Tecnologias Digitais, de Informação e de Comunicação, com médico e paciente localizados em diferentes espaços.
- ( ) A telemedicina passa a ser o padrão ouro de referência para as consultas médicas, sendo a consulta presencial ato complementar.
- ( ) Nos atendimentos de doenças crônicas ou doenças que requeram acompanhamento por longo tempo deve ser realizada consulta presencial, com o médico assistente do paciente, em intervalos não superiores a 180 dias.

As afirmativas são, respectivamente,

- (A) V – V – V.
- (B) F – F – V.
- (C) V – V – F.
- (D) V – F – V.
- (E) F – F – F.

87

O conjunto de ações e serviços de saúde prestados por órgãos e instituições públicas federais, estaduais e municipais, da administração direta e indireta e das fundações mantidas pelo Poder Público constitui

- (A) a Vigilância em Saúde.
- (B) a Vigilância Epidemiológica.
- (C) a Farmacovigilância.
- (D) o Sistema Único de Saúde.
- (E) o Programa de Saúde da Família.

88

A participação da *iniciativa privada* está prevista na Lei Orgânica da Saúde – Lei nº 8.080/1990.

De acordo com a referida Lei, a iniciativa privada poderá participar do Sistema Único de Saúde em caráter

- (A) complementar.
- (B) permanente.
- (C) prioritário.
- (D) primário.
- (E) irrestrito.

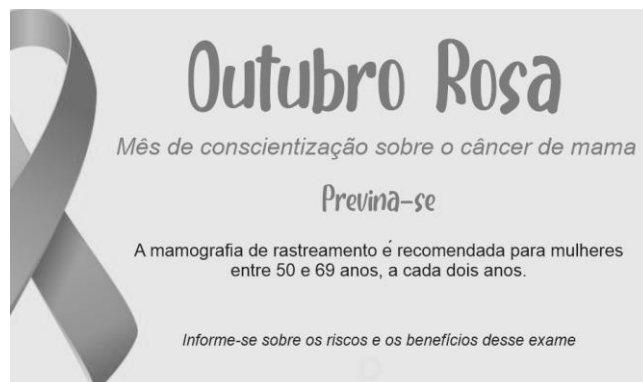
89

Servidor, homem, 44 anos, tabagista, sem antecedentes mórbidos comparece para avaliação médica periódica. Você auxilia o médico do trabalho nesta avaliação.

Os parâmetros necessários para avaliar a presença de critérios diagnósticos para síndrome metabólica, de acordo com *National Cholesterol Education Program's Adult Treatment Panel III report* - NCEP/ATP III, são:

- (A) pressão arterial; circunferência abdominal; glicemia de jejum; triglicerídeos; HDL-colesterol.
- (B) pressão arterial; glicemia de jejum; triglicerídeos; antecedente tabagismo; antecedente etilismo.
- (C) glicemia de jejum; triglicerídeos; HDL-colesterol; antecedente etilismo e índice de massa corpórea (IMC).
- (D) pressão arterial; índice de massa corpórea; sedentarismo; glicemia de jejum; LDL-colesterol.
- (E) pressão arterial; ácido úrico; glicemia de jejum; triglicerídeos; LDL-colesterol.

90



O cartaz acima foi elaborado como parte das estratégias de conscientização sobre o câncer de mama, as informações são baseadas nas recomendações do Instituto Nacional do Câncer – INCA/Ministério da Saúde.

Em relação ao cartaz, marque a assertiva correta.

- (A) Ele contém um erro, pois a faixa etária é de 50 a 75 anos.
- (B) Ele contém um erro, pois a faixa etária é de 40 a 69 anos.
- (C) Ele contém um erro, pois a periodicidade de realização do exame é anual.
- (D) Ele contém um erro, pois a periodicidade de realização do exame é a cada três anos.
- (E) O cartaz está correto – não há informação errada.

**91**

O Prefeito de São Paulo, muito preocupado em razão de a arrecadação tributária estar em patamar inferior ao esperado, determina que seus assessores apresentem soluções para sanar a dificuldade financeira vivenciada pelo ente federativo. Desta forma, são aventadas diversas possibilidades relacionadas aos impostos de competência municipal.

Nesse cenário, considerando as disposições da Lei Orgânica do Município de São Paulo, é correto afirmar que ingressa na competência da municipalidade o imposto sobre a

- (A) transmissão entre vivos, a qualquer título, por ato oneroso, de direitos reais sobre imóveis, inclusive os de garantia.
- (B) propriedade predial e territorial urbana.
- (C) doação de quaisquer bens e direitos.
- (D) propriedade territorial rural.
- (E) circulação de mercadorias.

**92**

João, angustiado com a desigualdade social existente na sociedade, pretende se candidatar ao cargo de Vereador do Município de São Paulo. Para tanto, o agente, que tem 20 anos de idade, passa a pesquisar a composição da Casa Legislativa e a idade mínima para exercer o cargo eletivo.

Nesse cenário, considerando as disposições da Lei Orgânica do Município de São Paulo, é correto afirmar que a Câmara Municipal é composta por

- (A) cinquenta e cinco Vereadores eleitos dentre os cidadãos maiores de vinte e um anos e no exercício dos direitos políticos, motivo pelo qual a idade de João é óbice ao seu intento.
- (B) cinquenta e cinco Vereadores eleitos dentre os cidadãos maiores de dezoito anos e no exercício dos direitos políticos, motivo pelo qual a idade de João não é óbice ao seu intento.
- (C) cinquenta Vereadores eleitos dentre os cidadãos maiores de dezoito anos e no exercício dos direitos políticos, motivo pelo qual a idade de João não é óbice ao seu intento.
- (D) sessenta Vereadores eleitos dentre os cidadãos maiores de vinte e um anos e no exercício dos direitos políticos, motivo pelo qual a idade de João é óbice ao seu intento.
- (E) cinquenta Vereadores eleitos dentre os cidadãos maiores de vinte e um anos e no exercício dos direitos políticos, motivo pelo qual a idade de João é óbice ao seu intento.

**93**

Após ser eleito para o cargo de Prefeito do Município de São Paulo, Tício é informado de que a Lei Orgânica da municipalidade faz referência ao Programa de Metas da gestão, que conterà, entre outras informações, ações estratégicas, indicadores e metas quantitativas para cada um dos setores da Administração Pública Municipal, Subprefeituras e Distritos da cidade.

Nesse cenário, considerando as disposições da Lei Orgânica do Município de São Paulo, é correto afirmar que

- (A) o Prefeito poderá proceder a alterações programáticas no Programa de Metas, em conformidade com a lei do Plano Diretor Estratégico e com a concordância da Câmara Municipal.
- (B) o resumo do Programa de Metas será publicado no Diário Oficial da Cidade, sendo certo que a consulta ao inteiro teor poderá ser requerida por qualquer interessado.
- (C) o Poder Executivo divulgará trimestralmente os indicadores de desempenho relativos à execução dos diversos itens do Programa de Metas.
- (D) ao final de cada ano, o Prefeito encaminhará, à Mesa da Câmara Municipal, o relatório da execução do Programa de Metas.
- (E) o Prefeito, eleito ou reeleito, apresentará o Programa de Metas de sua gestão até noventa dias após sua posse.

**94**

Joana, professora da rede pública de ensino do Município de São Paulo, é convidada a palestrar, em um evento privado, sobre a educação pública na municipalidade. Em assim sendo, durante a sua sustentação oral, Joana discursa sobre a temática da educação, cotejando-a com a legislação que lhe é aplicável em âmbito local.

Nesse cenário, considerando as disposições da Lei Orgânica do Município de São Paulo, é correto afirmar que

- (A) é dever do Município, através da rede própria, com a cooperação do Estado e da União, por intermédio do Ministério da Educação, o provimento em todo o território municipal de vagas, em número suficiente para atender à demanda quantitativa e qualitativa do ensino fundamental obrigatório e progressivamente à da educação infantil.
- (B) compete ao Município recensear os educandos do ensino médio, fazer-lhes a chamada e zelar, junto aos pais e responsáveis, pela frequência à escola.
- (C) o ensino fundamental, atendida a demanda, terá extensão de carga horária até se atingir a jornada de tempo integral, em caráter optativo pelos pais ou responsáveis, a ser alcançada pelo aumento progressivo da atualmente verificada na rede pública municipal.
- (D) a carga horária mínima a ser oferecida no sistema municipal de ensino é de seis horas diárias em cinco dias da semana.
- (E) a atuação do Município dará prioridade ao ensino fundamental e ao ensino médio.



95

Jonas, Vereador no âmbito do Município de São Paulo, é informado, pelo seu secretário, sobre um assunto extremamente delicado para a Casa Legislativa, assunto esse que poderá gerar reflexos na imprensa. Assim sendo, o parlamentar busca informações junto aos seus pares sobre a possibilidade de se convocar uma sessão extraordinária, fechada ao público.

Nesse cenário, considerando as disposições da Lei Orgânica do Município de São Paulo, é correto afirmar que

- (A) as sessões extraordinárias serão convocadas, na forma regimental, em sessão ou fora dela, e, neste caso, mediante comunicação pessoal e escrita aos Vereadores, pelo Presidente da Câmara, com antecedência mínima de quarenta e oito horas.
- (B) durante a sessão legislativa extraordinária, a Câmara deliberará sobre a matéria para a qual foi convocada e sobre outras temáticas urgentes, conforme dispuser a Mesa.
- (C) no período de recesso, a Câmara poderá ser extraordinariamente convocada pelo Prefeito ou pelo Presidente da Casa Legislativa.
- (D) as sessões extraordinárias e solenes não serão, em hipótese alguma, remuneradas.
- (E) as sessões da Câmara serão públicas, salvo deliberação em contrário, tomada por três quintos de seus membros, quando ocorrer motivo relevante.

96

Jonas, Vereador no âmbito do Município de São Paulo, pretende apresentar, na Câmara Municipal, proposição relacionada ao Plano Diretor do ente federativo. Com efeito, o parlamentar indaga, a seu assessor direto, qual Comissão teria competência específica para opinar sobre as proposições e matérias relacionadas àquela temática (Plano Diretor).

Nesse cenário, considerando as disposições do Regimento Interno da Câmara Municipal de São Paulo, é correto afirmar que a referida competência pertence à Comissão de

- (A) Trânsito, Transporte e Atividade Econômica.
- (B) Constituição, Justiça e Legislação Participativa.
- (C) Política Urbana, Metropolitana e Meio Ambiente.
- (D) Saúde, Promoção Social, Trabalho e Mulher.
- (E) Administração Pública.

97

Jonas, Vereador no âmbito do Município de São Paulo, apresenta requerimento de convocação do Secretário Municipal de Mobilidade e Trânsito para prestar informações sobre assuntos atinentes à pasta de que é titular. O requerimento de convocação, devidamente aprovado, indica explicitamente os motivos da convocação e especifica os quesitos que serão propostos ao agente político.

Nesse cenário, considerando as disposições do Regimento Interno da Câmara Municipal de São Paulo, é correto afirmar que

- (A) não havendo mais Vereadores inscritos para indagações relativas aos quesitos do instrumento de convocação, o Secretário convocado será dispensado, não podendo ser interpelado sobre assunto estranho ao objeto da convocação;
- (B) aberta a sessão para a oitava do Secretário Municipal, os Vereadores dirigir-lhe-ão interpelações sobre os quesitos constantes do requerimento, dispondo, para tanto, de dez minutos, permitidos apartes;
- (C) a Câmara se reunirá em sessão ordinária, em dia e hora previamente estabelecidos, com o fim específico de ouvir o Secretário Municipal sobre os motivos da convocação;
- (D) o Secretário Municipal deverá atender à convocação da Câmara dentro do prazo improrrogável de dez dias, contados da data do recebimento do ofício;
- (E) para responder às interpelações que lhe forem dirigidas, o Secretário Municipal disporá de dez minutos, sendo permitidos apartes.

98

Caio, Prefeito do Município de São Paulo, apresentou um determinado projeto de lei, o qual foi distribuído à Comissão de Finanças e Orçamentos da Casa Legislativa, para que haja a designação de relatores ou de subcomissão e, na sequência, a emissão de parecer no tocante à matéria de sua competência regimental.

Nesse cenário, considerando as disposições do Regimento Interno da Câmara Municipal de São Paulo, é correto afirmar que

- (A) para emitir parecer sobre qualquer matéria, cada Comissão terá o prazo de quinze dias, prorrogável por mais oito dias pelo Presidente da Mesa, a requerimento devidamente fundamentado.
- (B) nos projetos em que for solicitada urgência pelo Prefeito, o prazo para que cada Comissão emita parecer sobre a matéria fica reduzido a oito dias, vedada a prorrogação.
- (C) os relatores ou a Subcomissão terá o prazo de quinze dias para manifestar-se por escrito, a partir da data da distribuição do projeto de lei.
- (D) o Presidente da Comissão, dentro do prazo máximo de cinco dias úteis, designará os respectivos relatores ou a Subcomissão.
- (E) o prazo para a apresentação do parecer começa a correr no dia em que o processo der entrada na Comissão.

**99**

João, recém empossado no cargo de Vereador no âmbito da Câmara Municipal de São Paulo, entusiasmado com o exercício do primeiro mandato parlamentar, passou a estudar as normas aplicáveis à Casa Legislativa. Nesse contexto, durante os estudos, o agente político deparou-se com as hipóteses de suspensão e de encerramento das sessões, analisando-as detidamente.

Nesse cenário, considerando as disposições do Regimento Interno da Câmara Municipal de São Paulo, avalie se a sessão será encerrada antes da hora regimental pelos seguintes motivos:

- I. No caso de luto municipal ou estadual, pelo falecimento de autoridade, por deliberação do Presidente da Mesa.
- II. Para preservação da ordem.
- III. No caso de tumulto grave.

Está correto o que se afirma em

- (A) I, apenas.
- (B) II, apenas.
- (C) III, apenas.
- (D) I e II.
- (E) I e III.

**100**

Jonatas, Vereador no âmbito da Câmara Municipal de São Paulo, inconformado com determinada decisão tomada pelo Presidente da Casa Legislativa em questão de ordem, pretende apresentar recurso ao Plenário.

Nesse cenário, considerando as disposições do Regimento Interno da Câmara Municipal de São Paulo, assinale a afirmativa correta.

- (A) Emitido o parecer da Comissão de Constituição e Justiça, independentemente de sua publicação, o recurso será, obrigatoriamente, incluído na pauta da ordem do dia da sessão ordinária seguinte, para deliberação do Plenário.
- (B) Apresentado o recurso, o Presidente poderá se retratar da decisão anteriormente tomada na questão de ordem, encaminhando a sua manifestação para ratificação do Plenário.
- (C) A Comissão de Constituição e Justiça terá o prazo de dois dias úteis, prorrogável, uma única vez, por igual período, para emitir parecer sobre o recurso.
- (D) O recurso formulado por escrito deverá ser proposto dentro do prazo improrrogável de cinco dias úteis, contados da decisão do Presidente.
- (E) até a deliberação do Plenário sobre o recurso, a decisão tomada pelo Presidente na questão de ordem ficará suspensa.



Realização

