

MÉDICO - PATOLOGISTA CITOPATOLOGISTA

TIPO 1 – BRANCA



SUA PROVA

- Além deste caderno contendo **80 (oitenta)** questões objetivas você receberá do fiscal de prova o cartão de respostas;
- As questões objetivas têm **4 (quatro)** opções de resposta (A, B, C, D) e somente uma delas está correta.



TEMPO

- Você dispõe de **4 (quatro) horas** para a realização da prova, já incluído o tempo para a marcação do cartão de respostas;
- **2 (duas) horas e 30 (trinta) minutos** após o início da prova, é possível retirar-se da sala, sem levar o caderno de questões;
- A partir dos **30 (trinta) minutos** anteriores ao término da prova é possível retirar-se da sala **levando o caderno de questões**.



NÃO SERÁ PERMITIDO

- Qualquer tipo de comunicação entre os candidatos durante a aplicação da prova;
- Anotar informações relativas às respostas em qualquer outro meio que não seja o caderno de questões;
- Levantar da cadeira sem autorização do fiscal de sala;
- Usar o sanitário ao término da prova, após deixar a sala.



INFORMAÇÕES GERAIS

- Verifique se seu caderno de questões está completo, sem repetição de questões ou falhas. Caso contrário, **notifique imediatamente o fiscal da sala**, para que sejam tomadas as devidas providências;
- Confira seus dados pessoais, especialmente nome, número de inscrição e documento de identidade e leia atentamente as instruções para preencher o cartão de respostas;
- Para o preenchimento do cartão de respostas, use somente caneta esferográfica, fabricada em material transparente, com tinta preta ou azul;
- Assine seu nome apenas no(s) espaço(s) reservado(s) no cartão de respostas;
- Confira seu cargo, cor e tipo do caderno de questões. Caso tenha recebido caderno de cargo ou cor ou tipo **diferente** do impresso em seu cartão de respostas, o fiscal deve ser **obrigatoriamente** informado para o devido registro na ata da sala;
- Reserve tempo suficiente para o preenchimento do seu cartão de respostas. O preenchimento é de sua responsabilidade e **não será permitida a troca do cartão de respostas em caso de erro cometido pelo candidato**;
- Para fins de avaliação, serão levadas em consideração apenas as marcações realizadas no cartão de respostas;
- A FGV coletará as impressões digitais dos candidatos na lista de presença;
- Os candidatos serão submetidos ao sistema de detecção de metais quando do ingresso e da saída de sanitários durante a realização das provas.
- **Boa sorte!**

CONHECIMENTOS GERAIS

Língua Portuguesa

1

Leia o texto a seguir.

Os homens não estão cientes do calor que emana de seu coração, embora ele dê vida e movimento a todas as outras partes do seu corpo. [...] O mesmo se dá com a vaidade: ela é tão natural para o homem que ele não a percebe. E, embora seja isso que dê, por assim dizer, vida e movimento à maioria dos seus pensamentos e desígnios, isso ocorre de um modo que é imperceptível para o sujeito. [...] Os homens não percebem que é a vaidade que dá ímpeto à maioria de suas ações.

A respeito do significado ou da estruturação desse fragmento, assinale a afirmativa **inadequada**.

- (A) O comentário inicial sobre o calor do coração serve de ponto de comparação para o papel da vaidade.
- (B) A semelhança entre o calor do coração e a vaidade é que ambos são imperceptíveis para os homens.
- (C) Ao indicar a vaidade como fonte da maioria das ações humanas, o autor do texto as desvaloriza.
- (D) O homem deve tornar a vaidade uma força consciente para o seu progresso.

2

Leia o texto a seguir.

Em seu coração, os homens desejam ser estimados, mas eles cuidadosamente ocultam esse desejo porque querem se passar por virtuosos e porque o desejo de receber da virtude qualquer vantagem além dela mesma não seria ser virtuoso, mas amar a estima e o elogio – ou seja, ser vaidoso. Os homens são muito vaidosos, mas não há nada que eles mais detestem do que serem considerados vaidosos.

Assinale a afirmativa adequada ao seu significado ou à sua estruturação.

- (A) A discussão no texto opõe a essência (os homens serem vaidosos) à aparência (quererem passar por virtuosos).
- (B) A vaidade humana só não é vista como um defeito porque os homens fazem questão de ocultá-la.
- (C) Os homens têm o desejo de serem estimados, ou seja, pretendem alcançar a estima e o elogio, sem serem motivados pela vaidade.
- (D) O fato de serem considerados vaidosos faz com que a imagem pública dos homens cresça ao olhar dos outros.

3

Assinale a opção que apresenta a frase em que os dois termos sublinhados **não** são **antônimos**.

- (A) Juízes implacáveis são todos aqueles que antes foram réus.
- (B) O homem não teria alcançado o possível se, repetidas vezes, não tivesse tentado o impossível.
- (C) Você não será nada se quiser ser tudo.
- (D) Só tenho por seguro o que é incerto.

4

Analise a frase a seguir.

É claro que a justiça, sendo cega, não vê se é vista, e então não cora. (Machado de Assis)

As opções a seguir apresentam formas de reescrever a frase acima sem modificação do seu sentido original, **à exceção de uma**. Assinale-a.

- (A) É claro que a justiça, sendo cega, não cora, já que não vê se é vista.
- (B) Sendo cega, é claro que a justiça não vê se é vista, e então não cora.
- (C) É claro que, sendo cega, a justiça não vê se é vista, e então não cora.
- (D) É claro que a justiça não vê se é vista, e então, sendo cega, não cora.

5

Assinale a frase que **não** apresenta **tom crítico**.

- (A) Nenhum homem rico é feio, dizia uma grande atriz.
- (B) Mostre-me um herói e eu escreverei uma tragédia.
- (C) Não é bom que o homem esteja só.
- (D) Ele é a pessoa mais interessante que ele já conheceu.

6

Assinale a frase em que **não** está presente a construção de voz passiva com o pronome **se**.

- (A) O casamento é uma escola onde se aprende algo com o outro.
- (B) Alugou-se uma casa à beira-mar para as férias, mas os temporais acabaram com os sonhos.
- (C) Nunca se é demasiado velho para crescer.
- (D) Fazem-nos na época atual constituições para os povos como se fariam vestidos para as pessoas sem se lhes tomar as medidas.

7

Segundo o gramático Celso Cunha, os adjetivos mostram os seguintes valores: uma qualidade, uma característica, um estado ou uma relação.

Assinale a opção que apresenta a frase em que o adjetivo sublinhado é classificado como **adjetivo de relação**.

- (A) As colônias não deixam de ser colônias pelo fato de serem independentes.
- (B) É necessário mudar muitas vezes de opinião para estar sempre de acordo com o seu partido político.
- (C) As leis ruins são a pior espécie de tirania.
- (D) Juízes implacáveis são aqueles que antes foram réus.

8

Nas frases a seguir há várias formas de adjetivos referentes aos substantivos sublinhados.

Assinale a opção em que a forma de adjetivação está identificada **inadequadamente**.

- (A) Como todos os soldados, João também tinha cabelo curto. / adjetivo.
- (B) Apesar de pianista, o artista mostrava mãos grosseiras, rudes. / locução.
- (C) O livro que o professor recomendara, esgotou rapidamente. / oração adjetiva.
- (D) José era considerado um cabeça-de-vento. / substantivo composto.

9

Assinale a frase que **não** exemplifica o caso de um adjetivo com valor adverbial.

- (A) Comecei de cima e trabalhei duro até chegar embaixo.
 (B) Você não aprende a manter firme sua posição no mundo ficando de guarda, mas atacando e sendo atacado.
 (C) Por que com tão curta a vida organizamos tantos projetos?
 (D) Tão rápido foge a vida que toda sorte é boa, em tão breve jornada.

10

Assinale a frase em que as duas ocorrências do vocábulo destacado desempenham a mesma função sintática.

- (A) A coisa mais importante da vida é saber o que é importante.
 (B) A vida é feita de ilusões; entre essas ilusões, algumas triunfam.
 (C) Para que um grande sonho se torne realidade, você precisa primeiro de um grande sonho.
 (D) O planejamento familiar é um sonho que o pai de família traça para ter a ilusão do dinheiro que guarda.

11

Assinale a opção em que a modificação de uma forma reduzida de infinitivo foi adequadamente modificada para uma forma desenvolvida.

- (A) Novos ricos também pesquisam antes de comprar / antes de que comprem.
 (B) O divórcio foi uma chance dada ao meu casamento para eu errar outra vez. / para que eu erre outra vez.
 (C) Ao se divorciar, procurou ficar com os bens. / Quando se divorciasse.
 (D) O casamento parece inventado para recompensar os perversos. / para a recuperação dos perversos.

12

As frases a seguir são compostas de dois segmentos separadas por um sinal de pontuação.

Assinale aquela em que essa pontuação foi **inadequadamente** substituída por um conectivo.

- (A) Não é a maioria que é silenciosa. O governo é que é surdo. / mas.
 (B) Não gosto de pensar que estou envelhecendo. Adoro a ideia de que nasci há muito tempo. / portanto.
 (C) O ilegal é o que fazemos imediatamente. O inconstitucional é o que exige um pouco mais de tempo. / enquanto.
 (D) Não pergunte a seus pais o que podem fazer por você. Eles podem fingir que não ouviram. / pois.

Raciocínio Lógico Matemático

13

Considere a frase:

Se você é cuiabano, então é mato-grossense.

É logicamente equivalente à frase acima, a seguinte proposição:

- (A) *Se você é mato-grossense, então é cuiabano.*
 (B) *Se você é cuiabano, então não é mato-grossense.*
 (C) *Se você não é mato-grossense, então não é cuiabano.*
 (D) *Se você não é cuiabano, então não é mato-grossense.*

14

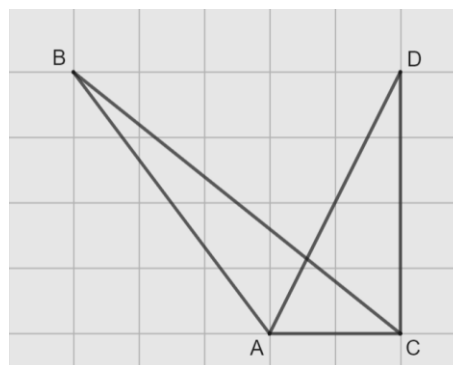
Em uma reunião de uma unidade hospitalar, estavam presentes 8 servidores, sendo 6 médicos e 2 enfermeiros. Todos sentaram-se ao redor de uma mesa redonda.

A quantidade de maneiras distintas de essa mesa pode ser organizada de forma que entre os dois enfermeiros tenha sempre três médicos é

- (A) 120.
 (B) 240.
 (C) 480.
 (D) 720.

15

Na malha quadriculada a seguir, formada por quadrados de lados medindo 1cm, estão representados os triângulos ABC e ACD.



A área do triângulo ABC, em cm^2 , é igual a

- (A) 4,25.
 (B) 4,00.
 (C) 3,75.
 (D) 3,50.

16

Sobre números inteiros, racionais e reais, analise as afirmativas a seguir e assinale (V) para a verdadeira e (F) para a falsa.

- () Há mais números racionais que números inteiros.
 () A soma de dois números irracionais resulta sempre em um número irracional.
 () A dízima periódica $6,999\dots$ é igual ao número inteiro 7.

As afirmativas são, respectivamente,

- (A) F – F – V.
 (B) F – V – V.
 (C) V – F – F.
 (D) V – V – F.

17

Os atendimentos realizados por 6 médicos de uma unidade hospitalar em determinado dia foram registrados. Porém, no fim da semana, percebeu-se que a informação dos atendimentos realizados por um desses médicos foi perdida, conforme a lista apresentada a seguir.

10, 9, 15, 9, X, 12

Sabe-se que, nesse dia, nenhum médico fez menos que 6 e mais que 15 atendimentos e que a média de atendimentos é um número inteiro.

Assim, a mediana da lista é

- (A) 10.
(B) 10,5.
(C) 11.
(D) 11,5.

18

A Federação Mato-grossense de Futebol (FMF) realiza anualmente a competição "Copa FMF" na modalidade masculina. Na edição de 2023, a fase final foi disputada por Cuiabá, Mixto, Nova Mutum e Operário VG em um formato quadrangular, no qual todos se enfrentam apenas uma vez.

Em relação aos gols ocorridos nesta fase, sabe-se que:

- Mixto fez o triplo de gols que tomou;
- Cuiabá e Nova Mutum tomaram 6 gols cada;
- Operário VG fez 1 gol e tomou 2 gols;
- Cuiabá fez um gol a mais que Nova Mutum;
- foram feitos 17 gols no total.

Dessa forma, a quantidade de gols feitos pela equipe Nova Mutum foi igual a

- (A) 5.
(B) 4.
(C) 3.
(D) 2.

19

A serviço de uma unidade do Sistema Único de Saúde há três veículos: um automóvel, um ônibus e uma van. Um deles tem a cor azul, outro tem a cor amarela e outro tem a cor verde.

Das afirmativas a seguir, apenas uma é verdadeira:

- I. O automóvel é verde.
II. O ônibus não é amarelo.
III. A van não é verde.

Assim, é correto afirmar que

- (A) o automóvel é amarelo.
(B) o automóvel é azul.
(C) o ônibus é verde.
(D) a van é amarela.

20

Em uma fábrica de desfibriladores, foi verificado que eram necessários 8 dias para produzir determinada quantidade de aparelhos, usando a mão de obra de 6 trabalhadores por 4 horas em cada dia.

Para reduzir o tempo de produção para 2 dias, será necessário:

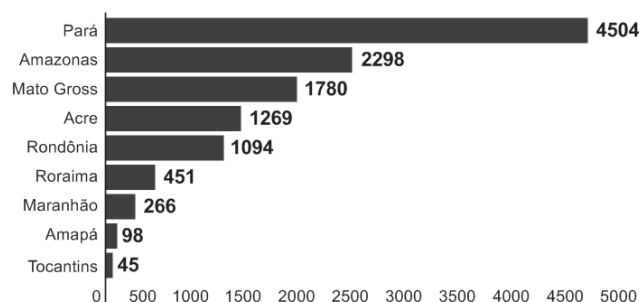
- (A) duplicar o número de trabalhadores.
(B) triplicar o número de horas trabalhadas por dia.
(C) duplicar o número de horas trabalhadas por dia.
(D) duplicar o número de trabalhadores e o número de horas trabalhadas por dia.

História Política e Econômica e Geografia de Mato Grosso

21

Analise o gráfico a seguir.

Risco de desmatamento por estado em 2023 (km²)



Fonte: <https://g1.globo.com/mt/mato-grosso/noticia/2023/01/18/mt-e-o-3o-estado-com-maior-risco-de-desmatamento-em-2023-aponta-imazon.ghtml>. Adapt.

De acordo com o gráfico, o Estado de Mato Grosso é o terceiro estado brasileiro com maior risco de desmatamento na Amazônia.

Analise as afirmativas a seguir sobre os fatores que concorrem para esse fenômeno.

- A prática agrícola é um dos fatores que contribui para a aceleração dos processos erosivos do solo e do desmatamento. Isso ocorre devido ao emprego, de técnicas agrícolas extensivas, com a retirada de vegetação para a instalação de grandes lavouras monocultoras.
- A prática do garimpo ilegal gera diversos impactos ambientais, como o desmatamento, por meio da retirada de vegetação nativa, seja para estabelecer acessos às áreas ricas em minerais, seja para criar espaços destinados à própria atividade de mineração.
- A demarcação de terras indígenas no Estado contribui para o desmatamento, uma vez que o processo envolve a utilização de madeira para a construção de residências tradicionais e a exploração dos recursos naturais para fins de subsistência.

Está correto o que se afirma em

- (A) I, apenas.
(B) I e II, apenas.
(C) I e III, apenas.
(D) II e III, apenas.

22

Sobre os biomas mato-grossenses e suas respectivas localizações conforme a organização espacial do estado, analise as afirmativas a seguir e assinale (V) para a verdadeira e (F) para a falsa.

- () O bioma Amazônico é caracterizado pela vegetação densa da floresta tropical; está presente no norte do Estado e um dos seus espaços é a microrregião de Sinop.
() O bioma Cerrado é caracterizado pela vegetação composta de árvores baixas e com plantas com raízes profundas; está presente na mesorregião do Centro-Sul Mato-grossense.
() O bioma Pantanal é caracterizado por suas extensas áreas alagadas e pela planície aluvial; está presente na mesorregião Centro-sul do estado, englobando os municípios de Cáceres e Poconé.

As afirmativas são, na ordem apresentada, respectivamente,

- (A) V – V – F.
(B) V – F – V.
(C) F – V – F.
(D) V – V – V.

23

Analise os trechos a seguir.

I. Código Civil dos Estados Unidos do Brasil, de 1916

Art. 6º. São incapazes, relativamente a certos atos (Art. 147, inciso I), ou à maneira de os exercer:

IV - os silvícolas.

Parágrafo único. Os silvícolas ficarão sujeitos ao regime tutelar, estabelecido em leis e regulamentos especiais, e que cessará à medida de sua adaptação.

II. Lei nº 6.001 de 1973

Art. 2º. Cumpre à União, aos Estados e aos Municípios, bem como aos órgãos das respectivas administrações indiretas, nos limites de sua competência, para a proteção das comunidades indígenas e a preservação dos seus direitos: II - prestar assistência aos índios e às comunidades indígenas ainda não integrados à comunhão nacional; VI - respeitar, no processo de integração do índio à comunhão nacional, a coesão das comunidades indígenas, os seus valores culturais, tradições, usos e costumes; VIII - utilizar a cooperação, o espírito de iniciativa e as qualidades pessoais do índio, tendo em vista a melhoria de suas condições de vida e a sua integração no processo de desenvolvimento. (Adaptado.)

III. Constituição Federal de 1988

Art. 231. São reconhecidos aos índios sua organização social, costumes, línguas, crenças e tradições, e os direitos originários sobre as terras que tradicionalmente ocupam, competindo à União demarcá-las, proteger e fazer respeitar todos os seus bens.

Sobre a questão indígena no Brasil, de acordo com os trechos, assinale a afirmativa que interpreta corretamente os princípios que orientaram os marcos normativos mencionados.

- (A) Em I, a integração das comunidades indígenas à sociedade brasileira é preconizada por meio de um regime tutelar, que os considerava como indivíduos não plenamente desenvolvidos; em II, a autonomia dos indígenas é garantida por meio do direito à escolha de manter seu isolamento.
- (B) Em I, a autonomia das populações indígenas é assegurada pela concessão de agência individual, reconhecendo-as como capazes de resolver seus próprios conflitos territoriais; em II, a autonomia é manifestada pela isenção do poder federal de qualquer responsabilidade na garantia de seus direitos.
- (C) Em II, a preservação das comunidades indígenas se dá mediante o respeito pelo isolamento como uma medida para prevenir a propagação de doenças e evitar o extermínio; em III, a conservação da diversidade étnica e cultural dos indígenas é garantida por meio da criação de reservas.
- (D) Em II, a integração dos indígenas à sociedade brasileira é prevista por práticas de assimilação, que entendiam seus modos de vida como uma condição transitória; em III, os direitos dos indígenas são reconhecidos pela liberdade de organização sociocultural, responsabilizando o Estado Brasileiro de proteger suas terras.

24

O Estado do Mato Grosso destaca-se tanto nacional quanto internacionalmente por sua significativa produção agrícola.

A respeito do escoamento dos excedentes destinados à exportação, assinale a afirmativa correta.

- (A) O transporte ferroviário é a principal opção, da qual depende o Estado para o envio de sua produção para os portos da Região Sul.
- (B) O transporte hidroviário é ineficiente, visto que sua aplicação se restringe apenas à manutenção das conexões internas do Estado.
- (C) O transporte rodoviário, principalmente a rodovia BR 364, permite transportar a produção até o Estado de São Paulo, alcançando o porto de Santos.
- (D) O transporte rodoviário, principalmente a rodovia BR 163, permite a entrega da soja para o Rio de Janeiro, principal mercado consumidor.

25

A Capitania de Mato Grosso é uma das mais importantes de todo o Brasil, tanto pela sua extensão e pelas sabidas, mas ainda intactas riquezas, que guardam os seus vastíssimos sertões, como por ser fronteira ao vasto, populoso e rico Peru.

Adaptado de: Reflexões sobre o estado atual da capitania de Mato Grosso, combinando com os domínios espanhóis que lhe são confinantes, em: Serra, Ricardo, Reflexões sobre a Capitania de Mato Grosso, Cuiabá: IHGMT, 2002, p. 12.

A respeito do contexto da criação da Capitania de Mato Grosso e da delimitação de suas fronteiras, assinale a afirmativa correta.

- (A) A fronteira sul com a cidade de Assunção, que estava sob domínio espanhol, desempenhava um papel crucial na proteção do interior do território brasileiro.
- (B) A fronteira oriente com a capitania de Goiás, então no auge de sua produção de cana de açúcar, atuava como ponto de contato para trocas comerciais entre as duas regiões.
- (C) A fronteira leste com a capitania de São Paulo, representou o cumprimento do estabelecido pelo Tratado de Tordesilhas, que concedeu a posse da região centro oeste aos portugueses.
- (D) A fronteira norte com a capitania de Rondônia revelava-se estratégica para a exploração e tráfico da borracha e permitia uma conexão vital com os mercadores europeus.


26

A respeito da guerra entre a Tríplice Aliança e o Paraguai, assinale a afirmativa que descreve corretamente o envolvimento de Mato Grosso no conflito.

- (A) Os antecedentes do conflito são marcados pela assinatura do Tratado da Tríplice Aliança, o qual legitimava a guerra contra o Paraguai e designava Mato Grosso como capital da bacia platina, devido à sua extensa ocupação populacional.
- (B) No início do conflito, ocorreu a invasão paraguaia a Mato Grosso, que não encontrou dificuldade em ocupá-lo devido à precária defesa do território brasileiro.
- (C) Durante o conflito, a reconquista do território do Mato Grosso pelo Brasil foi facilitada pela acessibilidade à região, tanto por redes viárias quanto pelas rotas navegáveis.
- (D) O desfecho do conflito resultou na vitória brasileira, que retomou o território mato-grossense, que apesar de conquistado, jamais foi ocupado pelos paraguaios devido às ofensivas dos índios e às epidemias locais.

27

Analise a imagem a seguir.



Fonte: <https://g1.globo.com/ac/acre/noticia/2019/08/06/revolucao-acreana-charges-e-chronicas-tratavam-acre-como-um-estorvo-para-nacao.ghtml>

A charge ilustra o Barão do Rio Branco carregando uma bomba com a inscrição “Acre”, enquanto outro personagem, posicionado atrás, acende o pavio. A legenda diz: “— Cuidado, barão! Com esta bomba nem S. Pedro com seus tiros o salvará.”

Sobre as medidas estabelecidas pelo Tratado de Petrópolis, assinado entre o Brasil e a Bolívia, que resultou na incorporação do Acre ao território brasileiro, assinale a afirmativa correta.

- (A) Proibiu a navegação boliviana nos confluente brasileiros, encerrando a saída da Bolívia ao Oceano Atlântico.
- (B) Autorizou o acesso boliviano ao território brasileiro, estipulando que seria de responsabilidade da Bolívia construir uma ferrovia para facilitar sua mobilidade.
- (C) Concedeu permissão para o estabelecimento de agentes bolivianos nas alfândegas comerciais brasileiras na região de fronteira entre os dois países.
- (D) Desalojou colonos bolivianos da região, especialmente os que dependiam de atividades extrativistas, sem que o Brasil indenizasse o governo boliviano pela perda do território.

28

Deve-se promover a integração da península do Centro-Oeste brasileiro, equipando-a de meios que lhe permitam desempenhar seu duplo papel de sólida plataforma para um transbordamento sobre a Hileia ou para ações visando a contrapor-se ao avanço para o norte de um imperialismo platino.

Fonte: SILVA, Golbery do Couto e. Conjuntura política nacional: o poder executivo & geopolítica do Brasil. Brasília: Ed. UnB, 1981. (Coleção Temas Brasileiro, n. 7). Citado por Cavalcanti, Marcelo; Barreira, Celene. Ações da Sudeco no desenvolvimento do Centro-Oeste, B. goiano, geogr. Goiânia, v. 31, n. 2, 2011, p. 180.

As afirmativas a seguir descrevem corretamente os objetivos da Superintendência de Desenvolvimento do Centro-Oeste (SUDECO) durante a ditadura militar brasileira, **à exceção de uma**. Assinale-a.

- (A) Estimular o processo de industrialização na região, visando criar polos industriais capazes de competir com os centros empresariais do Sudeste.
- (B) Ocupar as áreas da região identificadas como “vazios estratégicos”, consideradas suscetíveis à influência comunista.
- (C) Promover a integração regional com outras partes do território brasileiro por meio do desenvolvimento de infraestrutura rodoviária.
- (D) Fomentar a mecanização e a modernização da agricultura para impulsionar a ocupação produtiva da fronteira agrícola.

Noções de Administração Pública, Ética, Filosofia e Atualidades

29

A pirâmide de Maslow foi uma das primeiras teorias desenvolvidas para entender o sentido da motivação.

De acordo com essa teoria, assinale a afirmativa correta.

- (A) Os seres humanos são estimulados por uma sequência de necessidades, devendo ocorrer a satisfação das necessidades mais básicas antes de se aspirarem as outras.
- (B) Os indivíduos são naturalmente preguiçosos, demandando, por isso, mecanismos de controle rígidos para o bom desempenho.
- (C) As pessoas são incentivadas pela percepção de justiça em seu ambiente, comparando suas recompensas e retribuições com a de seus pares.
- (D) Os sujeitos tendem a ser encorajados por atividades que são vistas como alcançáveis, conforme as suas capacidades.

30

O momento em que o aprovado em um concurso público é investido em cargo público, mediante a aceitação expressa das responsabilidades inerentes à função, é conhecido como posse. No entanto, é apenas no exercício que o servidor desempenha efetivamente suas atribuições.

Com relação ao disposto na Lei Complementar nº 04/1990, que dispõe sobre os servidores do Estado de Mato Grosso, é correto afirmar que, o servidor deve entrar em exercício

- (A) imediatamente após a posse.
- (B) até 5 dias após a posse.
- (C) até 20 dias após a posse.
- (D) até 30 dias após a posse.

31

Como regra geral, a contratação de pessoa na Administração Pública deve ocorrer por prazo indeterminado. No entanto, algumas situações de excepcionalidade permitem que sejam realizadas contratações em caráter temporário.

Com base nisso, analise as afirmativas a seguir.

- I. Combater surtos epidêmicos.
- II. Realizar o recenseamento.
- III. Permitir a execução de serviço, nas áreas de pesquisa científica, por profissional de notória especialização.

Em conformidade com a Lei Complementar nº 04/1990, assinale a opção que indica a(s) situação(ões) que permite(m) contratação temporária.

- (A) I, apenas.
- (B) I e II, apenas.
- (C) II e III, apenas.
- (D) I, II e III.

32

Em uma situação hipotética, determinado servidor do Estado do Mato Grosso, pertencente à Secretaria de Saúde, cometeu falta punível com cassação de aposentadoria.

Nesse caso, com base na Lei Complementar nº 04/1990, a autoridade que deve aplicar a respectiva penalidade ao servidor é o

- (A) Governador do Estado.
- (B) chefe da repartição do servidor.
- (C) Presidente do Tribunal de Contas do Estado.
- (D) Corregedor-geral do Estado.

33

Max Weber diferencia a ética da convicção da ética da responsabilidade.

A esse respeito, analise as afirmativas a seguir e assinale (V) para a verdadeira e (F) para a falsa.

- () A ética da responsabilidade é a que tem como preocupação central as consequências das ações realizadas.
- () A ética da convicção é a mais apropriada para a função pública, pois independe de variações individuais.
- () A ética da responsabilidade baseia-se nas predisposições éticas dos agentes e espera deles um elevado senso moral.

As afirmativas são, respectivamente,

- (A) F – V – F.
- (B) F – V – V.
- (C) V – F – F.
- (D) V – V – F.

34

O instituto da cidadania estabelece direitos e deveres para os indivíduos pertencentes à determinada sociedade. Esses direitos podem ser divididos em civis, políticos e sociais.

Assinale a opção que exemplifica corretamente os direitos sociais.

- (A) Direito à vida e à liberdade.
- (B) Direito à representação política.
- (C) Direito à propriedade privada.
- (D) Direito à saúde e à moradia.

35

Um funcionário do governo fica responsável pela distribuição de recursos limitados em uma pequena cidade e se depara com um dilema moral. Uma enchente atingiu a região e ele precisa decidir como alocar os recursos de emergência. Há dois grupos que precisam urgentemente de ajuda: um é um orfanato com várias crianças, e o outro, um hospital que atende a toda a comunidade. Ambos estão em situações críticas e os recursos não são suficientes para atender às necessidades de ambos.

Na situação acima, é correto afirmar que o funcionário aderiu a uma ética utilitarista se ele optou por

- (A) agir conforme o dever e o princípio moral de direcionar a ajuda para o grupo mais desfavorecido.
- (B) tomar o caminho de ação capaz de favorecer o maior número possível das pessoas afetadas.
- (C) conduzir a situação do modo mais compatível possível com o cultivo coletivo das virtudes cívicas.
- (D) atuar de maneira a distribuir os recursos equitativamente, sem favorecer ou preterir nenhuma das partes.

36

Com relação ao Estatuto dos Servidores Públicos do Estado do Mato Grosso (Lei Complementar nº 04/1990), associe cada forma de provimento de cargo público à sua descrição.

1. Reversão
 2. Recondução
 3. Readaptação
 4. Reintegração
- () O servidor aposentado por invalidez retorna à atividade ao serem declarados insubsistentes os motivos da aposentadoria.
 - () O servidor passa a assumir responsabilidades e atribuições compatíveis com uma limitação física ou mental sofrida.
 - () O servidor retorna a um cargo anteriormente ocupado, por exemplo, devido à inabilitação em estágio probatório.
 - () O servidor retorna ao cargo anteriormente ocupado devido a uma invalidação de uma anterior demissão.

Assinale a opção que indica a relação correta, segundo a ordem apresentada.

- (A) 1 – 3 – 2 – 4.
- (B) 1 – 4 – 2 – 3.
- (C) 4 – 2 – 3 – 1.
- (D) 4 – 3 – 2 – 1.

Legislação do SUS + Plano Nacional de Atenção Básica à Saúde

37

Assinale a opção que apresenta, corretamente, um objetivo do Sistema Único de Saúde – SUS.

- (A) Integração em nível executivo das ações de saúde, meio ambiente e saneamento básico.
- (B) Organização dos serviços públicos de modo a evitar duplicidade de meios para fins idênticos.
- (C) Identificação e divulgação dos fatores condicionantes e determinantes da saúde.
- (D) Capacidade de resolução dos serviços em todos os níveis de assistência.

38

Assinale a opção que apresenta o princípio que foi acrescentado ao Sistema Único de Saúde, em 2023.

- (A) Organizar atendimento público específico e especializado para mulheres e vítimas de violência doméstica em geral.
- (B) Divulgar informações quanto ao potencial dos serviços de saúde e da sua utilização pelo usuário.
- (C) Utilizar a epidemiologia para estabelecer prioridades, a alocação de recursos e a orientação programática.
- (D) Proteger integralmente os direitos humanos de todos os usuários e, em especial, identificar maus-tratos, negligência e violência sexual praticados contra crianças e adolescentes.

39

Com base nas disposições da Lei nº 8.080/90 acerca do acompanhamento à mulher nos serviços de saúde, analise as afirmativas a seguir e assinale (V) para a verdadeira e (F) para a falsa.

- () Em consultas, exames e procedimentos realizados em unidades de saúde públicas ou privadas, toda mulher tem o direito de fazer-se acompanhar por pessoa maior de idade, durante todo o período do atendimento, independentemente de notificação prévia.
- () Em caso de atendimento com sedação, a eventual renúncia da paciente ao direito de acompanhante deverá ser feita por escrito, após o esclarecimento dos seus direitos, com no mínimo 24 (vinte e quatro) horas de antecedência, assinada por ela e arquivada em seu prontuário.
- () Em casos de urgência e emergência, os profissionais de saúde ficam autorizados a agir na proteção e defesa da saúde e da vida da paciente, ainda que na ausência do acompanhante requerido.

As afirmativas são, respectivamente,

- (A) F – V – F.
- (B) V – V – V.
- (C) F – F – V.
- (D) V – F – V.

40

Com base na organização dos níveis de assistência à saúde, assinale a opção que apresenta a um serviço da *atenção terciária*.

- (A) Unidade de Transplante Renal.
- (B) Ambulatório de Neurologia.
- (C) Serviço de Ressonância Magnética.
- (D) Unidades de Pronto Atendimento.

41

Os Programas de Qualidade de Vida e Saúde para os Trabalhadores da Saúde e o Colegiado Gestor fazem parte do seguinte elemento da Política Nacional de Humanização.

- (A) Valores.
- (B) Princípios.
- (C) Diretrizes.
- (D) Dispositivos.

42

Com base nos Requisitos de Boas Práticas de Funcionamento para os Serviços de Saúde, analise as afirmativas a seguir e assinale (V) para a verdadeira e (F) para a falsa.

- () Em serviços de saúde com mais de vinte trabalhadores é obrigatória a instituição de Comissão Interna de Prevenção de Acidentes - CIPA.
- () O serviço de saúde deve garantir que o prontuário contenha registros relativos à identificação e todos os procedimentos prestados ao paciente.
- () O serviço de saúde deve garantir que os trabalhadores sejam avaliados, no mínimo, uma vez ao ano em relação à saúde ocupacional.

As afirmativas são, respectivamente,

- (A) V – V – V.
- (B) F – V – F.
- (C) V – V – F.
- (D) V – F – F.

43

De acordo com a Carta dos Direitos e Deveres da Pessoa Usuária da Saúde, assinale a afirmativa correta.

- (A) O usuário tem direito a acompanhante, pessoa de sua livre escolha, nas consultas e exames.
- (B) O atendimento nos serviços de saúde deve ser sempre com hora marcada.
- (C) O usuário tem liberdade de procurar parecer de outro profissional, exceto em casos com impedimento legal.
- (D) Toda pessoa previamente cadastrada tem direito a participar dos conselhos e das conferências de saúde.

44

De acordo com as disposições normativas acerca da segurança do paciente, os eventos adversos que evoluírem para óbito devem ser notificados em até

- (A) 12 horas, a partir do ocorrido.
- (B) 24 horas, a partir do ocorrido.
- (C) 48 horas, a partir do ocorrido.
- (D) 72 horas, a partir do ocorrido.

45

Com base nas disposições da Lei nº 8.142/90, analise as afirmativas a seguir.

- I. O Conselho de Saúde é um órgão colegiado responsável por avaliar a situação de saúde e propor diretrizes para formulação da política de saúde.
- II. Um dos requisitos para que Estados e Municípios recebam os recursos destinados à cobertura das ações e serviços de saúde é a elaboração do Plano de Saúde.
- III. Os Municípios poderão estabelecer consórcio para execução de ações e serviços de saúde.

Está correto o que se afirma em

- (A) I, apenas.
- (B) II e III, apenas.
- (C) I e II, apenas.
- (D) I e III, apenas.

46

Conforme disposições sobre a organização do SUS, o conjunto de ações e serviços de saúde, articulados em níveis de complexidade crescente com a finalidade de garantir a integralidade da assistência à saúde, corresponde ao(à)

- (A) Mapa de Saúde.
- (B) Região de Saúde.
- (C) Rede de Atenção à Saúde.
- (D) Serviços Especiais de Acesso Aberto.

CONHECIMENTOS ESPECÍFICOS

47

Sobre os componentes epiteliais do exame de esfregaço cérvico-vaginal, analise as proposições abaixo.

- I. As células escamosas superficiais apresentam núcleo condensado e picnótico, citoplasma geralmente eosinofílico que pode apresentar grânulos de querato-hialina que correspondem a elaboração de queratina de alto peso molecular.
- II. A células escamosas intermediárias são proeminentes durante a gestação e em pacientes que fazem uso de progestágenos.
- III. As células escamosas parabasais podem predominar em pacientes após a menopausa e no período pós-parto.

Está correto o que se afirma em

- (A) I e II, apenas.
- (B) I e III, apenas.
- (C) II e III, apenas.
- (D) I, II e III.

48

Paciente 35 anos, realizou exame citopatológico cérvico-vaginal preventivo de rotina. A análise microscópica dos esfregaços revelou linfócitos de diferentes tamanhos formando aglomerados vagamente agregados ou dispostos individualmente, associados a macrófagos contendo corpos tingidos.

O diagnóstico mais provável do caso é:

- (A) Alterações de reparo típico.
- (B) Cervicite folicular.
- (C) Infecção viral.
- (D) Alterações de citólise.

49

Paciente feminina, 30 anos, portadora de nódulo tireoideano sólido medindo 3,0 cm e localizado no lobo direito, assintomática. Submetida a PAAF do nódulo, que demonstrou esfregaços celulares com grande quantidade de células epiteliais foliculares tipo oxifílicas (células de Hurthle) em arranjo sólido e microfolicular, com escasso material colóide. Em raras células, foram observadas ranhuras (“grooves”) nucleares. Não foram observadas pseudoinclusões nucleares nem áreas com arranjo celular papilar.

Assinale a opção que indica a categoria do sistema Bethesda que melhor corresponde ao caso descrito.

- (A) Categoria III.
- (B) Categoria IV.
- (C) Categoria V.
- (D) Categoria VI.

50

A presença de grande quantidade de células epiteliais de reserva nos esfregaços de lavado broncoalveolar pode induzir o citopatologista a propor o diagnóstico de

- (A) Carcinoma de pequenas células do pulmão.
- (B) Adenocarcinoma pulmonar.
- (C) Linfoma não-Hodgkin.
- (D) Sarcoidose pulmonar.

51

Na maioria dos casos de neoplasia mucinosa papilar intraductal do pâncreas, os esfregaços e blocos celulares derivados de punção/biópsia por agulha guiada por ultrassonografia endoscópica mostram:

- (A) Células epiteliais glandulares mucinosas formando pequenos grupamentos, grandes grupamentos e grupamentos papilares, com intensas atipias nucleares, sobre fundo necrótico.
- (B) Células epiteliais glandulares mucinosas e escamosas isoladas ou formando pequenos grupamentos, com intensas atipias nucleares, sobre fundo necrótico.
- (C) Células epiteliais oxifílicas isoladas, formando pequenos grupamentos, grandes grupamentos e grupamentos papilares, com atipias nucleares leves, sobre fundo rico em mucina.
- (D) Células epiteliais glandulares mucinosas isoladas, formando pequenos grupamentos, grandes grupamentos e grupamentos papilares, com atipias nucleares leves, sobre fundo rico em mucina.

52

Paciente masculino, 70 anos, com história prévia de carcinoma urotelial papilar de baixo grau não-invasivo da bexiga, tendo sido submetido a ressecção transuretral do tumor há dois anos. A citologia urinária de controle mostra grande quantidade de células uroteliais isoladas ou agrupadas, com intensas atipias nucleares (hipercromasia nuclear, cromatina grosseira e membrana nuclear irregular). Segundo a classificação do sistema Paris, assinale a opção que indica o melhor diagnóstico para o caso.

- (A) Categoria 3, células uroteliais atípicas.
- (B) Categoria 4, suspeito para carcinoma urotelial de alto grau.
- (C) Categoria 5, carcinoma urotelial de alto grau.
- (D) Categoria 6, carcinoma urotelial de baixo grau.

53

Paciente feminina, 68 anos, com quadro de ascite a esclarecer. TC abdominal e de tórax não evidenciando tumoração intra-abdominal ou torácica e exame endoscópico do trato gastrointestinal sem evidências de tumoração no cólon, esôfago ou estômago/duodeno. Exame citopatológico do líquido ascítico positivo para células neoplásicas, com grande quantidade de células epitelióides dispostas em grupamentos esboçando papilas e exibindo intensas atipias nucleares (pleomorfismo nuclear, nucléolo proeminente e núcleos vesiculosos).

Sobre o caso descrito, assinale a afirmativa correta.

- (A) A possibilidade de tratar-se de adenocarcinoma metastático é afastada pela ausência de tumor primário detectável nos exames endoscópicos e radiológicos descritos.
- (B) O quadro clínico e citopatológico descrito pode corresponder ao diagnóstico de carcinoma seroso de alto grau primário do peritônio, e o exame de imunocitoquímica pode ser útil para o estabelecimento de tal diagnóstico.
- (C) A possibilidade de etiologia inflamatória não pode ser totalmente afastada, apesar da presença de células epitelióides atípicas no líquido ascítico, pois não foi detectado tumor primário nos exames endoscópicos e radiológicos descritos.
- (D) A possibilidade de tratar-se de erro diagnóstico no exame citopatológico deve ser considerada, pois na maioria dos casos as células mesoteliais reacionais exibem atipias citológicas intensas, indistinguíveis daquelas vistas em células de carcinomas e mesoteliomas.

54

São marcadores imunocitoquímicos importantes para distinção entre células mesoteliais reativas e células mesoteliais neoplásicas em amostras de líquido pleural suspeitas de mesotelioma maligno pleural:

- (A) Desmina, p53 e EMA.
- (B) TTF-1, HBME-1 e Napsina A.
- (C) Calretinina, HBME-1 e p53.
- (D) Desmina, HBME-1 e EMA.

55

O exame citopatológico do líquido pleural presente em casos de linfoma primário de efusão / linfoma primário da cavidade pleural demonstra:

- (A) células linfóides pequenas isoladas, presentes em grande quantidade e sem atipias nucleares grosseiras, além de ocasionais histiócitos e raras células mesoteliais.
- (B) células linfóides médias ou grandes isoladas, atípicas, com contornos nucleares irregulares, nucléolo proeminente e citoplasma frequentemente abundante.
- (C) células epitelioides agrupadas ou isoladas, com intensas atipias nucleares e citoplasma vacuolado.
- (D) células linfóides grandes e pequenas, isoladas, com atipias citológicas leves, sobre fundo necrótico.

56

Paciente masculino, 50 anos, com quadro de emagrecimento importante (20 kg em dois meses), linfadenomegalia cervical e mediastinal, derrame pleural bilateral e pericárdico. Submetido a PAAF de linfonodo cervical, com diagnóstico citopatológico de carcinoma metastático pouco diferenciado.

Entre os quadros citopatológicos descritos a seguir, assinale a opção que melhor corresponde ao diagnóstico estabelecido.

- (A) Células neoplásicas epitelioides isoladas ou agrupadas, com intensas atipias nucleares (núcleos vesiculosos e pleomórficos com nucléolo proeminente), sobre fundo necrótico.
- (B) Células neoplásicas fusiformes com intensas atipias nucleares (núcleos de tamanho variado com cromatina grosseira e nucléolo evidente) dispostas em maciços celulares, em meio a grande quantidade de hemácias.
- (C) Células neoplásicas intensamente pleomórficas, com núcleos bizarros e frequente multinucleação, dispostas de forma isolada sobre fundo necrótico.
- (D) Células neoplásicas epitelioides isoladas com intensas atipias nucleares (núcleos vesiculosos e pleomórficos com nucléolo proeminente) e pigmento acastanhado citoplasmático positivo na coloração do Masson-Fontana, sobre fundo necrótico.

57

Paciente masculino, 80 anos, portador de massa pulmonar medindo 5,0 cm localizada no lobo superior esquerdo. Submetido a broncoscopia que revelou lesão endobrônquica vegetante no brônquio fonte do lobo superior esquerdo. O exame citopatológico do lavado broncoalveolar revelou a presença de numerosas células epitelioides atípicas dispostas em grupamentos pequenos e arredondados sugestivos de micropapilas, com núcleos pleomórficos e nucléolo proeminente, em meio a leucócitos, macrófagos e células epiteliais respiratórias. Foram observados ainda psamomas relacionados aos grupamentos neoplásicos.

Assinale a opção que indica o diagnóstico mais provável para o caso.

- (A) Carcinoma escamoso, provável subtipo pseudoglandular.
- (B) Carcinoma metastático, provável primário da tireoide.
- (C) Adenocarcinoma micropapilar do pulmão.
- (D) Adenocarcinoma "in situ" do pulmão.

58

A presença de grande quantidade de linfócitos pequenos e ocasionais histiócitos sobre fundo amorfo e eosinofílico, sem células mesoteliais evidentes, é característica dos esfregaços de líquido pleural relacionado a

- (A) Derrame pleural parapneumônico.
- (B) Linfoma não-Hodgkin de grandes células.
- (C) Tuberculose pleural.
- (D) Mesotelioma pleural maligno.

59

Em casos de ascite neoplásica com exame citopatológico apontando adenocarcinoma metastático, assinale a opção que indica os marcadores que são úteis para a avaliação do sítio primário no exame imunocitoquímico em material do "cell-block".

- (A) EMA, desmina e p53.
- (B) HBME-1, calretinina e podoplanina.
- (C) CDX-2, TTF-1 e PAX-8.
- (D) CK "pool", CEA e vimentina.

60

Paciente feminina, 32 anos, com diagnóstico de insulinoma pancreático (nódulo em transição corpo/cauda do pâncreas medindo 1,5 cm).

Assinale a opção que apresenta a melhor descrição do quadro citopatológico observado, caso a lesão seja submetida a PAAF.

- (A) Células epitelioides grandes e pleomórficas, com cromatina grosseira e nucléolo proeminente, isoladas ou agrupadas, com frequentes figuras de mitose.
- (B) Células epitelioides com núcleos monomórficos sem nucléolo proeminente, com cromatina delicada e pontilhada, isoladas ou agrupadas, sem mitoses evidentes.
- (C) Células epitelioides com núcleos vesiculosos, nucléolo proeminente e citoplasma vacuolado, isoladas ou agrupadas.
- (D) Células epitelioides de aspecto rabdoide, com núcleos monomórficos, nucléolo pouco evidente, cromatina delicada e pontilhada, isoladas ou agrupadas.

61

Paciente feminina, 35 anos, portadora de prótese mamária bilateral há 9 anos, com quadro de aumento do volume da mama direita. O exame ultrassonográfico demonstrou grande quantidade de líquido em torno da prótese, sem massas ou nódulos associados. Foi realizada PAAF do líquido, e o exame citopatológico demonstrou grande quantidade de células linfóides grandes e atípicas.

Assinale a opção que indica o marcador que deverá ser mais provavelmente positivo no exame imunocitoquímico do caso.

- (A) S-100
- (B) CEA
- (C) ALK
- (D) CD30

62

O exame imunocitoquímico para pesquisa de macrófagos positivos para CD1a em lavado broncoalveolar é indicado para o diagnóstico de

- (A) Asma brônquica alérgica.
- (B) Sarcoidose com envolvimento de mucosa brônquica.
- (C) Histiocitose de células de Langerhans pulmonar.
- (D) Doença de Rosai-Dorfman pulmonar.

63

No sistema Milão de classificação das amostras citopatológicas obtidas por PAAF de lesões de glândulas salivares, a categoria utilizada na maioria dos casos de tumores compostos por células basalóides é:

- (A) Atipia de significado incerto.
- (B) Neoplásico benigno.
- (C) Neoplasia de glândula salivar de potencial maligno incerto (SUMP).
- (D) Suspeito para malignidade.

64

Nos casos de punção / biópsia de linfonodos intratorácicos guiada por ecobroncoscopia (EBUS), é correto afirmar:

- (A) O exame imunocitoquímico dessas amostras permite classificar o tipo de carcinoma em casos de tumores pulmonares sem diagnóstico acompanhados de linfadenomegalia mediastinal metastática.
- (B) O exame de patologia molecular dessas amostras é contraindicado pela grande quantidade de hemácias invariavelmente presentes.
- (C) A presença de células epitelioides atípicas suspeitas para carcinoma metastático e negativas para TTF-1 e Napsina A afasta a possibilidade de carcinoma metastático de sítio primário pulmonar, mesmo nos casos com massa ou nódulo pulmonar associados a linfadenomegalia intratorácica.
- (D) Nos casos suspeitos de tuberculose ou sarcoidose, é um exame contraindicado pela impossibilidade de visualizar granulomas.

65

Paciente masculino, 58 anos, com massa tumoral envolvendo tecido subcutâneo e pele da coxa esquerda medindo 8,0 cm, submetida a PAAF. Os esfregaços mostram células neoplásicas predominantemente fusiformes, com intensas atipias nucleares e alto índice mitótico, sobre fundo necrótico.

Assinale a opção que indica o melhor diagnóstico para o caso.

- (A) Carcinoma escamoso pouco diferenciado.
- (B) Sarcoma pleomórfico indiferenciado.
- (C) Linfoma não-Hodgkin tipo B difuso de grandes células.
- (D) Dermatofibrossarcoma protuberans.

66

Nos casos de tumor de Krukenberg com ascite neoplásica, a análise citopatológica do líquido ascítico revela a presença de células neoplásicas epitelióides do tipo

- (A) Anel-de-sinete.
- (B) Rabdoides.
- (C) Plasmocitoides.
- (D) Oncocíticas.

67

Assinale a opção que indica o diagnóstico que deve ser considerado como *diagnóstico diferencial* quando observamos esfregaço de PAAF de tumor sólido pseudopapilar pancreático (tumor de Frantz).

- (A) Tumor neuroendócrino pancreático.
- (B) Adenocarcinoma tipo ductal do pâncreas.
- (C) Linfoma pancreático.
- (D) Neoplasia mucinosa papilar intraductal do pâncreas.

68

Nos casos de PAAF de doença de Rosai-Dorfman linfonodal, a principal característica microscópica vista nos esfregaços é:

- (A) Células epitelioides grandes e atípicas agrupadas, com citoplasma vacuolado.
- (B) Células histiocitoides grandes com linfócitos íntegros no citoplasma.
- (C) Grande quantidade de linfócitos em diferentes estágios de maturação e histiócitos com restos apoptóticos no citoplasma.
- (D) Grande quantidade de eosinófilos e células histiocitoides com ranhuras (*grooves*) nucleares.

69

Assinale a opção que apresenta um dos principais critérios microscópicos para distinguir mesotelioma epitelióide maligno de hiperplasia mesotelial reacional ao exame citopatológico de efusões cavitárias.

- (A) Presença de ocasionais células de aspecto mesotelial com atipias nucleares, em meio a numerosas células mesoteliais sem atipias nucleares grosseiras, favorecendo hiperplasia mesotelial reacional.
- (B) Presença de intensa vacuolização citoplasmática, favorecendo mesotelioma epitelióide maligno.
- (C) Presença de numerosas células mesoteliais com intensas atipias nucleares, cromatina grosseira, pleomorfismo nuclear e nucléolo proeminente, favorecendo hiperplasia mesotelial reacional.
- (D) Presença de denso infiltrado leucocitário misto de fundo, favorecendo mesotelioma maligno epitelióide.

70

Assinale a opção que apresenta a descrição que melhor caracteriza o quadro citopatológico do tumor de Warthin da parótida.

- (A) Numerosas células epiteliais oncocíticas com intensas atipias nucleares (núcleos pleomórficos com contornos irregulares, cromatina grosseira e nucléolo proeminente) dispostas em maciços coesos ou grupamentos papilares, sobre fundo necro-hemorrágico.
- (B) Numerosos linfócitos pequenos e grandes, ocasionais histiócitos e raras células epiteliais mucinosas com atipias nucleares leves.
- (C) Células epiteliais oncocíticas dispostas em maciços coesos e grupamentos papilares, com núcleos arredondados exibindo cromatina granular e nucléolo evidente, em meio a numerosos linfócitos.
- (D) Células epiteliais ductais sem atipias nucleares grosseiras sobre fundo fibromixóide.

71

No exame citopatológico do escarro induzido, o tipo celular que deve estar presente para a amostra ser considerada adequada para análise é

- (A) Célula epitelial respiratória ciliada.
- (B) Célula epitelial de reserva.
- (C) Macrófago alveolar.
- (D) Pneumócito.

72

Nos casos de carcinoma escamoso relacionado ao HPV de cabeça e pescoço com metástase linfonodal cervical cística, a PAAF do linfonodo metastático é caracterizada pela presença de

- (A) Linfócitos, neutrófilos e macrófagos sobre fundo amorfo, além de células epiteliais escamosas sem atipias presentes geralmente em pequeno número.
- (B) Grupamentos coesivos de células neoplásicas epitelioides com intensas atipias nucleares, cromatina grosseira, nucléolo proeminente e citoplasma amplo, com frequentes células neoplásicas ceratinizadas e pleomórficas.
- (C) Grandes grupamentos coesivos ou pequenos grupamentos de células epitelioides e fusiformes, com núcleos pleomórficos, nucléolo proeminente, cromatina grosseira e citoplasmas amplos, sem células ceratinizadas evidentes.
- (D) Grandes grupamentos coesivos ou pequenos grupamentos de células neoplásicas basalóides, além de células neoplásicas isoladas, com núcleos irregulares e hipercromáticos sem nucléolo proeminente, citoplasmas escassos, com esparsas células neoplásicas ceratinizadas.

73

Nos casos de PAAF de plasmocitoma ósseo, o quadro citopatológico demonstra grande quantidade de plasmócitos.

Assinale a opção que contém características desse tipo celular.

- (A) Núcleo excêntrico e área de clareamento perinuclear do citoplasma (*perinuclear hof*).
- (B) Célula oncocítica, com núcleo arredondado e nucléolo proeminente.
- (C) Núcleo central, com cromatina delicada e citoplasma vacuolado.
- (D) Núcleos alongados, com cromatina grosseira e citoplasma escasso.

74

No diagnóstico diferencial entre atipias reacionais em epitélio brônquico e carcinoma pulmonar não-pequenas células em material de lavado bronco-alveolar, a característica citopatológica que favorece a malignidade é a presença de

- (A) células ciliadas nos grupamentos de células atípicas.
- (B) células ceratinizadas, com intenso pleomorfismo nuclear e cromatina grosseira.
- (C) fundo rico em leucócitos.
- (D) corpos de Creola.

75

A PAAF de linfadenomegalias é um método diagnóstico frequentemente utilizado para triagem dos casos que necessitam de biópsia subsequente para diagnóstico definitivo.

Assinale a opção que indica os achados microscópicos que favorecem o linfoma em detrimento de hiperplasia linfoide reacional (linfadenopatia reacional).

- (A) Presença de agregados linfo-histiocíticos, compostos por linfócitos pequenos e histiócitos.
- (B) Presença de macrófagos com restos celulares fagocitados no citoplasma (corpos tingidos).
- (C) População linfocitária polimórfica, incluindo linfócitos grandes de aspecto imunoblástico.
- (D) População linfocitária monomórfica, composta por linfócitos pequenos, sem atipias nucleares grosseiras.

76

Paciente masculino, 30 anos, com história de seminoma testicular ressecado há dois anos, apresentando múltiplas linfadenomegalias mediastinais sugestivas de metástase. Realizada a punção / biópsia guiada por ultrassonografia endobrônquica (EBUS), que demonstrou quadro citopatológico compatível com seminoma metastático (células epitelióides atípicas grandes, não-coesas, com núcleos hipercromáticos e nucléolo proeminente, em meio a numerosos linfócitos reativos).

Qual marcador imunocitoquímico estaria indicado para confirmação do diagnóstico, visando afastar a possibilidade de linfoma?

- (A) Citoqueratina "pool".
- (B) Alfa-feto proteína.
- (C) CD30.
- (D) OCT 3/4.

77

Sobre citologia cérvico-vaginal, analise as proposições a seguir.

- I - A coilocitose pode estar presente, mas não é necessária para o diagnóstico de LSIL.
- II - Coilocitose, pseudocoilocitose e paraceratose atípica são alterações classificadas como LSIL.
- III - Do ponto de vista biológico e de conduta clínica, as lesões do tipo NIC 1 e alterações citopáticas virais pelo HPV são consideradas uma única categoria, denominada LSIL.

Está correto o que se afirma em

- (A) I, II e III.
- (B) I e II, apenas.
- (C) II e III, apenas.
- (D) I e III, apenas.

78

Paciente feminina, 28 anos, realizou exame de esfregaço cérvico-vaginal que evidenciou células epiteliais escamosas multinucleadas, com amoldamento nuclear, marginação da cromatina e núcleos claros, tipo vidro fosco.

O aspecto descrito no exame corresponde à infecção pelo vírus

- (A) HPV.
- (B) HSV.
- (C) CMV.
- (D) EBV.

79

Sobre esfregaço cérvico-vaginal, segundo o Sistema Bethesda, assinale a alternativa correta.

- (A) Uma amostra cervical adequada deve conter de 8000 a 12000 células epiteliais escamosas bem preservadas e bem visualizadas, e tal critério de adequação deve ser mantido incluindo casos de pacientes pós-terapia para câncer ginecológico e em amostras vaginais pós-histerectomia.
- (B) A presença da zona de transformação na amostra é fundamental para que o espécime seja considerado adequado, e a ausência de elementos celulares desta região indicam que o exame deverá ser repetido.
- (C) Amostras com mais 80% das células escamosas obscurecidas por material sanguinolento devem ser consideradas como exame insatisfatório, ainda que sejam identificadas células diagnósticas de LSIL.
- (D) Pacientes submetidas a histerectomia total prévia podem apresentar células epiteliais glandulares endocervicais sem atipias no esfregaço cervical, e o relato de tais células no exame é opcional, uma vez que não há repercussão clínica de tal achado.

80

Mulher, 49 anos, assintomática, realizou exame preventivo citológico cérvico-vaginal de rotina. O exame foi negativo para lesão intraepitelial escamosa, e revelou a presença de células glandulares endometriais esfoliadas sem atipias.

Sobre o caso, assinale a afirmativa correta.

- (A) Se a paciente estiver no menacme, com data da última menstruação evidenciando coleta até o 12º dia do ciclo menstrual, tais células se correlacionam com a história menstrual da paciente, sem conduta clínica adicional necessária.
- (B) Se a paciente estiver no menacme, a presença de células endometriais em grupamentos do tipo “êxodo” indica a necessidade de prosseguir a investigação para avaliação endometrial.
- (C) Se a paciente estiver na pós-menopausa, a presença de células endometriais na amostra pode ocorrer devido a endométrio benigno ou alterações hormonais, sem necessidade de investigação adicional do endométrio.
- (D) Se a paciente estiver na pós-menopausa, é comum o achado de células endometriais glandulares esfoliadas, assim como de amostras do segmento uterino inferior.

Realização

