



CONCURSO PÚBLICO
EDITAL Nº 02, DE 30 DE OUTUBRO DE 2023

CÂMARA MUNICIPAL DE SÃO PAULO

PROVA OBJETIVA – MANHÃ

CONSULTOR TÉCNICO LEGISLATIVO CONTADOR

NÍVEL SUPERIOR TIPO 1 – BRANCA



SUA PROVA

- Além deste caderno contendo **100 (cem)** questões objetivas, você receberá do fiscal de prova o cartão de respostas;
- As questões objetivas têm **5 (cinco)** opções de resposta (A, B, C, D e E) e somente uma delas está correta.



TEMPO

- Você dispõe de **5 (cinco) horas** para a realização da prova, já incluído o tempo para a marcação do cartão de respostas;
- **2 (duas) horas** após o início da prova, é possível retirar-se da sala, sem levar o caderno de questões;
- A partir dos **30 (trinta) minutos** anteriores ao término da prova é possível retirar-se da sala **levando o caderno de questões**.



NÃO SERÁ PERMITIDO

- Qualquer tipo de comunicação entre os candidatos durante a aplicação da prova;
- Anotar informações relativas às respostas em qualquer outro meio que não seja o caderno de questões;
- Levantar da cadeira sem autorização do fiscal de sala;
- Usar o sanitário ao término da prova, após deixar a sala.



INFORMAÇÕES GERAIS

- Verifique se seu caderno de questões está completo, sem repetição de questões ou falhas. Caso contrário, **notifique imediatamente o fiscal da sala**, para que sejam tomadas as devidas providências;
- Confira seus dados pessoais, especialmente nome, número de inscrição e documento de identidade e leia atentamente as instruções para preencher o cartão de respostas;
- Para o preenchimento do cartão de respostas, use somente caneta esferográfica, fabricada em material transparente, com tinta preta ou azul;
- Assine seu nome apenas no(s) espaço(s) reservado(s) no cartão de respostas;
- Confira seu cargo, cor e tipo do caderno de questões. Caso tenha recebido caderno de cargo ou cor ou tipo **diferente** do impresso em seu cartão de respostas, o fiscal deve ser **obrigatoriamente** informado para o devido registro na ata da sala;
- Reserve tempo suficiente para o preenchimento do seu cartão de respostas. O preenchimento é de sua responsabilidade e **não será permitida a troca do cartão de respostas em caso de erro cometido pelo candidato**;
- Para fins de avaliação, serão levadas em consideração apenas as marcações realizadas no cartão de respostas;
- A FGV coletará as impressões digitais dos candidatos na lista de presença;
- Os candidatos serão submetidos ao sistema de detecção de metais quando do ingresso e da saída de sanitários durante a realização das provas.
- **Boa sorte!**

Língua Portuguesa

1

Em todas as frases abaixo havia uma repetição de termos, que foi evitada pela substituição do segundo termo. Assinale a opção em que essa substituição não acrescentou nenhuma informação nova ao termo anterior.

- (A) Eu já vi esse filme e não tenho vontade de rever esse dramalhão.
- (B) Sofia convidou o Marcelo. Ela espera que seu amigo goste da comida.
- (C) Eu fui ver uma casa para alugar, mas eu não me vejo morando naquele cubículo.
- (D) Rosa me apresentou seu primo, mas não tenho nenhuma vontade de rever esse rapaz pretensioso.
- (E) Bernardo apresentou a namorada a seus pais, mas a menina deu a impressão de ser muito tímida.

2

Entre os raciocínios a seguir, assinale aquele que se inclui entre os indutivos.

- (A) Ser aprovado em um curso e gostar do que estuda são coisas que vão juntas. Meu irmão não passou em Biologia, ou seja, ele não gostava dessa disciplina.
- (B) Estive em um cassino em Las Vegas e fui a uma máquina em que você pode ganhar um milhão, apostando três dólares. Meti os três dólares na máquina, pedi a Deus que ganhasse, puxei a manivela e não ganhei nada. Portanto Deus não existe.
- (C) Muitas cidades interioranas procuram aumentar sua renda por meio de festas em finais de semana, que chegam a atrair muitos turistas. Na semana passada, uma dessas cidades programou-se para uma movimentada festividade, mas um temporal fortíssimo acabou com os sonhos da Prefeitura. Conclusão: nem tudo que reluz é ouro.
- (D) Os sorteios da Loteria Federal já realizaram sonhos e muita gente, mas também produzem tragédias, como a do pobre sujeito que, após ficar rico, foi assassinado a mando da esposa.
- (E) As obras de Machado de Assis, sobretudo as da fase realista, produzem muita admiração nos leitores por sua organização; *o Dom Casmurro* não é diferente.

3

Observe o texto abaixo:

“A felicidade depende da destreza que tenhamos naquelas atividades que consideramos importantes para nós: somente se damos um real valor aos pequenos detalhes cotidianos, podemos ter instantes felizes. A felicidade absoluta não existe, e já que só podemos ter acesso aos pequenos detalhes daquilo que nos interessa, devemos contentar-nos também com esses breves momentos felizes. Por isso, a infelicidade é um claro sinal de nossa incompetência na arte de viver.”

Sobre esse pequeno texto, assinale a afirmativa que está em **desacordo** com a sua estrutura ou sua significação.

- (A) O tema do texto é a discussão sobre o que viria a ser a felicidade e o que seria oposto a ela.
- (B) A estrutura básica do texto é a argumentativa, já que o enunciador defende um posicionamento sobre o tema.
- (C) O argumento básico do texto se fundamenta nas próprias opiniões do argumentador.
- (D) A tese presente no texto é a de que a infelicidade é fruto de nossa incompetência na arte de viver.
- (E) O método empregado na construção do raciocínio nesse texto é o indutivo, já que parte dos detalhes para o todo.

4

“Nos países da Europa oriental, a queda dos regimes comunistas esteve associada à emergência de amplos movimentos sociais que lutavam por mudanças definitivas no sistema econômico como por preocupação com a vigência de direitos cidadãos.”

Entre as afirmações abaixo, assinale aquela que é defendida clara ou implicitamente pelo autor desse fragmento textual.

- (A) Os regimes comunistas nos países da Europa oriental perderam valor em face de movimentos sociais opostos.
- (B) A queda dos regimes comunistas na Europa oriental trouxe implicações na área política e econômica.
- (C) O regime comunista não mostrava a vigência dos direitos cidadãos como uma de suas prioridades.
- (D) As sociedades da Europa oriental começaram a mover-se política e socialmente a partir da queda dos regimes comunistas.
- (E) As tentativas de mudança socialmente procuradas, tanto no âmbito econômico como no social acabaram por modificar a estrutura política da Europa oriental.

5

Um texto é um conjunto de frases organizado de modo a apresentar-se coerente e estruturado. A coerência do texto repousa, entre outros, sobre um princípio de continuidade, que é assegurada pela retomada de informações, ou seja, retomar os elementos já expressos no texto.

Observe o texto a seguir:

“Antônio caminhava em direção ao mar. Essa vasta extensão azul o fascinava há longo tempo. Ela o acalmava, pacificava, o atraía. Lá, ele se sentia sempre convidado.”

Assinale a afirmação **inadequada** sobre os elementos de coerência desse pequeno texto.

- (A) O termo “mar” é retomado pelo grupo nominal “essa vasta extensão azul”.
- (B) O termo “Antônio” é retomado em três ocorrências do pronome oblíquo “o”.
- (C) O termo Antônio também reaparece no emprego do pronome pessoal “Ele” e do pronome reflexivo “se”.
- (D) O pronome “Ela” retoma o termo “mar”, presente na frase inicial do texto.
- (E) O advérbio “Lá” retoma a ideia de “mar”, citado anteriormente.

6

Observe o seguinte texto narrativo:

“Seguia caminhando lado da menina, mas sua mente estava ocupada com o problema da ponte, que agora lhe aparecia com toda a clareza e precisão, como quando a lente da câmera está bem focada...”

Assinale a afirmação abaixo, a respeito do gênero narrativo a que pertence esse fragmento textual, que mostra **erro**.

- (A) Na narrativa histórica predomina a função referencial da linguagem.
- (B) O narrador possui diversos graus de restrição na informação que possui.
- (C) Na narrativa não pode estar presente o diálogo, que é próprio do gênero teatral.
- (D) A narrativa pode misturar ficção e realidade.
- (E) Um relato inclui ações e acontecimentos em ordem cronológica.

7

“A mãe de Pedrinho fumou enquanto estava grávida e por isso ele é uma criança fraca e de baixo peso.”

Assinale a opção que aponta o tipo de argumento lógico racional que foi utilizado neste fragmento textual.

- (A) Argumento com base na autoridade científica.
- (B) Raciocínio com base na experiência profissional.
- (C) Pensamento que relaciona causa e consequência.
- (D) Afirmação fundamentada no bom-senso geral.
- (E) Argumentação apoiada na generalização.

8

Todos os segmentos abaixo se inserem entre os textos explicativos; assinale aquele que apela para o processo explicativo da analogia.

- (A) O processo de aterrissagem é tal qual o pouso de um pássaro, mas com mais peso.
- (B) A forma das asas de um avião é semelhante à das asas de um pássaro.
- (C) Em outras palavras, o desenho das asas obedece à necessidade de deslocamento mais rápido no espaço.
- (D) Vejamos, por exemplo, o pouso de um grande pássaro, como um gavião ou uma águia.
- (E) O aerodinamismo é a marca de formas concebidas para oferecer um mínimo de resistência ao ar.

9

Observe o seguinte texto explicativo:

“As coisas de que o corpo precisa são facilmente obtidas por todos sem trabalho ou dificuldade; as coisas que exigem labor e são difíceis de obter e oneram a vida são desejadas, não pelo corpo, mas por um estado ruim da mente.”

Abaixo estão várias marcas linguística desse tipo de texto (explicativo); assinale a que está em desacordo com o exemplo dado acima.

- (A) Reduzida quantidade de verbos de imaginação.
- (B) Pouca presença de palavras que expressam sentimento.
- (C) Ausência total de pronomes pessoais.
- (D) Construção sem a presença do enunciador.
- (E) Preferência por linguagem clara e precisa.

10

Entre os fragmentos textuais abaixo, assinale o que pertence a um modo de organização discursiva (descrição, narração, argumentação, exposição e injunção) diferente dos demais.

- (A) Numa decisão rápida, segurou-se a uma saliência do rochedo deixando a vaga passar sobre ele.
- (B) O vão da caverna que era iluminado pela tocha era ainda mais amplo do que o imaginara. Sua cúpula imensa era alta, coberta es estalactites.
- (C) A estátua de Atena estava de pé, com a deusa vestindo uma túnica que descia até os pés, e sobre seu peito estava esculpida uma cabeça da Medusa de marfim.
- (D) Eu nunca vi tanta graça unida a tanta gravidade. Sua roupa a tornava muito elegante e fazia que parecesse frágil. Um manto marrom que ele trazia ao entrar estava jogado sobre as costas.
- (E) O computador era dos antigos, com um grande teclado cujas letras estavam dispostas à moda inglesa e com pouca luminosidade na tela pequena.

11

Assinale a frase que não apresenta uma oposição semântica entre dois termos (antônimos).

- (A) Todos julgam segundo a aparência, ninguém segundo a essência.
- (B) Os ignorantes julgam a interioridade a partir da exterioridade.
- (C) Nas grandes coisas, os homens se mostram como lhes convém se mostrar; nas pequenas, mostram-se como são.
- (D) Os homens mascaram seu demônio com o anjo mais belo que conseguem encontrar.
- (E) Pelas roupas rasgadas mostram-se os vícios menores: as vestes de cerimônia e as peles escondem todos eles.

12

Muitas formas de superlativo de adjetivos se utilizam de radicais latinos, daí que mostrem diferenças em relação ao radical do adjetivo atual. Assinale o superlativo abaixo que utiliza o radical atual do adjetivo.

- (A) Todas as coisas que hoje se creem antiquíssimas já foram novas.
- (B) Nessa época todos os morros da região estavam com seus cimos congeladíssimos.
- (C) Hoje em dia, notam-se pessoas paupérrimas andando pelas ruas de bairros chiques.
- (D) Por causa da doença, o senador voltou ao Congresso magérrimo, com as feições abatidas.
- (E) Com as demolições, todo o chão estava coberto de escombros, aspérrimo e muito sujo.

13

Assinale a frase a seguir que mostra a preposição PARA no valor semântico de "finalidade".

- (A) A natureza é apenas um nome para um efeito cuja causa é Deus.
- (B) Há boas razões para proteger a Terra: ela prolonga a lucratividade.
- (C) Para a pedra atirada, cair não é um mal, nem subir um bem.
- (D) O melhor exercício para um gato é outro gato.
- (E) Os galhos são raízes que se estendem para o alto do ar.

14

Assinale a frase em que as palavras repetidas pertencem a classes diferentes.

- (A) Um tolo ensinado é mais tolu do que um tolu ignorante.
- (B) Eu não sou teimosu; um teimosu é aquele que teima comigo.
- (C) Não discuta com um bobu, pois se torna tão bobu quanto ele.
- (D) O seu cão será sempre um cão, não importa a coleira.
- (E) Um grande professor será sempre um grande homem.

15

Assinale a frase que está integralmente expressa com palavras em sentido lógico (não figurado).

- (A) Em mar calmo, todo homem é bom piloto.
- (B) Hoje não existem mais malandros, somente bandidos.
- (C) Escritores são aqueles cujas almas falam nas bibliotecas.
- (D) Taquígrafo é a pessoa que aposta corrida com as palavras.
- (E) Diplomata é um indivíduo cuja cor preferida é o arco-íris.

16

Assinale a frase abaixo que exemplifica uma definição do termo "felicidade".

- (A) Felicidade é um agora sem nenhuma pressa.
- (B) Felicidade é um modo de viajar, não um destino.
- (C) Felicidade é um fluxo de caixa positivo.
- (D) Felicidade é como uma flor que não se deve colher.
- (E) Felicidade é a qualidade de quem é feliz.

17

Abaixo aparecem cinco definições de um termo que é identificado ao final, entre parênteses; assinale a opção em que o termo indicado **não** está de acordo com a definição dada.

- (A) bolinho feito com carne picada ou moída, miolo de pão, ovos e diferentes temperos, e que, depois de frito, é servido geralmente com molho. (almôndega).
- (B) fato, ação, gesto ou palavra que intimida ou atemoriza. (processo).
- (C) preparação em pasta sólida e untuosa, em geral colorida, enformada num pequeno bastão para ser usado como cosmético nos lábios. (batom).
- (D) regime alimentar, especialmente o prescrito pelo médico a um doente ou a um convalescente. (dieta).
- (E) espaço fechado onde se eleva artificialmente a temperatura do ar, destinado a abrigar plantas e flores, cujo cultivo depende de calor. (estufa).

18

Abaixo aparecem frases em que os termos destacados mostram uma relação lógica entre eles; essa mesma relação é repetida em outra frase a seguir. Assinale a opção em que a primeira relação é repetida de forma conveniente na segunda.

- (A) Grávida está para ginecologista como tuberculoso está para oncologista.
- (B) Unha está para manicure como automóvel está para garagista.
- (C) Edifício está para portaria como livro está para prólogo.
- (D) Pé está para sola como mão está para dedo.
- (E) Tato está para pele como olfato está para língua.

19

Em cada item abaixo há um conjunto de três palavras, seguido de um hiperônimo, ou seja, uma palavra que abrange todas as anteriormente citadas. Assinale a opção em que o hiperônimo indicado é **inadequado**.

- (A) livro – estátua – quadro / obra.
- (B) engenheiro – químico – enfermeiro / profissão.
- (C) rua – praça – avenida / logradouro.
- (D) estudantada – enxame – rebanho / conjunto.
- (E) conto – romance – novela / estilo.

20

Todas as frases abaixo mostram o emprego de uma vírgula. Assinale a frase em que esse emprego está corretamente justificado.

- (A) Bahia, 22 de abril de 1500 / separar ou isolar o vocativo.
- (B) Os pessimistas, devemos deixá-los de lado / indicar a supressão de verbo já enunciado.
- (C) Em toda revolução, há as pessoas que a fazem e as que se aproveitam dela / separar ou isolar o adjunto adverbial deslocado.
- (D) Só existem três coisas que param no ar: beija-flor, helicóptero e Dadá Maravilha / isolar expressões de valores diversos.
- (E) O São Paulo não precisa de um psicólogo, mas sim de um psiquiatra / isolar o aposto.

21

Abaixo estão cinco frases com latinismos empregados na língua portuguesa; assinale a opção em que o latinismo tem seu significado indicado corretamente.

- (A) "...e se tal era o intuito, força é confessar que a publicidade tornava-se uma condição *sine qua non*. Em suma, poderia dever algumas atenções, mas não devia um real a ninguém." / sem exceção.
- (B) "Ali o recebem ruidosamente os companheiros. Conta-lhes a façanha. Contam-lhe outras idênticas; e trocam-se as impressões heroicas numa adjetivação *ad hoc*, que vai num crescendo do destalado ríspido ao temer o pronunciado num trêmulo enrouquecido e longo." / inadequada.
- (C) "...; as rezas dirigidas a S. Campeiro, canonizado *in partibus*, ao qual se acendem velas pelos campos;" / em vários lugares.
- (D) "Intercorrem ainda paragens menos estéreis, e nos trechos em que se operou a decomposição *in situ* do granito, originando algumas manchas argilosas, as copas virentes dos ouricurizeiros circuitam — parênteses breves abertos na aridez geral — as bordas das ipueiras." / em pequenas partes.
- (E) "Entre rapazes não deve haver cerimônias, mal-entendidos; somos colegas, temos de ser amigos, por conseguinte tratemo-nos desde já por "tu"! Não és da mesma opinião, ó Paiva? - *In totum!* respondeu este, abraçando Amâncio pela cintura." / Totalmente.

22

As preposições podem ser gramaticais – se exigidas pela regência de algum termo anterior – ou nocionais, quando não são obrigatórias e mostram um significado. Assinale a frase abaixo em que a preposição A tem valor nocional.

- (A) Os feirantes vendiam bananas a \$10 a dúzia.
- (B) Os que governam são obrigados a conhecer pelo menos gramática.
- (C) Um conservador é um homem com duas excelentes pernas que, contudo, nunca aprendeu a andar para a frente.
- (D) O futuro a Deus pertence e quando a gente é ministro pertence também ao presidente.
- (E) A punição que os bons sofrem, quando se recusam a tomar parte no governo, é viver sob o governo dos maus.

23

Em todas as frases abaixo ocorre a repetição de termos idênticos; para evitá-la, foram utilizados meios diferentes. Assinale a opção em que a forma de substituição do segundo termo repetido está corretamente identificada.

- (A) Uma vez na caverna, o gato começa a procurar o rato de que lhe havia falado a raposa. O gato levanta as caixas, que caem fazendo um grande barulho. / substituição pelo pronome relativo "que".
- (B) O proprietário entra imediatamente na caverna com uma vara na mão. O gato de esconde para poder escapar do proprietário. / substituição pelo pronome pessoal "dele".
- (C) O gato encontrou, no entanto, um local escuro e se escondeu no lugar escuro. / substituição pelo advérbio "onde".
- (D) O proprietário acende uma tocha e se aproxima do esconderijo do gato. O gato mostrou todas as suas unhas e fugiu. / substituição pelo pronome demonstrativo "aquele".
- (E) O gato compreendeu que a raposa lhe fizera uma cilada. Ele fará a raposa pagar por essa cilada. / substituição por pronome pessoal "lhe".

24

A antítese é uma figura de linguagem em que se opõem, numa mesma frase, palavras ou pensamentos de sentido contrário.

Segundo essa definição, há uma antítese na seguinte frase:

- (A) A política é a arte de trair os interesses reais e legítimos e de criar, em lugar deles, interesses imaginários e injustos.
- (B) É verdade que existem idiotas no Congresso, mas eles constituem boa parte da população e merecem estar bem representados.
- (C) O coração de um homem de Estado deve estar na sua cabeça.
- (D) O problema do Brasil é um sistema político permissivo que manipula um sistema administrativo ultrapassado.
- (E)) A guerra é feita no momento em que se quer e é terminada quando se pode.

25

Assinale a frase em que se emprega corretamente o acento grave indicativo da crase.

- (A) Sempre se escreve à história erradamente. Por isso precisa ser reescrita sem cessar.
- (B) A história é um cavalo que galopa atravessando à janela, e você deve decidir se saltará para montá-lo ou não.
- (C) O momento que estamos vivendo pertence igualmente à todos, mas o que passou não é mais nosso.
- (D) Viver a aventura é encontrar o caminho de volta ao silêncio e à quietude de mil anos atrás.
- (E) Tempo não é dinheiro. Mas à alguns o dinheiro rouba o tempo e a outros o tempo rouba o dinheiro.

26

Os adjetivos podem representar estados, qualidades, características e relações; assinale a frase que mostra um tipo de adjetivo diferente dos demais.

- (A) Em questão de árvores genealógicas, é mais seguro andar pelos ramos que se aprofundar nas raízes.
- (B) O problema com as crianças é que elas não são retornáveis.
- (C) Até a criança completar um ano ela é incapaz de pecar.
- (D) Eu tive uma grande vantagem que meus filhos não tiveram: eu nasci pobre.
- (E) Afinal, o que é Deus? Uma eterna criança brincando eternamente no jardim eterno.

27

Em todas as frases abaixo há um termo sublinhado, composto da preposição DE + substantivo; assinale a frase em que esse termo **não** pode ser substituído adequadamente por um adjetivo.

- (A) Nada chegará ao fundo da risada de uma criança. / infantil.
- (B) O suco de garrafa parece menos gostoso. / engarrafado.
- (C) O teclado do computador é logicamente organizado. / computacional.
- (D) Os solos do deserto são áridos. / desérticos.
- (E) As vestes do bispo são elegantes. / episcopais.

28

Assinale a frase em que o adjetivo sublinhado mostra uma função sintática diferente das demais.

- (A) O melhor acessório de uma mulher é um homem bem-vestido.
(B) Em assuntos de grande importância, o estilo, e não a sinceridade, é a questão vital.
(C) É impossível ser ridículo dentro de um Mercedes.
(D) Os tempos mudaram. O príncipe encantado também está procurando seu príncipe encantado.
(E) Muitos dizem, conforme sua afirmação, que eu sou uma velha raposa.

29

Entre as palavras abaixo, assinale aquela em que os dois vocábulos devem flexionar-se.

- (A) Testemunha-chave.
(B) Fila-monstro.
(C) Estrutura-padrão.
(D) Funcionário-responsável.
(E) Livro-caixa.

30

Assinale a frase abaixo em que a concordância da forma de participio sublinhada mostra erro.

- (A) Fica confirmado perante o tribunal a autoria da carta.
(B) Merecem ser admiradas, apesar de tudo, as obras de Wagner.
(C) Os autores sabem que esse direito não lhes é assegurado.
(D) Tem sido demonstrado tais filmes serem falsos.
(E) Nos é permitido ter acesso a esses documentos.

Raciocínio Lógico e Matemático

31

Rubinho percorreu uma certa distância em 2 horas, com velocidade constante.

Se percorrer a mesma distância aumentando a velocidade em 100%, é correto concluir que

- (A) o tempo aumentará 100%.
(B) o tempo diminuirá 100%.
(C) o tempo diminuirá 50%.
(D) o tempo diminuirá 25%.
(E) o tempo diminuirá 20%.

32

Na Black Friday, Laura comprou um vestido com 25% de desconto e pagou R\$ 168,00.

Sem o desconto, o preço do vestido era

- (A) R\$ 250,00.
(B) R\$ 248,00.
(C) R\$ 224,00.
(D) R\$ 210,00.
(E) R\$ 200,00.

33

Sabe-se que a sentença “Se faz sol e o mar está calmo, então vou remar” é FALSA.

Nesse caso, é correto concluir que

- (A) Não faz sol ou o mar não está calmo.
(B) Faz sol e o mar não está calmo.
(C) Não faz sol e o mar está calmo.
(D) Vou remar ou não faz sol.
(E) Não vou remar e o mar está calmo.

34

Sabe-se que os conjuntos $A = \{1, 3, 5, x, 8\}$ e $B = \{2, 3, y, 7, 8\}$ têm, cada um, 5 elementos. Sabe-se, também, que a interseção de A e B tem 4 elementos.

A soma dos elementos da união de A e B é

- (A) 26.
(B) 27.
(C) 28.
(D) 29.
(E) 30.

35

Considere uma sequência de pontos do plano cartesiano tal que para cada ponto (x, y) da sequência, o próximo ponto é obtido de acordo com a seguinte regra:

- Se x é ímpar, então o próximo ponto será $(x + 3, y - 1)$;
- Se x é par, então o próximo ponto será $(\frac{x}{2}, 2y)$.

Começando com o ponto $(2024, 0)$, a soma das coordenadas do 10º ponto da sequência é

- (A) 24.
(B) 12.
(C) 0.
(D) -12.
(E) -24.

36

Considere a seguinte amostra de 7 números inteiros positivos:

3, 3, 6, 3, x, 5, 11.

Sabe-se que a média dessa amostra também é um número inteiro.

Sendo S a soma da moda, da mediana e da média dessa amostra, o menor valor possível de S é

- (A) 11.
(B) 12.
(C) 13.
(D) 14.
(E) 15.

37

Neuza escreveu duas vezes, em uma folha de papel, um mesmo número inteiro. Marcelo, a seguir, escreveu três vezes um outro número inteiro, na mesma folha de papel. A soma dos 5 números escritos é 120 e um dos números é 22.

A soma dos algarismos do outro número é

- (A) 6.
(B) 7.
(C) 8.
(D) 9.
(E) 10.

38

Ana, Beto, Carla, Danilo e Elisa participaram de uma corrida com outros 5 participantes. Ana chegou 4 posições atrás de Carla. Carla chegou uma posição à frente de Beto. Danilo chegou 4 posições atrás de Elisa e Elisa chegou 2 posições atrás de Beto.

Ana chegou na 6ª posição.

Nesse caso, é correto afirmar que

- (A) Ana chegou atrás de Danilo.
- (B) Beto chegou na 2ª posição.
- (C) Carla chegou na 1ª posição.
- (D) Danilo chegou na 9ª posição.
- (E) Elisa chegou na 7ª posição.

39

Uma sequência de 2024 números inteiros maiores do que zero é tal que um dos números ocorre exatamente 13 vezes e qualquer outro número dessa sequência ocorre menos vezes do que ele.

A menor quantidade possível de números inteiros diferentes nessa sequência é

- (A) 169.
- (B) 168.
- (C) 167.
- (D) 166.
- (E) 165.

40

Uma moeda é tal que a probabilidade de sair “cara” é $\frac{1}{4}$.

Essa moeda é lançada 4 vezes consecutivas.

A probabilidade de que saiam mais “caras” do que “coroas” é igual a

- (A) $\frac{1}{4}$.
- (B) $\frac{1}{256}$.
- (C) $\frac{3}{64}$.
- (D) $\frac{3}{256}$.
- (E) $\frac{13}{256}$.

41

O inteiro positivo N é o menor número tal que dividido por 13 deixa resto 12 e dividido por 11 deixa resto 10.

A soma dos algarismos de N é

- (A) 6.
- (B) 7.
- (C) 8.
- (D) 9.
- (E) 10.

42

Utilizando apenas pesos de 200g e de 350g, o número mínimo de pesos que devem ser reunidos para que se obtenha exatamente 4kg é

- (A) 12.
- (B) 14.
- (C) 16.
- (D) 18.
- (E) 20.

43

Considere a afirmação referente aos candidatos de um concurso: “Todo candidato possui curso superior ou 5 anos de experiência”.

A negação lógica dessa sentença é:

- (A) Todo candidato não possui curso superior ou não possui 5 anos de experiência.
- (B) Todo candidato não possui curso superior e não possui 5 anos de experiência.
- (C) Há candidato que não possui curso superior ou não possui 5 anos de experiência.
- (D) Há candidato que possui curso superior, mas não possui 5 anos de experiência.
- (E) Há candidato que não possui curso superior e não possui 5 anos de experiência.

44

Um estacionamento possui uma fila de 100 vagas, uma ao lado da outra, numeradas de 1 a 100. Em certo momento várias vagas estão ocupadas e João chega para estacionar seu carro.

João diz ao atendente:

– *Gostaria de uma vaga que não tivesse carro estacionado ao lado.*

O atendente verifica o mapa do estacionamento e diz:


– *Impossível atendê-lo. No momento, qualquer vaga vazia terá, pelo menos, um carro já estacionado ao lado.*

No mínimo, o número de vagas do estacionamento já ocupadas é

- (A) 33.
- (B) 34.
- (C) 40.
- (D) 49.
- (E) 50.

45

Na cidade suíça de Solothurn cada dia é dividido em 22 horas e cada hora é dividida em 60 minutos. Nessa cidade, a metade de um dia possui 11 horas como mostra o relógio abaixo.



As unidades hora e minuto da cidade de Solothurn são abreviadas por hS e mS, respectivamente.

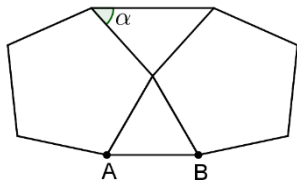
Hans mora nessa cidade e, certo dia, entrou na empresa em que trabalha às 9 hS 40 mS e saiu da empresa às 16 hS 27 mS.

O tempo, medido nas unidades de tempo adotadas em nosso país, que Hans permaneceu na empresa foi de:

- (A) 6 horas e 47 minutos.
- (B) 6 horas e 56 minutos.
- (C) 7 horas e 07 minutos.
- (D) 7 horas e 16 minutos.
- (E) 7 horas e 24 minutos.

46

A figura abaixo mostra um triângulo equilátero de lado AB com dois pentágonos regulares colados.



O ângulo α assinalado na figura mede:

- (A) 42° .
- (B) 45° .
- (C) 48° .
- (D) 52° .
- (E) 56° .

47

Gabriel, Hugo e Ledo são atletas e disputam uma série de corridas. Em cada corrida, o vencedor ganha 4 pontos, quem chega em segundo lugar ganha 2 pontos e quem chega em terceiro ganha 1 ponto. Após a terceira corrida, Gabriel acumulou um total de N pontos.

O número de valores diferentes possíveis para N é:

- (A) 6.
- (B) 7.
- (C) 8.
- (D) 9.
- (E) 10.

48

Em um grupo de 40 jovens, 20 vestem camisetas brancas, 22 vestem bermudas pretas e 12 não vestem nenhuma dessas peças descritas.

Sorteando ao acaso um desses jovens, a probabilidade de que ele esteja com camiseta branca e bermuda preta é igual a

- (A) 25%.
- (B) 30%.
- (C) 35%.
- (D) 40%.
- (E) 45%.

49

Na prateleira de uma cozinha há três potes: A, B e C. Um deles contém arroz, outro contém feijão e outro contém farinha.

Das afirmativas seguintes, somente uma é verdadeira:

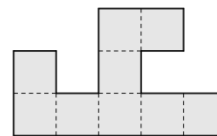
- A contém farinha.
- B não contém feijão.
- C não contém farinha.

Nesse caso, é correto afirmar que:

- (A) o pote A contém feijão.
- (B) o pote B contém farinha.
- (C) o pote C contém feijão.
- (D) o pote A contém arroz.
- (E) o pote B não contém arroz.

50

A figura abaixo foi feita reunindo pequenos quadrados todos iguais.



O perímetro da figura é de 120cm.

A área da figura em cm^2 é

- (A) 288.
- (B) 324.
- (C) 342.
- (D) 360.
- (E) 378.

Conhecimentos Específicos

51

Um restaurante adquiriu, por R\$50.000, grades que foram instaladas ao redor de seu terreno por razão de segurança. A aquisição das grades não aumentou diretamente os benefícios econômicos futuros específicos do terreno, no entanto, foi considerada necessária para que o fluxo do atendimento aos clientes continuasse.

Assinale a opção que indica a classificação contábil das grades nas demonstrações contábeis do restaurante, de acordo com as diretrizes dos pronunciamentos contábeis.

- (A) Ativo Imobilizado, no Balanço Patrimonial.
- (B) Investimentos, no Balanço Patrimonial.
- (C) Ativo Realizável a Longo Prazo, no Balanço Patrimonial.
- (D) Despesa Operacional, na Demonstração do Resultado do Exercício.
- (E) Outras Despesas Operacionais, na Demonstração do Resultado do Exercício.

52

Em 01/01/2020, uma sociedade empresária captou um empréstimo bancário no valor de R\$400.000 para pagamento em 5 anos. Os juros anuais são de 10%.

Na data da captação do empréstimo, o banco cobrou uma comissão de R\$32.000 para concretizar a operação, quantia julgada como material pela sociedade empresária. O montante foi pago ao banco no mês seguinte.

Assinale a opção que indica a contabilização da comissão na Demonstração do Resultado do Exercício da sociedade empresária.

- (A) Despesa administrativa, na data da captação do empréstimo.
- (B) Despesa administrativa, durante a vigência do empréstimo
- (C) Despesa financeira, na data do pagamento da comissão.
- (D) Despesa financeira, na data da captação do empréstimo.
- (E) Despesa financeira, durante a vigência do empréstimo.

53

Uma sociedade empresária apresentava os seguintes saldos em sua Demonstração do Resultado do Exercício em 31/12/2023:

Receita de Vendas: R\$500.000; Receita Financeira: R\$20.000; Custo das Mercadorias Vendidas: R\$200.000; Despesa de salários: R\$50.000; Despesa de aluguel: R\$70.000. Além disso, todas as receitas são tributáveis e as despesas dedutíveis e a alíquota do imposto de renda e da contribuição social é de 34%.

A margem de lucro genuinamente da atividade operacional da sociedade empresária em 31/12/2023 foi de

- (A) 26,40%.
- (B) 36,00%.
- (C) 40,00%.
- (D) 60,00%.
- (E) 73,34%.

54

Em relação à atualização monetária das demonstrações contábeis, de acordo com o Pronunciamento Técnico CPC 42 – Contabilidade em Economia Hiperinflacionária, avalie se as afirmativas a seguir são falsas (F) ou verdadeiras (V).

- () Os itens monetários do balanço patrimonial devem ser atualizados monetariamente, de acordo com o índice da inflação.
- () O valor atualizado de um item não monetário, como ativos imobilizados, deve ser reduzido, de acordo com os pronunciamentos contábeis apropriados, quando o custo atualizado excede o seu valor recuperável.
- () Os ativos e passivos contratualmente sujeitos a mudanças nos preços, tais como títulos e empréstimos vinculados a índices, devem ser ajustados de acordo com o contrato para determinar o valor em aberto no final do período de relatório.

As afirmativas são, respectivamente,

- (A) V – V – V.
- (B) V – F – V.
- (C) V – V – F.
- (D) F – V – V.
- (E) F – F – V.

55

A Cia X tem participação de 80% da Cia Y.

Na consolidação das demonstrações contábeis, o seguinte item deve ser incluído:

- (A) o valor da participação societária da Cia X na Cia Y.
- (B) os saldos das contas a receber e a pagar entre as Cias X e Y.
- (C) a participação dos acionistas não controladores da Cia Y.
- (D) as parcelas dos lucros do exercício ainda não realizada resultante de negócios entre as Cias X e Y.
- (E) a parcela do acréscimo do ativo não circulante decorrente de transações entre as Cias X e Y.

56

Em 31/12/2023, uma sociedade empresária que trabalhava com perícia contábil apresentou os seguintes saldos:

Receita de vendas:	R\$800.000;
Receita de aluguel de imóvel a terceiros:	R\$100.000;
Receita de juros:	R\$50.000;
Receita de dividendos relativo a investimento avaliado ao custo:	R\$36.000;
Receita com a venda de computadores usados a terceiros:	R\$20.000;
Custo das mercadorias vendidas:	R\$300.000;
Despesa com equivalência patrimonial:	-R\$25.000;
Despesa de juros:	R\$30.000;
Custo dos computadores vendidos:	R\$12.000;
Despesa de salários a empregados:	R\$32.000;
Despesa com pessoal terceirizado:	R\$15.000.

Assinale a opção que indica o montante contabilizado como Valor Adicionado Recebido em Transferência na Demonstração do Valor Adicionado da sociedade empresária em 2023.

- (A) R\$150.000.
- (B) R\$161.000.
- (C) R\$186.000.
- (D) R\$194.000.
- (E) R\$206.000.

57

A objetividade é um dos princípios fundamentais de ética para os profissionais da contabilidade.

O princípio da objetividade requer que o profissional da contabilidade

- (A) aja de forma diligente e de acordo com os padrões técnicos e profissionais aplicáveis.
- (B) cumpra com as leis e os regulamentos pertinentes e evite qualquer conduta da qual ele tenha conhecimento, ou deva ter conhecimento, que possa desacreditar a profissão.
- (C) não comprometa seu julgamento profissional ou comercial devido a comportamento tendencioso, a conflito de interesses ou à influência indevida de outros.
- (D) não se envolva, de modo consciente, em negócio, ocupação ou atividade que prejudique ou possa prejudicar a boa reputação da profissão e que, como resultado, seria incompatível com os princípios fundamentais.
- (E) obtenha e mantenha conhecimento profissional e habilidade no nível necessário para assegurar que o cliente ou a organização empregadora receba serviço profissional competente, com base em padrões técnicos e profissionais atuais e legislação relevante.

58

Relacione as categorias em que se enquadram as ameaças ao cumprimento dos princípios fundamentais de ética para os profissionais da contabilidade com as suas respectivas explicações:

1. Ameaça de interesse próprio
 2. Ameaça de autorrevisão
 3. Ameaça de defesa de interesse do cliente
 4. Ameaça de intimidação
- () a ameaça de que interesse financeiro ou outro interesse influenciará, de forma inadequada, o julgamento ou o comportamento do profissional da contabilidade.
- () a ameaça de que o profissional da contabilidade promoverá ou defenderá uma posição de cliente ou da organização empregadora a ponto em que sua objetividade fique comprometida.
- () a ameaça de que o profissional da contabilidade será dissuadido de agir de forma objetiva devido a pressões reais ou aparentes, incluindo tentativas de exercer influência indevida sobre o profissional da contabilidade.
- () a ameaça de que o profissional da contabilidade não avaliará adequadamente os resultados de julgamento feito anteriormente ou de atividade desenvolvida pelo profissional da contabilidade ou por outra pessoa da firma ou organização empregadora do profissional da contabilidade nos quais o profissional da contabilidade confiará para formar um julgamento como parte do desenvolvimento da atividade atual.

Assinale a opção que indica a relação correta, na ordem apresentada.

- (A) 1 – 3 – 4 – 2.
- (B) 1 – 2 – 3 – 4.
- (C) 1 – 4 – 3 – 2.
- (D) 2 – 1 – 4 – 3.
- (E) 2 – 3 – 1 – 4.

59

De acordo com a NBC TSP 01 – Receita de Transação sem Contraprestação, existem transações em que a avaliação da essência da transação determina se são com ou sem contraprestação.

De acordo com a norma, a venda de bens geralmente satisfaz a definição de transação sem contraprestação se

- (A) na transação, a entidade recebe desconto comercial pela compra do bem vendido.
- (B) a transação é realizada a prazo, de modo que não há pagamento em dinheiro no momento da venda.
- (C) existem reduções no preço cotado dos ativos por uma série de razões como, por exemplo, descontos por quantidade.
- (D) a transação é por preço subsidiado, de modo que o preço não se iguala a aproximadamente o valor justo do bem vendido.
- (E) a transação prevê a possibilidade de um abatimento na hipótese, plenamente comprovada, de o produto sofrer um problema no transporte até a sede do comprador.

60

Em 2021, o Governo de um município tomou um empréstimo do Governo Federal. No entanto, em 2023, o Governo Federal cancelou o empréstimo, de modo que não havia mais dívidas entre o Governo Municipal e o Federal.

O Governo Municipal deve reconhecer, em relação a sua situação patrimonial líquida,

- (A) um aumento, uma vez que o passivo previamente reconhecido foi extinto.
- (B) um aumento, uma vez que há reversão da despesa.
- (C) uma diminuição, uma vez que o perdão de dívida é definido como contribuição dos proprietários.
- (D) uma diminuição, uma vez que os critérios para reconhecimento do passivo não são mais cumpridos.
- (E) a manutenção do saldo com mudança na composição, uma vez que há reconhecimento de receita e de despesa de igual valor.

61

Uma entidade do setor público trabalha com educação.

Em 01/01/2023 ela vendeu, a uma escola, material didático para ser utilizado durante o ano letivo por R\$300.000. O montante cobrado incluía os livros e visitas mensais durante o ano, destinadas a treinar os professores em relação à adoção do material. Os livros foram entregues em 10/01/2023. Além disso, foram planejadas 11 visitas técnicas durante o ano de 2023, nos meses de fevereiro a dezembro. As visitas são consideradas essenciais para a plena utilização do material. O valor de cada visita era estimado em R\$10.000, montante considerado material.

Assinale a opção que indica o reconhecimento da receita em relação à venda em 2023, de acordo com NBC TSP 02 – Receita de Transação com Contraprestação.

- (A) Reconhecimento de receita de R\$300.000 em janeiro.
- (B) Reconhecimento de receita de R\$25.000 de janeiro a dezembro.
- (C) Reconhecimento de receita de R\$190.000 em janeiro e de R\$10.000 de fevereiro a dezembro.
- (D) Reconhecimento de receita de R\$300.000 em janeiro e de conta retificadora da receita de R\$10.000, nos meses de fevereiro a dezembro.
- (E) Reconhecimento de receita de R\$300.000 e de conta retificadora da receita de R\$110.000 em janeiro, para baixa nos meses de fevereiro e dezembro.

62

Em 2023, um município aprovou uma lei que exigia o oferecimento de alimentação saudável pelas escolas a partir de 01/01/2024.

Ao tomar conhecimento da lei, uma escola do setor público estimou que iria incorrer em gastos de R\$200.000 no ano de 2024 para se adequar a essas exigências. Para que os resultados fossem ainda mais efetivos, planejou o oferecimento de palestras relacionadas ao tema, com gastos estimados em R\$40.000.

Assinale a opção que indica a provisão, relacionada aos gastos, reconhecida pela entidade em 2023.

- (A) Zero.
- (B) R\$20.000.
- (C) R\$50.000.
- (D) R\$200.000.
- (E) R\$250.000.

63

De acordo com a Constituição Federal de 1988, as emendas ao projeto de lei do orçamento anual ou aos projetos que o modifiquem somente podem ser aprovadas caso sejam compatíveis com

- (A) o plano plurianual, somente.
- (B) a lei de responsabilidade fiscal, somente.
- (C) a lei de diretrizes orçamentárias, somente.
- (D) o plano plurianual e a lei de diretrizes orçamentárias.
- (E) a lei de diretrizes orçamentárias e a lei de responsabilidade fiscal.

64

Depois de reconhecidas as receitas orçamentárias, podem ocorrer fatos supervenientes que ensejem a necessidade de restituições.

Essas restituições devem ser registradas como

- (A) despesa orçamentária, após a autorização orçamentária para a devolução.
- (B) despesa orçamentária, sem a necessidade de autorização orçamentária para a devolução.
- (C) despesa extraorçamentária, sem a necessidade de autorização orçamentária para a devolução.
- (D) dedução da receita orçamentária, após a autorização orçamentária para a devolução.
- (E) dedução da receita orçamentária, sem a necessidade de autorização orçamentária para a devolução.

65

Em relação ao cálculo da despesa de amortização de um ativo intangível, considerando que há mercado ativo para ele, analise as afirmações a seguir:

- I. O valor residual pode ser determinado em relação ao mercado ativo.
- II. É provável que o mercado ativo continuará a existir ao final da vida útil do ativo.
- III. Há compromisso de terceiro para comprar o ativo ao final da sua vida útil.

Deve-se presumir que o valor residual de ativo intangível com vida útil definida é diferente de zero quando acontecem os seguintes fatos:

- (A) I ou II ou III.
- (B) I e II cumulativamente ou III.
- (C) I, II e III cumulativamente.
- (D) I e III cumulativamente ou II.
- (E) I ou II e III cumulativamente.

NSCE201-02_08

Em 2023, um hospital do setor público pagou R\$120.000 a terceiros, decorrentes de solução de litígios, do seguinte modo:

- R\$20.000 para o comprador de computadores antigos que foram vendidos, mas apresentaram problemas técnicos relevantes.
- R\$45.000 para um paciente, por não ter sido permitida a entrada de acompanhantes durante cirurgia.
- R\$55.000 para um banco, por não cumprimento de acordo relacionado à empréstimo.

Assinale a opção que indica o montante contabilizado como fluxo de caixa consumido pela atividade operacional.

- (A) R\$45.000.
- (B) R\$65.000.
- (C) R\$75.000.
- (D) R\$100.000.
- (E) R\$120.000.

67

Determinado município do Estado de São Paulo, com o intuito de atrair empresas para o seu território e gerar mais empregos, resolve, por meio de isenções, reduzir a alíquota do ISS – Imposto Sobre Serviços de Qualquer Natureza para 1% (um por cento) em diversos serviços.

Essas isenções serão válidas para

- (A) cessão de direito de uso de marcas e de sinais de propaganda e serviços de saúde, assistência médica e congêneres.
- (B) serviços de transporte coletivo municipal rodoviário, metroviário, ferroviário e aquaviário de passageiros.
- (C) cessão de andaimes, palcos, coberturas e outras estruturas de uso temporário, medicina e biomedicina.
- (D) acupuntura e odontologia.
- (E) serviços de saúde, assistência médica e congêneres e Instrumentação cirúrgica.

68

Determinado Estado da Federação precisando aumentar a sua arrecadação tributária em 20 de novembro de determinado ano, resolve alterar a base de cálculo do ITCMD – imposto sobre transmissão causa mortis e doação, de quaisquer bens ou direitos, IPVA – imposto sobre propriedade de veículos automotores e ICMS – imposto sobre operações relativas à circulação de mercadorias e sobre prestações de serviços de transporte interestadual e intermunicipal e de comunicação, ainda que as operações e as prestações se iniciem no exterior.

Júlio, estagiário, questiona Jorge, contador, se essas alterações de base de cálculo poderão ser cobradas em 1º de janeiro do ano seguinte.

Jorge responde, corretamente, que

- (A) apenas em relação ao IPVA – imposto sobre propriedade de veículos automotores.
- (B) poderão ser cobradas do ITCMD – imposto sobre transmissão causa mortis e doação, de quaisquer bens ou direitos, IPVA – imposto sobre propriedade de veículos automotores.
- (C) não poderão ser cobradas de nenhum dos impostos citados pela necessidade de respeitar a anterioridade anual e nonagesimal.
- (D) poderão ser cobradas do ICMS – imposto sobre operações relativas à circulação de mercadorias e sobre prestações de serviços de transporte interestadual e intermunicipal e de comunicação.
- (E) poderão ser cobradas de todos os impostos citados por não precisarem respeitar a anterioridade nonagesimal.

69

A Previdência Social é um tema de preocupação em todos os países, devido ao envelhecimento da população que faz com que os mais jovens tenham que pagar, por mais tempo, contribuições previdenciárias para o pagamento das aposentadorias existentes.

Em relação às contribuições sociais destinadas à Previdência Social, é correto afirmar que

- (A) a arrecadação da Contribuição Previdenciária do trabalhador e dos demais segurados da previdência social, só pode ser usada para pagamento de benefícios previdenciários.
- (B) a arrecadação da Contribuição sobre o Lucro Líquido só pode ser usada para pagamento de benefícios assistenciais.
- (C) a arrecadação da Contribuição do empregador sobre a folha de salários pode ser usada para pagamento de benefícios previdenciários e assistenciais.
- (D) todas as Contribuições para a seguridade social podem ser utilizadas para pagamentos de benefícios assistenciais e previdenciários.
- (E) a arrecadação da COFINS Importação se destina apenas a despesas com Saúde, também incluídas na Seguridade Social.

70

O nosso sistema tributário se caracteriza por cada ente ter os tributos de sua competência; entretanto, é possível a repartição de receitas tributárias.

Dos tributos de competência dos Estados, estes repassam

- (A) 50% (cinquenta por cento) do IPVA e 25% (vinte e cinco por cento) do ITCMD aos Municípios.
- (B) 50% (cinquenta por cento) da Contribuição de Iluminação Pública e 25% (vinte e cinco por cento) do ICMS aos Municípios.
- (C) 50% (cinquenta por cento) do IPVA e 25% (vinte e cinco por cento) do ITR aos Municípios.
- (D) 50% (cinquenta por cento) do ITCMD e 25% (vinte e cinco por cento) do ICMS aos Municípios.
- (E) 50% (cinquenta por cento) do IPVA e 25% (vinte e cinco por cento) do ICMS aos Municípios.

71

Os princípios orçamentários no Brasil representam diretrizes fundamentais que norteiam a elaboração, a execução e o controle do orçamento público. Esses princípios visam a garantir a transparência, a eficiência e a legalidade na gestão dos recursos públicos.

Assinale a afirmativa correta em relação aos Princípios Orçamentários aplicáveis aos Poderes Executivo, Legislativo e Judiciário em todas as esferas governamentais.

- (A) A Exclusividade exige que o Poder Público realize ou se abstenha de fazer apenas o que for expressamente autorizado pela lei.
- (B) A Não-Vinculação da Receita de Impostos proíbe que a Lei Orçamentária Anual inclua dispositivos que não estejam relacionados à previsão de receita e à alocação de despesas.
- (C) A Publicidade exige que as receitas e despesas sejam registradas na Lei Orçamentária Anual pelo seu valor total e sem nenhum tipo de dedução.
- (D) A Unidade exige que cada ente federado deve possuir um único orçamento, evitando a criação de múltiplos orçamentos paralelos dentro da mesma pessoa política.
- (E) A Universalidade implica a necessidade de que cada ente federado possua um orçamento único para evitar a existência de múltiplos orçamentos paralelos dentro da mesma pessoa política.

72

Os princípios orçamentários fornecem uma base sólida para a gestão responsável e eficiente dos recursos públicos no Brasil, promovendo a *accountability* e a conformidade com os princípios democráticos.

Em relação ao tema, relacione os princípios orçamentários listados a seguir com suas respectivas definições.

1. Não afetação da receita de impostos
 2. Transparência
 3. Totalidade
 4. Publicidade
- () preconiza a divulgação das informações sobre a arrecadação da receita e a execução da despesa.
 - () determina que o orçamento seja divulgado de forma ampla e acessível ao público.
 - () evita múltiplos orçamentos paralelos dentro da mesma pessoa política.
 - () proíbe a vinculação da receita de impostos a órgão, fundo ou despesa, salvo exceções previstas na Constituição Federal.

Assinale a opção que indica a relação correta, na ordem apresentada.

- (A) 1 – 3 – 2 – 4.
- (B) 1 – 4 – 2 – 3.
- (C) 4 – 2 – 3 – 1.
- (D) 2 – 4 – 3 – 1.
- (E) 4 – 3 – 2 – 1.

73

Durante o século XX ocorreu um contínuo processo de reformulação conceitual de orçamento público, com efeitos significativos nas práticas e nos procedimentos. No Brasil, assim como em outros países da América Latina, a ideia do orçamento moderno é representada pelo conceito de Orçamento-programa. Esse conceito consiste em um conjunto de ideias e diretrizes técnicas originalmente sistematizadas pela Organização das Nações Unidas (ONU).

Entre os elementos essenciais do Orçamento-programa que representam os instrumentos de integração dos esforços governamentais para concretizar os objetivos, encontram-se os

- (A) propósitos.
- (B) programas.
- (C) custos.
- (D) resultados.
- (E) recursos.

74

Ao analisar os assuntos orçamentários, os membros das Casas Legislativas realizam atividades tão diversas como estudos, avaliações, debates e consultas. Além disso, eles buscam informações e participam de audiências públicas com autoridades e especialistas.

A Constituição Federal de 1988 restabeleceu a prerrogativa de o legislador emendar o projeto de Lei Orçamentária Anual (LOA), principalmente no que diz respeito ao aumento ou à criação de novas despesas.

As emendas ao projeto de LOA ou aos projetos que o alterem podem ser aprovadas caso

- (A) sugeriram um aumento de despesa global ou de cada órgão, fundo, projeto ou programa.
- (B) anularem dotações com gastos de pessoal e encargos, serviço da dívida e transferências tributárias intergovernamentais.
- (C) sejam compatíveis com o plano plurianual ou com a lei de diretrizes orçamentárias.
- (D) indiquem os recursos necessários, admitidos apenas os provenientes de anulação de despesa, incluídas as que incidem sobre dotações para pessoal e seus encargos, serviço da dívida e transferências tributárias constitucionais para Estados, Municípios e Distrito Federal.
- (E) indiquem os recursos necessários, admitidos apenas os provenientes de anulação de despesa, excluídas as que incidem sobre dotações para pessoal e seus encargos, serviço da dívida e transferências tributárias constitucionais para Estados, Municípios e Distrito Federal.

75

O ciclo orçamentário no Brasil refere-se ao processo anual de elaboração, execução, acompanhamento e avaliação do orçamento público. Esse ciclo segue as etapas definidas pela legislação brasileira, buscando garantir a transparência, eficiência e legalidade na gestão dos recursos públicos.

Sobre o ciclo orçamentário, avalie se as afirmativas a seguir são verdadeiras (V) ou falsas (F).

- () A elaboração da proposta orçamentária compreende a consolidação do projeto da lei orçamentária anual pelo Poder Legislativo, abrangendo as propostas orçamentárias dos demais Poderes, seguida do envio ao Poder Executivo para apreciação.
- () A execução orçamentária engloba a aplicação dos créditos alocados no Orçamento Geral da União, compreendendo os três estágios da receita: empenho, liquidação e pagamento.
- () A avaliação orçamentária compreende a análise do alcance das metas estabelecidas na LOA, a execução dos programas governamentais e os orçamentos da União. Além disso, inclui a avaliação dos resultados quanto à eficácia e eficiência na gestão orçamentária, financeira e patrimonial nos órgãos e entidades da administração federal, bem como na aplicação de recursos por entidades de direito privado.

As afirmativas são, respectivamente,

- (A) V – V – V.
- (B) V – F – F.
- (C) F – F – V.
- (D) F – V – F.
- (E) F – F – F.

76

Restos a Pagar referem-se a despesas que foram empenhadas mas não foram pagas até o dia 31 de dezembro, sendo possível distinguir entre as processadas (despesas empenhadas e liquidadas) e as não processadas (despesas apenas empenhadas e aguardando a liquidação).

Com relação aos Restos a Pagar, avalie os itens a seguir e assinale (V) para a afirmativa verdadeira e (F) para a falsa.

- () A vedação do gestor público, nos últimos dois quadrimestres do seu mandato, contrair obrigação de despesa que não possa ser cumprida integralmente dentro dele, ou que tenha parcelas a serem pagas no exercício seguinte sem que haja suficiente disponibilidade de caixa para este efeito.
- () O registro dos Restos a Pagar faz-se por exercício e por devedor.
- () A obrigatoriedade de o gestor público, nos últimos dois quadrimestres do seu mandato, contrair obrigação de despesa que não possa ser cumprida integralmente dentro dele, ou que tenha parcelas a serem pagas no exercício seguinte sem que haja suficiente disponibilidade de caixa para este efeito.

As afirmativas são, respectivamente,

- (A) F – V – F.
- (B) F – V – V.
- (C) V – F – F.
- (D) V – V – F.
- (E) V – F – V.

77

Na atividade de auditoria interna governamental, no âmbito do Poder Executivo Federal, os papéis de trabalho são utilizados para documentar as análises realizadas e as evidências produzidas e coletadas pelos auditores internos.

Sobre os papéis de trabalho, avalie as afirmativas a seguir:

- I. A atividade de auditoria interna governamental é regida pelo princípio da impessoalidade, pelo que se veda a produção e organização dos papéis de trabalho de forma a permitir a identificação dos responsáveis por sua elaboração e revisão.
- II. A revisão dos papéis de trabalho deve ser realizada com a finalidade de assegurar que o trabalho seguiu o planejamento estipulado.
- III. Cabe à Secretaria Federal de Controle Interno definir procedimentos relativos à estrutura e à organização, bem como, a política de armazenamento de papéis de trabalho a serem adotadas em todas as Unidades de Auditoria Interna Governamental (UAIG).

Está correto o que se afirma em

- (A) II e III, somente.
- (B) I e III, somente.
- (C) III, somente.
- (D) I e II, somente.
- (E) II, somente.

78

O documento emitido pela Unidade de Auditoria Interna Governamental que, no decorrer dos exames, identificar falhas meramente formais ou de baixa materialidade, que não deve constar do relatório, mas para o qual devam ser adotadas providências para saneamento, denomina-se

- (A) recomendação interna.
- (B) orientação técnica.
- (C) achado de auditoria.
- (D) nota de auditoria.
- (E) determinação.

79

Os trabalhos de auditoria governamental previstos no Plano de Auditoria Interna devem ser realizados com base em um planejamento específico que subsidiará a sua execução e a elaboração do respectivo relatório.

Sobre o planejamento, a execução e a comunicação dos resultados dos trabalhos de auditoria interna, é correto afirmar que

- (A) a participação de todos os membros da equipe de auditoria não se constitui em requisito fundamental ao planejamento da auditoria.
- (B) a definição dos objetivos e do escopo do trabalho ocorre na etapa de execução da auditoria e tem por finalidade coletar evidências suficientes para subsidiar a opinião do auditor.
- (C) a análise preliminar do objeto de auditoria é necessária para ajudar os auditores internos governamentais a obter uma compreensão suficiente do escopo do trabalho e dos exames a serem realizados.
- (D) a aprovação do programa de trabalho da auditoria ocorre no momento da validação do Plano Anual de Auditorias.
- (E) o mapeamento de processos não é uma técnica indicada para uso no planejamento dos trabalhos de auditoria, pois não permite que o auditor possa identificar os possíveis objetivos do trabalho a ser realizado.

80

A respeito do controle da execução orçamentária, considerando as normas previstas no Título VIII da Lei Federal nº 4.320/64, analise as afirmativas a seguir:

- I. O controle da execução orçamentária compreenderá o exame de sua legalidade, da fidelidade funcional dos agentes públicos e o cumprimento dos programas de trabalho em termos de prestação de serviços públicos.
- II. O controle interno da execução orçamentária terá por objetivo verificar a probidade da administração e o cumprimento da lei orçamentária.
- III. A verificação da legalidade dos atos de execução orçamentária pelo controle externo será prévia, concomitante e subsequente.

Está correto apenas o que se afirma em

- (A) I.
- (B) I e III.
- (C) II e III.
- (D) II.
- (E) I e II.

81

Os papéis de trabalho são os documentos “*que têm por finalidade o registro das informações e fatos que foram verificados durante a auditoria e que servem de suporte para conclusões, ações e recomendações*”. (CREPALDI & CREPALDI, 2023, p.371)

Considerando as orientações da NBC TA 230 sobre a documentação de auditoria, assinale a afirmativa correta.

- (A) Não se exige a documentação de informações referentes a assuntos significativos inconsistentes com a conclusão final do auditor.
- (B) O auditor pode deixar de atender a um requisito relevante de uma norma de auditoria desde que documente os procedimentos alternativos executados para cumprir a finalidade desse requisito.
- (C) Após a data do relatório, o auditor não poderá executar procedimentos novos ou adicionais que possam alterar a sua conclusão.
- (D) A documentação da auditoria compreende uma ou mais pastas ou outras formas de armazenamento, em forma física ou eletrônica que contêm os registros que constituem a documentação de trabalho específico.
- (E) É vedado ao profissional de auditoria modificar a documentação existente ou acrescentar novas documentações de auditoria após a montagem do respectivo arquivo final.

82

Sobre a documentação dos procedimentos de auditoria executados e da evidência de auditoria obtida, avalie as afirmativas a seguir:

- I. Explicações verbais do auditor, por si só, representam documentação adequada para o trabalho executado pelo auditor ou para as conclusões obtidas e podem ser usadas para explicar ou esclarecer informações contidas na documentação de auditoria.
- II. O ceticismo profissional do auditor pode não ser passível de documentação; a documentação de auditoria, não obstante, pode fornecer evidências do exercício do ceticismo profissional do auditor em conformidade com as normas de auditoria.
- III. Uma das críticas às normas de auditoria é que elas não exigem a documentação das decisões profissionais tomadas pelo auditor, ainda que significativas, embora o seu registro tenha o potencial de explicar as conclusões do auditor.

Está correto o que se afirma em

- (A) II e III, apenas.
- (B) I, II e III.
- (C) III, apenas.
- (D) II, apenas.
- (E) I e III, apenas.

83

A Auditoria Interna compreende os exames, análises, avaliações, levantamentos e comprovações, metodologicamente estruturados para a avaliação da integridade, adequação, eficácia, eficiência e economicidade dos processos, dos sistemas de informações e de controles internos integrados ao ambiente, e de gerenciamento de riscos, com vistas a assistir à administração da entidade no cumprimento de seus objetivos

Quanto aos preceitos da NBC TI 01 sobre a atividade de Auditoria Interna, assinale a afirmativa correta.

- (A) Os testes de observância visam à obtenção de evidência quanto à suficiência, exatidão e validade dos dados produzidos pelos sistemas de informação da entidade.
- (B) A informação suficiente é aquela que, sendo confiável, propicia a melhor evidência alcançável, por meio do uso apropriado das técnicas de Auditoria Interna.
- (C) A informação adequada é a que dá suporte às conclusões e às recomendações da Auditoria Interna e a auxilia a entidade a atingir suas metas.
- (D) Admite-se a emissão de relatório parcial de auditoria interna, na hipótese de constatar impropriedades/irregularidades/ilegalidades que necessitem providências imediatas da administração da entidade, e que não possam aguardar o final dos exames.
- (E) O processo de auditoria interna deve ser supervisionado para alcançar máxima segurança de que o objetivo do trabalho da Auditoria Interna está sendo atingido.

84

Sobre as normas de organização e de apresentação dos relatórios de gestão e das peças complementares que constituirão os processos de contas da administração pública federal, para julgamento no Tribunal de Contas da União, estabelecidas na IN TCU nº 63/2010, assinale a afirmativa correta.

- (A) Os processos de contas constituem os documentos, informações e demonstrativos de natureza contábil, financeira, orçamentária, operacional ou patrimonial organizados para permitir a visão sistêmica do desempenho e da conformidade da gestão dos responsáveis por uma ou mais unidades jurisdicionadas durante um exercício financeiro.
- (B) O processo de contas especial é constituído por ocasião da extinção, liquidação, dissolução, transformação, fusão, incorporação ou desestatização de unidades jurisdicionadas cujos responsáveis estejam alcançados pela obrigação prevista no Art. 70, parágrafo único, da Constituição Federal.
- (C) À exceção dos Serviços Sociais Autônomos, estão sujeitos à apresentação de relatório de gestão e à constituição de processo de contas os responsáveis pelas jurisdicionadas ao Tribunal de Contas da União.
- (D) Os relatórios de gestão devem ser apresentados semestralmente ao Tribunal de Contas da União pelos responsáveis pelas unidades jurisdicionadas, relacionadas em decisão normativa, que lhes fixará a forma, conteúdo e prazo.
- (E) O Tribunal definirá anualmente, em decisão normativa, as unidades jurisdicionadas cujos responsáveis terão processos de contas ordinárias constituídos para julgamento, assim como os conteúdos e a forma das peças que os compõem e os prazos de apresentação.

85

Um produto pode ser adquirido a vista por R\$ 993,00 ou a prazo, mediante o pagamento de três prestações mensais, iguais e consecutivas, sendo a primeira delas paga exatos dois meses após a aquisição do produto.

A empresa vendedora cobra, sobre saldos devedores, juros compostos de 120% ao ano com capitalizações mensais.

Nessas condições, o valor das prestações é

- (A) R\$ 438,54.
- (B) R\$ 439,23.
- (C) R\$ 440,16.
- (D) R\$ 441,60.
- (E) R\$ 442,52.

86

Uma instituição financeira abre crédito descontando (por fora) duplicatas a juros simples de 1,2% ao mês. O imposto sobre operações financeiras (IOF) é cobrado através de duas alíquotas que incidem, ambas, sobre o valor de face (VF) da duplicata:

- IOF 1: fixada em 0,38%;

- IOF 2: de 0,0041% ao dia.

A taxa de abertura de crédito (TAC) é sempre de R\$ 78,10.

O valor líquido da operação (VL) é dado por:

$$VL = VF - \text{Juros} - \text{IOF} - \text{TAC}$$

Um ente privado desconta, nessa instituição financeira, uma duplicata com vencimento em 50 dias, gerando um valor de R\$ 53,20 para o IOF 1.

Considerando-se o mês comercial, conclui-se que o ente privado recebe um valor líquido de

- (A) R\$ 13560,00.
- (B) R\$ 13580,00.
- (C) R\$ 13600,00.
- (D) R\$ 13610,00.
- (E) R\$ 13630,00.

87

Um empréstimo será quitado em 5 anos com pagamentos consecutivos anuais postecipados de R\$ 6720,00, segundo o Sistema Francês de Amortização (Tabela Price).

Se a taxa de juros efetiva a ser utilizada é de 16% a.a., então a amortização no saldo devedor decorrente do pagamento da primeira prestação será de (Considere $1,16^5 = 2,1$)

- (A) R\$ 3.000,00.
- (B) R\$ 3.050,00.
- (C) R\$ 3.100,00.
- (D) R\$ 3.150,00.
- (E) R\$ 3.200,00.

88

No ano de 2023, os juros rotativos de alguns cartões de crédito ultrapassaram 400% ao ano. Em dezembro desse mesmo ano, o Conselho Monetário Nacional (CMN) estabeleceu novas regras que, desde o dia 02 de janeiro de 2024, limitam o valor total da dívida ao dobro do valor original.

Se, em 2023, os juros rotativos de certo cartão de crédito eram de 240% ao ano, o fato de o saldo devedor ser capitalizado mensalmente fazia com que, em caso de total inadimplência, o tempo mínimo necessário para que a dívida ultrapassasse o dobro do valor original fosse de

- (A) 2 meses.
- (B) 3 meses.
- (C) 4 meses.
- (D) 5 meses.
- (E) 6 meses.

89

A seguir, é apresentado o fluxo de caixa de um projeto de investimento. Entretanto, o valor referente ao ano 1, representado pela letra P, está oculto.

Anos	0	1	2
R\$	(231.000)	P	174.240

Se esse projeto apresenta Taxa Interna de Retorno (TIR) de 20% ao ano e a Taxa Mínima de Atratividade (TMA) é igual a 10%, conclui-se que o Valor Presente Líquido (VPL) desse fluxo de caixa é (Dados: $1,20 \times 145.200 = 174.240$; $1,21 \times 144.000 = 174.240$)

- (A) R\$ 30.000,00.
- (B) R\$ 31.000,00.
- (C) R\$ 32.000,00.
- (D) R\$ 33.000,00.
- (E) R\$ 34.000,00.

90

Um empréstimo deve ser quitado em 6 anos com pagamentos consecutivos anuais postecipados. Se a amortização for feita segundo o Sistema de Amortização Constante, a 3ª prestação terá valor igual a R\$ 3.200,00. Se a amortização for feita segundo o Sistema de Amortização Misto, a 3ª prestação terá valor igual a R\$ 3.175,00. Independentemente do sistema de amortização escolhido, a taxa de juros a ser utilizada será de 7% a.a.

Considere $1,07^6 = 1,5$.

Nessas condições, o valor do empréstimo está entre

- (A) R\$ 13.200,00 e R\$ 13.600,00.
- (B) R\$ 13.600,00 e R\$ 14.000,00.
- (C) R\$ 14.000,00 e R\$ 14.400,00.
- (D) R\$ 14.400,00 e R\$ 14.800,00.
- (E) R\$ 14.800,00 e R\$ 15.200,00.

91

O Prefeito de São Paulo, muito preocupado em razão de a arrecadação tributária estar em patamar inferior ao esperado, determina que seus assessores apresentem soluções para sanar a dificuldade financeira vivenciada pelo ente federativo. Desta forma, são aventadas diversas possibilidades relacionadas aos impostos de competência municipal.

Nesse cenário, considerando as disposições da Lei Orgânica do Município de São Paulo, é correto afirmar que ingressa na competência da municipalidade o imposto sobre a

- (A) transmissão entre vivos, a qualquer título, por ato oneroso, de direitos reais sobre imóveis, inclusive os de garantia.
- (B) propriedade predial e territorial urbana.
- (C) doação de quaisquer bens e direitos.
- (D) propriedade territorial rural.
- (E) circulação de mercadorias.

92

João, angustiado com a desigualdade social existente na sociedade, pretende se candidatar ao cargo de Vereador do Município de São Paulo. Para tanto, o agente, que tem 20 anos de idade, passa a pesquisar a composição da Casa Legislativa e a idade mínima para exercer o cargo eletivo.

Nesse cenário, considerando as disposições da Lei Orgânica do Município de São Paulo, é correto afirmar que a Câmara Municipal é composta por

- (A) cinquenta e cinco Vereadores eleitos dentre os cidadãos maiores de vinte e um anos e no exercício dos direitos políticos, motivo pelo qual a idade de João é óbice ao seu intento.
- (B) cinquenta e cinco Vereadores eleitos dentre os cidadãos maiores de dezoito anos e no exercício dos direitos políticos, motivo pelo qual a idade de João não é óbice ao seu intento.
- (C) cinquenta Vereadores eleitos dentre os cidadãos maiores de dezoito anos e no exercício dos direitos políticos, motivo pelo qual a idade de João não é óbice ao seu intento.
- (D) sessenta Vereadores eleitos dentre os cidadãos maiores de vinte e um anos e no exercício dos direitos políticos, motivo pelo qual a idade de João é óbice ao seu intento.
- (E) cinquenta Vereadores eleitos dentre os cidadãos maiores de vinte e um anos e no exercício dos direitos políticos, motivo pelo qual a idade de João é óbice ao seu intento.

93

Após ser eleito para o cargo de Prefeito do Município de São Paulo, Tício é informado de que a Lei Orgânica da municipalidade faz referência ao Programa de Metas da gestão, que conterà, entre outras informações, ações estratégicas, indicadores e metas quantitativas para cada um dos setores da Administração Pública Municipal, Subprefeituras e Distritos da cidade.

Nesse cenário, considerando as disposições da Lei Orgânica do Município de São Paulo, é correto afirmar que

- (A) o Prefeito poderá proceder a alterações programáticas no Programa de Metas, em conformidade com a lei do Plano Diretor Estratégico e com a concordância da Câmara Municipal.
- (B) o resumo do Programa de Metas será publicado no Diário Oficial da Cidade, sendo certo que a consulta ao inteiro teor poderá ser requerida por qualquer interessado.
- (C) o Poder Executivo divulgará trimestralmente os indicadores de desempenho relativos à execução dos diversos itens do Programa de Metas.
- (D) ao final de cada ano, o Prefeito encaminhará, à Mesa da Câmara Municipal, o relatório da execução do Programa de Metas.
- (E) o Prefeito, eleito ou reeleito, apresentará o Programa de Metas de sua gestão até noventa dias após sua posse.

94

Joana, professora da rede pública de ensino do Município de São Paulo, é convidada a palestrar, em um evento privado, sobre a educação pública na municipalidade. Em assim sendo, durante a sua sustentação oral, Joana discursa sobre a temática da educação, cotejando-a com a legislação que lhe é aplicável em âmbito local.

Nesse cenário, considerando as disposições da Lei Orgânica do Município de São Paulo, é correto afirmar que

- (A) é dever do Município, através da rede própria, com a cooperação do Estado e da União, por intermédio do Ministério da Educação, o provimento em todo o território municipal de vagas, em número suficiente para atender à demanda quantitativa e qualitativa do ensino fundamental obrigatório e progressivamente à da educação infantil.
- (B) compete ao Município censurar os educandos do ensino médio, fazer-lhes a chamada e zelar, junto aos pais e responsáveis, pela frequência à escola.
- (C) o ensino fundamental, atendida a demanda, terá extensão de carga horária até se atingir a jornada de tempo integral, em caráter optativo pelos pais ou responsáveis, a ser alcançada pelo aumento progressivo da atualmente verificada na rede pública municipal.
- (D) a carga horária mínima a ser oferecida no sistema municipal de ensino é de seis horas diárias em cinco dias da semana.
- (E) a atuação do Município dará prioridade ao ensino fundamental e ao ensino médio.

95

Jonas, Vereador no âmbito do Município de São Paulo, é informado, pelo seu secretário, sobre um assunto extremamente delicado para a Casa Legislativa, assunto esse que poderá gerar reflexos na imprensa. Assim sendo, o parlamentar busca informações junto aos seus pares sobre a possibilidade de se convocar uma sessão extraordinária, fechada ao público.

Nesse cenário, considerando as disposições da Lei Orgânica do Município de São Paulo, é correto afirmar que

- (A) as sessões extraordinárias serão convocadas, na forma regimental, em sessão ou fora dela, e, neste caso, mediante comunicação pessoal e escrita aos Vereadores, pelo Presidente da Câmara, com antecedência mínima de quarenta e oito horas.
- (B) durante a sessão legislativa extraordinária, a Câmara deliberará sobre a matéria para a qual foi convocada e sobre outras temáticas urgentes, conforme dispuser a Mesa.
- (C) no período de recesso, a Câmara poderá ser extraordinariamente convocada pelo Prefeito ou pelo Presidente da Casa Legislativa.
- (D) as sessões extraordinárias e solenes não serão, em hipótese alguma, remuneradas.
- (E) as sessões da Câmara serão públicas, salvo deliberação em contrário, tomada por três quintos de seus membros, quando ocorrer motivo relevante.

96

Jonas, Vereador no âmbito do Município de São Paulo, pretende apresentar, na Câmara Municipal, proposição relacionada ao Plano Diretor do ente federativo. Com efeito, o parlamentar indaga, a seu assessor direto, qual Comissão teria competência específica para opinar sobre as proposições e matérias relacionadas àquela temática (Plano Diretor).

Nesse cenário, considerando as disposições do Regimento Interno da Câmara Municipal de São Paulo, é correto afirmar que a referida competência pertence à Comissão de

- (A) Trânsito, Transporte e Atividade Econômica.
- (B) Constituição, Justiça e Legislação Participativa.
- (C) Política Urbana, Metropolitana e Meio Ambiente.
- (D) Saúde, Promoção Social, Trabalho e Mulher.
- (E) Administração Pública.

97

Jonas, Vereador no âmbito do Município de São Paulo, apresenta requerimento de convocação do Secretário Municipal de Mobilidade e Trânsito para prestar informações sobre assuntos atinentes à pasta de que é titular. O requerimento de convocação, devidamente aprovado, indica explicitamente os motivos da convocação e especifica os quesitos que serão propostos ao agente político.

Nesse cenário, considerando as disposições do Regimento Interno da Câmara Municipal de São Paulo, é correto afirmar que

- (A) não havendo mais Vereadores inscritos para indagações relativas aos quesitos do instrumento de convocação, o Secretário convocado será dispensado, não podendo ser interpelado sobre assunto estranho ao objeto da convocação;
- (B) aberta a sessão para a oitava do Secretário Municipal, os Vereadores dirigir-lhe-ão interpelações sobre os quesitos constantes do requerimento, dispondo, para tanto, de dez minutos, permitidos apartes;
- (C) a Câmara se reunirá em sessão ordinária, em dia e hora previamente estabelecidos, com o fim específico de ouvir o Secretário Municipal sobre os motivos da convocação;
- (D) o Secretário Municipal deverá atender à convocação da Câmara dentro do prazo improrrogável de dez dias, contados da data do recebimento do ofício;
- (E) para responder às interpelações que lhe forem dirigidas, o Secretário Municipal disporá de dez minutos, sendo permitidos apartes.

98

Caio, Prefeito do Município de São Paulo, apresentou um determinado projeto de lei, o qual foi distribuído à Comissão de Finanças e Orçamentos da Casa Legislativa, para que haja a designação de relatores ou de subcomissão e, na sequência, a emissão de parecer no tocante à matéria de sua competência regimental.

Nesse cenário, considerando as disposições do Regimento Interno da Câmara Municipal de São Paulo, é correto afirmar que

- (A) para emitir parecer sobre qualquer matéria, cada Comissão terá o prazo de quinze dias, prorrogável por mais oito dias pelo Presidente da Mesa, a requerimento devidamente fundamentado.
- (B) nos projetos em que for solicitada urgência pelo Prefeito, o prazo para que cada Comissão emita parecer sobre a matéria fica reduzido a oito dias, vedada a prorrogação.
- (C) os relatores ou a Subcomissão terá o prazo de quinze dias para manifestar-se por escrito, a partir da data da distribuição do projeto de lei.
- (D) o Presidente da Comissão, dentro do prazo máximo de cinco dias úteis, designará os respectivos relatores ou a Subcomissão.
- (E) o prazo para a apresentação do parecer começa a correr no dia em que o processo der entrada na Comissão.

99

João, recém empossado no cargo de Vereador no âmbito da Câmara Municipal de São Paulo, entusiasmado com o exercício do primeiro mandato parlamentar, passou a estudar as normas aplicáveis à Casa Legislativa. Nesse contexto, durante os estudos, o agente político deparou-se com as hipóteses de suspensão e de encerramento das sessões, analisando-as detidamente.

Nesse cenário, considerando as disposições do Regimento Interno da Câmara Municipal de São Paulo, avalie se a sessão será encerrada antes da hora regimental pelos seguintes motivos:

- I. No caso de luto municipal ou estadual, pelo falecimento de autoridade, por deliberação do Presidente da Mesa.
- II. Para preservação da ordem.
- III. No caso de tumulto grave.

Está correto o que se afirma em

- (A) I, apenas.
- (B) II, apenas.
- (C) III, apenas.
- (D) I e II.
- (E) I e III.

100

Jonatas, Vereador no âmbito da Câmara Municipal de São Paulo, inconformado com determinada decisão tomada pelo Presidente da Casa Legislativa em questão de ordem, pretende apresentar recurso ao Plenário.

Nesse cenário, considerando as disposições do Regimento Interno da Câmara Municipal de São Paulo, assinale a afirmativa correta.

- (A) Emitido o parecer da Comissão de Constituição e Justiça, independentemente de sua publicação, o recurso será, obrigatoriamente, incluído na pauta da ordem do dia da sessão ordinária seguinte, para deliberação do Plenário.
- (B) Apresentado o recurso, o Presidente poderá se retratar da decisão anteriormente tomada na questão de ordem, encaminhando a sua manifestação para ratificação do Plenário.
- (C) A Comissão de Constituição e Justiça terá o prazo de dois dias úteis, prorrogável, uma única vez, por igual período, para emitir parecer sobre o recurso.
- (D) O recurso formulado por escrito deverá ser proposto dentro do prazo improrrogável de cinco dias úteis, contados da decisão do Presidente.
- (E) até a deliberação do Plenário sobre o recurso, a decisão tomada pelo Presidente na questão de ordem ficará suspensa.

Realização

