

22/10/2023 – MANHÃ

PROFESSOR DE EDUCAÇÃO BÁSICA (PEB) FÍSICA

NÍVEL SUPERIOR TIPO 3 – MARROM



SUA PROVA

- Além deste caderno contendo **50 (cinquenta)** questões objetivas e **1 (uma)** redação, você receberá do fiscal de prova o cartão de respostas e a folha de textos definitivos;
- As questões objetivas têm **4 (quatro)** opções de resposta (A, B, C e D) e somente uma delas está correta;
- A redação deverá ser redigida em, no mínimo, **15 (quinze)** linhas e, no máximo, **30 (trinta)** linhas.



TEMPO

- Você dispõe de **4 (quatro) horas** para a realização da prova, já incluído o tempo para a marcação do cartão de respostas e da folha de textos definitivos;
- **2 (duas) horas** após o início da prova, é possível retirar-se da sala, sem levar o caderno de questões;
- A partir dos **30 (trinta) minutos** anteriores ao término da prova é possível retirar-se da sala **levando o caderno de questões**.



NÃO SERÁ PERMITIDO

- Qualquer tipo de comunicação entre os candidatos durante a aplicação da prova;
- Anotar informações relativas às respostas em qualquer outro meio que não seja o caderno de questões;
- Levantar da cadeira sem autorização do fiscal de sala;
- Usar o sanitário ao término da prova, após deixar a sala.



INFORMAÇÕES GERAIS

- Verifique se seu caderno de questões está completo, sem repetição de questões ou falhas. Caso contrário, **notifique imediatamente o fiscal da sala**, para que sejam tomadas as devidas providências;
- Confira seus dados pessoais, especialmente nome, número de inscrição e documento de identidade e leia atentamente as instruções para preencher o cartão de respostas e a folha de textos definitivos;
- Para o preenchimento do cartão de respostas e da folha de textos definitivos, use somente caneta esferográfica, fabricada em material transparente, com tinta preta ou azul;
- Assine seu nome apenas no(s) espaço(s) reservado(s) no cartão de respostas e na folha de textos definitivos;
- Confira seu cargo, cor e tipo do caderno de questões. Caso tenha recebido caderno de cargo ou cor ou tipo **diferente** do impresso em seu cartão de respostas e em sua folha de textos definitivos, o fiscal deve ser **obrigatoriamente** informado para o devido registro na ata da sala;
- Reserve tempo suficiente para o preenchimento do seu cartão de respostas e da sua folha de textos definitivos. O preenchimento é de sua responsabilidade e **não será permitida a troca do cartão de respostas e da folha de textos definitivos em caso de erro cometido pelo candidato**;
- Para fins de avaliação, serão levadas em consideração apenas as marcações realizadas no cartão de respostas e na folha de textos definitivos;
- A FGV coletará as impressões digitais dos candidatos na lista de presença;
- Os candidatos serão submetidos ao sistema de detecção de metais quando do ingresso e da saída de sanitários durante a realização das provas.
- **Boa sorte!**

MÓDULO I - CONHECIMENTOS GERAIS

Língua Portuguesa

1

As opções a seguir apresentam frases que foram modificadas para o nível culto de linguagem, com respeito pelas normas gramaticais. Assinale a frase em que essa modificação foi feita de forma **inadequada**.

- (A) Quem inventou o trabalho não tinha o que fazer / Quem inventou o trabalho vivia na ociosidade.
- (B) Os amigos são como os táxis; quando o tempo tá ruim, não aparecem / Os amigos são como os táxis; quando há mau tempo, escasseiam.
- (C) Deus me defenda dos amigos, porque com os inimigos eu me viro / Deus me defenda dos amigos, porque dos inimigos eu me protejo.
- (D) Ter amigos à beça é o mesmo que não ter amigos / Ter amigos aos montes é o mesmo que não ter nenhum.

2

Assinale a frase em que o aumentativo sublinhado mostra valor pejorativo.

- (A) Muitos times são chamados de timão, mas nem todos merecem a designação.
- (B) Ao final da estrada havia um paredão que impedia os desabamentos na encosta.
- (C) Os dramalhões apresentados na TV, ao final da tarde, não agradam a todos os públicos.
- (D) Os tapetões vermelhos da entrada do festival valorizam o visual do espetáculo.

3

“Meses depois, casava-se Moscoso com a pupila do defunto patrão. Chamava-se Genoveva e era uma raparigaça de seus vinte e poucos anos, muito tola, de uma gordura desengraçada. Parecia toda feita de almofadas; as carnes da cara tremiam-lhe quando ela andava, os olhos tinham uns tons amarelados e mortos; o cabelo vivia-lhe pregado ao casco da cabeça com suor, por falta de asseio. Era de uma brancura de sebo velho, falava muito descansado e com um hálito azedo; as suas mãos papudas e humidamente macias, davam em quem as tocasse a sensação repulsiva que se experimentava ao pegar na barriga de uma lagartixa”.

Sobre esse pequeno texto, assinale a afirmativa correta.

- (A) Trata-se de um texto narrativo em que o narrador aborda as diversas etapas de um casamento.
- (B) Exemplifica um texto descritivo, cujo objetivo é a apresentação física de uma personagem.
- (C) Mostra um texto argumentativo, em que o argumentador mostra as desvantagens de um mau casamento.
- (D) Trata-se de um texto expositivo, em que o expositor documenta um casamento por conveniência.

4

O adjetivo pode ser substituído por algumas outras palavras ou estruturas de valor equivalente. Assinale a frase em que a adjetivação é realizada por meio de uma preposição mais um advérbio.

- (A) Os bois ouviam de longe o grito dos boiadeiros.
- (B) Todos os viajantes vinham de perto.
- (C) As meninas se posicionaram de lado na carroça.
- (D) As rodas de trás estavam com os pneus vazios.

5

As opções a seguir apresentam frases de Machado de Assis em que os termos sublinhados pertencem à mesma família de palavras, **à exceção de uma**. Assinale-a.

- (A) Cada ministro gosta de deixar, entre outros trabalhos, um que especifique seu nome no catálogo dos administradores.
- (B) Não há espírito que resista diante da ideia de fazer um testamento, e que, por mais simples que seja um homem, na ocasião de assinar suas últimas disposições testamentárias, torna-se de uma sisudez e uma lucidez admiráveis.
- (C) Casamento diferido é casamento perdido, perda causada pela indiferença, que é o pior de todos os males.
- (D) Não há desdouros em crer na verdade, ainda que outros a contestem, pois todas as grandes verdades acham grandes incrédulos.

6

Observe o seguinte texto de Leonardo Da Vinci:

“A paciência faz contra as ofensas o mesmo que as roupas fazem contra o frio; pois, se vestires mais roupas conforme o inverno aumenta, tal frio não te poderá afetar. De modo semelhante, a paciência deve crescer em relação às grandes ofensas; tais injúrias não poderão ofender tua mente”.

Sobre as classes de palavras presentes nesse pensamento, assinale a afirmativa correta.

- (A) A forma verbal “vestires” corresponde à forma conjugada do infinitivo.
- (B) As formas “tal” e “tais” são classificadas como pronomes adjetivos demonstrativos.
- (C) As duas ocorrências do vocábulo “contra” exemplificam classes gramaticais diferentes.
- (D) A palavra “mais” mostra um exemplo de advérbio de intensidade.

7

Assinale a frase que mostra certo grau de incerteza (modalização).

- (A) O incêndio foi causado por algum tipo de fagulha.
- (B) Sem dúvida, o futebol está perdendo o charme.
- (C) As crianças, segundo consta, jogam demais no celular.
- (D) Encontram-se muitos turistas em Paris no verão.

8

Observe a seguinte fábula de Esopo:

“Um burro atravessava um rio carregando sal. Como escorregou e caiu na água, o sal derreteu e a carga tornou-se mais leve. Feliz com isso, quando certa vez passava novamente perto do rio carregando esponjas, acreditou que, se caísse de novo, também aquela carga se tornaria mais leve. Então, escorregou de propósito, mas aconteceu-lhe que, como as esponjas absorveram a água, ele não pôde mais levantar-se e ali morreu afogado”.

A característica básica de um texto narrativo é a sucessão cronológica de ações ou acontecimentos. Assinale a opção em que os verbos destacados **não** mostram sucessão cronológica.

- (A) atravessava um rio / escorregou.
- (B) escorregou / caiu na água.
- (C) caiu na água / o sal derreteu.
- (D) o sal derreteu / a carga tornou-se mais leve.

9

Observe o seguinte segmento textual:

“Nos fins de um verão que já vai longe, uma carruagem, de cúpula erguida e faróis apagados, seguia a todo o trote pela pitoresca estrada da Gávea.

Seriam onze horas da noite”.

Sobre esse trecho descritivo, é correto afirmar que

- (A) o observador observa o objeto descrito utilizando exclusivamente o sentido da visão.
- (B) o observador do texto mostra a carruagem como objeto detalhado de sua descrição.
- (C) a descrição abrange dados de localização temporal e espacial, além de focalizar personagens.
- (D) o observador tem a preocupação de fornecer informações precisas sobre o que é descrito.

10

Os verbos de ligação indicam estados (estado permanente, estado transitório, aparência de estado, continuidade de estado e mudança de estado).

Assinale a frase em que o verbo ESTAR é classificado como verbo de ligação.

- (A) Na realidade, não conhecemos nada, pois a verdade está no íntimo.
- (B) O resultado está nas mãos de Deus.
- (C) Ideias genéricas e presunção estão sempre perto de causar uma terrível desgraça.
- (D) O espaço mescla-se com o tempo assim como o corpo está misturado com a alma.

Raciocínio Lógico Matemático

11

Um dado comum possui seis faces numeradas de 1 a 6, de tal forma que os números indicados em duas faces opostas sempre somam 7.

Devido a um defeito de fabricação, a cada lançamento desse dado, a probabilidade de que o número 6 seja obtido é o triplo da probabilidade de se obter o 1. Além disso, a probabilidade de resultado igual a 1 é a metade da probabilidade de ocorrência de todos os demais resultados.

No lançamento desse dado, a probabilidade de se obter 6 como resultado é igual a

- (A) $1/12$.
- (B) $1/8$.
- (C) $1/6$.
- (D) $1/4$.

12

Os ângulos internos de um triângulo ABC são tais que o dobro da medida em graus do ângulo \hat{A} é igual à soma das medidas em graus dos ângulos \hat{B} e \hat{C} .

Portanto, o ângulo \hat{A} mede

- (A) 45° .
- (B) 60° .
- (C) 75° .
- (D) 90° .

13

Considere a proposição “Se é domingo, eu acordo às 9 horas”.

Essa proposição é logicamente equivalente a

- (A) “Se não é domingo, eu acordo às 9h”.
- (B) “Se não é domingo, eu não acordo às 9h”.
- (C) “Se eu não acordo às 9h, não é domingo”.
- (D) “Se eu acordo às 9h, é domingo”.

14

Em um cesto havia bananas de 3 tipos diferentes. Metade dessas bananas eram banana-prata. Trinta por cento do total de bananas eram bananas-d’água. O restante das bananas no cesto eram bananas-ouro.

Foram retiradas do cesto 5 bananas: 1 banana-d’água, 2 bananas-prata e 2 bananas-ouro.

Após as retiradas, 16% das bananas que restaram no cesto eram bananas-ouro.

A quantidade original de bananas no cesto era igual a

- (A) 30.
- (B) 40.
- (C) 50.
- (D) 60.

15

Uma partícula se desloca sobre um plano cartesiano. Inicialmente, ela se encontra sobre o ponto de coordenadas (2,1) e se movimenta 4 unidades de comprimento no sentido positivo do eixo das abscissas (eixo x). Em seguida, ela se movimenta 3 unidades de comprimento no sentido positivo do eixo das ordenadas (eixo y). Por fim, ela se desloca 2 unidades de comprimento no sentido negativo do eixo das abscissas.

Após esses 3 deslocamentos, a partícula se encontra sobre o ponto de coordenadas

- (A) (4,4).
- (B) (5,3).
- (C) (5,7).
- (D) (8,4).

Direitos Humanos

16

Maria, ativista dos direitos humanos no âmbito do Município Beta, realizou alentado estudo a respeito da natureza dos direitos reconhecidos pela Declaração dos Direitos Humanos, de modo a melhor subsidiar a sua atuação junto aos poderes constituídos.

Ao final de suas reflexões, Maria concluiu corretamente que os direitos reconhecidos pela referida Declaração

- (A) são primordialmente direitos de defesa, obstando o avanço do Poder Público sobre a esfera jurídica individual, embora também sejam reconhecidos direitos prestacionais.
- (B) são primordialmente direitos prestacionais, assegurando uma vida digna para o ser humano, embora também sejam reconhecidos direitos de defesa.
- (C) são apenas direitos prestacionais, assegurando uma vida digna para ser humano, requisito para o pleno desenvolvimento da sua personalidade.
- (D) são apenas direitos de defesa, obstando o avanço do Poder Público sobre a esfera jurídica individual.

17

Joana tomou conhecimento de que a República Federativa do Brasil estava prestes a assinar determinado tratado internacional de proteção dos direitos humanos, o qual lhe reconhecia certo direito em uma perspectiva mais benéfica que aquela prevista na Constituição da República de 1988, sendo nítida a colisão com uma norma constitucional.

Ao se inteirar da forma como o referido tratado internacional seria incorporado na ordem interna, principalmente em razão da colisão que constataria, Joana concluiu corretamente que ele

- (A) terá a mesma natureza da Constituição originária, caso seja aprovado pelo Congresso Nacional, em dois turnos, por dois terços dos votos dos seus membros.
- (B) sempre será incorporado como lei, não podendo se sobrepor a norma constitucional anterior que trate da mesma temática, mas revogará as leis anteriores.
- (C) sempre será incorporado como emenda constitucional, considerando a sua interação com a dignidade humana, prevalecendo sobre a norma constitucional anterior.
- (D) será incorporado como emenda constitucional, se aprovado em cada Casa do Congresso Nacional, em dois turnos, por três quintos dos votos dos respectivos membros.

18

X, criança de 11 anos de idade, mas com grande amadurecimento físico e mental, durante as aulas na Escola Estadual Alfa, desferiu diversos socos contra um inspetor por discordar da orientação de que deveria retornar à sala de aula após o fim do intervalo. Essa conduta é descrita como crime no Código Penal, configurando, portanto, ato infracional praticado por criança.

O diretor da Escola Estadual Alfa foi corretamente orientado no sentido de que X, em razão de sua conduta,

- (A) deve ser encaminhado à internação provisória, de caráter compulsório, permanecendo à disposição da Justiça.
- (B) não pode receber medida socioeducativa ou protetiva.
- (C) pode receber uma medida específica de proteção.
- (D) pode receber uma medida socioeducativa.

19

Y, pessoa com deficiência regularmente matriculada no ensino fundamental da Escola Estadual Beta, informou à sua professora, o que chegou ao conhecimento da Secretaria Estadual de Educação, que necessitava de um suporte, comercializado no mercado, que contribuísse para firmar o lápis e a caneta em sua mão, permitindo-lhe escrever.

À luz da sistemática legal vigente, é correto afirmar que Y

- (A) precisa se adaptar às suas deficiências, sendo que a Escola deve aceitar que manifestações verbais sejam apresentadas nas avaliações.
- (B) necessita de uma tecnologia assistiva, de modo a assegurar a sua autonomia no ambiente escolar.
- (C) tem o direito subjetivo ao suporte material inclusivo, de modo a assegurar a sua plena integração.
- (D) tem o direito subjetivo a uma adaptação razoável, de modo a assegurar a igualdade de oportunidades com os demais alunos.

20

O responsável por determinada instituição de longa permanência destinada a pessoas idosas, deixou de comunicar à autoridade competente três casos de crimes de que teve conhecimento contra essas pessoas. Quando os casos se tornaram públicos, o referido responsável procurou o seu advogado e solicitou informações se teria praticado alguma infração administrativa.

O advogado respondeu corretamente que o responsável praticou

- (A) crime, não infração administrativa, sendo o procedimento iniciado pela Polícia Judiciária.
- (B) apenas infração administrativa, e o procedimento será iniciado pelo juízo da Vara de Proteção à Pessoa Idosa.
- (C) infração administrativa, e o procedimento será iniciado por requisição do Ministério Público ou auto de infração.
- (D) crime e infração administrativa, sendo o procedimento relacionado a ambos iniciado pelo juízo da Vara de Proteção à Pessoa Idosa.

Legislação Educacional

21

Com relação ao disposto sobre projeto político pedagógico na Resolução SEE nº 4.692/2021, que trata da organização e o funcionamento do ensino nas Escolas Estaduais de Educação Básica de Minas Gerais e dá outras providências, **não** é correto afirmar que

- (A) o projeto político pedagógico se constitui como um documento formal, intencional e articulador dos processos que ocorrem na escola.
- (B) a escola estadual deverá avaliar seu projeto político pedagógico a cada período de cinco anos.
- (C) o projeto político pedagógico é um conjunto de diretrizes organizacionais e operacionais que expressam e orientam os programas, projetos e práticas pedagógicas e administrativas da escola.
- (D) os planos e projetos de que a escola faz parte devem estar contemplados no projeto político pedagógico.

22

Segundo o Decreto Estadual nº 46.644/2014, que dispõe sobre o código de conduta ética do agente público e da alta administração estadual, os direitos do agente público incluem os seguintes, **à exceção de um**. Assinale-o.

- (A) Igualdade de acesso e oportunidades de crescimento intelectual e profissional em sua respectiva carreira.
- (B) Liberdade de manifestação, observado o respeito à imagem da instituição e dos demais agentes públicos.
- (C) Manifestação sobre fatos que possam prejudicar seu desempenho ou reputação.
- (D) Opção por não utilizar conhecimentos, avanços técnicos e científicos ao seu alcance no desenvolvimento de suas atividades.

23

Com base no Art. 210 da Constituição Federal de 1988, a respeito da educação é **incorreto** afirmar que

- (A) serão fixados conteúdos mínimos para o ensino fundamental, de maneira a assegurar formação básica comum e respeito aos valores culturais e artísticos, nacionais e regionais.
- (B) o ensino religioso, de matrícula facultativa, constituirá disciplina dos horários normais das escolas públicas de ensino fundamental.
- (C) o ensino fundamental regular será ministrado em língua portuguesa, assegurada às comunidades indígenas também a utilização de suas línguas maternas e processos próprios de aprendizagem.
- (D) aplicam-se ao ensino médio as mesmas disposições que regulamentam a oferta do ensino fundamental.

24

O Artigo 203 da Constituição Estadual de Minas Gerais dispõe que “Os recursos públicos serão destinados às escolas públicas e podem ser dirigidos às escolas comunitárias, confessionais ou filantrópicas, definidas em lei”. Há, todavia, condições definidas no artigo para que as escolas que não são públicas recebam recursos públicos.

Assinale a afirmativa que indica corretamente essas condições.

- (A) As escolas devem comprovar finalidade não lucrativa e aplicar seus excedentes financeiros em educação.
- (B) As escolas devem comprovar finalidade não lucrativa e assegurar a destinação do seu patrimônio a outra escola comunitária, filantrópica ou confessional, ou ao Poder Público, no caso de encerramento de suas atividades.
- (C) As escolas devem comprovar finalidade não lucrativa, aplicar seus excedentes financeiros em educação e assegurar a destinação do seu patrimônio a outra escola comunitária, filantrópica ou confessional, ou ao Poder Público, no caso de encerramento de suas atividades.
- (D) As escolas devem aplicar seus excedentes financeiros em educação e assegurar a destinação do seu patrimônio a outra escola comunitária, filantrópica ou confessional, ou ao Poder Público, no caso de encerramento de suas atividades.

25

O Artigo 26 da versão atual da Lei nº 9.394/96, que estabelece as diretrizes e bases da educação nacional, dispõe que “Os currículos da educação infantil, do ensino fundamental e do ensino médio devem ter base nacional comum, a ser complementada, em cada sistema de ensino e em cada estabelecimento escolar, por uma parte diversificada, exigida pelas características regionais e locais da sociedade, da cultura, da economia e dos educandos” (Redação dada pela Lei nº 12.796, de 2013). O parágrafo primeiro desse artigo fixa os estudos que os currículos devem obrigatoriamente abranger. São eles:

- (A) O estudo da língua portuguesa e da matemática e o conhecimento da realidade ambiental, social e política do Brasil.
- (B) O estudo da língua portuguesa e da matemática, o conhecimento do mundo físico e natural e da realidade social e política, especialmente do Brasil.
- (C) O estudo da língua portuguesa e da matemática, o conhecimento do mundo físico e natural, bem como o da realidade socioeconômica do Brasil.
- (D) O estudo da língua portuguesa e da matemática, o conhecimento do mundo biológico e da realidade social e política, especialmente do Brasil.

26

A Lei nº 9.394, de 20 de dezembro de 1996, estabelece que nos estabelecimentos de ensino fundamental e médio, oficiais e particulares, o ensino sobre História e Cultura Afro-Brasileira e Indígena é obrigatório.

Avalie se, para resgatar a contribuição do povo negro nas áreas social, econômica e política pertinentes à História do Brasil, o conteúdo programático correspondente deve incluir:

- I. o estudo da História da África e dos Africanos;
- II. a luta dos negros e dos povos indígenas no Brasil;
- III. a cultura negra e indígena brasileira e o negro e o índio na formação da sociedade nacional.

Estão corretos os itens

- (A) I e II, apenas.
- (B) I e III, apenas.
- (C) II e III, apenas.
- (D) I, II e III.

27

A Base Nacional Comum Curricular – BNCC é apresentada como “um documento de caráter normativo que define o conjunto orgânico e progressivo de aprendizagens essenciais que todos os alunos devem desenvolver ao longo das etapas e modalidades da Educação Básica, de modo a que tenham assegurados seus direitos de aprendizagem e desenvolvimento, em conformidade com o que preceitua o Plano Nacional de Educação (PNE)”.

Assinale a opção que indica corretamente a aplicação normativa da BNCC.

- (A) Aplica-se exclusivamente à educação escolar.
- (B) Aplica-se apenas às etapas da Educação Infantil e do Ensino Fundamental.
- (C) Aplica-se somente às escolas públicas municipais.
- (D) Aplica-se somente às escolas públicas estaduais.

28

A Lei nº 13.005/14, que aprova o Plano Nacional de Educação – PNE, dispõe em seu Art. 5º que “A execução do PNE e o cumprimento de suas metas serão objeto de monitoramento contínuo e de avaliações periódicas” por parte de um conjunto de instâncias.

Assinale a opção que identifica corretamente o conjunto dessas instâncias.

- (A) Ministério da Educação, Comissão de Educação da Câmara dos Deputados, Comissão de Educação, Cultura e Esporte do Senado Federal, Conselho Nacional de Educação e Fórum Nacional de Educação.
- (B) Ministério da Educação, Comissão de Educação, Cultura e Esporte do Senado Federal, Conselho Nacional de Educação e Fórum Nacional de Educação.
- (C) Comissão de Educação da Câmara dos Deputados, Comissão de Educação, Conselho Nacional de Educação e Fórum Nacional de Educação.
- (D) Comissão de Educação da Câmara dos Deputados, Comissão de Educação, Cultura e Esporte do Senado Federal e Conselho Nacional de Educação.

29

O Art. 5º da Lei nº 23.197/18, que institui o Plano Estadual de Educação (PEE) de Minas Gerais, define a periodicidade para a realização das avaliações do PEE em no máximo

- (A) um ano.
- (B) dois anos.
- (C) três anos.
- (D) quatro anos.

30

Avalie, com base na Lei Estadual nº 15.293/2004, se os fundamentos da estruturação das carreiras dos Profissionais de Educação Básica incluem:

- I. a valorização do profissional da educação;
- II. a humanização da educação pública;
- III. a avaliação periódica de desempenho individual como requisito necessário para o desenvolvimento na carreira por meio de promoção e progressão.

Estão corretos os itens:

- (A) I, II e III.
- (B) I e II, apenas.
- (C) I e III, apenas.
- (D) II e III, apenas.

MÓDULO II - CONHECIMENTOS ESPECÍFICOS

31

Segundo as Diretrizes Curriculares Nacionais da Educação Básica, a identidade do Ensino Médio deve ser definida pela superação do dualismo entre a educação propedêutica e a educação profissional.

Isso significa que o Ensino Médio deve se definir por oferecer uma educação voltada para

- (A) o oferecimento de condições para que o corpo discente saia da escola com competências para a atuação profissional.
- (B) o provimento dos conhecimentos úteis para o perfil majoritário, que precisa desempenhar atividades para subsistência.
- (C) a garantia de uma formação que leve a uma conexão vertical dos estudos com o ensino de nível superior.
- (D) a proposição de possibilidades variadas de aprendizagem para suprir diferentes demandas e contextos.

32

O Currículo Referência do Ensino Médio de Minas Gerais orienta os professores no modo como conduzir o componente curricular do Projeto de Vida dos estudantes. Para tanto, este documento pressupõe um modo de conceber a juventude.

De acordo com ele, a juventude é

- (A) um período de indefinição, situado entre a infância e os desafios da vida adulta.
- (B) um tempo determinante, em que já se é um sujeito de características definidas e fechadas.
- (C) um momento dinâmico, no qual as decisões presentes projetam um horizonte futuro.
- (D) um estágio de heteronomia, em que o indivíduo ainda não tem capacidade de decisão.

33

Libâneo atribui a Iohannes Amos Comenius a posição de precursor do ideal moderno de educação.

Em sua *Didactica Magna*, Comenius expressa uma ideia que lhe confere esse título, que pode ser sintetizada como

- (A) ensinar tudo a todos.
- (B) educar para a indústria.
- (C) especializar as inteligências.
- (D) emancipar pela autoridade.

34

De acordo com Bernard Charlot, a educação está envolvida em um triplo processo. Um dos três aspectos é aquele em que o indivíduo se torna propriamente humano.

Esse aspecto é conhecido como

- (A) integração.
- (B) socialização.
- (C) hominização.
- (D) singularização.

35

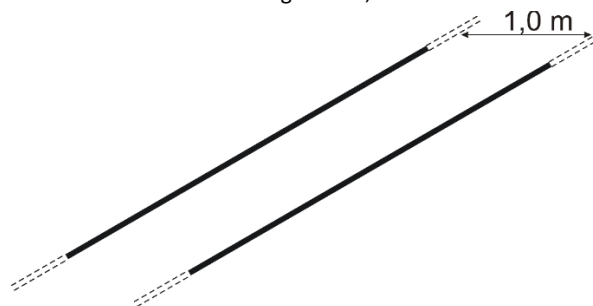
Um carro de massa igual a 1t está se movendo com uma velocidade de 12m/s. Com o objetivo de fazer uma ultrapassagem, o motorista pisa forte o acelerador, fazendo com que o motor desenvolva uma potência constante igual a 32kW durante 4s.

Após esses 4s o carro adquiriu uma velocidade de

- (A) 16m/s.
- (B) 18m/s.
- (C) 20m/s.
- (D) 24m/s.

36

A interação magnética de dois fios muito longos (infinitos) é utilizada para definir o “ampère” (A). A figura abaixo mostra dois fios muito longos (infinitos), paralelos, no vácuo, separados por 1,0 m, estando ambos sendo percorridos por correntes elétricas de intensidades constantes e iguais a 1,0 A.



Dependendo dos sentidos (convencionais) dessas correntes elétricas, as forças de interação magnética deles podem ser de atração ou de repulsão.

No entanto, sendo $\mu_0 = 4\pi \cdot 10^{-7}$ Web/A.m, por cada metro de fio, os módulos dessas forças valem

- (A) $1,0 \cdot 10^{-7}$ m.
- (B) $2,0 \cdot 10^{-7}$ m.
- (C) $3,0 \cdot 10^{-7}$ m.
- (D) $4,0 \cdot 10^{-7}$ m.

37

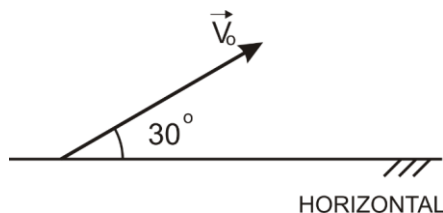
Suponha que você esteja vendo uma barra de 4 metros de comprimento passando com 80% da velocidade da luz no vácuo em relação a você.

Nessas condições a sua medida do comprimento da barra é de

- (A) 1,6m.
 (B) 2,4m.
 (C) 3,2m.
 (D) 3,6m.

38

Um projétil é lançado obliquamente do solo (horizontal) com velocidade \vec{v}_0 numa direção inclinada 30° em relação ao solo, como ilustra a figura.



O módulo do vetor variação de velocidade do projétil entre o instante do lançamento e o instante em que retorna ao solo é igual a

- (A) $|\vec{v}_0|\sqrt{3}$.
 (B) $|\vec{v}_0|$.
 (C) $\frac{|\vec{v}_0|\sqrt{3}}{2}$.
 (D) $\frac{|\vec{v}_0|}{2}$.

39

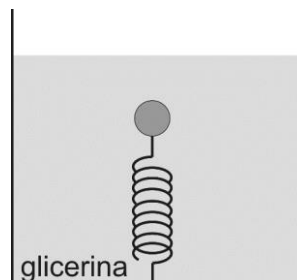
Um projétil é disparado obliquamente do solo (horizontal) e, supondo a resistência do ar desprezível, consegue atingir, no máximo, uma altura H . Verifica-se que, nesse ponto mais alto atingido, a energia mecânica do projétil está uniformemente dividida: metade sob a forma de energia cinética e metade sob a forma de energia potencial.

Nesse caso, o raio de curvatura da trajetória do projétil nesse ponto mais alto é igual a

- (A) $2H$.
 (B) $\frac{3H}{2}$.
 (C) $\frac{4H}{3}$.
 (D) H .

40

Uma mola ideal está presa ao fundo de um recipiente que contém glicerina. Uma esfera de madeira, totalmente submersa em glicerina, é presa à mola e abandonada com a mola em seu comprimento original, como ilustra a figura.



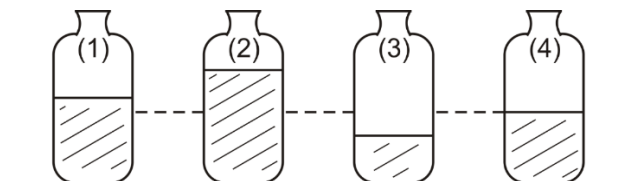
A densidade da madeira é $0,80\text{kg}/\ell$, a densidade da glicerina é $1,25\text{kg}/\ell$, o volume da esfera é 4ℓ e a constante elástica da mola é $k = 360\text{N}/\text{m}$. Considere $g = 10\text{m}/\text{s}^2$.

Depois de amortecidas as oscilações, com a esfera em repouso e a glicerina em equilíbrio hidrostático, verifica-se a mola, em relação ao seu comprimento original, está aumentada em

- (A) 2cm.
 (B) 4cm.
 (C) 5cm.
 (D) 8cm.

41

Os quatro recipientes mostrados na figura abaixo são idênticos e de material termicamente indilatável. Todos contêm a mesma massa de água, mas a temperaturas diferentes.

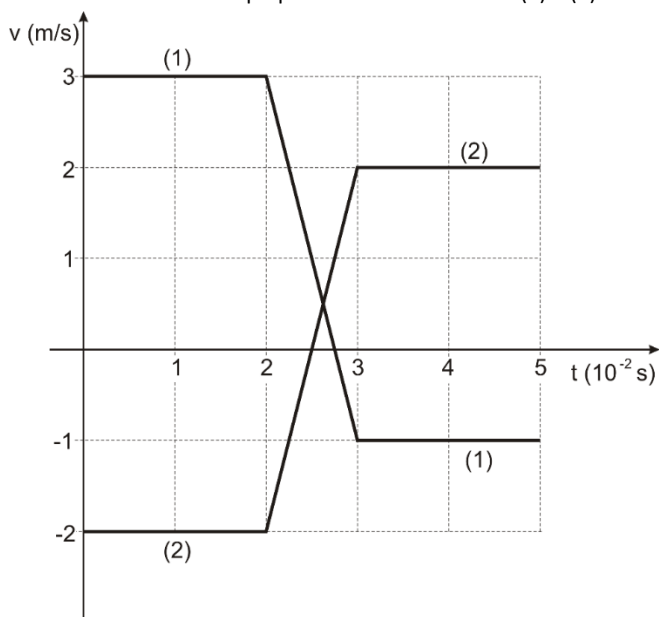


Se em algum deles a água estiver a 4°C será a contida no recipiente

- (A) 1.
 (B) 2.
 (C) 3.
 (D) 4.

42

A figura representa o gráfico velocidade-tempo da interação unidimensional de duas pequenas esferas metálicas (1) e (2).

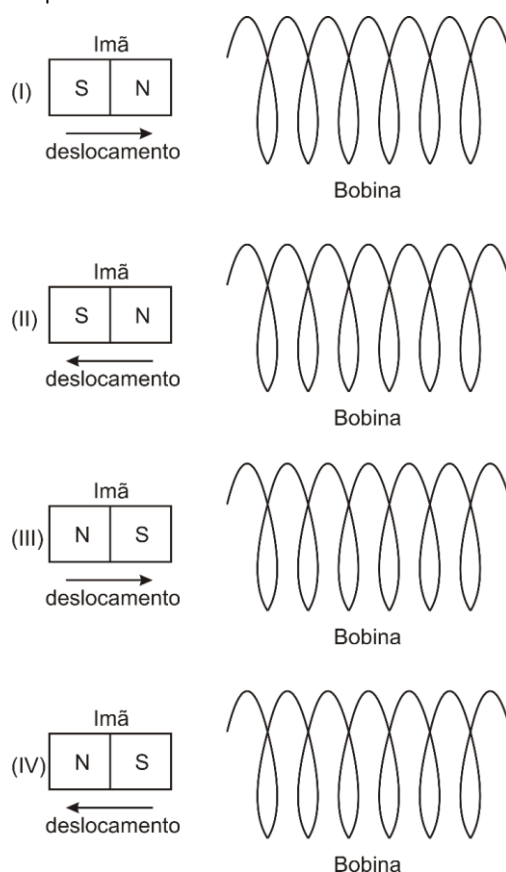


A velocidade do centro de massa dessas duas esferas é de

- (A) 0,50m/s.
- (B) 0,60m/s.
- (C) 0,68m/s.
- (D) 0,75m/s.

43

As figuras mostram quatro situações distintas em que um ímã é deslocado próximo a uma bobina feita de material condutor.



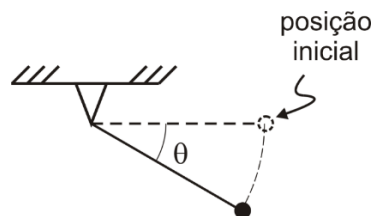
As situações em que a corrente induzida na bobina possui o mesmo sentido são as

- (A) I e II.
- (B) I e III.
- (C) II e III.
- (D) III e IV.

44

A figura mostra uma pequena esfera metálica, que pesa 10 N, suspensa por um fio ideal a um suporte. Com o fio esticado na horizontal, a esfera é abandonada e passa a se mover com atrito desprezível.

Focalizemos nossa atenção no instante em que ela passa pela posição em que o fio forma com a horizontal um ângulo θ , sendo $\text{sen } \theta = \frac{3}{5}$.



Nesse instante, a tensão no fio é de

- (A) 12 N.
- (B) 18 N.
- (C) 24 N.
- (D) 30 N.

45

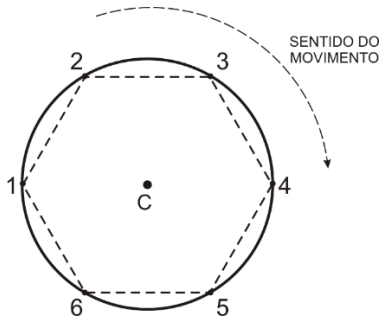
Um móvel é uniformemente retardado durante 5s, percorrendo 75m até parar.

A distância por ele percorrida durante o último segundo de movimento foi de

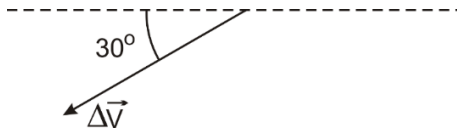
- (A) 1m.
- (B) 2m.
- (C) 3m.
- (D) 5m.

46

Uma partícula está animada por um movimento uniforme ao longo da trajetória circular de centro em C, representada abaixo, no sentido horário. 1, 2, 3, 4, 5 e 6 são os vértices de um hexágono regular inscrito no círculo-trajetória.



Decorrido um intervalo de tempo Δt , a contar do instante em que ela passa pelo ponto 1, o vetor variação de velocidade da partícula pode ser representado pelo segmento orientado desenhado na figura abaixo.



Nesse caso, decorrido esse intervalo de tempo Δt , a partícula se encontra no ponto

- (A) 3.
- (B) 4.
- (C) 5.
- (D) 6.

47

Para alimentar uma lâmpada de 20 W – 5 V dispõem-se de vários geradores idênticos, cada um de força eletromotriz $\epsilon = 6$ V e resistência interna $r = 1\Omega$.

Para que a lâmpada funcione com seu brilho normal (isto é, de acordo com suas especificações), o número de geradores a serem utilizados deve ser igual a

- (A) 1.
- (B) 2.
- (C) 3.
- (D) 4.

48

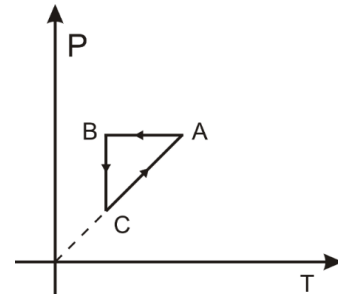
Uma fonte luminosa pontual é colocada sobre o eixo principal de um espelho côncavo, a 3cm do foco. A imagem conjugada pelo espelho se forma a 12cm do foco.

A distância focal do espelho é de

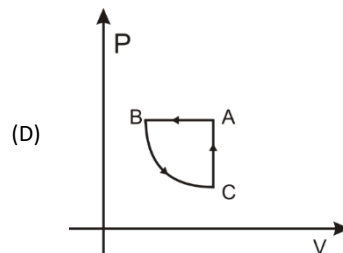
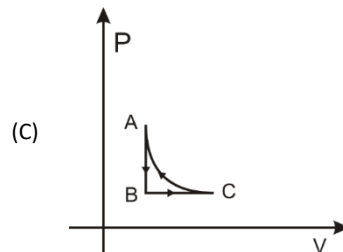
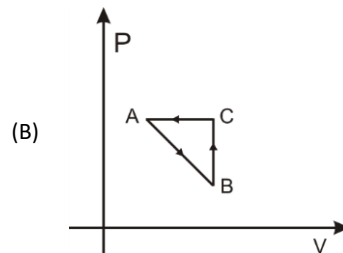
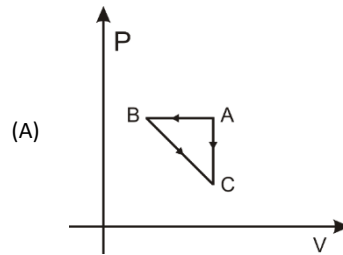
- (A) 6cm.
- (B) 9cm.
- (C) 10cm.
- (D) 12cm.

49

A figura representa o gráfico da pressão *versus* a temperatura do processo cíclico ABCA sofrido por um gás ideal monoatômico.

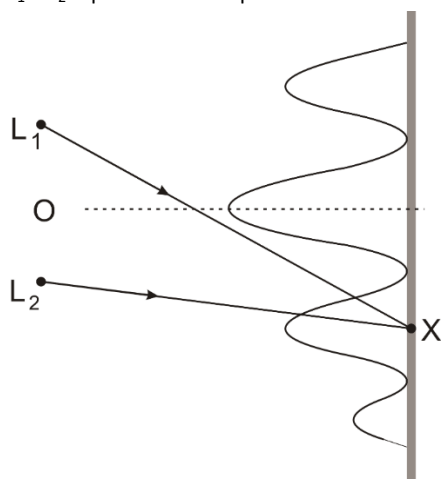


O gráfico pressão versus volume equivalente às transformações ABCA é:



50

A figura representa um ponto X que pertence à primeira franja de interferência máxima de luz proveniente de duas fontes luminosas L_1 e L_2 equidistantes do ponto O.



A diferença $L_1X - L_2X$ em meio comprimento de onda é igual a

- (A) 1.
- (B) 2.
- (C) 3.
- (D) 4.

REDAÇÃO

Um artigo sobre os problemas da educação moderna apontou quatro grandes problemas:

1. Não permitir que o aluno vivencie para aprender.
2. Insistência na especialização e não no equilíbrio dos saberes.
3. Recusa em abrir caminho para as novas tecnologias.
4. Professor como o centro do aprendizado.

Faça um texto dissertativo-argumentativo, de aproximadamente 30 linhas, em linguagem culta, expressando sua opinião sobre qual desses problemas é o mais grave e o modo de solucioná-lo. Dê especial atenção aos argumentos apresentados na defesa de seus pontos de vista.

1

2

3

4

5

6

7

8

9

10

11

12

13

14

15

16

17

18

19

20

21

22

23

24

25

26

27

28

29

30

Realização

