

ANALISTA ECONÔMICO FINANCEIRO GESTÃO CONTÁBIL

NÍVEL SUPERIOR – TIPO 1 – BRANCA



SUA PROVA

- Além deste caderno contendo **80 (oitenta)** questões objetivas, você receberá do fiscal de prova o cartão de respostas.



TEMPO

- Você dispõe de **4 (quatro) horas** para a realização da prova, já incluído o tempo para a marcação do cartão de respostas.
- **2 (duas) horas e 30 (trinta) minutos** após o início da prova é possível retirar-se da sala, sem levar o caderno de questões.
- A partir dos **30 minutos** anteriores ao término da prova é possível retirar-se da sala **levando o caderno de questões**.



NÃO SERÁ PERMITIDO

- Qualquer tipo de comunicação entre os candidatos durante a aplicação da prova.
- Anotar informações relativas às respostas em qualquer outro meio que não seja o caderno de questões.
- Levantar da cadeira sem autorização do fiscal de sala.
- Usar o sanitário ao término da prova, após deixar a sala.



INFORMAÇÕES GERAIS

- Verifique se seu caderno de questões está completo, sem repetição de questões ou falhas. Caso contrário, notifique **imediatamente** o fiscal da sala, para que sejam tomadas as devidas providências.
- Confira seus dados pessoais, especialmente nome, número de inscrição e documento de identidade e leia atentamente as instruções para preencher o cartão de respostas.
- Use somente caneta esferográfica, fabricada em material transparente, com tinta preta ou azul.
- Assine seu nome apenas no(s) espaço(s) reservado(s).
- Confira seu cargo, cor e tipo do caderno de questões. Caso tenha recebido caderno de cargo ou cor ou tipo **diferente** do impresso em sua folha de respostas, o fiscal deve ser **obrigatoriamente** informado para o devido registro na ata da sala.
- Reserve tempo suficiente para o preenchimento do seu cartão de respostas. O preenchimento é de sua responsabilidade e **não** será permitida a troca do cartão de respostas em caso de erro cometido pelo candidato.
- Para fins de avaliação, serão levadas em consideração apenas as marcações realizadas no cartão de respostas.
- A FGV coletará as impressões digitais dos candidatos na lista de presença.
- Os candidatos serão submetidos ao sistema de detecção de metais quando do ingresso e da saída de sanitários durante a realização das provas.
- **Boa sorte!**

Conhecimentos Básicos

Língua Portuguesa

1

O ex-ministro da Fazenda Delfim Netto declarou certa vez:
“O capital é como água. Sempre flui por onde encontra menos obstáculos”.

Assinale a afirmativa correta sobre os componentes e a estrutura desse pensamento.

- (A) O segundo período é uma redundância do primeiro, já que expressam o mesmo pensamento.
- (B) A comparação do primeiro período é explicada no segundo.
- (C) O primeiro período expressa uma causa cuja consequência é expressa no segundo período.
- (D) Enquanto o primeiro período é expresso em linguagem figurada, o segundo é expresso em linguagem lógica.
- (E) O segundo período expressa uma conclusão do que é expresso no período anterior.

2

No livro bíblico do Eclesiastes, está presente a seguinte afirmação: “Quem fica olhando o vento jamais semeará, quem fica olhando as nuvens jamais ceifará”.

Essa afirmação expressa o seguinte:

- (A) a contemplação da natureza é essencial para a vida humana.
- (B) o trabalho é fundamental para a sobrevivência.
- (C) o pensamento deve levar o homem à ação.
- (D) a ação é mais importante que o pensamento.
- (E) o agir é sempre precedido do sonhar.

3

O rei francês Luís XVI, ao falar da administração pública, declarou:
“Cada vez que preencho um cargo, faço cem descontentes e um ingrato”.

Sobre essa afirmação, assinale a opção correta.

- (A) Os “descontentes” se referem aos funcionários já nomeados para outros cargos.
- (B) O “ingrato” se refere ao indivíduo que preenche o cargo.
- (C) O “ingrato” referido está inserido entre os “descontentes”.
- (D) “preencher um cargo” se refere ao ato de demitir o funcionário que ocupava anteriormente o cargo.
- (E) O termo “cada vez” se refere a uma ação realizada com intensa frequência.

4

Assinale o pensamento abaixo em que há uma explicação de algo dito anteriormente.

- (A) Só os poetas e as mulheres sabem usar o dinheiro como ele merece ser usado.
- (B) Todo trabalho do homem é para sua boca e, no entanto, seu apetite nunca está satisfeito.
- (C) Quem não quer trabalhar também não há de comer.
- (D) Para fazer fortuna, não é necessário ter talento; basta não ter correção.
- (E) A economia moderna imita o paraquedas: só funciona quando está aberta.

5

O tema de todas as frases abaixo é o dinheiro; assinale aquela que mostra dele uma visão positiva.

- (A) Nada é mais revolucionário do que dinheiro sobrando.
- (B) Nada mais iníquo do que amar o dinheiro.
- (C) É menor o prazer de quem gasta o dinheiro que a pena de quem trabalha para ganhá-lo.
- (D) Não escondas o teu dinheiro debaixo de uma pedra para ele ficar ali escondido.
- (E) O dinheiro deve ser apenas o mais poderoso de nossos escravos.

6

As marcas de textualidade citadas no programa de Língua Portuguesa são a coesão, a coerência e a intertextualidade. Observe a seguinte declaração do apresentador Faustão:

“Esse negócio de sucesso é bonito, mas você não vive em função disso. O cemitério está cheio de caras de sucesso. Quero uma vida mais simples do que um copo d’água”.

Assinale a opção que exemplifica intertextualidade.

- (A) Esse negócio de sucesso é bonito.
- (B) ...mas você não vive em função disso.
- (C) O cemitério está cheio de caras de sucesso.
- (D) Quero uma vida mais simples...
- (E) ...mais simples do que um copo d’água.

7

Em todas as frases abaixo há um termo sublinhado que serve de elemento de coesão com um termo anterior.

Assinale a frase em que esse antecedente está corretamente identificado.

- (A) Não é filósofo quem sabe onde está o tesouro, mas quem trabalha e o desenterra / onde.
- (B) A personalidade do homem determina antecipadamente o grau de sua fortuna / personalidade.
- (C) Pode-se dar os primeiros impulsos nos negócios; depois eles mesmos nos arrastam / impulsos.
- (D) Quem compra e mente em seu bolso sente / quem.
- (E) As cadeias de ouro são mais fortes que as de ferro / fortes.

8

Assinale a frase abaixo que, ao contrário das demais, se mostra inteiramente coerente.

- (A) Todos estavam dispostos em fila única, lado a lado, até a esquina da rua.
- (B) Emprста o teu dinheiro, mesmo que não o tenhas, pois isso salvará a tua alma.
- (C) Uma mensagem oral não vale o papel em que foi escrita.
- (D) Um bom atirador acerta o alvo antes de ter disparado.
- (E) A gente sabe que o formulário simplificado do imposto de renda parece complicado.

9

Assinale a opção que apresenta uma frase que pode estar inserida entre os textos classificados como injuntivos.

- (A) Cuide dos anúncios, que o dinheiro cuida de si mesmo.
- (B) Vendeu a empresa. Deixou de ser rico, agora só tem dinheiro.
- (C) Férias coletivas são o prenúncio de demissão.
- (D) Na origem de toda riqueza há coisas que fazem tremer.
- (E) O comércio é a escola do ludíbrio.

10

Entre os textos abaixo, assinale aquele que exemplifica o tipo propagandístico de texto.

- (A) Ajude os Médicos sem Fronteira, que fazem o bem sem saber a quem.
- (B) Compre o kit de vinhos franceses pelo preço de vinhos nacionais.
- (C) Adquirindo o pacote de camisas Lacoste, você ganha duas camisas de graça.
- (D) Viver neste condomínio é um privilégio; adquira logo o seu lote.
- (E) Seja assinante do jornal Gazeta do Povo. A verdade a baixo preço.

11

“Um problema só surge quando estão presentes todas as condições para solucioná-lo”.

A maneira adequada de reproduzir esse pensamento, com correção e manutenção do sentido original, é:

- (A) Só um problema surge quando estão presentes todas as condições para solucioná-lo.
- (B) Quando estão presentes todas as condições para solucionar um problema só, é que ele surge.
- (C) Um problema só surge quando estão presentes todas as condições para cuja solução.
- (D) Um problema surge só quando estão presentes todas as condições para a sua solução.
- (E) Quando estão presentes todas as condições para solucioná-lo, é que um problema surge.

12

Assinale a frase abaixo que exemplifica a função conativa da linguagem.

- (A) A sorte favorece a mente bem-preparada.
- (B) Se você acha que tem 50% de chance de sucesso, vá atrás.
- (C) Sucesso é uma palavra à procura de definição pessoal.
- (D) Minha terra tem palmeiras onde cantavam os sabiás.
- (E) A disciplina é a parte mais importante da vida militar.

13

Assinale a frase abaixo que mostra, em sua estrutura, a preocupação com o paralelismo sintático.

- (A) Os turistas decidiram sair pela manhã e voltar à noite.
- (B) Os clientes compraram livros interessantes e de valor cultural.
- (C) Os alunos saíram rapidamente e com desejo de brincar.
- (D) As roupas dos filhos estavam sujas de lama e com rasgos.
- (E) Os participantes correram com ânimo e ficaram cansados.

14

Uma das características de um texto informativo é a sua preocupação com a exatidão dos dados; assinale a frase abaixo que mostra essa preocupação.

- (A) Por volta das 9h todos os convidados já tinham saído.
- (B) Chegaram à empresa cerca de 10 caminhões de carga.
- (C) Muitos dos presentes dados eram de origem estrangeira.
- (D) As eleições tiveram 36% de abstenções.
- (E) Todos foram dormir pouco depois do jogo.

15

Assinale a frase abaixo inteiramente correta em função de todos os aspectos da norma culta.

- (A) O dinheiro é o pé de cabra do poder.
- (B) Aprenda com as massas; depois ensine-as o necessário.
- (C) O ensino à distância é preferível ao presencial.
- (D) Os homens fazem as leis; as mulheres os costumes.
- (E) Perto de 243 passageiros dormiram no aeroporto.

Raciocínio Lógico Matemático

16

Sejam p , q , r e t proposições simples e $\sim p$, $\sim q$, $\sim r$ e $\sim t$, respectivamente, as suas negações. Se as seguintes proposições compostas têm valor lógico falso:

$$p \vee \sim q$$

$$q \wedge \sim r$$

$$r \rightarrow t$$

conclui-se que são logicamente verdadeiras apenas as proposições simples

- (A) p e q .
- (B) p e t .
- (C) q e r .
- (D) p , q e r .
- (E) q , r e t .

17

Em um grupo de alunos que fez provas de Português e de Matemática, 14 foram reprovados em Português, 11 foram reprovados em Matemática, 15 foram aprovados em pelo menos uma dessas duas disciplinas e 13 foram aprovados em apenas uma dessas duas matérias.

Nesse grupo, a quantidade de alunos aprovados em Matemática supera a quantidade de aprovados em Português em

- (A) 3 unidades.
- (B) 4 unidades.
- (C) 5 unidades.
- (D) 6 unidades.
- (E) 7 unidades.

18

Em uma empresa de projetos habitacionais, a equipe é formada por 6 engenheiros, 5 arquitetos e 4 paisagistas.

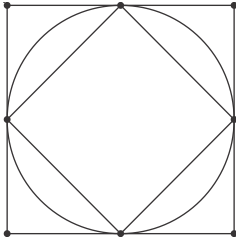
A fim de elaborar um novo projeto, serão escolhidos 4 desses profissionais, de modo que haja pelo menos um de cada habilitação profissional.

A quantidade de diferentes quartetos que podem assumir esse novo projeto é igual a

- (A) 300.
- (B) 420.
- (C) 480.
- (D) 540.
- (E) 720.

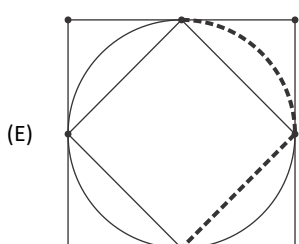
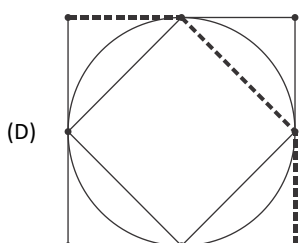
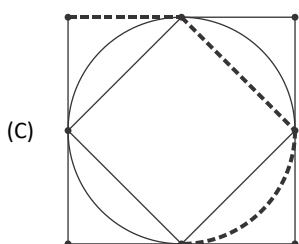
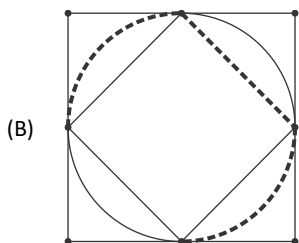
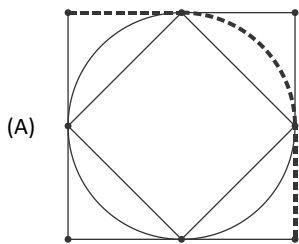
19

A figura a seguir ilustra um quadrado inscrito em uma circunferência que, por sua vez, está inscrita em um outro quadrado, de modo que os vértices do quadrado menor coincidem com os pontos médios dos lados do quadrado maior.



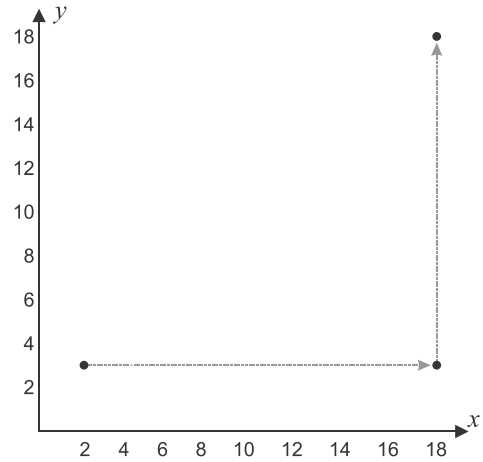
Considere os possíveis percursos sobre essa figura plana formados exclusivamente pela união de segmentos de reta e por arcos dessa circunferência com 90°.

As opções a seguir apresentam, em linha tracejada, cinco desses percursos. Assinale aquela em que o percurso é o menor dos cinco.



20

Uma partícula está imóvel sobre o ponto (2,3) no plano cartesiano quando começa a fazer deslocamentos sucessivos. O 1º desses deslocamentos é de 16 unidades de comprimento (u.c.) no sentido positivo do eixo x, o que faz com que a partícula vá para o ponto (18,3). O 2º movimento é de 15 u.c. no sentido positivo do eixo y, o que faz com que a partícula vá do ponto (18,3) para o ponto (18,18), conforme ilustrado na figura a seguir.



Os deslocamentos vão se sucedendo respeitando as seguintes regras:

- I. o comprimento de cada deslocamento é 1 u.c. menor do que o do deslocamento imediatamente anterior, até que o comprimento seja nulo e a partícula pare;
- II. o sentido de cada deslocamento faz 90° no sentido anti-horário com o sentido do deslocamento imediatamente anterior, isto é

(→ ↑ ← ↓ → ↑ ...)

A distância em linha reta entre o ponto inicial e o ponto final dessa sequência de movimentos é a raiz quadrada de

- (A) 108.
- (B) 113.
- (C) 123.
- (D) 128.
- (E) 133.

21

Roberto tinha certo capital C e aplicou uma parte no banco A e o restante no banco B, durante um mesmo período. Ao fazer os resgates, Roberto constatou que a parte aplicada no banco A rendeu 8%, mas o que foi aplicado no banco B desvalorizou 2%, de modo que a soma dos dois resgates totalizava 102% de C.

A razão entre as quantias aplicadas por Roberto nos bancos A e B, nessa ordem, é

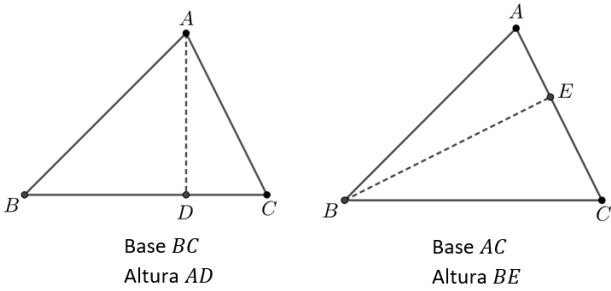
- (A) 2/3.
- (B) 3/4.
- (C) 4/5.
- (D) 5/6.
- (E) 1.

22

A área de qualquer triângulo pode ser calculada pelo semiproduto do comprimento da base (b) pela medida de sua altura (h), isto é:

$$S = \frac{1}{2} \cdot bh$$

Qualquer um dos lados do triângulo pode fazer papel de base. Definida a base, toma-se a altura sempre perpendicular à base, como ilustrado a seguir.



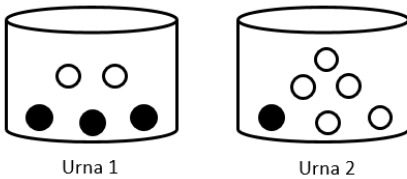
Os valores da base e da altura podem mudar, mas o resultado do produto desses valores permanece igual, já que a área é a mesma.

Se, no triângulo ABC, ilustrado nas imagens acima, o perímetro é 32 cm, BC mede 12 cm e $\frac{AD}{BE} = 0,75$, a medida do lado AB é

- (A) 10 cm.
- (B) 10,5 cm.
- (C) 11 cm.
- (D) 12,5 cm.
- (E) 13 cm.

23

A figura a seguir ilustra duas urnas onde estão depositadas bolas brancas e pretas.



Um dado comum e honesto será lançado. Se o resultado desse lançamento for 1, 2, 3 ou 4, uma bola será sorteada, ao acaso, da Urna 1. Se o resultado do lançamento for 5 ou 6, uma bola será sorteada, ao acaso, da Urna 2.

Nessas condições, após o lançamento aleatório do dado e a subsequente extração ao acaso da bola de uma das urnas, a probabilidade de que essa bola seja preta

- (A) é maior que 55%.
- (B) está entre 45% e 55%.
- (C) está entre 35% e 45%.
- (D) está entre 25% e 35%.
- (E) é menor que 25%.

24

A tabela a seguir apresenta as idades (em anos) de 16 crianças divididas em 4 grupos de 4 alunos.

Grupo 1	6	7	8	9
Grupo 2	7	7	7	9
Grupo 3	6	7	7	8
Grupo 4	5	7	8	8

Com base nessas informações, avalie as afirmações.

- I. A média das idades é maior no Grupo 1 que no Grupo 2.
- II. A mediana das idades é maior no Grupo 1 que no Grupo 3.
- III. O grupo 4 é o que apresenta maior desvio-padrão.

Está correto o que se afirma em

- (A) II, apenas.
- (B) III, apenas.
- (C) I e II, apenas.
- (D) II e III, apenas.
- (E) I, II e III.

25

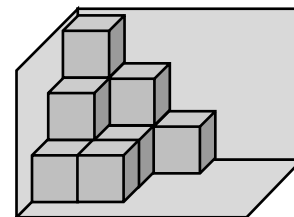
Dois relógios foram simultaneamente acertados às 8h da manhã. Um deles atrasa 1 minuto a cada 6 horas. O outro, adianta 1 minuto a cada 10 horas.

A diferença entre as marcações desses relógios será de 1 minuto

- (A) entre as 11h e as 12h desse mesmo dia.
- (B) entre as 14h e as 15h desse mesmo dia.
- (C) entre as 16h e as 17h desse mesmo dia.
- (D) entre as 18h e as 19h desse mesmo dia.
- (E) no dia seguinte.

26

A figura a seguir é formada pela união de cubos todos idênticos e de volume 2mm^3 cada. Alguns desses cubos estão empilhados sobre outros.



A figura está apoiada sobre um plano horizontal e encostada em dois planos verticais que formam 90° entre si.

O volume dessa figura é

- (A) 16mm^3 .
- (B) 18mm^3 .
- (C) 20mm^3 .
- (D) 22mm^3 .
- (E) 24mm^3 .

27

Henrique tem R\$ 7,00 e pretende, com esse dinheiro, comprar um pacote de macarrão, uma caixa de molho de tomate e uma lata de sardinhas.

Se ele comprasse apenas o pacote de macarrão e a caixa de molho de tomate, restariam R\$ 2,42.

Se ele comprasse apenas o pacote de macarrão e a lata de sardinhas, restariam R\$ 2,12.

Se ele comprasse apenas a lata de sardinhas e a caixa de molho de tomate, restariam R\$ 2,72.

Com base nessas informações, conclui-se que

- (A) não há dinheiro suficiente para Henrique comprar os 3 itens.
- (B) se Henrique comprar os 3 itens, não haverá troco.
- (C) se Henrique comprar os 3 itens, haverá R\$ 0,03 de troco.
- (D) se Henrique comprar os 3 itens, haverá R\$ 0,12 de troco.
- (E) se Henrique comprar os 3 itens, haverá R\$ 0,13 de troco.

28

Dado um conjunto finito de proposições p_1, p_2, \dots, p_n (chamadas premissas) e uma proposição c (chamada conclusão), diz-se que a relação que associa as premissas à conclusão é um argumento.

Um argumento é válido quando a conclusão c é consequência obrigatória do conjunto de premissas.

Considere os seguintes argumentos:

Argumento I

- p_1 : todas as crianças gostam de pizza.
- p_2 : quem gosta de refrigerante gosta de pizza.
- c : todas as crianças gostam de refrigerante.

Argumento II

- p_1 : todas as crianças gostam de pizza.
- p_2 : quem gosta de refrigerante gosta de pizza.
- c : quem gosta de refrigerante é criança.

Argumento III

- p_1 : todas as crianças gostam de pizza.
- p_2 : quem gosta de refrigerante não gosta de pizza.
- c : nenhuma criança gosta de refrigerante.

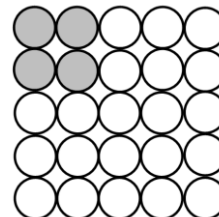
É (são) argumento(s) válido(s)

- (A) I, apenas.
- (B) III, apenas.
- (C) I e II, apenas.
- (D) II e III, apenas.
- (E) I, II e III.

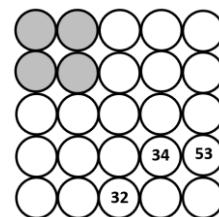
29

A figura ilustra um diagrama composto por 25 células que devem ser preenchidas com números inteiros e positivos de acordo com as seguintes regras:

- 1. Escolha números inteiros e positivos para as 4 células cinza.
- 2. O valor das demais células é dado pela soma das duas células imediatamente acima (se houver) e também das duas células imediatamente à esquerda (se houver).



Considere o diagrama a seguir totalmente preenchido em que alguns dos números foram ocultados.



A soma dos números escolhidos para as 4 células cinzas é igual a

- (A) 11.
- (B) 12.
- (C) 13.
- (D) 14.
- (E) 15.

30

Considere todos os números inteiros, pares e positivos formados por 3 algarismos distintos e consecutivos tais que a soma desses dígitos é 23.

A diferença entre o maior e o menor deles é

- (A) 90.
- (B) 100.
- (C) 198.
- (D) 270.
- (E) 288.

Conhecimentos Bancários

31

Sobre o sistema financeiro nacional, analise as afirmativas a seguir.

- I. Mercado monetário é o mercado que fornece moeda à economia, com transferências de recursos a curtíssimo prazo, como as realizadas entre as próprias instituições financeiras ou entre elas e o Banco Central do Brasil (BCB).
- II. Mercado de crédito é o mercado que fornece recursos para o consumo das pessoas em geral e para o funcionamento das empresas, em operações predominantemente de curto e médio prazos.
- III. Mercado de câmbio é o mercado em que são negociadas as trocas de moedas estrangeiras por moeda nacional, com a participação dos agentes econômicos que têm recebimentos ou pagamentos a realizar em moeda estrangeira, das instituições autorizadas a operar em câmbio e do Banco Central do Brasil (BCB).

Está correto o que se afirma em

- (A) I, apenas.
- (B) I e II, apenas.
- (C) I e III, apenas.
- (D) II e III, apenas.
- (E) I, II e III.

32

Sobre o sistema financeiro nacional, marque V para afirmativa verdadeira e F para a falsa.

- () Quando o Banestes faz um empréstimo, o dinheiro recebido pelo cliente não tem destinação obrigatória.
- () Nas operações de *leasing* (arrendamento mercantil), a regulamentação do Banco Central do Brasil (BCB) estabelece um prazo mínimo de duração do *leasing* operacional maior que do *leasing* financeiro.
- () Quando o Banestes participa do processo de colocação no mercado de uma debênture, o Banestes não tem responsabilidade pelo pagamento dos juros e do principal, que é da emissora dessa debênture.

As afirmativas são, respectivamente,

- (A) F, F e F.
- (B) F, F e V.
- (C) V, F e V.
- (D) V, F e F.
- (E) V, V e V.

33

Assinale qual dos agrupamentos de “carteiras” que compõem as instituições do conglomerado Banestes não atenderia aos requisitos necessários para o Banestes ser considerado um “banco múltiplo” pela regulamentação do Banco Central do Brasil (BCB).

- (A) Comercial; de investimento; de crédito imobiliário; de arrendamento mercantil.
- (B) Comercial; de crédito, financiamento e investimento; de arrendamento mercantil; distribuidora de títulos e valores mobiliários.
- (C) De investimento; de crédito, financiamento e investimento; de crédito imobiliário; de arrendamento mercantil.
- (D) De crédito, financiamento e investimento; de crédito imobiliário; de arrendamento mercantil; distribuidora de títulos e valores mobiliários.
- (E) De investimento; de crédito imobiliário; de arrendamento mercantil; distribuidora de títulos e valores mobiliários.

34

Sobre o sistema financeiro nacional e o mercado bancário, assinale a afirmativa correta.

- (A) A carteira de desenvolvimento é exclusiva para bancos públicos.
- (B) Os depósitos em cooperativas de crédito têm a proteção do Fundo Garantidor de Crédito (FGC).
- (C) As agências de fomento nunca podem prestar assistência a programas e projetos desenvolvidos em estado limítrofe ao da unidade da Federação onde estiver sediada.
- (D) As corretoras de câmbio realizam financiamentos a exportações e importações, além de adiantamentos sobre contratos de câmbio.
- (E) O Conselho Nacional de Previdência Complementar (CNPc) é o órgão normativo superior sob o qual operam as entidades abertas de previdência.

35

Em relação ao sistema financeiro nacional, assinale a afirmativa correta.

- (A) As sociedades de arrendamento mercantil podem fazer colocação de debêntures de emissão pública ou particular e de notas promissórias destinadas à oferta pública.
- (B) As sociedades de crédito financiamento e investimento podem captar recursos por meio de depósitos à vista de seus clientes em contas corrente, letras de câmbio, RDB (recibos de depósitos bancários), DI (depósitos interfinanceiros).
- (C) As agências de fomento podem captar recursos junto ao público.
- (D) As sociedades de crédito ao microempreendedor e à empresa de pequeno porte não podem receber repasses de fundos oficiais.
- (E) As companhias hipotecárias podem captar depósitos de poupança para a concessão de financiamentos imobiliários residenciais ou comerciais.

36

Em matéria de sistema financeiro nacional, analise as afirmativas a seguir.

- I. Caixas econômicas são empresas públicas que exercem atividades típicas de banco comercial, com prioridade institucional para concessão de empréstimos e financiamentos de programas e projetos de natureza social
- II. A principal diferença entre as corretoras de títulos e de valores mobiliários e as distribuidoras de títulos e de valores mobiliários é que só as corretoras podem operar diretamente nos ambientes e sistemas de negociação dos mercados organizados de bolsa de valores.
- III. As corretoras de câmbio atuam, exclusivamente, no mercado de câmbio.

Está correto o que se afirma em

- (A) II, apenas.
- (B) I e II, apenas.
- (C) I e III, apenas.
- (D) II e III, apenas.
- (E) I, II e III.

37

Sobre o Conselho Monetário Nacional (CMN), assinale a afirmativa correta.

- (A) Um objetivo do CMN é estimular o desenvolvimento dos mercados de seguros.
- (B) Compete ao CMN coordenar as políticas monetária, creditícia, orçamentária e da dívida pública interna e externa.
- (C) Não pode acontecer mais de uma reunião do CMN por mês.
- (D) O CMN é presidido pelo presidente do Banco Central do Brasil (BCB).
- (E) É no CMN que se decidem as normas principais para o funcionamento das instituições financeiras e das entidades fechadas de previdência complementar.

38

Acerca do Comitê de Política Monetária (Copom), assinale a afirmativa correta.

- (A) É no Copom que se define a meta para a inflação.
- (B) Os membros do Copom são o Presidente do Banco Central do Brasil e todos os seus diretores.
- (C) O regulamento do Copom estabelece que a deliberação tem de se dar por unanimidade dos votos.
- (D) Não se divulga qual foi o voto de cada membro do Copom.
- (E) Após a divulgação da decisão do Copom, as operações no sistema financeiro nacional têm de ser realizadas obrigatoriamente com base nas taxas de juros definidas pelo Copom.

39

Em relação ao Banco Central do Brasil (BCB), assinale (V) para a afirmativa verdadeira e (F) para a falsa.

- () O BCB adota o sistema de metas para inflação para tentar manter a inflação dentro de limites pré-estabelecidos.
- () Não há exigência de autorização do BCB para o Banestes oferecer produtos e serviços financeiros regulados, devendo ser observado o objeto social do Banestes.
- () A supervisão de conduta do BCB não abrange o risco de reputação do Banestes.

As afirmativas são, respectivamente,

- (A) F, F e F.
- (B) F, V e V.
- (C) V, V e F.
- (D) V, F e F.
- (E) V, V e V.

40

Sobre o Banco Central do Brasil (BCB), analise as afirmativas a seguir.

- I. Não há prazo máximo para decisão do BCB relativa à autorização para funcionamento de uma nova carteira que o Banestes queira operar.
- II. Faz parte da supervisão de conduta do BCB a verificação da adequação do Banestes em relação à prevenção à lavagem de dinheiro e ao financiamento do terrorismo (PLD/FT).
- III. Somente após o BCB decretar a intervenção ou a liquidação extrajudicial, ou reconhecer o estado de insolvência da instituição associada ao FGC (Fundo Garantidor de Crédito), é que os depositantes podem requisitar a garantia.

Está correto o que se afirma em

- (A) III, apenas.
- (B) I e II, apenas.
- (C) I e III, apenas.
- (D) II e III, apenas.
- (E) I, II e III.

41

Em relação à Comissão de Valores Mobiliários (CVM), analise as afirmativas a seguir.

- I. A CVM é uma entidade autárquica em regime especial, vinculada ao Ministério da Fazenda.
- II. No caso de Fundos de Investimentos, tanto o administrador quanto o gestor do fundo devem estar credenciados junto à CVM.
- III. Em função dos requisitos de sigilo fiscal, a CVM somente pode encaminhar indícios de ilícito fiscal à Secretaria da Receita Federal após instaurado processo judicial.

Está correto o que se afirma em

- (A) I, apenas.
- (B) II, apenas.
- (C) III, apenas.
- (D) I e II, apenas.
- (E) I, II e III.

42

Sobre a Comissão de Valores Mobiliários (CVM), assinale V para afirmativa verdadeira e F para a falsa.

- () A CVM não tem estabelecidos prazos máximos para decisão de autorização de funcionamento de novas instituições sob sua regulação.
- () As corretoras e as distribuidoras de títulos e valores mobiliários são de supervisão exclusiva da CVM.
- () As plataformas eletrônicas de investimento participativo (*Crowdfunding* de investimento) são reguladas pela CVM.

As afirmativas são, respectivamente,

- (A) F, F e F.
- (B) F, F e V.
- (C) V, F e V.
- (D) V, F e F.
- (E) V, V e V.

43

Tendo por base as previsões do Guia de Conduta Ética do Banestes, assinale a afirmativa correta.

- (A) Com base no princípio de “objeção de consciência por motivo de crença religiosa” reconhecido pelo STF (Supremo Tribunal Federal), o funcionário do Banestes pode abster-se de atender a clientes de religiões que considera ofensivas à que professa.
- (B) A necessidade de o funcionário do Banestes assegurar a privacidade das informações pessoais do consumidor cessa quando o consumidor deixar de ser cliente.
- (C) Em qualquer situação, o funcionário do Banestes deve deixar claro que as contribuições científicas ou acadêmicas que fizer são realizadas em seu próprio nome e não representam posicionamento institucional.
- (D) A responsabilidade de o funcionário do Banestes observar, divulgar e propagar as diretrizes do Guia de Conduta Ética não aumenta quanto mais elevado for o cargo ou função que ocupa.
- (E) O funcionário do Banestes não tem a previsão de priorizar a utilização dos produtos e serviços do Banestes.

44

Tendo por base as previsões do Guia de Conduta Ética do Banestes, analise os itens a seguir.

- I. O funcionário do Banestes tem o dever de avaliar a conformidade dos normativos internos com os normativos externos e buscar soluções para a atualização e adequação, caso necessário.
- II. Toda guarda de bens do Banestes para utilização fora do local de trabalho pelo funcionário do Banestes é considerada “para fins particulares”.
- III. O funcionário do Banestes deve se comprometer e colaborar com a atividade de investigação ou fiscalização de órgãos, entidades ou agentes públicos ou privados, ou no âmbito das agências reguladoras e dos órgãos de fiscalização do SFN (Sistema Financeiro Nacional).

Está correto o que se afirma em

- (A) I, apenas.
- (B) I e II, apenas.
- (C) I e III, apenas.
- (D) II e III, apenas.
- (E) I, II e III.

45

Em relação à prevenção do uso do Sistema Financeiro para atos ilícitos, em conformidade com a Lei nº 9.613/1998, assinale a afirmativa correta.

- (A) Na forma da Lei nº 9.613/1998, o Banestes tem de efetivar o registro de transações que ultrapassem os limites fixados pela autoridade competente, inclusive quando esse limite somente é alcançado pela soma de diversas transações do cliente com uma mesma pessoa, conglomerado ou grupo.
- (B) A Banestes Distribuidora de Títulos e Valores Mobiliários não se inclui entre as pessoas jurídicas que precisam fazer comunicações referentes a transações que ultrapassem os limites fixados pela autoridade competente estabelecidas na Lei nº 9.613/1998.
- (C) Os cadastros de clientes do Banestes requeridos pela Lei nº 9.613/1998 terão de ser eliminados imediatamente quando houver encerramento da conta desses clientes no Banestes.
- (D) O Conselho de Controle de Atividades Financeiras (Coaf), atual Unidade de Inteligência Financeira (UIF), somente pode comunicar indícios de crimes de “lavagem” ou ocultação de valores às autoridades competentes após a existência de processo judicial.
- (E) Somente se tiver autorização judicial é que o Conselho de Controle de Atividades Financeiras (Coaf), atual Unidade de Inteligência Financeira (UIF) pode requerer aos órgãos da Administração Pública as informações cadastrais bancárias e financeiras de pessoas envolvidas em atividades suspeitas.

46

Em relação à prevenção da utilização do Sistema Financeiro para os atos ilícitos, em conformidade com a Lei nº 9.613/1998, assinale (V) para afirmativa verdadeira e (F) para a falsa.

- () A identificação de clientes do Banestes, quando se tratar de pessoa jurídica, deverá abranger as pessoas físicas autorizadas a representá-la, bem como seus proprietários.
- () O Banestes fica desobrigado de fazer comunicações, na periodicidade estabelecida pelo órgão competente, quando não ocorrerem propostas, transações ou operações passíveis de serem comunicadas.
- () Uma pessoa condenada por crimes de “lavagem” ou ocultação de valores fica interdita para o exercício de cargo de diretor, de membro de conselho de administração ou de gerência do Banestes pelo dobro do tempo da pena privativa de liberdade aplicada.

As afirmativas são, respectivamente,

- (A) F, F e F.
- (B) F, F e V.
- (C) V, F e F.
- (D) V, F e V.
- (E) V, V e V.

47

Em relação à ruptura digital no SFN (Sistema Financeiro Nacional) promovida pelo PIX; pelos criptoativos, CBDC (*Central Bank Digital Currency* – moeda digital de banco central) e outras moedas digitais, e a Lei nº 14.478/2022 (“Lei de Criptoativos”), assinale (V) para a afirmativa verdadeira e (F) para a falsa.

- () Todas as transações de “PIX Saque” e de “PIX Troco” podem ser cobradas das pessoas físicas.
- () À semelhança das criptomoedas privadas de emissão descentralizada, como o Bitcoin, a CBDC não tem garantia de valor em relação à moeda soberana de um país.
- () A Lei nº 14.478/2022 (“Lei de Criptoativos”) estabelece que o Código de Defesa do Consumidor não é aplicado às atividades ou operações com criptoativos.

As afirmativas são, respectivamente,

- (A) F, F e F.
- (B) V, V e F.
- (C) V, F e V.
- (D) F, V e V.
- (E) V, V e V.

48

Em matéria de ruptura digital no setor bancário e financeiro promovida pelo “*Open Finance*” (sistema financeiro aberto), assinale a afirmativa correta.

- (A) Somente as instituições financeiras e demais instituições autorizadas a funcionar pelo Banco Central do Brasil (BCB) podem participar do “*Open Finance*”.
- (B) No “*Open Finance*”, o compartilhamento de dados e serviços se inicia com a solicitação do cliente à instituição participante que vai ceder os dados (instituição de origem dos dados).
- (C) No “*Open Finance*”, se as finalidades ou os dados ou serviços que são objeto de compartilhamento forem alterados, não haverá a necessidade de novo consentimento do cliente.
- (D) No “*Open Finance*”, o cliente tem a opção de definir o compartilhamento de dados sem prazo de término.
- (E) A Lei do Sigilo Bancário não se aplica à troca de informações no “*Open Finance*”.

49

Em tema de ruptura digital no SFN (Sistema Financeiro Nacional) promovida pelas *Fintechs* de crédito SCD (Sociedades de Crédito Direto) e SEP (Sociedades de Empréstimo entre Pessoas), assinale (V) para a afirmativa verdadeira e (F) para a falsa.

- () As SCD e as SEP têm por objeto a realização de operações exclusivamente por meio de plataforma eletrônica.
- () As SCD podem obter recursos para concessão de créditos em operações de repasses e de empréstimos originários do BNDES (Banco Nacional de Desenvolvimento Econômico e Social).
- () As SCD e as SEP não podem atuar como iniciadoras de transação de pagamento.

As afirmativas são, respectivamente,

- (A) F, F e F.
- (B) F, F e V.
- (C) V, F e V.
- (D) V, V e F.
- (E) V, V e V.

50

Em relação à ruptura digital no SFN (Sistema Financeiro Nacional) promovida pelas IPs (Instituições de Pagamento), assinale a afirmativa correta.

- (A) É possível a constituição de IP na qual figure pessoa natural como sócio único.
- (B) Todas as IPs devem solicitar autorização ao Banco Central do Brasil (BCB) para iniciar a prestação de serviços.
- (C) No curso das transações de iniciação de pagamentos por IPs, é vedado alterar o montante ou qualquer outro elemento da transação de pagamento autorizada pelo usuário final.
- (D) Para a realização de pagamentos por intermédio de IPs, é indispensável o relacionamento do cidadão com bancos e outras instituições financeiras.
- (E) Uma mesma IP não pode atuar em mais de uma modalidade de IP.

Conhecimentos Específicos

51

Os empréstimos e os financiamentos são produtos destinados ao amparo creditício de indivíduos que precisam de recursos financeiros.

Assinale a opção que indica, respectivamente, exemplos de operações relacionadas a empréstimo e a financiamento.

- (A) Consórcio; emissão de ações.
- (B) Uso de cartão de débito; consórcio.
- (C) Uso de cartão de débito; compra de carro.
- (D) Operação de capital de giro; compra de máquina.
- (E) Operação de capital de giro; emissão de ações.

52

As instituições financeiras e demais instituições autorizadas a funcionar pelo Banco Central do Brasil devem classificar as operações de crédito. A classificação da operação no nível de risco correspondente é de responsabilidade da instituição detentora do crédito e deve ser efetuada com base em critérios consistentes e verificáveis, amparada por informações internas e externas, contemplando aspectos em relação ao devedor e seus garantidores e em relação à operação.

Assinale a opção que indica apenas aspectos relacionados à operação.

- (A) Capacidade de geração de resultados e fluxo de caixa.
- (B) Contingências e administração e qualidade de controles.
- (C) Limite de crédito e pontualidade e atrasos nos pagamentos.
- (D) Situação econômico-financeira e natureza e finalidade da transação.
- (E) Valor e características das garantias, particularmente quanto a suficiência e liquidez.

53

Avalie se devem ser divulgadas em nota explicativa às demonstrações contábeis, informações detalhadas sobre a composição da carteira de operações de crédito, observado, no mínimo:

- I. distribuição das operações, segregadas por tipo de cliente e atividade econômica;
- II. distribuição por faixa de vencimento;
- III. montantes de operações renegociadas, lançados contra prejuízo, e de operações recuperadas, no exercício.

Está correto o que se afirma em

- (A) I, somente.
- (B) I e II, somente.
- (C) I e III, somente.
- (D) II e III, somente.
- (E) I, II e III.

54

Nas operações de derivativos, atuam três figuras distintas, que são caracterizados por seus propósitos.

Relacione as figuras a seguir com os seus respectivos propósitos.

1. Hedger
 2. Especulador
 3. Arbitrador
- () atua em diversos mercados, buscando distorções nos preços, com o objetivo de lucrar com base em distorções observadas, sem correr riscos de oscilações.
- () assume os riscos em um contrato de derivativos com intuito de obter lucros nas variações mercadológicas.
- () intenciona se proteger nas variações de preços e para isso formaliza contratos com o intuito de travar o preço futuro.

Assinale a opção que mostra a relação correta, na ordem apresentada.

- (A) 1 – 2 – 3.
- (B) 2 – 3 – 1.
- (C) 2 – 1 – 3.
- (D) 3 – 1 – 2.
- (E) 3 – 2 – 1.

55

Os instrumentos financeiros derivativos destinados a *hedge* e os respectivos itens objeto de *hedge* devem ser ajustados ao valor de mercado, no mínimo, por ocasião dos balancetes mensais e balanços.

Nos instrumentos classificados como *hedge* de risco de mercado, a valorização ou a desvalorização deve ser registrada em contrapartida à adequada conta de, respectivamente,

- (A) Ganho e perda.
- (B) Receita e Despesa.
- (C) Receita e Retificadora de receita.
- (D) Receita e Patrimônio Líquido.
- (E) Patrimônio Líquido e Despesa.

56

O Acordo de Basileia II adequou o capital regulatório a três pilares, sendo o primeiro à exigência mínima de capital.

Em relação ao que foi determinado no Acordo de Basileia I, a apuração de necessidade passou a considerar, em Basileia II, também os riscos

- (A) de caixa.
- (B) de crédito.
- (C) financeiros.
- (D) operacionais.
- (E) de inadimplência.

57

Entre os principais pontos introduzidos pelo Acordo Basileia III, está a criação de *buffers* de capital. Essas reservas são segmentadas em duas partes, a de conservação e a contracíclica.

Assinale a opção que indica uma diferença entre os *buffers* de conservação e contracíclicos.

- (A) Os de conservação devem ser neutros, enquanto os contracíclicos devem ser conservadores.
- (B) Os de conservação são destinados ao curto prazo, enquanto os contracíclicos são utilizados no longo prazo.
- (C) Os de conservação devem ser constituídos em momentos favoráveis, enquanto os contracíclicos devem ser constituídos em ocasiões em que se observa uma expansão do crédito.
- (D) Os de conservação são vinculados a aplicações financeiras, enquanto os contracíclicos são relacionadas a empréstimos e financiamentos.
- (E) Os de conservação relacionam-se ao passivo, enquanto os contracíclicos relacionam-se ao patrimônio líquido.

58

Em relação à elaboração e à divulgação das demonstrações contábeis em bancos, estão corretas as afirmações a seguir, **à exceção de uma**. Assinale-a.

- (A) A instituição deve observar que ativos e passivos, receitas e despesas devem ser reconhecidos segundo o regime de caixa na elaboração das demonstrações contábeis.
- (B) A instituição deve apresentar separadamente cada classe relevante de itens similares, evidenciando de forma segregada os itens de natureza ou função diferente, exceto se não forem relevantes.
- (C) A instituição deve pressupor a continuidade das suas atividades no futuro previsível, a menos que a administração tenha intenção de liquidar a instituição ou cessar seus negócios, ou não possua alternativa realista senão a sua descontinuação.
- (D) A instituição deve divulgar informações comparativas em relação a período anterior para todos os valores apresentados nas demonstrações financeiras do período corrente, assim como para as informações narrativas e descritivas que vierem a ser apresentadas, se for relevante para a compreensão do conjunto das demonstrações.
- (E) A instituição deve manter consistência na apresentação e classificação dos diversos itens nas demonstrações financeiras de um período para outro, exceto se houver determinação distinta em norma emanada do Conselho Monetário Nacional ou do Banco Central do Brasil, ou se uma mudança na apresentação ou classificação representar informação confiável e mais relevante para o usuário.

59

Os bancos devem divulgar suas demonstrações contábeis na Central de Demonstrações Financeiras do Sistema Financeiro Nacional, no endereço eletrônico oficial do Banco Central do Brasil na internet.

Com relação às demonstrações financeiras intermediárias, fica facultada a divulgação

- (A) das notas explicativas.
- (B) do relatório da administração.
- (C) do relatório da auditoria independente.
- (D) das informações comparativas em relação ao período anterior.
- (E) da opinião do auditor independente em relação às demonstrações financeiras.

60

A Resolução Bacen nº 4818/2020 especifica as demonstrações contábeis que devem ser elaboradas e divulgadas pelos bancos.

Assinale a opção que indica a demonstração contábil que os bancos constituídos sob a forma de companhia de capital fechado e com patrimônio líquido inferior a R\$ 2.000.000,00 na data-base de 31 de dezembro do exercício imediatamente anterior, estão dispensados de elaborar e divulgar.

- (A) Balanço Patrimonial.
- (B) Demonstração do Resultado.
- (C) Demonstração dos Fluxos de Caixa.
- (D) Demonstração do Resultado Abrangente.
- (E) Demonstração das Mutações do Patrimônio Líquido.

61

Em 01/11/X0, uma entidade adquiriu computadores para usar em seus negócios por R\$60.000. O valor foi pago em dezembro do mesmo ano. No dia da aquisição, a entidade estimou usar os computadores durante 5 anos e depreciá-los de acordo com o método da linha reta.

Assinale a opção que indica as variações nos elementos patrimoniais da entidade em 01/11/X0.

- (A) Aumento de R\$60.000 no ativo e aumento de R\$60.000 no passivo.
- (B) Aumento de R\$60.000 no passivo e aumento de R\$60.000 no patrimônio líquido.
- (C) Aumento de R\$60.000 no ativo e aumento de R\$60.000 no patrimônio líquido.
- (D) Aumento de R\$59.000 no passivo e aumento de R\$59.000 no patrimônio líquido.
- (E) Aumento de R\$59.000 no ativo, aumento de R\$60.000 no passivo e diminuição de R\$1.000 no patrimônio líquido.

62

Em janeiro de X0, uma loja de roupas reconheceu receita de vendas de R\$500.000.

O recebimento do montante aconteceu do seguinte modo:

- 30% à vista
- 50% a prazo, com recebimento previsto para fevereiro.
- 20% a prazo, com recebimento previsto para março.

O custo das mercadorias vendidas relacionado à venda foi de R\$200.000. Além disso, a loja estimava um percentual de inadimplência de 2%.

Assinale a opção que indica o montante contabilizado como "Despesa com perdas estimadas com crédito de liquidação duvidosa" da loja em 31/01/X0.

- (A) R\$4.200.
- (B) R\$5.000.
- (C) R\$6.000.
- (D) R\$7.000.
- (E) R\$10.000.

63

Assinale a opção que indica um ativo imobilizado que, de forma geral, não é depreciado.

- (A) Marca.
- (B) Edifício.
- (C) Terreno.
- (D) Máquina.
- (E) Direitos autorais.

64

Uma entidade apresentava os seguintes saldos em seu balanço patrimonial em 31/12/X0:

Fornecedores com pagamento em 120 dias: R\$5.000;
Financiamento com pagamento em 720 dias: R\$21.000;
Empréstimo de sócio com pagamento em 90 dias: R\$12.000;
Despesas antecipadas com realização em 60 dias: R\$8.000.

Assinale a opção que indica o saldo do passivo circulante da entidade em 31/12/X0.

- (A) R\$5.000.
- (B) R\$13.000.
- (C) R\$17.000.
- (D) R\$20.000.
- (E) R\$25.000.

65

No balanço patrimonial de uma entidade, um ativo contingente

- (A) é reconhecido no ativo circulante, uma vez que tem expectativa de realização no curto prazo.
- (B) é reconhecido no ativo realizável a longo prazo, uma vez que tem prazo de realização incerto.
- (C) pode ser reconhecido no ativo circulante ou no ativo realizável a longo prazo, de acordo com o prazo esperado de realização.
- (D) não é reconhecido, uma vez que o seu valor não pode ser estimado com segurança.
- (E) não é reconhecido, uma vez que pode tratar-se de resultado que nunca venha a ser realizado.

66

Uma loja vende bicicletas elétricas com garantia de dois anos. A entidade estima que se forem detectados defeitos maiores em todas as bicicletas, ela irá incorrer em custos de reparação de R\$180.000. Se forem detectados defeitos menores em todas as bicicletas, a entidade deverá incorrer em custos de reparação de R\$100.000.

Em janeiro de X0, a loja vendeu 50 bicicletas por R\$6.000 cada. No mês, foi estimado que, dessas 50, 10 apresentariam defeitos maiores e 25, defeitos menores.

Assinale a opção que indica a provisão para garantia contabilizada pela loja em janeiro de X0, relacionada à venda das 50 bicicletas.

- (A) R\$70.000.
- (B) R\$86.000.
- (C) R\$126.000.
- (D) R\$210.000.
- (E) R\$280.000.

67

Em 31/12/X0, uma sociedade empresária apresentava os seguintes saldos em seu balanço patrimonial: Ativo Circulante: R\$50.000; Ativo Realizável a Longo Prazo: R\$30.000; Ativo Imobilizado: R\$80.000; Ativo Intangível: R\$20.000; Passivo Circulante: R\$25.000; Passivo não Circulante: R\$45.000; Patrimônio Líquido: R\$110.000.

Em relação à situação contábil da sociedade empresária em 31/12/X0, é correto afirmar que

- (A) os ativos não circulantes são de R\$30.000.
- (B) os imóveis destinados à valorização são de R\$80.000.
- (C) os ativos que podem ser avaliados a valor de mercado são de R\$20.000.
- (D) o saldo das obrigações com terceiros é de R\$70.000.
- (E) o resultado é positivo, ou seja, há reconhecimento de lucro.

68

Uma sociedade empresária que atua na compra e venda de mercadorias apresentou os seguintes saldos em sua Demonstração do Resultado do Exercício no ano de X0:

Receita bruta de vendas: R\$250.000; devolução de vendas: R\$20.000; custo das mercadorias vendidas: R\$100.000; despesa de depreciação: R\$25.000; despesa de salários: R\$30.000; despesa de juros: R\$15.000; despesa de aluguel: R\$24.000.

Assinale a opção que indica o resultado bruto da sociedade empresária em 31/12/X0.

- (A) R\$36.000.
- (B) R\$51.000.
- (C) R\$130.000.
- (D) R\$150.000.
- (E) R\$230.000.

69

Avalie se as empresas devem apresentar as mutações do patrimônio líquido reconhecidas em cada exercício que não representem transações entre a empresa e seus sócios, nas seguintes demonstrações contábeis:

- I. Balanço Patrimonial.
- II. Demonstração do Resultado do Exercício.
- III. Demonstração do Resultado Abrangente.

Está correto o indicado em

- (A) I, apenas.
- (B) I e II, apenas.
- (C) II e III, apenas.
- (D) I e III, apenas.
- (E) I, I e III.

70

A Lei nº 6.404/76 foi alterada pela Lei nº 11.638/07.

Assinale a opção que indica uma alteração trazida pela Lei nº 11.638/07 em relação *apenas* às companhias abertas.

- (A) Elaboração da Demonstração dos Fluxos de Caixa.
- (B) Elaboração da Demonstração do Valor Adicionado.
- (C) Extinção da Demonstração das Origens e Aplicações de Recursos.
- (D) Publicação das demonstrações de cada exercício com a indicação dos valores correspondentes das demonstrações do exercício anterior.
- (E) Registro da destinação dos lucros segundo a proposta dos órgãos da administração, no pressuposto de sua aprovação pela assembleia-geral.

71

No ano de X0, uma sociedade empresária reconheceu os seguintes fatos em sua Demonstração das Mutações do Patrimônio Líquido:

- Reconhecimento do lucro do período: R\$800.000.
- Reconhecimento de dividendos declarados: R\$400.000.
- Reconhecimento de juros sobre o capital próprio: R\$100.000.
- Integralização de capital social com a utilização de reserva: R\$200.000.
- Incorrência de gastos na emissão de ações: R\$50.000.

Com base nesses fatos, no ano de X0, o patrimônio líquido da sociedade empresária apresentou o seguinte aumento:

- (A) R\$250.000.
- (B) R\$300.000.
- (C) R\$400.000.
- (D) R\$450.000.
- (E) R\$500.000.

72

Uma sociedade empresária apresentava o seguinte balanço patrimonial em 31/12/X0:

Ativo Circulante		Patrimônio Líquido	
Disponibilidades	100.000	Capital Social	100.000
Total do Ativo	100.000	Total do PL	100.000

Em janeiro de X1, aconteceram os seguintes fatos, em ordem cronológica:

- Compra à vista de estoque: R\$50.000.
- Pagamento de aluguel antecipado de um ano: R\$24.000.
- Contração de empréstimo bancário: R\$80.000.
- Venda à vista de estoque: R\$120.000.
- Reconhecimento da despesa de salários para pagamento no mês seguinte: R\$10.000.
- Reconhecimento e pagamento de despesas diversas: R\$15.000.

Assinale a opção que indica o caixa gerado pela atividade operacional e contabilizado na Demonstração dos Fluxos de Caixa da sociedade empresária em 31/01/X1.

- (A) R\$31.000.
 (B) R\$45.000.
 (C) R\$55.000.
 (D) R\$101.000.
 (E) R\$111.000.

73

A Demonstração do Valor Adicionado proporciona aos usuários das demonstrações contábeis informações relativas à riqueza criada pela entidade em determinado período e a forma como tais riquezas foram distribuídas.

Nessa demonstração, são exemplos de remuneração de capitais de terceiros:

- (A) despesas de juros e de aluguel.
 (B) distribuição de dividendos e reconhecimento de juros sobre capital próprio.
 (C) despesas de depreciação de ativo imobilizado e originadas em capital intelectual.
 (D) despesa de salários de empregados e baixa de ativo imobilizado vendido.
 (E) despesas de honorários de empregados terceirizados e de amortização de direitos autorais.

74

As notas explicativas devem

- (A) incluir a opinião do administrador da entidade sobre as demonstrações contábeis.
 (B) incluir a opinião do auditor independente sobre as demonstrações contábeis.
 (C) repetir as principais informações apresentadas nas demonstrações contábeis e que são consideradas essenciais para a sua compreensão.
 (D) evitar apresentar as informações de modo sistemático, considerando os efeitos sobre a tempestividade das suas demonstrações contábeis.
 (E) prover informação adicional que não tenha sido apresentada nas demonstrações contábeis, mas que seja relevante para sua compreensão.

75

Uma sociedade empresária apresentava o seguinte Balanço Patrimonial em 31/12/X0:

Ativo Circulante		Passivo Circulante	
Disponibilidades	20.000	Fornecedores	13.000
Estoques	5.000	Passivo não Circulante	
Ativo Realizável a Longo Prazo		Empréstimos	7.000
Clientes	15.000	Patrimônio Líquido	
Ativo Imobilizado		Capital Social	50.000
Terrenos	30.000		
Total do Ativo	70.000	Total do PL	70.000

Assinale a opção que indica a liquidez geral da sociedade empresária em 31/12/X0.

- (A) 1,54
 (B) 1,75
 (C) 1,92
 (D) 2,00
 (E) 3,50

76

Um analista deseja verificar qual é a porcentagem do ativo total da entidade financiada por capital próprio.

Assinale a opção que apresenta o indicador a ser analisado e a demonstração contábil em que deve ser feita a análise.

- (A) Endividamento geral; Balanço Patrimonial.
 (B) Retorno sobre o Ativo; Balanço Patrimonial.
 (C) Retorno sobre o Patrimônio Líquido; Balanço Patrimonial.
 (D) Endividamento geral; Demonstração do Resultado do Exercício.
 (E) Retorno sobre o Patrimônio Líquido; Demonstração do Resultado do Exercício.

77

Em uma combinação de negócios, uma das entidades envolvidas deve ser identificada como o adquirente. O adquirente deve identificar a data de aquisição.

A data de aquisição corresponde à data em que

- (A) a negociação é concluída.
 (B) o controle da adquirida é obtido.
 (C) o montante envolvido na combinação é transferido.
 (D) a transferência dos ativos e dos passivos da adquirida é realizada.
 (E) o contrato relacionado à combinação é celebrado pelas partes envolvidas.

78

A Cia X é controladora integral da Cia Y e da Cia Z.

Assinale a opção que traz apenas exemplos de situações independentes de incorporação reversa.

- (A) A Cia Y incorpora a Cia Z; a Cia Y incorpora a Cia X.
 (B) A Cia X incorpora a Cia Y; a Cia X incorpora a Cia Z.
 (C) A Cia Z incorpora a Cia Y; a Cia Z incorpora a Cia X.
 (D) A Cia Y incorpora a Cia Z; a Cia Z incorpora a Cia Y.
 (E) A Cia Z incorpora a Cia X; a Cia Y incorpora a Cia X.

79

As Cias A e B apresentavam os seguintes balanços patrimoniais em 31/12/X0:

	Cia A	Cia B
Ativo Circulante		
Caixa	100.000	10.000
Ativo Imobilizado		
Terreno		20.000
Total do Ativo	100.000	30.000
Patrimônio Líquido		
Capital Social	100.000	30.000
Total do PL	100.000	30.000

Em 01/01/X1, a Cia A adquiriu 100% da Cia B, que pertencia a terceiros, por R\$40.000 à vista. Na data, o valor justo do terreno era de R\$25.000.

Em relação aos saldos do balanço patrimonial consolidado, após a aquisição, analise as afirmações a seguir:

- I. O caixa é de R\$110.000.
- II. O investimento é de R\$30.000.
- III. O terreno é de R\$25.000.
- IV. O *goodwill* é de R\$5.000.
- V. O capital social é de R\$130.000.

Está correto o que se afirma em

- (A) II e V, apenas.
- (B) III e IV, apenas.
- (C) I, II e III, apenas.
- (D) III, IV e V, apenas.
- (E) I, II e IV, apenas.

80

Em 01/12/X0, uma sociedade empresária adquiriu mercadoria no exterior por US\$10.000 para pagamento em 10/02/X1. Na data, a cotação do dólar era de R\$5,00. No fechamento do exercício social, em 31/12/X0, a cotação do dólar era de R\$5,20. Já a cotação média do dólar no ano de X0 foi de R\$5,10. Ainda, foi estimado que a cotação em 10/02/X1 seria de R\$5,30.

Assinale a opção que indica o saldo da conta "fornecedores" contabilizado no Balanço Patrimonial da sociedade empresária em 31/12/X0, considerando que houve apenas essa transação a prazo.

- (A) R\$50.000.
- (B) R\$50.500.
- (C) R\$51.000.
- (D) R\$52.000.
- (E) R\$53.000.

Realização

