



PREFEITURA DE SÃO JOSÉ DOS CAMPOS

CONCURSO PÚBLICO – EDITAL 04/2023

TARDE

MÉDICO

CARDIOLOGISTA ADULTO

NÍVEL SUPERIOR TIPO 1 – BRANCA



SUA PROVA

- Além deste caderno contendo **70 (setenta)** questões objetivas, você receberá do fiscal de prova o cartão de respostas;
- As questões objetivas têm **5 (cinco)** opções de resposta (A, B, C, D e E) e somente uma delas está correta;



TEMPO

- Você dispõe de **4 (quatro) horas** para a realização da prova, já incluído o tempo para a marcação do cartão de respostas;
- **2 (duas) horas** após o início da prova, é possível retirar-se da sala, sem levar o caderno de questões;
- A partir dos **30 (trinta) minutos** anteriores ao término da prova é possível retirar-se da sala **levando o caderno de questões**.



NÃO SERÁ PERMITIDO

- Qualquer tipo de comunicação entre os candidatos durante a aplicação da prova;
- Anotar informações relativas às respostas em qualquer outro meio que não seja o caderno de questões;
- Levantar da cadeira sem autorização do fiscal de sala;
- Usar o sanitário ao término da prova, após deixar a sala.



INFORMAÇÕES GERAIS

- Verifique se seu caderno de questões está completo, sem repetição de questões ou falhas. Caso contrário, **notifique imediatamente o fiscal da sala**, para que sejam tomadas as devidas providências;
- Confira seus dados pessoais, especialmente nome, número de inscrição e documento de identidade e leia atentamente as instruções para preencher o cartão de respostas;
- Para o preenchimento do cartão de respostas, use somente caneta esferográfica, fabricada em material transparente, com tinta preta ou azul;
- Assine seu nome apenas no(s) espaço(s) reservado(s) no cartão de respostas;
- Confira seu cargo, cor e tipo do caderno de questões. Caso tenha recebido caderno de cargo ou cor ou tipo **diferente** do impresso em seu cartão de respostas, o fiscal deve ser **obrigatoriamente** informado para o devido registro na ata da sala;
- Reserve tempo suficiente para o preenchimento do seu cartão de respostas. O preenchimento é de sua responsabilidade e **não será permitida a troca do cartão de respostas em caso de erro cometido pelo candidato**;
- Para fins de avaliação, serão levadas em consideração apenas as marcações realizadas no cartão de respostas;
- A FGV coletará as impressões digitais dos candidatos na lista de presença;
- Os candidatos serão submetidos ao sistema de detecção de metais quando do ingresso e da saída de sanitários durante a realização das provas.
- **Boa sorte!**

Língua Portuguesa

1

Todos sabemos que devemos evitar, na escrita, a repetição de palavras idênticas. Em todas as frases abaixo se fizeram modificações para evitar o efeito desagradável da repetição das palavras sublinhadas. Assinale a opção em que o processo de modificação foi **inadequadamente** identificado.

- (A) o bicentenário de nascimento de José de Alencar é um acontecimento importante já que José de Alencar marcou sua época. / substituição por sinônimo: O bicentenário de nascimento de José de Alencar é um acontecimento importante já que esse escritor marcou sua época.
- (B) os livros estavam empilhados sobre a mesa e como os livros eram consultados repetidamente, os livros não eram dispostos organizadamente na estante. / elipse: Os livros estavam empilhados sobre a mesa e como eram consultados repetidamente, não eram dispostos organizadamente na estante.
- (C) há mais pessoas preocupadas em dar explicações do que pessoas preocupadas em encontrar soluções. / Verbalização de uma expressão nominal: Há mais pessoas preocupadas em dar explicações do que pessoas que se preocupam em encontrar soluções.
- (D) a melhor maneira de manter sua palavra é não dar sua palavra. / Substituição por um pronome pessoal oblíquo: A melhor maneira de manter sua palavra é não dá-la.
- (E) dizem que o silêncio vale ouro. Por isso que o silêncio é tão raro. / Substituição por pronome pessoal reto: Dizem que o silêncio vale ouro. Por isso ele é tão raro.

2

Observe o texto abaixo, retirado de um dicionário de curiosidades sobre o Rio de Janeiro:

“O Rio de Janeiro, de hoje, cidade abastecida de todos os gêneros alimentícios, teve, na sua origem, o peixe como principal elemento de abastecimento, devido à sua própria situação geográfica. O único local que abastecia a cidade, estava situado nas imediações do Mercado Velho, onde além do peixe, eram vendidos frutas, sal, mariscos, farinha e diversos outros alimentos. Posteriormente, com o aparecimento do primeiro empório comercial da cidade, na Rua da Quitanda, que deve seu nome a esse fato, o abastecimento da cidade passou a ter novas fontes”.

Esse texto pertence ao tipo informativo e seu interesse se concentra em

- (A) fornecer novos dados sobre um acontecimento diário.
 (B) chamar a atenção do leitor pela curiosidade do tema.
 (C) veicular informações de caráter histórico.
 (D) ministrar ensinamentos sobre fatos da linguagem.
 (E) mostrar novidades do conhecimento científico.

3

Dois jornais noticiaram um assalto com estruturas gramaticais diferentes:

Jornal 1: Os assaltantes atingiram alguns policiais na saída do banco.

Jornal 2: Alguns policiais foram atingidos pelos assaltantes na saída do banco.

Pode-se dizer corretamente que, nesse caso,

- (A) as duas frases têm rigorosamente o mesmo sentido e o mesmo valor comunicativo.
 (B) na primeira frase os policiais praticam a ação enquanto na segunda sofrem a ação verbal.
 (C) na forma da frase do jornal 2 há uma ambiguidade, que não se encontra na frase do jornal 1.
 (D) as duas frases se encontram na voz passiva, mas de tipos diferentes.
 (E) a forma de voz passiva do jornal 2 pode ser substituída pela forma ativa equivalente “Atingiram-se alguns policiais na saída do banco”.

4

Observe a redação do seguinte texto publicitário:

“Tudo isso (os banquetes do restaurante de um cassino) dentro de um ambiente mais seletivo onde uma relaxante decoração, em harmonia com as múltiplas e belas plantas de interior, põem a nota de distinção desse estabelecimento que, como já dissemos, se destaca pela flexibilidade de seu horário: desde as 21 horas até as 4:30h da madrugada”.

O fragmento não está bem redigido em função de um defeito básico, que é

- (A) a falta de hierarquia nas informações.
 (B) a extensão demasiada do período.
 (C) a ausência de conectores explicativos.
 (D) o pequeno número de inserções esclarecedoras.
 (E) o vocabulário de conteúdo semântico geral.

5

Observe a seguinte frase de Machado de Assis:

“Não há paciência que baste para ouvir um suplicante derramado. Todo suplicante conciso pode estar certo de despacho próximo, porque fixou bem o que disse, sem cansar com palavras sobejas”.

Essa frase alude a um problema redacional, que é o de

- (A) expressar-se por meio de palavras cultas ou eruditas, de difícil entendimento.
 (B) empregarem-se termos sem precisão, que necessitam de outras palavras para explicitá-los.
 (C) apelar para expressões emotivas a fim de convencer o leitor pelo sentimento e não pela razão.
 (D) usar palavras e expressões de cunho popular, que prejudicam a mensagem objetiva do texto.
 (E) utilizar palavras em demasia, sem necessidade comunicativa, cansando inutilmente o leitor.

6

Observe o seguinte trecho, particularmente o papel do observador na descrição realizada:

“Observando-se pela vidraça, via-se, pelo chão, uma série de caixas, todas elas fechadas com cadeados, espalhadas aleatoriamente. Alguns objetos metálicos, semelhantes a borboletas, estavam sobre algumas delas. Num canto, próximo à parede, havia tapetes enrolados e acumulados, numa indicação de saída apressada, confirmada pela grande quantidade de sujeira sobre o assoalho”.

O observador desse trecho descritivo

- (A) demonstra algumas dificuldades na descrição feita em função da situação em que se encontra, vendo o interior da sala por meio da vidraça.
- (B) mostra-se como alguém desconhecedor de algumas realidades descritas, empregando termos gerais na sua designação.
- (C) muda de posto de observação, podendo acrescentar alguns novos ângulos dos objetos descritos.
- (D) emprega todos os sentidos físicos na tentativa de identificar os objetos observados.
- (E) realiza uma seleção positiva de termos na identificação dos objetos, selando tirando conclusões.

7

Assinale a frase que está integralmente expressa em linguagem formal.

- (A) Seja legal com suas crianças. Elas escolherão seu asilo.
- (B) Quem não se comunica se trumbica.
- (C) Quando a gente não sabe o que fazer, não façamos!
- (D) A melhor maneira de formar crianças boas é desconhecida.
- (E) Tem dias que a gente se sente como quem partiu ou morreu.

8

“O filme mostrava a cena de um menino que, por meio de um pequeno buraco na parede, observava uma menina do prédio vizinho, que praticava exercícios de balé. A observação não era cômoda, pois não podia ver todos os gestos da bailarina, assim como não podia mexer-se muito a fim de não ser denunciado em sua espionagem”.

Nesse caso, o observador sofre limitações na descrição da cena citada, causadas

- (A) pela falta de conhecimento específico sobre a dança, que o impede de ver integralmente o fato.
- (B) pelo fato de estar praticando algo indevido, como espiar a bailarina sem o seu conhecimento ou permissão.
- (C) pela sua própria condição física de estar espiando a dança por um pequeno orifício na parede.
- (D) pela circunstância de a própria cena exigir um conjunto de dados específicos que a situação não fornecia.
- (E) pela própria duração temporal do ato descrito, que durava mais do que o tempo disponível do observador.

9

Observe o seguinte trecho, retirado do romance *A Condessa Vésper*, de Aluísio Azevedo:

“Já quase ninguém havia no salão do banquete. Tinham-se os convivas despejados pelas outras salas e pelo jardim, cuja luminária à veneziana começava a derreter-se; alguns coziavam a digestão refestelada pelas poltronas e pelos divãs macios; outros bebericavam ainda aos bufetes e faziam brindes, sobre a posse, à ventura dos cônjuges. A festa, que havia começado desde a véspera, tocava afinal no seu término e dissolvia-se em cansaço”.

A afirmativa correta sobre esse segmento de texto é:

- (A) O trecho é descritivo, mostrando simultaneidade temporal entre os fatos descritos.
- (B) O segmento é narrativo, pois mostra sequência cronológica entre as ações dos personagens.
- (C) O último período do texto serve de informação redundante, dispensável para o entendimento do trecho anterior.
- (D) A cena é vista, partindo de fora para dentro do salão do banquete.
- (E) O trecho mostra as características, qualidades ou especificações das pessoas presentes.

10

A frase abaixo, retirada de um romance de Aluísio Azevedo, em que houve troca **indevida** entre as expressões *ao encontro de / de encontro a*, é:

- (A) Eram Gaspar e Gabriel saídos ao seu encontro.
- (B) E logo a cidade parecia vir a seu encontro, tal era a rapidez com que o escaler deslarga para a praia.
- (C) Os homens, que V. Sa. tem defronte de si e que o guardam à vista, são de confiança e estão pagos para não o deixarem fugir; escusa, por conseguinte, tentar qualquer meio que for de encontro ao que determinei.
- (D) Um velho de longas barbas, estava assentado ao limiar da porta, saiu-lhe ao encontro e perguntou com ar triste: —O senhor naturalmente é o Dr. Gabriel?
- (E) Enquanto sucedia ao pobre Gabriel o que acabamos de ver, Melo Rosa tomava um carro de praça e mandava tocar à toda para Laranjeiras, correndo de encontro a Ambrosina, que devia estar à sua espera.

11

Assinale a frase em que o referente do pronome pessoal sublinhado está corretamente identificado.

- (A) Há três maneiras de se conseguir que algo seja feito: faça você mesmo, contrate alguém para fazê-lo ou proíba seus filhos de fazê-lo... / algo.
- (B) Cuide de seus livros, não preste atenção aos críticos, nem mesmo os ignore. / livros.
- (C) As almas têm ilusões como pássaro tem asas; isto é o que as sustenta. / almas.
- (D) Crenças dividem as pessoas. As dúvidas as unem. / crenças.
- (E) Fé não é algo que se perca, nós meramente deixamos de moldar nossas vidas por ela. / algo.

12

Assinale o texto a seguir que é classificado como do modo injuntivo de organização discursiva.

- (A) O juiz de futebol é o único ladrão que rouba e sai protegido pela polícia.
- (B) O esporte é a única profissão que, quando você se aposenta, tem de começar a trabalhar.
- (C) Em editor de jornal é alguém que separa o joio do trigo – e imprime o joio.
- (D) Cinema é a fraude mais bonita do mundo.
- (E) Há três maneiras de se conseguir que algo seja feito: faça você mesmo, contrate alguém para fazê-lo ou proíba seus filhos de fazê-lo...

13

Assinale a frase que está inteiramente coerente.

- (A) Há três maneiras de se conseguir que algo seja feito: faça você mesmo, contrate alguém para fazê-lo ou proíba seus filhos de fazê-lo...
- (B) Há três pessoas que podem contestar o seu depoimento no tribunal: eu e o policial que me atendeu.
- (C) Turista: alguém que viaja para ver coisas diferentes e então se queixa de que elas não são iguais.
- (D) O mundo é um livro e aquele que não viaja lê apenas uma página.
- (E) Se estiver em uma estrada distante e desconhecida, ao encontrar uma encruzilhada, tome-a.

14

Há três maneiras de se conseguir que algo seja feito: faça você mesmo, contrate alguém para fazê-lo ou proíba seus filhos de fazê-lo...

A forma correspondente desse pensamento na voz ativa é:

- (A) Há três maneiras de se conseguir que algo se faça: faça você mesmo, contrate alguém para fazê-lo ou proíba seus filhos de fazê-lo...
- (B) Há três maneiras de se conseguir de algo ser feito: faça você mesmo, contrate alguém para fazê-lo ou proíba seus filhos de fazê-lo...
- (C) Há três maneiras de se conseguir que façam algo: faça você mesmo, contrate alguém para fazê-lo ou proíba seus filhos de fazê-lo...
- (D) Há três maneiras de se conseguir que algo fosse feito: faça você mesmo, contrate alguém para fazê-lo ou proíba seus filhos de fazê-lo...
- (E) Há três maneiras de se conseguir que algo será feito: faça você mesmo, contrate alguém para fazê-lo ou proíba seus filhos de fazê-lo...

15

Todos os pensamentos abaixo estão divididos em dois períodos, separados por um ponto. Assinale a opção em que a substituição desse ponto por um conector se fez de forma adequada.

- (A) Seja legal com suas crianças. Elas escolherão seu asilo. / mesmo que elas escolham seu asilo.
- (B) Monólogo é uma pessoa falando sozinha. Diálogo são duas. / enquanto diálogo são duas.
- (C) As crianças encontram tudo em nada. Os homens encontram nada em tudo. / à medida que os homens encontram nada em tudo.
- (D) Toda criança é um artista. O problema é como permanecer artista depois. / portanto o problema é como permanecer artista depois.
- (E) Eu tinha seis teorias de como educar crianças. Agora tenho seis filhos e nenhuma teoria. / embora agora tenha seis filhos e nenhuma teoria.

Raciocínio Lógico Matemático

16

Lúcia e Patrícia têm, juntas, R\$ 630,00. Se Lúcia der $\frac{1}{4}$ da quantia que possui para Patrícia, Patrícia ficará com o dobro da quantia que Lúcia ficará.

Inicialmente, a quantia que Patrícia possuía era

- (A) R\$ 250,00.
- (B) R\$ 270,00.
- (C) R\$ 280,00.
- (D) R\$ 350,00.
- (E) R\$ 380,00.

17

Considere todas as sequências de 5 letras que podem ser formadas com as letras da sigla PMSJC, sem repetição. Por exemplo, MSPJC e SPJCM são duas delas.

Dessas sequências, a quantidade daquelas nas quais as letras S, J e C aparecem nesta ordem (não necessariamente juntas) é igual a

- (A) 60.
- (B) 45.
- (C) 30.
- (D) 20.
- (E) 15.

18

Três jardineiros tratam de um gramado quadrado com 40 m de lado em 2 horas. O tempo no qual 2 jardineiros tratarão de um gramado quadrado com 60 m de lado é de

- (A) 4h30min.
- (B) 5h20min.
- (C) 6h45min.
- (D) 7h15min
- (E) 7h30min.

19

Um dado cúbico “viciado”, com as faces numeradas de 1 a 6, é tal que a probabilidade de ocorrência do número 1 é igual à probabilidade de ocorrência do número 6 e ambas são iguais a $\frac{1}{8}$.

As probabilidades de ocorrência de cada uma das outras 4 faces são iguais entre si.

Quando esse dado é lançado, a probabilidade de ocorrer um número maior do que 4 é igual a

(A) $\frac{5}{16}$.

(B) $\frac{3}{16}$.

(C) $\frac{3}{8}$.

(D) $\frac{1}{4}$.

(E) $\frac{1}{2}$.

20

Considere a sentença:

“Qualquer que seja o número real x , existe um número real y tal que $x + y = 0$ ”.

A negação lógica dessa sentença seria:

(A) Para nenhum número real x , existe um número real y tal que $x + y = 0$.

(B) Qualquer que seja o número real x , não existe um número real y tal que $x + y = 0$.

(C) Existe um número real x tal que qualquer que seja o número real y tem-se $x + y \neq 0$.

(D) Existem números reais x e y tais que $x + y \neq 0$.

(E) Qualquer que seja o número real x , existe um número real y tal que $x + y \neq 0$.

21

Três irmãos, Gabriel, Hugo e Ivan, fazem aniversário no mesmo dia. Hugo é 2 anos mais velho do que Gabriel e 2 anos mais novo do que Ivan.

Certo dia em que eles faziam aniversário, Gabriel perguntou:

“Daqui a quantos anos a soma de nossas idades terá passado de 100 pela primeira vez?”

Hugo, que é bom em cálculos, respondeu corretamente:

“Daqui a 11 anos.”

No dia em que esse diálogo ocorreu, Ivan tinha

(A) 21 anos.

(B) 22 anos.

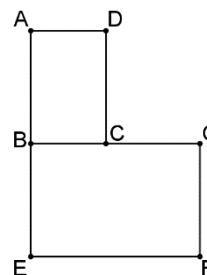
(C) 23 anos.

(D) 24 anos.

(E) 25 anos.

22

A figura abaixo mostra dois retângulos ABCD e EFGH, semelhantes tais que $\frac{AD}{BE} = \frac{AB}{EF}$.



Sabe-se que $AD = 4\text{m}$, $EF = 9\text{m}$ e que B é o ponto médio do segmento AE.

A área do triângulo BDF em m^2 é

(A) 34.

(B) 35.

(C) 36.

(D) 38.

(E) 39.

23

No plano cartesiano, o ponto P possui coordenadas iguais e é equidistante dos pontos $(-1, 7)$ e $(1, 3)$.

O ponto P é

(A) (9, 9).

(B) (10, 10).

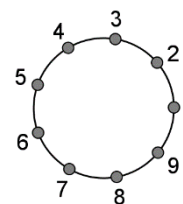
(C) (11, 11).

(D) (12, 12).

(E) (13, 13).

24

A figura abaixo mostra uma circunferência com nove pontos numerados de 1 a 9. A expressão “dar um pulo” significa mover-se de um ponto da circunferência para o ponto seguinte no sentido anti-horário.



João está no ponto número 6 da figura e dará 2023 pulos.

Após os pulos, João estará no ponto número

(A) 2.

(B) 4.

(C) 5.

(D) 7.

(E) 8.

25

Três latas, X, Y e Z estão em uma prateleira. Uma é branca, outra é amarela e outra é marrom. Elas são iguais em tamanho, mas possuem pesos diferentes.

Sabe-se que

- a lata branca é a mais pesada;
- a lata X não é branca;
- a lata Y é mais leve que a lata X e não é marrom.

É correto concluir que

- (A) a lata X é a mais pesada.
- (B) a lata Y é amarela.
- (C) a lata Z é marrom.
- (D) a lata X é branca.
- (E) a lata Z é a mais leve.

Atualidades

26

As doenças transmitidas por vetores, como a dengue, podem ser afetadas por mudanças climáticas e ambientais.

A respeito da relação entre saúde e meio ambiente no caso da dengue, analise as afirmativas a seguir.

- I. A dengue é uma doença infecciosa afetada pelo clima, como pode ser comprovado por sua manifestação sazonal, mais presente em períodos de verão.
- II. O aumento da intensidade da doença é causado por variáveis biológicas e contextuais, como a presença de populações vulneráveis ao sorotipo circulante, somada às condições ambientais e de vida da população afetada.
- III. A dengue é causada por protozoários transmitidos pela fêmea do mosquito da espécie *Anopheles*, mais abundante ao entardecer e ao amanhecer, disseminada em regiões silvestres e urbanas.

Está correto o que se afirma em

- (A) I, apenas.
- (B) I e II, apenas.
- (C) I e III, apenas.
- (D) II e III, apenas.
- (E) I, II e III.

27

Leia a definição de racismo estrutural do filósofo Silvio Almeida:

Trata-se de uma forma sistemática de discriminação que tem a raça como fundamento, e que se manifesta por meio de práticas conscientes ou inconscientes que culminam em desvantagens ou privilégios para indivíduos, a depender do grupo racial ao qual pertençam. Estas práticas discriminatórias são a materialização de uma estrutura social ou de um modo de socialização que tem o racismo como um de seus componentes orgânicos. Dito de modo mais direto: as instituições são racistas porque a sociedade é racista. Não é algo criado pela instituição, mas é por ela reproduzido.

Adaptado de ALMEIDA, Silvio Luiz de. *O que é racismo estrutural?* Belo Horizonte: Letramento, 2018. p. 25 e 36.

Com base no trecho, assinale a afirmativa que interpreta corretamente aspectos do racismo estrutural.

- (A) O racismo é um fenômeno psicológico próprio de grupos isolados que manifestam atitudes e ações discriminatórias.
- (B) As práticas discriminatórias podem ocorrer de forma inconsciente e, portanto, não intencional.
- (C) O racismo resulta de uma patologia social ou de um desarranjo institucional, em que a ideologia racial predomina.
- (D) A discriminação racial deixa de ser sistemática a longo prazo, sendo substituída pela marginalização econômica e social.
- (E) O racismo cometido por um indivíduo ou reforçado pelas escolas, imprensa e tecnologias, como os algoritmos, é uma anomalia social.

28

A respeito das perspectivas da indústria brasileira frente aos desafios globais da atualidade, avalie se as afirmativas a seguir são verdadeiras (V) ou falsas (F).

- () A segmentação da produção industrial em cadeias de valor disseminadas por vários países era vista como um benefício do processo de globalização, mas, depois da pandemia, ficou evidente que, também, poderia ser um fator de risco.
- () O comércio internacional encontra-se marcado por uma maior intervenção por parte dos Estados, preocupados em garantir sua segurança em áreas fundamentais como saúde e alimentação, por exemplo.
- () A agenda de sustentabilidade representa um limitador para o Brasil se projetar externamente, pois o país possui uma pegada de carbono menor do que a de seus concorrentes industrializados.

As afirmativas são, respectivamente,

- (A) V – F – V.
- (B) F – V – V.
- (C) F – V – F.
- (D) V – V – F.
- (E) V – V – V.

29

A prática secular de presentear chefes de Estado é sinal de boa vontade e diplomacia, recorrente no mundo todo. Em visita a outras nações, chefes de Estado costumam presentear o anfitrião com algo que remeta ao país do visitante. O anfitrião retribui com um presente de seu país. A troca de presentes é uma tradição entre os representantes e um gesto de cortesia e hospitalidade.

Adaptado de <https://www.gov.br/planalto/pt-br/conheca-a-presidencia>

Assinale a opção que indica corretamente o destino de objetos recebidos pela Presidência da República do Brasil em cerimônias oficiais com chefes de Estado e de governo.

- (A) Bens consumíveis, como por exemplo doces, frutas e bebidas, devem ser incorporados ao patrimônio público.
- (B) Itens de natureza personalíssima, como roupas ou perfumes, devem ser doados, para evitar o uso de função em benefício próprio.
- (C) Todo acervo de objetos recebidos pela Presidência é declarado de interesse pessoal e compõe o patrimônio privado do mandatário da nação.
- (D) Joias e presentes de alto valor ofertados em caráter oficial por outros governos devem integrar o acervo público da Presidência.
- (E) Obras de arte presenteadas em cerimônias oficiais são objetos intangíveis, motivo pelo qual estão isentas de serem declaradas para a União.

30

Em outubro, o Brasil assumiu, pelo período de um mês, a presidência do Conselho de Segurança das Nações Unidas (ONU), órgão composto por cinco membros permanentes – China, Estados Unidos, França, Reino Unido e Rússia – e um grupo de 10 membros não permanentes com mandatos de dois anos. O Brasil ocupa uma das 10 vagas rotativas no biênio 2022/23.

Adaptado de <https://agenciabrasil.ebc.com.br>

As afirmativas a seguir indicam corretamente atribuições do Conselho de Segurança da ONU, **exceto uma**. Assinale-a.

- (A) Determinar se existe uma ameaça para a paz.
- (B) Elaborar planos de regulamentação de armamentos.
- (C) Recomendar o ingresso de novos membros na ONU.
- (D) Investigar toda situação que possa vir a se transformar em um conflito internacional.
- (E) Submeter à aprovação da Assembleia Geral da ONU a aplicação de sanções econômicas para deter agressões.

Legislação da Saúde

31

Com base nos objetivos e atribuições do Sistema Único de Saúde previstos na Lei 8.080/90, avalie se as afirmativas a seguir são verdadeiras (V) ou falsas (F).

- () Está incluída no campo de atuação do Sistema Único de Saúde (SUS) a colaboração na proteção do meio ambiente, nele compreendido o do trabalho.
- () Um dos objetivos do SUS diz respeito à organização dos serviços públicos de modo a evitar duplicidade de meios para fins idênticos.
- () A avaliação do impacto que as tecnologias provocam à saúde está no campo de abrangência da Saúde do Trabalhador.

As afirmativas são, respectivamente,

- (A) V – F – V.
- (B) F – F – F.
- (C) V – V – V.
- (D) F – V – F.
- (E) V – V – F.

32

Assinale a opção que corresponde a uma das competências da direção municipal do Sistema Único de Saúde – SUS.

- (A) Coordenar ações de vigilância epidemiológica.
- (B) Controlar e avaliar as redes hierarquizadas do SUS.
- (C) Definir e coordenar os sistemas de vigilância sanitária.
- (D) Fiscalizar os procedimentos dos serviços privados de saúde.
- (E) Formular, avaliar e apoiar políticas de alimentação e nutrição.

33

Acerca das Conferências e Conselhos de Saúde, avalie se as afirmativas a seguir são verdadeiras (V) ou falsas (F).

- () O Conselho de Saúde é um órgão colegiado de caráter permanente, deliberativo, que deve ser composto por representantes do governo, prestadores de serviço, profissionais de saúde e usuários.
- () A Conferência de Saúde, composta por vários segmentos sociais, tem a função de fiscalizar, acompanhar e monitorar as políticas públicas de saúde.
- () A representação dos usuários nos Conselhos de Saúde e Conferências deve ser paritária em relação ao conjunto dos demais segmentos.

As afirmativas são, respectivamente,

- (A) V – F – V.
- (B) F – F – F.
- (C) V – V – F.
- (D) F – F – V.
- (E) V – V – V.

34

Considerando os níveis de assistência à saúde, assinale a opção que corresponde a um serviço de atenção secundária ou de média complexidade.

- (A) Consultórios de rua.
- (B) Unidades Básicas de Saúde.
- (C) Ambulatórios de cardiologia.
- (D) Unidades de terapia Intensiva.
- (E) Unidades de ensino e pesquisa.

35

As ações de saúde empregadas para reabilitar as funções motoras e de fala de um paciente que sofreu um acidente vascular cerebral são classificadas como:

- (A) Promoção da Saúde.
- (B) Proteção Específica.
- (C) Atenção Secundária.
- (D) Atenção Terciária.
- (E) Atenção Quaternária.

36

Com base nas disposições acerca da organização do Sistema Único de Saúde, analise as afirmativas a seguir.

- I. Para que uma região de saúde seja instituída ela deve conter minimamente serviços de vigilância em saúde ambiental e de vigilância sanitária.
- II. Em relação às Regiões de Saúde, cabe aos entes federativos definir seus limites geográficos e a população usuária das ações e serviços.
- III. Serviços Especiais de Acesso Aberto são serviços de saúde específicos para o atendimento da pessoa que, em razão de agravo ou de situação laboral, necessita de atendimento especial.

Está correto o que se afirma em

- (A) I, apenas.
- (B) II, apenas.
- (C) III, apenas.
- (D) I e II, apenas.
- (E) II e III, apenas.

37

Com base nos Requisitos de Boas Práticas de Funcionamento para os Serviços de Saúde, analise as afirmativas a seguir.

- I. O serviço de saúde deve possuir equipe multiprofissional dimensionada de acordo com seu perfil de demanda.
- II. Uma das responsabilidades dos serviços de saúde é promover a capacitação de seus profissionais antes do início das atividades e de forma permanente em conformidade com as atividades desenvolvidas.
- III. O serviço de saúde deve executar ações de gerenciamento dos riscos de acidentes inerentes às atividades desenvolvidas.

Está correto o que se afirma em

- (A) I, apenas.
- (B) II, apenas.
- (C) III, apenas.
- (D) I e II, apenas.
- (E) I, II e III.

38

De acordo com os Requisitos de Boas Práticas de Funcionamento para os Serviços de Saúde, tais serviços devem estabelecer estratégias e ações voltadas para Segurança do Paciente.

Entre essas ações estão mecanismos para

- (A) promover o autocuidado.
- (B) prevenir úlceras por pressão.
- (C) estimular a proteção específica.
- (D) estimular a promoção da saúde.
- (E) orientar a identificação de riscos.

39

De acordo com as disposições normativas acerca da segurança do paciente, os eventos adversos que evoluírem para óbito devem ser notificados em até

- (A) 24 horas a partir do ocorrido.
- (B) 36 horas a partir do ocorrido.
- (C) 48 horas a partir do ocorrido.
- (D) 72 horas a partir do ocorrido.
- (E) 96 horas a partir do ocorrido.

40

Assinale a opção que corresponde a uma das diretrizes da Política Nacional de Humanização do SUS.

- (A) Transversalidade.
- (B) Valorização do trabalhador.
- (C) Autonomia dos sujeitos e coletivos.
- (D) Fortalecimento do controle social.
- (E) Indissociabilidade entre atenção e gestão.

Conhecimentos Específicos

41

Em pacientes que utilizam anticoagulantes orais, conhecer as interações medicamentosas é fundamental para minimizar o risco de complicações.

Quando associado a inibidores do fator Xa, os seguintes medicamentos estão associados ao aumento do risco de sangramentos, à exceção de um. Assinale-o.

- (A) Citalopram.
- (B) Clopidogrel.
- (C) Diclofenaco.
- (D) Ácido acetilsalicílico.
- (E) Empaglifozina.

42

A reserva de fluxo fracionada (RFF) é uma medida funcional que pode ser obtida na coronariografia para definir a gravidade hemodinâmica de uma obstrução coronariana.

Considerando o corte de RFF, o critério atualmente aceito para definir uma lesão coronariana como hemodinamicamente significativa é

- (A) $\leq 0,90$.
- (B) $\geq 0,70$.
- (C) $\leq 0,80$.
- (D) $\geq 0,80$.
- (E) $\leq 1,00$.

43

O exame físico é fundamental para auxiliar no diagnóstico de diversas cardiopatias, além de fornecer informações relacionadas à gravidade de doenças já estabelecidas.

Neste contexto, a contração sistólica e a dilatação diastólica das pupilas são um achado que eventualmente pode ser observado em estágios avançados da seguinte cardiopatia subjacente:

- (A) estenose aórtica.
- (B) estenose mitral.
- (C) insuficiência mitral.
- (D) insuficiência aórtica.
- (E) hipertensão arterial pulmonar.

ATENÇÃO: o caso clínico a seguir se refere às duas próximas questões.

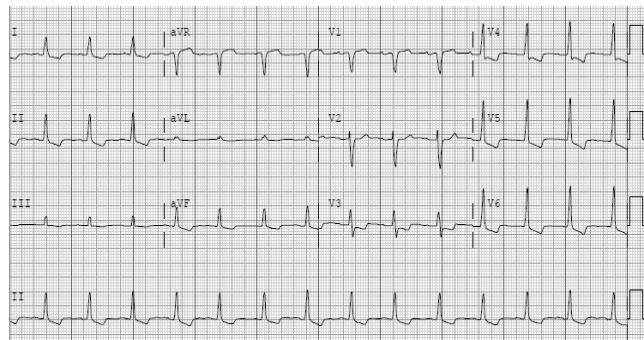
Homem de 70 anos, portador de insuficiência renal crônica e miocardiopatia dilatada com disfunção sistólica grave do ventrículo esquerdo, comparece à emergência devido a início de desorientação, turvação visual, dor abdominal, náuseas e vômitos nas últimas 24 horas. Nega febre e relata que é acompanhado regularmente por cardiologista e que utiliza uma série de medicações para a sua doença, mas não lembra dos nomes.

Há 5 dias está em uso de uma medicação adicional prescrita na última consulta, que poderia “ajudar com a falta de ar”.

Porém, nos últimos 3 dias, dobrou a dose por conta própria para “melhorar mais rápido”. Ao exame, em regular estado geral, com leve taquipneia, sem esforço, frequência cardíaca 80 bpm, e pressão arterial 100x60 mmHg. Crepitações finas nas bases pulmonares e ritmo cardíaco regular, sem sopros. Abdome distendido, doloroso à palpação difusamente, com peristalse reduzida.

44

Considerando a história, quadro clínico e as alterações encontradas no eletrocardiograma de admissão (abaixo), assinale a provável medicação que foi iniciada na última consulta com o cardiologista.



- (A) Propafenona.
- (B) Digoxina.
- (C) Hidralazina.
- (D) Dapaglifozina.
- (E) Furosemida.

45

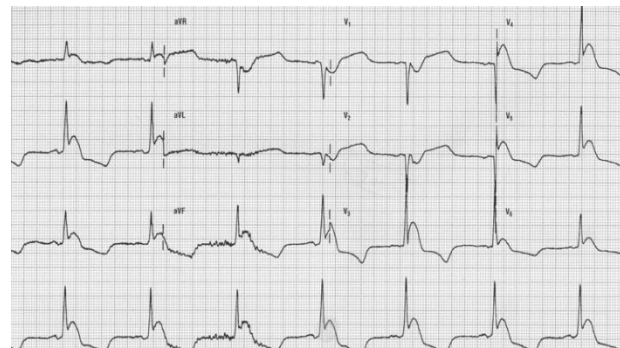
A seguinte complicação associada à medicação em tela poderia justificar o quadro clínico apresentado pelo paciente na emergência:

- (A) Hipotireoidismo.
- (B) Cetoacidose normoglicêmica.
- (C) Hiperuricemia.
- (D) Lúpus induzido por droga.
- (E) Isquemia mesentérica não-oclusiva.

46

Um homem idoso, morador de rua, é levado à emergência após ser encontrado com rebaixamento do nível de consciência.

Ao exame encontra-se bradipsíquico, desorientado, sem sinais neurológicos focais, e com tremores generalizados. Frequência cardíaca: 40 bpm, pressão arterial: 100x60 mmHg, frequência respiratória: 8 irpm, temperatura axilar: 32°C, SatO₂: 92%. Eletrocardiograma:



Seu quadro clínico e o eletrocardiograma (acima) são sugestivos do diagnóstico de

- (A) hipotermia.
- (B) bloqueio atrioventricular total.
- (C) pneumonia.
- (D) embolia pulmonar.
- (E) hiperpotassemia.

47

O pulso paradoxal venoso, também conhecido como Sinal de Kussmaul, pode estar presente em todas as situações abaixo, **à exceção de uma**. Assinale-a.

- (A) Pericardite constrictiva.
- (B) Miocardiopatia restritiva.
- (C) Insuficiência valvar aórtica.
- (D) Embolia pulmonar com *cor pulmonale*.
- (E) Infarto do ventrículo direito.

48

A febre reumática é uma doença cujo diagnóstico depende essencialmente de critérios clínicos, não existindo um exame padrão ouro que isoladamente defina a doença.

De acordo com os Critérios de Jones, a seguinte condição **não** representa um critério maior para o diagnóstico de febre reumática:

- (A) cardite.
- (B) poliartrite migratória.
- (C) eritema marginado.
- (D) febre > 38°C.
- (E) nódulos subcutâneos.

49

Ao longo da última década, a varfarina foi gradativamente substituída pelos anticoagulantes diretos no manejo de diversas doenças que requerem anticoagulação sistêmica por via oral.

Na seguinte situação os anticoagulantes diretos ainda estão contraindicados e a varfarina permanece como o anticoagulante oral de escolha para a prevenção e/ou tratamento de eventos tromboembólicos:

- (A) fibrilação atrial permanente sem doença valvar associada.
- (B) tratamento da embolia pulmonar.
- (C) tratamento da trombose venosa profunda.
- (D) prevenção de tromboembolismo venoso pós-artroplastia total do joelho ou quadril.
- (E) portadores de próteses valvares metálicas.

50

Assinale a alteração eletrocardiográfica abaixo que **não** é tipicamente observada em pacientes com hipertensão arterial pulmonar.

- (A) Amplitude da onda P > 2,5mm em DII.
- (B) Desvio do eixo do complexo QRS para a esquerda (-45°).
- (C) Sinais de hipertrofia do ventrículo direito.
- (D) Bloqueio de ramo direito completo ou incompleto.
- (E) Padrão de *strain* do ventrículo direito com infradesnível do segmento ST e inversão da onda T nas derivações precordiais direitas.

ATENÇÃO: O caso clínico a seguir se refere às duas próximas questões.

Mulher de 40 anos, sem comorbidades prévias, relata rouquidão e dispneia progressiva nos últimos 3 meses, associada à chiado noturno e edema de membros inferiores. Procurou atendimento médico há 1 semana, e foi diagnosticada com asma e medicada com fenoterol inalatório 4/4 horas.

Desde então, relata que houve piora dos sintomas, principalmente na última noite, quando acordou subitamente com palpitações e dispneia, retornando então à emergência.

Ao exame: com disfonia, taquipneica em repouso, corada, acianótica, frequência cardíaca 120 bpm, pressão arterial 100x60 mmHg. Crepitações pulmonares bilaterais nos terços inferiores e sibilos esparsos; ritmo cardíaco irregularmente irregular, em 2 tempos, P2 > A2, com sopro diastólico 2+/6+ em foco mitral, pressão venosa central aumentada, ausência de onda a no pulso venoso; abdome sem alterações; membros inferiores com edema bilateral simétrico 2+/4+.

51

Considerando a cardiopatia subjacente sugerida pela anamnese e pelo exame físico, assinale o provável fator responsável pela agudização dos sintomas.

- (A) Fibrilação atrial aguda.
- (B) Dissecção aórtica.
- (C) Síndrome coronariana aguda.
- (D) Taquicardia ventricular.
- (E) Pneumonia viral.

52

Em relação à cardiopatia apresentada pela paciente do caso anterior, assinale a afirmativa **incorreta**.

- (A) O pulso carotídeo tipicamente é *parvus e tardus*.
- (B) A maioria dos casos no Brasil está associada à febre reumática.
- (C) Pacientes podem evoluir com disfonia por dilatação do átrio esquerdo, levando à compressão do nervo laríngeo recorrente e paralisia da corda vocal ipsilateral.
- (D) Um estalido de abertura valvar precoce é um sinal de maior gravidade da doença.
- (E) A hipertensão pulmonar (pressão sistólica da artéria pulmonar \geq 50mmHg em repouso) constitui uma indicação de intervenção valvar em pacientes assintomáticos.

53

O escore de Duke é uma ferramenta validada que utiliza variáveis do teste ergométrico para estimar o risco de eventos cardiovasculares futuros. Considerando os componentes do escore e a sua interpretação, assinale a afirmativa correta.

- (A) O tempo de exercício durante o teste de esforço não apresenta valor prognóstico.
- (B) Em pacientes com pontuação intermediária (> -11 e < +5), outros exames de imagem, como a angiotomografia coronariana, não auxiliam na reclassificação de risco cardiovascular.
- (C) A inversão da onda T está incluída no escore de Duke, porque apresenta maior valor prognóstico do que desvios do segmento ST.
- (D) A presença de angina em qualquer intensidade de esforço isoladamente classifica o paciente como alto risco, independente de ser um sintoma limitante ou não.
- (E) Pacientes com pontuação no escore de Duke \leq -11 apresentam uma alta taxa anual de morte cardiovascular.

54

As opções a seguir apresentam contraindicações a realização de cintilografia miocárdica com adenosina ou dipiridamol, **à exceção de uma**. Assinale-a.

- (A) Doença broncoespástica pulmonar com crise de hiperreatividade grave há 2 semanas.
- (B) Bloqueio atrioventricular total, na ausência de marcapasso.
- (C) Acidente vascular cerebral há 1 mês.
- (D) Insuficiência cardíaca com fração de ejeção preservada compensada.
- (E) Pressão arterial sistólica < 90 mmHg.

55

Em relação aos tumores cardíacos, assinale a opção correta.

- (A) Cerca de 80% dos tumores cardíacos são malignos.
- (B) O mixoma é o tumor cardíaco mais comum e na maioria dos casos acomete o átrio esquerdo.
- (C) O fibroelastoma papilar raramente acomete as válvulas cardíacas.
- (D) O sarcoma é o tumor cardíaco benigno mais comum e geralmente acomete o ventrículo esquerdo.
- (E) Não existem relatos na literatura de acometimento cardíaco por tumores metastáticos.

ATENÇÃO: o caso clínico a seguir se refere às duas próximas questões

Homem de 60 anos, hipertenso, dislipidêmico, portador de insuficiência cardíaca com fração de ejeção reduzida de etiologia isquêmica é atendido na emergência. Relata que há uma semana houve piora da capacidade funcional, após ter frequentado um churrasco com os amigos.

Desde então refere dispneia aos pequenos esforços, dispneia paroxística noturna e edema de membros inferiores. Nega síncope, dor torácica ou febre. Em uso de bisoprolol, enalapril, furosemida, ácido acetilsalicílico e atorvastatina.

Ao exame: Lúcido, orientado, taquipneico em repouso, sem esforço, acianótico, enchimento capilar preservado e com extremidades aquecidas, frequência cardíaca 80 bpm, pressão arterial 120x60 mmHg. Crepitações pulmonares bilaterais nos terços inferiores; ritmo cardíaco regular, em 3 tempos (B3), sem sopros, pressão venosa central aumentada, abdome com hepatomegalia dolorosa à palpação; membros inferiores com edema simétrico bilateral 2+/4+. Gasometria arterial e lactato sem alterações.

56

De acordo com as informações fornecidas no caso, assinale a opção correta em relação à classificação do perfil clínico-hemodinâmico do paciente no contexto da agudização do quadro de insuficiência cardíaca.

- (A) Frio e congesto.
- (B) Frio e seco.
- (C) Quente e congesto.
- (D) Quente e seco.
- (E) Não é possível determinar o estado volêmico do paciente com as informações fornecidas.

57

De acordo com o perfil clínico-hemodinâmico do caso, assinale a afirmativa correta em relação ao manejo terapêutico do paciente.

- (A) O bisoprolol deverá ser suspenso, pois sua manutenção está associada à maior mortalidade em pacientes com o perfil hemodinâmico apresentado.
- (B) O uso de inotrópicos sempre está indicado em pacientes com insuficiência cardíaca descompensada, independentemente do perfil clínico-hemodinâmico.
- (C) O enalapril deverá ser suspenso, pois vasodilatadores são contraindicados na fase de descompensação devido ao risco de hipotensão arterial.
- (D) O paciente deverá ser internado em unidade de terapia intensiva para passagem de cateter de artéria pulmonar, uma vez que seu perfil hemodinâmico é incerto.
- (E) A furosemida deve ser administrada por via intravenosa, na dose equivalente ou maior àquela de uso prévio, visando alcançar os alvos clínicos de descongestão.

58

Assinale a opção que **não** indica um fator de risco para cardiotoxicidade relacionada à quimioterapia com antraciclina.

- (A) Fração de ejeção > 50%.
- (B) Sexo feminino.
- (C) Idade > 65 anos.
- (D) Radioterapia mediastinal concomitante.
- (E) Administração venosa rápida.

59

O seguinte anti-hipertensivo apresenta contraindicação absoluta durante qualquer fase da gravidez:

- (A) Metildopa.
- (B) Enalapril.
- (C) Clonidina.
- (D) Hidralazina.
- (E) Hidroclorotiazida.

60

O algoritmo diagnóstico da embolia pulmonar requer primeiramente a estimativa da probabilidade clínica da doença, para então orientar a indicação dos exames subsequentes. Neste contexto, muitos escores já foram elaborados, como o de Wells e Genebra.

Assinale o achado abaixo que está associado a uma maior probabilidade diagnóstica de embolia pulmonar em pacientes com suspeita clínica da doença.

- (A) Cirurgia ortopédica há 3 meses.
- (B) Frequência respiratória > 24 irpm.
- (C) Hemoptise.
- (D) Edema unilateral de membro inferior sugestivo trombose venosa profunda.
- (E) Frequência cardíaca > 70 bpm.

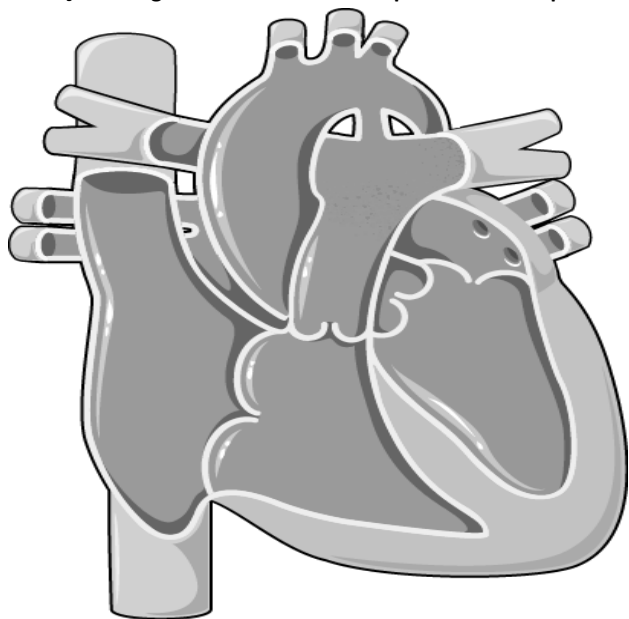
61

O implante percutâneo de válvula aórtica constitui uma alternativa segura e eficaz à cirurgia de troca valvar aórtica para pacientes com estenose valvar grave.

Uma das opções a seguir ainda favorece a cirurgia como a intervenção de escolha em pacientes sintomáticos com indicação de troca valvar. Assinale-a.

- (A) Pacientes frágeis com elevado risco cirúrgico.
- (B) Idade \geq 80 anos.
- (C) Presença de deformidade torácica significativa.
- (D) Válvula aórtica bicúspide com diâmetro da aorta ascendente de 50mm.
- (E) Presença de aorta em porcelana.

ATENÇÃO: A figura abaixo se refere as próximas duas questões.



62

Assinale a cardiopatia congênita representada na figura.

- (A) Comunicação interatrial.
- (B) Comunicação interventricular.
- (C) Persistência do canal arterial.
- (D) Tetralogia de Fallot.
- (E) Transposição dos grandes vasos.

63

Uma das opções abaixo, em casos mais graves e não corrigidos, é um achado, no exame físico, característico da cardiopatia representada na figura. Assinale-a.

- (A) Cianose diferencial.
- (B) Sopro holossistólico no 4º espaço intercostal, na borda esternal esquerda.
- (C) Pulso carotídeo bisferiens.
- (D) Desdobramento fixo da segunda bulha.
- (E) Estalido de abertura no foco mitral.

64

Durante a investigação ecocardiográfica de pacientes com suspeita de endocardite infecciosa, o exame transesofágico pode ser prescindido na seguinte situação:

- (A) presença de prótese mitral mecânica.
- (B) imagem transtorácica prejudicada por janela inadequada.
- (C) endocardite mitral confirmada com suspeita de abscesso perivalvar.
- (D) exame transtorácico normal em paciente com alta probabilidade clínica de endocardite.
- (E) endocardite isolada confirmada de válvula nativa tricúspide com imagem adequada pelo exame transtorácico.

ATENÇÃO: O caso clínico abaixo se refere as próximas duas questões

Homem de 30 anos, sem comorbidades conhecidas, comparece à emergência devido à palpitação. Relata episódios semelhantes há cerca de 6 meses que duram menos de 5 minutos, sem relação com esforço físico, dor torácica ou síncope.

Não utiliza qualquer medicação e nega história familiar de cardiopatia, uso de drogas ilícitas ou bebida alcoólica. Trouxe ecocardiograma e ressonância cardíaca solicitados em atendimento prévio, ambos sem alterações.

Ao exame: lúcido, eupneico em ar ambiente, corado. Frequência cardíaca 150 bpm, pressão arterial 110x70 mmHg, ausculta respiratória sem alterações, assim como o restante do exame físico.

Abaixo está o eletrocardiograma realizado no momento do atendimento:



65

Considerando que o ritmo de base é de taquicardia ventricular monomórfica, assinale a opção que representa os complexos marcados pelas setas.

- (A) Extrassístoles ventriculares.
- (B) Batimentos de fusão.
- (C) Variação por arritmia respiratória.
- (D) Interferência na geração do traçado.
- (E) Batimentos de escape atrial.

66

Durante o atendimento, houve reversão espontânea da arritmia, não sendo constatada qualquer alteração laboratorial que justificasse o evento.

Considerando a ausência de cardiopatia estrutural e a hipótese provável de taquicardia ventricular fascicular, assinale a medicação de escolha para a prevenção de novos episódios.

- (A) Digoxina.
- (B) Propafenona.
- (C) Sotalol.
- (D) Amiodarona.
- (E) Verapamil.

67

Em relação aos fatores de risco cardiovasculares, assinale a opção **incorreta**.

- (A) Estudos epidemiológicos sugerem uma associação entre a exposição ao material particulado presente na poluição atmosférica e um maior risco de eventos cardiovasculares fatais e não fatais.
- (B) Estresse psicossocial está associado ao desenvolvimento e progressão de doença cardiovascular aterosclerótica, independentemente dos fatores de risco tradicionais.
- (C) A condição socioeconômica não apresenta relação com o prognóstico ou desenvolvimento de doença cardiovascular.
- (D) A avaliação do espessamento médio-intimal carotídeo não deve ser utilizada rotineiramente para a estratificação do risco cardiovascular.
- (E) Em pacientes com influenza, o risco de infarto do miocárdio ou acidente vascular cerebral aumenta nos primeiros dias após o diagnóstico da infecção.

68

Em pacientes com suspeita de síndrome coronariana aguda, o eletrocardiograma é essencial para definir o espectro de apresentação da doença.

Na ausência de sobrecarga ventricular esquerda, estimulação artificial ou bloqueio de ramo esquerdo, um critério eletrocardiográfico compatível com um caso de síndrome coronariana aguda com supradesnível do segmento ST, em um paciente com dor torácica é:

- (A) Supradesnível do segmento ST de 0,5mm em DI e aVR.
- (B) Supradesnível do segmento ST de 0,5mm em V2 e V3.
- (C) Infradesnível isolado do segmento ST de 2mm em aVR.
- (D) Supradesnível do segmento ST de 1,5mm em DII, DIII e aVF.
- (E) Supradesnível difuso do segmento ST de 1mm, exceto em aVR e V1.

69

Em pacientes com hipertensão arterial resistente, é fundamental que fatores secundários e agravantes sejam identificados e corrigidos.

Entre as opções abaixo, assinale a que **não** representa um fator que pode dificultar o controle da pressão arterial.

- (A) Apneia do sono.
- (B) Uso de anticoncepcionais orais.
- (C) Uso de anti-inflamatórios não esteroidais.
- (D) Exercício físico aeróbico regular.
- (E) Insuficiência renal crônica.

70

Os Critérios de Duke são amplamente validados e recomendados por diversas diretrizes como a melhor ferramenta para orientar o diagnóstico da endocardite infecciosa. Seus componentes são divididos entre critérios maiores e menores.

Neste contexto, assinale a bactéria abaixo que **não** representa um dos microrganismos típicos incluídos nos critérios maiores da doença.

- (A) Staphylococcus aureus.
- (B) Staphylococcus hominis.
- (C) Streptococcus gallolyticus.
- (D) Enterococcus faecalis.
- (E) Coxiella burnetii.

Realização

