



ASSEMBLEIA LEGISLATIVA DO ESTADO DE RONDÔNIA – ALE-RO

EDITAL Nº 01, DE 20 DE OUTUBRO DE 2025

NÍVEL MÉDIO - MANHÃ

ASSISTENTE LEGISLATIVO SEM ESPECIALIDADE

PROVA OBJETIVA
TIPO 2 (VERDE)



SUA PROVA

Além deste caderno de questões contendo **80 (oitenta)** questões objetivas, você receberá do fiscal de sala uma folha para a marcação das respostas.

As questões objetivas têm **5 (cinco)** opções de resposta (A, B, C, D e E) e somente uma delas está correta.



TEMPO

- **4 (quatro) horas** é o período disponível para a realização da prova, **já incluído o tempo para a marcação da folha de respostas.**
- **2 (duas) horas e 30 (trinta) minutos** após o início da prova, é possível retirar-se da sala, sem levar o caderno de questões nem qualquer tipo de anotação de suas respostas.
- **30 (trinta) minutos** antes do término do período de prova, é possível retirar-se da sala, **levando o caderno de questões.**



NÃO SERÁ PERMITIDO

- Qualquer tipo de comunicação entre os candidatos durante a aplicação da prova.
- Usar o sanitário ao término da prova, após deixar a sala.
- Anotar informações relativas às respostas em qualquer outro meio que não seja este caderno de questões.



INFORMAÇÕES GERAIS

- Verifique se este caderno de questões está completo e sem falhas de impressão. Caso contrário, **notifique imediatamente o fiscal da sala**, para que sejam tomadas as devidas providências.
- Na folha de respostas, confira seus dados pessoais, especialmente nome, número de inscrição e documento de identidade, e leia atentamente as instruções para preencher a folha de respostas.
- **Use somente caneta esferográfica, fabricada em material transparente, com tinta preta ou azul.**
- Assine seu nome apenas no espaço reservado na folha de respostas.
- Confira a cor e o tipo do seu caderno de questões. Caso tenha recebido caderno de questões com cor ou tipo diferente do impresso em sua folha de respostas, o fiscal deve ser **obrigatoriamente** informado para o devido registro na ata da sala.
- O preenchimento das respostas é de sua responsabilidade e não será permitida a substituição da folha de respostas em caso de erro.
- Para fins de avaliação, serão levadas em consideração apenas as marcações realizadas na folha de respostas.
- Os candidatos serão submetidos ao sistema de detecção de metais quando do ingresso e da saída de sanitários durante a realização das provas.

Boa prova!

MÓDULO I

Língua Portuguesa

ATENÇÃO: O texto a seguir se refere às 6 próximas questões.

'Quer abordar?', me perguntou a moça

De início não entendi o verbo cravado no coração da frase e, usando o etarismo a meu favor, pedi graciosamente, por favor, que a moça repetisse.

O cenário era a loja de um shopping no Leblon, onde eu negociava com ela, vendedora educadíssima, os últimos detalhes da compra de um produto volumoso que, sem carro, eu não podia levar naquele momento. Foram necessárias três repetições da frase até que – como se falava no tempo do orelhão, quando o português era ouvido por aqui – a ficha caiu:

“Eu posso abordar o produto?”, era o que perguntava a moça, fazendo-se finalmente entender. A moça queria ostentar na fala o mesmo padrão internacional do shopping.

A pureza vernacular não linka com a minha prosa vadia de cronista. A ideia aqui é mexer com a língua, roçar na de Luís de Camões e – como o tamanduá esticando a dele para pegar as formigas – tirar prazer disso. Para manter o emprego, equilíbrio num parágrafo as ordens do manual de redação – exibindo às vezes uma mesóclise de polainas – e já no parágrafo seguinte caio de boca – com o *piercing* no lábio inferior – no saboreio do último barbarismo ouvido na esquina. Nada a ver com os rigores de um professor de português. O target não é preparar o leitor para a nota mil do Enem, mas meter a língua onde não se foi chamado.

A propósito. Preciso dizer que quando eu, cliente, finalmente entendi o que a moça na loja do shopping queria dizer com a proposta de “abdar” a compra, eu aquiesci jovial – e me fiz *up to date*:

“Sim, por favor, adressa, sim”.

(Trecho adaptado da crônica de Joaquim Ferreira dos Santos, publicada em “O Globo”.)

1

Com relação ao texto, assinale o comentário inadequado.

- (A) Em “usando o etarismo a meu favor” (primeiro parágrafo), o autor se vale do fato de ser uma pessoa mais velha para disfarçar sua incompreensão quanto ao significado de abordar.
- (B) No trecho “eu negociava com ela, vendedora educadíssima, os últimos detalhes da compra de um produto *volumoso*” a palavra *volumoso* pode ser substituída, sem alteração de sentido, pelo termo *vultoso*.
- (C) No trecho “Eu posso abordar o produto?” (terceiro parágrafo), a vendedora do shopping perguntou se poderia apor o endereço do comprador no produto, para evitar possíveis erros de troca.
- (D) O verbo abordar pode ser considerado um neologismo; daí a estranheza do autor.
- (E) Ao dizer, no final do texto, que “se fez *up to date*: Sim, por favor, adressa, sim”, o autor demonstra sua intenção de se revelar moderno e atualizado quanto à evolução da língua.

2

Assinale a frase, retirada do texto, que apresenta intertextualidade com outra frase conhecida, considerada como um ditado popular.

- (A) Nada a ver com os rigores de um professor de português.
- (B) (...) pedi graciosamente, por favor, que a moça repetisse.
- (C) (...) como se falava no tempo do orelhão, quando o português era ouvido por aqui.
- (D) O target não é preparar o leitor para a nota mil do Enem, mas meter a língua onde não se foi chamado.
- (E) A moça queria ostentar na fala o mesmo padrão internacional do shopping.

3

Na crônica de Joaquim Ferreira dos Santos, a função predominante é

- (A) metalinguística.
- (B) referencial.
- (C) emotiva.
- (D) apelativa.
- (E) poética.

4

No trecho “e já no parágrafo seguinte caio de boca [...] no saboreio do último barbarismo ouvido na esquina”, o processo de formação da palavra sublinhada é

- (A) a reduplicação.
- (B) a derivação prefixal e sufixal.
- (C) o hibridismo.
- (D) a derivação parassintética.
- (E) a conversão.

5

Assinale a opção em que a substituição do termo sublinhado por um sinônimo é incorreta.

- (A) A pureza vernacular não linka com a minha prosa vadia de cronista (coaduna).
- (B) O target não é preparar o leitor para a nota mil do Enem (objetivo).
- (C) (...) eu aquiesci jovial – e me fiz *up to date* (concordei).
- (D) (...) no saboreio do último barbarismo ouvido na esquina (cacografia).
- (E) (...) usando o etarismo a meu favor (idadismo).

6

Em relação ao texto, assinale a afirmativa correta.

- (A) A crítica ao emprego do verbo abordar advém do repúdio do autor a palavras que infrinjam a pureza vernacular.
- (B) Em “exibindo às vezes uma mesóclise de polainas”, o autor reconhece que a mesóclise deve ser utilizada com frequência na linguagem escrita.
- (C) Para tirar a nota mil do Enem, o estudante deve obedecer rigorosamente à norma culta e evitar estrangeirismos e neologismos, o que não é o caso do autor, que é mais liberal nesse sentido.
- (D) Os rigores de um professor de português nada têm a ver com as normas gramaticais de um Manual de Redação.
- (E) Em “como se falava no tempo do orelhão, quando o português era ouvido por aqui” o autor externa ironicamente sua exaltação à linguagem do passado e sua crítica à linguagem falada no presente.

7

Assinale a opção em que há erro na classificação gramatical do termo sublinhado.

- (A) Meu irmão chegou cansado de viagem / advérbio.
- (B) Como estivesse atrasado, acabou perdendo o avião / conjunção.
- (C) Apesar de muito esforço, não conseguiu passar no concurso / locução prepositiva.
- (D) Um ciclone inesperado atingiu Rio Bonito do Iguaçu, no estado do Paraná / adjetivo.
- (E) Em 99% das casas e do comércio da cidade, a energia que foi cortada já foi restabelecida / pronome.

8

Avalie as afirmativas a seguir, relativas a textos normativos legais.

- I. Alíneas devem ser designadas por letras minúsculas, seguidas de um parêntese de fechamento: a), b), c).
- II. Na numeração de artigos, utiliza-se apenas a numeração ordinal: art. 1º, art. 8º, art. 10º.
- III. Na numeração de parágrafos, utiliza-se apenas a numeração cardinal: § 3, § 9, § 10.
- IV. Incisos devem ser designados por algarismos romanos e iniciados por letra minúscula: I, II, III.

Está correto o que se afirma em

- (A) I e IV, apenas.
- (B) II e III, apenas.
- (C) III e IV, apenas.
- (D) I e II, apenas.
- (E) I, II, III e IV.

9

A charge é antiga, mas o assunto continua atual.



Na charge, produzida por Erasmão e retirada do Jornal de Piracicaba, o efeito de humor se dá sobretudo

- (A) pelas desavenças entre pai e filho.
- (B) pelo duplo sentido da palavra escola.
- (C) pelo fato de a mãe não ter feito qualquer comentário.
- (D) pelo fato de o termo *escola* ser um hiperônimo.
- (E) pela atitude ambígua do filho do casal.

10

Assinale a opção em que não há crase em lacuna alguma.

- (A) Ele costumava deixar seus pertences largados __ vontade no chão. __ despeito de nossos conselhos, guardava suas fotos em envelopes, mas agora já __ acondiciona em álbuns especiais.
- (B) __ exposição que se inaugura hoje __ 17h, ficará aberta de terça __ sexta-feira, das 12h30min __ 18h30min.
- (C) Logo __ entrada, __ esquerda de quem entra, existe uma parte coberta possivelmente visando __ abrigar __ pessoas da chuva.
- (D) Todos querem um fim de semana __ beira-mar com __ família e pouco __ pouco vão trazendo alegria __ quela praia deserta.
- (E) O Brasil foi o primeiro país __ reconhecer __ fotografia como obra de arte, graças __ D. Pedro II, um dos primeiros fotógrafos brasileiros.

11

Leia a frase a seguir.

A fala e a escrita são modalidades diferentes da linguagem humana __ a primeira se utiliza de unidades sonoras __ a segunda __ ao contrário __ emprega sinais gráficos.

Assinale a pontuação que preenche corretamente as lacunas da frase acima.

- (A) vírgula – dois-pontos – ponto e vírgula – vírgula
- (B) dois-pontos – vírgula – ponto e vírgula – vírgula
- (C) dois-pontos – ponto e vírgula – vírgula – vírgula
- (D) dois-pontos – vírgula – vírgula – ponto e vírgula
- (E) ponto – ponto e vírgula – ponto e vírgula – vírgula

12

Assinale a opção em que a lacuna da frase deve ser preenchida pelo segundo elemento contido nos parênteses.

- (A) Os vereadores ____ (por ora / por hora) decidiram adiar a votação.
- (B) Devido às fortes chuvas, vários brincantes tiveram seus carros ____ (empossados / empoçados) na lama.
- (C) A agremiação do boi Malhadinho foi parcialmente prejudicada em sua apresentação devido ao ____ (mau / mal) tempo.
- (D) O grupo “Flor do Campo” se apresentou na noite desse sábado, ____ (quando / onde) o som de tambores fez a floresta pulsar.
- (E) A agremiação exibiu o Xauara, figura que vai ____ (de encontro à / ao encontro da) preservação da natureza, pois simboliza a destruição das queimadas e a poluição dos rios.

Raciocínio Lógico Matemático

13

Em uma urna há 10 cartas, sendo 5 vermelhas e 5 pretas. Em cada uma das 5 cartas vermelhas está escrito uma das letras A, B, C, D e E. O mesmo ocorre com cada uma das cartas pretas. Todas as cartas são diferentes entre si.

Sorteiam-se, ao acaso, duas cartas em sequência e sem reposição.

A probabilidade de as cartas sorteadas terem a mesma cor ou a mesma letra é igual a

- (A) $\frac{2}{5}$.
- (B) $\frac{3}{5}$.
- (C) $\frac{2}{9}$.
- (D) $\frac{4}{9}$.
- (E) $\frac{5}{9}$.

14

Considere a afirmação:

“Se o cozinheiro é competente, o almoço não vai atrasar.”

A **negação** dessa afirmação é

- (A) O cozinheiro não é competente e o almoço vai atrasar.
- (B) O cozinheiro é competente e o almoço vai atrasar.
- (C) O cozinheiro é competente ou o almoço não vai atrasar.
- (D) O cozinheiro não é competente ou o almoço não vai atrasar.
- (E) O cozinheiro é competente e o almoço não vai atrasar.

15

Samuel compra e vende carros usados na sua loja. Em uma das suas transações, ele comprou um carro usado e anunciou como preço de venda um valor 20% maior do que gastou na compra. Entretanto, na hora de vender, ele deu ao comprador um desconto de 10% sobre o preço de venda anunciado. Com isso, ele lucrou R\$ 5.200,00 nessa transação.

Esse carro foi vendido por

- (A) R\$ 65.000,00.
- (B) R\$ 68.600,00.
- (C) R\$ 70.200,00.
- (D) R\$ 74.800,00.
- (E) R\$ 78.000,00.

16

Arlindo, Benedito, Gilmar, Nonato e Osvaldo vão acampar. Eles possuem duas barracas, sendo uma menor, que comporta duas pessoas, e outra maior, comportando três pessoas. Entretanto, Arlindo e Benedito não querem ficar na mesma barraca.

Respeitando esse desejo, o número de maneiras diferentes em que as cinco pessoas podem ser arrumadas, nas duas barracas, é

- (A) 3.
- (B) 4.
- (C) 5.
- (D) 6.
- (E) 8.

17

Uma panela de sopa pode alimentar ou 6 adultos ou 10 crianças. Em certa ocasião, havia 4 panelas de sopa e foram alimentadas 25 crianças.

Com a sopa que sobrou, a quantidade de adultos que podem ser alimentados é igual a

- (A) 6.
- (B) 9.
- (C) 12.
- (D) 15.
- (E) 18.

18

Uma rádio fez uma pesquisa para conhecer melhor o seu público ouvinte. Ao todo, 240 pessoas foram entrevistadas. Do total de entrevistados, 100 eram mulheres e 136 ouvem a rádio. Constatou-se também que apenas 6 mulheres não ouvem a rádio.

Dos homens entrevistados, o percentual daqueles que ouvem a rádio é de

- (A) 10%.
- (B) 20%.
- (C) 25%.
- (D) 30%.
- (E) 35%.

Noções de Informática

19

O setor de transparência da ALE-RO publica mensalmente uma planilha no Google Sheets com os gastos por departamento. Um servidor precisa criar um gráfico que mostre, de forma clara e imediata, a proporção (%) do orçamento total consumida por cada um dos seis departamentos em um determinado mês.

O tipo de gráfico mais adequado no Google Sheets para atender a esse objetivo de visualizar partes de um todo é

- (A) Gráfico de Linhas.
- (B) Gráfico de Colunas.
- (C) Gráfico de Pizza (ou Rosca).
- (D) Gráfico de Dispersão.
- (E) Gráfico de Barras.

20

O setor de Informática da ALE-RO está elaborando um manual de especificações técnicas para a aquisição de novos computadores. É necessário descrever corretamente a função de cada componente para justificar a escolha técnica.

Assinale a opção que apresenta corretamente o componente de *hardware* e sua função principal na arquitetura básica de um computador.

- (A) CPU: armazenar permanentemente o sistema operacional e os arquivos dos usuários.
- (B) Memória RAM: fornecer energia estável e adequada para todos os componentes do computador.
- (C) HD/SSD: armazenar temporariamente os dados dos programas e do sistema que estão em execução ativa.
- (D) Placa Mãe: interconectar todos os componentes principais do computador e permitir sua comunicação.
- (E) Fonte de Alimentação: executar cálculos, operações lógicas e coordenar as atividades de todos os outros componentes de *hardware*.

21

Durante uma sessão longa e de alta demanda na ALE-RO, o sistema de registro de votos e tramitação de emendas começa a ficar extremamente lento. O analista de TI, ao monitorar o sistema, observa que a memória física (RAM) está completamente utilizada. O sistema operacional então passa a usar um recurso para não travar completamente.

O recurso técnico que o sistema operacional utiliza como extensão da memória RAM física, quando essa atinge sua capacidade máxima, armazenando dados temporariamente em um dispositivo de armazenamento secundário, é denominado

- (A) Memória Cache L3.
- (B) Memória Virtual.
- (C) Registradores da CPU.
- (D) Memória Flash.
- (E) Armazenamento em Nuvem.

22

Um servidor público da ALE-RO está redigindo um relatório extenso no Microsoft Word 365 (BR), no Windows 10 (BR). Para otimizar seu trabalho e evitar o uso excessivo do *mouse*, ele utiliza combinações de teclas para executar comandos comuns com mais agilidade.

A seguir, relacione os atalhos de teclado às ações que o servidor deseja realizar.

1. Ctrl + B
 2. Ctrl + T
 3. Ctrl + Z
 4. Ctrl + L
- () Salvar o documento em que está trabalhando.
 - () Selecionar todo o texto do documento atual.
 - () Desfazer a última ação realizada.
 - () Pesquisar por uma palavra específica dentro do documento.

Assinale a opção que indica a relação correta, na ordem apresentada.

- (A) 1 – 2 – 3 – 4.
- (B) 2 – 1 – 3 – 4.
- (C) 4 – 3 – 2 – 1.
- (D) 1 – 3 – 4 – 2.
- (E) 3 – 4 – 1 – 2.

23

A Diretoria Legislativa da ALE-RO estabeleceu um padrão formal para a redação de todas as suas indicações. O modelo oficial define que os títulos das seções principais (como “EMENTA” e “JUSTIFICATIVA”) devem usar a fonte Arial, tamanho 14, negrito e com um espaçamento de 24 pontos, após o parágrafo.

No MS Word 365 (BR), a maneira mais eficiente e profissional para aplicar e garantir a uniformidade desse padrão em todos os documentos é

- (A) utilizar o Pincel de Formatação para copiar a formatação de um título para os outros.
- (B) formatar manualmente cada título, seguindo as especificações em cada novo documento.
- (C) criar e aplicar um Estilo específico para esses títulos, que armazena todas as regras de formatação.
- (D) salvar o texto formatado como um AutoTexto para inserção rápida.
- (E) alterar as configurações padrão do Tema do documento.

24

O setor de protocolo da ALE-RO precisa gerar automaticamente um código único para cada novo documento. O código é composto pelo Ano (coluna A), a sigla do Tipo de Processo (coluna B, ex.: “PL” para Projeto de Lei) e um Número Sequencial com 5 dígitos (coluna C, ex.: 00045). O formato final desejado é “2026-PL-00045”, conforme ilustra a figura a seguir.

	A	B	C	D
1	Ano	TipoProcesso	Sequencial	Sigla
2	2026	PL	00045	2026-PL-00045
3				
4				
5				

Para criar esse código formatado na coluna D, a fórmula correta a ser inserida na célula D2 e arrastada para baixo é:

- (A) =A2 & B2 & C2
- (B) =CONCATENAR(A2; "-"; B2; "-"; TEXTO(C2; "00000"))
- (C) =JUNTARTEXTO("-"; VERDADEIRO; A2; B2; C2)
- (D) =A2 + "-" + B2 + "-" + C2
- (E) =SE(A2&"-"&B2&"-"&C2)

Legislação Específica

25

Considerando o disposto no Código de Ética e Decoro Parlamentar da Assembleia Legislativa do Estado de Rondônia, o deputado que, pela primeira vez, utilizar, em discurso ou proposição, expressões atentatórias ao decoro parlamentar está sujeito à penalidade de

- (A) censura verbal.
- (B) censura escrita.
- (C) suspensão de prerrogativas regimentais por até seis meses.
- (D) suspensão do mandato por até seis meses.
- (E) perda do mandato.

26

No exercício de suas atribuições como servidora pública da Assembleia Legislativa do Estado de Rondônia, Shirley foi questionada acerca das especificidades da inexigibilidade de licitação constantes da Resolução ALE/RO nº 593, de 30 de outubro de 2024, que estabelece disposições regulamentares acerca das atribuições e procedimentos de licitações e contratos administrativos, no âmbito do aludido Órgão.

Assinale a resposta correta dada por Shirley ao mencionado questionamento.

- (A) A prorrogação da vigência dos contratos regularmente formalizados em decorrência de inexigibilidade de licitação é proibida, independentemente da demonstração de vantajosidade para a Administração.
- (B) A contratação direta por inexigibilidade de licitação é cabível nas hipóteses em que autorizada por lei, mesmo nas situações em que a justificativa de preços demonstre a possibilidade de competição.
- (C) Os processos de contratações de bens e serviços por meio de inexigibilidade de licitação deverão conter, dentre outros documentos, proposta comercial da pretensa contratada dentro do prazo de validade.
- (D) A contratação direta no âmbito do sistema de registro de preços (SRP) é vedada, de modo que, em hipótese alguma, poderá haver o seu processamento mediante dispensa e inexigibilidade de licitação.
- (E) A justificativa do preço em contratações de bens e serviços por inexigibilidade de licitação deverá ser realizada pelo valor global do contrato e não por cada item, sendo necessária a comprovação da razoabilidade de preço, conforme procedimentos especificados na norma.

27

Certa autoridade competente classificou como reservada uma determinada informação, sob o fundamento de que sua divulgação ou seu acesso irrestrito poderiam prejudicar ou causar risco a projetos de pesquisa e desenvolvimento científico ou tecnológico.

Diante de tais circunstâncias, assinale a afirmativa correta, em consonância com o disposto na Lei nº 12.527/2011.

- (A) O fundamento invocado não é idôneo para determinar o sigilo, pois não se enquadra dentre as situações consideradas imprescindíveis à segurança da sociedade e do Estado.
- (B) A aludida qualificação importa no sigilo de tal informação pelo prazo máximo de quinze anos, passível de prorrogação por mais um ano.
- (C) A classificação em questão deverá necessariamente indicar o prazo de sigilo, contado em anos, meses ou dias, ou de evento que defina o seu termo final, conforme os limites legais.
- (D) A decisão que determina a classificação é definitiva, não podendo ser reavaliada para fins de desclassificação ou redução de prazo, de ofício ou mediante provocação.
- (E) Transcorrido o prazo da classificação é necessária a edição de ato administrativo específico para fins de decretar o fim do sigilo, pois a informação não se torna de acesso público automaticamente.

28

William é servidor público do Estado de Rondônia, regularmente investido, que alcançou a estabilidade. Recentemente, contudo, William tem vivido intercorrências no espectro familiar, envolvendo a doença da madrastra que o criou, Valentina, que requer cuidados especiais, bem como o iminente deslocamento de sua esposa, Jane, para Brasília para o exercício de mandato eletivo como senadora, sendo certo que Eva, irmã de William por parte de pai e filha de Valentina, também é servidora estável do mesmo ente federativo.

Diante dessa situação hipotética, à luz das disposições acerca da licença por motivo de doença na família e da licença por motivo de afastamento de cônjuge ou companheiro na Lei Complementar nº 68, de 09 de dezembro de 1992 e suas alterações, assinale a afirmativa correta.

- (A) William e Eva poderão usufruir de licença por motivo de doença de Valentina ao mesmo tempo, considerando que o seu tratamento requer cuidados especiais.
- (B) A licença que venha a ser deferida a William por motivo de afastamento de Jane deverá abarcar todo o mandato eletivo como senadora, independentemente da necessidade de renovação.
- (C) William, na qualidade de enteado, não poderá obter licença por motivo de doença de sua madrastra Valentina, de modo que seu afastamento deve se dar sem remuneração para o tratamento de assuntos pessoais.
- (D) A licença de William pelo afastamento de Jane será concedida sem prejuízo de remuneração do cargo efetivo, por até um ano, independentemente do exercício do cargo, e, excedendo esse prazo, será sem remuneração.
- (E) A licença de William, por motivo de doença de Valentina, somente será deferida se a assistência direta do servidor for indispensável e não puder ser prestada simultaneamente com o exercício do cargo.

29

Deodato, servidor da Assembleia Legislativa do Estado de Rondônia, está com receio de ter praticado, no exercício de suas atribuições, conduta passível de caracterizar ato de improbidade que atenta contra os princípios da Administração Pública, de modo que decidiu aprofundar os seus conhecimentos acerca de tal ato de improbidade, à luz do disposto na Lei nº 8.429/1990, com a redação conferida pela Lei nº 14.230/2021.

Assinale a afirmativa que indica a conclusão correta alcançada por Deodato.

- (A) Toda ilegalidade é passível de caracterização do ato de improbidade em análise, independentemente da comprovação de que o agente público tinha por objetivo obter proveito ou benefício indevido para si ou para outra pessoa entidade.
- (B) O dispositivo relativo à categoria em comento é aplicável nas situações que não se enquadrem com ato de improbidade que importe em enriquecimento ilícito ou que cause lesão ao erário, de modo que o respectivo rol não pode ser considerado taxativo.
- (C) O dolo é imprescindível para a caracterização do ato de improbidade em cotejo, assim como é necessário o reconhecimento de que a conduta produziu danos ao erário, sem o que não haverá improbidade.
- (D) O enquadramento de conduta funcional na categoria em exame não depende da demonstração objetiva da prática de ilegalidade no exercício da função pública, tampouco da indicação das normas constitucionais, legais ou infralegais violadas.
- (E) Nem todo ato que viola princípio da Administração Pública poderá caracterizar o ato de improbidade objeto de questionamento, sendo exigida lesividade relevante ao bem jurídico tutelado para serem passíveis de sancionamento.

30

Acerca da validade dos atos administrativos, avalie as assertivas a seguir.

- I. Não poderá ser considerado inválido o ato administrativo no caso de falta ou insuficiência de motivação.
- II. Nos atos discricionários, será razão de invalidade a falta de correlação entre o motivo e o objeto do ato, tendo em vista a sua finalidade.
- III. Os atos administrativos deverão ser precedidos do processo administrativo adequado à sua validade e à proteção dos direitos e interesses dos administrados.

Considerando o disposto na Lei do Processo Administrativo do Estado de Rondônia (Lei Ordinária nº 3.830, de 27 de junho de 2016), está correto o que se afirma em

- (A) I, apenas.
- (B) II, apenas.
- (C) I e III, apenas.
- (D) II e III, apenas.
- (E) I, II e III.

31

O Regimento Interno da Assembleia Legislativa do Estado de Rondônia, Resolução nº 32, de 21 de agosto de 1990 e suas alterações, delimita as comissões permanentes, o número de membros e a competência de cada uma delas.

Com base na mencionada norma, assinale a opção correta a respeito do tema.

- (A) Comissão de Agropecuária e Política Rural, com 7 (sete) membros, à qual compete a matéria atinente ao regime jurídico-administrativo e concessão e uso dos bens civis públicos.
- (B) Comissão de Segurança Pública, com 7 (sete) membros, à qual compete manifestar-se sobre a prisão em flagrante e pedido de sustação de processo contra Deputados.
- (C) Comissão de Transportes e Obras Públicas, com 5 (cinco) membros, à qual compete opinar sobre critérios para fixação e aumento de tarifas dos serviços intermunicipais de transportes.
- (D) Comissão de Habitação e Assuntos Municipais, com 5 (cinco) membros, à qual compete propor e avaliar políticas de prevenção e combate à violência urbana e rural e discriminação racial, social, étnica ou quanto à orientação sexual.
- (E) Comissão de Finanças, Economia, Tributação, Orçamento e Organização Administrativa, com 5 (cinco) membros, à qual compete opinar sobre recursos regimentais, bem como pedidos de audiência ou consulta formulados por Deputados ou pela Mesa Diretora.

32

Com vistas a analisar um projeto de lei que versa sobre servidores públicos do Estado de Rondônia, Salete, servidora da Assembleia Legislativa do mencionado ente federativo, teve que analisar as peculiaridades das normas da respectiva Constituição Estadual acerca do tema.

Assinale a afirmativa que indica a correta conclusão alcançada por Salete, à luz do disposto na Carta Estadual.

- (A) Nenhum servidor poderá ser diretor ou integrar conselho de empresa fornecedora do Estado, ou que realize qualquer modalidade de contrato com o Estado, sob pena de demissão do serviço público, salvo quando o contrato obedecer a cláusulas uniformes.
- (B) Inexiste qualquer vedação expressa quanto à nomeação de cônjuge, companheiro ou parente em linha reta, colateral ou por afinidade até o terceiro grau, inclusive, da autoridade nomeante ou de servidor da mesma pessoa jurídica investido em cargo de direção, chefia ou assessoramento para o exercício de cargo em comissão ou de confiança.
- (C) Os servidores eleitos para dirigentes sindicais ficam à disposição do seu sindicato, com ônus para o destino, nas proporções delimitadas pela norma, dentre as quais a de que a categoria profissional cujo montante de servidores na base sindical seja de até 1000 (mil) servidores, terá direito a licenciar até 5 (cinco) servidores.
- (D) A remuneração e o subsídio mensal dos ocupantes de cargos, funções e empregos públicos dos Poderes Executivo e Legislativo terão como limite o subsídio mensal do Governador e dos Deputados Estaduais, respectivamente.
- (E) Os servidores dos Poderes Executivo, Legislativo e Judiciário poderão ser transferidos ou removidos *ex-officio* para cargo ou função que devam exercer fora da localidade de sua residência, sem o seu consentimento, a qualquer momento.

História e Geografia de Rondônia

33

Rondônia integra o bioma Amazônia e apresenta como formação vegetal predominante a floresta ombrófila aberta, que corresponde a cerca de 72% da cobertura florestal natural do estado.

Esse tipo de floresta

- (A) ocorre principalmente em áreas de transição entre a Floresta Amazônica e as regiões extra-amazônicas, onde há influência de climas relativamente mais secos.
- (B) apresenta dossel fechado, vegetação extremamente densa e elevada estratificação, com árvores que podem atingir cerca de 50 metros de altura e copas fortemente entrelaçadas.
- (C) caracteriza-se por árvores esparsas, troncos retorcidos e raízes profundas, intercaladas por um tapete contínuo de gramíneas, adaptada a climas com estações secas e com solos pobres.
- (D) resulta de áreas de reflorestamento, destinadas à exploração econômica da madeira ou da celulose, com espécies como pinus, eucalipto e também espécies nativas, como o paricá.
- (E) é marcado pelo predomínio de palmeiras, como buriti, babaçu e carnaúba, formando fisionomias específicas dentro do bioma amazônico, associadas a áreas úmidas ou de transição ecológica.

34

Em novembro de 2025, o Quilombo Forte Príncipe da Beira, localizado no município de Costa Marques (RO), foi o palco do evento “A Terra é Meu Quilombo”. A iniciativa promoveu uma imersão em arqueologia pública e educação patrimonial, unindo moradores do quilombo e pesquisadores da Universidade Federal de Rondônia (UNIR) em escavações arqueológicas comunitárias, oficinas e rodas de conversa. O principal objetivo do evento foi utilizar a arqueologia como instrumento de fortalecimento identitário: “Não estamos apenas procurando fragmentos do passado. Estamos desenterrando as provas materiais da nossa longa existência aqui, resgatando uma história que foi sistematicamente apagada. Cada fragmento encontrado no nosso quintal é um fio que tece a narrativa da nossa resistência e fortalece o nosso direito a esta terra”, afirma Lulu, presidente da Associação Quilombola do Forte Príncipe da Beira (ASQFORTE).

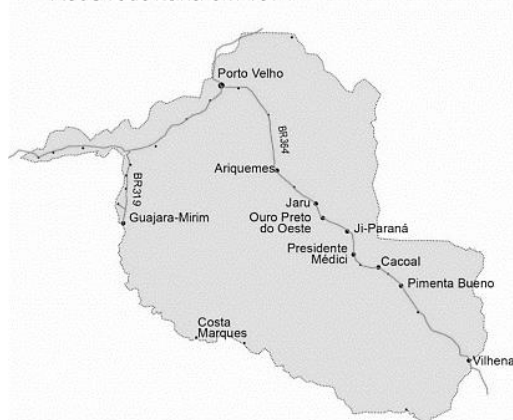
Adaptado de <https://www.unir.br/cartao/exibir/313>

Com base no relato sobre o evento “A Terra é Meu Quilombo”, realizado no Quilombo Forte Príncipe da Beira (Costa Marques–RO), e considerando a trajetória histórica das comunidades quilombolas em Rondônia, assinale a afirmativa correta.

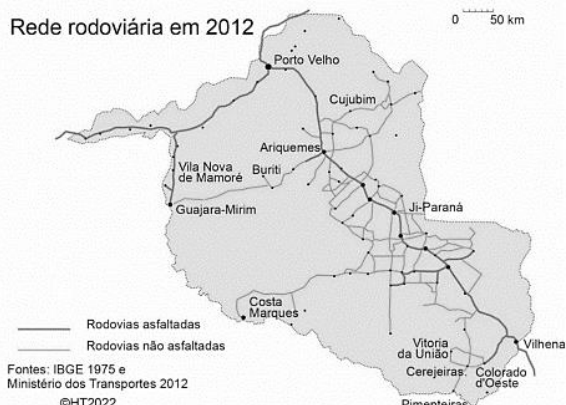
- (A) A utilização da arqueologia pública no quilombo visa a uma reconstituição acadêmica do passado, vinculada aos preceitos da objetividade e da isenção científicas.
- (B) As comunidades quilombolas em Rondônia constituíram-se no período posterior à Constituição de 1988, como resultado direto das políticas de regularização fundiária.
- (C) A valorização de vestígios materiais e da memória coletiva contribui para o fortalecimento da identidade quilombola e para a reivindicação de direitos territoriais historicamente negados.
- (D) O Exército, responsável pela tutela do Forte, concedeu à comunidade remanescente de quilombos Forte Príncipe da Beira o título coletivo de propriedade das terras, impossibilitando a venda da área, e garantindo a sobrevivência das gerações futuras.
- (E) A arqueologia aplicada a territórios quilombolas visa à preservação patrimonial do sítio e pode ser utilizada para titulação da comunidade, por isso o conhecimento científico se sobrepõe aos saberes tradicionais da comunidade.

35

Rede rodoviária em 1974



Rede rodoviária em 2012



A respeito das mudanças no desenvolvimento viário e na ocupação territorial de Rondônia entre 1974 e 2012, considere os dois mapas e avalie as afirmativas a seguir.

- I. Em 1974, a rede viária era incipiente e fortemente concentrada na BR-364, eixo estruturante que ligava Porto Velho ao sul do território e ao Centro-Sul do país. A ocupação territorial acompanhava esse traçado linear: os núcleos urbanos e as atividades econômicas estavam majoritariamente alinhados à rodovia, com vastas áreas do interior ainda pouco acessíveis.
- II. Em 2012, observa-se uma ampliação significativa e a diversificação da malha viária, com a multiplicação de rodovias federais, estaduais e vicinais, tanto asfaltadas quanto não. Esse adensamento da rede indica a interiorização da ocupação, a consolidação de novos municípios e a articulação entre diferentes polos regionais, como Ariquemes, Ji-Paraná e Vilhena.
- III. A expansão da rede viária atuou como principal vetor da ocupação do território, funcionando simultaneamente como causa e consequência desse processo. Em 1974, a malha rodoviária era limitada basicamente à BR-364 e à BR-425, esta última responsável por substituir a Ferrovia Madeira-Mamoré na ligação entre Porto Velho e Guajará-Mirim. Já em 2012, observa-se a formação de uma rede rodoviária mais ampla e articulada, desenvolvida a partir desse eixo central e responsável por promover a expansão e a interiorização da ocupação territorial.

Está correto o que se afirma em

- (A) I, apenas.
- (B) II, apenas.
- (C) I e II, apenas.
- (D) II e III, apenas.
- (E) I, II e III.

36

Com a elevação de Rondônia à condição de Estado da Federação, no início da década de 1980, tornou-se necessário organizar suas instituições políticas e administrativas, entre elas o Poder Legislativo estadual. Esse processo envolveu eleições, a atuação de uma Assembleia Constituinte e a definição das bases constitucionais do novo ente federativo.

Nesse contexto, assinale a afirmativa que descreve corretamente um aspecto da história do Poder Legislativo do estado de Rondônia.

- (A) A primeira eleição no recém-criado estado de Rondônia ocorreu em novembro de 1982, quando a população escolheu o novo governador e os 24 deputados estaduais que teriam a missão de atuar como constituintes.
- (B) Durante a Assembleia Constituinte, realizada entre fevereiro e agosto de 1983, o papel legislador era exercido pelo Governador que legislava mediante decretos-leis.
- (C) A efetiva implantação do Poder Legislativo aconteceu em agosto de 1983, quando foi reformada a Constituição, a Assembleia Constituinte foi extinta e a Assembleia Legislativa foi instalada.
- (D) No texto da primeira Constituição de Rondônia foi inserido um dispositivo que garantia à Câmara e ao Tribunal de Contas autonomia administrativa e financeira, algo então inexistente, e que foi absorvido no texto da Constituição Federal de 1988.
- (E) Atualmente, o Poder Legislativo do estado de Rondônia é exercido por 24 deputados estaduais eleitos a cada quatro anos, cujo número corresponde ao dobro da representação do Estado na Câmara dos Deputados.

37

Desde o período colonial, a região dos vales dos rios Guaporé e Madeira ocupou posição estratégica na definição das fronteiras amazônicas.

A respeito do papel histórico e atual da região citada, avalie as afirmativas a seguir e assinale (V) para verdadeira e (F) para falsa.

- () Nos primeiros séculos da colonização, a presença portuguesa na região esteve associada à exploração econômica, à navegação fluvial e à necessidade de assegurar a posse territorial frente ao império espanhol.
- () Ao longo do século XX, políticas de integração nacional, como a criação do Território Federal do Guaporé, a construção da Ferrovia Madeira-Mamoré e, posteriormente, da rodovia BR-364, buscaram fortalecer a presença do Estado brasileiro e integrar a Amazônia Ocidental ao restante do país.
- () Atualmente, a região continua sendo estratégica, enfrentando desafios relacionados ao controle das fronteiras internacionais, à circulação de pessoas e mercadorias, às migrações e à atuação do Estado na garantia da soberania nacional.

As afirmativas são, respectivamente,

- (A) V – F – V.
- (B) V – V – F.
- (C) F – V – V.
- (D) F – V – F.
- (E) V – V – V.

38

No final do século XIX e no início do século XX, a economia da borracha na Amazônia esteve estreitamente ligada às disputas territoriais na região do atual Acre e às redefinições do mapa político da América do Sul, intensificadas após a independência de antigas colônias espanholas, como a Bolívia.

Nesse contexto, a construção da Estrada de Ferro Madeira-Mamoré esteve inserida em um conjunto de medidas políticas, diplomáticas e econômicas adotadas pelo Estado brasileiro para enfrentar esses impasses.

Com base nesse cenário histórico, assinale a afirmativa correta.

- (A) A construção da Estrada de Ferro Madeira-Mamoré inseriu-se no contexto da chamada Revolução Acreana, desencadeada pela disputa entre o Império do Brasil e a República da Bolívia pela região que corresponde ao atual estado do Acre, então valorizada pela exploração dos seringais.
- (B) Em 1899, a Bolívia apoiou a proclamação da chamada República Independente do Acre, liderada pelo espanhol Luís Gálvez Rodríguez de Arias, ao mesmo tempo em que negociou a concessão do território ao truste anglo-americano Bolivian Syndicate, com o objetivo de organizar a produção e a exportação da borracha acreana.
- (C) O governo de Campos Sales, com sede no Rio de Janeiro, recusou inicialmente o reconhecimento da República do Acre e, em defesa do cumprimento dos tratados internacionais firmados com a Bolívia – especialmente o Tratado de Ayacucho, de 1867 –, determinou o envio de tropas federais para retomar o controle do território acreano.
- (D) Em 1901, o Brasil encaminhou a disputa para a via diplomática, resultando na assinatura do Tratado de Petrópolis (1903), pelo qual o Acre foi incorporado ao Brasil, que, em contrapartida, comprometeu-se a construir uma ferrovia para viabilizar o escoamento da borracha pelo rio Madeira até Porto Velho.
- (E) A Estrada de Ferro Madeira-Mamoré foi concluída em 1912, no contexto de expansão do comércio da borracha, atuando como importante vetor de integração e dinamização econômica regional até a década de 1970, quando foi substituída pelo transporte rodoviário.

39



Mapa das linhas telegráficas após os trabalhos da Comissão Rondon. Fonte: Obras Raras Fiocruz

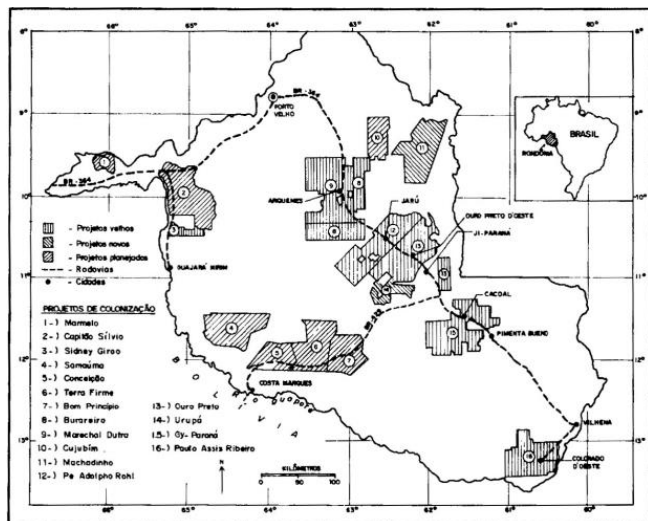
A imagem apresentada corresponde a um mapa utilizado nas palestras do Coronel Cândido Mariano da Silva Rondon, no qual estava representado o fechamento do circuito de comunicações telegráficas do Brasil, resultado dos trabalhos da Comissão Rondon, no início do século XX.

Considerando esse contexto histórico, o principal objetivo da Comissão Rondon foi

- (A) realizar o mapeamento das fronteiras do sertão brasileiro, concebido como referência da autenticidade nacional, com finalidade predominantemente cultural e ideológica.
- (B) apoiar missões científicas e sanitárias do Instituto Oswaldo Cruz, especialmente as voltadas ao estudo de doenças tropicais na região do rio Madeira e as dirigidas à saúde indígena.
- (C) implantar linhas telegráficas entre o Centro-Oeste e a Amazônia, conectando Cuiabá a Porto Velho, com vistas à integração territorial e à ampliação das comunicações nacionais.
- (D) desenvolver ações de integração econômica entre a capital federal e os estados do Norte e Centro-Oeste e incentivar a imigração durante o governo de Afonso Pena.
- (E) catalogar recursos naturais e etnias indígenas, para retratar a riqueza singular da cultura brasileira, em sintonia com os valores do modernismo.

40

A figura a seguir mostra a localização dos projetos de assentamento da década de 1970 implantados ao longo da BR-364, rodovia que percorre todo o estado, ligando Rondônia ao Acre e a Mato Grosso.



Fonte: Fearnside, 1989

No contexto do regime militar, o projeto de colonização oficial conduzido pelo INCRA em Rondônia

- (A) buscou promover a ocupação agrícola extensiva do território por meio dos Projetos Integrados de Colonização (PICs), que previam a distribuição de pequenos lotes, financiados com recursos públicos e privados.
- (B) foi direcionado a famílias migrantes, sobretudo oriundas da região Nordeste do Brasil, afetadas pelas recorrentes secas do sertão, incentivando a agricultura familiar e a pecuária de pequeno porte, sobretudo caprina.
- (C) envolvia a concessão do direito de uso de terras públicas, inicialmente sem a titulação definitiva da propriedade, associada à organização administrativa dos assentamentos e à oferta de serviços básicos aos colonos.
- (D) visava reduzir os chamados “vazios demográficos” da Amazônia e integrar a região ao restante do país, por meio do estímulo à migração interna e da ampliação da presença do Estado no território.
- (E) concentrou os assentamentos ao longo da BR-364, o que condicionou o padrão de ocupação do espaço rondoniense e inviabilizou a interiorização do povoamento e a consolidação de núcleos urbanos no interior do estado.

MÓDULO II

Conhecimentos Específicos

41

Considere que, ao consultar o *site* institucional de uma Assembleia Legislativa, sejam identificados, no âmbito de seu referencial estratégico, os seguintes dizeres: “Representar o povo, elaborar leis e fiscalizar os atos da Administração Pública”.

Com base nos conceitos de planejamento e gestão estratégica, o trecho apresentado é um exemplo de

- (A) missão.
- (B) visão.
- (C) princípio institucional.
- (D) valores culturais.
- (E) negócio.

42

Avale se as características presentes nos contratos administrativos incluem

- I. consensualidade, pois se aperfeiçoam com o acordo de vontades entre a Administração Pública e o contratado;
- II. informalidade, uma vez que prescinde do atendimento a um formato padrão;
- III. unilateralidade, por impor obrigações exclusivamente ao particular contratado.

Está correto o que se apresenta em

- (A) I, apenas.
- (B) II, apenas.
- (C) I e II, apenas.
- (D) II e III, apenas.
- (E) I, II e III.

43

No contexto dos modelos de Administração Pública, uma abordagem que propõe tratar os indivíduos como clientes, entendendo-os como usuários e destinatários dos serviços públicos ofertados pelo Estado, com o objetivo de assegurar sua satisfação, é a(o)

- (A) patrimonialista.
- (B) monoteísta.
- (C) burocrática.
- (D) corporativista.
- (E) consumerism.

44

Nas discussões acerca dos modelos governamentais mais adequados às demandas da sociedade, surgiram diferentes concepções que propõem mudanças na forma de atuação do Estado, entre as quais se destaca o conceito de empreendedorismo governamental.

Com base nesse modelo, avalie as assertivas a seguir.

- I. Os governos devem convocar os cidadãos a participar das decisões que afetam sua comunidade.
- II. Os governos devem atuar de forma preventiva diante dos problemas públicos, em vez de concentrar esforços apenas em seu tratamento.
- III. O governo deve incentivar a competição na prestação de serviços públicos, com vistas à ampliação da eficiência.

Os ideais condizentes com os princípios do empreendedorismo governamental incluem

- (A) I, apenas.
- (B) II, apenas.
- (C) I e II, apenas.
- (D) II e III, apenas.
- (E) I, II e III.

45

Durante um processo de seleção para um novo líder, uma empresa solicita o levantamento do histórico pessoal e profissional dos candidatos, bem como a realização de entrevistas com pessoas que tiveram contato prévio com eles, com o objetivo de identificar características apresentadas desde a infância.

À luz das teorias de liderança, a abordagem descrita fundamenta-se na seguinte teoria:

- (A) *grid* gerencial.
- (B) liderança situacional.
- (C) estilos de liderança.
- (D) bidimensional.
- (E) dos traços.

46

Com relação aos processos típicos de Gestão de Pessoas, conforme a classificação tradicional da área, pertencem ao processo de aplicar pessoas:

- (A) a descrição de cargos e a avaliação de desempenho.
- (B) a gestão do conhecimento e o treinamento de pessoal.
- (C) a administração da cultura e da qualidade de vida no trabalho (QVT).
- (D) o estabelecimento de recompensas e a oferta de benefícios sociais.
- (E) o suprimento de funcionários e o monitoramento das atividades.

47

A escolha entre diferentes formas de estruturação do processo decisório é fundamental para o funcionamento das atividades de uma instituição, pois impacta diretamente a eficiência e o alcance das decisões. Ao considerar essa escolha, é importante avaliar minuciosamente as vantagens e desvantagens de cada uma das abordagens possíveis.

Com base nessa visão, avalie se as vantagens da centralização incluem:

- I. maior uniformidade de procedimentos;
- II. maior agilidade e flexibilidade nas tomadas de decisões;
- III. maior estímulo à criatividade e inovação.

Está correto o que se indica em

- (A) I, apenas.
- (B) II, apenas.
- (C) I e II, apenas.
- (D) II e III, apenas.
- (E) I, II e III.

48

Leia o fragmento a seguir.

Com relação ao método ABC, amplamente utilizado na gestão de estoques para classificar itens conforme sua importância econômica, em regra, a classe A é composta por itens que representam cerca de _____ do valor do estoque está concentrado em aproximadamente _____ dos itens.

Assinale a opção preenche corretamente as lacunas do fragmento acima.

- (A) 90% – 5%.
- (B) 80% – 10%.
- (C) 80% – 20%.
- (D) 70% – 20%.
- (E) 50% – 20%.

49

Uma tarefa necessária ao bom gestor é o uso da comunicação adequada para cada tipo de situação. Nesse sentido, ele pode se pautar na ideia de riqueza dos canais de comunicação, que trata da multiplicidade de sinais de cada canal escolhido.

Nesse contexto, avalie se as situações em que o uso de canais de comunicação pobres é mais recomendado incluem

- I. transmissão de uma mensagem que deve permanecer registrada para consulta e conferência futuras;
- II. comunicação de uma informação que precisa alcançar um grande número de pessoas, de forma rápida e padronizada;
- III. comunicação de uma mensagem que não deve deixar margem para ambiguidades ou interpretações divergentes.

Está correto o que se afirma em

- (A) I, apenas.
- (B) II, apenas.
- (C) I e II, apenas.
- (D) II e III, apenas.
- (E) I, II e III.

50

A Lei nº 14.133/2021 prevê um conjunto de sanções administrativas que podem ser aplicadas pela Administração Pública, como forma de disciplinar os vínculos decorrentes dos contratos administrativos, tendo o objetivo de prevenir, reprimir e coibir irregularidades.

Com base nesse entendimento, avalie as assertivas a seguir.

- I. A advertência pode ser aplicada nos casos de inexecução parcial do contrato.
- II. A declaração de inidoneidade produz efeitos permanentes, restritos ao âmbito do ente federativo que aplicou a sanção.
- III. A suspensão temporária pode ser aplicada pelo prazo de até 5 (cinco) anos, com efeitos perante todos os entes da Administração Pública.

Representa(m) corretamente penalidade(s) prevista(s) na Lei nº 14.133 que rege os contratos administrativos:

- (A) I, apenas.
- (B) II, apenas.
- (C) I e II, apenas.
- (D) II e III, apenas.
- (E) I, II e III.

51

Com relação às divergências entre a gestão pública e a gestão privada, avalie as assertivas a seguir.

- I. Enquanto há maior rotatividade das gerências na gestão pública, a gestão privada apresenta maior estabilidade gerencial.
- II. Enquanto há maior autonomia decisória na gestão pública, a gestão privada sofre fortes ingerências externas em seus processos decisórios.
- III. Enquanto a administração pública se preocupa prioritariamente com a efetividade, a gestão privada se preocupa exclusivamente com a eficiência.

Está correto o que se afirma em

- (A) I, apenas.
- (B) II, apenas.
- (C) I e II, apenas.
- (D) II e III, apenas.
- (E) I, II e III.

52

A gestão de documentos utiliza o conceito de idade administrativa para avaliar a importância dos documentos e definir as ações a serem adotadas em relação aos diferentes tipos de arquivos.

Em relação ao tema, é correto afirmar que os arquivos considerados de primeira idade

- (A) ficam localizados próximos aos produtores e possuem valor primário.
- (B) são preservados permanentemente e possuem valor histórico.
- (C) possuem valor secundário e permitem livre acesso ao público geral.
- (D) estão localizados em local distante dos produtores e devem ser permanentemente conservados.
- (E) possuem valor histórico e são de caráter transitório.

53

Em relação às diferentes técnicas de restauração e conservação de documentos, analise as assertivas a seguir.

- I. O método do banho de gelatina tem como desvantagem a atração de insetos.
- II. O método da estabilização utiliza *crepeline* de seda para impedir a passagem dos raios ultravioleta.
- III. A laminação mecânica envolve o uso de folhas de amido para forrar o documento, o que prejudica a sua legibilidade.

Está correto o que se afirma em

- (A) I, apenas.
- (B) II, apenas.
- (C) I e II, apenas.
- (D) II e III, apenas.
- (E) I, II e III.

54

Avalie se as características da descentralização administrativa por outorga incluem

- I. ser realizada por meio de lei;
- II. implicar a transferência exclusiva da execução do serviço público;
- III. estabelecer vínculo com um particular, da iniciativa privada, previamente existente.

Está correto o que se afirma em

- (A) I, apenas.
- (B) II, apenas.
- (C) I e II, apenas.
- (D) II e III, apenas.
- (E) I, II e III.

55

Ao implementar o sistema Just in Time (JIT) em uma organização, o CEO deve ter em mente que essa filosofia de gestão da produção apresenta o seguinte benefício esperado:

- (A) economia com custos de manutenção de estoque.
- (B) inexistência de investimento inicial com treinamentos.
- (C) independência logística de fornecedores específicos.
- (D) proteção natural para variações críticas de demanda.
- (E) simplificação no planejamento preditivo de pedidos futuros.

56

Após iniciar suas atividades em uma nova organização, Josemildo recebeu a incumbência de acompanhar aspectos relacionados ao controle das atividades desenvolvidas em sua área. No exercício dessa função, passou a lidar com diferentes ações de controle, realizadas em momentos distintos do processo de trabalho.

Considerando esses momentos do controle, avalie se os seguintes itens se relacionam com o controle preliminar:

- I. verificação dos insumos que serão utilizados nas atividades;
- II. atuação reativa das medidas;
- III. avaliação do desempenho da atividade.

Está correto o que se indica em

- (A) I, apenas.
- (B) II, apenas.
- (C) I e II, apenas.
- (D) II e III, apenas.
- (E) I, II e III.

57

Embora não constitua a regra na Administração Pública, há situações excepcionais em que a legislação admite a celebração de contratos com prazo indeterminado.

Um exemplo de hipóteses em que é admitido contrato por prazo indeterminado, conforme previsto na Lei nº 14.133/2021, é

- (A) a aquisição de materiais de uso exclusivo das Forças Armadas.
- (B) a contratação de bens de alta complexidade tecnológica produzidos no país.
- (C) a contratação de serviços contínuos de programas de informática.
- (D) quando a Administração Pública for usuária de serviço oferecido em regime de monopólio.
- (E) a contratação que envolva transferência de tecnologia de produtos estratégicos para o SUS.

58

Com relação ao uso do Ciclo PDCA, é correto afirmar que ele tem como objetivo alcançar

- (A) a melhoria contínua do processo por meio de execução sequencial de etapas iterativas.
- (B) zero defeito por meio de priorização dos problemas a serem enfrentados.
- (C) a uniformidade por meio do estabelecimento de zonas limítrofes de variabilidade.
- (D) a identificação de atividades de maior valor agregado, por meio de esquematização das atividades.
- (E) a redução do tempo de realização das atividades, por meio de análise de correlação das variáveis.

59

No campo da Administração, diversas ferramentas são utilizadas para auxiliar a análise da organização e do ambiente em que ela atua. Entre essas ferramentas, destaca-se a Análise SWOT, amplamente empregada no diagnóstico organizacional.

A Análise SWOT tem como função identificar

- (A) o nível de prioridade de cada problema a ser enfrentado pela organização, considerando a tendência de evolução, a urgência de resolução e a gravidade.
- (B) a participação no mercado, a necessidade de investimento e o potencial de cada serviço ou produto ofertado pela organização.
- (C) o grau de rivalidade entre os concorrentes do setor, por meio do cotejo dos riscos de produtos substitutos e novos entrantes, e o poder de barganha dos clientes e fornecedores.
- (D) os pontos fortes e fracos da organização, bem como as oportunidades e ameaças existentes no setor em que ela se insere.
- (E) a vantagem competitiva da organização, discriminando aspectos de foco, liderança em custo e diferenciação do produto ou serviço ofertado.

60

Considere a situação em que um técnico de futebol, em um momento decisivo do campeonato, enfrenta a ocorrência de várias lesões graves em sua equipe.

Ainda assim, ao conceder uma coletiva de imprensa, ele opta por selecionar e apresentar as informações, de forma a transmitir a impressão de que os jogadores estarão aptos a retornar aos jogos em breve.

Nesse contexto, esse tipo de barreira de comunicação é classificado como barreira

- (A) física.
- (B) de sobrecarga de informação.
- (C) de linguagem.
- (D) de filtragem.
- (E) semântica.

61

No âmbito da organização administrativa do Estado, a estrutura administrativa pode ser organizada por meio de um processo conhecido por desconcentração, caracterizado pela distribuição interna de competências dentro de uma mesma pessoa jurídica.

Diante disso, assinale a opção que apresenta uma estrutura formada por desconcentração administrativa.

- (A) IPERON (Instituto de Previdência dos Servidores do Estado de Rondônia).
- (B) CAERD (Companhia de Águas e Esgotos de Rondônia).
- (C) Banco do Povo de Rondônia.
- (D) SEFIN-RO (Secretaria de Estado de Finanças do Estado de Rondônia).
- (E) IDARON (Agência de Defesa Sanitária Animal e Vegetal).

62

Com relação às diversas fases existentes no processo de evolução histórica da gestão da qualidade, avalie as assertivas a seguir.

- I. A detecção de não conformidades, com o objetivo de assegurar a uniformidade dos produtos e com ênfase na verificação, caracteriza a Era da Inspeção da Qualidade.
- II. A ênfase na prevenção da qualidade, voltada para a capacitação e o treinamento dos funcionários, caracteriza a Era da Garantia da Qualidade.
- III. A ênfase na satisfação dos clientes, com forte participação da liderança no processo de qualidade, caracteriza a Era do Controle Estatístico da Qualidade.

Está correto o que se afirma em

- (A) I, apenas.
- (B) II, apenas.
- (C) I e II, apenas.
- (D) II e III, apenas.
- (E) I, II e III.

63

Considere uma organização na qual se observa forte compartilhamento de normas, crenças e rituais, os quais orientam e regulam o comportamento dos funcionários, contribuindo para a coordenação das atividades e para o alcance dos objetivos organizacionais.

Evidencia-se, na situação descrita, uma abordagem de controle do tipo

- (A) de mercado.
- (B) burocrático.
- (C) de clã.
- (D) localizado.
- (E) de *benchmarking*.

64

Ao implantar um sistema de classificação de materiais, uma organização constatou que o modelo adotado não se adaptava às suas necessidades específicas e, além disso, não contemplava de forma adequada a totalidade dos materiais existentes no estoque. Diante desse cenário, evidencia-se que o sistema de classificação de materiais não atendia, respectivamente, aos atributos de

- (A) abrangência e flexibilidade.
- (B) abrangência e praticidade.
- (C) flexibilidade e abrangência.
- (D) flexibilidade e praticidade.
- (E) praticidade e abrangência.

65

As organizações podem adotar diferentes modelos e estratégias de recrutamento e seleção de pessoal, conforme suas necessidades, recursos disponíveis e o perfil profissional desejado. Cada uma dessas abordagens apresenta características, vantagens e limitações próprias.

Em relação ao tema, avalie as assertivas acerca dos processos de recrutamento e seleção de pessoal.

- I. O recrutamento por *headhunter* é voltado para atrair profissionais de alta qualificação e escassos no mercado.
- II. O recrutamento interno tem como diferencial importante o seu baixo custo, em relação a outros tipos de recrutamento.
- III. No modelo de colocação, por haver apenas um candidato para uma vaga específica, não é possível a rejeição.

Está correto o que se afirma em

- (A) I, apenas.
- (B) II, apenas.
- (C) I e II, apenas.
- (D) II e III, apenas.
- (E) I, II e III.

66

Entre as teorias que abordam os estilos de negociação, destaca-se aquela que classifica o comportamento do negociador a partir da relação entre a intensidade com que orienta suas ações para a tarefa e para o relacionamento. A combinação dessas duas dimensões resulta em diferentes posicionamentos ou estratégias que podem ser adotados no processo negociador.

Com base nesse referencial teórico, assinale a opção que apresenta corretamente o estilo de negociação e seu respectivo conceito.

- (A) Uso do poder: alto interesse na tarefa e alto interesse no relacionamento.
- (B) Barganha: médio interesse na tarefa e médio interesse no relacionamento.
- (C) Amaciamento: baixo interesse na tarefa e baixo interesse no relacionamento.
- (D) Fuga: baixo interesse na tarefa e alto interesse no relacionamento.
- (E) Integração: alto interesse na tarefa e baixo interesse no relacionamento.

67

Uma grande rede de supermercados de Rondônia, insatisfeita com a baixa qualidade de parte dos produtos agrícolas fornecidos por terceiros, decidiu ampliar suas atividades por meio da aquisição de lotes de terra, passando a produzir, internamente, parte dos alimentos que serão comercializados em suas próprias lojas, com o objetivo de assegurar padrões técnicos mais rigorosos de seus produtos.

Com base nessa situação hipotética, a estratégia logística adotada pela organização é a

- (A) verticalização para trás.
- (B) verticalização para frente.
- (C) horizontalização para a esquerda.
- (D) horizontalização para a direita.
- (E) segmentação diagonal.

68

Em um processo de avaliação de desempenho em uma organização, um avaliador seleciona as seguintes afirmações, cada uma pertencente a um bloco diferente, para caracterizar determinado colaborador:

- É pontual.
- Evita se posicionar em assuntos críticos.
- Mantém boa relação com a equipe.
- Ainda está em fase de aprendizagem de suas atribuições.

A situação apresentada evidencia a utilização do método de avaliação de desempenho conhecido como

- (A) Incidentes Críticos.
- (B) Escolha Forçada.
- (C) Pesquisa de Campo.
- (D) Avaliação 360.
- (E) Ordenação Simples.

69

Com relação às funções da administração, entendidas como atribuições essenciais do administrador para garantir o bom funcionamento e a orientação das atividades da organização em que atua, avalie se as ações da função planejamento incluem:

- I. Focalizar esforços;
- II. Reduzir o impacto do ambiente;
- III. Potencializar o autoconhecimento organizacional.

Está correto o que se apresenta em

- (A) I, apenas.
- (B) II, apenas.
- (C) I e II, apenas.
- (D) II e III, apenas.
- (E) I, II e III.

70

Em razão das peculiaridades dos contratos administrativos, a legislação (Lei nº 14.133/2021) prevê a existência das chamadas cláusulas exorbitantes, que conferem à Administração Pública prerrogativas de atuação unilateral, inexistentes nos contratos de direito privado.

Com base nesse entendimento, um exemplo de cláusula exorbitante é

- (A) a substituição da garantia de execução contratual.
- (B) a alteração qualitativa decorrente de modificação do projeto.
- (C) a modificação do regime de execução da obra ou serviço.
- (D) a modificação da forma de pagamento dos valores.
- (E) o restabelecimento do equilíbrio econômico-financeiro contratual em caso de força maior.

71

Os princípios que regem a Administração Pública têm por finalidade orientar a atuação do agente público no exercício de suas funções. Nesse contexto, parte desses princípios encontra-se expressamente prevista na Constituição Federal de 1988, enquanto outros foram identificados pela doutrina e pela jurisprudência como princípios implícitos, extraídos da interpretação jurídica do texto constitucional.

Com base nesse entendimento, um princípio expressamente previsto na Constituição Federal é a

- (A) razoabilidade.
- (B) proporcionalidade.
- (C) motivação.
- (D) autotutela.
- (E) moralidade.

72

Josué, após concluir sua pós-graduação na área de Administração de Empresas, foi contratado por uma organização do setor de tecnologia para atuar na gestão, desenvolvendo planos de curto prazo, voltados para tarefas rotineiras da organização.

Nesse caso, com relação ao nível de atuação, Josué foi responsável pelo planejamento do tipo

- (A) estratégico.
- (B) institucional.
- (C) tático.
- (D) departamental.
- (E) operacional.

73

Uma organização fabril, ao analisar um problema recorrente em seus processos internos, adota um método de gestão de qualidade com o intuito de identificar relações de causa e efeito por meio da classificação e organização das características envolvidas, tais como método, mão de obra, materiais, máquinas, medidas e meio ambiente.

Nesse contexto, a ferramenta da qualidade adotada é conhecida como

- (A) 5S.
- (B) folha de verificação.
- (C) estratificação.
- (D) diagrama de dispersão.
- (E) diagrama de Ishikawa.

74

No estudo do comportamento organizacional, distintas abordagens teóricas buscam explicar a natureza e os efeitos dos conflitos dentro das organizações. Enquanto algumas correntes compreendem o conflito como um fenômeno essencialmente prejudicial, outras reconhecem que, em determinados níveis, ele pode ser funcional, estimulando a criatividade e a inovação nas equipes, razão pela qual pode ser inclusive incentivado.

À luz desse entendimento, a abordagem segundo a qual o conflito pode ser desejável e benéfico ao desempenho dos grupos é a

- (A) visão interacionista.
- (B) visão tradicional.
- (C) visão de resolução de conflitos.
- (D) visão do conflito administrado.
- (E) visão das relações humanas.

75

Uma organização, ao analisar sua estrutura interna, identificou como vantagens a facilidade na obtenção de economias de escala e o uso mais eficiente dos recursos, decorrentes da especialização das atividades. Como desvantagem, observaram-se a dificuldade de coordenação entre as áreas e a menor visão do todo organizacional.

Evidencia-se, na situação apresentada, um exemplo de estrutura organizacional do tipo

- (A) funcional.
- (B) em linha.
- (C) divisional.
- (D) projetizada.
- (E) circular.

76

Uma organização, atenta às particularidades de seu processo produtivo, adotou um *layout* logístico voltado à alta produtividade, com foco na padronização das operações.

Considerando a necessidade da organização, é correto afirmar que ela escolheu o *layout*

- (A) por processo, com o produto fixado em um local específico, enquanto os recursos e as operações se deslocam ao seu redor.
- (B) por produto, com o maquinário posicionado de acordo com a sequência de montagem dos produtos, assegurando um fluxo contínuo.
- (C) celular, organizando os recursos por funções semelhantes, com o produto e os materiais alternando a movimentação entre as células.
- (D) estacionário, no qual a operação é segmentada por zonas específicas de trabalho, conforme os tipos de atividades realizadas.
- (E) posicional, em que os produtos iniciam em um fluxo único e são distribuídos para agrupamentos específicos voltados a segmentos distintos.

77

Um órgão da Administração Pública Estadual de Rondônia, responsável pela gestão e guarda de processos administrativos físicos, decide modernizar seu sistema de arquivamento com o objetivo de facilitar a identificação, a localização e o manuseio dos documentos. Para tanto, o órgão adota um método que associa cada letra do alfabeto a uma cor específica, permitindo a rápida visualização e recuperação dos documentos arquivados.

Com base nessa situação hipotética, o método de arquivamento adotado foi o

- (A) duplex.
- (B) ideográfico.
- (C) variadex.
- (D) alfanumérico.
- (E) geográfico.

78

Considere uma situação hipotética em que um grupo de indivíduos em extrema vulnerabilidade social não tem qualquer necessidade básica atendida. Diante desse contexto, uma organização não governamental (ONG) decide implementar ações voltadas à motivação desse grupo, tomando como referência a teoria da hierarquia das necessidades humanas.

De acordo com essa teoria, a necessidade que deveria ser priorizada para promover a motivação desses indivíduos é (são) a(s) necessidade(s)

- (A) de autorrealização.
- (B) de segurança.
- (C) sociais.
- (D) fisiológicas.
- (E) de estima.

79

Após anos de dedicação aos estudos, Tânia foi aprovada em concurso público para atuar em uma entidade da Administração Pública indireta. Motivada pela busca de estabilidade no serviço público, a candidata pretende, após o cumprimento do estágio probatório de três anos, consolidar sua carreira na instituição, adquirindo, assim, a estabilidade prevista em lei.

Considerando as características das entidades que integram a Administração Pública indireta, é correto afirmar que a entidade para a qual Tânia foi aprovada pode ser

- (A) uma autarquia, que é pessoa jurídica de direito público.
- (B) um órgão público, que pode exercer atividades econômicas.
- (C) uma empresa pública, que pode ser criada por meio de decreto do Poder Executivo.
- (D) uma organização social, que não possui personalidade jurídica.
- (E) uma sociedade de economia mista, que representa a personificação do patrimônio público.

80

Com relação à teoria do reforço da motivação, considere a situação em que uma organização, ao identificar a ocorrência de um comportamento desejável por parte de um indivíduo, decide eliminar uma consequência desagradável anteriormente associada à sua atuação.

Nessa situação, evidencia-se a aplicação da técnica conhecida como

- (A) reforço positivo.
- (B) reforço negativo.
- (C) reforço de valência.
- (D) reforço de punição.
- (E) reforço coercitivo.

Realização

