

MPSPMINISTÉRIO PÚBLICO
DO ESTADO DE SÃO PAULO

MINISTÉRIO PÚBLICO DO ESTADO DE SÃO PAULO

TARDE

OFICIAL DE PROMOTORIA I

TIPO 1 – BRANCA



SUA PROVA

- Além deste caderno contendo **80 (oitenta)** questões objetivas, você receberá do fiscal de prova o cartão de respostas;
- As questões objetivas têm **5 (cinco)** alternativas de resposta (A, B, C, D e E) e somente uma delas está correta.



TEMPO

- Você dispõe de **4 (quatro) horas** para a realização da prova, já incluído o tempo para a marcação do cartão de respostas e preenchimento da folha de textos definitivos.
- **3 (três) horas** após o início da prova é possível retirar-se da sala, sem levar o caderno de prova.
- A partir dos **30 (trinta) minutos** anteriores ao término da prova é possível retirar-se da sala **levando o caderno de provas**.



NÃO SERÁ PERMITIDO

- Qualquer tipo de comunicação entre os candidatos durante a aplicação da prova.
- Anotar informações relativas às respostas em qualquer outro meio que não seja o caderno de questões.
- Levantar da cadeira sem autorização do fiscal de sala.
- Usar o sanitário ao término da prova, após deixar a sala.



INFORMAÇÕES GERAIS

- Verifique se seu caderno de questões está completo, sem repetição de questões ou falhas. Caso contrário, notifique imediatamente o fiscal da sala, para que sejam tomadas as devidas providências.
- Confira seus dados pessoais, especialmente nome, número de inscrição e documento de identidade e leia atentamente as instruções para preencher o cartão de respostas.
- Use somente caneta esferográfica, fabricada em material transparente, com tinta preta ou azul.
- Assine seu nome apenas no(s) espaço(s) reservado(s).
- Confira seu cargo, cor e tipo do caderno de provas. Caso tenha recebido caderno de cargo ou cor ou tipo **diferente** do impresso em seu cartão de respostas, o fiscal deve ser **obrigatoriamente** informado para o devido registro na ata da sala.
- Reserve tempo suficiente para o preenchimento do seu caderno de respostas. O preenchimento é de sua responsabilidade e **não** será permitida a troca da folha de respostas e da folha de textos definitivos em caso de erro cometido pelo candidato.
- Para fins de avaliação, serão levadas em consideração apenas as marcações realizadas no cartão de respostas.
- A FGV coletará as impressões digitais dos candidatos na lista de presença.
- Os candidatos serão submetidos ao sistema de detecção de metais quando do ingresso e da saída de sanitários durante a realização das provas.
- **Boa sorte!**

Módulo I

Língua Portuguesa

1

Numa de suas famosas crônicas, Machado de Assis faz o seguinte comentário: “Há um bom costume na Índia que eu quisera ver adotado no resto do mundo, ou pelo menos aqui no Rio de Janeiro. A visita não é que se despede; é o dono da casa que a manda embora”.

Como ocorre em todo ato comunicativo, a linguagem nele empregada mostra uma função predominante; neste caso, a função predominante da linguagem é

- (A) metalinguística, pois concentra o foco no significante linguístico.
- (B) fática, pois focaliza o contato social entre os interlocutores.
- (C) referencial, pois reproduz dados da realidade.
- (D) conativa, pois seu interesse está no convencimento do leitor.
- (E) emotiva, pois se dirige às emoções do emissor.

2

Raros são o secretário ou secretária que, enviando a alguém um documento ou um livro, não comece a carta escrevendo “Anexo lhe envio”.

Assinale a frase abaixo que está em **desacordo** com as normas gramaticais cultas.

- (A) Anexo lhe envio os documentos e as fotos.
- (B) Em anexo lhe envio os documentos e as fotos.
- (C) Anexos lhe envio os documentos e as fotos.
- (D) Envio-lhe os documentos e as fotos anexos.
- (E) Envio-lhe, em anexo, os documentos e as fotos.

3

Um dos problemas da escrita está no emprego de palavras desnecessárias devido ao fato de seu significado já estar expresso em outra palavra da mesma frase.

Assinale a opção em que isso **não** ocorre.

- (A) Inauguraram um novo supermercado no bairro.
- (B) A economia deve apresentar crescimento zero este ano.
- (C) A viagem ficou totalmente grátis.
- (D) O jogador estava mancando visivelmente.
- (E) O teatro ficou completamente lotado.

4

Entre as marcas de textualidade está a coerência.

Assinale a frase abaixo que mostra **incoerência** na expressão utilizada.

- (A) O jogo não saiu do 0 X 0.
- (B) O beque foi o autor de um gol contra.
- (C) O gol do Vasco da Gama foi feito nos descontos.
- (D) O jogador foi expulso sob vaias.
- (E) O atacante foi substituído logo ao início do segundo tempo.

5

O célebre poeta Pablo Neruda afirmou certa vez: “As religiões foram berço da poesia, e esta se juntou a elas fertilizando os mitos, colaborando como incenso no entardecer das basílicas”.

Segundo esse pensamento, a relação entre as religiões e a poesia pode ser vista do seguinte modo:

- (A) por serem de espaços culturais diferentes, a religião e a poesia são independentes uma da outra.
- (B) a religião e a poesia possuem a mesma origem, daí que mostrem semelhanças profundas.
- (C) a poesia colabora com as religiões, trazendo beleza aos mitos.
- (D) as religiões deram origem à poesia e continuam fertilizando-a com seus mitos.
- (E) a religião e a poesia mostram uma interdependência constante.

6

Um famoso bispo brasileiro, Dom Hélder Câmara, alertava: “De nada adiantará venerarmos belas imagens de Cristo se não identificarmos o Cristo na criatura humana a ser arrancada do subdesenvolvimento. No Nordeste, Cristo se chama Zé, Antônio, Severino”.

Dom Hélder Câmara estava defendendo

- (A) a substituição de uma religiosidade passiva por uma religiosidade ativa.
- (B) a necessidade de os praticantes da religião católica se dedicarem mais à política.
- (C) a troca da ação política pela ação religiosa.
- (D) o abandono da religião por uma atividade voltada essencialmente para as necessidades humanas.
- (E) a mudança de foco da atividade religiosa, dirigindo-o principalmente para o valor de Cristo.

7

Um conhecido pensador indiano disse em uma de suas reflexões: “Os sábios dizem que a vossa luz se apagará um dia”, disseram os pirilampos às estrelas. Estas, porém, não responderam nada”.

A atitude das estrelas indica:

- (A) o desprezo das coisas celestes pelas coisas terrenas.
- (B) a incompreensão do que é eterno pelo que é efêmero.
- (C) a superioridade assumida perante outros.
- (D) a fraternidade entre as coisas criadas.
- (E) a atribuição de importância a todos os seres.

8

Todas as frases abaixo mostram a temática da Natureza.

Assinale a frase em que a Natureza é mostrada como exemplo positivo para o homem.

- (A) A natureza é grande nas grandes coisas, mas é grandiosa nas pequenas coisas.
- (B) A primeira lei da natureza é que tudo está relacionado com tudo.
- (C) A natureza não se engana nunca; somos nós que nos enganamos.
- (D) Fui passear com as árvores, e o resultado é que fiquei mais alto.
- (E) Nas flores, a Terra sorri.

9

A Bíblia diz: “As flores apareceram na terra, e os pássaros começaram a cantar”.

Entre as duas ações citadas nesse segmento, a relação lógica é a de

- (A) ensino / aprendizado.
- (B) necessidade / ação.
- (C) ação / efeito.
- (D) causa / consequência.
- (E) motivação / ação.

10

Um escritor de humor registrou a seguinte observação: “A mosca é o termômetro da higiene”.

Isso significa que

- (A) onde há moscas há higiene.
- (B) onde há moscas não há higiene.
- (C) onde não há moscas não há higiene.
- (D) onde não há higiene não há moscas.
- (E) onde há higiene também há moscas.

11

Assinale a frase abaixo que mostra intertextualidade na alusão a outro texto bastante conhecido.

- (A) A sociedade hípica está sofrendo de obsolescência galopante.
- (B) O céu é o pão de cada dia dos olhos.
- (C) Mesmo quando uma ave anda, sente que tem asas.
- (D) É impossível ensinar um gato a não pegar passarinhos.
- (E) Sirvo-me de animais para instruir os homens.

12

As frases abaixo mostram um advérbio formado com o sufixo – mente.

Assinale a frase em que esse advérbio indica modo.

- (A) A personalidade do homem determina antecipadamente o grau de sua fortuna.
- (B) A boa sorte nunca chega tardiamente.
- (C) O homem esquece mais facilmente a morte do pai do que a perda do patrimônio.
- (D) Nunca faça antes o que pode ser feito posteriormente.
- (E) Constantemente nos enganamos com o nosso próximo.

13

As frases abaixo mostram exemplos de demonstrativos; assinale a frase em que o emprego desse demonstrativo está correto.

- (A) O melhor sinal de ser bom é este: não temer nem dever, e o maior da maldade é não temer nem pagar.
- (B) Não se envolva com seu chefe. Se acontecer, não conte aquilo a pessoa alguma.
- (C) Nesta terra em que você está não há segurança, apenas oportunidades.
- (D) No mundo existem aqueles que choram e esses que vendem lenços.
- (E) Não é ignorante este que faz tolice, e sim esse que, feita, não a sabe encobrir.

14

Assinale a opção que apresenta a frase que exemplifica o gênero textual descritivo.

- (A) Quem investe hoje na produção deveria receber um diploma de burrice.
- (B) Fazer bons negócios é ver primeiro.
- (C) Quando o assunto é dinheiro, todos os homens pertencem à mesma religião.
- (D) Não fale sobre as minhas dívidas, a menos que você queira pagá-las.
- (E) Desconfiai do primeiro movimento: é sempre generoso.

15

Assinale a opção que mostra uma frase em que o deslocamento de termos modifica o seu sentido original.

- (A) Antes que eles nos jantem, temos de almoçá-los / Temos de almoçá-los antes que eles nos jantem.
- (B) Um hoje vale por dois amanhãs / Um vale hoje por dois amanhãs.
- (C) Quando um trabalho fala por si, não interrompa / Não interrompa, quando um trabalho fala por si.
- (D) Dinheiro é como um braço ou uma perna: use-o ou perca-o / Dinheiro é como um braço ou uma perna: perca-o ou use-o.
- (E) O melhor amigo é o dinheiro / O dinheiro é o melhor amigo.

16

Assinale a opção em que a modificação da frase verbal por uma forma nominal foi realizada corretamente.

- (A) A função de todos os diretores executivos é destruir boas ideias / é a destrutividade das boas ideias.
- (B) Os negócios de hoje em dia consistem em convencer a multidão / na conveniência da multidão.
- (C) O protesto é a mais alta forma de colaborar / de colaboracionismo.
- (D) A presença é a chave para participar de negócios globais / para a partição de negócios globais.
- (E) Os anúncios contêm as únicas verdades que merecem crer-se em um jornal / que merecem crédito em um jornal.

17

Todas as frases abaixo contêm adjetivos; assinale a frase em que esse adjetivo tem o valor de qualificação.

- (A) Na guerra contra a pobreza, a lista de mortos é impublicável.
- (B) Na inflação capitalista os preços sobem.
- (C) A indústria farmacêutica não tem remédio.
- (D) A crença de nosso cliente é o nosso maior patrimônio.
- (E) Não mexa no que está quieto.

18

Assinale a frase a seguir em que houve erro na expressão sublinhada.

- (A) Aos 40 anos, o homem já não sabe mais que trabalhar. Trabalhar é caminhar de encontro a nós mesmos.
- (B) Havia cerca de 200 candidatos à vaga de porteiro.
- (C) Somos felizes graças à esperança de ganhar na loteria.
- (D) Comemos saladas em vez de carne.
- (E) Fiquei a baixo dela na ordem de chegada.

19

Assinale a frase que se estrutura a partir de uma **antítese** entre seus componentes.

- (A) A agricultura planta e os bancos colhem.
- (B) Quanto mais eu trabalho, mais sorte eu tenho.
- (C) Trabalho é para as pessoas que não sabem pescar.
- (D) Todo homem trabalhador tem sempre uma oportunidade.
- (E) A gente ganha pouco, mas se diverte.

20

Assinale a frase em que o adjetivo bom/boa tem valor objetivo.

- (A) Os clientes aperfeiçoaram o sistema de tornar impossível a boa propaganda.
- (B) O melhor do marketing é uma boa tabela de preços.
- (C) Perdoar é, além do mais, um bom negócio.
- (D) Existem dias de bom tempo em que é melhor divertir-se do que fazer negócio.
- (E) O dinheiro é um bom cosmético.

21

Assinale a frase em que a troca de posição dos termos sublinhados provoca **modificação** de sentido.

- (A) Há certas coisas que o dinheiro não pode comprar.
- (B) Não são os grandes planos que dão certo; são os pequenos detalhes.
- (C) É uma tarefa inútil procurar um homem honrado na prisão.
- (D) Um farto jantar lubrifica os negócios.
- (E) O deputado praticou um ato vergonhoso.

22

Assinale a frase em que o vocábulo “mais” mostra valor semântico e de classe **diferente** das demais.

- (A) Cinco reais no bolso valem mais do que um amigo no palácio do governo.
- (B) Os clientes de mais dinheiro podem fazer muitas exigências.
- (C) Essa foi a ocasião em que cheguei mais perto da perfeição.
- (D) Os operários mais incapazes nunca são promovidos.
- (E) Eu quero que os adversários falem mais ainda.

23

Observe a frase: “A doença ocupacional das grandes potências é a megalomania”.

Assinale a opção em que a palavra formada com o radical **mania** tem seu valor semântico corretamente indicado.

- (A) megalomania / mania de jogos eletrônicos.
- (B) cleptomania / mania de mentir.
- (C) piromania / mania de loucura.
- (D) melomania / mania de música.
- (E) ninfomania / mania de temas mitológicos.

24

Assinale a frase abaixo em que o processo utilizado para evitar a repetição de termos idênticos foi o da substituição por hiperônimo.

- (A) Primeiro a gente toma a decisão. Depois nós fazemos a reunião.
- (B) Um problema só surge quando estão presentes todas as condições para solucioná-lo.
- (C) Ele pretendia obter o emprego, mas não corria atrás dele.
- (D) Tinha a mania de interromper a nossa fala, coisa que me desagradava muito.
- (E) Os indígenas brasileiros sobreviveram em pequeno número, pois nem sempre os indivíduos dos povos originários foram bem-tratados.

Matemática e Raciocínio Lógico

25

Considere a proposição:

“Se Maria não sabe Matemática, então ela erra problemas de porcentagem”.

Assinale a opção que apresenta a negação dessa proposição.

- (A) Se Maria sabe Matemática, então ela não erra problemas de porcentagem.
- (B) Se Maria não sabe Matemática, então ela não erra problemas de porcentagem.
- (C) Se Maria não erra problemas de porcentagem, então ela sabe Matemática.
- (D) Maria não sabe Matemática e não erra problemas de porcentagem.
- (E) Maria sabe Matemática e erra problemas de porcentagem.

26

Em um grupo de 55 pessoas, 32 jogam pôquer, 36 jogam truco, 34 jogam buraco, 18 jogam pôquer e truco, 21 jogam truco e buraco e 20 jogam buraco e pôquer.

Se há, no grupo, uma única pessoa que não joga quaisquer desses três jogos de cartas, então a quantidade de pessoas que jogam esses três jogos é

- (A) 12.
- (B) 11.
- (C) 9.
- (D) 7.
- (E) 6.

27

Júlio tinha exatamente 33 moedas, 15 delas de R\$ 0,10 e as demais de R\$ 0,25, quando encontrou João e lhe deu R\$ 0,45. Mais à frente, encontrou José e lhe deu R\$ 0,55. Depois, cruzou com Josué e a este deu R\$ 0,75, usando moedas dos dois tipos. Finalmente, encontrou Joice, a quem deu R\$ 0,80.

Imediatamente após dar dinheiro para Joice, a quantidade de moedas de 10 centavos que restou a Júlio foi

- (A) 0.
- (B) 1.
- (C) 2.
- (D) 3.
- (E) 4.

28

Em uma empresa, existem apenas dois tipos de máquinas copadoras: Express (que faz continuamente 60 cópias por minuto) e Ultra (que faz continuamente 100 cópias por minuto).

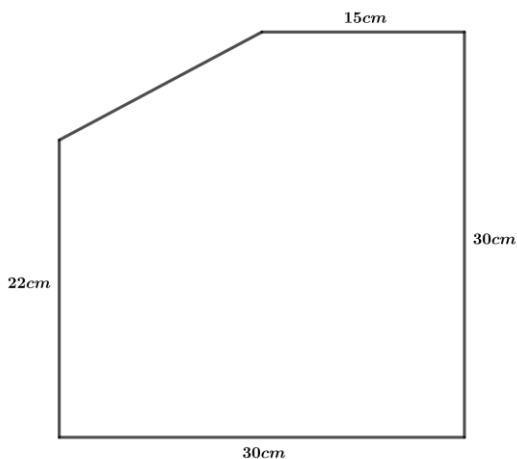
Um dos setores da empresa precisa fazer 7.600 cópias em, no máximo, 15 minutos e dispõe de apenas 2 máquinas Ultra. Será preciso, então, obter mais algumas máquinas para cumprir a tarefa. Entretanto, só há máquinas Express à disposição.

O número mínimo de máquinas Express a serem requisitadas para isso é

- (A) 6.
- (B) 5.
- (C) 4.
- (D) 3.
- (E) 2.

29

A figura a seguir ilustra uma placa de metal pentagonal fabricada a partir de uma chapa originalmente quadrada de 30cm x 30cm, de onde foi recortado um triângulo retângulo.



O perímetro dessa placa é

- (A) 97cm.
- (B) 99cm.
- (C) 110cm.
- (D) 112cm.
- (E) 114cm.

30

Uma partícula se movimenta sobre um plano de modo que todos os deslocamentos se dão em linha reta e cada um deles exclusivamente no sentido de algum dos pontos cardeais (Norte, Sul, Leste e Oeste).

No seu primeiro movimento, essa partícula se desloca 20 metros no sentido Norte. Em seguida, ela faz a seguinte sequência:

- 10 metros no sentido Leste;
- 5 metros no sentido Sul;
- 2,5 metros no sentido Oeste;
- 1,25 metro no sentido Norte.

Se esta sequência de movimentos mantiver o padrão, o segundo movimento feito no sentido Oeste tem

- (A) 625,00mm.
- (B) 312,50mm.
- (C) 156,25mm.
- (D) 136,25mm.
- (E) 128,00mm.

31

Antônio, Bernardo e Carlos são amigos. Antônio tem um ano a mais do que Bernardo que, por sua vez, é três anos mais novo do que Carlos. Há sete anos, a idade de Carlos era o dobro da idade que Antônio tinha.

Daqui a um ano, o mais velho dos três terá

- (A) 8 anos.
- (B) 9 anos.
- (C) 10 anos.
- (D) 11 anos.
- (E) 12 anos.

32

“Se a TV não está ligada, então eu estou dormindo ou estou lendo”.

Assinale a opção que descreve uma sentença logicamente equivalente à afirmação acima.

- (A) A TV não está ligada e eu estou acordado e não estou lendo.
- (B) Se eu não estou dormindo e não estou lendo, então a TV está ligada.
- (C) Se eu estou acordado ou não estou lendo, então a TV está ligada.
- (D) Eu estou acordado e lendo se, e somente se, a TV está desligada.
- (E) A TV está ligada e eu estou acordado ou não estou lendo.

33

Um recipiente tem forma de paralelepípedo reto-retângulo com arestas medindo 2dm, 3,5dm e 4dm. Em seu interior, há 21dm³ de um líquido. Como o prisma é totalmente fechado, não há como ocorrer vazamentos, qualquer que seja a sua posição.

Se esse recipiente for colocado sobre uma mesa horizontal, apoiado sobre uma das duas faces de maior área, é certo que o líquido em seu interior corresponderá a uma coluna de altura

- (A) 1,5dm.
- (B) 1,8dm.
- (C) 2,5dm.
- (D) 4,0dm.
- (E) 7,0dm.

34

Considere uma das sequências formadas pelas letras do conjunto {A, B, C, D, E}.

Sabe-se que nessa sequência:

- B vem depois do D;
- C vem antes do A;
- E vem depois do D;
- E vem antes do A;
- C vem depois do B.

Com base nessas informações, é possível garantir que, nessa sequência, a letra A ocupa a

- (A) 1ª posição.
- (B) 2ª posição.
- (C) 3ª posição.
- (D) 4ª posição.
- (E) 5ª posição.

35

Luiz depositou certo valor em um fundo e não fez mais nenhuma movimentação durante um ano. Ao final desse período, o valor inicialmente depositado havia rendido 10%. Luiz resolveu, então, sacar R\$ 300,00 e não fez mais nenhuma movimentação por mais um ano. Nesse novo período, o valor deixado no fundo após o saque rendeu 8%, atingindo o total de R\$ 4.428,00.

Pode-se afirmar que o primeiro depósito feito teve valor entre

- (A) R\$ 3.650,00 e R\$ 3.750,00.
- (B) R\$ 3.750,00 e R\$ 3.850,00.
- (C) R\$ 3.850,00 e R\$ 3.950,00.
- (D) R\$ 3.950,00 e R\$ 4.050,00.
- (E) R\$ 4.050,00 e R\$ 4.150,00.

36

Duas torneiras despejam água a vazão constante. A vazão de uma delas é 50% maior do que a da outra. Funcionando juntas, elas despejam 1 litro em 6 segundos.

Funcionando sozinha, a torneira de maior vazão despeja 15 litros em

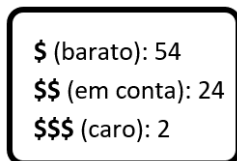
- (A) 2 minutos e 30 segundos.
- (B) 2 minutos e 50 segundos.
- (C) 3 minutos e 15 segundos.
- (D) 3 minutos e 30 segundos.
- (E) 3 minutos e 45 segundos.

37

Em uma cidade, há 80 pousadas que foram classificadas pelos usuários de acordo com a sua satisfação com o serviço prestado, gerando o seguinte resultado:



Essas pousadas também foram ranqueadas em função dos seus preços, conforme ilustrado a seguir.



Com base nessas informações, pode-se afirmar que

- (A) todas as pousadas com 4 estrelas podem ter sido ranqueadas como sendo em conta.
- (B) há pousadas com 5 estrelas em todas as três categorias de preços.
- (C) pelo menos duas pousadas com 4 estrelas foram ranqueadas como baratas.
- (D) pelo menos uma pousada ranqueada como barata tem 2 estrelas.
- (E) há pelo menos uma pousada ranqueada como barata com 3 estrelas.

38

Um relógio atrasa 2 minutos e 10 segundos a cada hora. Se esse relógio for acertado às 5 horas da manhã e não for mais manuseado, às 11 horas dessa mesma manhã, ele marcará

- (A) 10 horas e 52 minutos
- (B) 10 horas e 50 minutos.
- (C) 10 horas e 48 minutos.
- (D) 10 horas e 47 minutos.
- (E) 10 horas e 46 minutos.

39

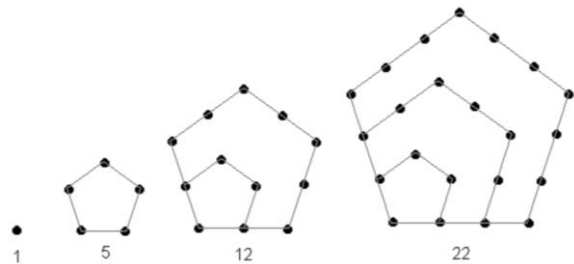
Sejam p, q, r, s e t proposições simples e ~p, ~q, ~r, ~s e ~t as suas respectivas negações.

Se a proposição composta p ∨ q ∨ ~r ∨ s ∨ ~t tem valor lógico falso, pode-se afirmar que

- (A) p é verdadeiro e q é falso.
- (B) q é verdadeiro e r é falso.
- (C) r é verdadeiro e s é falso.
- (D) s é verdadeiro e t é falso.
- (E) t é verdadeiro e r é falso.

40

As figuras a seguir representam os 4 primeiros termos da sequência de números pentagonais: (1, 5, 12, 22, ...)



O número que ocupa a 7ª posição nessa sequência é

- (A) 46.
- (B) 51.
- (C) 59.
- (D) 63.
- (E) 70.

Noções de informática

41

Considere as seguintes afirmativas a respeito das memórias volátil e permanente em notebooks de entrada.

- I. Para notebooks de entrada, é comum encontrar configurações com entre 4TB e 16TB de memória RAM.
- II. Há uma tendência de substituir discos rígidos por drives SSD nos modelos mais recentes.
- III. A capacidade de processar um número maior de programas concomitantemente, e um melhor desempenho de um notebook, está relacionada à expansão da memória RAM instalada.

Está correto somente o que se afirma em

- (A) I.
- (B) II.
- (C) III.
- (D) I e II.
- (E) II e III.

42

Nos testes de velocidade da conexão com um servidor na Internet, usualmente são aferidos três itens: *Download*, *Upload* e *Ping*.

Esse último, conhecido em português como *Latência*, indica

- (A) a diferença entre o tempo de transmissão de uma mensagem para o servidor e o tempo de transmissão de retorno da mesma mensagem.
- (B) o tempo dispendido pelo servidor entre o instante em que a mensagem chegou no servidor e o instante entre o início da transmissão da resposta pelo mesmo servidor.
- (C) o tempo necessário para enviar uma mensagem de 1MB para o servidor.
- (D) o tempo necessário para que uma pequena mensagem seja transmitida para o servidor e recebida inteiramente de volta.
- (E) o tempo necessário para receber uma mensagem de 1MB enviada pelo servidor.

43

Assinale o conjunto de atalhos de teclado utilizados no Google Chrome que, na ordem, servem para “*ativar ou desativar o modo de tela cheia*”, “*abrir uma nova aba*” e “*atualizar a página atual*”.

- (A) F11, Ctrl + Shift + T, Ctrl + W
- (B) F11, Ctrl + T, Ctrl + R
- (C) F5, F7, F11
- (D) F7, Ctrl + Shift + T, F5
- (E) F7, F11, F5

44

No MS Word, é possível usar caracteres especiais, ditos “*curinga*”, para o refinamento das buscas textuais avançadas. Nesse contexto, considere um texto que contém apenas a linha a seguir.

Casas e casarões foram demolidos.

Assinale o texto de busca que **não** localizaria trecho algum dessa linha.

- (A) *,?
- (B) *.
- (C) ?.
- (D) >.
- (E) asa

45

No Windows 10, o Gerenciador de Tarefas exibe, na aba *Serviços*, uma lista de itens, alguns ativos e outros não.

Assinale a definição adequada para o conceito de *serviço* no Windows.

- (A) Um aplicativo iniciado pelo usuário do computador, como o Word ou o Excel.
- (B) Um conjunto de aplicativos que são acionados coordenadamente sempre que ocorrem erros no sistema operacional.
- (C) Um processo que executa tarefas específicas em segundo plano (background), enquanto o sistema funciona.
- (D) Uma ferramenta especializada que coleta estatísticas a respeito da utilização do computador, periodicamente enviadas para o suporte do fabricante.
- (E) Uma ferramenta que abastece os logs (histórico) do sistema.

46

Considere um Pen drive (drive E) que contém as pastas X340 e X910. A pasta X340 contém a pasta X980, que, por sua vez, contém a pasta X453. Nessa última, está gravado o arquivo XPTO.docx, em cópia única.

Considere ainda as seguintes movimentações:

- a pasta X453 é copiada e colada na pasta X910
- a pasta X910 é movida (arrastada pelo mouse) para a pasta E:\X340\X980\X453

Depois dessas operações, o arquivo XPTO.docx pode ser encontrado:

- (A) na pasta E:\X340\X980\X453, somente.
- (B) na pasta E:\X340\X980\X453\X910, somente.
- (C) na pasta E:\X340\X980\X453\X910\X453, somente.
- (D) nas pastas E:\X340\X980\X453 e E:\X340\X980\X453\X910
- (E) nas pastas E:\X340\X980\X453 e E:\X340\X980\X453\X910\X453.

Atenção: nas duas próximas questões, considere uma planilha Excel denominada MODELO, da qual é exibido o trecho a seguir.

	A	B	C
1	21	23	
2	22	22	
3	23	21	
4			

47

Considere que na célula C4 da planilha MODELO tenha sido digitada a fórmula

$$=SE(A1>B2;A3;SE(SOMA(A1:B1)-1>44;11;A2+B1)+1)$$

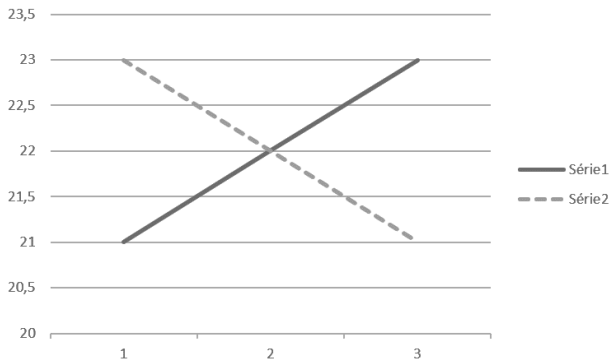
Assinale o valor que passaria a ser exibido em C4.

- (A) 11
- (B) 12
- (C) 23
- (D) 45
- (E) 46

48

João selecionou uma região do trecho da planilha MODELO e inseriu um gráfico de linhas por meio da guia *Inserir*.

O gráfico criado é exibido a seguir.



Assinale a região da planilha selecionada por João.

- (A) A1:A3
- (B) A1:B2
- (C) A1:B3
- (D) A2:B3
- (E) B1:B3

Módulo II

Noções de Direito

49

Ana, Promotora de Justiça no Estado Alfa, foi convidada por conceituada instituição de ensino a frequentar um curso de aperfeiçoamento no exterior, o que teria grande relevância para o seu aprimoramento intelectual e correlato exercício funcional.

À luz dessa narrativa, é correto afirmar, nos termos da Lei nº 8.625/93, que o afastamento de Ana para frequentar o curso deve ser autorizado pelo

- (A) Procurador-Geral de Justiça.
- (B) Colégio de Procuradores de Justiça.
- (C) Conselho Superior do Ministério Público.
- (D) Corregedor-Geral do Ministério Público.
- (E) Conselho Nacional do Ministério Público.

50

João, servidor ocupante de cargo de provimento efetivo recém-empossado no Ministério Público do Estado de São Paulo, foi incumbido, por seu superior hierárquico, de identificar o quantitativo de Promotores de Justiça distribuídos entre as Promotorias de Justiça, conforme a divisão estabelecida na Lei Complementar nº 734/1993, do Estado de São Paulo.

Considerando os termos da determinação recebida, João concluiu corretamente que o quantitativo de Promotores de Justiça deveria ser distribuído entre as Promotorias de Justiça

- (A) Gerais e Especializadas.
- (B) Judiciais e Extrajudiciais, Criminais e Cíveis.
- (C) Criminais, Cíveis, de Tutela Coletiva e Gerais.
- (D) Especializadas, Criminais, Cíveis e Cumulativas ou Gerais.
- (E) Criminais, Cíveis, de Família, da Infância e Juventude, e Cumulativas.

51

Pablo, cidadão espanhol, viveu durante alguns anos no território brasileiro, ocasião em que desenvolveu diversas atividades econômicas e adquiriu inúmeras obras de arte. Em determinado momento, por sugestão de sua família, decidiu retornar para a sua pátria.

Muito cioso dos seus deveres, Pablo consultou seu advogado a respeito dos requisitos a serem observados, consoante a Constituição da República, para que pudesse sair do território nacional, sendo-lhe corretamente informado que

- (A) pode sair do território nacional com seus bens, observados os balizamentos estabelecidos pela lei.
- (B) pode sair livremente do território nacional, mas deve apresentar justificativa para que possa levar os seus bens.
- (C) depende de autorização da autoridade competente para que possa sair do território nacional e ainda levar os seus bens.
- (D) como é estrangeiro, não sendo alcançado pelos direitos fundamentais, cabe apenas à lei dispor sobre a possibilidade, ou não, de sair com seus bens do território nacional.
- (E) por expressa determinação constitucional, pode sair livremente do território nacional com seus bens, não sendo possível que a lei estabeleça qualquer condicionante.

52

Joana, estudante de Direito, questionou o seu professor a respeito das características dos denominados “direitos sociais”, consagrados na Constituição da República, considerando a natureza da atividade desenvolvida pelo Estado.

O professor respondeu, corretamente, que essa espécie de direito é caracterizada, em regra, pela

- (A) oferta de prestações estatais.
- (B) abstenção do Estado, não podendo avançar na esfera jurídica individual.
- (C) exigência de que a produção normativa estatal seja benéfica para a sociedade.
- (D) vedação de que os direitos individuais sejam satisfeitos antes dos direitos da sociedade.
- (E) exigência de que a atuação do Estado seja transparente, satisfazendo os interesses da sociedade.

53

Ana, brasileira nata, e Joana, brasileira naturalizada, travaram intenso debate a respeito dos direitos que possuem, considerando as características da nacionalidade de cada uma delas.

Ao final, concluíram que, à luz da sistemática estabelecida na Constituição da República,

- (A) ambas terão os direitos fundamentais que a lei venha a estabelecer.
- (B) Joana possui os mesmos direitos civis de Ana, mas não tem direitos políticos.
- (C) diversamente de Ana, Joana somente terá os direitos fundamentais que lhe sejam atribuídos no ato de naturalização.
- (D) ambas possuem os mesmos direitos, sendo vedado o estabelecimento de qualquer distinção nos planos constitucional ou legal.
- (E) não é possível que a lei estabeleça qualquer distinção em relação aos direitos de ambas, ressalvados os casos previstos na ordem constitucional.

54

Maria, filha da Governadora do Estado Alfa, pretendia iniciar a sua carreira política na próxima eleição municipal. Com o propósito de verificar a existência de algum óbice à realização desse objetivo, consultou um advogado, sendo-lhe corretamente informado que, com abstração dos demais requisitos exigidos

- (A) em razão do cargo ocupado por sua mãe, ela não poderá concorrer a qualquer cargo eletivo na eleição municipal, independentemente da localização do Município.
- (B) em razão do cargo ocupado por sua mãe, ela apenas não poderá concorrer na eleição a cargos eletivos de Municípios situados no território do Estado Alfa.
- (C) em razão do cargo ocupado por sua mãe, ela apenas não poderá concorrer a cargos eletivos de Chefia do Poder Executivo municipal.
- (D) em razão do cargo ocupado por sua mãe, ela está com os direitos políticos suspensos até o fim do respectivo mandato.
- (E) caso esteja no pleno exercício dos direitos políticos, ela pode concorrer em qualquer eleição municipal.

55

João, recém-empossado Prefeito do Município Delta, pretendia contratar os serviços de Inês, profissional muito competente da área de informática, de modo que ela pudesse chefiar determinada estrutura orgânica, cujas atividades representavam uma necessidade contínua dos municípios. Com tal objetivo, consultou sua assessoria para saber de que forma essa contratação seria efetivada, em estrita obediência à Constituição da República, já que Inês jamais tinha sido servidora pública.

A assessoria respondeu corretamente que a contratação de Inês pode ser realizada para que venha a ocupar

- (A) apenas um cargo em comissão.
- (B) apenas uma função de confiança.
- (C) apenas um cargo em comissão ou uma função de confiança.
- (D) apenas um emprego público, a partir de contrato de trabalho temporário.
- (E) um cargo em comissão, uma função de confiança ou um cargo de provimento efetivo.

56

Xisto, Oficial de Promotoria do Ministério Público do Estado de São Paulo, ingressou recentemente no cargo e, ao chegar ao trabalho, tomou conhecimento de que havia certa urgência para que fosse providenciado instrumento de atuação extrajudicial, com o objetivo de persuadir a sociedade Alfa, concessionária de serviços públicos, a deixar de praticar determinado ato em benefício da melhoria dos serviços públicos na localidade que não tem eficácia de título executivo extrajudicial.

De acordo com as definições constantes da Resolução nº 1.342/2021- CPJ, tal instrumento é

- (A) uma notícia de fato.
- (B) um inquérito civil.
- (C) uma audiência pública.
- (D) um compromisso de ajustamento de conduta.
- (E) uma recomendação.

57

Ana, regularmente investida em cargo efetivo de servidor público do Ministério Público do Estado de São Paulo, praticou, no exercício de suas atribuições, falta funcional grave, mas que não configura hipótese de demissão.

Com relação à responsabilização administrativa de Ana, após o regular processo administrativo disciplinar, considerando o disposto no regime jurídico dos servidores do Estado de São Paulo, é correto afirmar que

- (A) Ana deverá ser repreendida, por escrito, diante da natureza e gravidade de sua conduta.
- (B) Ana se sujeitará à pena de suspensão, que não pode exceder o prazo de 90 (noventa) dias.
- (C) caso Ana venha a ser suspensa, não perderá nenhuma vantagem ou direito decorrente do exercício do cargo.
- (D) a pena de suspensão aplicável a Ana não pode ser convertida em qualquer outra penalidade.
- (E) a penalidade de suspensão cabível para Ana poderá ser convertida em multa, ficando ela desobrigada de permanecer no serviço.

58

Pitágoras, Oficial de Promotoria do Ministério Público do Estado de São Paulo, dolosamente recebeu vantagem econômica, correspondente à propina de vinte mil reais, para omitir ato que deveria praticar de ofício, no exercício de suas atribuições.

Considerando o disposto na Lei de Improbidade Administrativa, é correto afirmar que Pitágoras

- (A) não praticou ato de improbidade, pois a conduta está sujeita à sanção penal.
- (B) praticou ato de improbidade que importa em enriquecimento ilícito.
- (C) praticou ato de improbidade que causa prejuízo ao erário.
- (D) praticou ato de improbidade que atenta contra os princípios da Administração Pública.
- (E) não praticou ato de improbidade, pois a conduta deve ser responsabilizada na esfera disciplinar.

59

Ao iniciar o exercício de suas atribuições condizentes com o cargo de Oficial de Promotoria do Ministério Público do Estado de São Paulo, no sentido de realizar a recepção e o registro de documentos, e adotar providências preliminares, Carla deparou-se com uma grande quantidade de representações pendentes de processamento, além de outras tantas que chegaram ao longo do dia em que iniciou suas atividades.

Em consonância com a Resolução nº 664/2010-PGJ-CGMP-CSMP, Carla deverá

- (A) realizar uma triagem para determinar a relevância das representações recebidas para fins de registro no livro de protocolo geral, independentemente de ordem cronológica.
- (B) efetuar o registro das representações no livro de protocolo geral e, havendo mais de um Promotor de Justiça com atribuição, encaminhar para aquele que estiver na sala mais próxima.
- (C) atuar o respectivo procedimento administrativo, independentemente de determinação do Promotor de Justiça, sob pena de responsabilidade.
- (D) anotar as representações no livro de registro de protocolo geral imediatamente, independentemente de despacho do Promotor de Justiça.
- (E) proceder à autuação das representações, ainda que sem a identificação do representante e do representado e sem o número de registro no sistema eletrônico.

60

Em decorrência de violação de dever funcional no exercício de suas atribuições enquanto servidor ocupante de cargo efetivo do Ministério Público do Estado de São Paulo, foi instaurado processo administrativo disciplinar em desfavor de Gilson, sendo certo que: (i) a única falta por ele cometida, que não é crime, ocorreu há quatro anos; (ii) o processo administrativo foi instaurado três anos após a conduta para apuração de penalidade passível de demissão; (iii) a infração foi desclassificada e, ao final, a ele foi aplicada a sanção de repreensão.

Considerando as regras constantes da Lei nº 10.261/1968 do Estado de São Paulo, é correto afirmar que a pretensão de punibilidade na esfera administrativa pela conduta de Gilson

- (A) está prescrita, diante da desclassificação da infração para repreensão, que se submete ao prazo de dois anos.
- (B) não está prescrita, considerando que a instauração do processo administrativo é causa interruptiva e ocorreu em momento oportuno.
- (C) não está prescrita, na medida em que não transcorreu o prazo de dez anos aplicável à demissão.
- (D) não está prescrita, porque não se exauriu o prazo de cinco anos aplicável à demissão.
- (E) há necessidade de verificação de eventual prazo na lei penal para se concluir acerca da prescrição.

61

No exercício de suas atribuições como Oficial de Promotoria do Ministério Público do Estado de São Paulo, Cristóvão precisa tomar algumas providências, dentre elas, a autuação de uma promoção de arquivamento e a de um compromisso de ajustamento de conduta preliminar, além das medidas pertinentes para uma audiência pública que foi designada.

Diante desta situação hipotética, à luz da Resolução nº 664/2010-PGJ-CGMP-CSMP, é correto afirmar que

- (A) o procedimento para a promoção de arquivamento a ser adotado por Cristóvão deve ser distinto daquele da celebração de compromisso de ajustamento preliminar.
- (B) se a promoção de arquivamento estiver homologada, Cristóvão deverá promover a remessa dos autos ao arquivo sem determinação expressa do Promotor de Justiça.
- (C) designada a audiência, Cristóvão terá o prazo de quinze dias para expedir o respectivo edital de convocação, com todas as informações pertinentes.
- (D) com relação à audiência, Cristóvão deverá providenciar as comunicações devidas, cuidando para que os comprovantes sejam juntados aos autos com antecedência mínima de dez dias úteis.
- (E) se o Conselho Superior do Ministério Público devolver os autos do procedimento de investigação para a realização de diligências, não há necessidade de conclusão dos autos para a deliberação do Promotor de Justiça, nem de anotação nos sistemas eletrônicos.

62

Victor, dolosamente, na qualidade de servidor público estável, ocupante de cargo efetivo do Estado de São Paulo, praticou ato definido em lei como de improbidade administrativa.

Ao tomar conhecimento de que a informação acerca de tal conduta chegou às autoridades administrativas competentes, Victor está receoso quanto à possibilidade de aplicação de sanção disciplinar, após o regular processo administrativo.

Considerando o disposto no regime jurídico dos servidores do Estado de São Paulo, é correto afirmar que a conduta de Victor

- (A) não está sujeita a sanção disciplinar.
- (B) enseja a penalidade de repreensão.
- (C) enseja a penalidade de suspensão por 30 dias.
- (D) enseja a penalidade de suspensão por 90 dias.
- (E) enseja a penalidade de demissão a bem do serviço público.

63

Domitila ajuizou ação ordinária em face de Carlota, que possui 12 (doze) anos de idade. O pai de Carlota, na qualidade de seu representante legal, foi citado. Após a oferta de contestação tempestiva, os autos foram remetidos à Promotoria de Justiça com atribuição para atuação.

A respeito do caso acima, assinale a afirmativa correta.

- (A) O Ministério Público gozará de prazo em dobro para manifestar-se nos autos, que terá início a partir da publicação do despacho de remessa dos autos à Promotoria de Justiça.
- (B) Caso o membro do Ministério Público, no exercício de suas funções, aja culposamente e cause dano a qualquer das partes, será civil e solidariamente responsável por sua reparação.
- (C) Após a manifestação do Ministério Público, é dispensada nova intimação dos atos do processo, cabendo ao *Parquet* realizar consultas rotineiras para acompanhamento do processo.
- (D) O Ministério Público poderá produzir provas, requerer as medidas processuais pertinentes e recorrer.
- (E) Na hipótese em análise, o Ministério Público possuirá prazo de 15 (quinze) dias para apresentar manifestação.

64

A mediação é meio de solução consensual de controvérsias entre sujeitos. Existem princípios informativos que lhe são aplicáveis, trazidos pelo Art. 2º da Lei nº 13.140/2015.

A seguir, são listados alguns desses princípios, à exceção de um. Assinale-o.

- (A) Informalidade.
- (B) Boa-fé.
- (C) Busca do consenso.
- (D) Parcialidade do mediador.
- (E) Confidencialidade.

65

Os meios consensuais de solução de conflitos ganharam significativo destaque com o advento do Código de Processo Civil de 2015. Anteriormente, já se encontravam em nível infralegal disposições normativas que igualmente lhe conferiam importância, como é o caso da Resolução nº 118/2014 do CNMP, a qual dispõe sobre a Política Nacional de Incentivo à Autocomposição no âmbito do Ministério Público.

Acerca dessa Resolução, assinale a afirmativa correta.

- (A) A mediação é recomendada para as controvérsias em que o Ministério Público possa atuar como parte na defesa de direitos e interesses da sociedade, em razão de sua condição de representante adequado e legitimado coletivo universal.
- (B) A conciliação é recomendada para solucionar controvérsias ou conflitos que envolvam relações jurídicas nas quais é importante a direta e voluntária ação de ambas as partes divergentes.
- (C) As práticas restaurativas são recomendadas nas situações para as quais seja viável a busca da reparação dos efeitos da infração por intermédio da harmonização entre o seu autor e a vítima, com o objetivo de restaurar o convívio social e a efetiva pacificação dos relacionamentos.
- (D) As convenções processuais poderão ser celebradas pelo membro do Ministério Público, segundo a lei processual, em qualquer fase durante o processo, visando constituir, modificar ou extinguir situações jurídicas processuais, vedada sua celebração durante a fase de investigação.
- (E) A confidencialidade é recomendada quando as circunstâncias assim exigirem, para a preservação da intimidade dos interessados. Todavia, é permitido que o membro ou servidor que participe da mediação seja advogado dos envolvidos, em qualquer hipótese.

66

Acerca dos prazos processuais, assinale a afirmativa correta.

- (A) Salvo disposição em contrário, os prazos serão contados incluindo o dia do começo e o dia do vencimento.
- (B) Na contagem de prazo em dias, estabelecido por lei ou pelo juiz, computar-se-ão somente os dias úteis.
- (C) Os litisconsortes que tiverem diferentes procuradores, de escritórios de advocacia distintos, terão prazos contados em dobro para todas as suas manifestações, inclusive, nos processos em autos eletrônicos.
- (D) Quando houver mais de um réu, o dia do começo do prazo para contestar será contado individualmente para cada litigante.
- (E) O juiz proferirá as sentenças no prazo de 15 (quinze) dias.

67

A Resolução nº 125/2010 do CNJ é considerada como marco do incentivo ao uso dos meios consensuais pelo Poder Judiciário, o qual atingiu seu ápice com o Código de Processo Civil.

A respeito da Resolução, assinale a afirmativa correta.

- (A) É dispensada a interlocução do CNJ junto à Ordem dos Advogados do Brasil com vistas a estimular sua participação nos Centros Judiciários de Solução de Conflitos e Cidadania.
- (B) A criação dos Centros Judiciários de Solução de Conflitos e Cidadania é discricionária do respectivo Tribunal, inexistindo dever de sua instituição.
- (C) Entre outras atribuições, compete ao juiz coordenador do Centro Judiciário de Solução de Conflitos e Cidadania homologar os acordos entabulados.
- (D) Cabe ao respectivo Tribunal desenvolver parâmetro curricular e ações voltadas à capacitação em métodos consensuais de solução de conflitos.
- (E) Não é necessário o acompanhamento estatístico específico para a implementação da Política Judiciária Nacional de Tratamento Adequado de Conflitos de Interesse.

68

A Justiça Restaurativa tem origem na Nova Zelândia, tendo ganhado força a partir de meados da década de 1970. No Brasil, o tema assume relevância a partir da década de 2000, com o projeto “*Promovendo Práticas Restaurativas no Sistema de Justiça Brasileiro*”, conduzido pelo Ministério da Justiça.

O Conselho Nacional de Justiça, por sua vez, disciplinou o assunto por meio da Resolução nº 225/2016.

A respeito do referido ato normativo, assinale a afirmativa correta.

- (A) É condição fundamental para que ocorra a prática restaurativa, o prévio consentimento, livre e espontâneo, de todos os seus participantes, assegurada a retratação a qualquer tempo, até a homologação do procedimento restaurativo.
- (B) Não é atribuição do Conselho Nacional de Justiça assegurar que a atuação de servidores, na Justiça Restaurativa seja não compulsória e devidamente reconhecida para fins de cômputo da carga horária.
- (C) O juiz não pode, de ofício, encaminhar procedimentos e processos judiciais para fins de atendimento restaurativo judicial, o que depende de requerimento das partes ou do Ministério Público, exclusivamente.
- (D) Diferentemente da conciliação e da mediação, os procedimentos restaurativos dispensam o sigilo e a confidencialidade em suas sessões, as quais serão públicas e abertas para participação de quaisquer interessados.
- (E) Não obtido êxito na composição, é permitida a utilização de tal insucesso como causa para a majoração de eventual sanção penal bem como de qualquer informação obtida no âmbito da Justiça Restaurativa como prova.

69

De acordo com o Código Penal, constitui crime a falsificação de documento público.

Nesse contexto, consideram-se documentos públicos, para fins penais, os documentos a seguir, **à exceção de um**. Assinale-o.

- (A) O título emitido ao portador.
- (B) As ações de sociedade comercial.
- (C) O testamento particular.
- (D) O instrumento particular de mandato.
- (E) Os livros mercantis.

70

Luísa, servidora pública, com intuito de comprometer a credibilidade de concurso público, permitiu que terceiros não autorizados tivessem acesso a seu conteúdo sigiloso.

Nesse caso, Luísa deve responder por delito de

- (A) prevaricação.
- (B) fraude em certame de interesse público.
- (C) advocacia administrativa.
- (D) condescendência criminosa.
- (E) violação de sigilo funcional.

71

Caio, advogado, filho de Heitor, que é chefe de repartição, solicitou ao funcionário público Kleber, que labora na repartição chefiada por Heitor, vantagem indevida em favor de seus clientes, prometendo a Kleber uma contraprestação financeira.

Nesse caso, em relação às condutas de Caio e Kleber, assinale a afirmativa correta.

- (A) Caio deverá responder por advocacia administrativa, ao passo que Kleber, por condescendência criminosa.
- (B) Caio deverá responder por tráfico de influência, ao passo que Kleber deverá responder por corrupção passiva.
- (C) Caio deverá responder por corrupção ativa, ao passo que Kleber deverá responder por corrupção passiva.
- (D) Caio e Kleber deverão responder por advocacia administrativa.
- (E) Caio e Kleber deverão responder por tráfico de influência.

72

As opções a seguir apresentam hipóteses de coação no curso do processo, **à exceção de uma**. Assinale-a.

- (A) João, a fim de preservar seu filho Luiz, réu em processo criminal, proferiu ameaças contra Ana, testemunha arrolada pela acusação, para que esta deixasse de prestar depoimento.
- (B) Carlos, para garantir interesse próprio, valeu-se de ardil para enganar o oficial de justiça, e, assim, evitar a conclusão do ato judicial de penhora ordenado em seu desfavor.
- (C) Antônio, no curso de procedimento de arbitragem em que não é parte, proferiu ameaças em desfavor do filho de um dos árbitros do procedimento, a fim de garantir de vantagem em favor de seu amigo Paulo.
- (D) André agrediu Mauro, servidor público do MPSP, com vistas a evitar a sua intimação para ser ouvido no curso de inquérito civil em tramitação no âmbito da Promotoria de Justiça local.
- (E) Enéas, visando frustrar execução de título judicial contra si, proferiu ameaças contra Pedro, o avaliador, visando impedir a conclusão da avaliação dos bens destinados ao leilão.

73

Em relação aos crimes contra a Administração Pública e suas respectivas causas de aumento ou qualificadoras, assinale a afirmativa correta.

- (A) A pena do delito de coação no curso do processo é aumentada de 1/3 se o processo versar sobre crimes contra a vida.
- (B) A pena da advocacia administrativa é aplicada em dobro se o interesse patrocinado for ilegítimo ou se estiver prescrito.
- (C) O peculato ocorrido mediante erro de outrem enseja a majoração da pena, de 1/3 até a metade.
- (D) A pena do delito de modificação ou alteração não autorizada de sistema de informações é aumentada de 1/3 até a metade se resulta dano para a Administração Pública.
- (E) Se, em razão da corrupção ativa e passiva, o ato de ofício deixa de ser praticado, apenas o funcionário público tem sua pena aumentada em 1/3.

74

As opções a seguir apresentam hipóteses de crime contra a Administração da Justiça, **à exceção de uma**. Assinale-a.

- (A) Mário, gerente de instituição financeira, recebeu ordem judicial de prestação de informações sobre correntista, deliberadamente descumprida.
- (B) Marcos, suspeito de homicídio, alterou a posição do cadáver para induzir em erro a atividade de polícia técnico-científica.
- (C) Marcelo, funcionário do Ministério Público, solicitou dinheiro de parte em processo criminal, sob pretexto de influir em manifestação do órgão.
- (D) Messias induziu em erro um concorrente, mediante fraude, com intuito de obter vantagem em arrematação judicial.
- (E) Moisés continuou a exercer a atividade empresarial de que foi afastado por decisão judicial, mesmo após devidamente intimado da decisão respectiva.

75

No mês de janeiro de 2023, Luísa sofreu graves ameaças a sua integridade física proferidas por Anísio. Luísa ficou bastante apavorada com as ameaças e relatou o fato a seu pai, Joaquim, à sua filha, Ana, então com 18 anos de idade, e à sua irmã, Jussara, de 25 anos de idade.

No mês seguinte, Anísio cumpriu a ameaça e assassinou Luísa.

Sobre o delito de ameaça, sujeito à representação, assinale a afirmativa correta.

- (A) O direito de representação é personalíssimo, extinguindo-se com o falecimento da ofendida.
- (B) O direito de representação poderá ser exercido por Joaquim, Ana ou Jussara, nesta ordem.
- (C) O direito de representação poderá ser exercido por Ana, Joaquim ou Jussara, nesta ordem.
- (D) O direito de representação poderá ser exercido por Ana, apenas.
- (E) O direito de representação poderá ser exercido por Joaquim, apenas.

76

Fábio percebeu, em sua vizinhança, estranha movimentação, desconfiando se tratar de um ponto de venda de drogas. Colheu as imagens das câmeras de segurança de sua residência, que mostram boa parte da extensão da rua, e percebeu que lá havia imagens nítidas de pessoas comercializando substância aparentemente entorpecente. Fábio decide, então, adotar alguma providência, considerando que o tráfico de drogas é crime de ação penal pública incondicionada.

Nesse caso, Fábio

- (A) não detém legitimidade para provocar a iniciativa do Ministério Público, que somente atua por provocação da autoridade policial.
- (B) apenas poderia provocar a iniciativa do Ministério Público se fosse vítima direta da atuação delituosa, o que não ocorreu no caso relatado.
- (C) poderá provocar a iniciativa do Ministério Público, mas lhe é vedado fornecer as imagens, sem que tenham sido previamente confirmadas pela autoridade policial.
- (D) poderá provocar a iniciativa do Ministério Público, fornecendo-lhe, por escrito, informações sobre o fato e autoria.
- (E) poderá provocar a iniciativa do Ministério Público, desde que lhe forneça documentos que corroborem as informações a serem prestadas.

77

Assinale a opção que descreve situação na qual não há qualquer impedimento expresso à celebração de acordo de não persecução penal.

- (A) Eliza, acusada de delito de furto simples, primária e com bons antecedentes, possui recursos suficientes para reparar o dano, mas se recusa a cumprir esta exigência, por entender que a vítima não precisa dos recursos subtraídos.
- (B) Diogo, primário e com bons antecedentes, acusado de obter, mediante estelionato, um monociclo, recusa-se à sua restituição como condição do acordo, pois o utiliza na sua prática profissional como ator de circo.
- (C) Catarina, primária, com ação penal em curso pelo delito de dano, é acusada de furto tentado, concordou com a prestação de serviços à comunidade, mas por período inferior à pena mínima cominada ao delito.
- (D) Guilherme, primário e com bons antecedentes, é acusado de roubo simples, na modalidade tentada, tendo confessado espontaneamente a infração e concordado com o pagamento de prestação pecuniária em favor de instituição social.
- (E) Fernando, primário e com bons antecedentes, é acusado de calúnia. Embora aceite as condições de prestação de serviços à comunidade ou prestação pecuniária, se recusa à confissão do fato que lhe é imputado.

78

Acerca da ação penal pública incondicionada e da ação penal pública condicionada à representação, assinale a afirmativa correta.

- (A) O Ministério Público não poderá desistir da ação penal, a qualquer tempo.
- (B) O Ministério Público somente pode desistir da ação penal pública condicionada à representação.
- (C) O Ministério Público somente pode desistir da ação penal pública incondicionada.
- (D) O Ministério Público pode desistir da ação penal até o recebimento da denúncia.
- (E) O Ministério Público poderá desistir da ação penal até a prolação da sentença.

79

Acerca da disciplina legal dos Juizados Especiais Criminais, assinale a afirmativa correta.

- (A) Consideram-se infrações penais de menor potencial ofensivo as contravenções penais e os crimes a que a lei comine pena mínima não superior a 2 (dois) anos.
- (B) Havendo representação ou tratando-se de crime de ação penal pública incondicionada, o Ministério Público poderá propor a aplicação imediata de pena restritiva de liberdade ou de direitos, a ser especificada na proposta.
- (C) Feita a proposta de transação penal pelo defensor do acusado, esta será submetida ao membro do Ministério Público competente, a quem caberá homologá-la.
- (D) Acolhendo a proposta do Ministério Público aceita pelo autor da infração, o Juiz aplicará a pena restritiva de direitos ou multa, que não importará em reincidência.
- (E) A imposição da transação penal não constará de certidão de antecedentes criminais, salvo para os fins de impedir novo benefício em cinco anos, mas terá efeitos civis imediatos.

80

De acordo com a Resolução nº 1.364/2021-PGJ-CPJ, o membro do Ministério Público do Estado de São Paulo, observadas as hipóteses de reserva constitucional de jurisdição e sem prejuízo de outras providências inerentes a sua atribuição funcional, pode

- (A) fazer ou determinar vistorias, inspeções e quaisquer outras diligências, inclusive em organizações militares federais.
- (B) requisitar informações, exames, perícias e documentos de autoridades, órgãos e entidades da Administração Pública direta e indireta, inclusive comunicações telemáticas.
- (C) requisitar informações e documentos de entidades privadas, inclusive de natureza bancária.
- (D) notificar testemunhas e vítimas e determinar sua condução coercitiva, nos casos de ausência injustificada ou justificada.
- (E) ter acesso incondicional a qualquer banco de dados de caráter público ou relativo a serviço de relevância pública.

Realização

