



# PREFEITURA DE SANTO ANDRÉ-SP

## SECRETARIA DE INOVAÇÃO E ADMINISTRAÇÃO

# AGENTE DE POLÍTICAS PÚBLICAS E GESTÃO GOVERNAMENTAL (APPGG)

TIPO 4 – AZUL



### SUA PROVA

- Além deste caderno contendo oitenta questões objetivas, você receberá do fiscal de prova a folha de respostas e uma folha destinada ao texto definitivo da redação.



### TEMPO

- Você dispõe de **5 (cinco) horas** para a realização da prova, já incluído o tempo para a marcação da folha de respostas e o preenchimento da folha destinada ao texto definitivo da redação.
- **3 (três) horas** após o início da prova, é possível retirar-se da sala, sem levar o caderno de prova.
- A partir dos **30 minutos** anteriores ao término da prova é possível retirar-se da sala **levando o caderno de provas**.



### NÃO SERÁ PERMITIDO

- Qualquer tipo de comunicação entre os candidatos durante a aplicação da prova.
- Anotar informações relativas às respostas em qualquer outro meio que não seja o caderno de prova.
- Levantar da cadeira sem autorização do fiscal de sala.
- Usar o sanitário ao término da prova, após deixar a sala.



### INFORMAÇÕES GERAIS

- Verifique se seu caderno de provas está completo, sem repetição de questões ou falhas. Caso contrário, notifique imediatamente o fiscal da sala, para que sejam tomadas as devidas providências.
- Confira seus dados pessoais, especialmente nome, número de inscrição e documento de identidade, e leia atentamente as instruções para preencher a folha de respostas e a folha destinada ao texto definitivo da redação.
- Use somente caneta esferográfica, fabricada em material transparente, com tinta preta ou azul.
- Assine seu nome apenas no(s) espaço(s) reservado(s).
- Confira seu cargo, cor e tipo do caderno de provas. Caso tenha recebido caderno de cargo, cor ou tipo **diferente** do impresso em sua folha de respostas, o fiscal deve ser **obrigatoriamente** informado para o devido registro na ata da sala.
- Reserve tempo suficiente para o preenchimento da sua folha de respostas e da folha destinada ao texto definitivo da redação. O preenchimento é de sua responsabilidade e **não** será permitida em caso de erro do candidato.
- Para fins de avaliação, serão levadas em consideração apenas as marcações realizadas na folha de respostas e na folha destinada ao texto definitivo da redação.
- A FGV coletará as impressões digitais dos candidatos na lista de presença.
- Os candidatos serão submetidos ao sistema de detecção de metais quando do ingresso e da saída de sanitários durante a realização das provas.

**Boa sorte!**

# MÓDULO DE CONHECIMENTOS BÁSICOS

## Língua Portuguesa

### Texto 1

#### Índio

Uma das consequências das Cruzadas (séculos XI a XIII) foi a descoberta das riquezas do Oriente: tecidos, pedras e metais preciosos, especiarias.

Tudo isso passou a ter um valor extraordinário para os europeus do século XV (a canela chegou a valer mais do que o ouro!). E assim as grandes navegações para a Ásia se tornaram financeiramente atrativas.

O genovês Cristóvão Colombo, o que botou o ovo em pé (como se fosse uma grande coisa: as galinhas já faziam isso muito antes dele), consegue, na Espanha, em 1492, o patrocínio dos reis Fernando II e Isabel I para uma viagem à Índia.

Para chegar lá, os portugueses desciam até o final da África e dobravam à esquerda. Colombo, que sempre adorou viver na contramão da História, sai da Espanha, no dia 3 de agosto, e dobra à direita, convencido de que a Terra era redonda.

Acertou na forma, mas errou no cálculo do diâmetro. Colombo chega às Bahamas, em 12 de outubro, e acha que alcançou a Índia. Por isso, ao ver uns selvagens locais, Colombo os chama de índios. Pronto, o nome ficou e o erro se consagrou: a partir daí, todo selvagem, nu ou seminu, passou a ser chamado de índio.

(PIMENTA, R. Casa da Mãe Joana, curiosidade na origem das palavras, frases e marcas. Ed. Campus. Rio de Janeiro-RJ. 2002)

#### 1

Assinale a opção que apresenta a frase construída com todos os termos e em ordem direta (sujeito + verbo + complemento + adjunto adverbial).

- (A) Colombo sai da Espanha, no dia 3 de agosto.
- (B) Para chegar lá, os portugueses desciam até o final da África.
- (C) Colombo, convencido de que a Terra era redonda, dobra à direita.
- (D) Tudo isso passou a ter um valor extraordinário para os europeus do século XV.
- (E) O genovês Cristóvão Colombo consegue, na Espanha, em 1492, o patrocínio dos reis Fernando II e Isabel I para uma viagem à Índia.

#### 2

Os adjetivos, em língua portuguesa, mostram estados, características, qualidades e relações.

Assinale o adjetivo abaixo, retirado do texto, que **não** indica uma qualidade.

- (A) grande coisa.
- (B) selvagens locais.
- (C) metais preciosos.
- (D) valor extraordinário.
- (E) se tornaram financeiramente atrativas.

#### 3

Assinale a opção abaixo que mostra uma relação **inadequada** entre verbo e substantivo/adjetivo.

- (A) descobrir / descoberta.
- (B) valorizar / valor.
- (C) apreciar / precioso.
- (D) atrair / atrativo.
- (E) patrocinar / patrocínio.

#### 4

A palavra “riqueza” é grafada corretamente no texto, com a letra **z**. Assinale o vocábulo abaixo cuja grafia está correta com essa mesma letra.

- (A) Gáz.
- (B) Audaz.
- (C) Análize.
- (D) Gazolina.
- (E) Paralia.

#### 5

“Para chegar lá, os portugueses desciam até o final da África e dobravam à esquerda. Colombo, que sempre adorou viver na contramão da História, sai da Espanha, no dia 3 de agosto, e dobra à direita, convencido de que a Terra era redonda.”

Depreende-se corretamente desse segmento do texto que

- (A) os portugueses já conheciam um trajeto para a Índia.
- (B) Colombo contrariou a tradição, apoiado em fatos equivocados.
- (C) a História mostrou que Colombo estava errado na direção que tomou.
- (D) o caminho percorrido por Colombo já era conhecido dos portugueses.
- (E) estar convencido da redondeza da Terra mostra a ignorância de Colombo.

#### 6

O texto apresenta uma série de conectores que mostram ligações lógicas entre os termos, com variados conteúdos semânticos.

Assinale a opção em que o valor semântico do conector sublinhado está corretamente indicado.

- (A) “Tudo isso passou a ter um valor extraordinário para os europeus do século XV (a canela chegou a valer mais do que o ouro!)” / finalidade.
- (B) “E assim as grandes navegações para a Ásia se tornaram financeiramente atrativas” / modo.
- (C) “O genovês Cristóvão Colombo, o que botou o ovo em pé (como se fosse uma grande coisa: as galinhas já faziam isso muito antes dele)” / conformidade.
- (D) “Acertou na forma, mas errou no cálculo do diâmetro. Colombo chega às Bahamas, em 12 de outubro, e acha que alcançou a Índia” / oposição.
- (E) “Por isso, ao ver uns selvagens locais, Colombo os chama de índios” / conclusão.

7

“E assim as grandes navegações para a Ásia se tornaram financeiramente atrativas.”

Assinale a opção que apresenta a forma de reescrever essa frase que **modifica** o seu sentido original.

- (A) E assim se tornaram financeiramente atrativas as grandes navegações para a Ásia.
- (B) E as grandes navegações para a Ásia se tornaram assim financeiramente atrativas.
- (C) E assim, para a Ásia se tornaram financeiramente atrativas as grandes navegações.
- (D) E assim as grandes navegações para a Ásia se tornaram atrativas financeiramente.
- (E) Tornaram-se, assim, atrativas financeiramente as grandes navegações para a Ásia.

8

“Tudo isso passou a ter um valor extraordinário para os europeus do século XV (a canela chegou a valer mais do que o ouro!).”

Nesse segmento textual, o que está entre parênteses tem a finalidade de

- (A) justificar o preço da canela no mercado atual.
- (B) comprovar o que foi afirmado anteriormente.
- (C) mostrar a relativização dos valores na economia.
- (D) exemplificar um dos produtos de valorização extraordinária.
- (E) indicar uma causa da valorização extraordinária dos produtos orientais.

9

Na evolução estrutural dos parágrafos, há sempre palavras que se prendem aos anteriores – exceção evidente feita ao parágrafo inicial –, produzindo o que chamamos de coesão.

Os parágrafos do texto 1 que são totalmente independentes dos anteriores, em termos formais, são os parágrafos

- (A) 1 e 2.
- (B) 2 e 3.
- (C) 1 e 3.
- (D) 4 e 5.
- (E) 3 e 5.

10

“O genovês Cristóvão Colombo, o que botou o ovo em pé (como se fosse uma grande coisa: as galinhas já faziam isso muito antes dele), consegue, na Espanha, em 1492, o patrocínio dos reis Fernando II e Isabel I para uma viagem à Índia.”

Sobre os componentes desse segmento do texto, assinale a afirmação **inadequada**.

- (A) O trecho “o que botou o ovo em pé” indica um fato que notabilizou Cristóvão Colombo.
- (B) O trecho “como se fosse uma grande coisa” mostra certo desprezo pelo fato aludido anteriormente.
- (C) O trecho “as galinhas já faziam isso muito antes dele” alude ao fato de as galinhas porem os ovos de modo que fiquem de pé no ninho.
- (D) A expressão “botar o ovo em pé” possui dois significados, um dos quais pode dar um tom humorístico ao texto.
- (E) A forma verbal “consegue”, no presente do indicativo, traz mais dinamismo ao fato narrado.

11

“Uma das consequências das Cruzadas (séculos XI a XIII) foi a descoberta das riquezas do Oriente: tecidos, pedras e metais preciosos, especiarias.”

Sobre os componentes desse parágrafo, assinale a afirmação **inadequada**.

- (A) “riquezas” contém uma valorização do que é enumerado a seguir.
- (B) O termo entre parênteses indica a época da ocorrência das Cruzadas.
- (C) A palavra “descoberta” mostra a revelação de algo desconhecido antes.
- (D) Ao dizer “Uma das consequências”, o autor do texto sugere que há outras.
- (E) Os termos após os dois pontos (:) mostram o conjunto completo das riquezas descobertas.

12

Ao escrever “tecidos, pedras e metais preciosos, especiarias”, o autor do texto quer mostrar que o adjetivo “preciosos” se refere a

- (A) pedras, somente.
- (B) metais, somente.
- (C) tecidos, pedras e metais, somente.
- (D) pedras e metais, somente.
- (E) tecidos, pedras, metais e especiarias.

13

Os textos são normalmente estruturados em parágrafos, que possuem objetivos estruturais e temáticos.

Assinale a opção em que a finalidade básica do parágrafo destacado é indicada corretamente.

- (A) Parágrafo 1 – resumir o conteúdo do texto.
- (B) Parágrafo 2 – mostrar uma consequência do parágrafo anterior.
- (C) Parágrafo 3 – apresentar um personagem histórico aos leitores.
- (D) Parágrafo 4 – revelar a maior importância das navegações lusitanas.
- (E) Parágrafo 5 – indicar um erro historicamente importante de Colombo.

14

Todo texto pretende alcançar um objetivo; no caso do texto 1, o objetivo fundamental é

- (A) tentar corrigir um erro histórico de designação.
- (B) dar a conhecer a origem significativa do vocábulo *índio*.
- (C) mostrar o valor de Cristóvão Colombo para nossa História.
- (D) indicar as consequências das Cruzadas para o mundo moderno.
- (E) revelar as modificações ocorridas nos trajetos das Grandes Navegações.

15

O texto que acabamos de analisar pertence ao gênero

- (A) informativo.
- (B) publicitário.
- (C) didático.
- (D) normativo.
- (E) ficcional.

## Língua Inglesa

### Global Perspectives of Public Administration



From a global perspective, public administration still raises passionate debates. Many of us presume to know the virtues of a globalized world, where commerce flourishes without barriers, cultures intertwine with each other, communication and technologies connect distant places to local villages and even to one's living room. We probably agree that globalization creates a sense of togetherness, a feeling that events on one side of the world concern people living on the other side and that democracy and good governance are globalized aspirations to which people of all nations are prime subscribers. We soon realize however that globalization carries within it an insatiable spirit of competition and greed. The idea that the fittest, the strongest ultimately destroys the weakest, is straight from the jungle. The notion that globalization facilitates the overhauling of established norms and values, for better or for worse, is very much practicable.

What are public administrators to do when globalization seems to threaten the very customs and values that glue their society together? [...]

The notion that public administration is a global phenomenon, subject to universal principles of moralities and values is tantalizing but questionable. A particular form of governance seems to work well for societies with common cores principles and traditional heritage, while another form of practice seems to facilitate better the development and aspirations of citizens in other corners of the world. Public administrators are first and foremost responsible for the management of their constituent's affairs. They should dedicate their time and energy to respond to the aspirations and desiderata of their people and within the established boundaries of their societies. Public administrators seem to be more effective when they are inspired by concrete societal goals and objectives rather than when they are driven by a subjective sense of universal morality and goodness toward mankind. Too often, we have witnessed senseless wars and targeted killings in the name of subjective greater goods and selfish interests. [...]

Nevertheless, the world is interconnected and public administrators have to deal with internal as well as external issues outside of their national borders. International laws and regulations require that countries' citizens behave in a certain manner toward fellow neighbors that certain principles of coexistence such as respect for diversity and basic understanding of human rights and dignity are undeniable. Public administrators in a globalized world have to focus on these ideas and create structures that essentially characterize these viewpoints.

(Adapted from <https://patimes.org/global-perspectives-public-administration/> Retrieved June 28th, 2022.)

16

The word "threaten" in "when globalization seems to threaten the very customs and values that glue their society together" (2<sup>nd</sup> paragraph) can be replaced, without change of meaning, by

- (A) glorify.
- (B) destroy.
- (C) support.
- (D) menace.
- (E) acknowledge.

17

The author concludes that public administrators must

- (A) overlook human rights.
- (B) disregard domestic regulations.
- (C) avoid much social engagement.
- (D) prevent issues regarding diversity.
- (E) take into account internal and foreign affairs.

18

In the last paragraph, the word "Nevertheless" indicates that the author will offer a(n)

- (A) contrast.
- (B) summary.
- (C) condition.
- (D) illustration.
- (E) alternative.

19

Based on the information provided by the text, mark the statements below as true (T) or false (F).

- ( ) Globalization has both pleasant and objectionable consequences.
- ( ) Viewed globally, forms of administration are alike.
- ( ) Public administrators must be aware of national and international laws.

The statements are, respectively,

- (A) F – F – T.
- (B) T – F – F.
- (C) T – F – T.
- (D) F – T – F.
- (E) T – T – F.

20

In the first paragraph, the author

- (A) discusses an idealized concept.
- (B) criticizes an evolutionary perspective.
- (C) complains about today's public administrations.
- (D) celebrates the competition of a globalized world.
- (E) provides steps towards becoming a global administrator.

## Geografia

21

Analise a tabela a seguir.

**Brasil**  
**Os 15 principais produtos exportados em 2015**

Produtos	Valor (milhões de dólares)	Participação (em %)
1. Minérios	30.839	17,10
2. Petróleo e derivados	22.890	12,70
3. Material de transporte	21.748	12,07
4. Complexo soja	17.115	9,50
5. Açúcar e etanol	13.776	7,65
6. Químicos	13.477	7,48
7. Carnes	13.292	7,38
8. Produtos metalúrgicos	12.948	7,19
9. Máquinas e equipamentos	8.187	4,54
10. Papel e celulose	6.769	3,76
11. Café	5.739	3,19
12. Equipamentos elétricos	4.815	2,67
13. Calçados e couros	3.513	1,95
14. Fumo e sucedâneos	2.762	1,53
15. Metais e pedras preciosas	2.270	1,26
<b>Total</b>	<b>180.140</b>	<b>100,0</b>

A partir dos dados da tabela e dos seus conhecimentos em Geografia, assinale a afirmativa correta.

- (A) O valor das exportações dos produtos agrícolas supera o valor do segmento primário-exportador.
- (B) Os itens minérios e produtos do complexo soja respondem, juntos, por 40% do valor exportado.
- (C) Quanto ao volume exportado, as *commodities* têm uma participação bem menor que a dos produtos industrializados.
- (D) As exportações mostram uma economia produtora de bens primários voltada para o mercado externo.
- (E) Em termos de valor, os produtos industrializados representam, aproximadamente, 80% da pauta das exportações brasileiras.

22

O padrão de urbanização imprimiu à metrópole paulistana pelo menos duas fortes características: apresenta componentes de "insustentabilidade" vinculados aos processos de expansão e transformação urbana e proporciona baixa qualidade de vida a parcelas significativas da população. A RMSP configura-se claramente como uma metrópole onde estão bem definidas o *centro* e a *periferia*, tendo a mancha urbana se desenvolvido de forma tipicamente radial a partir do centro histórico.

GROSTEIN, Marta D. *Metrópole e Expansão Urbana: a persistência de processos "insustentáveis"*. São Paulo em Perspectiva, 2012. (Adaptado)

Sobre o tema, analise as afirmativas a seguir e assinale (V) para a verdadeira e (F) para a falsa.

- ( ) O padrão de urbanização criou a cidade formal, que concentra os investimentos públicos, e a cidade informal, que cresce exponencialmente na ilegalidade urbana.
- ( ) A cidade informal, solução para o assentamento dos pobres na cidade, tem gerado graves problemas socioambientais ao ocupar encostas, fundos de vale e áreas de preservação.
- ( ) A configuração centro-periferia tende a incentivar os deslocamentos pendulares em direção ao centro, local dos postos de trabalho, dos serviços públicos, do comércio etc.

As afirmativas são, na ordem apresentada, respectivamente,

- (A) V – F – V.
- (B) V – V – V.
- (C) F – V – V.
- (D) V – V – F.
- (E) F – V – F.

23

Analise a charge a seguir.

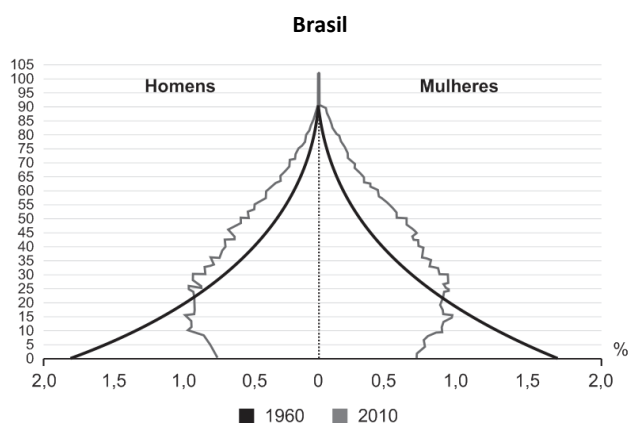


A charge mostra que surgiu uma nova ordem econômica mundial após o fim da Guerra Fria. A esse respeito, assinale a afirmativa correta.

- (A) Com o fim da União Soviética, a Rússia assumiu a posição de segunda economia mundial.
- (B) Com o fim da Guerra Fria, a União Europeia manteve sua posição de potência hegemônica mundial.
- (C) Devido à crise financeira de 2008, os Estados Unidos perderam sua posição de principal economia mundial.
- (D) No início do século XXI, as potências emergentes (BRICS) passaram a ter um papel destacado no plano econômico mundial.
- (E) Devido à queda do Muro de Berlim, os países do Terceiro Mundo passaram a ter maior participação nas decisões econômicas.

24

O gráfico a seguir mostra as pirâmides demográficas do Brasil, em 1960 e 2010.



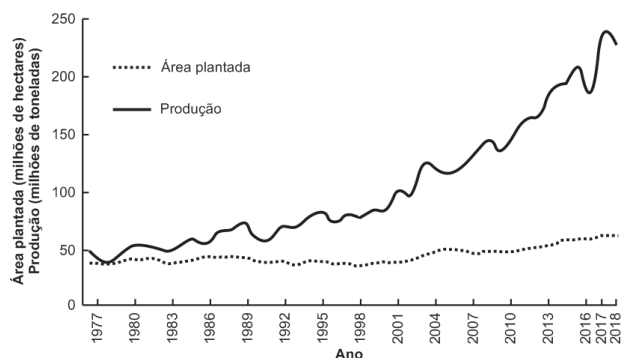
(Fonte: IBGE, Censo Demográfico 1960/2010. Adaptado)

Sobre a evolução da população brasileira, no período 1960/2010, assinale a afirmativa correta.

- (A) O estreitamento da base da pirâmide, em 2010, indica um ligeiro aumento da taxa de natalidade.
- (B) O alargamento do ápice da pirâmide, em 2010, mostra um leve decréscimo do contingente de idosos.
- (C) O maior contingente de adultos, em 2010, indica um aumento da população economicamente ativa.
- (D) A base da pirâmide mais larga, em 1960, mostra um pequeno aumento do contingente de jovens.
- (E) O alargamento da pirâmide, no período, atesta um acréscimo significativo da taxa de mortalidade.

25

A respeito da produção agrícola brasileira e da expansão da área plantada, analise o gráfico a seguir.



A partir do gráfico, assinale a afirmativa correta.

- (A) O aumento da produção agrícola é explicado pela ampliação da área cultivada.
- (B) O decréscimo da área cultivada na última década é explicado pelas pressões dos grupos ambientalistas.
- (C) A instabilidade das safras está relacionada às crises do mercado externo, devido à desvalorização do real frente ao dólar.
- (D) O aumento da produção agrícola deveu-se à intensificação das técnicas agrícolas (aumento da produção por hectare).
- (E) O aumento da produção está relacionado ao crescimento do mercado interno, devido ao aumento do nível de renda da população.

26

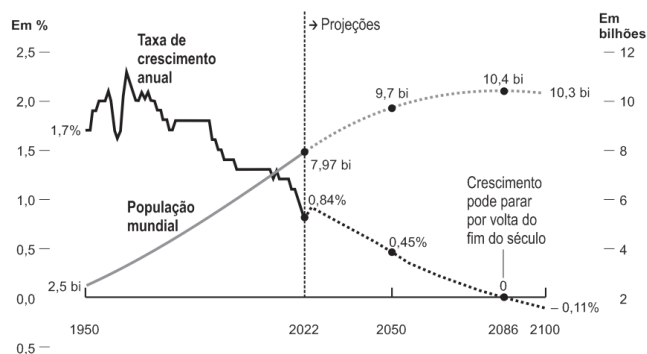
O desenvolvimento econômico impulsionou o poder de compra da população que passou a consumir e a gerar “lixo” em proporções alarmantes, passando os resíduos sólidos a poluir cada vez mais o meio ambiente.

Sobre a destinação dos resíduos sólidos, assinale a afirmativa correta.

- (A) A sociedade contemporânea, mais preocupada com as futuras gerações, já busca encaminhar parte significativa dos resíduos sólidos gerados para reciclagem e reaproveitamento nos “lixões”.
- (B) As ações de coleta seletiva na fonte e de reaproveitamento dos resíduos sólidos devem ser incentivadas antes da chegada do material descartável aos “lixões” e aterros sanitários.
- (C) A destinação dos resíduos gerados fica mais difícil à medida que aumenta o nível socioeconômico da população e se intensificam a coleta e o descarte seletivo dos resíduos produzidos.
- (D) Os “lixões” representam uma solução para o meio ambiente e para a sociedade, ao inserir no mercado de trabalho a parcela da população que aproveita os resíduos como fonte de renda.
- (E) Os “lixões”, que recebem mais de 50% dos resíduos gerados diariamente, parecem ser a melhor solução sob o ponto de vista ambiental.

27

Avalie o gráfico a seguir.



(Folha de São Paulo, 12/07/2022)

A partir do gráfico, analise as afirmativas a seguir.

- I. A queda da taxa de crescimento da população mundial é explicada, em parte, pela adoção de métodos anticoncepcionais e pela difusão de medidas preventivas.
- II. Em 2020, em razão da epidemia de Covid, pela primeira vez, a média anual de crescimento da população ficou abaixo de 1%.
- III. A queda da taxa de crescimento da população mundial permite projetar estabilidade e mesmo diminuição da população até o final do século XXI.

Está correto o que se afirma em

- (A) I, apenas.
- (B) I e II, apenas.
- (C) I e III, apenas.
- (D) II e III, apenas.
- (E) I, II e III.

28

As mudanças climáticas são, hoje, um problema em escala mundial, uma vez que correspondem às consequências do acelerado crescimento da produção industrial, principal responsável pelo nível de poluição que ameaça a sobrevivência do planeta.

Sobre as possíveis causas das mudanças climáticas, analise as afirmativas a seguir.

- I. O aumento da concentração dos chamados gases de efeito estufa (GEEs) na atmosfera provoca o aumento da temperatura média do planeta, o que leva às mudanças climáticas.
- II. A emissão de clorofluorcarbonos (CFCs) provoca buracos na camada de ozônio, o que leva a mudanças na temperatura planetária, causando o degelo das calotas polares.
- III. As ações antrópicas podem alterar o equilíbrio entre a energia que entra e a que sai da atmosfera, causando mudanças capazes de comprometer a estabilidade dos ecossistemas da Terra.

Está correto o que se afirma em

- (A) I, apenas.
- (B) I e II, apenas.
- (C) I e III, apenas.
- (D) II e III, apenas.
- (E) I, II e III.

29

**As redes de comunicação no mundo globalizado**



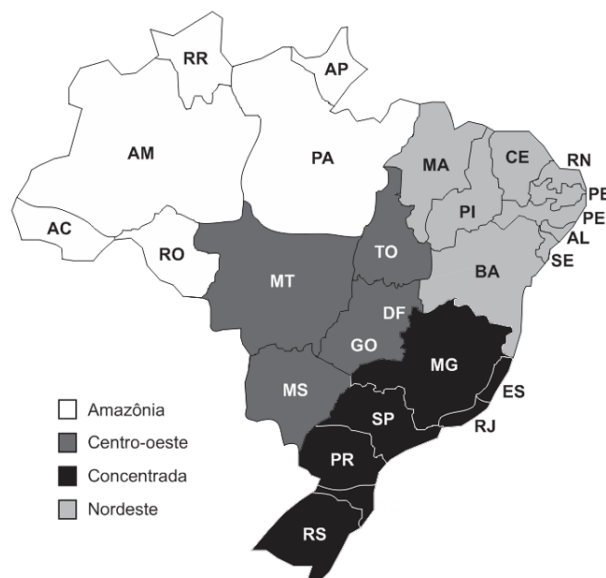
A integração econômica, financeira e cultural, conhecida como *globalização*, só foi possível a partir da criação e popularização das diferentes tecnologias que passaram a ter um papel fundamental tanto para o desenvolvimento da economia mundial quanto para a sociedade.

Sobre a economia globalizada, assinale a afirmativa **incorreta**.

- (A) A ação dos *hackers*, estimulada pelo uso de computadores e até de *smartphones*, permite que os investidores movimentem instantaneamente suas aplicações financeiras.
- (B) As redes de comunicação, cada vez mais rápidas e eficientes, permitiram a comunicação e o acesso rápido a qualquer parte do globo de forma instantânea.
- (C) A crescente velocidade dos fluxos entre as bolsas de valores, os bancos e as grandes corretoras de diversos países estimulou as transações financeiras.
- (D) As tecnologias da informação permitiram deslocar etapas da cadeia produtiva para lugares que ofereciam vantagens locais mais evidentes.
- (E) A comunicação em massa, que permite a ligação instantânea com qualquer lugar do mundo, parece ter “comprimido” os conceitos de tempo e espaço.

30

**Os quatro Brasis**



(Fonte: OLIVEIRA, Matheus. Tudo Geo. 2019. Adaptado)

Em 2001, os geógrafos Milton Santos e Maria Laura Silveira apresentaram uma proposta de divisão regional baseada na difusão diferencial dos meios técnicos-científicos-informacionais e nas heranças do passado, destacando a articulação do território brasileiro como uma economia periférica no capitalismo globalizado.

Sobre a Região Concentrada, analise as afirmativas a seguir.

- I. Apresenta a maior densidade de fluxos, graças à infraestrutura que dá suporte às redes de informação e às de circulação de mercadorias, capitais e pessoas.
- II. Concentra as sedes das grandes corporações financeiras, os maiores complexos industriais, a infraestrutura mais eficiente e as universidades com as maiores produções científicas do país.
- III. É marcada por uma densa rede urbana polarizada pela cidade de São Paulo, que atua como centro de decisão que conecta a economia nacional aos centros financeiros mundiais.

Está correto o que se afirma em

- (A) I, apenas.
- (B) I e II, apenas.
- (C) I e III, apenas.
- (D) II e III, apenas.
- (E) I, II e III.

## História

31

Observe o gráfico a seguir. Ele mostra, em milhões, o quantitativo de desempregados na Alemanha entre 1928 e 1932.



(Fonte: BRENER, Jayme. 1929, *a crise que abalou o mundo*. SP: Ática, 1996, p. 26.)

Assinale a afirmativa que descreve corretamente aspectos da crise que contribuiu para a ascensão do nazismo na Alemanha.

- O Tratado de Versalhes (1919) agravou a situação econômica do pós-guerra e retirou a soberania política da Alemanha, transferindo-a às potências vencedoras e aumentando o revanchismo.
- O pagamento das dívidas de guerra e o fechamento das fábricas que produziam armamentos levaram à hiperinflação e a uma taxa de desemprego que triplicou entre 1930 e 1932.
- A crise de 1929 repercutiu no quadro político alemão, fortalecendo o partido comunista, que obteve o maior número de assentos no parlamento nas eleições de 1932.
- O apoio eleitoral ao partido nazista, minoritário até as eleições de 1930, disparou em 1932, em um contexto de grave crise social e aumento do desemprego.
- Na República de Weimar, o presidente era indicado pelas potências que derrotaram a Alemanha na Primeira Guerra, por isso Hitler, como chanceler, dissolveu o parlamento em 1933.

32

Durante o período colonial e imperial, a sociedade e a economia criadas no Brasil estavam vinculadas à escravidão de grande parte da força de trabalho. No século XVI, prevaleceu a escravização dos povos nativos, mas numerosos fatores combinaram-se para que, aos índios, sucedessem os africanos na virada para o século XVII.

Os fatores listados a seguir motivaram a substituição do trabalho escravo indígena pelo africano no contexto indicado, **à exceção de um**. Assinale-o.

- O decréscimo acelerado da população indígena por guerras, fugas, pestes e epidemias.
- A multiplicação de engenhos que dependiam de mão de obra cativa para a sua produção, sobretudo no recôncavo baiano.
- O repúdio da Holanda em relação à escravidão indígena e sua campanha abolicionista a partir de Pernambuco.
- A alta lucratividade obtida com o tráfico negreiro, que envolvia a elite comercial lusa e dirigentes e comerciantes africanos.
- A pressão dos missionários jesuítas para que a Coroa restringisse as iniciativas dos colonos de escravização dos indígenas.

33

O movimento político-militar contra o governo Goulart foi desencadeado no dia 31 de março de 1964 por decisão individual do general Mourão Filho, que marchou com suas tropas de Juiz de Fora em direção ao Rio de Janeiro. No dia 1º de abril João Goulart, que se encontrava no Rio de Janeiro, retornou a Brasília, e à noite viajou para Porto Alegre. O chefe da Casa Civil Darcy Ribeiro leu no Congresso um comunicado do presidente informando que ele permanecia no país, mas o comunicado foi ignorado pelo presidente do Senado, que declarou vaga a presidência da República e deu posse ao sucessor legal de Goulart, o presidente da Câmara, deputado Pascoal Ranieri Mazzilli. A resistência pró-Goulart foi rapidamente esmagada. Ainda no dia 1º de abril líderes trabalhistas foram detidos, e o governador Miguel Arraes foi preso em Pernambuco. A resistência continuou em Porto Alegre, mas, no dia 2, o III Exército aderiu ao movimento. No dia 4, Goulart buscou asilo no Uruguai, onde morreria em 1976, sem conseguir voltar ao Brasil.

(Adaptado de verbetes Castelo Branco e Golpe de 1964, *Dicionário Histórico-Biográfico Brasileiro pós-1930*, coord. Alzira Alves de Abreu et al. Rio de Janeiro: Editora FGV/CPDOC, 2001.)

A respeito do movimento político-militar que culminou com a deposição de João Goulart, analise as afirmativas a seguir.

- É qualificado de “golpe de Estado” pelos que o condenam e o consideram a origem da ditadura militar, responsável pela suspensão da democracia na República brasileira.
- É considerado uma “revolução” pelo caráter difuso e generalizado de sua iniciativa revolucionária, que permitiu reordenar jurídica e socialmente o país.
- É considerado um “golpe militar” por basear-se em uma ideologia militarista, de defesa do Ocidente e de seus valores, contra o multilateralismo e o multiculturalismo.

Está correto o que se afirma em

- I, apenas.
- II, apenas.
- I e II, apenas.
- II e III, apenas.
- I, II e III.

34

Este conflito teve como protagonistas o governo iraquiano, liderado pelo ditador Saddam Hussein, e um grupo étnico predominante nas regiões norte e nordeste do Iraque. Apesar de as ações do governo iraquiano terem sido retaliações contra rebeldes dessa etnia que apoiaram o Irã durante a Guerra Iraque-Irã (1980-1988), elas não se restringiram apenas aos rebeldes, mas atingiram todo um povo cujas aspirações separatistas, língua e cultura foram duramente reprimidas.

O texto refere-se à repressão iraquiana aos

- curdos.
- berberes.
- armênios.
- judeus.
- turcomenos.



35

No livro *O Mundo Muçulmano*, Peter Demant afirma que, ao contrário de outras importantes religiões, o surgimento do Islã teve data e local demarcados: começos do século VII, na península Árabe, à margem de duas superpotências do Oriente Médio da época (a Pérsia e o Império Bizantino).

A respeito do panorama geopolítico em que se desenvolveu inicialmente a civilização muçulmana, assinale a afirmativa correta.

- (A) O Cristianismo passou a ser uma religião perseguida no Império Bizantino a partir de 380, com o Édito de Tessalônica, o que permitiu seu enraizamento no Oriente Médio.
- (B) O Império Persa era o herdeiro do zoroastrismo antigo, religião que legou ao Islamismo um caráter monoteísta e a figura de um profeta fundador: Zoroastro / Maomé.
- (C) Antes mesmo da fundação do Islã, Medina era um centro comercial e religioso de todos os árabes, alimentado pelas reuniões periódicas de milhares de crentes politeístas.
- (D) No Império Bizantino, a dimensão espiritual e temporal do poder reunia-se no cesaropapismo, fenômeno que influenciou a sobreposição entre política e religião no Islã.
- (E) Maomé entrou em contato com o Judaísmo e o Cristianismo, mas, diferentemente dos monoteísmos tradicionais, estabeleceu o Islamismo como uma religião revelada.

36

Todos nós aprendemos que a ideia moderna de cidadania nasceu na Atenas clássica. Ao mesmo tempo, todos nós descobrimos que a política ou, em outras palavras, o fato de compartilhar, participar e decidir – de forma mais ou menos coletiva, enquanto cidadãos – um destino comum, nascera nas práticas que os Gregos designavam com a expressão *ta politica*, “os assuntos da pólis”. Estas afirmações não são fruto do acaso. A existência de um léxico antigo e diretamente traduzível em termos contemporâneos – *politika/política*; *politai/cidadão*; *demokratia/democracia* – cria uma ilusão de correspondência entre o fato político tal como existia na Antiguidade clássica e o fato político que se conhece no mundo contemporâneo, ou entre a cidadania antiga e a cidadania contemporânea.

(Adaptado de CUCHET, Violaine Sebillotte. “Cidadãos e cidadãs na cidade grega clássica. Onde atua o gênero?” in *Revista Tempo*, vol. 21, n. 38, 2015.)

Com base no trecho citado, analise as afirmativas a seguir e assinale (V) para a verdadeira e (F) para a falsa.

- ( ) Para a autora, a Antiguidade fornece um terreno adequado para a aplicação de definições contemporâneas da experiência política.
- ( ) Para a autora, a democracia contemporânea foi inventada pelos gregos, continuando a se basear na tomada de decisão de indivíduos socialmente iguais.
- ( ) Para a autora, a continuidade dos vocábulos usados para designar a vida política dificulta perceber os novos sentidos atribuídos a termos antigos, como cidadania e democracia.

As afirmativas são, na ordem apresentada, respectivamente,

- (A) V – V – F.
- (B) V – F – V.
- (C) F – F – V.
- (D) F – V – F.
- (E) V – V – V.

37


A expressão “revolução industrial” indica um processo de transformação econômica que leva ao predomínio de um sistema industrial moderno caracterizado pela introdução da eletricidade, dos produtos químicos e do petróleo.

A caracterização refere-se à

- (A) Primeira Revolução Industrial, ocorrida na segunda metade do século XIX, tendo gerado o primeiro modelo de produção de grande escala.
- (B) Segunda Revolução Industrial, ocorrida entre 1850 e 1945, marcada por produção em massa, linha de produção, uso do aço e avanço dos meios de transporte.
- (C) Terceira Revolução Industrial, ocorrida na segunda metade do século XX, caracterizada pela substituição gradual da mecânica analógica pela digital.
- (D) Quarta Revolução Industrial, ou 4.0, em curso, englobando muitas tecnologias avançadas, da inteligência artificial à robótica.
- (E) Quinta Revolução Industrial, ou 5.0, em curso, visando ampliar a interação entre humanos e sistemas inteligentes, além da ênfase na computação quântica.

38

Observe a gravura a seguir intitulada “Junte-se ou morra”.



Trata-se de uma caricatura norte-americana, publicada na Gazeta da Pensilvânia em 1754, às vésperas da Guerra dos Sete Anos. Ela mostra uma cobra cortada em oito partes, cada qual indicada com uma sigla que se refere a uma colônia ou região americana.

Assinale a afirmativa que interpreta corretamente a imagem no contexto citado.

- (A) Expressava o sentimento patriótico que unia colonos norte-americanos e povos nativos contra os britânicos.
- (B) Simbolizava a união dos estados nortistas contra o projeto de secessão dos estados do Sul em relação à União.
- (C) Advertia os colonos para os perigos da guerra civil que estava prestes a acontecer entre as 13 colônias originárias e o Oeste.
- (D) Incitava as colônias à resistência contra as Leis Intoleráveis britânicas que taxavam impressos e restringiam a sua circulação.
- (E) Enfatizava a importância de os colonos se unirem para impedir que uma potência externa (França) ocupasse territórios americanos.

39

Em 2022, completa-se meio século de reuniões internacionais com interesse em problemas ambientais, em escala mundial. A primeira Conferência Mundial realizada com este propósito aconteceu em 1972, sob o patrocínio da Organização das Nações Unidas, em Estocolmo. Desde então, as preocupações sobre a globalização e as questões ambientais têm sido crescentes no Brasil.

A esse respeito, analise as afirmativas a seguir e assinale (V) para a verdadeira e (F) para a falsa.

- ( ) Nas décadas de 1970 e 1980, empreendimentos de forte impacto no meio ambiente (Transamazônica e Foz do Iguaçu) e conflitos entre comunidades tradicionais e seringueiros (morte de Chico Mendes) desencadearam uma forte pressão internacional para a adoção de políticas ambientais no Brasil.
- ( ) Nos anos 1990, o Brasil assumiu liderança em fóruns internacionais, como na Conferência do Rio, a ECO-92, cujo principal resultado foi a aprovação da Agenda 21, inserindo questões como inclusão social e sustentabilidade na agenda ambiental.
- ( ) Desde 2019, a agenda ambiental assumiu centralidade na gestão política brasileira, sendo vista como pré-condição para o desenvolvimento e como ocasião diplomática para mudar a visão negativa do país, sobretudo em função das consequências ecológicas da expansão da fronteira agrícola na região amazônica.

As afirmativas são, na ordem apresentada, respectivamente,

- (A) V – V – F.
- (B) V – F – V.
- (C) V – F – F.
- (D) F – V – F.
- (E) V – V – V.

40

A proclamação da República (15 de novembro de 1889) foi liderada pelo marechal Deodoro da Fonseca, que, com o apoio de setores da sociedade, institucionalizou o novo regime republicano por meio de sucessivos decretos em seu governo provisório (1889-1991).

As medidas descritas a seguir caracterizam corretamente o governo provisório de Deodoro da Fonseca, à exceção de uma. Assinale-a.

- (A) Extinguem-se as instituições do Império, como o Conselho de Estado e as assembleias provinciais, entre outras.
- (B) Determina-se que a forma de governo da nação brasileira seria a República Federativa.
- (C) Estabelece-se que as antigas províncias seriam, dali em diante, os Estados Unidos do Brasil.
- (D) Cria-se um governo provisório para governar o país até a eleição de um Congresso Constituinte.
- (E) Limita-se a condição de eleitor aos cidadãos alfabetizados inscritos em distritos urbanos.

## MÓDULO DE CONHECIMENTOS ESPECÍFICOS

### Noções Básicas do Estado Brasileiro

41

O Presidente da República consultou sua assessoria a respeito da Casa Legislativa competente para analisar, inicialmente, os projetos de lei de sua iniciativa.

A assessoria respondeu corretamente que os referidos projetos

- (A) devem ser necessariamente apresentados perante o Senado Federal.
- (B) devem ser necessariamente apresentados perante a Câmara dos Deputados.
- (C) devem ser necessariamente apresentados perante o Congresso Nacional.
- (D) podem ser apresentados, à livre escolha, perante a Câmara dos Deputados ou perante o Senado Federal.
- (E) podem ser apresentados, à livre escolha, perante o Congresso Nacional, a Câmara dos Deputados ou o Senado Federal.

42

João, que tinha muitas obrigações e grandes limitações de renda, foi informado que, por imperativo constitucional, todo brasileiro em situação de vulnerabilidade social faria jus a uma renda básica familiar, conforme os requisitos de acesso determinados em lei.

Ao se inteirar das características dessa renda, João concluiu corretamente que ela

- (A) está inserida em programa permanente de transferência de renda, não estando condicionada pela legislação fiscal e orçamentária, isto por ter estatura constitucional.
- (B) está inserida em programa temporário de transferência de renda, não estando condicionada pela legislação fiscal e orçamentária, por ter estatura constitucional.
- (C) embora possa ser instituída pela legislação infraconstitucional, não tem qualquer previsão na Constituição da República.
- (D) está inserida em programa permanente de transferência de renda, devendo ser observada a legislação fiscal e orçamentária.
- (E) está detalhada na Constituição da República, não carecendo da legislação infraconstitucional para a integração do seu conteúdo.

**43**

Maria, analfabeta e residente na área rural, tão logo completou 18 (dezoito) anos de idade, procurou um advogado e o questionou sobre a possibilidade de participar da vida política do país.

À luz da condição pessoal de Maria, o advogado respondeu corretamente que ela

- (A) poderia se alistar como eleitora, mas não poderia votar nas eleições ou concorrer a cargo eletivo enquanto não fosse alfabetizada.
- (B) poderia se alistar como eleitora e votar nas eleições, mas não poderia concorrer a nenhum mandato eletivo por não ser alfabetizada.
- (C) não poderia se alistar como eleitora, votar nas eleições ou concorrer a um cargo eletivo, por ser analfabeta e não ter a idade mínima exigida.
- (D) poderia se alistar como eleitora, votar nas eleições e concorrer ao mandato eletivo de vereadora, único compatível com a sua faixa etária.
- (E) não poderia se alistar como eleitora ou votar nas eleições, por ser analfabeta, mas poderia concorrer aos cargos eletivos de vereadora e de deputada estadual em razão de sua idade.

**44**

Inês, Juíza de Direito, pessoa com grande conceito junto à população do Município Alfa, foi convidada a concorrer ao cargo de Prefeita Municipal na próxima eleição municipal.

À luz da sistemática constitucional, é correto afirmar que Inês

- (A) não pode concorrer a nenhum mandato eletivo, incluindo o de Prefeita Municipal, enquanto ocupar o cargo de Juíza de Direito.
- (B) somente pode concorrer a mandato eletivo caso seja expressamente autorizada pelo Tribunal de Justiça ou pelo Conselho Nacional de Justiça.
- (C) pode concorrer a qualquer mandato eletivo, enquanto ocupar o cargo de Juíza de Direito, em igualdade de condições com os demais interessados.
- (D) pode concorrer a mandato eletivo estadual ou federal, enquanto ocupar o cargo de Juíza de Direito, em igualdade de condições com os demais interessados.
- (E) pode concorrer a qualquer mandato eletivo, enquanto ocupar o cargo de Juíza de Direito, em igualdade de condições com os demais interessados, desde que se licencie do cargo.

**45**

Joana, advogada do Partido Político Alfa, foi instada a se manifestar a respeito dos requisitos constitucionais a serem preenchidos pela agremiação partidária, mais especificamente se era necessário, ou não, ter um desempenho razoável nas eleições para as Casas do Congresso Nacional, conforme critérios previamente fixados na Constituição e na lei, para que viesse a receber recursos do fundo partidário.

Joana respondeu corretamente que o Partido Político Alfa, para os fins da consulta,

- (A) deve preencher certos requisitos mínimos, tanto nas eleições para a Câmara dos Deputados, como nas eleições para o Senado Federal.
- (B) não deve preencher requisitos mínimos nas eleições para a Câmara dos Deputados e para o Senado Federal.
- (C) deve preencher requisitos mínimos nos distintos segmentos do Poder Legislativo da federação brasileira.
- (D) deve preencher certos requisitos mínimos apenas na eleição para a Câmara dos Deputados.
- (E) deve preencher certos requisitos mínimos apenas na eleição para o Senado Federal.

**46**

A Comissão de Constituição e Justiça da Assembleia Legislativa do Estado Alfa, ao receber o projeto de lei nº XX, constatou que a matéria nele versada estava enquadrada, no plano constitucional, no âmbito da competência legislativa concorrente.

Por tal razão, ao final de sua manifestação, concluiu corretamente que

- (A) a União, os Estados e o Distrito Federal podem legislar sobre a matéria, mas o primeiro desses entes deve se limitar à edição de normas gerais, vinculantes para os últimos.
- (B) apenas a União, os Estados e o Distrito Federal podem legislar sobre a matéria, prevalecendo a legislação dos últimos caso colida com a da primeira.
- (C) apenas os Estados podem legislar sobre a matéria, de modo que a legislação de cada qual permaneça adstrita ao âmbito do seu território.
- (D) apenas os Estados, o Distrito Federal e os Municípios podem legislar livremente sobre a matéria.
- (E) todos os entes federativos podem legislar livremente sobre a matéria.

**47**

Josefa, estudiosa do direito constitucional, realizou alentada pesquisa a respeito da possibilidade de o Presidente da República responder pela prática de infrações penais comuns, bem como do órgão competente para o respectivo processo e julgamento.

Ao final, concluiu corretamente que o Chefe do Poder Executivo, nesse caso,

- (A) é irresponsável por qualquer ato praticado no exercício da função.
- (B) será processado e julgado pela Câmara dos Deputados, após autorização do Senado Federal.
- (C) será processado e julgado pelo Senado Federal, independente de autorização de outro órgão.
- (D) será processado e julgado pelo Senado Federal, após autorização da Câmara dos Deputados.
- (E) será processado e julgado pelo Supremo Tribunal Federal, após autorização da Câmara dos Deputados.

## Manual de Redação do Presidente da República

48

Avalie se as seguintes afirmativas, acerca do padrão ofício, são falsas (F) ou verdadeiras (V).

- ( ) O cabeçalho deve aparecer em todas as páginas do documento.
- ( ) Os documentos do padrão ofício devem obedecer ser formatados em papel de tamanho A3.
- ( ) A numeração das páginas é obrigatória a partir da primeira página da comunicação.

As afirmativas são, respectivamente,

- (A) F, F e F.
- (B) F, V e F.
- (C) V, F e V.
- (D) V, V e F.
- (E) V, V e V.

49

Sobre as regras básicas para a elaboração de um artigo, analise as afirmativas a seguir.

- I. Cada artigo deve tratar de, no máximo, dois assuntos.
- II. O artigo conterà, exclusivamente, a norma geral, o princípio. As medidas complementares e as exceções deverão ser expressas por meio de parágrafos.
- III. Quando o assunto requerer discriminações, o enunciado comporá o *caput* do artigo, e os elementos de discriminação serão apresentados sob a forma de incisos.
- IV. As expressões devem ser usadas em seu sentido corrente, exceto quando se tratar de assunto técnico, hipótese na qual será preferida a nomenclatura técnica, peculiar ao setor de atividades sobre o qual se pretende legislar.

Está correto o que se afirma em

- (A) I, II e III, apenas.
- (B) III e IV, apenas.
- (C) II, III e IV, apenas.
- (D) II e III, apenas.
- (E) I, II, III e IV.

50

Acerca das normas jurídicas, avalie as afirmativas a seguir.

- I. No Estado de Direito, as normas jurídicas cumprem a tarefa de concretizar a Constituição.
- II. As normas jurídicas devem criar os fundamentos de justiça e de segurança que assegurem um desenvolvimento social harmônico em um contexto de paz e de liberdade.
- III. Os complexos objetivos da norma jurídica são expressos nas funções de integração, de planificação, de proteção, de regulação e de inovação.

Está correto o que se afirma em

- (A) I, apenas.
- (B) I e II, apenas.
- (C) I e III, apenas.
- (D) II e III, apenas.
- (E) I, II e III.

51

A unidade básica para apresentação, divisão ou agrupamento de assuntos em um texto normativo é denominada

- (A) artigo.
- (B) parágrafo.
- (C) capítulo.
- (D) título.
- (E) preâmbulo.

52

A correção de erro material, que não afete a substância do ato singular de caráter pessoal, e as retificações ou alterações da denominação de cargos, funções ou órgãos que tenham tido a denominação modificada em decorrência de lei ou de decreto superveniente à expedição do ato pessoal a ser apostilado são realizadas por meio de

- (A) decreto.
- (B) agrupamento.
- (C) cláusula de revogação.
- (D) apostila.
- (E) cláusula de vigência.

53

O expediente que é dirigido ao Presidente da República ou ao Vice-Presidente para propor alguma medida denomina-se

- (A) memorando.
- (B) exposição de motivos.
- (C) mensagem.
- (D) comunicação.
- (E) aviso.

54

A redação oficial deve apresentar, dentre outras, as seguintes características, **à exceção de uma**. Assinale-a.

- (A) Clareza e precisão.
- (B) Subjetividade.
- (C) Concisão.
- (D) Impessoalidade.
- (E) Formalidade e padronização.

## Legislação Municipal

55

De acordo com o Estatuto dos Servidores Públicos de Santo André, ao funcionário são proibidas as seguintes ações, **à exceção de uma**. Assinale-a.

- (A) Referir-se, de modo depreciativo, em informações, parecer ou despachos, às autoridades e a atos da administração pública no Município, podendo, porém, em trabalho assinado, criticá-lo do ponto de vista doutrinário ou da organização do serviço
- (B) Participar da gerência ou administração de empresa industrial, comercial ou bancária, salvo quando se tratar de cargo público de magistério.
- (C) Valer-se do cargo para lograr proveito pessoal em detrimento da dignidade da função.
- (D) Exercer comércio ou participar de sociedade comercial, industrial ou bancária como acionista, cotista ou comanditário.
- (E) Praticar a usura em qualquer de suas formas.

56

Avalie se, de acordo com a Lei Orgânica do Município de Santo André, ao Município é **vedado**:

- I. permitir ou fazer uso de estabelecimento gráfico, jornal, estação de rádio, televisão, serviço de alto-falante ou outro meio de comunicação de sua propriedade ou com recursos pertencentes aos cofres públicos, para propaganda político-partidária ou fins estranhos à Administração.
- II. outorgar isenções e anistias fiscais ou permitir a remissão de dívidas, sem interesse público justificado, sob pena de nulidade do ato.
- III. destinar recursos públicos a instituições particulares de caráter lucrativo.

Está correto o que se afirma em

- (A) I, apenas.
- (B) I e II, apenas.
- (C) I e III, apenas.
- (D) II e III, apenas.
- (E) I, II e III.

57

De acordo com a Lei Orgânica do Município de Santo André (LO), em seu Art. 3º, ao Município compete, além das atribuições contidas nas Constituições Federal e Estadual, prover a tudo quanto respeite aos assuntos de interesse local, tendo por objetivo o pleno desenvolvimento de suas funções sociais, garantindo o bem-estar de sua população, cabendo-lhe privativamente, dentre outras, as seguintes ações, **à exceção de uma**. Assinale-a.

- (A) Elaborar o plano diretor.
- (B) Elaborar o orçamento anual e plurianual de investimentos.
- (C) Fixar, fiscalizar e cobrar tarifas ou preços públicos.
- (D) Adquirir bens, exceto mediante desapropriação por necessidade ou utilidade pública.
- (E) Dispor sobre administração, utilização e alienação dos bens públicos.

58

De acordo com a Lei Orgânica do Município de Santo André (LO), analise as afirmativas acerca da Administração Municipal e assinale (V) para a afirmativa verdadeira e (F) para a falsa.

- ( ) A administração indireta é composta por secretarias ou órgãos equiparados e organizações distritais ou regionais.
- ( ) A administração direta ou fundacional é composta por entidades dotadas de personalidade jurídica própria.
- ( ) Fica garantida a participação popular em todos os níveis de decisão do Executivo, através de suas entidades representativas devidamente organizadas.

As afirmativas são, na ordem apresentada, respectivamente,

- (A) F, F e V.
- (B) F, V e F.
- (C) V, V e F.
- (D) V, F e F.
- (E) V, V e V.

59

Leia o fragmento a seguir.

De acordo com a Lei Orgânica do Município de Santo André (LO), o Poder Legislativo é exercido pela Câmara Municipal, composta de Vereadores, representantes do povo, eleitos pelo sistema proporcional, em pleito direto. Cada legislatura terá duração de \_\_\_\_\_ anos, compreendendo cada ano a uma sessão legislativa.

Assinale a opção que apresenta o termo que completa corretamente a lacuna do fragmento acima.

- (A) dois.
- (B) três.
- (C) quatro.
- (D) cinco.
- (E) seis.

60

De acordo com a Lei Orgânica do Município de Santo André, acerca da publicação das leis e dos atos municipais das administrações direta e indireta, assinale a afirmativa **incorreta**.

- (A) É obrigatória.
- (B) O órgão de imprensa oficial do Município deverá ser de amplo acesso e circular, obrigatoriamente, nas repartições públicas municipais e entidades representativas da comunidade.
- (C) A publicação dos atos não normativos, pela imprensa, não poderá ser resumida.
- (D) Os atos de efeitos externos só terão eficácia após sua publicação.
- (E) A publicação ou divulgação de atos, atividades e fatos da Administração Municipal poderá, eventualmente, a critério do Prefeito ou dos dirigentes de entidades da administração indireta, ser feita através de outros órgãos de imprensa, observadas as formalidades legais.

61

De acordo com o Estatuto dos Servidores Públicos de Santo André, o funcionário público, quando estável, perderá o cargo:

- I. Em virtude de sentença judicial.
- II. No caso de se extinguir o cargo.
- III. No caso de ser demitido mediante inquérito administrativo em que se lhe tenha assegurada ampla defesa.

Está correto o que se afirma em

- (A) I, apenas.
- (B) I e II, apenas.
- (C) I e III, apenas.
- (D) II e III, apenas.
- (E) I, II e III.

62

De acordo com o Estatuto dos Servidores Públicos de Santo André, o ato solene, efetivado por termo, pelo qual o cidadão, provando satisfazer os requisitos exigidos por lei, perante autoridade competente, manifesta sua concordância expressa e inequivocamente, com a relação jurídica que decorre da qualidade do funcionário, obrigando-se a cumprir os deveres do cargo ou função, para cujo exercício tornar-se habilitado denomina-se

- (A) posse.
- (B) nomeação.
- (C) promoção.
- (D) classificação.
- (E) aprovação.

63

De acordo com o Estatuto dos Servidores Públicos de Santo André, a pena de demissão será aplicada, entre outros, nos seguintes casos:

- I. Crime contra a administração pública.
- II. Abandono do cargo.
- III. Incontinência pública e escandalosa, vício de jogos proibidos e embriaguez habitual.
- IV. Aplicação irregular dos dinheiros públicos.

Estão corretos os itens

- (A) I, II, III e IV.
- (B) I e II, apenas.
- (C) III e IV, apenas.
- (D) I, II e III, apenas.
- (E) II, III e IV, apenas.

64

Avalie se, de acordo com o Estatuto dos Servidores Públicos de Santo André, são deveres do funcionário, entre outros:

- I. Assiduidade.
- II. Pontualidade.
- III. Urbanidade.
- IV. Lealdade às instituições constitucionais e administrativas.

Estão corretos os itens

- (A) I e II, apenas.
- (B) III e IV, apenas.
- (C) I, II e IV, apenas.
- (D) II, III e IV, apenas.
- (E) I, II, III e IV.

## Noções Básicas de Informática

65

No Windows 10, João deseja descobrir a capacidade utilizada/disponível de um *pen drive*.

Assinale o aplicativo que disponibiliza essa informação.

- (A) Assistência Rápida.
- (B) Explorador de Arquivos.
- (C) Gerenciador de Tarefas.
- (D) Informações do Sistema.
- (E) Internet Explorer.

66

No pacote de escritório Libre Office, é possível abrir um arquivo criado no pacote MS Office com a extensão "ppsx".

Assinale o componente que oferece essa possibilidade.

- (A) Art.
- (B) Base.
- (C) Expression.
- (D) Impress.
- (E) Visio.

67

As colunas de uma planilha Excel/LibreOffice Calc normalmente são identificadas pelas letras do alfabeto. Assinale a identificação da coluna posicionada imediatamente à esquerda da coluna AA.

- (A) A
- (B) AZ
- (C) B
- (D) Z
- (E) ZA

68

Considere uma planilha do LibreOffice Calc na qual foram digitados, nas células A1, A2, B1 e B2 respectivamente, os valores 10, 100, 20 e 200. Nas células A3, B3, C1, C2 e C3 foram digitadas, nessa ordem, as fórmulas a seguir. Nenhuma outra célula foi preenchida.

```
=SOMA(A1:A2)
=SOMA(B1:B2)
=A1+B1
=A2+B2
=SOMA(A1:B2)
```

Dado que, depois dessas operações, a célula C3 foi copiada com Ctrl+C e, em seguida, colada na célula D4 com Ctrl+V (copiar e colar normal), assinale o valor exibido na célula D4.

- (A) 330
- (B) 500
- (C) 550
- (D) 1050
- (E) 1320

69

No contexto dos comandos de localização de texto nas edições recentes do MS Word, caracteres "curingas" podem ser utilizados com significados diversos.

Assinale a lista que contém somente palavras que seriam localizadas numa busca usando o padrão exibido a seguir.

c?[n][s]ura

- (A) censura
- (B) censura cento
- (C) centavo censura
- (D) centavo censura cento
- (E) cento coturno costurar

70

Observe os efeitos de formatação aplicados às fontes de um texto.

Texto original	Texto formatado
abc x2 x2	<del>abc</del> x <sub>2</sub> x <sup>2</sup>

Assinale os efeitos utilizados, na ordem da esquerda para a direita.

- (A) Tachado, Reduzir fonte, Aumentar fonte.
- (B) Tachado, Subscrito, Sobrescrito.
- (C) Traçado, Subscrito, Expoente.
- (D) Versalete, Subscrito, Sobrescrito.
- (E) Versalete, Tachado, Expoente.

71

No âmbito do Windows 10, sobre a Área de Trabalho (*Desktop*), considere as afirmativas a seguir.

- I. Cada usuário do sistema tem sua própria área de trabalho.
- II. Os arquivos localizados numa área de trabalho não podem ser visualizados por meio do Explorador de Arquivos.
- III. Não é possível ter pastas de arquivos localizadas na área de trabalho.

Está correto o que se afirma em

- (A) I e II, apenas.
- (B) I e III, apenas.
- (C) I, apenas.
- (D) II e III, apenas.
- (E) II, apenas.

72

Considere os endereços de *e-mail* exibidos a seguir.

andre@gmail.com  
andre@gmail.com.br

É correto afirmar que

- (A) o primeiro é inválido porque não identifica o país onde foi registrado.
- (B) o segundo foi registrado no Brasil e o primeiro é universal, pois é registrado automaticamente em todos os países.
- (C) o segundo não poderia existir se o primeiro já tivesse sido registrado.
- (D) os dois são distintos e válidos, pois *e-mails* registrados nos Estados Unidos não usam o sufixo de país.
- (E) os dois são equivalentes, pois referem-se ao mesmo *e-mail*.

## Atualidades

73



Em abril de 2022, o Sri Lanka faliu economicamente e declarou moratória; em maio, o primeiro-ministro Mahinda Rajapaksa renunciou ao cargo; em julho, seu irmão, o presidente do país, Gotabaya Rajapaksa, fugiu de avião para Cingapura. Depois de meses de protestos, a população ocupou os prédios públicos, incluindo a residência oficial da família que governou o país por mais de 15 anos.

A respeito do atual quadro de instabilidade no Sri Lanka, analise as afirmativas a seguir.

- I. Foi causado por uma grave crise econômica, com inflação em patamares elevados, falta de combustíveis, gás de cozinha e desabastecimento alimentar.
- II. A declaração da moratória cingalesa levou seu principal credor, a China, a exigir a intervenção do FMI para reaver os investimentos em infraestrutura feitos no país.
- III. A localização do Sri Lanka no Índico é estratégica, motivo pelo qual a China mantém investimentos de infraestrutura nesse país, incluindo-o no projeto de interligação logística em escala global (Nova Rota da Seda)

Está correto o que se afirma em

- (A) I, apenas.
- (B) I e II, apenas.
- (C) I e III, apenas.
- (D) II e III, apenas.
- (E) I, II e III.

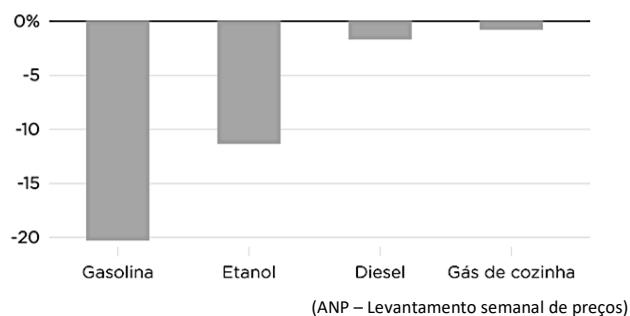
74

A respeito do impacto da guerra na Ucrânia no mercado internacional de *commodities*, assinale a afirmativa correta.

- (A) O petróleo ficou mais caro, pois a Ucrânia é uma das maiores exportadoras de combustíveis fósseis e a guerra afetou sua capacidade de comercialização
- (B) A oferta de gás natural aumentou e o seu preço caiu, pois a OTAN, ao embargar o gás russo, favoreceu o escoamento do produto ucraniano.
- (C) Rússia e Ucrânia produzem quase um terço das exportações globais de trigo, por isso, o conflito causou uma flutuação no valor de mercado dessa *commoditie*.
- (D) As sanções econômicas impostas à Rússia obrigaram Putin a diminuir o preço dos fertilizantes agrícolas e, por isso, sua queda no valor internacional.
- (E) O paládio, usado na indústria automotiva, apresentou uma crise de abastecimento, uma vez que as principais refinarias ucranianas que o produzem foram bombardeadas.

75

**Variação do preço entre 25/06/2022 e 23/07/2022 no Brasil**



O preço dos combustíveis no Brasil (gasolina e etanol) recuou em julho de 2022, na primeira queda significativa desde o início do ano.

Assinale a afirmativa que indica corretamente fatores nacionais e internacionais que, no segundo trimestre de 2022, contribuíram para essa queda.

- (A) A decisão da Petrobras de desvincular o preço da gasolina do valor global do barril do petróleo.
- (B) A redução do Imposto sobre Circulação de Mercadorias e Serviços (ICMS) cobrado sobre esses produtos
- (C) O aumento da inflação, impulsionada pela alta dos alimentos, desacelerou a queda nos preços dos combustíveis.
- (D) A abertura de novas refinarias da Petrobras, aumentando a oferta de combustíveis no mercado.
- (E) A valorização do real em relação à moeda americana, utilizada como referência para o preço do barril.

76

Em julho de 2022, a cantora Anitta se posicionou politicamente. A respeito da relação entre política, redes sociais e agentes da cultura, como Anitta, avalie as afirmativas a seguir.

- I. Os seguidores da Anitta têm familiaridade com as redes sociais, que se tornaram um ambiente importante para comunicar posições políticas e de engajamento.
- II. Ao apoiar determinado candidato, mas não o seu partido, a artista mostra como a ação política está cada vez mais desvinculada da filiação partidária.
- III. A desconexão partidária manifestada pela artista pode ser comprovada por sua campanha pelo fim do voto obrigatório para jovens de 16 e 17 não tirarem o título de eleitor.

Está correto o que se afirma em

- (A) I, apenas.
- (B) I e II, apenas.
- (C) I e III, apenas
- (D) II e III, apenas
- (E) I, II e III.

77

Sirius é uma infraestrutura científica instalada em Campinas, que possui um dos três aceleradores de partículas de quarta geração em funcionamento no mundo – Suécia e França detém os outros. O Brasil saiu na frente na corrida por essa tecnologia. O equipamento poderá ter até 38 estações de pesquisa simultâneas nas mais diferentes áreas. Por exemplo, na agricultura, a luz de síncrotron é capaz de revelar como átomos e moléculas de nutrientes ou mesmo de poluentes “caminham” e interagem com outras moléculas no solo. Conhecer melhor esses processos poderá contribuir para uma produção agrícola mais eficiente e menos agressiva ao meio ambiente.

(Adaptado de <https://brasil.elpais.com>)

A respeito da infraestrutura Sirius, analise as afirmativas a seguir.

- I. Produz a luz síncrotron, responsável por tornar visíveis partículas em escala de nanômetros.
- II. Tem a capacidade de investigar a composição e estrutura molecular, atômica e eletrônica dos mais diversos materiais.
- III. Permite realizar pesquisas em diversas áreas do conhecimento, com potencial de resolver grandes problemas da atualidade.

Está correto o que se afirma em

- (A) I, apenas.
- (B) I e II, apenas.
- (C) I e III, apenas
- (D) II e III, apenas
- (E) I, II e III.

78

“Em julho de 2022, a Faculdade de Direito da Universidade de São Paulo (USP) divulgou um manifesto em defesa da democracia e do sistema eleitoral brasileiro. A ‘Carta às Brasileiras e aos Brasileiros em Defesa do Estado Democrático de Direito’ denuncia que o Brasil passa ‘por um momento de imenso perigo para a normalidade democrática, risco às instituições da República e insinuações de desacato ao resultado das eleições’”

(Adaptado de <https://agenciabrasil.ebc.com.br/geral/noticia/2022-07/>)

Sobre essa iniciativa, analise as afirmativas a seguir e assinale (V) para a verdadeira e (F) para a falsa.

- ( ) É uma resposta às declarações de diplomatas norte-americanos que desacreditaram o sistema eleitoral brasileiro, na reunião com os embaixadores promovida pelo Presidente da República em julho.
- ( ) É um posicionamento da sociedade civil em defesa do sistema eletrônico de votação no Brasil, considerado legítimo e eficiente para garantir a renovação dos mandatos dos legislativos e executivos estaduais e federais.
- ( ) É uma proposta de desacato aos resultados eleitorais, caso o pleito permita a ascensão de candidatos que incitam a violência e a ruptura da ordem constitucional.

As afirmativas são, na ordem apresentada, respectivamente,

- (A) V – V – F
- (B) V – F – V
- (C) F – V – F
- (D) F – F – V
- (E) V – F – F



**79**

Os direitos humanos são:

- (A) escalonados e intransferíveis.
- (B) graduados e interdependentes.
- (C) globais, mesmo não se aplicando a todas as culturas.
- (D) universais, indivisíveis, interdependentes e inter-relacionados.
- (E) hierarquizados, de modo a garantir a precedência aos que mais precisam.

**80**

**Como a elevação do nível do mar vai afetar na prática diferentes regiões do planeta?**

“Essa foi a pergunta que guiou uma pesquisa conduzida pelo *Climate Central* (EUA), que identificou as regiões do mundo que podem sofrer inundações ‘sem precedentes’, caso não sejam elaboradas políticas ambientais globais. De acordo com o estudo, centenas de áreas costeiras, que abrigam atualmente mais de 1 bilhão de pessoas, estão sob risco.”

(Adaptado de <https://www.bbc.com/portuguese/internacional>)

Assinale a afirmativa que indica corretamente o principal fator que impacta o aumento do nível do mar na atualidade.

- (A) A elevação da salinização das águas do mar.
- (B) A expansão hídrica, à medida que os aquíferos são aquecidos por maior insolação.
- (C) O aumento dos detritos minerais e rochosos, fruto de processos de erosão.
- (D) O degelo das calotas polares e de geleiras no Alasca, na Sibéria e na Groenlândia, por exemplo.
- (E) A aceleração do fluxo dos rios, levando um maior volume de líquido para os mares.

## Redação

Simplemente como motivação para a redação que você irá redigir, leia os textos a seguir.

### Texto 1

O preconceito linguístico é, segundo o professor, linguista e filólogo Marcos Bagno, todo juízo de valor negativo (de reprovação, de repulsa ou mesmo de desrespeito) às variedades linguísticas de menor prestígio social. Normalmente, esse prejulgamento dirige-se às variantes mais informais e ligadas às classes sociais menos favorecidas, as quais, via de regra, têm menor acesso à educação formal ou têm acesso a um modelo educacional de qualidade deficitária.

### Texto 2

Por definição, preconceito é um sentimento ou opinião hostil em relação a pessoas ou grupos sociais sem sequer conhecê-los. Embora geralmente tenha origem individual, o preconceito é um reflexo de uma sociedade que demonstra intolerância à diversidade.

O preconceito linguístico, portanto, diz respeito às variações de um mesmo idioma. Assim, o modo de falar de uma pessoa é motivo de preconceito por ser distinto daquele que é considerado ideal. Ele ocorre quando um indivíduo não segue regularmente a gramática normativa de seu idioma, devido ao sotaque ou uso de gírias e expressões típicas da localidade onde vive, por exemplo.

### Texto 3

O preconceito linguístico é o juízo de valor negativo para a forma de falar das pessoas que dominam o mesmo idioma.

O Brasil apresenta uma grande extensão territorial ocupada por povos de várias culturas, como os índios, os imigrantes vindos de vários países europeus, a exemplo da Itália, e os afrodescendentes. Há também a grande diversidade social, cultural e regional que favorecem as muitas variações linguísticas existentes no país.

Em razão disso, fala-se no território brasileiro dezenas de línguas indígenas, as línguas nacionais dos imigrantes, gírias usadas por determinados grupos sociais, falas características dos regionalismos, os socioletos, ou seja, linguagem técnica utilizada por profissionais de determinada área etc. Por isso que o português não é uma língua única, ou melhor, não há uma unidade linguística brasileira.

A imposição de um único ideal linguístico em detrimento dos demais esbarra-se no preconceito linguístico.

Não há a menor dúvida de que existe certo preconceito linguístico no Brasil, o que ocasiona diversos problemas sociais.

#### O que fazer para combater ou reduzir esse preconceito?

Redija um texto dissertativo-argumentativo, em língua culta, de no máximo 30 (trinta) linhas, em que você expresse suas opiniões a respeito, dando destaque especial aos argumentos apresentados.

1

2

3

4

5

6

7

8

9

10

11

12

13

14

15

16

17

18

19

20

21

22

23

24

25

26

27

28

29

30

Realização

